



آزمون غیر حضوری

دوازدهم انسانی

(۱۵ فروردین ماه ۱۳۹۹)

سایت کنکور

Konkur.in

بنیاد علمی آموزشی قلمچی (وقف عام)

دفتر مرکزی: خیابان انقلاب بین صبا و فلسطین بلاک ۹۳۳ - بنیاد علمی آموزشی قلمچی (وقف عام) ۸۴۵۱-۰۲۱

تمام دارایی‌ها و درآمدهای بنیاد علمی آموزشی قلمچی وقف عام است بر گسترش دانش و آموزش»

فهرست

۳	ریاضی و آمار (۳):
۴	ریاضی و آمار (۱):
۵	اقتصاد:
۱۱	علوم و فنون ادبی (۳):
۱۲	علوم و فنون ادبی (۱):
۱۵	عربی زبان قرآن (۳):
۱۷	تاریخ (۳):
۱۸	جغرافیا (۳):
۲۰	تاریخ (۱) و (۲):
۲۱	جغرافیای پایه:
۲۳	جامعه‌شناسی (۳):
۲۵	جامعه‌شناسی (۱):
۲۷	فلسفه دوازدهم:
۲۸	پاسخ‌نامه:

مدیر گروه	سید محمدعلی مرتضوی
مسئول دفترچه	زهرا دامیار
مستندسازی	مدیر: فاطمه رسولی‌نسب، مسئول دفترچه: زهره قموشی
حروفچین و صفحه‌آرا	لیلا عظیمی
ناظر چاپ	رضا سعدآبادی

بنیاد علمی آموزشی قلم‌چی (وقف عام)

دفتر مرکزی: خیابان انقلاب بین صبا و فلسطین پلاک ۹۲۳ - بنیاد علمی آموزشی قلم‌چی (وقف عام) ۶۴۶۳-۰۲۱

«تمام دارایی‌ها و درآمدهای بنیاد علمی آموزشی قلم‌چی وقف عام است بر گسترش دانش و آموزش»

ریاضی و آمار (۳)

۱- عدد $(\frac{1}{27})^{-5}$ را به صورت عدد 3^n نوشته‌ایم، مقدار n کدام است؟

- (۱) ۵ (۲) ۱۰ (۳) ۱۵ (۴) -۱۵

۲- حاصل عبارت $A = (\sqrt[3]{27})^2 (\sqrt[6]{27})^2 + 2^{-0/6} \times (\frac{1}{4})^{0/2}$ کدام است؟

- (۱) $128/5$ (۲) $127/5$ (۳) $63/5$ (۴) $64/5$

۳- از تساوی $(\frac{1}{3})^x = 8 \times 2^{x+1}$ مقدار x کدام است؟

- (۱) ۲ (۲) -۲ (۳) ۴ (۴) -۴

۴- حاصل ضرب ریشه پنجم عدد 8^6 و ریشه دوم غیر مثبت عدد 4^8 کدام است؟

- (۱) $-2\sqrt[5]{12}$ (۲) $-2\sqrt[5]{8}$ (۳) $-2^{12} \times \sqrt[5]{12}$ (۴) $-2^{11} \times \sqrt[5]{8}$

۵- اگر مجموع ریشه سوم $0.0012a^6$ و ریشه چهارم مثبت 0.0016 برابر با یک باشد، مقدار مثبت a کدام است؟

- (۱) ۲ (۲) ۴ (۳) $\sqrt{2}$ (۴) $2\sqrt{2}$

۶- اگر حجم کره‌ای برابر 36π باشد، طول قطر کره کدام است؟ ($\text{حجم کره به شعاع } r = \frac{4}{3}\pi r^3$)

- (۱) ۳ (۲) ۶ (۳) ۸ (۴) ۹

۷- حاصل $(m^{-\frac{2}{4}} \times n^{\frac{1}{2}})^3 (m^4 n^{-2})^{\frac{1}{2}}$ کدام است؟

- (۱) $m^{-\frac{1}{4}} \times n^{\frac{2}{3}}$ (۲) $m^{-\frac{1}{6}} \times n^{\frac{1}{2}}$ (۳) $m^{-\frac{1}{6}} \times n^{\frac{2}{3}}$ (۴) $m^{-\frac{1}{4}} \times n^{\frac{1}{2}}$

۸- حاصل عبارت $125^{\frac{4}{5}} \div 25^{\frac{3}{5}}$ کدام است؟

- (۱) $\frac{2}{55}$ (۲) $\frac{3}{55}$ (۳) $\frac{1}{55}$ (۴) $\frac{2}{5}$

۹- کدام تساوی نادرست است؟

- (۱) $\sqrt[3]{4^3} = 2^{\frac{2}{3}}$ (۲) $\sqrt[3]{4^6} = 2^{\frac{2}{3}}$ (۳) $\sqrt[3]{(-4)^3} = 2^{\frac{2}{3}}$ (۴) $\sqrt[3]{(-2)^6} = 2^{\frac{2}{3}}$

۱۰- حاصل $A = (\frac{3}{4})^2 \times (0/75)^{-7} \times (\frac{9}{16})^4$ کدام است؟

- (۱) $(\frac{3}{4})^6$ (۲) $(\frac{3}{4})^3$ (۳) $(\frac{3}{4})^{-1}$ (۴) $(\frac{3}{4})^{-1}$

کل کتاب

ریاضی و آمار (۱)

۱۱- در تجزیه عبارت $(2x-2)(3x^2+5x-2)$ کدام عامل زیر وجود ندارد؟

- (۱) $x-1$ (۲) $2x-3$ (۳) $x+2$ (۴) $3x-1$

۱۲- ساده شده عبارت $(\frac{x^2-x-2}{x^2+x} \div \frac{x-2}{x+1}) \times \frac{x^3+2x^2-3x}{x^2-9}$ کدام است؟ (عبارت‌ها تعریف شده هستند.)

- (۱) $\frac{x-1}{x-3}$ (۲) $\frac{x-3}{x^2-1}$ (۳) $\frac{x^2-1}{x-3}$ (۴) $\frac{x-3}{x-1}$

۱۳- در معادله $x = \frac{2x^2}{x-2} - \frac{2x+4}{x-2}$ تفاضل معکوس جواب از خود جواب کدام است؟

- (۱) $\frac{5}{4}$ (۲) $-\frac{3}{4}$ (۳) $-\frac{3}{2}$ (۴) $\frac{5}{2}$

۱۴- اگر x_1 و x_2 جواب‌های معادله $-3x^2+2x+1=0$ باشند، حاصل $x_1x_2+x_1+x_2$ کدام است؟

- (۱) $-\frac{1}{3}$ (۲) $\frac{1}{3}$ (۳) 1 (۴) -1

۱۵- تابع خطی f از نقطه‌ای به عرض یک، واقع بر محور عرض‌ها می‌گذرد و $f(-1)=2$ است، در این صورت تابع f محور طول‌ها را در نقطه‌ای با کدام طول قطع می‌کند؟

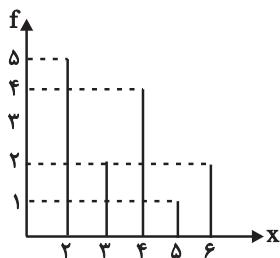
- (۱) 1 (۲) -1 (۳) 2 (۴) -2

۱۶- اگر تابع درآمد به صورت $R(x) = -\frac{1}{6}x^2 + 25x$ و تابع هزینه به صورت $C(x) = 15x + 30$ باشد، ماکزیم مقدار سود کدام است؟

- (۱) 86 (۲) 104 (۳) 120 (۴) 178

۱۷- بهترین روش جمع‌آوری داده‌ها در موضوعات «تعداد ازدواج و طلاق‌های شهر تهران در سال ۹۵» و «چگونگی گذراندن اوقات فراغت شهروندان اصفهانی» به ترتیب از راست به چپ کدام است؟

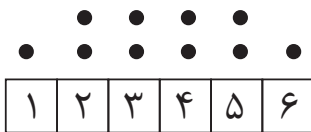
- (۱) دادگان‌ها - مصاحبه (۲) پرسش‌نامه - دادگان‌ها
(۳) مشاهده - پرسش‌نامه (۴) مصاحبه - مشاهده



۱۸- در نمودار میله‌ای شکل مقابل، مجموع میانه و دامنه میان چارکی چقدر است؟

- (۱) 4 (۲) $4/5$ (۳) 5 (۴) $5/5$

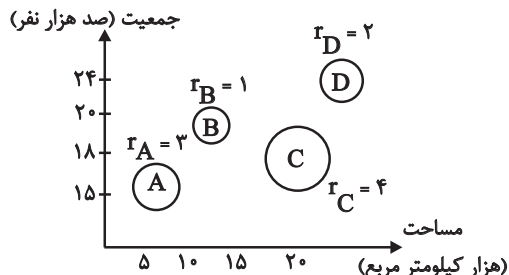
۱۹- انحراف معیار داده‌های نمودار نقطه‌ای زیر کدام است؟



سایت کنکور
Konkur.in

- (۱) $\sqrt{2}$ (۲) $1/25$ (۳) $1/5$ (۴) $\sqrt{2/75}$

۲۰- در نمودار حبابی زیر، متغیر سوم منابع آبی شهرها است. منابع آبی شهر A چند برابر منابع آبی شهر D است؟



- (۱) $\frac{9}{4}$ (۲) $\frac{3}{2}$ (۳) 4 (۴) $\frac{8}{5}$

کل کتاب
 صفحه‌های ۱۴۴ تا ۱۷۷

اقتصاد

۲۱- اگر قیمت یک کالا در اوایل سال جاری ۳,۸۰۰,۰۰۰ تومان و در اواخر سال به ۴,۶۰۰,۰۰۰ تومان رسیده باشد؛ (با فرض ثابت ماندن سایر شرایط) کدام عبارت وضعیت پیش آمده در بازار این کالا را به درستی توصیف می‌کند؟
 (۱) مکان هندسی نقطه تقاضای کالا روی منحنی D به سمت چپ و پایین خود جابه‌جا شده است.
 (۲) مکان هندسی نقطه عرضه کالا روی منحنی S به سمت چپ و بالای خود جابه‌جا شده است.
 (۳) مکان هندسی نقطه تقاضای کالا روی منحنی D به سمت چپ و بالای خود جابه‌جا شده است.
 (۴) مکان هندسی نقطه عرضه کالا روی منحنی S به سمت راست و پایین خود جابه‌جا شده است.

۲۲- کشور فرضی A، ۱۲۵ میلیون نفر تبعه دارد که ۸۰ درصد این جمعیت در محدوده مرزهای جغرافیایی آن زندگی می‌کنند. هم‌چنین به طور کلی ۱۲۵ میلیون نفر در محدوده مرزهای جغرافیایی این کشور زندگی می‌کنند که ۲۰ درصد آن‌ها خارجی هستند. با توجه به جدول زیر:
 الف) تولید ناخالص داخلی کشور A، ب) تولید ناخالص ملی این کشور چند میلیارد دلار است؟ (تولیدات کشور، محدود به همین دو محصول (برنج و چای) است.)

تولید برنج	توسط افرادی که در داخل ساکن هستند	هر فرد ۲۰۰ کیلو به ارزش هر کیلو ۱۰۰ دلار
	توسط خارجی‌های مقیم کشور	هر فرد ۱۵۰ کیلو به ارزش هر کیلو ۱۰۰ دلار
تولید چای	توسط افرادی که در خارج ساکن هستند	هر فرد ۱۰۰ کیلو به ارزش هر کیلو ۳۰ دلار
	توسط افرادی که در داخل ساکن هستند	هر فرد ۲۵۰ کیلو به ارزش هر کیلو ۴۰ دلار
	توسط خارجی‌های مقیم کشور	هر فرد ۵۰ کیلو به ارزش هر کیلو ۴۰ دلار
	توسط افرادی که در خارج ساکن هستند	هر فرد ۱۰۰ کیلو به ارزش هر کیلو ۵۰ دلار

(۱) الف) (۳۴۲۵، ب) ۳۰۰۰ (۲) الف) (۳۲۶۶، ب) ۳۲۰۰ (۳) الف) (۳۴۲۵، ب) ۳۲۰۰ (۴) الف) (۳۲۶۶، ب) ۳۰۰۰

۲۳- با توجه به اطلاعات مندرج در جدول زیر درباره کشوری فرضی: (سال ۱۳۹۰ سال پایه است.)

الف) تولید کل به قیمت جاری در سال ۱۳۹۱ چند ریال است؟
 ب) افزایش تولید کل ناشی از افزایش تولید در سال ۱۳۹۱ نسبت به سال پایه چند ریال است؟
 ج) میزان تورم در سال ۱۳۹۱ چند ریال است؟
 د) تولید در سال پایه چند ریال است؟

کالا	سال ۱۳۹۰		سال ۱۳۹۱	
	مقدار (به کیلو)	قیمت هر واحد (به ریال)	مقدار (به کیلو)	قیمت هر واحد (به ریال)
A	۱۵۰	۳۰۰	۲۰۰	۴۰۰
B	۴۰۰	۶۰	۵۰۰	۱۲۰

(۱) الف) (۱۴۰,۰۰۰، ب) (۲۱,۰۰۰، ج) (۵۰,۰۰۰، د) (۶۹,۰۰۰)

(۲) الف) (۲۴۰,۰۰۰، ب) (۱۲۶,۰۰۰، ج) (۵۰,۰۰۰، د) (۵۷,۰۰۰)

(۳) الف) (۱۴۰,۰۰۰، ب) (۹,۰۰۰، ج) (۲۱,۰۰۰، د) (۶۹,۰۰۰)

۲۴- کدام گزینه، نشانگر پاسخ درست پرسش‌های زیر است؟

الف) هر یک از موارد بیان شده به ترتیب به کدام عامل تولید اشاره دارد؟
 «تراکتور برای کشاورز - دریا در فعالیت‌های صیادی - کارآفرین - کامیون برای شرکت‌های حمل و نقل - مواد خام استخراج شده از معادن در فعالیت‌های صنعتی»

ب) در هر کسب و کاری میزان کارآفرینی چگونه محاسبه می‌شود؟

ج) سرمایه مالی چگونه به تولید کمک می‌کند؟

د) کدام عامل تولید به عنوان پرتیرین عامل تولید به‌شمار می‌رود و چرا؟

(۱) الف) سرمایه فیزیکی - زمین - عامل انسانی - سرمایه فیزیکی - زمین، ب) نوآوری ضرب در خطرپذیری، ج) با تبدیل به عوامل تولید دیگر، د) عوامل انسانی، زیرا وظیفه ترکیب سایر عوامل تولید را برعهده دارد.

(۲) الف) سرمایه فیزیکی - زمین - عامل انسانی - سرمایه فیزیکی - زمین، ب) تعداد کسب و کار جدید ضرب در سودآوری، ج) خدمات سرمایه مالی در جریان تولید مورد استفاده قرار می‌گیرد و تولیدکننده با آن ارزش افزوده ایجاد می‌کند. د) سرمایه فیزیکی، زیرا انسان برای بهره‌برداری از منابع طبیعی علاوه بر کار به سرمایه نیز نیازمند است.

(۳) الف) زمین - سرمایه فیزیکی - سرمایه فیزیکی - سرمایه مالی - سرمایه مالی، ب) تعداد کسب و کار جدید ضرب در سودآوری، ج) با تبدیل به عوامل تولید دیگر، د) سرمایه فیزیکی، زیرا انسان برای بهره‌برداری از منابع طبیعی علاوه بر کار به سرمایه نیز نیازمند است.

(۴) الف) زمین - سرمایه فیزیکی - سرمایه فیزیکی - سرمایه مالی - سرمایه مالی، ب) نوآوری ضرب در خطرپذیری، ج) خدمات سرمایه مالی در جریان تولید مورد استفاده قرار می‌گیرد و تولیدکننده با آن ارزش افزوده ایجاد می‌کند. د) عوامل انسانی، زیرا وظیفه ترکیب سایر عوامل تولید را برعهده دارند.

۲۵- عبارات کدام گزینه مبین پاسخ صحیح پرسش‌های زیر است؟

الف) هنگامی که فرد، چک متعلق به بانک A را نزد بانک B می‌برد و از آن بانک می‌خواهد تا مبلغ چک را به حسابش واریز کند، بانک B به کدام‌یک از وظایفش عمل خواهد کرد؟

ب) کشاورزی برای خرید یک دستگاه تراکتور به بانک کشاورزی مراجعه و تقاضای کتبی خود را به بانک ارائه می‌کند، این بانک در قالب کدام عقد اسلامی می‌تواند به کشاورز کمک کرده و نیاز او را برطرف کند؟

پ) به هنگام فروش سهام، قیمت آن توسط چه کسی تعیین می‌شود و برای سرمایه‌گذاری در بورس چه نکاتی باید رعایت شود؟
ت) در کشور A دولت تصمیم به افزایش ۲۰ درصدی حقوق کارمندان گرفته است. اگر میانگین قیمت سبد کالاها و خدمات در آغاز همان

سال ۱۲۰۰ واحد پولی و در پایان سال به ۱۶۲۰ واحد پولی رسیده باشد، افزایش واقعی حقوق کارکنان دولت چند درصد است؟
۱) الف) دریافت مطالبات اسنادی مشتریان، ب) فروش اقساطی، پ) خریدار سهام - افراد بهتر است سبد سهام تشکیل دهند و به بورس نگاه بلندمدت داشته باشند، ت) ۱۵٪

۲) الف) پرداخت بدهی مشتریان در صورت درخواست آنان، ب) اجاره به شرط تملیک، پ) کارگزاری - افراد باید به بورس نگاه کوتاه‌مدت داشته باشند، ت) ۳۵٪

۳) الف) پرداخت بدهی مشتریان در صورت درخواست آنان، ب) فروش اقساطی، پ) کارگزاری و فروشنده - افراد بهتر است سبد سهام تشکیل دهند و به بورس نگاه بلندمدت داشته باشند، ت) ۱۵٪

۴) الف) دریافت مطالبات اسنادی مشتریان، ب) اجاره به شرط تملیک، پ) خریدار و فروشنده سهام - افراد باید به بورس نگاه کوتاه‌مدت داشته باشند، ت) ۳۵٪

۲۶- با فرض جدول مالیاتی زیر:

A	درآمدهای تا ۲۵ میلیون ریال در ماه	با نرخ ۱۰ درصد
B	درآمدهای تا ۵۰ میلیون ریال در ماه	با نرخ ۱۵ درصد
C	درآمدهای تا ۷۰ میلیون ریال در ماه	با نرخ ۱۸ درصد
D	درآمدهای تا ۸۵ میلیون ریال در ماه	با نرخ ۲۵ درصد
E	درآمدهای تا و بیشتر از ۱۰۰ میلیون ریال در ماه	با نرخ ۳۰ درصد

الف) تفاوت مالیات ماهیانه فرد A و B که به ترتیب ۷۹ میلیون ریال و ۱۰۵ میلیون ریال درآمد ماهیانه دارند، چند ریال است؟

ب) مانده خالص ماهیانه فرد B چند ریال است؟

ج) اگر فرد A، ۳۰ درصد از مانده خالص سالیانه خود را در سرمایه‌گذاری جدید به کارگیرد، چه مقدار پول برای هزینه‌های شخصی سالیانه او باقی خواهد ماند؟

د) عبارت کدام گزینه از ویژگی‌های نرخ مالیاتی مورد محاسبه است؟

۱) الف) (۱۱,۷۵۰,۰۰۰، ب) (۸۵,۲۵۰,۰۰۰، ج) (۴۱۷,۷۰۰,۰۰۰ ریال، د) این نرخ مالیاتی، در تعدیل درآمد و ثروت افراد جامعه مؤثر است.

۲) الف) (۲۶,۰۰۰,۰۰۰، ب) (۷۳,۵۰۰,۰۰۰، ج) (۴۹۷,۷۰۰,۰۰۰ ریال، د) در این نوع مالیات، میزان مالیات پرداختی افراد متناسب با تغییر در نرخ درآمد یا دارایی آن‌ها کم و زیاد می‌شود.

۳) الف) (۲۶,۰۰۰,۰۰۰، ب) (۸۵,۲۵۰,۰۰۰، ج) (۴۱۷,۷۰۰,۰۰۰ ریال، د) در این نوع مالیات، میزان مالیات پرداختی افراد متناسب با تغییر در نرخ درآمد یا دارایی آن‌ها کم و زیاد می‌شود.

۴) الف) (۱۱,۷۵۰,۰۰۰، ب) (۷۳,۵۰۰,۰۰۰، ج) (۴۹۷,۷۰۰,۰۰۰ ریال، د) در این نظام مالیاتی، نرخ مالیات با افزایش درآمد یا دارایی، زیاد و به عکس با کاهش درآمد یا دارایی کم می‌شود.

۲۷- جدول زیر مبین «شاخص‌های توسعه» در سه کشور مختلف است. با توجه به اطلاعات ارائه شده:

الف) در کدام کشور، شاخص «رشد» با شاخص «توسعه» هماهنگ است و در کدام کشور این هماهنگی وجود ندارد؟
ب) نرخ مرگ و میر نوزادان در «چین»، امید به زندگی در «موزامبیک»، «تولید ناخالص داخلی» سرانه در «نروژ» و رتبه کشور چین در شاخص توسعه انسانی در سال ۲۰۱۵، به ترتیب از راست به چپ کدام است؟

ردیف	شاخص‌ها / کشورها	نرخ مرگ و میر نوزادان (در هر هزار تولد)	امید به زندگی (سال)	نرخ باسودی بزرگسالان (به درصد)	تولید ناخالص داخلی سرانه (به دلار PPP ثابت سال ۲۰۱۱)
۱	چین	؟	۷۵	۹۵/۱	۱۱,۵۲۵
۲	موزامبیک	۶۱/۵	؟	۵۰/۶	۱۰۷۰
۳	نروژ	۲/۳	۸۱/۶	حدود ۱۰۰	؟

۱) الف) موزامبیک - نروژ، ب) ۲۰ - ۳۰/۹ - ۳۱,۴۹۰ - ۱۸۰ (الف) موزامبیک - چین، ب) ۱۰/۹ - ۱ - ۵۵ - ۶۲,۴۴۸ - ۹۰

۳) الف) چین - موزامبیک، ب) ۲۰ - ۴۰/۹ - ۳۱,۴۹۰ - ۶۹ (الف) چین - نروژ، ب) ۲۲ - ۳۰/۹ - ۳۸,۳۲۰ - ۹۰

۲۸- اطلاعات مندرج در جدول زیر، نشانگر وضعیت توزیع درآمد کشور A با ۹۰ هزار دلار درآمد ملی و ۷۵ میلیون نفر جمعیت، در سال ۲۰۱۷

وضعیت توزیع درآمد در کشور A مربوط به سال ۲۰۱۷ میلادی	
سهام دهک اول	۲
سهام دهک دوم	۳
سهام دهک سوم	۵
سهام دهک چهارم	۴
سهام دهک پنجم	۸
سهام دهک ششم	؟
سهام دهک هفتم	۱۳
سهام دهک هشتم	؟
سهام دهک نهم	؟
سهام دهک دهم	۲۱
۱۰۰ درصد جمعیت کشور	۱۰۰ درصد درآمد ملی

میلادی براساس شاخص دهک‌هاست. چنانچه سهم دهک دوم $\frac{1}{5}$ سهم

دهک هشتم و به ترتیب مجموع و اختلاف سهم دهک‌های چهارم و ششم ۱۶ و ۶ درصد باشد:

الف) سهم دهک‌های چهارم، ششم و هشتم چند درصد است؟

ب) میزان سهم دهک نهم از درآمد ملی کدام است؟

ج) جمعیت دهک دهم چند میلیون نفر است؟

د) شاخص دهک‌ها در این کشور کدام است؟

ه) چنانچه در کشور فرضی B شاخص دهک‌ها ۱۰ باشد، توزیع درآمد در کدام کشور عادلانه‌تر است؟

۱) الف) ۵ - ۱۱ - ۱۵، ب) ۱۵/۳ هزار دلار، ج) ۷/۵، د) ۱۰/۵، ه) B

۲) الف) ۶ - ۱۲ - ۱۳، ب) ۱۴/۴ هزار دلار، ج) ۷/۵، د) ۱۱/۵، ه) B

۳) الف) ۵ - ۱۱ - ۱۵، ب) ۱۵/۳ هزار دلار، ج) ۱۵/۷۵، د) ۱۰/۵، ه) A

۴) الف) ۶ - ۱۲ - ۱۳، ب) ۱۴/۴ هزار دلار، ج) ۱۵/۷۵، د) ۱۱/۵، ه) A

۲۹- عبارات کدام گزینه مبین پاسخ صحیح پرسش‌های زیر است و جاهای خالی را به درستی تکمیل می‌کند؟

الف) به هریک از موارد «زمین، ارث، حقوق، املاک، فروش خودرو و کالاهای صادر شده» چه نوع مالیاتی تعلق می‌گیرد و چند مورد از این مالیات‌ها، مستقیم است؟

ب) دو ویژگی مالیات بر ارزش افزوده کدام است؟

پ) سیاست‌های مالی انقباضی دولت شامل ... و ... است و ... از سیاست‌های پولی انبساطی بانک مرکزی می‌باشد. برای حل اساسی مشکل رکود اقتصادی باید ... را در پیش گرفت.

ت) در کشور ما دولت در سال‌های اخیر تلاش کرده است تا در کدام جهت حرکت کند؟

۱) الف) مالیات بر دارایی و ثروت، مالیات بر نقل و انتقالات دارایی، مالیات بر فروش، عوارض شهرداری، عوارض گمرکی، عوارض گمرکی - ۴ مورد، ب) افزایش شفافیت مالیاتی و ایجاد مالیات‌گیری چندگانه، پ) کاهش مخارج دولت، افزایش مالیات‌ها - خرید اوراق مشارکت - شرایط ایجاد رونق اقتصادی، ت) کاهش حضور مستقیم خود در مدیریت و مالکیت اقتصادی

۲) الف) مالیات بر نقل و انتقالات دارایی، مالیات بر دارایی، مالیات بر درآمد، مالیات بر نقل و انتقالات دارایی، مالیات بر درآمد، حقوق و عوارض گمرکی - ۳ مورد، ب) ایجاد مالیات‌گیری چندگانه و کاهش انگیزه فرار مالیاتی، پ) افزایش مخارج دولت، کاهش مالیات‌ها - فروش اوراق مشارکت - سیاست‌های جانب عرضه، ت) کاهش حضور خود در سیاست‌گذاری و حکمرانی

۳) الف) مالیات بر دارایی و ثروت، مالیات بر نقل و انتقالات دارایی، مالیات بر درآمد، مالیات بر نقل و ثروت، مالیات بر نقل و انتقالات دارایی، حقوق و عوارض گمرکی - ۳ مورد، ب) افزایش شفافیت مالیاتی و کاهش انگیزه فرار مالیاتی، پ) کاهش مخارج دولت، افزایش مالیات‌ها - خرید اوراق مشارکت - سیاست‌های جانب عرضه، ت) کاهش حضور مستقیم خود در مدیریت و مالکیت اقتصادی

۴) الف) مالیات بر نقل و انتقالات دارایی، مالیات بر دارایی، مالیات بر فروش، عوارض شهرداری، عوارض گمرکی، عوارض گمرکی - ۴ مورد، ب) افزایش شفافیت مالیاتی و کاهش انگیزه فرار مالیاتی، پ) افزایش مخارج دولت، افزایش مالیات‌ها - فروش اوراق مشارکت - شرایط ایجاد رونق اقتصادی، ت) کاهش حضور خود در سیاست‌گذاری و حکمرانی

۳۰- عوامل کدام گزینه به تنوع منابع درآمدی ایران کمک می‌کند؟

- (۱) حرکت به سمت فروش نفت خام به جای فرآورده‌های نفتی - افزایش صادرات نفتی - تمرکز بر سرمایه‌گذاری خارجی
- (۲) تمرکز بر سرمایه‌گذاری خارجی - متکی بودن تنها بر صادرات یک محصول مهم - اصلاح نظام مالیاتی
- (۳) اصلاح نظام مالیاتی - متکی بودن تنها بر صادرات یک محصول مهم - حرکت به سمت فروش نفت به جای فرآورده‌های نفتی
- (۴) اصلاح نظام مالیاتی - افزایش صادرات غیرنفتی - حرکت به سمت فروش فرآورده‌های نفتی به جای نفت خام

۳۱- در کدام فرآیند، «گوجه فرنگی» به ترتیب یک کالای مصرفی و واسطه‌ای تلقی می‌شود؟

- (۱) در «سالاد خانگی» مصرف می‌شود. - در تولید «رب» استفاده می‌شود.
- (۲) در تولید «سس» به کار می‌رود. - در «برخی غذاها» مصرف می‌شود.
- (۳) در تولید «رب» به کار می‌رود. - در تولید «سس» استفاده می‌شود.
- (۴) در «سالاد خانگی» مصرف می‌شود. - در کنار «کباب» تناول می‌شود.

۳۲- جدول زیر، مبنی «اقلام مختلف درآمدی» است که در یک سال نصیب یک جامعه فرضی شده است. چنانچه جمعیت کل این جامعه «۵۰» میلیون نفر باشد، در این صورت:

(درآمد کارگران و کارمندان، موضوع ردیف‌های ۴ و ۵ به تفکیک محاسبه شده‌اند.)

ردیف	اقلام درآمدی	مبلغ
۱	درآمد «صاحبان سرمایه»	۹۸۹۷ میلیارد ریال
۲	درآمد «صاحبان مشاغل آزاد»	$\frac{۱}{۳}$ مجموع درآمد ردیف‌های ۱ و ۶
۳	سود شرکت‌ها و مؤسسات	$\frac{۲}{۳}$ درآمد «صاحبان سرمایه»
۴	دستمزدها	۶۴۴۲ میلیارد ریال
۵	درآمد «حقوق‌بگیران»	$\frac{۱}{۵}$ مجموع درآمد ردیف‌های ۴ و ۶
۶	درآمد «صاحبان املاک و مستغلات»	۸۸۵۶ میلیارد ریال

الف) کدام ردیف جدول «قیمت خدمات سرمایه» است و کدام ردیف «آجاره‌بها یا وجوه مربوط به آجاره» است؟

ب) «درآمد ملی» این جامعه چند میلیارد ریال است؟

ج) «درآمد سرانه» آن چند ریال است؟

د) «مفهوم و معنای سرانه چیست؟»

(۱) الف) ردیف ۶ و ردیف ۱، ب) $\frac{۴۱۱۰۳}{۶}$ ، ج) $\frac{۸۲۲۰۷۲}{۶}$ ، د) سهم متوسط هر فرد جامعه در میزان «درآمد آن جامعه»

(۲) الف) ردیف ۱ و ردیف ۶، ب) $\frac{۴۳۰۱۱}{۶}$ ، ج) $\frac{۸۲۲۰۷۲۰}{۶}$ ، د) سهم متوسط هر فرد جامعه در میزان «تولید آن جامعه»

(۳) الف) ردیف ۱ و ردیف ۶، ب) $\frac{۴۱۱۰۳}{۶}$ ، ج) $\frac{۸۲۲۰۷۲}{۶}$ ، د) سهم متوسط هر فرد جامعه در میزان «تولید یا درآمد آن جامعه»

(۴) الف) ردیف ۶ و ردیف ۱، ب) $\frac{۴۳۰۱۱}{۶}$ ، ج) $\frac{۸۲۲۰۷۲۰}{۶}$ ، د) سهم متوسط هر فرد جامعه در میزان «درآمد یا تولید آن جامعه»

۳۳- به فرض چنانچه یک دستگاه کالای سرمایه‌ای را به بهای ۷۲۰ میلیارد ریال خریده‌ایم، اگر عمر مفید آن ۱۲ سال باشد، در این صورت به ترتیب: «از راست به چپ»:

الف) هر سال چه مقدار به عنوان «هزینه استهلاک» باید کنار گذاشته شود؟

ب) چنانچه در دو سال آخر عمر مفید این کالای سرمایه‌ای، ۸٪ کاهش بها یافته باشد، مجموع «هزینه استهلاک» دو سال آخر آن، چه میزان خواهد بود؟

ج) قیمت جدید این کالای سرمایه‌ای، کدام است؟

توجه: «ارقام به میلیون و میلیارد ریال است»

(۱) الف) ۶۰، ب) $\frac{۱۰۱۰۰۴۰}{۶}$ ، ج) $\frac{۶۲۶۰۴۰۰}{۶}$

(۲) الف) ۶۵، ب) $\frac{۱۰۱۰۰۴۰}{۶}$ ، ج) $\frac{۶۶۲۰۴۰۰}{۶}$

(۳) الف) ۶۰، ب) $\frac{۱۱۰۰۴۰۰}{۶}$ ، ج) $\frac{۶۶۲۰۴۰۰}{۶}$

۳۴- با توجه به اطلاعات ارائه شده در جدول زیر، نتیجه عملکرد سالیانه یک «بنگاه اقتصادی» با ۴ کارمند و تولید سالیانه ۷۵۰ دستگاه به ارزش هر یک ۳۰۰,۰۰۰ ریال، کدام است؟

۱	اجاره ماهیانه معادل	۴,۰۰۰,۰۰۰ ریال
۲	حقوق متوسط ماهیانه هر فرد معادل	۲۰۰,۰۰۰ ریال
۳	خرید مواد اولیه مورد نیاز سالیانه به ارزش	۴,۴۵۰,۰۰۰ ریال
۴	هزینه استهلاک	معادل ۱۲٪ حقوق سالیانه کارمندان

(۱) ۱۱۶,۷۹۸,۰۰۰ ضرر یا زیان (۲) ۱۱۶,۸۹۷,۰۰۰ ضرر یا زیان

(۳) ۱۶۱,۷۹۸,۰۰۰ سود یا منفعت (۴) ۱۶۱,۸۹۷,۰۰۰ سود یا منفعت

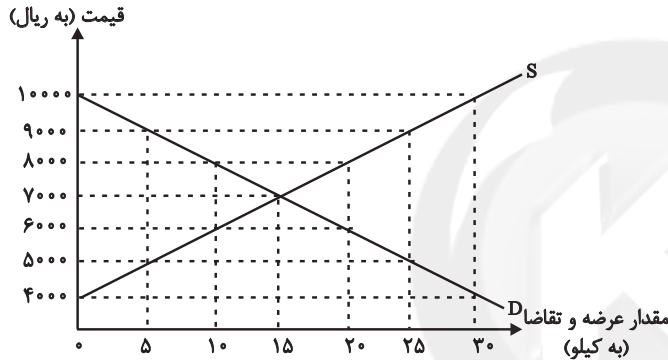
۳۵- نمودار زیر، بیانگر مقادیر عرضه و تقاضای یک کالا در قیمت‌های مختلف است، با توجه به آن:

الف) در قیمت: ۱۰,۰۰۰ ریال، کمبود تقاضا نسبت به مقدار تقاضای تعادلی چقدر است؟

ب) در قیمت: ۶۰۰۰ ریال و ۹۰۰۰ ریال، به ترتیب مقدار مازاد تقاضا و کمبود تقاضا چیست؟

ج) در کدام سطح از قیمت و مقدار، دریافتی تولیدکننده به حداکثر می‌رسد و مقدار آن کدام است؟

د) کدام عامل موجب از بین رفتن فاصله بین عرضه و تقاضا و هماهنگی رفتار اقتصادی تولیدکننده و مصرف‌کننده می‌شود؟



(۱) الف) ۱۵، ب) ۲۰ - ۱۰، ج) ۱۰۰۰۰ و ۳۰ - ۳۰۰,۰۰۰، د) افزایش قیمت از ۶۰۰۰ ریال به ۷۰۰۰ ریال

(۲) الف) ۱۵، ب) ۱۰ - ۲۰، ج) ۷۰۰۰ و ۱۵ - ۱۰۵,۰۰۰، د) کاهش قیمت از ۸۰۰۰ ریال به ۷۰۰۰ ریال

(۳) الف) ۳۰، ب) ۱۰ - ۲۰، ج) ۷۰۰۰ و ۱۵ - ۱۰۵,۰۰۰، د) افزایش قیمت از ۶۰۰۰ ریال به ۷۰۰۰ ریال

(۴) الف) ۳۰، ب) ۲۰ - ۱۰، ج) ۱۰۰۰۰ و ۳۰ - ۳۰۰,۰۰۰، د) کاهش قیمت از ۸۰۰۰ ریال به ۷۰۰۰ ریال

۳۶- پاسخ درست و کامل دو پرسش زیر در کدام «گزینه» مطرح شده است؟

الف) کوشش دولت‌ها برای فراهم آوردن شرایط رونق اقتصادی به منظور رسیدن به هدف، «.....» صورت می‌گیرد، زیرا رونق اقتصادی سبب «.....» می‌شود.

ب) در اصل «پنجاهم» قانون اساسی جمهوری اسلامی ایران بر کدام «نکته»، تأکید شده است؟

(۱) الف) بهبود وضعیت «توزیع درآمد» - کاهش «بیکاری» و افزایش «رفاه»، ب) تلاش برای ریشه‌کن کردن «فقر»

(۲) الف) رشد و توسعه اقتصادی - افزایش اشتغال و ایجاد رفاه مادی برای عموم مردم، ب) توجه به شأن و منزلت انسان

(۳) الف) اشتغال کامل - گسترش فعالیت‌های تولیدی و تمایل به استخدام نیروی کار بیش‌تر، ب) «توسعه پایدار» و عدالت بین‌نسلی

(۴) الف) مبارزه با «بیکاری» - رشد و توسعه اقتصادی ب) مشروع بودن «مالکیت» در عین مبارزه با ثروت‌اندوزی حرام

۳۷- اگر هزینه تولید هر کیلوگرم قهوه در کشور A، ۷ دلار و در کشور B، ۹ دلار باشد و هزینه تولید هر کیلوگرم کاکائو در کشور A، ۸ دلار و در کشور B، ۵ دلار باشد و حمل و نقل هر کیلوگرم قهوه یا کاکائو از کشور A به کشور B یا بالعکس، ۱ دلار هزینه داشته باشد، مناسب‌ترین برنامه‌ریزی تجاری براساس اصل مزیت مطلق برای این کشورها، کدام است؟

(۱) کشور A، قهوه و کشور B کاکائو تولید کند و کالای دیگر را از کشور دیگر وارد کند.

(۲) کشور B، قهوه و کشور A کاکائو تولید کند و کالای دیگر را از کشور دیگر وارد کند.

(۳) کشور B، هر دو کالا را تولید کند اما کشور A کاکائو را تولید و قهوه را از کشور B وارد کند.

(۴) کشور A، هر دو کالا را تولید کند اما کشور B کاکائو را تولید و قهوه را از کشور A وارد کند.

۳۸- در کدام شرایط «اتفاق زیر» رخ می‌نماید؟

«افزایش قیمت» تا سطحی ادامه می‌یابد که در آن فاصله میان «عرضه و تقاضا» از بین برود و تعادل در «بازار» حفظ شود، این «سطح قیمت» همان «قیمت تعادلی» است.

- ۱) وقتی در «بازار» قیمت از سطح «قیمت تعادلی» بالا برود و «مازاد عرضه» به وجود آید.
 - ۲) هنگامی که در بازار «کمبود» اتفاق می‌افتد و قیمت از سطح «قیمت تعادلی» پایین‌تر باشد.
 - ۳) موقعی که گروهی از «تولیدکنندگان» موفق نشوند کالایشان را بفروشند و حاضر شوند آن را با قیمتی «پایین‌تر» به فروش برسانند.
 - ۴) زمانی که از یک سو «مصرف‌کنندگان» مقدار خرید خود را افزایش دهند و از سوی دیگر «تولیدکنندگان» از تولید خود بکاهند.
- ۳۹- با توجه به اطلاعات ارائه شده در جدول و تفاوت موجود بین «کشورهای توسعه‌یافته و در حال توسعه» از نظر وضعیت معیشتی:

الف) کدام گزینه به ترتیب «ردیف ۱ و ۲» پاسخ درست و کامل «جاهای خالی» جدول زیر است؟

ب) در ضمن در سال ۲۰۱۵ میلادی: تولید ناخالص داخلی سرانه در کشور «سوئیس» و در کشور «سودان» چه میزان بوده است؟

متوسط درصد نرخ باسوادی بزرگسالان	متوسط امید به زندگی در بدو تولد	متوسط نرخ مرگ و میر نوزادان (در هر ۱۰۰۰ نفر)	درآمد سرانه «سالانه»	گروه کشورها	ترتیب
۵۷/۱٪	«.....» سال	۸۹/۴	کم‌تر از «.....»	کشور با توسعه انسانی ضعیف	ردیف ۱
نزدیک به «.....» درصد	۸۰/۵ سال	۶	بالاتر از «.....»	کشور با توسعه انسانی زیاد	ردیف ۲

۱) الف) ۱۲۰۰ دلار - ۴۰ سال - ۳۵,۰۰۰ دلار - ۸۰ (ب) بیش از ۴۱,۲۵۰ دلار - حدود ۲۸۲ دلار.

۲) الف) ۱۶۰۰ دلار - ۶۰/۵ سال - ۴۰,۰۰۰ دلار - ۱۰۰ (ب) بیش از ۸۰,۶۷۵ دلار - حدود ۲۲۱ دلار.

۳) الف) ۱۲۰۰ دلار - ۵۰ سال - ۳۵,۰۰۰ دلار - ۷۰ (ب) بیش از ۸۰,۶۷۵ دلار - حدود ۲۲۱ دلار.

۴) الف) ۱۶۰۰ دلار - ۶۰/۵ سال - ۴۰,۰۰۰ دلار - ۱۰۰ (ب) بیش از ۴۰,۰۰۰ دلار - حدود ۲۸۲ دلار.

۴۰- کدام «گزینه» پاسخ درست سؤالات زیر است؟

الف) «...» قراردادی است که در آن یکی از طرفین قرارداد (در این‌جا بانک) مقدار معینی از مال خود را در زمان حال به دیگری (در این‌جا مشتری بانک) واگذار می‌کند. و در مقابل قرض‌گیرنده متعهد می‌شود که عین مال یا قیمت آن را در زمان معین بازپس دهد.

ب) «...» طبق این قرارداد، بانک زمین، مشخصی را برای مدت معین در اختیار طرف دیگر قرار می‌دهد تا در آن کشاورزی کند، در نهایت سود حاصل بین دو طرف تقسیم می‌شود.

ج) «...» قراردادی بازرگانی است که به موجب آن دو یا چند شخص حقیقی یا حقوقی «از جمله بانک» سرمایه نقدی یا جنسی خود را به شکل «مشاع» و به منظور ایجاد «سود» درهم می‌آمیزند.

د) «...» بانک، محصولات تولیدی آینده بنگاه‌ها را «پیش‌خرید» می‌کند.

۱) الف) جعله، ب) مساقات، ج) مشارکت مدنی، د) معاملات سلف

۲) الف) جعله، ب) مزارعه، ج) مشارکت حقوقی، د) معاملات سلم

۳) الف) قرض‌الحسنه، ب) مزارعه، ج) مشارکت مدنی، د) معاملات سلف

۴) الف) قرض‌الحسنه، ب) مساقات، ج) مشارکت حقوقی، د) معاملات سلم

۴۱- ویژگی سبکی زیر در کدام بیت مشهود نیست؟

«روی آوردن به مفاهیم انتزاعی در شعر دوره انقلاب اسلامی آشکار است.»

- (۱) از خویش برون گمشده خویش مجوید / در خانه دل‌ها وطن گمشدگان است
- (۲) از فراز قلّه اندیشه آمد پیر عشق / تا به رقص آرد زمین از باده شبگیر عشق
- (۳) مرگ هرگز به حریم حرمت راه نیافت / هر کجا دید نشانی ز تو چالاک گذشت
- (۴) باغی ز بهر تو ز نو افکنده چون بهشت / در پیش او به سان سپهری یکی حصار

۴۲- در منظومه زیر کدام ویژگی مشهود نیست؟

«روزی که بازوان بلورین صبحدم / برداشت تیغ و پرده تاریک شب شکافت، / روزی که آفتاب از هر دریچه تافت / روزی که گونه و لب یاران هم‌نبرد / رنگ نشاط و خنده گم‌گشته بازیافت، / من نیز باز خواهم گردید آن زمان / سوی ترانه‌ها و غزل‌ها و بوسه‌ها / سوی بهارهای دل‌انگیز گل‌فشان / سوی تو، / عشق من»

- (۱) سنت‌شکنی در قالب شعر و موسیقی
- (۲) زمینی و دنیوی بودن تفکر شاعر
- (۳) جدید و نو بودن صور خیال و تصاویر شعری
- (۴) صمیمانه بودن لحن شاعر

۴۳- در متن زیر همه ویژگی‌ها به‌جز ... یافت می‌شود.

«مقصد ما فتح سرزمین نبود، مقصد ما جلب رضای خدا بود؛ و در این مقصد، شکست، بی‌معناست. تکلیف، حرکت و مبارزه برای حاکمیت دین خداست. مهم این است که نفس این مبارزه پیروزی است نه به مقصد رسیدن یا نرسیدن. ظاهر جنگ دو چهره بیشتر ندارد؛ چهره اول پیشروی و پیروزی، چهره دوم، عقب‌نشینی و شکست. اما محتوا و روح جنگ، همواره در یک چهره خلاصه می‌شود و آن پیروزی مظلوم و عدالت‌خواه و شکست و خذلان طرف ظالم و متجاوز.»

- (۱) مبارزه با بی‌عدالتی
- (۲) استقبال از فرهنگ ایثار
- (۳) تفکر انسان‌گرایانه
- (۴) انعکاس چهره دین و دینداری

۴۴- کدام ویژگی سبکی با متن زیر همخوانی ندارد؟

«به دنیا که آمد پدرش النگوهای عروسی مادرش را فروخت. قوچ چاق و چله‌ای را زمین زد و تمام در و همسایه و فک و فامیل را نذری داد. وقتی سیزده سالش بود کیف پول مادرش را دزدید. در هفده سالگی یک نفر را کشت. خانواده‌اش تمام دار و ندارشان را فروختند تا توانستند دیه دخترک را بدهند. وقتی بیست سالش بود یک تزییقی خیابان خواب شده بود و مادرش شب و روز دعا می‌کرد کسی او را بکشد تا با پول دیه‌اش بتواند دختران دم‌بختش را شوهر بدهد. در یک شب برفی زیر یک پل به قتل رسید، قاتلش جوان معتادی بود که هفت روز بیشتر در زندان دوام نیاورد.»

- (۱) ساده‌نویسی
- (۲) توجه به مضامین اجتماعی
- (۳) دوری از سبک‌های جدید داستان‌نویسی
- (۴) ایجاز

۴۵- وزن کدام شعر نیمایی با دیگر گزینه‌ها متفاوت است؟

- (۱) پوستینی ژنده دارم من / یادگاری ژنده‌پیر از روزگارانی غبارآلود / سالخوردی جاودان مانند
- (۲) تا کدامین را تو می‌خواهی / زین درختستان بار و برگ / مرگ را جستن برای زندگی یا آنک / زندگی کردن برای مرگ
- (۳) باغ ما در طرف سایه دانایی بود / باغ ما جای گره خوردن احساس و گیاه / باغ ما نقطه برخورد نگاه و قفس و آینه بود
- (۴) خانه خالی بود و خوان بی‌آب و نان / و آن چه بود آتش دهن‌سوزی نبود / این شب است آری شبی بس هولناک

۴۶- در همهٔ گزینه‌ها به جز ... پایهٔ آوایی مقابل شعر در آن به کار رفته است.

- (۱) تصویر تابناک هزاران ستاره را / چون خرده‌های نان / بر ماهیان خرد و کلان هدیه کرده است (مفاعیل)
- (۲) چه غم گر چلچراغ ماه بزمم را نیاراید / شبی دارم که در آفاق تاریخش / تمام روشنایی‌ها فرو مرده است (مفاعیلن)
- (۳) از بلندای رو نهادم در نشیب / وز حرارت با عرق گشتم عجین (فاعلن)
- (۴) دیدم که در زندان تاریک فراموشی / در چار دیوار شب غربت / چندان گرفتارم (مستفعل)

۴۷- نام بحر عروضی همهٔ ابیات به جز بیت ... در کمانک مقابل آن صحیح می‌باشد.

- (۱) نصیحت گوش کن کاین دُر بسی به / از آن گوهر که در گنجینه داری (هزج مسدس محذوف)
- (۲) در ازل دادست ما را ساقی لعل لبث / جرعهٔ جامی که من مدهوش آن جامم هنوز (رمل مثنی محذوف)
- (۳) تفرّج‌کنان در هوا و هوس / گذشتیم بر خاک بسیار کس (مقارب مثنی سالم)
- (۴) عمریست تا من در طلب هر روز گامی می‌زنم / دست شفاعت هر زمان در نیکنامی می‌زنم (رجز مثنی سالم)

۴۸- وزن کدام بیت رمل مثنی سالم است؟

- (۱) عشوه دادند که بر ما گذری خواهی کرد / دیدی آخر که چنین عشوه خریدیم و برفت
- (۲) گفتمش در عین وصل این ناله و فریاد چیست؟ / گفت ما را جلوهٔ معشوق بر این کار داشت
- (۳) تا ز میخانه و می نام و نشان خواهد بود / سر ما خاک در پیر مغان خواهد بود
- (۴) روزگار است این که گه عزت دهد گه خوار دارد / چرخ بازیگر از این بازیچه‌ها بسیار دارد

۴۹- نام وزن روبه‌روی کدام مصراع به تمامی درست است؟

- (۱) عشق هر جا شوید از دلها غبار رنگ را (رمل مثنی سالم)
- (۲) همی دارد خمارم در بلاها (هزج مثنی محذوف)
- (۳) به عجزی که داری قوی کن میان را (مقارب مثنی محذوف)
- (۴) ای غافل از رنج هوس آینه‌پردازی چرا (رجز مثنی سالم)

۵۰- مضمون کدام گزینه از نظر قلمروی فکری با سایر ابیات متفاوت است؟

- (۱) به چه امید در این کوه کنی خارا / چو تو گشتست بسی کوهکن این شیرین
- (۲) خلوتم چراغان کن ای چراغ روحانی / ای ز چشمهٔ نوشت چشم و دل چراغانی
- (۳) چو نورت تیرگی‌ها را منور کرد، خورشیدی / چو در دل پروراندی گل معنی، گلستانی
- (۴) به چهره‌ها منگر، خاطر شکسته بسی است / عروس دهر چو شیرین و خلق فرهادند

۵۱- ابیات همه گزیننه‌ها به‌جز گزیننه ... مصداق مناسبی برای مفهوم و هدف ادبیات به‌شمار می‌روند.

- (۱) پای داری چون کنی خود را تو لنگ؟ / دست داری چون کنی پنهان تو چنگ؟
- (۲) هست گردون هم‌چو طشت سرنگون / وز شفق این طشت هر شب غرق خون
- (۳) این بگفت آن ماه و دست از جان فشاند / نیم‌جانی داشت بر جانان فشاند
- (۴) آن صنم را دیدمی در دست و مست / شیخ شد یک‌بارگی آن جا ز دست

۵۲- با توجه به ویژگی‌های شعر سبک خراسانی، در همه گزیننه‌ها به‌جز گزیننه ... نشانه‌هایی از کاربردهای زبانی این سبک وجود دارد.

- (۱) یکی گفت سالار خوالیگران / همی نالد از شاه و ز مهتران
- (۲) به شهر اندر آوای رود و سرود / به هم برکشیدند چون تار و پود
- (۳) نگرده پراگنده مویت سپید / ز گیتی سپیدی کند ناامید
- (۴) کجا عقل یا شرع فتوا دهد / که اهل خرد دین به دنیا دهد

۵۳- عبارات همه گزیننه‌ها به‌جز گزیننه ... نمونه‌هایی از نثر دوره سامانی به‌حساب می‌آیند.

- (۱) گفت: همه جامه‌های شاهانه خویش بیرون کن و مرا ده و خود با باران برنشین و برو و مرا با این لشگر بگذار.
- (۲) خیمه مسلمانان ملک است و ستون پادشاه و طناب و میخ‌ها رعیت، پس چون نگاه کرده آید، اصل ستون است.
- (۳) پس چون روز پنجم بود نامه‌ای آمد از جانب پارس که در آتشکده آتش بمرد و مدت هزار سال گذشته بود تا آن آتش نمرده بود.
- (۴) نوروز نخستین روز است از فروردین ماه و از این جهت روز نو نام کردند زیرا که پیشانی سال نو است.

۵۴- تقطیع هجایی کدام مصراع مطابق « --U-U----U-U-- » است؟

- (۱) مرغان آبی را چه غم تا غم خورد مرغ هوا
- (۲) گر قاب قوس خواهی دل راست کن چو تیری
- (۳) یک شمع از این مجلس صد شمع بگیراند
- (۴) ای صوفیان عشق بدرید خرقة‌ها

۵۵- در کدام بیت قاعده قافیه با بقیه ابیات متفاوت است؟

- (۱) سر بریدن واجب آید مرغ را / کو به غیر وقت جنباند درآ
- (۲) گفت شیطان آخر ای بسیارگو / این همه الله را لبیک گو
- (۳) ای برادر بود اندر ماضی / شهریبی با روستایی آشنا
- (۴) مزرع سبز فلک دیدم و داس مه نو / یادم از کشته خویش آمد و هنگام درو

۵۶- کدام خط عروضی در نوشتن مصراع‌های زیر درست رعایت شده است؟

- (۱) ذوق تعین هوس، رنج تعلق است و بس: ذوق تَعَيُّنِ هَوْسِ، رنج تَعَلَّقَسْتُ و بَس
 - (۲) یک دو نفس ناله شو و از دل دیوانه برآ: یک دُ نَفْسِ نَالِ شُ وَا زِ دَلِ دِيوَانِهِ بَرَا
 - (۳) یک گام اگر ز وهم تعلق گذشته‌ای: یک گامِ گر ز وَهْمِ تَعَلَّقِ گُذَّشْتِ اِی
 - (۴) باغی است طاووس رخس ماری است افسون‌گر در او: باغیست طَاوُوسِ رُخْسِ مَارِیْسْتِ اَفْسُونِ گَرِ دَرُو
- ۵۷- در کدام بیت آرایه‌های «جناس همسان - تکرار - ایهام تناسب - کنایه - تشبیه» تماماً یافت می‌شود؟

- (۱) دوش گیسوی تو را ریخته دیدم بر دوش / خاطر آشفته‌ام امشب ز پریشانی دوش
- (۲) تا مهر ماه چهره تو در دلم نشست / از مهر و ماه مهر به کلی بریده‌ام
- (۳) ز روم تا در چین گر به تیغ بگشایی / چو تیغ مرگ ببینی رخ تو گیرد چین
- (۴) دوش سیلاب غمت تا به سر زانو بود / امشب ای دوست چه تدبیر که بگذشت ز دوش

۵۸- به ترتیب آرایه‌های «واج‌آرایی، مجاز، موازنه، تشبیه، جناس» در کدام ابیات موجود است؟

- (الف) بیدلان را سخنی از رخ دلبر گفتند / بلبلان را خبری از گل نسرین دادند
- (ب) دوش چون در شکن طرّه شب چین دادند / مژده آمدن آن صنم چین دادند
- (ج) عطر مجنون همه از سنبل لیلی سودند / کام خسرو همه از شکر شیرین دادند
- (د) سوز پروانه دگر در دل شمع افکندند / مهر اورنگ به گلچهر خور آئین دادند
- (ه) خضر را آگهی از آب حیات آوردند / نامه ویس گل اندام به رامین دادند

(۱) الف - ه - ج - د - ب

(۲) الف - ه - ج - د - ب

۵۹- آرایه‌های کدام بیت با کمانک مقابل آن مطابقت ندارد؟

- (۱) مگر به خویش دلالت کنی مرا، ورنه / شده است خشک چو سنگ نشان دلیل از تو (تشبیه - اشتقاق)
- (۲) مهر روی‌اش که آب آتش برد / خاک بر دست آب و آتش ریخت (جناس - تشبیه)
- (۳) مدام آن نرگس سرمست را در خواب می‌بینم / عجب مستی است کش پیوسته در محراب می‌بینم (واج‌آرایی - مجاز)
- (۴) بر جای رطل و جام می، گوران نهادستند پی / بر جای چنگ و نای و نی، آواز زاغ است و زغن (سجع مطرف - جناس)

۶۰- مفهوم کدام گزینه در عبارت زیر برجسته است؟

«یکی را از دوستان گفتم: امتناع سخن گفتنم به علت آن اختیار افتاده است که غالب اوقات در سخن نیک و بد اتفاق افتد و دیده دشمنان

جز بر بدی نمی‌آید.»

- (۱) پرهیز از غیبت کردن
- (۲) تأکید بر خاموشی و سکوت
- (۳) مدارا با دشمن عیب‌جو
- (۴) دعوت به گوشه‌گیری

■ عَيْنِ الْأَصْحَاحِ وَالْأَدَقِّ فِي الْجَوَابِ لِلتَّرْجَمَةِ: (۶۱ - ۶۳)

۶۱- «مِنَ النَّاسِ مَنْ يَرْجُو رَحْمَةَ اللَّهِ وَ يَعْْبُدُهُ عِبَادَةَ الْمُؤْمِنِينَ وَ يَخَافُ عَذَابَهُ خَوْفَ الْخَاشِعِينَ!»:

(۱) از میان مردم کسی هست که به رحمت خدا امید دارد و او را همانند مؤمنان عبادت می‌کند و هم‌چون خشوع‌کنندگان از عذابش می‌ترسد!

(۲) برخی از میان مردم، به رحمت خدا امید دارند، قطعاً او را مثل مؤمنان می‌پرستند و مانند خاشعان از عذاب وی ترسان می‌شوند!

(۳) از بین مردم کسی هست که به رحمت الهی امید دارد و او را با ایمان عبادت می‌کند و با خشوع از عذاب وی می‌ترسد!

(۴) کسانی از بین مردم به رحمت خدا امیدوارند که او را با ایمان عبادت کنند و خاشعانه از عذاب او بترسند!

۶۲- «أَعْطَى الْمَدِيرَ جَائِزَةً لِلتَّمْيِيزِ الْمَثَالِي أَمْسَ لِأَنَّهُ اجْتَهَدَ فِي الدَّرُوسِ اجْتِهَاداً كَثِيراً!»:

(۱) دیروز مدیر جایزه‌ای را به دانش‌آموز نمونه اعطاء نمود، چرا که او بسیار در درس‌ها تلاش کرده بود!

(۲) روز گذشته آقای مدیر جایزه‌ای را به دانش‌آموزان منتخب تقدیم کرد، چون در درس‌ها فراوان تلاش می‌نمود!

(۳) مدیر دیروز جوایزی را به دانش‌آموزان برتر اعطا کرد، چرا که آن‌ها بسیار در درس‌هایشان تلاش نمودند!

(۴) روز گذشته مدیر جایزه‌ای را به دانش‌آموز برتر اعطاء نمود، چون او در درس‌هایش تلاش فراوانی کرد!

۶۳- عَيْنِ الْخَطَأِ:

(۱) قد بلغنى أنّ صديقى دعانى إلى مأدبة! به من (خبر) رسیده است که دوستم مرا به مهمانی‌ای فراخوانده است!

(۲) إنّ الذى يؤدبه الوالدان لن يؤدبه الزّمن! کسی که پدر و مادر ادبش می‌کنند، زمان ادبش نخواهد کرد!

(۳) قد يلجأ الإنسان إلى حيل للتخلص من خداع عدوه! گاهی انسان برای رهایی از نیرنگ‌های دشمنش به چاره‌اندیشی پناه می‌برد!

(۴) أعينوا فائدكم بسداد في أمور مهمّة تحبون! فرمانده‌تان را در کارهای مهمی که دوست دارید با درستی یاری دهید!

۶۴- «ما أظلم الإنسان للطبيعة في نشاطاته!»؛ الجملة تدلُّ على

(۱) الكثرة (۲) التأكيد (۳) بيان الحالة (۴) التعجب

۶۵- عَيْنِ الْخَطَأِ حَسَبِ التَّوْضِيحَاتِ:

(۱) الفأرة: حيوانٌ صغيرٌ يُحْسَبُ القِطُّ مِنْ أَعْدَائِهِ! (۲) المأموم: المتبوع أو الذى يتبع الأوامر!

(۳) الذرية: أولاد الإنسان أو نسله! (۴) السلام: التوافق و المسالمة و إنهاء الخصومة!

۶۶- عَيْنَ الصَّحِيحِ فِي الْمَفْهُومِ: «لَا شَيْءَ أَحَقُّ بِالسَّجَنِ مِنَ اللِّسَانِ!»

(۱) تا مرد سخن نگفته باشد / عیب و هنرش نهفته باشد

(۲) إِنَّ لِسَانَ الشَّخْصِ مَسْجُونٌ، مَا دَامَ لَا يَتَكَلَّمُ بِهِ!

(۳) اللِّسَانُ جَرْمُهُ صَغِيرٌ وَ جَرْمُهُ كَبِيرٌ!

(۴) زبان در دهان خردمند چیست / کلید در گنج صاحب هنر

۶۷- عَيْنَ الصَّحِيحِ فِي التَّحْلِيلِ الصَّرْفِيِّ وَ الْمَحَلِّ الإِعْرَابِيِّ: «مَنْ لَمْ يُؤَدِّبْهُ الْوَالِدَانِ صَغِيرًا يُؤَدِّبُهُ الزَّمَانُ!»

(۱) صَغِيرًا: اسم، مُفْرَدٌ، مُذَكَّرٌ، نَكْرَةٌ، مُعْرَبٌ/ مفعولٌ و منصوبٌ

(۲) الزَّمَانُ: اسم، جَمْعٌ تَكْسِيرٍ، مُعْرَفٌ بِالْأَلِ، مُعْرَبٌ / فاعلٌ و مرفوعٌ بالضَّمَّةِ

(۳) الْوَالِدَانِ: اسمٌ فاعلٍ، مُنْثَى، مُذَكَّرٌ، مُعْرَفٌ بِالْأَلِ، مُعْرَبٌ / فاعلٌ و مرفوعٌ بِـ «ا» في «ان»

(۴) يُؤَدِّبُ: فعلٌ، مُضارعٌ، مُفْرَدٌ مُذَكَّرٌ غَائِبٌ، ثَلَاثِيٌّ مَزِيدٌ مِنْ بَابِ تَفْعِيلٍ، مَجْهُولٌ، مُتَعَدٍّ/ الْجُمْلَةُ فِعْلِيَّةٌ وَ شَرْطِيَّةٌ

۶۸- عَيْنَ الْمَصْدَرِ لِرْفَعِ الشَّكِّ عَنِ وَقْعِ الْفِعْلِ:

(۱) إِنَّ الْمُعَلِّمَ يُرَبِّي هُوَ لَاءِ الْيَتَامَى تَرْبِيَّةَ الْأَبِ الْخَنُونَ!

(۲) إِنْ غَيَّرْتَ نَفْسَكَ تُشَاهِدَ تَغْيِيرًا فِي الْعَالَمِ!

(۳) إِنْ تُسَاعِدُونِي مُسَاعَدَةً أَوْاصِلَ طَرِيقِي دُونَ تَعَبٍ!

(۴) يَا أَيُّهَا الْعُلَمَاءُ لَا تُجَادِلُوا الْجَاهِلَ مُجَادَلَةً طَوِيلَةً!

۶۹- عَيْنَ الْمَفْعُولِ الْمَطْلُوقِ لَيْسَ لَهُ حُرُوفٌ زَائِدَةٌ:

(۱) اجْتَنِبْ عَنِ الذَّنُوبِ الَّتِي تَنْزِلُ الْبَلَاءُ (اجْتِنَابًا!)

(۲) عَلَى كُلِّ تَلْمِيزٍ أَنْ يُفَكَّرَ فِي مَشَاكِلِهِ تَفَكُّرًا عَمِيقًا!

(۳) لَعَلَّ الْأَصْدِقَاءَ يَصْبِرُونَ عَلَى مَا أَصَابَهُمْ صَبْرًا جَمِيلًا!

(۴) الْأَغْنِيَاءُ أَحْسَنُوا إِلَى مَسَاكِينِ الْمَدِينَةِ إِحْسَانًا الْخَالِصِينَ!

۷۰- عَيْنَ الْعِبَارَةِ الَّتِي جَاءَ فِيهَا الْمَصْدَرُ لِرْفَعِ الشَّكِّ:

(۱) عِنْدَمَا تَوَقَّفَ النَّبِيُّ (ص) وَ شَاهَدَ لَعِبَ الْأَطْفَالَ كَانَ فَرِحًا.

(۲) الَّذِي يَعْملُ فِي السِّرِّ عَمَلَ الْعَلَانِيَةِ فَكَانَ بَرًّا.

(۳) اسْتَشْهَدَ صَدِيقِي فِي الْحَرْبِ اسْتِشْهَادًا فَكَانَ مُؤْمِنًا بِاللَّهِ الرَّحِيمِ

(۴) الَّذِي كَانَ بَخِيلًا فَيُعِيشُ فِي الدُّنْيَا عَيْشَ الْفُقَرَاءِ.

- ۷۱- نخستین مرحله برنامه‌های اصلاحی رژیم پهلوی با عنوان ... در سال ۱۳۴۰ در زمان نخست‌وزیری ... آغاز شد.
- (۱) اصلاحات ارضی - علی امینی
(۲) انقلاب سفید - اسدالله علم
(۳) انقلاب سفید - علی امینی
(۴) اصلاحات ارضی - اسدالله علم
- ۷۲- اولین مرحله فعالیت سیاسی امام خمینی (ره) با اعتراض به کدام تصویب‌نامه آغاز شد و ایشان پیامد این مصوبه را چه مسئله‌ای عنوان کردند؟
- (۱) تصویب قانون کاپیتولاسیون - تضعیف اسلام
(۲) تصویب‌نامه انتخابات انجمن‌های ایالتی و ولایتی - حضور گسترده آمریکایی‌ها در ایران
(۳) تصویب قانون کاپیتولاسیون - افزایش قدرت رژیم شاه
(۴) تصویب‌نامه انتخابات انجمن‌های ایالتی و ولایتی - افزایش حضور بهائیان در حکومت
- ۷۳- کدام نخست‌وزیر، مأموریت اجرای اصلاحات آمریکایی در ایران را برعهده داشت؟
- (۱) اسدالله علم
(۲) جمشید آموزگار
(۳) امیرعباس هویدا
(۴) جعفر شریف‌امامی
- ۷۴- امام خمینی (ره) پس از کدام ماجرا، تقيه و سکوت در مقابل ظلم حکومت را حرام دانستند؟
- (۱) تصویب قانون کاپیتولاسیون
(۲) مطرح شدن همه‌پرسی انقلاب سفید
(۳) سرکوب قیام خونین پانزده خرداد سال ۱۳۴۲
(۴) حمله به مدرسه فیضیه قم و طالبیه تبریز در نوروز سال ۱۳۴۲
- ۷۵- مخالفت صریح امام خمینی (ره) با چه چیز، حکومت پهلوی را به وحشت انداخت و رژیم پهلوی در برابر آن به چه اقدامی متوسل شد؟
- (۱) لایحه انجمن‌های ایالتی و ولایتی - تبعید امام به ترکیه
(۲) قانون کاپیتولاسیون - حصر امام به مدت ده ماه
(۳) قانون کاپیتولاسیون - تبعید امام به ترکیه
(۴) لایحه انجمن‌های ایالتی و ولایتی - حصر امام به مدت ده ماه
- ۷۶- کدام مورد از اقدامات حکومت پهلوی برای تقویت و تحکیم پایه‌های اقتدارش نیست؟
- (۱) برگزاری جشن‌های دوهزار و پانصد ساله شاهنشاهی
(۲) منحل کردن احزاب موجود
(۳) برگزاری جشن تاج‌گذاری
(۴) جایگزین کردن تاریخ شاهنشاهی به جای تقویم هجری شمسی
- ۷۷- کدام گروه پس از تبعید امام خمینی (ره)، مبارزه مسلحانه و ترور سران حکومت پهلوی را محور کار خود قرار دادند؟
- (۱) سازمان چریک‌های فدایی خلق
(۲) هیئت‌های مؤتلفه اسلامی
(۳) سازمان مجاهدین خلق
(۴) حزب ملل اسلامی
- ۷۸- پس از هویدا چه کسی به نخست‌وزیری منصوب شد و چه مأموریتی یافت؟
- (۱) جمشید آموزگار - برقراری حکومت نظامی
(۲) ارتشبد ازهاری - ایجاد فضای باز سیاسی
(۳) جمشید آموزگار - ایجاد فضای باز سیاسی
(۴) ارتشبد ازهاری - برقراری حکومت نظامی
- ۷۹- در نتیجه چه حادثه‌ای، شاه، جمشید آموزگار را از نخست‌وزیری برکنار کرد؟
- (۱) گسترش قیام در اعتراض به انتشار مقاله‌ای نسبت به امام خمینی (ره)
(۲) سرکوب تظاهرات دانشجویان در مقابل دانشگاه تهران
(۳) مرگ مشکوک دکتر علی شریعتی و حاج آقا مصطفی
(۴) سرکوب هولناک اعتراض مدرسه فیضیه در قم
- ۸۰- پس از اوج‌گیری انقلاب اسلامی، دولت کدام کشور حاضر به پذیرش امام خمینی (ره) که قصد عزیمت به این کشور را داشتند، نبود؟
- (۱) عراق
(۲) بحرین
(۳) یمن
(۴) کویت

۸۱- درباره نحوه ایجاد و تکرار زمین لرزه، جاهای خالی زیر، با کدام عبارات تکمیل می‌شوند؟

حرکت همرفتی مواد در گوشته فوقانی ← حرکات صفحات نسبت به هم ← «...» ← ایجاد گسل‌ها ← حرکت گسل‌ها ← زمین لرزه.
شکستن سنگ‌ها در امتداد گسل‌ها به صورت ناگهانی ← جابه‌جایی گسل ← «...» ← «...» ← تشکیل گسل در محل گسل‌های قدیمی
← تکرار زمین لرزه.

- ۱) کشیدگی و فشردگی پوسته زمین - آزاد شدن انرژی - تداوم حرکت صفحات و تجمع دوباره انرژی
- ۲) کشیدگی و فشردگی پوسته زمین - تداوم حرکت صفحات و تجمع دوباره انرژی - آزاد شدن انرژی
- ۳) آزاد شدن انرژی - تداوم حرکت صفحات و تجمع دوباره انرژی - کشیدگی و فشردگی پوسته زمین
- ۴) آزاد شدن انرژی - کشیدگی و فشردگی پوسته زمین - تداوم حرکت صفحات و تجمع دوباره انرژی

۸۲- به ترتیب، هریک از موارد زیر مربوط به کدام مفهوم است؟

«تقطعاتی که انرژی انباشته شده در سنگ برای نخستین بار آزاد می‌شود»، «واحدهای تشکیل دهنده لیتوسفر»، «مقدار انرژی‌ای که زمین لرزه آزاد می‌کند» و «ناحیه‌ای از سطح زمین که روی کانون زلزله قرار دارد».

- ۱) کانون زمین لرزه - صفحه - شدت - مرکز سطحی زمین لرزه
- ۲) مرکز سطحی زمین لرزه - صفحه - بزرگی - کانون زلزله
- ۳) مرکز سطحی زمین لرزه - صفحه - شدت - کانون زلزله
- ۴) کانون زمین لرزه - پلیت - بزرگی - مرکز سطحی زمین لرزه

۸۳- با توجه به کمربندهای زمین لرزه، در کدام مناطق، خطر زلزله به ترتیب، کم و زیاد است؟

- ۱) شمال قاره آسیا - اقیانوس منجمد جنوبی
- ۲) آسیای جنوب شرقی - مرکز اقیانوس آرام
- ۳) شرق آمریکای شمالی - شرق قاره آفریقا
- ۴) غرب آمریکای جنوبی - مرکز اقیانوس اطلس

۸۴- کدام زلزله بیشترین میزان تلفات را در میان مهم‌ترین زلزله‌های پنجاه سال اخیر ایران، داشته است؟

- ۱) رودبار
- ۲) بم
- ۳) طیس
- ۴) دشت بیاض

۸۵- کدام عبارت درباره آبدهی رود، درست است؟

- ۱) به سرعت آبی که در زمانی مشخص از یک مقطع رود عبور می‌کند، آبدهی (دبی) می‌گویند که واحد آن مترمکعب بر ساعت است.
- ۲) به سرعت آبی که در زمانی مشخص از یک مقطع رود عبور می‌کند، آبدهی (دبی) می‌گویند که واحد آن مترمکعب بر ثانیه است.
- ۳) به حجم آبی که در زمانی مشخص از یک مقطع رود عبور می‌کند، آبدهی (دبی) می‌گویند که واحد آن مترمکعب بر ثانیه است.
- ۴) به حجم آبی که در زمانی مشخص از یک مقطع رود عبور می‌کند، آبدهی (دبی) می‌گویند که واحد آن مترمکعب بر ساعت است.

۸۶- کدام گزینه ویژگی‌های دشت سیلابی را به درستی برمی‌شمارد؟

- (۱) دشت سیلابی یا بستر سیلابی در واقع زمین‌های پست و هموار مجاور رود است که همواره از آب پوشیده شده و کمتر خشک شدن بستر آن مشاهده می‌شود.
- (۲) دشت سیلابی که در زمان طغیان رود از آب پوشیده می‌شود، به دلیل پوشیده شدن از رسوبات آبرفتی (رس، شن و قلوه سنگ)، کمتر دارای امکان کشت محصولات کشاورزی است.
- (۳) دشت سیلابی در دوره خشک نیز همواره شاهد جریان مقداری آب هست که همین امر امکان کشاورزی در همه مناطق دارای این شرایط را فراهم می‌سازد.
- (۴) دشت سیلابی رود در اغلب ایام سال خشک است. سطح آن از رسوبات آبرفتی پوشیده شده و در دوره خشک‌سالی در برخی مناطق امکان کشت محصولات کشاورزی فراهم است.

۸۷- کدام شکل حوضه آبخیز، سیل خیزتر است؟

- (۱) گرد و کم‌شیب (۲) دراز و پرشیب (۳) دراز و کشیده (۴) گرد و پرشیب

۸۸- چرا از بین بردن پوشش گیاهی در حوضه آبخیز موجب تشدید سیل می‌شود و نتیجه این امر چیست؟

- (۱) کاهش نفوذپذیری خاک - افزایش سرعت رواناب حاصل از بارش
- (۲) افزایش نفوذپذیری خاک - کاهش سرعت رواناب حاصل از بارش
- (۳) کاهش نفوذپذیری خاک - کاهش سرعت رواناب حاصل از بارش
- (۴) افزایش نفوذپذیری خاک - افزایش سرعت رواناب حاصل از بارش

۸۹- چه تعداد از عبارات زیر درباره زمین لغزش درست است؟

- (الف) بارش‌هایی که شدت آن‌ها کمتر اما مدت آن‌ها بیشتر است، تأثیر بیشتری در ناپایداری دامنه‌ها دارند.
- (ب) لغزش حاصل از زیربری رودخانه‌ها از فراوان‌ترین نوع لغزش دامنه‌ها است.
- (ج) احتمال وقوع لغزش در مناطقی که پوشیده از درختان یا گیاهان متراکم‌اند، بیشتر است.
- (د) بیشترین زمین لغزش‌های اصلی ایران، در نیمه شمالی کشور رخ می‌دهد.

- (۱) چهار (۲) سه (۳) دو (۴) یک

۹۰- کدام یک از گزینه‌های زیر از پیامدهای خشک‌سالی نیست؟

- (۱) از بین رفتن گیاهان و جانوران یا مهاجرت برخی گونه‌ها
- (۲) کاهش ذخایر آب سطحی و زیرزمینی یا خشک شدن آن‌ها
- (۳) افزایش ریزگردها و حرکت آن‌ها به سمت سکونتگاه‌ها
- (۴) گرم شدن آب‌وهوای کره زمین و بی‌نظمی‌های بارش

تاریخ (۱) کن کتاب
تاریخ (۲) کن کتاب

تاریخ (۱) و (۲)

۹۱- در گاهشماری خورشیدی - قمری بابلی برای رفع اختلاف سال قمری و سال خورشیدی چه اقدامی انجام می‌دادند؟

- (۱) هر ۱۲۰ سال، یک ماه به دوازده ماه سال اضافه می‌کردند.
- (۲) پنج روز اضافی را به آخر ماه دوازدهم اضافه می‌کردند.
- (۳) هر سه سال، یک ماه به سال اضافه می‌کردند.
- (۴) هر چهار سال، یک روز به سال می‌افزودند.

۹۲- به ترتیب، گشایش جاده ابریشم و تکمیل دیوار چین در زمان کدام سلسله‌های چینی صورت گرفت؟

- (۱) هان - هان
- (۲) چه این - هان
- (۳) چه این - چه این
- (۴) هان - چه این

۹۳- به ترتیب، حکومت ساسانیان، حکومت ... بود و جنبش اقتصادی - اجتماعی مزدک در زمان حکومت ... رخ داد.

- (۱) ملوک الطوایفی - قباد یکم
- (۲) ملوک الطوایفی - شاپور یکم
- (۳) متمرکز - قباد یکم
- (۴) متمرکز - شاپور یکم

۹۴- دوره فرمانروایی ...، سرآغاز ایجاد نابرابری‌های اقتصادی و اجتماعی در سطوح فرهنگی و سیاسی بود.

- (۱) مادها
- (۲) هخامنشیان
- (۳) اشکانیان
- (۴) ساسانیان

۹۵- کدام گزینه از آثار برجسته معماری دوران اشکانیان نیست؟

- (۱) کاخ تیسفون
- (۲) معبد آناهیتا در شهر کنگاور
- (۳) کاخ شهر هترا (الحضر)
- (۴) شهر نسا

۹۶- چرا قبیله قریش قدرت و نفوذ سیاسی قابل توجهی در میان قبایل دیگر داشتند و وضعیت اقتصادی شبه‌جزیره عربستان متأثر از چه عاملی بود؟

- (۱) برقراری رابطه تجاری با سرزمین‌های اطراف - شرایط طبیعی
- (۲) اتکا به تشکیلات سیاسی، اداری و نظامی منظم - موقعیت جغرافیایی
- (۳) در اختیار داشتن اداره کعبه - وضعیت فرهنگی و اجتماعی
- (۴) داشتن ثبات و انسجام - شرایط اقلیمی

۹۷- در ارتباط با «علویان طبرستان» نمی‌توان گفت ...

- (۱) بیشتر دوران حکومت آن‌ها به کشمکش با لشکریان طاهریان و سامانیان سپری شد.
- (۲) روابط آن‌ها با خلافت عباسی همواره خصومت‌آمیز بود.
- (۳) در سرکوب خوارچ موفقیت‌هایی به دست آوردند.
- (۴) امیران شیعه مذهب آن‌ها، عباسیان را غاصب خلافت می‌شمردند.

۹۸- کدام گزاره در رابطه با شهر و شهرنشینی در عصر مغول - تیموری صحیح نمی‌باشد؟

- (۱) «یاسا» چنگیز به مغولان توصیه می‌کرد از شهر و شهرنشینی دوری گزینند.
- (۲) پس از استقرار حکومت ایلخانی، رشد نسبی تجارت به احیای شهرنشینی کمک کرد.
- (۳) شهر و شهرنشینی در عصر تیموریان با یورش‌های تیمور دچار رکود و زوال شد.
- (۴) شهرهای هرات و یزد در دوره جانشینان تیمور رونق چشمگیری یافتند.

۹۹- کدام گزینه از اقدامات «شاه عباس اول» نمی‌باشد؟

- (۱) نوسازی تشکیلات و تجهیزات سپاه
- (۲) انتقال پایتخت از قزوین به اصفهان
- (۳) افزودن عراق و عتبات عالیات به قلمرو صفوی
- (۴) خارج کردن قندهار از تسلط گورکانیان هند

۱۰۰- مهم‌ترین شخصیتی که نهضت اصلاح دینی اروپا به نام وی شناخته می‌شود، در کدام گزینه آمده است؟

- (۱) جان ویکلیف
- (۲) مارتین لوتر
- (۳) توماس آکویناس
- (۴) جان هوس

جغرافیا ۱
کل کتاب
جغرافیا ۲
کل کتاب

جغرافیای پایه

۱۰۱- دربارهٔ بحران ریزگردها، موارد زیر به ترتیب با کدام سؤال جغرافیا مورد بررسی قرار می‌گیرند؟

الف) از بین رفتن باتلاق‌ها

ب) وجود ریزگردهای بیش از حد مجاز در هوا

ج) بی‌توجهی به تثبیت خاک

د) قطع درختان

۲) چطور - کجا - چه کسی - چطور

۱) چطور - چه چیز - چه کسی - چطور

۴) کجا - چه موقع - چه چیز - چه کسی

۳) کجا - چه چیز - چرا - چه کسی

۱۰۲- در مقایسهٔ «نقشهٔ ناهمواری‌های ایران» با «نقشهٔ تراکم جمعیت ایران در نواحی شهری» کدام نتیجه حاصل نمی‌گردد؟

۱) تراکم جمعیت در منطقهٔ کوهستانی آذربایجان بیشتر از کوه‌های شمال خراسان است.

۲) پراکندگی جمعیت در زاگرس جنوب شرقی بیشتر از زاگرس شمال غربی است.

۳) تراکم جمعیت در سواحل خلیج فارس، کمتر از سواحل دریای عمان است.

۴) پراکندگی جمعیت در نیمهٔ شمالی ایران، کمتر از نیمهٔ جنوبی آن است.

۱۰۳- کدام گزینه دربارهٔ نسبت جنسی جمعیت کرهٔ زمین دقیق‌تر است و بررسی ویژگی‌های قابل اندازه‌گیری جمعیت، مربوط به کدام مورد است؟

۱) در همهٔ زمان‌ها دارای تفاوت قابل توجهی بوده است. - ساختمان جمعیت

۲) در همهٔ زمان‌ها دارای تفاوت قابل توجهی بوده است. - نسبت سنی جمعیت

۳) جز در زمان‌های خاص، تفاوت چندانی ندارد. - ساختمان جمعیت

۴) جز در زمان‌های خاص، تفاوت چندانی ندارد. - نسبت سنی جمعیت

۱۰۴- در سال ۱۳۹۰ تعداد کلان‌شهرهای ایران چند شهر بوده است و کدام یک جزو این شهرها نیست؟

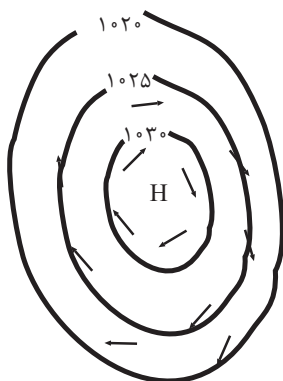
۲) ۸ شهر - ساری

۱) ۶ شهر - کرج

۴) ۸ شهر - قم

۳) ۶ شهر - یزد

۱۰۵- در ناحیهٔ استوایی ... یک کانون کم‌فشار ایجاد می‌کند و شکل زیر، منطقهٔ ... را نمایش می‌دهد که فشار به سمت مرکز منطقه ... می‌شود.



۱) زاویهٔ مستقیم تابش - پرفشار - کم

۲) گرمای همیشگی - پرفشار - زیاد

۳) زاویهٔ مایل تابش - کم‌فشار - زیاد

۴) گرمای همیشگی - کم‌فشار - کم

۱۰۶- آبسنگ‌های مرجانی و زبانه ماسه‌ای، به ترتیب مربوط به چه نوع اشکال فرسایش در سواحل هستند؟

- (۱) کاوشی - تراکمی
- (۲) تراکمی - تراکمی
- (۳) تراکمی - کاوشی
- (۴) کاوشی - کاوشی

۱۰۷- در کدام یک از گزینه‌های زیر، اهمیت‌دادن به تنوع زبانی مشاهده نمی‌شود؟

- (۱) کانادا کشوری انگلیسی‌زبان است؛ اما در ایالت کبک در این کشور، بیشتر مردم فرانسوی‌زبان‌اند و کلاس‌های زبان فرانسوی رایگان برای مهاجران برگزار می‌کنند.
- (۲) مطابق قانون اساسی ایران، استفاده از زبان‌های محلی و قومی در مطبوعات و رسانه‌های گروهی و تدریس ادبیات آن‌ها آزاد است.
- (۳) در عصر اکتشافات جغرافیایی، زبان انگلیسی در آمریکای شمالی، استرالیا و نیوزلند گسترش یافت.
- (۴) مردم ناحیه ولز در کشور انگلستان، کانال‌های تلویزیونی به زبان ولزی ایجاد کرده‌اند.

۱۰۸- در گزاره زیر، پیامد موارد مشخص شده مطابق با قواعد اقتصاد جهانی، کدام است؟

«کشور A در سال ۱۹۵۹، برای افزایش میزان صادرات و بیشتر شدن مقدار آن از واردات، به یکی از اتحادیه‌های اقتصادی و تجاری در

منطقه خود پیوست.»

- (۱) کسری تجاری - پایین آمدن تعرفه‌های تجاری بین کشورها
- (۲) موازنه تجاری مثبت - وضع تعرفه‌های گمرکی و مالیات بر کالاهای وارداتی
- (۳) بهبود استانداردهای زندگی و رفاه - کاهش دادن یا برداشتن مالیات‌ها و تعرفه‌های گمرکی
- (۴) رونق و توسعه اقتصادی - حذف یا ممنوعیت موقت واردات برخی کالاها در دوره زمانی معین

۱۰۹- چه تعداد از عبارات زیر درباره رودها به عنوان مرز، درست است؟

- (الف) خط منصف عمیق‌ترین نقاط بستر رود را به هم متصل می‌کند.
- (ب) در رودهای قابل کشتی‌رانی، تالوگ بهترین خط مرزی است.
- (ج) خط تالوگ خطی است که از وسط رودخانه می‌گذرد و فاصله مرز از هر دو ساحل به یک اندازه است.
- (د) در خط مرزی تالوگ، هر دو کشور حق کشتی‌رانی در دو طرف آن را دارند.

- (۱) چهار (۲) سه (۳) دو (۴) یک

۱۱۰- بازیگران سیاسی و حکومت‌ها چگونه می‌توانند به اهداف خود دست پیدا کنند و طبق نظریه میکندر، تسلط بر منابع کدام منطقه می‌تواند

فرمانروایی بر کل جزیره جهانی را به دنبال داشته باشد؟

- (۱) با تقسیم قدرت در میان جمعیت - شرق اروپا
- (۲) با به دست آوردن قدرت - شرق اروپا
- (۳) با تقسیم قدرت در میان جمعیت - قاره آمریکا و اقیانوسیه
- (۴) با به دست آوردن قدرت - قاره آمریکا و اقیانوسیه

۱۱۱- هر یک از عبارات زیر اشاره به کدام مفهوم دارد؟

- «تفاوت‌های موجود میان گروه‌های قومی و زبانی را حفظ و حتی تشدید می‌کند.»
«نسل‌کشی، جابه‌جایی اجباری کنترل جمعیت از روش‌های آن است.»
«محصول دوران پسامدرن است.»

- (۱) سیاست هویت - مدل همانندسازی - سیاست هویت
(۲) مدل تکثرگرا - مدل همانندسازی - سیاست هویت
(۳) سیاست هویت - مدل تکثرگرا - مدل همانندسازی
(۴) همانندسازی - مدل تکثرگرا - سیاست هویت

۱۱۲- به ترتیب صحیح یا غلط بودن هریک از گزاره‌های زیر را مشخص کنید؟

- (الف) از پیدایش سیاست هویت به باز شدن «جعبه پاندورا» یاد می‌شود.
(ب) همانندسازی به معنای پذیرش ارزش‌ها و سبک زندگی یک گروه توسط سایر گروه‌های جامعه است.
(ج) در اواخر قرن بیستم، قشربندی و کشمکش طبقاتی، به جای هویت محور اصلی مباحثات فکری و سیاسی قرار گرفت.
(د) سیاست هویت تأکید بر تفاوت‌ها و هویت‌های خاص و محلی دارد و محصول دوران مدرن است.

- (۱) ص - ص - ص - غ
(۲) ص - ص - غ - غ
(۳) غ - غ - ص - ص
(۴) ص - غ - غ - ص

۱۱۳- هریک از عبارات زیر، به ترتیب پیامد کدام گزینه است؟

- شکل‌گیری جنبش‌های سبک زندگی و جنبش آفریقایی-آمریکایی‌ها
- گسترش برابری و رفع تبعیض‌های قومی و گروهی
- نسل‌کشی در کامبوج

- (۱) جهانی‌شدن و درهم‌آمیختن فرهنگ‌ها - همانندسازی هویتی - مدل تکثرگرا
(۲) سیاست هویت - مدل همانندسازی هویتی - مدل همانندسازی هویتی
(۳) جهانی‌شدن و توسعه ارتباطات - سیاست هویت - مدل همانندسازی هویتی
(۴) سیاست هویت - مدل تکثرگرا - مدل تکثرگرا

۱۱۴- در ارتباط با سیاست هویت کدام گزینه نادرست است؟

- (۱) محصول دوران پسامدرن است و بر هویت ملی، وحدت، ثبات و استمرار همراه با آن، تأکید می‌شود.
(۲) به صورت افراطی بر گوناگونی‌ها تأکید می‌شود و سبب چندپارگی سیاسی و فرهنگی درون جوامع می‌شود.
(۳) هویت به جای قشربندی و کشمکش طبقاتی، محور اصلی مباحثات فکری و سیاسی شد.
(۴) گروه‌های به حاشیه رانده شده را به رسمیت می‌شناسد و از آنان حمایت می‌کند.

۱۱۵- از درون رویکرد تفسیری، جریان دیگری نیز شکل می‌گیرد که در آن ...

- (۱) بخشی یا همه یک حقیقت مغفول آشکار خواهد شد.
(۲) هر نظریه‌ای درون و بیرون فرهنگ و تاریخ خود تولید می‌شود.
(۳) هر فرهنگ و هویتی می‌تواند نظریه‌های متناسب با خود را تولید کند.
(۴) نظریه فمینیستی معاصر، رنگین‌پوستان و غیراروپائیان نادیده گرفته می‌شود.

۱۱۶- کدام گزینه در ارتباط با علم نافع صحیح نیست؟

- (۱) علمی که درباره حقیقت انسان و آغاز و انجام او سخن می‌گویند، در گروه علوم نافع‌اند.
- (۲) علمی که درباره چگونگی استفاده از علوم ابزاری و اهداف انسان صحبت می‌کنند، علوم نافع‌اند.
- (۳) علم به مبدأ و علم به معاد هستند که اگر به قصد استفاده از قوانین آن در حال و آینده آموخته شوند، علم نافع‌اند.
- (۴) علم نافع علمی است که به کار کشور بیاید و برای حل مشکلات، کشور مفید باشد.

۱۱۷- هر عبارت با کدام موضوع مرتبط است؟

- چگونگی استفاده از علوم ابزاری و اهداف و آرمان‌های انسان
- علم به جامعه و تاریخ
- مقایسه علوم طبیعی و علوم اجتماعی

- (۱) علم نافع - علوم ابزاری - اهمیت یکسان علوم
- (۲) نافع‌ترین علوم - علوم اجتماعی - اهمیت علوم اجتماعی بر علوم طبیعی
- (۳) علم نافع - علوم اجتماعی - فواید علوم اجتماعی
- (۴) نافع‌ترین علوم - علوم ابزاری - فواید علوم تجربی

۱۱۸- عبارات «برطرف کردن نیازهای روزمره جامعه اسلامی»، «ظلم‌ستیزی» و «امکان شناخت حقیقت و عدالت» با کدام موارد مرتبط‌اند؟

- (۱) علوم پایه - توصیف و تبیین زندگی اجتماعی - مدینه فاضله
- (۲) علم به جامعه - توصیف و تبیین زندگی اجتماعی - مدینه فاسقه
- (۳) علوم پایه - جامعه آرمانی قرآن - مدینه فاسقه
- (۴) علم به جامعه - جامعه آرمانی قرآن - مدینه ضاله

۱۱۹- در ارتباط با علم مدنی فارابی کدام گزینه صحیح نیست؟

- (۱) به توصیف و فهم ساختار جوامع و کنش‌ها می‌پردازد.
- (۲) درباره ارزش‌ها و آرمان‌های جوامع مختلف داوری علمی می‌کند و رویکرد انتقادی به جامعه خود و دیگر جوامع دارد.
- (۳) درباره هنجارها، نحوه رفتار و سبک زندگی کنشگران سخن می‌گوید و به توصیف آن‌ها بسنده می‌کند.
- (۴) به تبیین یعنی علت‌یابی واقعیت‌های اجتماعی و بررسی تغییرات و تحولات آن‌ها می‌پردازد.

۱۲۰- کدام گزینه به‌درستی جدول زیر را کامل می‌کند؟

جامعه‌شناسی	تبیینی	تفسیری	انتقادی
عقل	-	الف	-
دانش	ب	-	ج

- (۱) تفسیری - ابزاری - تبیینی
- (۲) عام - تفسیری - تبیینی
- (۳) تفسیری - تبیینی - تجویزی
- (۴) انتقادی - ابزاری - تجویزی

۱۲۱- کدام موارد به ترتیب درباره عبارات زیر درست است؟

- پیامدهای غیرارادی کنش انسان
- کنشی که با توجه به دیگران انجام می‌شود
- عضویت موجودات زنده و نظم آن‌ها
- شرط تداوم پیامدهای جهان اجتماعی

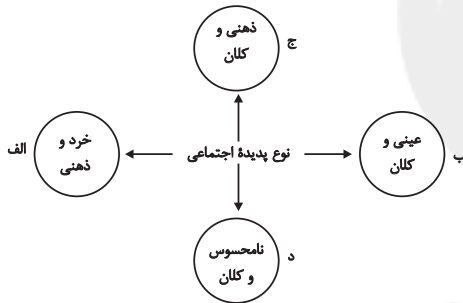
- (۱) قطعی - اجتماعی - تکوینی - مشارکت اجتماعی
(۲) احتمالی - انسانی - تکوینی - فرصت‌های اجتماعی
(۳) قطعی - اجتماعی - اعتباری - مشارکت اجتماعی
(۴) احتمالی - انسانی - اعتباری - فرصت‌های اجتماعی

۱۲۲- پاسخ هر یک از عبارات زیر در رابطه با جهان اجتماعی به ترتیب در کدام گزینه به درستی بیان شده است؟

- هویت هر جهان اجتماعی بر اساس آن شکل می‌گیرد.
- گسترش جهان اجتماعی از این طریق صورت می‌گیرد.
- تأمین جمعیت مناسب برای جهان‌های اجتماعی، مسئله‌ای از این نوع است.

- (۱) بر اساس هنجارها و رفتارهای آن - سیاست‌های جمعیتی - مسئله‌ای هویتی است.
(۲) بر اساس فرهنگ آن - سیاست‌های جمعیتی - مسئله‌ای فرهنگی است.
(۳) بر اساس فرهنگ آن - از طریق گسترش فرهنگ و معانی آن - مسئله‌ای هویتی است.
(۴) بر اساس هنجارها و رفتارهای آن - از طریق گسترش فرهنگ و معانی آن - مسئله‌ای فرهنگی است.

۱۲۳- هر یک از موارد زیر به ترتیب، مربوط به کدام قسمت نمودار است؟



- اعتبار اجتماعی
 - مراقبت از اموال عمومی
 - ناراحت شدن به خاطر خبر حادثه منا
 - علاقه به خرید کردن
- (۱) د - ب - ج - الف
(۲) ج - د - الف - ب
(۳) د - ب - ج - ج
(۴) ب - ج - د - الف

۱۲۴- در رابطه با بُعد اجتماعی هویت و بازتولید آن، کدام یک از گزینه‌های زیر صحیح است؟

- (۱) ویژگی‌های اخلاقی نمونه‌ای از بُعد اجتماعی هویت است.
(۲) جهان اجتماعی پس از تولد هر فرد، بخشی از هویت اجتماعی او را تعیین می‌کند.
(۳) هویت اجتماعی هر فرد، درون جهان اجتماعی و براساس عقاید و هنجارهای آن شکل می‌گیرد.
(۴) اقتناع روشی است که به واسطه آن، هویت در افراد درونی می‌شود.

۱۲۵- به ترتیب هر یک از عبارات زیر با کدام موارد در ارتباط است؟

- اعضای جهان اجتماعی ابتدا با این بخش از هویت خود آشنا می‌شوند.
 - این مفهوم گاهی ناشی از علل درونی بوده و به فعالیت‌های اعضای جهان اجتماعی باز می‌گردد.
 - هویت اجتماعی افراد در پرتو آن شکل می‌گیرد.
 - در فرایند تحولات فرهنگی، جهان اجتماعی پس از تزلزل فرهنگی وارد این مرحله می‌شود.
- (۱) هویت فرهنگی - تعارض فرهنگی - ارزش‌ها و هنجارهای اجتماعی - بحران هویت فرهنگی
(۲) هویت انتسابی - بحران هویت فرهنگی - هویت فرهنگی جهان اجتماعی - تعارض فرهنگی
(۳) هویت انتسابی - تعارض فرهنگی - هویت فرهنگی جهان اجتماعی - بحران هویت فرهنگی
(۴) هویت فرهنگی - بحران هویت فرهنگی - ارزش‌ها و هنجارهای اجتماعی - تعارض فرهنگی

۱۲۶- کدام یک از عبارات زیر، نادرست است؟

- (۱) هیچ کنشی بدون آگاهی شکل نمی‌گیرد.
- (۲) اگر کنش اجتماعی نباشد، هیچ هنجاری شکل نمی‌گیرد.
- (۳) تنوع آگاهی، معرفت، اراده و اختیار انسان‌ها معلول پیدایش جهان‌های اجتماعی مختلف است.
- (۴) جهان متجدد، در جهت تسلط انسان بر این عالم و در جهت برخورداری از زندگی دنیوی گام برمی‌دارد.

۱۲۷- کدام گزینه در ارتباط با جهان اجتماعی و پیامدهای آن درست و در رابطه با پدیده‌های اجتماعی نادرست است؟

- (۱) بخش‌های مختلف جهان اجتماعی، فرصت‌ها و محدودیت‌هایی دارند. فرصت‌ها و محدودیت‌ها به یکدیگر وابسته‌اند و به عبارتی دو روی یک سکه‌اند. - پدیده‌های اجتماعی هیچ وقت نمی‌توانند مستقل شوند، چرا که ثبات و حیات آن‌ها به انسان‌ها وابسته است.
- (۲) صرفاً جهان‌های اجتماعی که رویکرد دنیوی دارند، ثبات و پایداری آنان وابسته به مشارکت اجتماعی افراد است. - پدیده‌های اجتماعی هیچ وقت نمی‌توانند مستقل شوند چرا که ثبات و حیات آن‌ها به انسان‌ها وابسته است.
- (۳) صرفاً جهان‌های اجتماعی که رویکرد دنیوی دارند، ثبات و پایداری آنان وابسته به مشارکت اجتماعی افراد است. - فقط پدیده‌های اجتماعی خرد به وسیله ارتباط با یکدیگر به وجود می‌آیند، این پدیده‌ها به این علت که کنشگران با آگاهی، اراده و هدف عمل می‌کنند، پدیده‌های اجتماعی معناداری هستند.
- (۴) بخش‌های مختلف جهان اجتماعی، فرصت‌ها و محدودیت‌هایی دارند. فرصت‌ها و محدودیت‌ها به یکدیگر وابسته‌اند و به عبارتی دو روی یک سکه‌اند. - فقط پدیده‌های اجتماعی خرد به وسیله ارتباط با یکدیگر به وجود می‌آیند، این پدیده‌ها به این علت که کنشگران با آگاهی، اراده و هدف عمل می‌کنند، پدیده‌های اجتماعی معناداری هستند.

۱۲۸- در رابطه با علل درونی و بیرونی تحولات هویتی جهان اجتماعی کدام گزینه، نادرست است؟

- (۱) اگر جهان اجتماعی در تعامل با جهان‌های دیگر، بر عقاید و ارزش‌های خود پافشاری نکند، گرفتار تزلزل فرهنگی می‌شود.
- (۲) جهان اجتماعی‌ای که در مسیر تحولات هویتی، ارزش‌ها و عقاید جهان اجتماعی دیگری را قبول کند، به آن ملحق می‌شود.
- (۳) کاستی و خلأ معنوی، متفکران اجتماعی را برای عبور از مرزهای هویت فرهنگی جهان اجتماعی، تشویق می‌کند.
- (۴) علل درونی تحولات فرهنگی به کاستی‌ها و بن‌بست‌های موجود در هویت فرهنگی جهان اجتماعی یا نوآوری‌های مثبت و منفی افراد و اعضای جهان اجتماعی بازمی‌گردد.

۱۲۹- هر یک از عبارات زیر، به ترتیب با کدام مورد در ارتباط است؟

- ابزار تحقق هنجارهای اجتماعی

- جایگاه عقاید و ارزش‌ها

- نمودار مناسب با نگرش مردم‌شناسان درباره فرهنگ‌های مختلف

(۱) کنش اجتماعی - لایه عمیق - طولی

(۲) ارزش اجتماعی - لایه سطحی - عرضی

(۳) ارزش اجتماعی - لایه عمیق - عرضی

(۴) کنش اجتماعی - لایه سطحی - طولی

۱۳۰- از دیدگاه مستشرقان، هویت فرهنگی جوامع اسلامی چه ویژگی‌هایی داشته، به چه ابعادی محدود می‌شود و بر چه اساسی امت اسلامی را به

اقوام مختلف تقسیم می‌کنند؟

(۱) توحیدی و اساطیری است - به ابعاد سیاسی و نظامی محدود می‌شود - بر اساس عناوین قوم‌گرایانه و ناسیونالیستی

(۲) توحیدی و اساطیری است - به ابعاد تاریخی و جغرافیایی محدود می‌شود - بر اساس تحولات هویت فرهنگی

(۳) سکولار و دنیوی است - به ابعاد سیاسی و نظامی محدود می‌شود - بر اساس تحولات هویت فرهنگی

(۴) سکولار و دنیوی است - به ابعاد تاریخی و جغرافیایی محدود می‌شود - بر اساس عناوین قوم‌گرایانه و ناسیونالیستی

۱۳۱- کدام فیلسوف مسلمان، روش استدلالی ارسطو را به اوج رساند؟

- (۱) فارابی
(۲) ابن سینا
(۳) سهروردی
(۴) ابن رشد

۱۳۲- ابن سینا در فلسفه مشائی از چه روشی بهره می‌گیرد؟

- (۱) عقلی و استدلالی
(۲) عقلی و تجربی
(۳) شهودی و استدلالی
(۴) عقلی و شهودی

۱۳۳- در نگاه ابن سینا طبیعت چیست؟

- (۱) مرتبه‌ای از هستی که مقصدش در ذات آن وجود دارد.
(۲) مرتبه‌ای از هستی که متمایز از انسان و صفاتش است.
(۳) کل عالم شامل واجب و ممکن که رو به مقصدی در حرکت است.
(۴) عالم به عنوان یک کل که خدا منشأ و مبدأ تحولات آن است.

۱۳۴- از نظر ابن سینا، مقصد طبیعت در کدام یک از عوالم زیر قرار دارد؟

- (۱) عالم طبیعت
(۲) عالم عقول
(۳) عالم مثال
(۴) عالم الهی

۱۳۵- از نظر ابن سینا، چند مورد از پدیده‌های زیر ذاتاً شر هستند؟

«سیل، زیبایی، مرگ، تمدن، بیماری، جنگ»

- (۱) ۴
(۲) ۳
(۳) صفر
(۴) ۲

۱۳۶- در نگاه ابن سینا ذات هر چیزی حقیقتاً از چیست؟

- (۱) از طبیعت ویژه همان چیز
(۲) از وجود و ماهیتش
(۳) از ذاتی دیگر
(۴) خداوند بی‌نیاز

۱۳۷- مکتب فلسفی کدام فیلسوف به فلسفه ایران باستان نزدیک‌تر است؟

- (۱) فارابی
(۲) ابن سینا
(۳) سهروردی
(۴) ملاصدرا

۱۳۸- از نظر سهروردی جانشین و خلیفه خدا... است که ریاستش... به صورت آشکار است.

- (۱) حکیم مشائی - همیشه
(۲) حکیم مشائی - گاهی
(۳) حکیم متأله - همیشه
(۴) حکیم متأله - گاهی

۱۳۹- بر چه اساسی شیخ اشراق اشاره به حضور همیشگی حکیم متأله می‌کند؟

- (۱) به دلیل الزام دریافت همیشگی فرمان خدا
(۲) به دلیل لزوم ریاست جهان به دست وی
(۳) به دلیل آشنایی او با موازین برهانی
(۴) به دلیل نهانی بودن ریاست او

۱۴۰- توضیحات مربوط به کدام یک از تألیفات ابن سینا درست است؟

- (۱) به فارسی و دربرگیرنده ابواب مختلف علوم است. (دانشنامه‌ علائی)
(۲) شکل مختصر کتاب قانون است. (نجات)
(۳) کامل‌ترین مرجع در معرفی حکمت مشائی است. (قانون)
(۴) آخرین دیدگاه‌های ابن سینا در حکمت را شامل می‌شود. (اشارات و تنبیهات)



پاسخ نامہ

سایت کنکور

Konkur.in

ریاضی و آمار (۳)

گزینه «۳»

(اسماعیل زارع)

$$\left(\frac{1}{27}\right)^{-5} = \left(\frac{1}{3^3}\right)^{-5} = (3^{-3})^{-5} = 3^{(-3) \times (-5)} \\ = 3^{15} = 3^n \Rightarrow n = 15$$

گزینه «۱»

(مهمربهیرایی)

$$\left(\sqrt[3]{27}\right)^2 \left(\sqrt[6]{27}\right)^2 = (27^{\frac{1}{3}})^2 \times (27^{\frac{1}{6}})^2 \\ = 27^{\frac{2}{3}} \times 27^{\frac{2}{6}} = 27^{\frac{2}{3}} = 27^{\frac{2}{3}} = 128 \\ 2^{-0/6} \times \left(\frac{1}{4}\right)^{0/2} = \left(\frac{1}{2}\right)^{0/6} \times \left(\frac{1}{2}\right)^{0/4} = \left(\frac{1}{2}\right)^1 = \frac{1}{2} = 0/5 \\ \Rightarrow A = 128 + 0/5 = 128/5$$

گزینه «۲»

(اسماعیل زارع)

$$8 \times 2^{x+1} = 2^{-x} \\ \Rightarrow 2^3 \times 2^{x+1} = 2^{-x} \Rightarrow 2^{x+4} = 2^{-x} \Rightarrow x+4 = -x \\ \Rightarrow x+x = -4 \Rightarrow 2x = -4 \Rightarrow x = -2$$

گزینه «۴»

(امیر زراندوز)

$$8^6 \text{ ریشه پنجم} = \sqrt[5]{8^6} = \sqrt[5]{(2^3)^6} = \sqrt[5]{2^{18}} = \sqrt[5]{2^{15} \times 2^3} \\ = 2^3 \times \sqrt[5]{2^3} = 8\sqrt[5]{2} \\ 4^8 \text{ ریشه دوم غیر مثبت} = -\sqrt[4]{4^8} = -\sqrt{(2^2)^8} = -\sqrt{2^{16}} = -2^4 \\ \Rightarrow \text{حاصل ضرب خواسته شده} = (8\sqrt[5]{2}) \times (-2^4) = (2^3 \times \sqrt[5]{2}) \times (-2^4) \\ = -2^{11} \times \sqrt[5]{2}$$

گزینه «۴»

(مهمربهیرایی)

$$\sqrt[3]{0.001a^6} + \sqrt[4]{0.0016} = 1 \Rightarrow \sqrt[3]{\frac{a^6}{1000}} + \sqrt[4]{\frac{16}{10000}} = 1 \\ \Rightarrow \sqrt[3]{\left(\frac{a}{10}\right)^6} + \sqrt[4]{\left(\frac{2}{10}\right)^4} = 1 \Rightarrow \frac{a^2}{10} + \frac{2}{10} = 1 \Rightarrow \frac{a^2+2}{10} = 1 \\ \Rightarrow a^2+2=10 \Rightarrow a^2=8 \xrightarrow{a>0} a=2\sqrt{2}$$

گزینه «۲»

(مهمربهیرایی)

$$36\pi = \frac{4}{3}\pi r^3 \Rightarrow r^3 = \frac{3 \times 36\pi}{4\pi} = 27 \Rightarrow r = \sqrt[3]{27} = 3 \\ \Rightarrow \text{طول قطر} = 2 \times 3 = 6$$

گزینه «۴»

(مهمربهیرایی)

$$\frac{3}{m} \frac{1}{n^2} \left(m^4 n^{-2}\right)^2 = \left(m^{\frac{1}{4} \times n^2}\right) \left(m^2 \times n^2\right) \\ = m^{\frac{9}{4} + 2} \times n^2 = m^{\frac{17}{4}} \times n^2$$

گزینه «۲»

(مهمربهیرایی)

$$\frac{4}{(125)^5} \div \frac{2}{(25)^2} = \left(\frac{4}{5^3}\right)^5 \div \left(\frac{2}{5^2}\right)^2 \\ = \frac{12}{5^5} \div \frac{2}{5^4} = \frac{12}{5^5} \times \frac{5^4}{2} = \frac{6}{5}$$

گزینه «۳»

(امیر زراندوز)

در گزینه «۳» مقدار $(-4)^3$ عددی منفی است و اعداد منفی ریشه زوج ندارند، بنابراین $(-4)^3$ ریشه هشتم ندارد. سایر گزینهها درست هستند.

گزینه «۲»

(رفیم مشتاق نظم)

$$\frac{3}{4} = 0/75, \frac{9}{16} = \left(\frac{3}{4}\right)^2 \\ \Rightarrow A = \left(\frac{3}{4}\right)^2 \times \left(\frac{3}{4}\right)^{-7} \times \left(\frac{3}{4}\right)^{2 \times 4} = \left(\frac{3}{4}\right)^3$$

ریاضی و آمار (۱)

گزینه «۲»

(مهمربهیرایی)

برای تجزیه $3x^2 + 5x - 2$ از روش زیر استفاده می کنیم:

$$A = 3x^2 + 5x - 2 \xrightarrow{\text{ضرب طرفین در ۳}} 3A = (3x)^2 + 5(3x) - 6 \\ \Rightarrow 3A = (3x+6)(3x-1) = 3(x+2)(3x-1) \\ \Rightarrow A = (x+2)(3x-1)$$

از طرفی $2x-2 = 2(x-1)$ ، پس تجزیه کل عبارت به صورت زیر است:

$$(3x^2 + 5x - 2)(2x - 2) = 2(x-1)(x+2)(3x-1)$$

ملاحظه می شود که از بین گزینهها تنها عبارت $2x-3$ در تجزیه وجود ندارد.

گزینه «۳»

(فاطمه قویمیان)

$$x^2 - x - 2 \xrightarrow{\text{اتحاد جمله مشترک}} (x-2)(x+1)$$

$$x^2 + x \xrightarrow{\text{فکتوراز}} x(x+1)$$

$$x^3 + 2x^2 - 3x \xrightarrow{\text{فکتوراز}} x(x^2 + 2x - 3)$$

$$\xrightarrow{\text{اتحاد یک جمله مشترک}} x(x+3)(x-1)$$

$$x^2 - 9 \xrightarrow{\text{اتحاد مزدوج}} (x+3)(x-3)$$

$$\text{عبارت: } \frac{(x-2)(x+1)}{x(x+1)} \times \frac{x+1}{x-2} \times \frac{x(x+3)(x-1)}{(x+3)(x-3)} = \frac{(x+1)(x-1)}{x-3} = \frac{x^2-1}{x-3}$$

گزینه «۳»

(اسماعیل زارع)

$$\frac{2x^2}{x-2} - \frac{2x+4}{x-2} - \frac{x}{1} = 0 \Rightarrow \frac{2x^2 - 2x - 4 - x(x-2)}{x-2} = 0$$

$$\Rightarrow 2x^2 - 2x - 4 - x^2 + 2x = 0 \Rightarrow x^2 - 4 = 0$$

$$\Rightarrow (x+2)(x-2) = 0 \Rightarrow \begin{cases} x=2 \text{ ق.ق} \\ x=-2 \text{ ق.ق} \end{cases}$$

$$\Rightarrow x - \frac{1}{x} = -2 + \frac{1}{2} = \frac{-3}{2}$$

۱۴- گزینه «۲»

(ممبر بصیرایی)

$$-3x^2 + 2x + 1 = 0 \rightarrow \begin{cases} a = -3 \\ b = 2 \\ c = 1 \end{cases}$$

$$x_1 + x_2 = -\frac{b}{a} = -\frac{2}{-3} = \frac{2}{3}$$

$$x_1 x_2 = \frac{c}{a} = -\frac{1}{3}$$

$$\Rightarrow \text{عبارت} = \frac{2}{3} - \frac{1}{3} = \frac{1}{3}$$

۱۵- گزینه «۱»

(ممبر رضا سپهری)

مختصات نقطه‌ای به عرض ۰.۱ واقع بر محور عرض‌ها، به صورت (۰، ۱) است و با توجه به ضابطه تابع خطی که به صورت $f(x) = ax + b$ می‌باشد، داریم:

$$f(x) = ax + b \Rightarrow \begin{cases} f(0) = 1 \Rightarrow 1 = 0 + b \Rightarrow b = 1 \\ f(-1) = 2 \Rightarrow 2 = -a + b \xrightarrow{b=1} 2 = -a + 1 \Rightarrow a = -1 \end{cases}$$

مقادیر a و b را در تابع خطی جایگزین می‌کنیم:

$$y = -x + 1 \xrightarrow{\text{تلاقی خط با محور طول‌ها}} \begin{matrix} 0 = -x + 1 \Rightarrow x = 1 \\ y = 0 \end{matrix}$$

۱۶- گزینه «۳»

(ممبر رضا سپهری)

$$\text{سود} = \text{درآمد} - \text{هزینه} \Rightarrow P(x) = R(x) - C(x)$$

$$P(x) = \left(-\frac{1}{6}x^2 + 25x\right) - (15x + 30) = -\frac{1}{6}x^2 + 10x - 30$$

$$x_{\max} = \frac{-b}{2a} = \frac{-10}{2 \cdot (-\frac{1}{6})} = 30$$

$$\Rightarrow P(30) = -\frac{1}{6} \times (30)^2 + 10 \times 30 - 30 = 120$$

۱۷- گزینه «۱»

(ممبر رضا سپهری)

«تعداد ازدواج و طلاق‌های شهر تهران در سال ۹۵» از روش دادگان (با مراجعه به دفاتر ازدواج و طلاق) و همین‌طور بررسی «چگونگی گذراندن اوقات فراغت شهروندان اصفهانی» از طریق مصاحبه امکان‌پذیر است.

۱۸- گزینه «۴»

(موسا عفتی)

داده‌ها را با توجه به فراوانی آن‌ها مرتب می‌کنیم:

$$\begin{matrix} \boxed{2, 2, 2, 2, 2, 2, 3} & \boxed{4, 4, 4, 4, 5, 5, 6, 6} \\ \downarrow & \downarrow \\ Q_1 = 2 & Q_2 = \frac{3+4}{2} = \frac{7}{2} = 3.5 \\ Q_3 = 4 & \end{matrix}$$

$$\text{دامنه میان چارکی} = Q_3 - Q_1 = 4 - 2 = 2$$

$$\text{دامنه میان چارکی} + \text{میان} = 2 + \frac{7}{2} = \frac{11}{2} = 5.5$$

۱۹- گزینه «۳»

(ممبر بصیرایی)

داده‌ها: ۱، ۲، ۲، ۳، ۳، ۳، ۴، ۴، ۵، ۵، ۶

$$\bar{x} = \frac{1+2+2+3+3+3+4+4+5+5+6}{10} = \frac{35}{10} = 3.5$$

$$\sigma^2 = \frac{(1-3.5)^2 + (2-3.5)^2 + (2-3.5)^2 + (3-3.5)^2 + (3-3.5)^2 + (3-3.5)^2 + (4-3.5)^2 + (4-3.5)^2 + (5-3.5)^2 + (5-3.5)^2 + (6-3.5)^2}{10}$$

$$= \frac{6/25 + 2 \times 2/25 + 2 \times 0/25 + 2 \times 0/25 + 2 \times 0/25 + 2 \times 0/25 + 6/25 + 6/25 + 2 \times 2/25 + 6/25}{10}$$

$$= \frac{22/5}{10} = 2/25 \Rightarrow \sigma = \sqrt{2/25} = 1/5$$

۲۰- گزینه «۱»

(ممبر بصیرایی)

مساحت دایره‌ها متناسب با متغیر سوم یعنی منابع آبی است.

$$\frac{\text{منابع آبی شهر A}}{\text{منابع آبی شهر D}} = \frac{\pi \times r^2}{\pi \times r^2} = \frac{9}{4}$$

اقتصاد

۲۱- گزینه «۳»

(موسا عفتی)

قیمت یک کالا و مقدار خرید آن به وسیله مصرف‌کنندگان با هم رابطه معکوس دارند یعنی هرچه قیمت افزایش یابد مکان هندسی نقطه تقاضای کالا به سمت چپ و بالای خود سوق پیدا می‌کند.

۲۲- گزینه «۳»

(سارا شریفی)

$$\text{تعداد خارجی‌های مقیم کشور} = 125,000,000 \times \frac{20}{100} = 25,000,000$$

تعداد افراد کشور که در داخل ساکن هستند

$$125,000,000 - 25,000,000 = 100,000,000$$

تعداد افراد کشور که در خارج ساکن هستند

$$125,000,000 - 100,000,000 = 25,000,000$$

تولید ناخالص داخلی عبارت است از ارزش پولی تمام کالاها و خدمات نهایی که در طول یک‌سال، داخل محدوده مرزهای جغرافیایی کشور تولید می‌شود. (چه توسط افراد کشور که در داخل ساکن هستند چه توسط خارجی‌های مقیم کشور)

میزان تولید برنج توسط افراد کشور که در داخل ساکن هستند

$$= 100,000,000 \times 200 \times 100 = 2,000,000,000,000 \text{ دلار}$$

میلیارد دلار ۲۰۰۰

میزان تولید برنج توسط خارجی‌های مقیم کشور

$$= 25,000,000 \times 150 \times 100 = 375,000,000,000 \text{ دلار}$$

میلیارد دلار ۳۷۵

میزان تولید چای توسط افراد کشور که در داخل ساکن هستند

$$= 100,000,000 \times 25 \times 40 = 1,000,000,000,000 \text{ دلار}$$

میلیارد دلار ۱۰۰۰

میزان تولید چای توسط خارجی‌های مقیم کشور

$$= 25,000,000 \times 50 \times 40 = 50,000,000,000 \text{ دلار}$$

میلیارد دلار ۵۰

- بازار سرمایه هم محل عایدی و هم خطر (ریسک) است. به همین دلیل افراد باید فقط سرمایه‌های مازاد خود را بیاورند و نباید به بورس در کوتاه‌مدت نگاه کنند. هم‌چنین بهتر است به اصطلاح همه تخم‌مرغ‌های خود را در یک سبد نگذارند (چرا که ریسک شکست سبد، باعث نابودی تخم‌مرغ‌ها خواهد شد.) و سبد سهام تشکیل دهند در غیر این صورت احتمال ضرر می‌رود.

(ث) میانگین قیمت‌ها در آغاز سال - میانگین قیمت‌ها در پایان سال = نرخ تورم $\times 100$
میانگین قیمت‌ها در آغاز سال

$$\text{نرخ تورم} = \frac{1620 - 1200}{1200} \times 100 = 35\%$$

دستمزد کارکنان دولت ۲۰ درصد افزایش یافته است و نرخ تورم برابر با ۳۵٪ است، بنابراین دستمزد واقعی کارکنان دولت ۱۵٪ (۳۵ - ۲۰ = ۱۵) افزایش یافته است.

۲۶- گزینه «ف» (فاطمه فویمیان)

الف) ریال $19,750,000 = 79,000,000 \times \frac{25}{100}$ = مالیات ماهیانه فرد A

ریال $31,500,000 = 105,000,000 \times \frac{30}{100}$ = مالیات ماهیانه فرد B

$|31,500,000 - 19,750,000|$ = اختلاف مالیات ماهیانه فرد A و B
ریال $11,750,000$

(ب)

مالیات ماهیانه فرد B - درآمد ماهیانه فرد B = مانده خالص ماهیانه فرد B

ریال $73,500,000 = 105,000,000 - 31,500,000$ = مانده خالص ماهیانه فرد B
(ج)

ریال $59,250,000 = 79,000,000 - 19,750,000$ = مانده خالص ماهیانه فرد A

ریال $711,000,000 = 59,250,000 \times 12$ = مانده خالص سالیانه فرد A

ریال $213,300,000 = 711,000,000 \times \frac{30}{100}$ = میزان سرمایه‌گذاری جدید

میزان پول باقی‌مانده برای هزینه‌های شخصی

ریال $497,700,000 = 711,000,000 - 213,300,000$

(د) نرخ مالیاتی مورد محاسبه نرخ تصاعدی است. در این نظام مالیاتی نرخ مالیات با افزایش درآمد یا دارایی، زیاد و به عکس با کاهش درآمد یا دارایی، کم می‌شود؛ به عبارت دیگر، افراد با درآمدهای بیشتر با نرخ بیشتر و افراد با درآمدهای پایین‌تر با نرخ کمتری مالیات می‌پردازند. نرخ تصاعدی مالیات در تعدیل درآمد و ثروت افراد جامعه مؤثر است.

۲۷- گزینه «ب» (سارا شریفی)

الف) معمولاً شاخص رشد با شاخص توسعه هماهنگ است؛ به‌طور مثال، سطح پایین توسعه در موزامبیک با سطح پایین رشد در این کشور و یا سطح بالای توسعه در نروژ با سطح بالای رشد در این کشور هماهنگی دارد. البته دو گروه از کشورها استثنا محسوب می‌شوند: ۱- تعداد معدودی از کشورها که با داشتن یک ماده گران‌بها مانند نفت امکان دسترسی به درآمد سرانه بالا را دارند. ۲- تعدادی از کشورهای در حال توسعه مانند چین که با اجرای برنامه‌های بلندمدت، شاخص‌های توسعه خود را بهبود بخشیده‌اند با وجود این که درآمد سرانه پایین دارند.

(ب) نرخ مرگ‌ومیر نوزادان در چین ۱۰/۹ در هر هزار تولد، امید به زندگی در موزامبیک ۵۵/۱ سال، تولید ناخالص داخلی سرانه در نروژ ۶۲,۴۴۸ دلار و رتبه کشور چین در شاخص توسعه انسانی ۹۰ است.

میلیارد دلار $3425 = 2000 + 375 + 1000 + 50$ = تولید ناخالص داخلی تولید ناخالص ملی، ارزش پولی تمام کالاها و خدمات نهایی است که در طول یک‌سال، توسط یک ملت تولید شده است.

تولید برنج توسط افراد کشور که در خارج ساکن هستند
میلیارد دلار $75 = 75,000,000,000 \div 100 \times 30 = 25,000,000,000 \times 30$

تولید چای توسط افراد کشور که در خارج ساکن هستند
میلیارد دلار $125 = 125,000,000,000 \div 100 \times 50 = 25,000,000,000 \times 50$

میلیارد دلار $3200 = 2000 + 75 + 1000 + 125$ = تولید ناخالص ملی

۲۳- گزینه «ا» (سارا شریفی)

تولید کل در سال ۱۳۹۱ به قیمت جاری
ریال $140,000 = (400 \times 200) + (120 \times 500)$

تولید کل در سال ۱۳۹۱ به قیمت ثابت
ریال $90,000 = (300 \times 200) + (60 \times 500)$

تولید کل در سال ۱۳۹۰ به قیمت جاری = تولید کل در سال ۱۳۹۰ به قیمت ثابت

ریال $69,000 = (300 \times 150) + (60 \times 400)$

افزایش تولید کل ناشی از افزایش تولید در سال ۱۳۹۱

تولید در سال پایه - تولید در سال ۱۳۹۱ به قیمت ثابت =

ریال $21,000 = 90,000 - 69,000$

تولید در سال ۱۳۹۱ به قیمت ثابت - تولید در سال ۱۳۹۱ به قیمت جاری = تورم در سال ۱۳۹۱

ریال $50,000 = 140,000 - 90,000$

۲۴- گزینه «ا» (موسا عفتی)

الف) تراکتور برای کشاورز: سرمایه فیزیکی

دریا در فعالیت‌های صیادی: منابع طبیعی (زمین)

کارآفرین: عوامل انسانی

کامیون برای شرکت‌های حمل‌ونقل: سرمایه فیزیکی

مواد خام استخراج شده از معادن در فعالیت‌های صنعتی: منابع طبیعی (زمین)

(ب) در هر کسب و کاری نوآوری ضرب در خطرپذیری میزان کارآفرینی را نشان می‌دهد.

(ج) سرمایه مالی صرف خرید یا اجاره سرمایه‌های فیزیکی، زمین و یا پرداخت دستمزد به عوامل انسانی می‌شود. سرمایه مالی مستقیماً در تولید نقش ندارد بلکه با تبدیل به عوامل تولید دیگر به تولید کمک می‌کند.

(د) انسان نسبت به سایر عوامل تولید از اهمیت خاصی برخوردار است و به عنوان برترین عامل تولید به‌شمار می‌رود، زیرا وظیفه ترکیب سایر عوامل تولید را نیز برعهده دارد.

۲۵- گزینه «ا» (نسرین معفری)

الف) هنگامی که فرد، چک متعلق به بانک A را نزد بانک B می‌برد و از آن بانک می‌خواهد تا مبلغ چک را به حسابش واریز کند، بانک B به وظیفه «دریافت مطالبات اسنادی و سود سهام مشتریان و واریز به حساب آن‌ها» عمل می‌کند.

(ب) فروش اقساطی: بانک‌ها بنا به تقاضای کتبی مشتریان خود، ماشین‌آلات و تأسیساتی را که عمر مفید آن‌ها بیش از یک‌سال است، خریداری می‌کنند و به‌صورت قسطی به مشتریان می‌فروشند.

(پ) برای فروش سهام فرد باید به کارگزار مراجعه و قیمت موردنظر را برای فروش تعیین کند تا کارگزار از سوی فروشنده اقدام کند.

ت) در سال‌های اخیر در کشور ما دولت تلاش کرده تا حضور خود در مدیریت و مالکیت اقتصادی را کاهش دهد و موجبات تقویت اقتصاد مردمی را فراهم سازد.

(سارا شریفی)

۳۰- گزینه «۴»

تأکید بر اصلاح نظام مالیاتی، افزایش صادرات غیرنفتی و حرکت به سمت فروش فرآورده‌های نفتی به جای نفت خام به تنوع منابع درآمدی کشور کمک می‌کند.

(کنکور، شارح کشور، ۹۲)

۳۱- گزینه «۱»

گوجه‌فرنگی‌ای که توسط خانوارها تهیه و به مصرف می‌رسد، «کالای مصرفی» نام دارد، اما وقتی همان گوجه‌فرنگی توسط کارخانه‌ها خریداری می‌شود و برای تولید کالای دیگر مثل «رب گوجه‌فرنگی» به کار می‌رود، «کالای واسطه‌ای» نام دارد.

(کنکور، سراسری، ۹۱)

۳۲- گزینه «۳»

درآمد ملی دربرگیرنده مجموع درآمدهایی است که در طول یک سال نصیب ملت می‌شود. این درآمدها عبارت‌اند از: درآمد حقوق‌بگیران (دستمزدها)، درآمد صاحبان سرمایه (قیمت خدمات سرمایه)، درآمد صاحبان املاک و مستغلات (اجاره)، درآمد صاحبان مشاغل آزاد و سودی که نصیب شرکت‌ها و مؤسسه‌ها می‌شود. بنابراین ردیف ۱ (درآمد صاحبان سرمایه) همان قیمت خدمات سرمایه است و ردیف ۶ (درآمد صاحبان املاک و مستغلات) همان اجاره‌بها یا وجوه مربوط به اجاره است.

(مجموع درآمد ردیف‌های ۱ و ۶) $= \frac{1}{3} \times$ درآمد صاحبان مشاغل آزاد

$$= \frac{1}{3} \times (9897 + 8856) = \frac{1}{3} \times 18,753 = 6251 \text{ میلیارد ریال}$$

(درآمد صاحبان سرمایه) $= \frac{2}{3} \times$ سود شرکت‌ها و مؤسسات

$$= \frac{2}{3} \times 9897 = 6598 \text{ میلیارد ریال}$$

(مجموع درآمد ردیف‌های ۴ و ۶) $= \frac{1}{5} \times$ درآمد حقوق‌بگیران

$$= \frac{1}{5} \times (6442 + 8856) = \frac{1}{5} \times 15,298 = 3059 \text{ میلیارد ریال}$$

$$= \frac{1}{5} \times (6442 + 8856) = \frac{1}{5} \times 15,298 = 3059 \text{ میلیارد ریال}$$

$$= \frac{1}{5} \times (6442 + 8856) = \frac{1}{5} \times 15,298 = 3059 \text{ میلیارد ریال}$$

با تقسیم درآمد ملی به جمعیت کشور، درآمد سرانه به‌دستی می‌آید.

$$\text{میلیون ریال} = \frac{\text{درآمد ملی}}{\text{جمعیت کشور}} = \frac{41,103,600}{50} = 822,072$$

مفهوم و معنای سرانه عبارت از سهم متوسط هر فرد جامعه در میزان تولید یا درآمد آن جامعه است.

(کنکور، سراسری، ۹۲)

۳۳- گزینه «۳»

$$\text{میلیارد ریال} = \frac{720}{12} = 60 = \text{هزینه استهلاک سالانه}$$

$$\text{میلیارد ریال} = \frac{720 \times 8}{100} = 57 \text{ / } 6$$

$$\text{میلیارد ریال} = \frac{720 - 57}{4} = 166 \text{ / } 4$$

۲۸- گزینه «۱»

(الف)

(فاطمه نوبین)

$$\text{درصد} = 16 = \text{سهم دهک ششم} + \text{سهم دهک چهارم}$$

$$\text{درصد} = 6 = \text{سهم دهک چهارم} - \text{سهم دهک ششم}$$

$$\Rightarrow \text{درصد} = 22 = \text{سهم دهک ششم} \times 2$$

$$\Rightarrow \text{درصد} = 11 = \text{سهم دهک ششم}$$

$$\text{درصد} = 16 = \text{سهم دهک ششم} + \text{سهم دهک چهارم}$$

$$\Rightarrow \text{درصد} = 16 = 11 + \text{سهم دهک چهارم}$$

$$\Rightarrow \text{درصد} = 5 = \text{سهم دهک چهارم}$$

$$\text{سهم دهک هشتم} \times 3 = 3 \Rightarrow \text{سهم دهک هشتم} = \frac{1}{5} \times \text{سهم دهک دوم}$$

$$\Rightarrow \text{درصد} = 15 = \text{سهم دهک هشتم}$$

(ب)

$$\text{سهم دهک نهم} = 100 - (2 + 3 + 5 + 5 + 8 + 11 + 13 + 15 + 21)$$

$$\Rightarrow \text{درصد} = 17 = 100 - 83 = \text{سهم دهک نهم}$$

$$\text{هزار دلار} = \frac{17}{100} \times 90 = 15 \text{ / } 3$$

$$\text{میلیون نفر} = \frac{75}{10} = 7 \text{ / } 5 = \text{جمعیت هر یک از دهک‌ها (ج)}$$

$$\frac{21}{2} = 10 \text{ / } 5 = \frac{\text{سهم دهک دهم}}{\text{سهم دهک اول}} = \text{شاخص دهک‌ها در کشور A (د)}$$

(ه) با محاسبه نسبت دهک دهم به دهک اول در کشورهای مختلف، شاخصی به دست می‌آید که برای مقایسه وضعیت توزیع درآمد بین آن‌ها به کار می‌رود. هرچه این نسبت بیشتر باشد، توزیع درآمد در آن جامعه نامناسب‌تر است. بنابراین توزیع درآمد در کشور B عادلانه‌تر است.

(نسرین یغری)

۲۹- گزینه «۳»

(الف) زمین ← مالیات بر دارایی و ثروت (مستقیم)

ارث ← مالیات بر نقل و انتقالات دارایی

حقوق ← مالیات بر درآمد (مستقیم)

املاک ← مالیات بر دارایی و ثروت (مستقیم)

فروش خودرو ← مالیات بر نقل و انتقالات دارایی

کالاهای صادرشده ← حقوق و عوارض گمرکی

(ب) در طبقه‌بندی مالیات‌ها، مالیات بر ارزش افزوده نوعی مالیات غیرمستقیم است که بر مصرف کالاها و خدمات وضع می‌شود. این نوع مالیات چندمرحله‌ای و در هر یک از مراحل تولید و تکمیل تا نهایی شدن کالا برحسب ارزش افزوده، گرفته می‌شود. در نتیجه شفافیت مالیاتی را افزایش می‌دهد؛ انگیزه فرار مالیاتی را کاهش می‌دهد و از مالیات‌گیری چندگانه پرهیز می‌شود.

(پ) سیاست‌های مالی انقباضی شامل کاهش مخارج دولت و افزایش مالیات‌ها است.

- سیاست‌های پولی انبساطی افزایش حجم پول در گردش است که از روش‌های آن می‌توان به سیاست بازار باز (فروش اوراق مشارکت) اشاره کرد. در حالت رکود اقتصادی که سطح تولید کاهش یافته و تولیدکنندگان انگیزه برای تولید کالا و ایجاد اشتغال را از دست داده‌اند، بانک مرکزی سیاست افزایش حجم پول در گردش را به کار می‌گیرد. (البته بانک مرکزی برای کوتاه‌مدت می‌تواند مشکل را حل کند و برای حل اساسی مشکل در بلندمدت باید سیاست‌های جانب عرضه (مثل بهبود بهره‌وری، افزایش سرمایه‌گذاری و بهبود فضای کسب و کار) را در پیش گرفت.)

(کتاب آبی)

۳۷- گزینه «۱»

هزینه واردات هر کیلوگرم قهوه از کشور A به کشور B، ۸ دلار $(۷+۱=۸)$ و هزینه واردات هر کیلوگرم کاکائو از کشور B به کشور A، ۶ دلار $(۵+۱=۶)$ است که در هر دو مورد از هزینه تولید کالا در کشور وارد کننده کم تر است و مناسب است کشور A فقط قهوه و کشور B فقط کاکائو تولید کند و کالای دوم را از کشور دیگر وارد نماید.

(کنکور خارج کشور ۹۴)

۳۸- گزینه «۲»

در بازار هنگامی «کمبود عرضه» اتفاق می افتد که قیمت از سطح قیمت تعادلی پایین تر باشد. در نتیجه، گروهی از مصرف کنندگان موفق به خرید کالای مورد نیاز خود نخواهند شد. این گروه، برای خرید کالا حاضرند مبلغ بالاتری بپردازند و این امر سبب افزایش قیمت کالا می شود. بالا رفتن قیمت باعث می شود که از یک سو، تولیدکنندگان رغبت بیشتری به تولید نشان دهند و از سوی دیگر، مصرف کنندگان از مصرف خود بکاهند، پس در حالت کمبود، قیمت بالا می رود و فاصله بین عرضه و تقاضا کاهش می یابد. این افزایش قیمت تا سطحی ادامه می یابد که در آن، فاصله بین عرضه و تقاضا از بین برود و تعادل در بازار برقرار شود، این سطح قیمت همان قیمت تعادلی است.

(کنکور سراسری ۹۶)

۳۹- گزینه «۲»

گروه کشورها	درآمد سرانه سالیانه	متوسط نرخ مرگ و میر نوزادان (در هر ۱۰۰۰ نفر)	امید به زندگی در بدو تولد
۴۳ کشور با توسعه انسانی ضعیف	کم تر از ۱۶۰۰ دلار	۸۹/۴	۶۰/۵ سال
۴۹ کشور با توسعه انسانی زیاد	بیش تر از ۴۰۰۰۰ دلار	۶	۸۰/۵ سال

ب) در سال ۲۰۱۵ تولید ناخالص داخلی سرانه در کشور سوئیس بیش از ۸۰۶۷۵ دلار و در سودان حدود ۲۲۱ دلار بوده است.

(کنکور خارج کشور ۹۴)

۴۰- گزینه «۳»

الف) قرض الحسنه: قراردادی است که در آن یکی از طرفین قرارداد (در این جا بانک) مقدار معینی از مال خود را در زمان حال به دیگری (در این جا مشتری بانک) واگذار می کند. در مقابل، قرض گیرنده متعهد می شود که عین مال یا قیمت آن را در زمان معین بازپس دهد.

ب) مزارعه: طبق این قرارداد، بانک زمین مشخصی را برای مدت معین در اختیار طرف دیگر قرار می دهد تا در آن کشاورزی کند در نهایت، سود حاصل بین دو طرف تقسیم می شود.

ج) مشارکت مدنی: قراردادی بازرگانی است که به موجب آن دو یا چند شخص حقیقی یا حقوقی (از جمله بانک) سرمایه نقدی یا جنسی خود را به شکل مشاع و به منظور ایجاد سود در هم می آمیزند.

د) معاملات سلف: بانک محصولات تولیدی آینده بنگاهها را پیش خرید می کند.

میلیون ریال $۶۶۲,۴۰۰ =$

میلیارد ریال $\frac{۶۶۲}{۴} = \frac{۵۵}{۲} =$ هزینه استهلاک سالانه جدید
مجموع هزینه استهلاک دو سال آخر عمر مفید کالا با احتساب قیمت جدید
میلیون ریال $۱۱۰,۴۰۰ = ۱۱۰/۴ =$ میلیارد ریال $۵۵/۲ \times ۲ =$

(کنکور سراسری ۹۲)

۳۴- گزینه «۳»

ریال $۴۸,۰۰۰,۰۰۰ \times ۱۲ = ۴,۰۰۰,۰۰۰ \times ۱۲ =$ اجاره سالانه بنگاه
ریال $۲,۴۰۰,۰۰۰ \times ۱۲ = ۲۰۰,۰۰۰ \times ۱۲ =$ حقوق سالانه هر فرد
ریال $۹,۶۰۰,۰۰۰ \times ۴ = ۲,۴۰۰,۰۰۰ \times ۴ =$ حقوق سالانه مجموع کارمندان
ریال $\frac{۱۲}{۱۰۰} \times ۹,۶۰۰,۰۰۰ = ۱,۱۵۲,۰۰۰ =$ هزینه استهلاک سالانه
ریال $۲۲۵,۰۰۰,۰۰۰ = ۷۵ \times ۳۰۰,۰۰۰ =$ درآمد سالانه بنگاه
هزینه - درآمد = سود (یا زیان)
= سود (یا زیان)
ریال $۱,۱۵۲,۰۰۰ - (۴۸,۰۰۰,۰۰۰ + ۹,۶۰۰,۰۰۰ + ۴,۴۵,۰۰۰ + ۱,۱۵۲,۰۰۰) = ۲۲۵,۰۰۰,۰۰۰ -$
ریال $۱۶۱,۷۹۸,۰۰۰ = ۶۳,۲۰۲,۰۰۰ - ۲۲۵,۰۰۰,۰۰۰ =$ سود (یا زیان)
چون میزان درآمد از هزینهها بیشتر است، تولیدکننده از فعالیت خود سود برده است.

(کنکور سراسری ۹۷)

۳۵- گزینه «۲»

کمبود تقاضا در قیمت ۱۰,۰۰۰ ریال (الف)
مقدار تقاضا در قیمت ۱۰,۰۰۰ - مقدار عرضه در قیمت ۱۰,۰۰۰ =
کیلو $۳۰ - ۰ = ۳۰ =$ کمبود تقاضا در قیمت ۱۰,۰۰۰ ریال
کیلو $۱۵ =$ مقدار تقاضای تعادلی
مقدار تقاضای تعادلی - کمبود تقاضا در قیمت ۱۰,۰۰۰ ریال
کیلو $۱۵ = ۳۰ - ۱۵ =$
= مازاد تقاضا در قیمت ۶۰۰۰ ریال (ب)
مقدار عرضه در قیمت ۶۰۰۰ ریال - مقدار تقاضا در قیمت ۶۰۰۰ ریال
کیلو $۱۰ = ۲۰ - ۱۰ =$
= کمبود تقاضا در قیمت ۹۰۰۰ ریال
مقدار تقاضا در قیمت ۹۰۰۰ ریال - مقدار عرضه در قیمت ۹۰۰۰ ریال
کیلو $۲۰ = ۲۵ - ۵ =$

ج) در سطح قیمت ۷۰۰۰ ریال و مقدار ۱۵ کیلو تولیدکننده بیشترین دریافتی را دارد.

ریال $۷۰۰۰ \times ۱۵ = ۱۰۵,۰۰۰ =$

د) تنها در سطح قیمت تعادلی فاصله بین عرضه و تقاضا از بین می رود و رفتار تولیدکننده و مصرف کننده هماهنگ می شود و قیمت اگر بالاتر از قیمت تعادلی باشد باید کاهش یابد و اگر پایین تر باشد باید افزایش یابد.

(کنکور سراسری ۹۵)

۳۶- گزینه «۳»

الف) برای تحقق هدف «اشتغال کامل» دولت ها می کوشند تا شرایط اشتغال کامل را فراهم آورند. در چنین شرایطی فعالیتهای تولیدی گسترش می یابد و تمایل تولیدکنندگان به استخدام نیروی کار جدید بیشتر می شود.

ب) اصل ۵۰ قانون اساسی حفاظت محیط زیست را وظیفه ای عمومی می داند و بر ممنوعیت فعالیتهای اقتصادی که تخریب غیر قابل جبران محیط زیست را به همراه داشته باشند و در نتیجه، امکان توسعه پایدار را از کشور بگیرند، تأکید کرده است.

علوم و فنون ادبی (۳)

۴۱- گزینه ۴

(عارف سادات طباطبایی نژاد)

در گزینه «۴» توصیف طبیعت دیده می‌شود که از مفاهیم غیرانتزاعی است.
تشریح سایر گزینه‌ها:

گزینه «۱»: توجه به دل

گزینه «۲»: تأثیر عشق

گزینه «۳»: ترسیدن مرگ

۴۲- گزینه ۳

(کتاب آبی)

صور خیال به کار رفته در قطعه مذکور، برخلاف گرایش غالب در شعر معاصر، جدید نیست. تشبیه شب به پرده تاریک و در نظر گرفتن صبح به عنوان کسی که با شمشیر، این پرده را می‌برد، تصاویری هستند عادی و نه چندان دور از ذهن.

۴۳- گزینه ۳

(ممن امغری)

در این نوشته تفکر انسان‌گرایانه یا اومانستی وجود ندارد.

تشریح سایر گزینه‌ها:

گزینه «۱»: مبارزه با بی‌عدالتی: محتوا و روح جنگ همواره در یک چهره خلاصه می‌شود و آن پیروزی مظلوم و ...

گزینه «۲»: کل متن در مورد دفاع مقدس و فرهنگ ایثار است.

گزینه «۴»: انعکاس چهره دینداری: مقصد ما فتح سرزمین نبود، مقصد ما جلب رضای خدا بود.

۴۴- گزینه ۳

(عارف سادات طباطبایی نژاد)

متن صورت سؤال در قالب یک پاراگراف به صورت مینی‌مال، بیست سال از زندگی شخصی را روایت می‌کند. داستان‌نویسی (مینی‌مال) از قالب‌های مدرن است.

۴۵- گزینه ۳

(سید جمال طباطبایی نژاد)

وزن گزینه «۳» تکرار «فاعلاتن» است.

سه گزینه دیگر تکرار «فاعلاتن» است.

۴۶- گزینه ۴

(عارف سادات طباطبایی نژاد)

وزن شعر پایانی بدین صورت است:

دیدم که در زندان تاریک فراموشی = مستفعلم مستفعلم مستفعلم فعلن

در چار دیوار شب غربت = مستفعلم مستفعلم مستفعلم فعلن

چندان گرفتارم = مستفعلم فعلن

۴۷- گزینه ۳

(رضا بان‌نثار کوهن شهری)

بیت داده شده در بحر متقارب مثنی محذوف است نه سالم. فعولن فعولن فعولن فعل

تشریح سایر گزینه‌ها:

گزینه «۱»: در وزن مفاعیلن مفاعیلن فعولن می‌باشد.

گزینه «۲»: در وزن فاعلاتن فاعلاتن فاعلاتن فاعلاتن می‌باشد.

گزینه «۴»: در وزن مستفعلم مستفعلم مستفعلم مستفعلم می‌باشد.

۴۸- گزینه ۴

(سید جمال طباطبایی نژاد)

وزن شعر فاعلاتن فاعلاتن فاعلاتن فاعلاتن (= رمل مثنی سالم) است.

تشریح سایر گزینه‌ها:

وزن ابیات گزینه‌های «۱» و «۳»: فاعلاتن فاعلاتن فاعلاتن فعلن (فاعلاتن اول هر دو بیت اختیار وزنی است).

وزن بیت گزینه «۲»: فاعلاتن فاعلاتن فاعلاتن فاعلاتن (= رمل مثنی محذوف) است.

۴۹- گزینه ۴

(سعید بفقری)

بیت گزینه «۴»، در وزن «مستفعلم مستفعلم مستفعلم مستفعلم» سروده شده است.

تشریح سایر گزینه‌ها:

گزینه «۱»: -U/--U/--U/--U- (رمل مثنی محذوف)

گزینه «۲»: -U/--U/--U- (هزج مسدس محذوف)

گزینه «۳»: -U/--U/--U- (مقارب مثنی سالم)

۵۰- گزینه ۲

(کلاطم کاظمی)

مضمون بیت گزینه «۲» غنایی و عاشقانه است اما در ابیات دیگر گزینه‌ها شاعر نکته‌ای اخلاقی و اندرزی را بیان می‌کند.

علوم و فنون ادبی (۱)

۵۱- گزینه ۱

(کلاطم کاظمی)

در این بیت هر واژه در معنای روشن و قراردادی خود به کار رفته است اما در سایر ابیات، شاعر با بهره‌گیری از شگردهای هنری، کلمات را از معنای قراردادی آن‌ها خارج کرده و منطق معنایی جملات را تغییر داده است. کاربرد آرایه‌ها در سایر ابیات که موجب پدیدآمدن مصادیق ادبیات شده است عبارتند از:

گزینه «۲»: استعاره: گردون ← آسمان / تشبیه (گردون به طشت)

گزینه «۳»: استعاره: ماه ← زیبارو / کنایه (دست از جان فشاندن)

گزینه «۴»: استعاره: صنم ← یار، دلبر / کنایه (از دست شدن)

۵۲- گزینه ۴

(کلاطم کاظمی)

در این گزینه نشانه‌هایی از ویژگی‌های زبانی شعر سبک خراسانی دیده نمی‌شود و کاربرد واژگان عربی؛ «عقل، شرع، فتوا، اهل، دین و دنیا» نشان‌دهنده آن است که این بیت مربوط به شعر سبک عراقی است.

نشانه‌های سبک خراسانی در سایر گزینه‌ها:

گزینه «۱»: کهنه و مهجور بودن برخی از کلمات: خوالیگران (آشپزان) - مهتران (بزرگان)

گزینه «۲»: استفاده از دو نشانه برای یک متمم؛ به شهر اندر

گزینه «۳»: نبودن واژگان عربی و تفاوت تلفظ برخی واژگان: پراگنده، سپید و ...

۵۳- گزینه ۲

(کلاطم کاظمی)

عبارت این گزینه نمونه‌ای از نثر دوره غزنوی و سلجوقی است که در آن کاربرد لغات عربی بیشتر و حذف افعال به قرینه «خیمه مسلمانان ملک است و ستون پادشاه (است) و طناب و میخ‌ها رعیت (است / هستند)» مشهود است؛ در سایر گزینه‌ها ویژگی‌های نثر سامانی نظیر «کوتاهی جملات، کاربرد اندک لغات عربی، تکرار فعل و اسم و ...» دیده می‌شود.

۶۰- گزینۀ «۲» (مفسر اصغری)
نویسنده از سخن گفتن خودداری می کند تا مورد انتقاد دیگران واقع نشود.

عربی زبان قرآن (۳)

۶۱- گزینۀ «۱» (سیر مفسر علی مرتضوی)
«مِن النَّاسِ مَنْ»: از بین مردم کسی هست که / «یرجو»: امید دارد / «زحمة الله»: رحمت خداوند / «عبادة المؤمنین»: (مفعول مطلق نوعی + مضاف الیه) او را همانند مؤمنان عبادت می کند / «یخاف عذابه خوف الخاشعین»: (مفعول مطلق نوعی + مضاف الیه) هم چون خشوع کنندگان از عذابش می ترسد

۶۲- گزینۀ «۱» (مرتضی کاظم شیرودی)
«أعطی المدير جائزة»: مدیر جایزه‌های را اعطاء نمود / «للتلمیذ المثالی» أمس»: به دانش آموز نمونه دیروز / «لآته»: چرا که او - چون او / «إجتهد فی الذروس اجتهاداً کثیراً»: بسیار در درس‌ها تلاش کرده بود

۶۳- گزینۀ «۳» (نوبت امسکی)
در این گزینہ، کلمۀ «خداع» نیرنگ» مفرد است و نباید جمع ترجمه شود.

۶۴- گزینۀ «۴» (رضا معصومی)
وزن «ما أفعل» برای بیان تعجب مورد استفاده قرار می گیرد. (ترجمۀ عبارت: انسان در فعالیت‌هایش، نسبت به طبیعت چقدر ستمگر است!)

۶۵- گزینۀ «۲» (هیرش صمدی)
در تعریف کلمۀ «المأموم»، «الممتبوع» که اسم مفعول و به معنای «پیروی شده» است، مناسب نیست.

تشریح گزینہهای دیگر:

گزینۀ «۱»: موش: حیوان کوچکی که گربه از دشمنانش محسوب می شود!
گزینۀ «۲»: دودمان: فرزندان انسان یا نسل او!
گزینۀ «۴»: صلح: توافق و سازش گری و پایان دشمنی!

(عربی (۳)، مفهومی، ترکیبی)

۶۶- گزینۀ «۳» (هیرش صمدی)
مفهوم صورت سؤال این است که هیچ چیزی به اندازه زبان، مستحق زندانی کردن نیست که به خطرناکی زبان و فواید نگه داشتن آن اشاره دارد که این مفهوم در گزینۀ «۳» نیز دیده می شود.

تشریح گزینہهای دیگر:

مفهوم گزینۀ «۱»: عیب و هنر انسان با سخن گفتن هویدا می شود.
ترجمۀ گزینۀ «۲»: زبان شخص زندانی است، مادامی که با آن سخن نگوید!
مفهوم گزینۀ «۴»: زبان در دهان، حکم کلید خزانه صاحب هنر را دارد که با زبان، آن هنر هویدا می شود.

۶۷- گزینۀ «۳» (سیر مفسر علی مرتضوی)
موارد نادرست در سایر گزینہها:

گزینۀ «۱»: مفعول (صحیح: حال)
گزینۀ «۲»: جَمْعُ تَكْسِيرٍ (صحیح: مُفْرَدٌ، مُذَكَّرٌ)
گزینۀ «۴»: مَجْهُولٌ (صحیح: معلوم)

۵۴- گزینۀ «۲» (عارفہ سارات طباطبایی نژاد)
تقطیع هجایی مذکور با مصراع گزینۀ «۲»، هماهنگی دارد.
تشریح سایر گزینہها:

گزینۀ «۱»: -UU--U---U---U--
گزینۀ «۳»: ---UU-----UU--
گزینۀ «۴»: -U-U--UU-U-U--

۵۵- گزینۀ «۴» (رضا بان نثار کوهن شهری)
در ابیات گزینہهای «۱»، «۲» و «۳» قافیه طبق قاعدۀ (۱) بوده ولی در گزینۀ «۴» قاعدۀ قافیه (۲) می باشد که بعد از یک مصووت یک یا دو صامت در قافیه قرار می گیرد. نو ← درو که بعد از یک مصووت یک صامت در قافیه قرار گرفته است.

۵۶- گزینۀ «۳» (سعید یعقوبی)
تشریح سایر گزینہها:
گزینۀ «۱»: تعلقست و: تعلقست (واو خوانده نمی شود).
گزینۀ «۲»: دیوانه: دیوان
گزینۀ «۴»: طاوس: طاووس

۵۷- گزینۀ «۳» (مفسر فراین)
چین در مصراع اول کشور «چین» و در مصراع دوم «شکن» معنا می دهد و جناس همسان دارند. / تیغ و تیغ تکرار / چین در مصراع دوم ایهام تناسب دارد: معنای نزدیک «شکن» که کاربرد دارد و معنای دور، «کشور چین» که کاربرد ندارد، ولی با روم تناسب دارد. / «رخ تو گیرد چین»، کنایه از ترسیدن است / تشبیه: تیغ مرگ
تشریح سایر گزینہها:
گزینۀ «۱»: فاقد تشبیه است.

گزینۀ «۲»: تکرار ندارد: معنای اصلی کلمات: «مهر» اول: محبت / «مهر» دوم: خورشید / «مهر» سوم: ماه مهر // «ماه» اول: قمر / «ماه» دوم: سی روز ماه. معنای کلمات متفاوت است، در نتیجه جناس دارند، اما تکرار ندارند.
گزینۀ «۴»: فاقد آرایۀ تکرار است.

۵۸- گزینۀ «۲» (عمید مهرئی)
بیت «د»: واج آرای: صامت «د» و «ر»
بیت «ج»: مجاز: «سنبل» مجاز از زلف یار به رابطۀ شباهت است.
بیت «الف»: موازنه: تقابل سجع‌های متوازن و متوازی پدیدآورندۀ آرایۀ موازنه است.
بیت «ه»: تشبیه: گل اندام
بیت «ب»: جناس: چین (اول) به معنای شکن و چین (دوم) به معنای کشور چین جناس دارند.

۵۹- گزینۀ «۴» (مفسر فراین)
(می - پی - نی) سجع متوازی دارند.
تشریح سایر گزینہها:

گزینۀ «۱»: تشبیه: چو سنگ / اشتقاق: دلالت، دلیل
گزینۀ «۲»: آب در مصراع اول «آبرو»، در مصراع دوم آب نوشیدنی جناس تام دارند. مهر روی اش اضافه تشبیهی است.
گزینۀ «۳»: واج آرای در صامت «س» و «م» / نرگس مجاز از چشم

۷۵- گزینه «۳» (علی ممد کریمی)
امام خمینی (ره) در سخنرانی پرشوری به تصویب قانون کاپیتولاسیون اعتراض کردند (۴ آبان ۱۳۴۳). مخالفت صریح امام با قانون مذکور، حکومت پهلوی را چنان به وحشت انداخت که ایشان را در قم دستگیر و به کشور ترکیه تبعید کرد (۱۳ آبان ۱۳۴۳).

۷۶- گزینه «۴» (آزاده میرزایی)
گزینه «۴» از اقدامات رژیم پهلوی در جهت ایجاد تقابل میان فرهنگ ایرانی و اسلامی در زمینه فرهنگی است.

۷۷- گزینه «۲» (آزاده میرزایی)
هیئت‌های مؤتلفه اسلامی پس از تبعید امام خمینی (ره)، مبارزه مسلحانه و ترور سران حکومت پهلوی را محور کار خود قرار داد.

۷۸- گزینه «۳» (آزاده میرزایی)
پس از هویدا، جمشید آموزگار به نخست‌وزیری منصوب شد. آموزگار مأموریت یافت تا با انتقاد از گذشته، در کشور فضای باز سیاسی ایجاد کند.

۷۹- گزینه «۱» (میلاد هوشیار)
با گسترش قیام در اعتراض به انتشار مقاله توهین‌آمیز نسبت به امام خمینی (ره)، جمشید آموزگار در مرداد ۱۳۵۷ در اصفهان حکومت نظامی برقرار کرد. اما این تدبیر ثمری نداشت؛ در نتیجه شاه مجبور شد آموزگار را برکنار کند و شریف امامی را با شعار «آشتی ملی» به نخست‌وزیری بگمارد.

۸۰- گزینه «۴» (میلاد هوشیار)
پس از اوج‌گیری انقلاب اسلامی، امام خمینی (ره) تحت فشار سیاسی و امنیتی سازمان امنیت عراق و ساواک، قصد عزیمت به کویت داشتند اما دولت کویت حاضر به پذیرش ایشان نشد.

جغرافیا (۳)

۸۱- گزینه «۱» (ممد ابراهیم مازنی)
عبارت اول: کشیدگی و فشردگی پوسته زمین
عبارت دوم: آزاد شدن انرژی
عبارت سوم: تداوم حرکت صفحات و تجمع دوباره انرژی

۸۲- گزینه «۴» (ممد ابراهیم مازنی)
- کانون زمین‌لرزه نقطه‌ای در عمق زمین است که در آن انرژی انباشته شده در سنگ برای نخستین بار آزاد می‌شود و گسل شروع به از هم گسیختن می‌کند.
- لیتوسفر (سنگ‌کره) زمین یکپارچه نیست و در محل‌های معین گسستگی دارد و تشکیل واحدهایی را می‌دهد که به هریک، صفحه (پلیت) گفته می‌شود.

- برای اندازه‌گیری مقدار انرژی‌ای که زمین‌لرزه آزاد می‌کند (بزرگی) از مقیاس ریشتر استفاده می‌شود.
- به ناحیه‌ای از سطح زمین که روی کانون زلزله قرار دارد، مرکز سطحی زمین‌لرزه گفته می‌شود.

۶۸- گزینه «۳» (سید ممد علی مرتضوی)
صورت سؤال، مصدری را می‌خواهد که برای برطرف کردن شک از وقوع فعل آمده باشد؛ یعنی مفعول مطلق تأکید را می‌خواهد. «مُسَاعَدَة» مفعول مطلق تأکیدی است. دقت کنید که «أَصل» جواب شرط است، نه جمله وصفیه.

تشریح گزینه‌های دیگر:

گزینه «۱»: «تربیه» مفعول مطلق نوعی است؛ زیرا مضاف إليه گرفته است.
گزینه «۲»: «تغییراً» مفعول (مفعول به) برای فعل متعدی «تَشَاهَد» است، نه مفعول مطلق.
گزینه «۴»: «مُجَادَلَة» مفعول مطلق نوعی است؛ زیرا صفت گرفته است.

۶۹- گزینه «۳» (ممد صارق مهنی)
صورت سؤال، مفعول مطلق را می‌خواهد که حروف زائد نداشته باشد؛ یعنی از مصدرهای ثلاثی مجرد باشد. در گزینه «۳»، «صَبْرًا» مفعول مطلق است که یک مصدر ثلاثی مجرد هم به حساب می‌آید. در سایر گزینه‌ها: «إِجْتِنَابًا، تَفَكُّرًا، إِحْسَانًا» همگی مفعول مطلق هستند که مصدر ثلاثی مزید محسوب می‌شوند.

۷۰- گزینه «۳» (سید ممد علی مرتضوی)
صورت سؤال گزینه‌ای را می‌خواهد که در آن مفعول مطلق تأکید باشد و در این گزینه، «سُتِشِّهَادًا» مفعول مطلق تأکید برای فعل «سُتِشِّهَد» است.

تاریخ (۳)

۷۱- گزینه «۱» (بهروز یحیی)
نخستین مرحله برنامه‌های اصلاحی رژیم پهلوی با عنوان «اصلاحات ارضی» در سال ۱۳۴۰، در زمان نخست‌وزیری علی امینی آغاز شد.

۷۲- گزینه «۴» (بهروز یحیی)
اولین مرحله فعالیت سیاسی و مبارزه امام خمینی (ره) با اعتراض به تصویب‌نامه انتخابات انجمن‌های ایالتی و ولایتی آغاز شد. از دیدگاه حضرت امام، این تصویب‌نامه موجب تضعیف اسلام و افزایش حضور بهائیان در حکومت می‌شد.

۷۳- گزینه «۱» (علی ممد کریمی)
رقابت شاه و علی امینی، نخست‌وزیر وقت، سرانجام به برکناری امینی انجامید و امیر اسدالله علم، که مورد اعتماد شاه بود، نخست‌وزیر و مأمور اجرای اصلاحات آمریکایی در ایران شد.

۷۴- گزینه «۴» (علی ممد کریمی)
در حمله مأموران رژیم شاه به مدرسه طالبیه تبریز و فیضیه قم تعدادی از طلاب شهید و مجروح شدند؛ به دنبال این جنایت امام خمینی (ره)، در سخنرانی خود خطاب به شاه او را به‌طور مستقیم سرزنش کردند و تقیه و سکوت در مقابل ظلم حکومت را حرام دانستند.

۸۳- گزینه «۳»

(معمد علی فطیپی بایگی)

با توجه به نقشه کمربندهای زمین لرزه، احتمال وقوع زلزله در «شمال قاره آسیا، اقیانوس منجمد جنوبی، مرکز اقیانوس آرام و شرق قاره آمریکا» کم و در «جنوب شرقی آسیا، شرق قاره آفریقا، غرب قاره آمریکا و مرکز اقیانوس اطلس»، زیاد است.

۸۴- گزینه «۱»

(فاطمه سفایی)

جدول زمین لرزه‌های مهم ایران در دوره پنجاه سال اخیر نشان می‌دهد که زلزله رودبار، تلفات انسانی بیشتری نسبت به سایر نواحی زلزله‌زده داشته است.

۸۵- گزینه «۳»

(بهروز یحیی)

به‌طور کلی به «حجم آبی» که در زمانی مشخص از یک مقطع معین رود عبور می‌کند، آبدهی رود (دبی) می‌گویند که واحد آن «مترمکعب بر ثانیه» است.

۸۶- گزینه «۴»

(فاطمه سفایی)

دشت سیلابی یا بستر سیلابی در واقع زمین‌های پست و هموار مجاور رود است که در زمان طغیان رود از آب پوشیده می‌شود. دشت سیلابی رود در اغلب ایام سال خشک است ولی در زمان وقوع سیلاب‌های فصلی، جریان آب آن را فرامی‌گیرد. به همین سبب، سطح دشت سیلابی از رسوبات آبرفتی (رس، شن و قلوه‌سنگ) پوشیده می‌شود. در برخی از مناطق ایران در دوره خشک و بدون بارش سال، در سطح بستر سیلابی اقدام به کشت محصولات کشاورزی می‌کنند.

۸۷- گزینه «۴»

(آزاده میرزایی)

هرچه شکل حوضه آبخیز گردتر و شیب آن بیشتر باشد، سیل خیزتر است. برعکس، هرچه حوضه درازتر و کشیده‌تر باشد، سیل خیزی آن کمتر است.

۸۸- گزینه «۱»

(آزاده میرزایی)

از بین بردن پوشش گیاهی در حوضه آبخیز موجب تشدید سیل می‌شود؛ زیرا با از بین رفتن پوشش گیاهی، نفوذپذیری خاک کاهش می‌یابد و در نتیجه، سرعت رواناب حاصل از بارش بیشتر می‌شود.

۸۹- گزینه «۱»

(معمد علی فطیپی بایگی)

هر چهار عبارت صورت سؤال، صحیح هستند:

الف) بارش‌های شدید به سرعت جاری می‌شوند و کمتر نفوذ پیدا می‌کنند تا موجب لغزش شوند.

ب) در دره‌های پرشیب کوهستانی، رودها با حفر و فرسایش کناره آبراهه‌ها، تکیه‌گاه دامنه را از بین می‌برند و باعث لغزش در آن می‌شوند. این نوع لغزش از فراوان‌ترین نوع لغزش‌های دامنه‌ای به حساب می‌آید.

ج) مقدار نفوذ باران در دامنه‌هایی که در مناطق مرطوب قرار دارند یا پوشیده از درختان و گیاهان متراکم‌اند یا درز و شکاف بسیار دارند، بیشتر و احتمال وقوع لغزش در آن‌ها بالاتر است.

د) طبق نقشه پراکندگی زمین‌لغزش‌های اصلی در ایران، بیشترین زمین‌لغزش‌ها در نیمه شمالی کشور رخ می‌دهند.

۹۰- گزینه «۴»

(بهروز یحیی)

کاهش یا از بین رفتن محصولات کشاورزی و بروز قحطی و گرسنگی، مهاجرت ساکنان مناطقی که دچار خشک‌سالی شده‌اند به سایر مکان‌ها و تخلیه روستاها، از بین رفتن گیاهان و جانوران یا مهاجرت برخی گونه‌ها، کاهش ذخایر آب سطحی و زیرزمینی یا خشک‌شدن آن‌ها و افزایش ریزگردها و حرکت آن‌ها به سمت سکونتگاه‌ها از مهم‌ترین پیامدهای خشک‌سالی هستند.

نکته: گرم‌شدن آب‌وهوای کره زمین و بی‌نظمی‌های بارش در نتیجه تغییرات اقلیمی، از علل خشک‌سالی است.

تاریخ (۱) و (۲)

۹۱- گزینه «۳»

(بهروز یحیی)

در گاه‌شماری خورشیدی - قمری بابلی سال به ۱۲ ماه قمری ۳۰ یا ۲۹ روزه تقسیم می‌شد. از آنجایی که سال قمری ۳۵۴ شبانه‌روز و سال خورشیدی ۳۶۵ و یک چهارم شبانه‌روز است، برای رفع این اختلاف، هر سه سال، یک ماه به سال می‌افزودند.

۹۲- گزینه «۴»

(بهروز یحیی)

جاده ابریشم که چین را از طریق ایران به اروپا متصل می‌کرد، در دوره سلسله «هان» گشایش یافت و تکمیل دیوار چین در زمان حکومت شی‌هوانگ‌تی از سلسله «چه این» صورت گرفت.

۹۳- گزینه «۳»

(میلاد هوشیار)

ساسانیان مصمم بودند به جای حکومت ملوک‌الطوایفی اشکانی، حکومتی متمرکز و قدرتمند ایجاد کنند که دستورات و قوانین آن در سراسر ایران اطاعت شود.

در زمان پادشاهی قباد یکم، حکومت ساسانی با جنبشی اجتماعی و اقتصادی به رهبری مزدک مواجه شد.

۹۴- گزینه «۱»

(علی‌معمد کریمی)

تمرکز قدرت و ثروت در دوره مادها نزد عده‌ای خاص، موجب ایجاد نابرابری‌های اقتصادی و اجتماعی و شکل‌گیری طبقات اجتماعی به معنای واقعی آن شد. دوره کوتاه فرمانروایی مادها را باید سرآغاز این تحول دانست.

۹۵- گزینه «۱»

(علی‌معمد کریمی)

طاق کسری (کاخ تیسفون) از آثار برجسته معماری ساسانیان است.

۹۶- گزینه «۱»

(آزاده میرزایی)

قبیله قریش به سبب در اختیار داشتن اداره کعبه و تجارت با سرزمین‌های دور و نزدیک، قدرت و نفوذ سیاسی قابل توجهی در میان قبایل دیگر داشتند.

وضعیت اقتصادی شبه‌جزیره عربستان به شدت متأثر از موقعیت جغرافیایی و شرایط طبیعی و اقلیمی آن بود.

۹۷- گزینه ۳»

(آزاده میرزایی)

با وجود آنکه یعقوب لیب از سلسله صفاریان بدون فرمان و بی‌اجازه خلیفه عباسی به قدرت رسید، اما موفقیت‌های او در سرکوب خوارج و جهاد با کفار مرزهای شرقی، موجب شد که خلیفه فرمان حکومت سیستان، کابل و بلخ را برای وی ارسال نماید.

۹۸- گزینه ۳»

(میلاد هوشیار)

شهر و شهرنشینی در عصر تیموریان برخلاف اوایل دوره مغول، دچار رکود و زوال نشد. تیمور با وجود یورش‌ها و کشتارهای زیادی که انجام داد، به شهرسازی علاقه‌مند بود.

۹۹- گزینه ۴»

(میلاد هوشیار)

در زمان شاه صفی قندهار توسط گورکانیان هند از ایران جدا شد. شاه عباس دوم، پسر و جانشین شاه صفی نسبت به پدر شجاعت و لیاقت بیشتری داشت و توانست قندهار را پس بگیرد.

۱۰۰- گزینه ۲»

(بهروز بهی)

مهم‌ترین شخصیتی که نهضت اصلاح دینی به نام او شناخته می‌شود. مارتین لوتر آلمانی بود که در اعتراض به مسیحیت کاتولیک یکسره از کلیسا برید و مذهب تازه‌ای بنیاد نهاد.

جغرافیای پایه

۱۰۱- گزینه ۱»

(آزاده میرزایی)

- الف) از بین رفتن باتلاق‌ها ← چطور؟
ب) وجود ریزگردها ← چه چیز؟
ج) بی‌توجهی به تثبیت خاک ← چه کسی؟
د) قطع درختان ← چطور؟

۱۰۲- گزینه ۳»

(مهمد علی فطیبی باگی)

با مقایسه نقشه‌های ناهمواری ایران و تراکم جمعیت ایران در نواحی شهری، مشخص می‌شود که تراکم جمعیت در سواحل خلیج فارس بیشتر از سواحل دریای عمان است.

۱۰۳- گزینه ۳»

(فاطمه سفایی)

ساختمان جمعیت، ویژگی‌های قابل اندازه‌گیری جمعیت را مورد بررسی قرار می‌دهد. جمعیت کره زمین از لحاظ نسبت جنسی جز در زمان‌های خاص، تفاوت چندانی ندارد.

۱۰۴- گزینه ۲»

(زهره صارقی)

هشت شهر تهران، مشهد، اصفهان، کرج، تبریز، شیراز، اهواز و قم در سال ۱۳۹۰ بیش از یک میلیون نفر جمعیت داشته‌اند. در ایران به شهرهایی که بیش از یک میلیون نفر جمعیت داشته باشند، کلان‌شهر می‌گویند.

۱۰۵- گزینه ۲»

(آزاده میرزایی)

در ناحیه استوا به دلیل زاویه مستقیم تابش و گرمای همیشگی، یک کانون کم‌فشار ایجاد می‌شود.
در شکل داده‌شده که مرکز پرفشار (آنتی‌سیکلون) را نشان می‌دهد، فشار به سمت مرکز منطقه زیاد می‌شود.

۱۰۶- گزینه ۲»

(بهروز بهی)

در سواحل دریا، اشکال فرسایش تراکمی (ناشی از رسوب‌گذاری مواد) پدید می‌آیند. آب‌سنگ‌ها و جزایر مرجانی، باتلاق‌ها و زبانه یا دماغه ماسه‌ای از جمله این اشکال هستند.

۱۰۷- گزینه ۳»

(مهمد علی فطیبی باگی)

یکی از موضوعات مورد توجه جغرافی دانان، اهمیت تنوع جغرافیایی زبان‌ها است. امروزه در اثر رشد ارتباطات و فناوری اطلاعات، برخی از زبان‌ها در جهان غلبه بیشتری دارند. به همین دلیل، اغلب کشورهای جهان یا نواحی، سعی می‌کنند زبان ملی و زبان‌های بومی و محلی خود را حفظ کنند تا هویت فرهنگی‌شان پابرجا بماند. گزینه‌های «۱»، «۲» و «۴» نمونه‌هایی از این اقدامات هستند.

۱۰۸- گزینه ۳»

(مهمد ابراهیم مازنی)

اگر ارزش صادرات یک کشور بیشتر از واردات آن باشد (موازنه تجاری مثبت)، آن کشور می‌تواند از راه سودی که به دست می‌آورد، استانداردهای زندگی و رفاه را در کشور خود بهبود بخشد.
اتحادیه‌های تجاری اقتصادی منطقه‌ای، میان کشورهای همسایه شکل می‌گیرد. کشورهای عضو این اتحادیه‌ها براساس موافقت‌نامه‌هایی که امضا می‌کنند، سعی می‌کنند مالیات‌ها و تعرفه‌های گمرکی را بین خودشان کاهش دهند یا بردارند.

۱۰۹- گزینه ۳»

(آزاده میرزایی)

عبارات (ب) و (د) درست است.
بررسی سایر عبارات:
الف) خط تالوگ عمیق‌ترین نقاط بستر رود را به هم متصل می‌کند.
ج) خط منصف خطی است که از وسط رودخانه می‌گذرد و فاصله مرز از هر دو ساحل به یک اندازه است.

۱۱۰- گزینه ۲»

(فاطمه سفایی)

بازیگران سیاسی (مثل حکومت‌ها) با به‌دست آوردن قدرت می‌توانند به اهداف خود برسند.
میکندر معتقد بود شرق اروپا، منبع بزرگ قدرت است و هر کس بر آن مسلط شود می‌تواند بر کل جزیره جهانی و جهان فرمان براند.

جامعه‌شناسی (۳)

۱۱۱- گزینه «۲»

(آریتا پیرقن)

- در مدل تکثرگرا، تفاوت‌های موجود میان گروه‌های قومی و زبانی حفظ و حتی تشدید می‌گردد.

- نسل‌کشی، جابه‌جایی اجباری، کنترل جمعیت، جداسازی و فشارهای سخت اجتماعی از جمله روش‌های خشونت‌آمیز همانندسازی هستند.

- سیاست هویت، محصول دوران پسامدرن است و بر تفاوت‌ها و هویت‌های خاص و محلی تأکید می‌کند.

۱۱۲- گزینه «۲»

(پارسا بیبی)

تشریح موارد نادرست:

ج) در اواخر قرن بیستم، هویت به‌جای قشربندی و کشمکش طبقاتی محور اصلی مباحثات قرار گرفت.

د) سیاست هویت محصول دوران پسامدرن است نه مدرن.

۱۱۳- گزینه «۳»

(آریتا پیرقن)

عبارت اول ← جهانی‌شدن و توسعه ارتباطات

عبارت دوم ← سیاست هویت

عبارت سوم ← همانندسازی هویتی

۱۱۴- گزینه «۱»

(پارسا بیبی)

بر تفاوت‌ها و هویت‌های خاص و محلی تأکید می‌کند.

۱۱۵- گزینه «۳»

(پارسا بیبی)

گزینه «۱»: بخشی از یک حقیقت مغفول آشکار خواهد شد.

گزینه «۲»: هر نظریه‌ای درون فرهنگ و تاریخ خود تولید می‌شود.

گزینه «۴»: نظریه فمینیستی معاصر و ... و ربطی به رویکرد تفسیری ندارد.

۱۱۶- گزینه «۳»

(ارغوان عبدالملکی)

علم به جامعه و تاریخ از علوم هستند که اگر به قصد درس آموختن از رفتار گذشتگان و شناخت قوانین اجتماعی، برای استفاده از آن قوانین در حال و آینده آموخته شوند، علوم نافع‌اند.

۱۱۷- گزینه «۳»

(ارغوان عبدالملکی)

عبارت اول: علم نافع

عبارت دوم: علوم اجتماعی

عبارت سوم: فواید علوم اجتماعی

۱۱۸- گزینه «۳»

(آریتا پیرقن)

برطرف کردن نیازهای روزمره جامعه اسلامی ← علوم ابزاری مثل علوم پایه ظلم‌ستیزی ← از ویژگی‌های جامعه آرمانی قرآن کریم امکان شناخت حقیقت و عدالت ← ویژگی مدینه فاسقه از دیدگاه فارابی

۱۱۹- گزینه «۳»

(آریتا پیرقن)

فارابی صرفاً به توصیف هنجارها و سبک زندگی کنشگران نمی‌پردازد؛ بلکه بایدها و نبایدهایی برای زندگی اجتماعی تجویز می‌کند.

۱۲۰- گزینه «۳»

(پارسا بیبی)

جامعه‌شناسی	تبیینی	تفسیری	انتقادی
عقل	ابزاری	تفسیری	انتقادی
دانش	تبیینی	تفسیری	تجویزی و انتقادی

جامعه‌شناسی (۱)

۱۲۱- گزینه «۱»

(پارسا بیبی)

- پیامدهای غیرارادی کنش انسان، قطعی است.

- کنش اجتماعی، کنشی است که با توجه به دیگران انجام می‌شود.

- عضویت موجودات زنده و نظم آن‌ها تکوینی است.

- هر جهان اجتماعی تا زمانی که از طریق مشارکت اجتماعی پابرجاست، پیامدهای آن باقی است.

۱۲۲- گزینه «۳»

(هامر مغربی)

هویت هر جهان اجتماعی بر اساس فرهنگ (عقاید و ارزش‌های کلان) آن شکل می‌گیرد و به همین دلیل از آن به «هویت فرهنگی» تعبیر می‌شود.

گسترش جهان اجتماعی از طریق گسترش فرهنگ و معانی آن صورت می‌گیرد. هر عاملی که در گسترش فرهنگ و معانی آن مؤثر باشد، در بسط هویت جهان اجتماعی اثرگذار است.

تأمین جمعیت مناسب برای جهان‌های اجتماعی، مسئله‌ای هویتی است.

۱۲۳- گزینه «۱»

(پارسا بیبی)

پدیده‌های اجتماعی را می‌توان بر اساس اندازه و دامنه (خرد و کلان) و ذهنی یا عینی بودن، تقسیم کرد.

اعتبار اجتماعی و ناراحت شدن به خاطر خبر ناراحت‌کننده (مانند حادثه منا)، پدیده‌هایی ذهنی و کلان هستند.

مراقبت از اموال عمومی، پدیده‌ای عینی و کلان است.

علاقه به خرید کردن، پدیده‌ای خرد و ذهنی است.

۱۲۴- گزینه «۲»

(هامر مغربی)

جهان اجتماعی، پس از تولد فرد، بخشی از هویت اجتماعی او را تعیین می‌کند.

تشریح سایر گزینه‌ها:

گزینه «۱»: ویژگی‌های اخلاقی نمونه‌ای از بُعد نفسانی هویت است.

گزینه «۳»: هویت اجتماعی هر فرد، درون جهان اجتماعی و براساس عقاید و ارزش‌های آن شکل می‌گیرد.

گزینه «۴»: اقناع روشی است که به واسطه آن، فرهنگ در افراد درونی می‌شود.

۱۲۵- گزینه «۳»

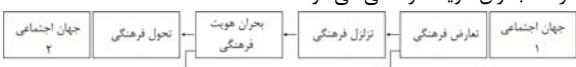
(هامر مغربی)

اعضای جهان اجتماعی ابتدا با هویت انتسابی خود آشنا می‌شوند و به تدریج با فعالیتشان، موقعیت و هویت اکتسابی خود را به دست می‌آورند.

تعارض فرهنگی، گاهی ناشی از علل درونی بوده و به نوآوری‌ها و فعالیت‌های اعضای جهان اجتماعی بازمی‌گردد.

هویت اجتماعی افراد در پرتو هویت فرهنگی جهان اجتماعی شکل می‌گیرد.

در فرایند تحولات فرهنگی، جهان اجتماعی پس از تزلزل فرهنگی، وارد مرحله بحران هویت فرهنگی می‌شود.



۱۲۶- گزینه «۳»

(پارسا مبینی)

تشریح گزاره نادرست:

- تنوع آگاهی، معرفت، اراده و اختیار انسان‌ها سبب پیدایش جهان‌های اجتماعی مختلف است.

۱۲۷- گزینه «۱»

(پارسا مبینی)

تشریح گزاره‌های نادرست:

پدیده‌های اجتماعی پس از مدتی در شرایط خاص می‌توانند مستقل شوند. ثبات و پایداری تمامی جهان‌های اجتماعی، وابسته به مشارکت اجتماعی افراد است.

۱۲۸- گزینه «۱»

(حامد مغربی)

بررسی عبارت نادرست:

اگر جهان اجتماعی در تعامل با جهان‌های دیگر، بر عقاید و ارزش‌های خود پافشاری نکند، داد و ستد فرهنگی به لایه‌های عمیق آن سرایت می‌کند و در صورتی که به مرور زمان، به عقاید و آرمان‌های خود پشت کند، دچار تحولات هویتی می‌شود.

۱۲۹- گزینه «۴»

(پارسا مبینی)

- ابزار تحقق ارزش‌های اجتماعی: کنش اجتماعی
- عقاید و ارزش‌ها: لایه عمیق (پایینی)
- نگرش مردم‌شناسان به فرهنگ‌های جهان اجتماعی: عرضی

۱۳۰- گزینه «۴»

(حامد مغربی)

در دیدگاه مستشرقان، هویت فرهنگی جوامع اسلامی، توحیدی یا اساطیری نیست، بلکه سکولار و دنیوی است و به ابعاد تاریخی و جغرافیایی آن محدود می‌شود. این هویت در قالب عناوین قوم‌گرایانه و ناسیونالیستی، امت و ملت اسلامی را به اقوام مختلف نظیر ترک، عرب و فارس تقسیم می‌کند.

فلسفه دوازدهم

۱۳۱- گزینه «۲»

(فرهاد علی‌نژاد)

ابن‌سینا روش استدلالی ارسطو را به اوج رساند و فلسفه مشائی را به صورت مدون و نظام‌مند ارائه کرد.

۱۳۲- گزینه «۱»

(موسی اکبری)

روش ابن‌سینا در تحلیل مسائل فلسفی، عقلی و استدلالی است.

۱۳۳- گزینه «۱»

(موسی اکبری)

از نظر ابن‌سینا طبیعت مرتبه‌ای از هستی است که رو به مقصدی خاص دارد و این مقصد در ذات عالم طبیعت است.

۱۳۴- گزینه «۱»

(موسی اکبری)

از نظر ابن‌سینا طبیعت مرتبه‌ای از هستی است که رو به مقصدی خاص دارد و این مقصد در ذات عالم طبیعت است.

۱۳۵- گزینه «۳»

(نیما پوهاری)

از نظر ابن‌سینا هیچ پدیده‌ای شرّ نیست. بنابراین هیچ‌یک از موارد ذکر شده ذاتاً شرّ نیستند؛ هر چند که برخی از آن‌ها به ظاهر شرّ به نظر می‌رسند.

۱۳۶- گزینه «۴»

(فرهاد علی‌نژاد)

ابن‌سینا می‌گوید ذات هر چیزی از او (خداوند) است؛ زیرا ذات هر چیز یا از او پدید آمده یا از چیزی پدید آمده که خود آن چیز را خداوند به وجود آورده است.

۱۳۷- گزینه «۳»

(نیما پوهاری)

سهروردی که به شیخ اشراق معروف شده است، با احیاء فلسفه نور و اشراق ایران باستان و تلفیق آن با عرفان اسلامی، حکمت اشراق را پایه‌گذاری نمود.

۱۳۸- گزینه «۴»

(فرهاد علی‌نژاد)

حکیم غرق در تأله‌جانشین و خلیفه خدا است و گاه امام تأله در ظاهر حاکم باشد و گاه به طور نهانی.

(فلسفه، کلمات متعالیه، صفحه‌های ۱۳۰ و ۱۳۱)

۱۳۹- گزینه «۱»

(موسی اکبری)

سهروردی معتقد است جهان هیچ‌گاه از حضور حکیم متأله خالی نمی‌باشد، زیرا برای صاحب مقام خلافت ضروری است که امور و حقایق را بی‌واسطه از حق تعالی دریافت کند.

۱۴۰- گزینه «۴»

(نیما پوهاری)

تشریح گزینه‌های دیگر:

گزینه «۱»: دانشنامه‌علائی شامل ابواب مختلف حکمت (فلسفه) است.

گزینه «۲»: نجات شکل مختصر کتاب شفا است.

گزینه «۳»: کامل‌ترین مرجع در معرفی حکمت مشائی، کتاب شفا است.