

۱- معنی بعضی از واژه‌های کدام گزینه نادرست است؟

- (۱) بقولات: سبزیجات، (اقبال: خوشبختی)، (خلنگ: علف جارو)
- (۲) خیره خیر: سریع، (خاییدن: جویدن)، (صلا زدن: آواز دادن)
- (۳) طالع: برآینده، (عنود: ستیزه‌کار)، (غلیان: جوشش)
- (۴) (معهود: معمول)، (هله: آگاه باش)، (محظوظ: بهره‌ور)

۲- در کدام بیت غلط املایی نمی‌یابید؟

- (۱) از تن چو برفت جان پاک من و تو / خشتی دو نهند بر مفاک من و تو
- (۲) داشتم از شاخ عمر وعده برخوردارنی / باد فراغت به باغ بر زد و برها ببرد
- (۳) ابر آزاری برآمد باد نوروزی وزید / وجه می می‌خواهم و مطرب که می‌گوید رسید
- (۴) راغ و باغ مخالف جاهت / تیره چون چاه و موخش است چو غار

۳- پدیدآورندگان آثار «سجاده سبز، کویر، هراس، کارگران دریا» به ترتیب در کدام گزینه آمده است؟

- (۱) قیصر امین‌پور، پیرلوتی، صادق هدایت، چارلز دیکنز
- (۲) زکریا اخلاقی، علی شریعتی، صادق هدایت، ویکتور هوگو
- (۳) قیصر امین‌پور، پیرلوتی، جمال میرصادقی، چارلز دیکنز
- (۴) زکریا اخلاقی، علی شریعتی، جمال میرصادقی، ویکتور هوگو

۴- در کدام دو بیت آرایه «تشبیه» می‌یابید؟

- (الف) الا یا ایها المهدی مدام الوصل ناولها / که در دوران هجرانت بسی افتاد مشکلها
- (ب) دل بی‌بهره از مهرت حقیقت را کجا یابد / حق از آینه رویت تجلی کرد بر دلها
- (ج) شب تاریک و بیم موج و گردابی چنین هایل / ز غرقاب فراق خود رهی بنما به ساحلها
- (د) چو بینی حجت حق را به پایش جان‌فشان ای فیض / متی ما تلق من تهوی دع الدنیا و اهملها

- (۱) الف، ج (۲) الف، د (۳) ب، ج (۴) ب، د

۵- ترتیب قرار گرفتن ابیات به لحاظ داشتن آرایه‌های «جناس- ایهام تناسب- ایهام- تشخیص- کنایه» در کدام گزینه درست آمده است؟

- الف) بگذر ای خواجه و بگذار مرا مست اینجا
ب) چون توام شد از اینجا که غمش موی کشان
ج) کیست این فتنه نوحاسته کز مهر رخس
د) دوش کز ساغر دل خون جگر می‌خوردم
ه) نام خواجه مبر ای خواجه درین ورطه که هست
- که برون شد دل سرمست من از دست اینجا
دل‌م آورد و به زنجیر فرو بست اینجا
این دل شیفته حال آمد و بنشست اینجا
شیشه ناگه بشد از دستم و بشکست اینجا
صد چو آن خسته دلسوخته در شست اینجا

۱) الف، ج، د، ب، ه

۳) ه، د، ج، ب، الف

۶- نقش دستوری «ردیف» در چند بیت «مسند» است؟

- الف) خدا را از طیب من بپرسید
ب) گلی کان پایمال سرو ما گشت
ج) جوانا سر متاب از پند پیران
د) شبی می‌گفت چشم کس ندیده‌ست
- که آخر کی شود این ناتوان به
بود خاکش ز خون ارغوان به
که رای پیر از بخت جوان به
ز مروارید گوشم در جهان به
- ۱) یک
۲) دو
۳) سه
۴) چهار

۷- با توجه به بیت زیر، کدام گزینه نادرست است؟

«آن نیست که حافظ را رندی بشد از خاطر / کاین سابقه پیشین تا روز پسین باشد»

۱) یک ترکیب اضافی و دو ترکیب وصفی در بیت وجود دارد.

۳) یک مفعول در بیت وجود دارد.

۴) یک فعل اسنادی در بیت است.

۸- مفهوم کدام گزینه با عبارت «کل شیء یرجع الی اصله» قرابت دارد؟

- ۱) کنون چو کار مرا هیچ استقامت نیست
۲) پرتو خورشید جز در خاک نتوان یافتن
۳) کمند جذبه حب الوطن ز وادی غربت
۴) جهان چو فرع و تو اصلی و گر به چشم یقین
- گرم اجازت رجعت همی دهی شاید
یک زمین و آسمان از اصل خود دوریم ما
به دریا همچو سیل خوشخرام آورد مستان را
نظر کنم همه اصل است و فرع اصلاً نیست

۹- مفهوم کدام بیت با سایر ابیات یکسان نیست؟

- (۱) فروغ بی‌زوال آفتاب عشق را نازم
که دایم در لباس سایه جولان می‌کند نورش
- (۲) هیچ کس را نامده است از دوستان در راه عشق
بی‌زوال ملک صورت ملک معنی در کنار
- (۳) جهان حسن قدیم است و عشق لم یزلی
مدینه‌ای که مصون است و ایمن از نکبات
- (۴) چو با عشق رخس ما را قدیم افتاده بود الفت
جمال او و عشق ما قدیم بی‌زوال آمد

۱۰- کدام گزینه با بیت زیر قرابت مفهومی ندارد؟

«پادشاهی که طرح ظلم افکند / پای دیوار ملک خویش بکند»

- (۱) مسلم کی گذارد نالهٔ مظلوم ظالم را
که پیش از دانه فریاد از نهاد آسیا خیزد
- (۲) به‌دست خود کند بیدادگر بنیاد دولت را
ستمگر لشکر بیگانه می‌سازد رعیت را
- (۳) رسد به ظالم دیگر همان ذخیرهٔ ظالم
نصیب تیر شود پر چو از عقاب برآید
- (۴) پایداری نیست در آب و گل بنیاد ظلم
می‌کند ویران نسیمی خانهٔ صیاد را

■ عین الأصحّ و الأدقّ في الجواب للترجمة أو التعريب أو المفهوم (۱۱-۱۵):

۱۱- «إِنَّ فِي ذَلِكَ لآيَاتٍ لِّقَوْمٍ يَعْقِلُونَ»:

- (۱) واقعاً گروهی هستند که به آن نشانه‌ها فکر می‌کنند!
- (۲) یقیناً در آن نشانه‌هایی است برای گروهی که می‌اندیشند!
- (۳) مسلماً گروهی هستند که در آن آیات تأمل می‌کنند!
- (۴) گروهی در آن نشانه‌هایی که وجود دارد، به درستی می‌اندیشند!

۱۲- «علينا أن نفضل الذين هم أكثر علماً على الآخرين لأنّ العلماء أكثر الناس خدمة!»: «ما باید کسانی را که ...»

- (۱) دانش آنان بیش‌تر است بر دیگران ترجیح بدهیم، زیرا دانشمندان خدمتگزارترین مردم هستند!
- (۲) از جهت دانش بالاتر هستند بر دیگران برتری بدهیم، چون خدمت دانشمندان به مردم بیش‌تر است!
- (۳) دانشمندان بزرگ‌تری هستند نسبت به سایرین بالاتر بدانیم، زیرا دانشمندان بیش‌تر به مردم سود می‌رسانند!
- (۴) علم آنان بسیار زیاد است بر سایر افراد ترجیح بدهیم، زیرا دانشمندان بزرگ، خدمت بیش‌تری به مردم می‌کنند!

۱) «الَّذِي بَادَرَ الصَّيْدَ مَعَ الْفَجْرِ، نَجَحَ لِأَنَّهُ اغْتَنِمَ الْفُرْصَةَ!»: کسی که هنگام سپیده‌دم، شکار کرد موفق شد، زیرا که او فرصت‌ها را غنیمت شمرد!

۲) «مَنْ تَذَوَّقَ مَرَارَةَ الْحَيَاةِ وَ حَلَاوَتَهَا فَقَدْ تَعَرَّفَ عَلَى حَقِيقَتِهَا!»: کسی که تلخی زندگی و شیرینی‌اش را بچشد، حقیقت را شناخته است!

۳) «الْمُؤْمِنُ لَا يَسْمَحُ أَنْ تُتْرَكَ الدُّنْيَا بَلْ يَجْعَلُهَا وَسِيلَةً لِلْحَصُولِ عَلَى الْعَقْبَى!»: مؤمن اجازه ندارد دنیا را ترک کند، بلکه آن را برای به دست آوردن آخرت، وسیله قرار می‌دهد!

۴) «فِي كُتُبِ الْمُسْلِمِينَ نَظَرِيَّاتٌ كَانِ الْأُورُوبِيُّونَ يَعْتَقِدُونَ أَنَّهُمْ قَدْ طَرَحُوهَا لِأَوَّلِ مَرَّةٍ!»: در کتاب‌های مسلمانان نظریاتی است که اروپایی‌ها اعتقاد می‌داشتند که ایشان برای اولین بار مطرح‌شان کرده‌اند!

۱۴- عَيْنِ الصَّحِيحِ فِي الْمَفْهُومِ: «عُزَاةٌ لَنْ يَنْقُتُوا وَرَدْنَا / فَأَنْ يَقْتُلُوا الْحُلْمَ فِي الْيَاسْمِينِ»

۱) لَا يَسْتَطِيعُ الْعَدُوُّ أَنْ يَهْدِمَ وَطَنًا بِغَضَبِ الْمَدَنِ وَ قَتْلِ مَقَاتِلِنَا!

۲) طَغَاةٌ، إِنْ يَهْدِمُوا حَدَائِقَ الْيَاسْمِينِ، تَنْبِتُ وَرُودٌ جَدِيدَةٌ لِلْمَرَّةِ الْآخَرَى!

۳) أَلَا بِالصَّبْرِ تَبْلُغُ مَا تَرِيدُ/ وَ بِالنَّفْوَى يَلِينُ لَكَ الْحَدِيدُ!

۴) لَا يُمْكِنُ لِلْأَعْدَاءِ إِخْرَاجَ الْأَمَالِ مِنْ قُلُوبِ شَعْبِنَا بِقَتْلِ شَبَابِنَا!

۱۵- «هنگامی که شرایط سخت باشد، مدیر به دنبال کارمندی می‌گردد تا سختی‌های کار آسان گردد!»:

۱) عِنْدَمَا تَصْبِحُ الْأَوْضَاعُ صَعْبَةً، يَفْتَشُ الْمَدِيرُ عَنْ عَامِلٍ يَسْهَلُ الشَّدَائِدُ فِي الْعَمَلِ!

۲) الْمَدِيرَةُ تَبْحَثُ عَنِ الْمَوْضَفَةِ تَصْبِحُ بِهَا صَعُوبَاتُ الْعَمَلِ سَهْلًا حِينَمَا تَكُونُ الْأَوْضَاعُ مَعْقَدَةً!

۳) حِينَمَا تَكُونُ الْأَوْضَاعُ صَعْبَةً، الْمَدِيرُ يَفْتَشُ عَنِ مَوْضَفٍ حَتَّى تَصْبِحَ صَعُوبَاتُ الْعَمَلِ سَهْلَةً!

۴) عِنْدَمَا الْأَوْضَاعُ تَكُونُ مَعْقَدَةً، يَبْحَثُ الْمَدِيرُ عَنِ الْمَوْضَفِ لِكَيْ يَسْهَلَ الشَّدَائِدُ عَمَلَهُ!

۱۶- عَيْنِ الْفِعْلِ الْمَعْتَلِّ يَخْتَلِفُ نَوْعُهُ عَنِ الْبَاقِي:

۱) لَا تَخَفْ مِمَّا يَنْفَعُ الْآخِرِينَ وَ اِتْرَكَ الْحَسَدَ!

۲) يَا صَدِيقِي، لَا تَرْجُ إِلَّا رَبَّكَ الْكَرِيمَ!

۳) قَالَ الْمَتَكَاسِلُ إِنَّهُ لَمْ يَزِدْ عَلَى مَا فَعَلَهُ صَدِيقَهُ!

۴) لَتَلْتُمُ الْأُخُوَّةَ بَيْنَنَا كُلَّنَا أَبْنَاءَ الْبَشَرِ فِي هَذَا الزَّمَنِ!

١٧- عَيِّنِ الجُمْلَةَ الوَصْفِيَّةَ فِي مَحَلِّ جَرِّ:

- ١) القرون الجميلة ظَهَرَتْ كالفضَّة البراقَّة في ضوء القمر!
- ٢) «مِنَ الْمُؤْمِنِينَ رِجَالٌ صَدَقُوا مَا عَاهَدُوا اللَّهَ عَلَيْهِ»
- ٣) حِينَمَا سَمِعَ حَنْظَلَةَ نِدَاءَ الْمُنَادِي يَدْعُو إِلَى الْجِهَادِ أُسْرِعَ نَحْوَ سَاحَةِ الْقِتَالِ!
- ٤) أُرِيدُ أَنْ أَتَكَلَّمَ حَوْلَ حَفْلَةِ عَظِيمَةٍ تَنْعَقِدُ فِي مَدْرَسَتِنَا فِي الْأُسْبُوعِ الْقَادِمِ!

١٨- عَيِّنِ الخَطَأَ فِي المَبْنِيِّ لِلْمَجْهُولِ:

- ١) أَخْرَجُ الطَالِبَاتِ مِنَ الصَّفِّ بَعْضَ الْأَوْقَاتِ!: أَخْرَجَتِ الطَالِبَاتُ ...
- ٢) تَشْكُرُونَ رَبَّكُمْ فِي جَمِيعِ اللَّحْظَاتِ!: يُشْكِرُ رَبُّكُمْ ...
- ٣) يَسْتَخْدِمُنِي فِي الدَّائِرَةِ هَذَا الْأُسْبُوعِ!: تُسْتَخْدَمِينَ فِي ...
- ٤) يُسَاعِدُنَا الْمُعَلِّمُونَ فِي كَثِيرٍ مِنَ الْأُمُورِ!: تُسَاعِدُ فِي ...

١٩- عَيِّنِ المَفْعُولَ المَطْلُوقَ البَيَانِيَّ:

- ١) نَخْدُمُ وَطَنًا يَحْتَاجُ إِلَى خِدْمَةٍ صَادِقَةٍ!
- ٢) هَذِهِ الْأُمَّةُ قَدْ أَلْبَسَتْ وَلَدَهَا الصَّغِيرَ لِبَاسًا نَظِيفًا!
- ٣) أَعْفُ عَنْ خَطِيئَةِ نَادِمٍ يَنْتَظِرُ مِنْكَ عَفْوًا حَقًّا!
- ٤) يَمُرُّ الْإِنْسَانُ الشَّرِيفَ بِاللُّغُوِّ مَرَّةً الْكِرَامِ!

Konkur.in

٢٠- فِي أَيِّ عِبَارَةٍ مَا جَاءَتِ الحَالُ؟

- ١) أَصْبَحْتُ فَرِحًا لَمَّا سَمِعْتُ خَبَرَ نَجَاحِ صَدِيقِي!
- ٢) بَعْدَ دَقَائِقَ عَادَ الْفَارِسُ نَادِمًا وَ قَالَ: وَوُلِدْتُ مِنْ جَدِيدٍ!
- ٣) الْمُؤْمِنَاتُ يَدْخُلْنَ الْجَنَّةَ يَوْمَ الْقِيَامَةِ شَاكِرَاتٍ!
- ٤) تَلَعَبُ الْأَخْتَانِ الصَّغِيرَتَانِ فِي الْغُرْفَةِ صَامَتَيْنِ!

۲۱- در کدام یک از موارد زیر، نشانه‌هایی برای اهل خرد و اندیشمندان وجود دارد؟

- ۱) «إِنَّ فِي خَلْقِ السَّمَاوَاتِ وَالْأَرْضِ وَخِلْقِ اللَّيْلِ وَالنَّهَارِ»
- ۲) «الَّذِي خَلَقَ فَسْوَىٰ وَالَّذِي قَدَّرَ فَهَدَىٰ»
- ۳) «مَا تَرَىٰ فِي خَلْقِ الرَّحْمَنِ مِنْ تَفَاوُتٍ فَارْجِعِ الْبَصَرَ...»
- ۴) «و تَرَى الْجِبَالَ تَحْسِبُهَا جَمَادًا وَ هِيَ تَمْرٌ مَرَّ السَّحَابِ»

۲۲- دور از ذهن بودن معاد جسمانی برای منکران آن، مفهوم کدام عبارت قرآنی است؟

- ۱) «هیئات هیئات لما توعدون»
- ۲) «قال رب ارجعون»
- ۳) «و ما هذه الحیاة الدنیا الا لهُو و لهُب»
- ۴) «ولئنک الذین کفروا بایات ربهم»

۲۳- حل مشکلات آدمی با وجود تمامی توطئه‌ها، با عمل به کدام دستورالعمل قرآنی محقق می‌شود؟

- ۱) «قل إن کنتم تحبون الله فاتبعونی»
- ۲) «و توکل علی الحی الذی لا یموت»
- ۳) «و من أراد الآخرة و سعی لها سعیها و هو مؤمن»
- ۴) «یا ایها الذین آمنوا استعینوا بالصبر و الصلوة»

۲۴- چرا عمل امامان و پیامبران معیار و میزان سنجش اعمال سایرین قرار می‌گیرد و ریشه فزونی یافتن ارزش اعمال انسان‌ها در کدام آیه بیان شده است؟

- ۱) چون ظاهر و باطن اعمال انسان‌ها را در دنیا دیده‌اند- «قل لا اسألكم علیه اجرأ الا المودة فی القربی»
- ۲) چون ظاهر و باطن اعمال انسان‌ها را در دنیا دیده‌اند- «و ان كان مثقال حبة من خردل اتینا بها و كفی بنا حاسبین»
- ۳) چون اعمال آن‌ها عین حق و حقیقت است- «قل لا اسألكم علیه اجرأ الا المودة فی القربی»
- ۴) چون اعمال آن‌ها عین حق و حقیقت است- «و ان كان مثقال حبة من خردل اتینا بها و كفی بنا حاسبین»

۲۵- نماز و روزه فرزندی که با نهی پدر و مادرش به سفری برود که آن سفر بر او واجب نبوده، چگونه است؟

- ۱) در هر صورت نماز خود را به صورت تمام بخواند و روزه خود را قضا کند.
- ۲) فقط اگر بیش از ده روز قصد اقامت دارد، باید نماز را تمام بخواند و روزه‌اش را بگیرد.
- ۳) اگر کم‌تر از ده روز اقامت دارد، باید نماز را به صورت شکسته بخواند ولی روزه را بگیرد.
- ۴) در هر صورت باید نماز خود را به صورت کامل بخواند و روزه‌اش را نیز بگیرد.

۲۶- در بیان امام خمینی (ره) با دقت در چه چیزی درمی‌یابیم که اجرای آن‌ها و عمل به آن‌ها مستلزم تشکیل حکومت اسلامی است و این موضوع را

می‌توان در مفهوم کدام آیه جست‌وجو کرد؟

- ۱) ماهیت و کیفیت احکام شرع- «لقد ارسلنا رسلنا بالبینات و انزلنا معهم الکتاب و المیزان»
- ۲) ماهیت و کیفیت احکام شرع- «لقد من الله علی المؤمنین اذ بعث فیهم رسولا من انفسهم...»
- ۳) نظام سیاسی اسلام- «لقد من الله علی المؤمنین اذ بعث فیهم رسولا من انفسهم...»
- ۴) نظام سیاسی اسلام- «قل اطیعوا الله و الرسول فان تولوا فان الله لا یحب الکافرین»

۲۷- اگر بخوایم برای «حجیت سخن و عمل اهل بیت» و «تجات همیشگی از ورطه گمراهی» معیاری معرفی کنیم، عبارات کدام گزینه بیانگر آن

خواهد بود؟

- ۱) «انما یرید الله لیذهب عنکم الرجس...»- «انّی تارک فیکم الثقلین...»
- ۲) «انما یرید الله لیذهب عنکم الرجس...»- «مَن مات و لم یعرف امام زمانه...»
- ۳) «یا ایها الرسول بلغ ما انزل الیک...»- «انّی تارک فیکم الثقلین...»
- ۴) «یا ایها الرسول بلغ ما انزل الیک...»- «مَن مات و لم یعرف امام زمانه...»

۲۸- انزوای جهادگران و شخصیت‌های مورد احترام پیامبر (ص) مصداق چه چیزی و زمینه‌ساز کدام یک از اقدامات ائمه اطهار (ع) بوده است؟

- ۱) تبدیل حکومت عدل نبوی به سلطنت قیصری و کسرابی- مخفی نگه‌داشتن ارتباط با یاران خود
- ۲) ظهور شخصیت‌ها و الگوهای غیر قابل اعتماد- پاسخ به نیازهای مؤمنان از طریق معنوی و غیبی
- ۳) تبدیل حکومت عدل نبوی به سلطنت قیصری و کسرابی- پاسخ به نیازهای مؤمنان از طریق معنوی و غیبی
- ۴) ظهور شخصیت‌ها و الگوهای غیر قابل اعتماد- مخفی نگه‌داشتن ارتباط با یاران خود

۲۹- مطابق فرمایش امام علی (ع) به مالک‌اشتر برای «معدور بودن نزد خداوند» و «عدم تندروی»، به ترتیب انجام چه کارهایی از جانب حاکم اسلامی ضروری می‌باشد؟

- ۱) مساوی قرار ندادن نیکوکار و بدکار - مشورت نکردن با ترسو
 - ۲) رفع مشکلات محرومان - مشورت نکردن با ترسو
 - ۳) مساوی قرار ندادن نیکوکار و بدکار - نگرستن به بزرگی حکومت خداوند
 - ۴) رفع مشکلات محرومان - نگرستن به بزرگی حکومت خداوند
- ۳۰- از عبارت قرآنی «و لا تنکحوا المشرکات حتی یؤمننّ ... و لا تنکحوا المشرکین حتی یؤمنوا ...» کدام مفهوم برداشت می‌شود؟
- ۱) از شروط ازدواج مؤمن بودن زن و مرد و اجازه والدین آنها است.
 - ۲) منافع اعضای خانواده را به نافرمانی از خدا دعوت می‌کند، در حالی که مؤمن به فرمانبری از خدا دعوت می‌کند.
 - ۳) خداوند با بیان شرط ایمان در انتخاب همسر، آیات خود را تبیین کرده است شاید که آنان متذکر شوند.
 - ۴) پدر و مادر با ایمان تلاش می‌کنند که فرزندانشان مؤمن بوده و در ازدواج نیز آن شرط را رعایت کنند.

PART A: Grammar & Vocabulary

Directions: Choose the word or phrase (1), (2), (3), or (4) that best completes each sentence. Then mark the correct choice on your answer sheet.

31- The police ordered him ... anybody leave the building until further notice.

- 1) don't let
- 2) not let
- 3) to don't let
- 4) not to let

32- I had a serious accident yesterday and my leg

- 1) had been broken
- 2) was broken
- 3) has broken
- 4) breaks

33- He made his workforce work ... and quickly to finish the project until the end of March.

- 1) inventively
- 2) shockingly
- 3) expensively
- 4) confusingly

34- Everybody expected her to be angry but Mary was quite ... about what occurred.

- 1) involved
- 2) amused
- 3) confused
- 4) managed

35- Writing was her first ..., but everyone knew she couldn't make a living by writing books.

- 1) average
- 2) pressure
- 3) choice
- 4) observation

PART B: Cloze Test

Directions: Read the following passage and decide which choice (1), (2), (3), or (4) best fits each space. Then mark the correct choice on your answer sheet.

During each Summer Olympic Games, 28 different sports are played. The ... (36) ... of sports played at the Olympics don't change very often, and the process for ... (37) ... them is long and difficult. So it came as a big surprise in 2005 when the International Olympic Committee (IOC) announced that it wanted to add new sports to the Summer Olympic Games. ... (38) ..., the list of sports hadn't changed in 70 years.

At a meeting in Singapore in 2005, the IOC voted on each of the 28 events from the Olympic Games in Athens, Greece. They wanted to choose which sports ... (39) ... at the 2016 games. There are many reasons why some sports ... (40) ... the list while others don't, but it's important that these sports are popular around the world, and played in many different countries.

- 36- 1) kinds 2) areas 3) records 4) scenes
37- 1) to change 2) that change 3) changing 4) being changed
38- 1) In other words 2) At that time 3) In addition 4) Even though
39- 1) was going to be played 2) had played
 3) would be played 4) will play
40- 1) realize 2) perform 3) improve 4) make

۴۱- اگر $a > b$ باشد، آن گاه حاصل $|a-b| + |b-a|$ همواره کدام است؟

۱ (۱) $-2a+1$ (۲)

۳ $2b+1$ (۳) $2a+2b+1$ (۴)

۴۲- اگر A و B دو مجموعه غیر تهی و متمایز باشند، حاصل $(A \cup B) \cap (B - A)$ کدام است؟

۱ (۱) A (۲) ϕ

۳ $A \cap B$ (۳) $B - A$ (۴)

۴۳- اگر $A = \{1, 2, \dots, 9\}$ ، $B = \{5, 6, \dots, 12\}$ و $C = \{1, 2, \dots, 7\}$ باشند، آن گاه حاصل $(A \cap B) - C$ برابر با کدام مجموعه است؟

۱ (۱) $\{5, 6, \dots, 9\}$ (۲) $\{7, 8, \dots, 12\}$

۳ (۳) $\{8, 9\}$ (۴) $\{10, 11, 12\}$

۴۴- از تساوی $3^{a+b} \times 2^{a-b} = 18^2$ ، مقدار $2a+b$ کدام است؟

۴ (۱) ۷ (۲) ۵ (۳) ۹ (۴)

۴۵- حاصل عبارت $A = \frac{\lambda(\sqrt{5}-1)}{\sqrt{5}+1} - \frac{\sqrt{5}-2}{\sqrt{5}+2}$ کدام است؟

- (۱) -۴
(۲) -۳
(۳) ۳
(۴) ۴

۴۶- اگر $A = 4xz(xy-2)$ و $B = (2x-z)^2$ و $C = \frac{(-2x)^3 yz}{2x}$ باشد، آن‌گاه حاصل $A-2B+C$ کدام است؟ ($x \neq 0$)

- (۱) $2z(yx^2-1)$
(۲) $-xy(xz+2)$
(۳) $-2(4x^2+z^2)$
(۴) $4(x^2-2z^2)$

۴۷- کدام عامل در تجزیه عبارت $(a-1)^3 - (a-1)$ وجود دارد؟

- (۱) $a+1$
(۲) $a+2$
(۳) $a-3$
(۴) $a-2$

۴۸- اگر شیب و عرض از مبدأ خط $(2m-2)x + 4y = 8n$ به ترتیب ۴ و ۱۰ باشند، حاصل $m \times n$ کدام است؟

- (۱) ۱۰
(۲) ۳۵
(۳) -۳۵
(۴) -۱۰

۴۹- کدام یک از متغیرهای زیر، متغیر کمی پیوسته است؟

- (۱) تعداد مکالمات تلفنی
(۲) جنسیت افراد
(۳) گنجایش آب یک تانکر
(۴) تعداد صفحه‌های یک کتاب

۵۰- با توجه به نمودار زیر جواب سؤالات «الف» و «ب» کدام گزینه است؟ (کلید نمودار: $3 = 23$)

الف) چند درصد داده‌ها ناکم‌تر از ۳۰ و کم‌تر از ۴۶ است؟

ساقه	برگ								
۲	۳	۴	۴	۵	x	۶	۷		
۳	۰	۰	۲	۲	۶	۸	۸	۹	
۴	۰	۰	۰	۳	۳	۵	۷	۷	۸ ۹

ب) کدام اعداد می‌توانند به جای x قرار گیرند؟

- (۱) الف) ۵۶، ب) ۷ و ۶
(۲) الف) ۵۶، ب) ۶ و ۵
(۳) الف) ۵۷، ب) ۶ و ۴
(۴) الف) ۵۷، ب) ۶ و ۵

۵۱- در نمودار جعبه‌ای داده‌های ۱۹، ۱۷، ۱۲، ۹، ۴، ۵، ۸، میانگین داده‌هایی که خارج از جعبه هستند، کدام است؟

- (۱) $11/5$
(۲) ۱۲
(۳) $12/5$
(۴) ۱۳

۵۲- برای ۱۰ داده آماری مثبت، انحراف معیار ۰/۵ و مجموع مجذورات داده‌ها ۶۵ است. میانگین آن‌ها کدام است؟

- (۱) ۲
(۲) $2/5$
(۳) $0/25$
(۴) $0/5$

۵۳- اگر σ^2 واریانس داده‌های x_1, x_2, \dots, x_n باشد، واریانس داده‌های $2x_1 - 3, 2x_2 - 3, \dots, 2x_n - 3$ کدام است؟

- (۱) σ^2
(۲) $\sigma^2 - 3$
(۳) $2\sigma^2$
(۴) $4\sigma^2$

۵۴- کدام گزینه در مورد میزان پراکندگی به‌ازای یک واحد از میانگین داده‌های دو گروه الف و ب درست است؟ ($k > 0$)

الف) x_1, x_2, \dots, x_n (ب) kx_1, kx_2, \dots, kx_n

(۱) میزان پراکندگی داده‌های گروه الف از گروه ب بیش‌تر است.

(۲) میزان پراکندگی هر دو گروه یکسان است.

(۳) اطلاعات کافی نیست.

(۴) میزان پراکندگی داده‌های گروه ب از گروه الف بیش‌تر است.

۵۵- کدام تابع زیر، توانی محسوب می‌شود؟

(۱) $y = 3x\sqrt{3}$ (۲) $y = \frac{8}{x^4}$

(۳) $y = x^{\left(\frac{2}{\sqrt{3}-1} - \sqrt{3}\right)}$ (۴) $y = \sqrt[3]{x}$

۵۶- اگر خطوط $y = 10x - 1$ و $2ky - (k-4)x + 5k = 0$ هم‌خانواده باشند، مقدار k کدام است؟

(۱) $\frac{2}{13}$ (۲) $-\frac{4}{19}$ (۳) $-\frac{2}{13}$ (۴) $\frac{4}{19}$

۵۷- برای حل معادله درجه دوم $3x^2 - 5x - 1 = 0$ به روش مربع کامل کردن، وقتی ضریب x^2 یک باشد، به دو طرف معادله، کدام عدد باید

اضافه شود؟

(۱) $\frac{25}{4}$ (۲) $\frac{25}{16}$ (۳) $\frac{25}{36}$ (۴) $\frac{25}{64}$

۵۸- اگر عرض رأس سهمی $y = x^2 - 4x + 2k - 1$ برابر با ۱ باشد، سهمی محور عرض‌ها را در چه نقطه‌ای قطع می‌کند؟

(۱) ۳ (۲) -۲ (۳) ۵ (۴) -۷

۵۹- از بین ۹ کارمند می‌خواهیم ۵ نفر را برای اعزام به خارج انتخاب کنیم. اگر ۳ فرد به خصوص از قبل برای اعزام انتخاب شده باشند، چند حالت

Konkur.in

مختلف برای این کار وجود دارد؟

(۱) ۱۵ (۲) ۲۵ (۳) ۳۵ (۴) ۴۵

۶۰- در یک جعبه ۵ مهره سیاه و ۴ مهره سفید داریم. تعداد حالت‌هایی که ۳ مهره باهم انتخاب شود به‌طوری‌که ۲ مهره سیاه و یک مهره سفید

باشد، چند تا است؟

(۱) ۲۰ (۲) ۳۶ (۳) ۴۰ (۴) ۴۸

۶۱- کدام گزینه دربردارنده پاسخ صحیح پرسش‌های زیر است؟

(الف) هدف جامعه اسلامی، ... و هدف جامعه مصرفی غیراسلامی، ... است.

(ب) دین اسلام به عنوان دینی کامل، در پی ...

(ج) هدف علم اقتصاد ...

(د) پذیرفتن فرض محدود بودن منابع در دسترس انسان با اعتقاد به بی‌حدوحصر بودن نعمت‌های الهی ...

(ه) کدام مورد جزء «شباهت‌های خاص» در روش مطالعه دانشمندان علوم مختلف نیست؟

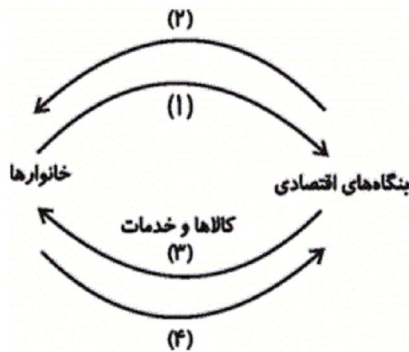
(۱) الف) ارتقای سطح فرهنگی و تعالی فکری انسان - افزایش مصرف، رفاه زیاد و تجملات، (ب) سعادت واقعی و کامل انسان‌هاست و دنیا و آخرت را همراه با هم مورد توجه دارد. (ج) راهنمایی انسان برای انجام بهترین انتخاب و به‌کارگیری بهترین روش، جهت استفاده از منابع و امکانات خویش است. (د) ناسازگار نیست. (ه) استفاده از ابزارهای خاص و انجام آزمایش‌ها در شرایطی خاص

(۲) الف) افزایش مصرف و رفاه مادی - رشد و تعالی فکری و روحی انسان، (ب) تأسیس نهادهای فرهنگی است و دنیا و آخرت را با هم مورد توجه قرار می‌دهد. (ج) راهنمایی انسان برای انجام بهترین انتخاب و به‌کارگیری بهترین روش، جهت استفاده از منابع و امکانات خویش است. (د) سازگار نیست. (ه) جست‌وجو و یافتن روابط علت و معلولی بین پدیده‌های مورد مطالعه

(۳) الف) ارتقای سطح فرهنگی و تعالی فکری انسان - افزایش مصرف، رفاه زیاد و تجملات، (ب) استفاده از امکانات کافی به‌منظور رشد و تعالی انسان است. (ج) تأمین رفاه مادی زندگی انسان‌هاست. (د) ناسازگار است. (ه) انجام مشاهدات و جمع‌آوری اطلاعات

(۴) الف) افزایش مصرف و رفاه مادی - رشد و تعالی فکری و روحی انسان، (ب) سعادت واقعی و کامل انسان‌هاست و دنیا و آخرت را همراه با هم مورد توجه دارد. (ج) صرف امکانات کافی به‌منظور رشد و تعالی فکری و روحی انسان است. (د) ناسازگار نیست. (ه) استفاده از ابزارهای خاص و انجام آزمایش‌ها در شرایطی خاص

۶۲- با توجه به نمودار روبه‌رو که تصویر بسیار ساده و خلاصه‌شده‌ای از فعالیت‌های اصلی یک اقتصاد است:



(الف) اشخاص حقوقی در تصویر اقتصادی جامعه کدام‌اند؟

(ب) با استفاده از کدام مسیر می‌توان تولید کل جامعه را از «روش درآمدی» محاسبه کرد؟

(ج) با استفاده از کدام مسیر می‌توان تولید کل جامعه را از «روش هزینه‌ای» محاسبه کرد؟

(د) در مسیرهای (۱) و (۲) به ترتیب کدام مبادلات انجام می‌شود؟

(۱) الف) دولت، (ب) مسیر (۴)، (ج) مسیر (۲)، (د) وجوه پرداختی به عوامل تولید - عوامل تولید

(۲) الف) خانوارها، (ب) مسیر (۲)، (ج) مسیر (۴)، (د) عوامل تولید - وجوه پرداختی به عوامل تولید

(۳) الف) بنگاه‌های اقتصادی، (ب) مسیر (۲)، (ج) مسیر (۴)، (د) عوامل تولید - وجوه پرداختی به عوامل تولید

عوامل تولید

(۴) الف) بنگاه‌های اقتصادی، (ب) مسیر (۴)، (ج) مسیر (۲)، (د) وجوه پرداختی به عوامل تولید - عوامل تولید

۶۳- با توجه به اطلاعات ارائه شده در جدول زیر، کدام گزینه در ارتباط با وضعیت بنگاه اقتصادی در طی یک ماه گذشته صحیح می‌باشد؟ (در هر ماه میزان یکسانی از محصول به فروش می‌رسد).

هزینه استهلاک سالانه ماشین‌آلات	۵۸۲ میلیون ریال
اجاره سالانه بنگاه	۱۳۵ میلیون ریال
حقوق ماهانه کارگران	$\frac{1}{15}$ اجاره سالانه بنگاه
خرید ماهانه مواد اولیه	$\frac{1}{97}$ هزینه استهلاک سالانه ماشین‌آلات
درآمد سالانه ناشی از فروش محصول	۹۰۰ میلیون ریال

(۱) ۱۶۸ میلیون ریال ضرر کرده است .

(۲) ۱۶۸ میلیون ریال سود برده است.

(۳) ۲۵۰ هزار ریال ضرر کرده است.

(۴) ۲۵۰ هزار ریال سود برده است.

۶۴- کدام گزینه مبین پاسخ صحیح پرسش‌های زیر است؟

الف) قیمت یک کالا و مقدار تولید آن به وسیله تولیدکنندگان با هم رابطه ... دارند.

ب) عاملی که تعادل را در بازار ایجاد می‌کند ... کالاست.

پ) حالت تعادل در بازار زمانی اتفاق می‌افتد که مقدار تقاضا ... مقدار عرضه باشد.

ت) نزولی بودن منحنی تقاضا به این معناست که با کاهش قیمت، مقدار تقاضا ... ، و با افزایش قیمت، مقدار تقاضا ... می‌یابد.

(۱) الف) مستقیم، ب) مقدار، پ) کم‌تر از، ت) کاهش - افزایش

(۲) الف) معکوس، ب) قیمت، پ) برابر با، ت) افزایش - کاهش

(۳) الف) مستقیم، ب) قیمت، پ) برابر با، ت) افزایش - کاهش

(۴) الف) معکوس، ب) مقدار، پ) کم‌تر از، ت) کاهش - افزایش

سایت کنکور

Konkur.in

۶۵- در یک کشور آسپایی در طول زمان، مطابق جدول زیر، از مردم، مالیات گرفته شده است.

الف) جدول شماره «۱» نشان‌دهنده کدام نرخ مالیاتی است و میزان آن برای درآمدهای مختلف به ترتیب کدام است؟ (به ترتیب از راست به چپ)

ب) در جدول شماره «۲» مطابق کدام نرخ مالیاتی مالیات دریافت می‌شود و میزان آن برای درآمدهای مختلف به ترتیب کدام است؟ (به ترتیب از راست به چپ)

میزان مالیات پرداختی به واحد پولی کشور	میزان درآمد افراد به واحد پولی کشور
۱۰	۲۰۰
۱۵	۳۰۰
۲۰	۴۰۰

(۱)

میزان مالیات پرداختی به واحد پولی کشور	میزان درآمد افراد به واحد پولی کشور
۱۶	۴۰۰
۳۶	۶۰۰
۷۲	۸۰۰
۱۲۰	۱۰۰۰

(۲)

۱) الف) تصاعدی - 5% ، 15% ، 20% ، ب) تصاعدی - 4% ، 6% ، 9% ، 12%

۲) الف) ثابت - 10% ، ب) تصاعدی - 6% ، 9% ، 12% ، 15%

۳) الف) تصاعدی - 10% ، 15% ، 20% ، ب) تصاعدی - 4% ، 5% ، 8% ، 11%

۴) الف) ثابت - 5% ، ب) تصاعدی - 4% ، 6% ، 9% ، 12%

۶۶- هریک از موارد زیر از کدام یک از اصول قانون اساسی کشورمان، برداشت می‌شود؟

الف) همواره قوانین و سیاست‌های جاری کشور باید به گونه‌ای باشند که مشکلی برای آن گروه از فعالان اقتصادی که با رعایت قوانین و با حفظ منافع جامعه به فعالیت می‌پردازند، ایجاد نشود.

ب) وجود فقر گسترده در جوامع در حال توسعه خود به عنوان مانعی بر سر راه دستیابی به توسعه اقتصادی عمل می‌کند.

ج) تأمین امکانات برای افراد جامعه باید به صورتی باشد که علاوه بر تلاش شغلی، فرصت و توان کافی برای خودسازی معنوی، سیاسی و اجتماعی هم وجود داشته باشد.

د) از بین بردن وضعیتی که باعث می‌شود مناطق محروم از دستاوردهای اقتصادی بهره‌ای نبرند و رشد اقتصادی مناطق رشدیافته به صورت جزیره در دل کشور توسعه نیافته، قابل دوام نباشد.

۱) الف) اصل ۴۳، ب) اصل ۴۴، ج) اصل ۴۷، د) اصل ۴۸

۲) الف) اصول ۴۷ و ۴۹، ب) اصل ۴۳، ج) اصل ۴۳، د) اصل ۴۸

۳) الف) اصول ۴۷ و ۴۹، ب) اصل ۴۸، ج) اصل ۴۹، د) اصل ۴۳

۴) الف) اصل ۴۸، ب) اصل ۴۳، ج) اصل ۴۳، د) اصل ۴۴

۶۷- جدول زیر، نشانگر وضعیت توزیع درآمد در کشور A مربوط به سال ۱۹۹۰ میلادی براساس شاخص دهک‌ها است. چنانچه جمعیت کشور

وضعیت توزیع درآمد در کشور A در سال ۱۹۹۰ میلادی	
سهم دهک اول	۲ درصد
سهم دهک دوم	۳ درصد
سهم دهک سوم	۳ درصد
سهم دهک چهارم	۵ درصد
سهم دهک پنجم	؟
سهم دهک ششم	۱۲ درصد
سهم دهک هفتم	۱۲ درصد
سهم دهک هشتم	۱۵ درصد
سهم دهک نهم	؟
سهم دهک دهم	۲۲ درصد
۱۰۰ درصد جمعیت کشور	۱۰۰ درصد درآمد ملی

۱۲۰ میلیون نفر و تفاوت سهم دهک‌های پنجم و نهم ۱۰ درصد باشد:
 الف) شاخص دهک‌های ۲۰ درصد بالای جامعه به ۲۰ درصد پایین جامعه، کدام است؟
 ب) اگر سهم دهک پنجم از درآمد ملی معادل ۱۲ میلیارد دلار باشد، درآمد ملی جامعه چند میلیارد دلار است؟
 ج) مجموع جمعیت دهک‌های سوم و پنجم چند میلیون نفر است؟

- (۱) الف) ۸، ب) ۱۲۰، ج) ۲۴
 (۲) الف) ۸، ب) ۱۵۰، ج) ۲۴
 (۳) الف) ۱۱، ب) ۱۵۰، ج) ۲۰
 (۴) الف) ۱۱، ب) ۱۲۰، ج) ۲۰

۶۸- با توجه به اطلاعات ارائه شده در جدول زیر، به ترتیب از راست به چپ میزان نقدینگی و سپرده‌های پس‌انداز در این جامعه چند واحد پولی است؟

ارزش اسکناس‌ها	۷۰۰ واحد پولی
موجودی سپرده‌های مدت‌دار مردم	۲۵۰ واحد پولی
ارزش مسکوکات	$\frac{۳}{۴}$ ارزش اسکناس‌های موجود
مجموع ارزش سپرده‌های دیداری و غیردیداری	۲۱۰۰ واحد پولی
حساب‌های جاری مردم	۲۰۰ واحد پولی

- (۱) ۱۴۲۵ - ۱۶۵۰ (۲) ۳۳۲۵ - ۱۶۵۰ (۳) ۱۴۲۵ - ۱۵۶۰ (۴) ۳۳۲۵ - ۱۵۶۰

۶۹- کدام گزینه در خصوص منافع حاصل از تجارت بین‌الملل نادرست است؟

- (۱) منافع حاصل از تجارت بین‌الملل به کشورها کمک می‌کند که از تولیدات کشورهای دیگر بهره ببرند و کالاهای موردنیاز مردم خود را با قیمت ارزان‌تر و کیفیت بهتر از خارج تهیه کنند.
 (۲) افزایش و گسترش تجارت بین‌الملل موجب می‌شود کشورها تلاش کنند تا در صنایع و کالاهایی که مزیت نسبی دارند، متمرکز شوند.
 (۳) تخصص و تقسیم کار بین‌المللی موجب می‌شود که از منابع تولیدی کشورها حداکثر استفاده به عمل آید و در نتیجه، حجم تولیدات در جهان افزایش یابد و قیمت کالاها ارزان‌تر شود.
 (۴) یکی از منافع تجارت بین‌الملل برای تولیدکنندگان این است که می‌توانند ارز لازم برای پرداخت بهای کالاهای ضروری وارداتی را به‌دست آورند.

۷۰- با توجه به سازمان اکو، کدام گزینه بیانگر پاسخ صحیح پرسش‌های زیر است؟

الف) نام ابتدایی این سازمان چه بود و توسط چه کشورهایی پایه‌گذاری شد؟

ب) کدام کشورهای عضو این سازمان، در زمینه صنایع و تجهیزات نفتی از فناوری بالایی برخوردارند؟

ج) یکی از مهم‌ترین مشکلات اکو، ... است.

د) در ساختار کنونی سازمان اکو، ... در رأس قرار دارند، ... رکن بعدی سازمان است.

۱) الف) «آر سی دی» - ایران، پاکستان و ترکیه، ب) ازبکستان و قزاقستان، ج) اختلاف درجه توسعه در کشورهای منطقه، د) شورای

برنامه‌ریزی - شورای قائممقامان وزارت امور خارجه

۲) الف) «آی ام اف» - افغانستان، آذربایجان و ترکیه، ب) ترکیه و پاکستان، ج) عدم همکاری‌های سیاسی، د) شورای وزیران خارجه کشورهای

عضو - سازمان‌های تخصصی

۳) الف) «آی ام اف» - افغانستان، پاکستان و ایران، ب) ترکیه و ازبکستان، ج) نبود زنجیره‌های تولیدی افقی و عمودی بین بخش‌های تولیدی

کشورها، د) شورای وزیران خارجه کشورهای عضو - شورای قائممقامان وزارت امور خارجه

۴) الف) «آر سی دی» - ایران، پاکستان و ترکیه، ب) آذربایجان و ایران، ج) اختلاف سیاسی و تفاوت در ایدئولوژی حاکم بر کشورهای عضو، د)

شورای وزیران خارجه کشورهای عضو - شورای قائممقامان وزارت امور خارجه

۷۱- ترتیب ابیات زیر به لحاظ داشتن آرایه‌های «مجاز، تشخیص، تشبیه، استعاره مصرحه و کنایه» کدام است؟

الف) جهانی گرفتند پروردنش / برآمد به ناز و بزرگی تنش

ب) طاق محراب تو رشک قاب قوسین آمده / نور ماه قبهات یاقوت او ادنی شده

ج) زین دایره مینا خونین جگرم می ده / تا حل کنم این مشکل در ساغر مینایی

د) طایر گلشن قدسم چه دهم شرح فراق / که در این دامگه حادثه چون افتادم

ه) عافیت چشم مدار از من میخانه‌نشین / که دم از خدمت رندان زدهام تا هستم

۱) ه الف، ج، ب، د ۲) ه د، ج، ب، الف

۳) الف، ج، ب، ه د ۴) الف، ب، د، ج، ه

۷۲- آرایه‌های روبه‌روی همه بیت‌ها به جز بیت گزینۀ ... درست است.

۱) تو که ترک سر نگفتی ز پیش چگونه رفتی؟ / تو که نقد جان ندادی ز غمش چگونه رستی؟ (موازنه - جناس)

۲) گو مکن شور و مکن کوه به تلخی فرهاد / که رسیده است به کام از لب شیرین، خسرو (ایهام تناسب - جناس تام)

۳) من آن رنگین نوا مرغم که در هر گلشنی باشم / ز دست یکدگر گل‌ها ربایند آشیانم را (مراعات‌نظیر - حس آمیزی)

۴) ریشه نخل کهنسال از جوان افزون‌تر است / بیشتر دلبستگی باشد به دنیا پیر را (اسلوب معادله - تضاد)

۷۳- در بیت «هر بامداد، خورشید، از رشک خاک پایت / واخجلتاسرایان سر ز آسمان برآرد» کدام آرایه‌های ادبی دیده می‌شود؟

۱) استعاره - جناس - اغراق ۲) حسن تعلیل - کنایه - تشبیه

۳) ایهام - حسن تعلیل - استعاره ۴) تشخیص - مجاز - ایهام

۷۴- آرایه‌های مقابل کدام بیت تماماً صحیح است؟

- ۱) ساقی بده ز جام جم ارباب شوق را / آن می که در پیاله چو خون سیاوش است (تلمیح - ایهام)
- ۲) از لعل آبدار تو نعلم بر آتش است / زان رو دلم چو زلف سیاهت مشوش است (حسن تعلیل - کنایه)
- ۳) چون لعل آبدار تو از روی دلبری / آبی است عارض تو که در عین آتش است (تشبیه - تناقض)
- ۴) تا نقش بست روی تو را نقش‌بند صنع / در چشم من خیال جمالت منقش است (اشتقاق - تضاد)

۷۵- کدام بیت دارای «تلمیح» و «حس آمیزی» و فاقد «تشبیه» است؟

- ۱) من به تلخی جان شیرین می‌دهم فرهادوار / وز لب شیرین جانان آب شکر می‌رود
- ۲) از مغ‌بجگان می‌شنوم نکته توحید / و ارباب خرد معنی این نکته ندانند
- ۳) بر ماجرای خسرو و شیرین قلم کشید / شوری که در میان من است و میان دوست
- ۴) جان شیرین چو به تلخی به لب آرد فرهاد / گر چشاندش از آن پس شکر ناب چه سود؟

۷۶- آرایه‌های مقابل همه ابیات به‌استثنای بیت ... تماماً درست است.

- ۱) یا خم می، یا سبو، یا خشت، یا پیمانہ کن / بیش از این در پا میفکن خاکسار خویش را (مراعات نظیر - کنایه)
- ۲) گرچه در صومعه‌ها پیر شدم آخر کار / از دم پیر خرابات جوانم کردند (تضاد - ایهام)
- ۳) از نقش چپ و راست خبر نیست نگین را / نه کفر شناسد دل حیران و نه دین را (تشخیص - لف و نشر مرتب)
- ۴) جز عشق بتان نهی است در ملت مشتاقان / جز کیش مغان کفر است در مذهب دین‌داران (موازنه - تلمیح)

۷۷- واژه «مدام» در کدام بیت آرایه ایهام ندارد؟

- ۱) ما در پیاله عکس رخ یار دیده‌ایم / ای بی‌خیر ز لذت شرب مدام ما
- ۲) چشم تو اگر خون دلم ریخت عجب نیست / او را چه توان گفت که او مست مدام است
- ۳) وام جهان است تو را عمر تو / وام جهان بر تو نماند مدام
- ۴) با زلف و رخت مست مدامیم شب و روز / ای ماه وفایبیشه و ای شاه دل‌افروز

۷۸- در کدام بیت آرایه‌های «تشخیص - ایهام تناسب - استعاره - اغراق» وجود دارد؟

- ۱) چو چشمه خضر ار شعر من روان‌افزاست / عجب مدار که این عین آب حیوان است
- ۲) حدیث زلف و رخ دلکش تو خواهد بود / که بر صحیفه لیل و نهار خواهد ماند
- ۳) نه هر که تیغ زبان می‌کشد جهانگیر است / نه هر که لاف سخن می‌زند سخندان است
- ۴) چه سود نرگس سرمست را نصیحت بلبل / که هیچ فایده نبود اگر هزار بگوید

۷۹- موضوع چند اثر زیر نادرست آمده است؟

«گرشاسپ‌نامه (سرگذشت گرشاسپ نیای رستم)، زادالمسافرین (سفرنامه)، التفهیم (منطق و فلسفه)، رسایل (مجموعه سخنان و مناجات‌های لطیف عرفانی)، مجمع‌البیان (تفسیر قرآن)، حدائق‌السحر (عروض و نقد شعر)، حدیقة‌الحقیقه (منظومه‌ای عرفانی)، تحفة‌العراقین (سفرنامه)، راحة‌الصدور (تاریخ خاندان غزنوی)»

(۱) سه (۲) پنج (۳) چهار (۴) دو

۸۰- متن زیر درباره کدام شاعر است؟

«شعارش استوار و لطیف و تعبیراتش اصیل و کهن است و تحولاتی که زبان فارسی بر اثر مهاجرت به سرزمین‌های عراق عجم در روزگار او پیدا کرده، هنوز به شعر وی راه نیافته است. با وجود آن که شاعری حماسه‌سراست، حس دینی و علاقه به مبانی اسلام در شعر او بر همه چیز غلبه دارد.»

(۱) اسدی توسی (۲) دقیقی (۳) فردوسی (۴) عنصری

۸۱- کدام گزینه درباره «عصر رودکی یا دوره تغزل و خردآزمایی» درست است؟

(۱) شاعران این عصر برای یافتن تعبیر یا مفهوم تازه خود را به زحمت می‌انداختند.

(۲) در این دوره، هرات و نیشابور عمده‌ترین مراکز فرهنگی به شمار می‌آمدند.

(۳) شاعران برون‌گرا بودند و مفاهیم ذهنی آنان از تعالیم کلی اخلاقی در نمی‌گذشت.

(۴) قالب مسلط شعر این دوره غزل است با مضامین عشق و دلدادگی.

۸۲- پدیدآورندگان «نصیحة‌الملوک - رساله‌الطیر - خوان اخوان - تحفة‌العراقین» به ترتیب خالق آثار ... نیز هستند.

(۱) صاحبیه - روزی با جماعت صوفیان - زادالعارفین - عقل‌نامه

(۲) بوستان - تمهیدات - شادبهر و عین‌الحیات - الهی‌نامه

(۳) مجالس پنج‌گانه - لغت موران - جامع‌الحکمتین - منشآت

(۴) مکاتیب - فی‌حالة‌الطفولیه - زادالمسافرین - هشت بهشت

۸۳- چند مورد از آثار زیر مربوط به سبک سمبولیسم است؟

«جنایت در کوی غسالخانه - نظم و نثر - فصلی در دوزخ - گل‌های بدی - اشراق - مادام بوواری - در جست‌وجوی زمان از دست رفته -

آتورا - تیمور لنگ»

(۱) شش (۲) چهار (۳) پنج (۴) هفت

۸۴- سخن زیر از کیست و در کدام کتاب نوشته شده است؟

«عقل و منطق را دوست بدارید و پیوسته بزرگ‌ترین زینت و ارزش اثر خود را از آن کسب کنید.»

(۱) راسین، اِستر (۲) ارسطو، فن شعر

(۳) بوالو، فن شعر (۴) بوالو، مراسلات منظوم

۸۵- توضیح کدام یک از آثار «نیمایا» نادرست است؟

- ۱) منظومه خانواده یک سرباز را در مسیر کمال بخشیدن به ساخت بیرونی افسانه سرود. در این شعر، او به نوعی واقع‌گرایی ادبی و هنری و حتی گونه‌ای تفکر اجتماعی نزدیک می‌شود.
- ۲) افسانه، بیان سرگذشت بی‌دلی‌ها و ناکامی‌های خود شاعر است که به طرز لطیفی با سرنوشت جامعه و روزگار او پیوند خورده است.
- ۳) ققنوس همان شکل و بیان کاملاً تازه شعر فارسی است که هم از قید تساوی و قافیۀ سنتی آزاد است و هم تخیل و شکل ارائه آن با آنچه در شعر گذشته فارسی بود، به کلی تفاوت دارد.
- ۴) نیمای منظومه‌های مرغ غم، خواب زمستانی، مرغ آمین و آب در خوابگاه مورچگان را در قالب نو نیمایی سروده و در عین حال، صورت تمثیلی را در آن‌ها حفظ کرده است.

۸۶- خالقان آثار زیر، به ترتیب پدیدآورندگان آثار ... نیز هستند.

«پرنده منزوی، تاریخ احزاب سیاسی، فنون شعر و کالبدهای پولادین آن، روش تحقیق در دستور زبان فارسی»

- ۱) دو مرغ بهشتی، شکوفه‌ها، زمزمۀ بهشت، پالیزبان
- ۲) خروس و بوقلمون، امثال و حکم، تاریخ تطور نظم فارسی، بز ملاحسن مسئله‌گو
- ۳) عمو رجب، تصحیح مجمل‌التواریخ، اشک معشوق، شراب خانگی
- ۴) جغد جنگ، تصحیح دیوان سلمان ساوجی، تیرانا، طلسم شکسته

۸۷- عبارات زیر به ترتیب بیانگر ویژگی کدام شاعران هستند؟

- «از شاعران سنت‌گرای عصر نیما که در قصیده پیرو ناصر خسرو بود اما روانی و سادگی اسلوب سعدی نیز در قصاید او نمایان است.» - «از قصیده‌سرایان عصر صبا که کتابی به تقلید از گلستان سعدی دارد.» - «شاعری عارف که از آثار منثورش نکات و مراسلات معروف است.» - «شاعری در قرن هشتم که غزلیاتش را در جواب سعدی و قصایدش را در مورد مسائل اخلاقی و اجتماعی سروده است.»

- ۱) حمیدی شیرازی - قآنی - صائب تبریزی - سیف فرغانی
- ۲) پروین اعتصامی - قآنی - بیدل دهلوی - سیف فرغانی
- ۳) حمیدی شیرازی - نشاط اصفهانی - صائب تبریزی - ابن یمین
- ۴) پروین اعتصامی - نشاط اصفهانی - بیدل دهلوی - ابن یمین

۸۸- کدام گزینه، درباره شعر سید اشرف‌الدین حسینی (نسیم شمال) غلط است؟

- ۱) شعر او فریاد انسانی آگاه و سختی‌کشیده از زمانه‌ای است که در آن جهل و خودکامگی مجالی برای اندیشه سالم باقی نگذاشته است.
- ۲) ویژگی عمده شعر او، گذشته از سادگی و صمیمیت زبانی، مضمون و محتوای آن است که از عمق وجود مردم مایه می‌گرفت.
- ۳) اشعار او به زبان کوچه و بازار است و می‌توان آن را از لحاظ انسجام ادبی، فنی و جوهر شعری بلندپایه ارزیابی کرد.
- ۴) شعر او حاوی قصه‌های شیرین، لطیفه‌ها و نکته‌سنجی‌هایی است که به روح و جان مردم آن عصر نزدیک است.

۸۹- کدام گزینه درباره مکتب «سوررئالیسم» نادرست است؟

- ۱) میدان‌های مغناطیسی نخستین کتاب این مکتب بود که به قلم آندره برتون و یکی از همکارانش منتشر شد.
- ۲) واژه سوررئالیسم را نخستین بار گیوم آپولینر برای نامیدن یکی از نمایش‌نامه‌هایش به کار برد.
- ۳) آندره برتون که از مؤسسان مکتب سوررئالیسم است، در ضعف مکتب دادا می‌گوید: مرام‌نامه سال ۱۹۱۸ دادا مانند دروازه‌ای است که به دلانی حلقوی باز می‌شود.
- ۴) لویی آراگون ابتدا از هواخواهان دادائیسم بود و بعدها با کتاب شاعر در نیویورک به سوررئالیسم روی آورد.

۹۰- سرایندگان اشعار «اللاجئه زن آواره» و «آوارگان عرب» به ترتیب چه کسانی هستند؟

(۱) محمود درویش - نزار قبانی

(۲) جبرا ابراهیم جبرا - نازک الملائکه

(۳) کامل سلیمان - عبدالوهاب البیاتی

(۴) جبرا ابراهیم جبرا - عبدالوهاب البیاتی

۹۱- به ترتیب چه دورانی سرآغاز توجه و حمایت رسمی و حکومتی از زبان و ادب فارسی بود، در زمان کدام خلیفه عباسی بیت‌الحکمه به وجود آمد و محراب الجایتو در کدام مسجد ساخته شده است؟

(۱) طاهریان - هارون الرشید - مسجد جامع یزد

(۲) صفاریان - مأمون - مسجد جامع اصفهان

(۳) صفاریان - هارون الرشید - مسجد جامع تبریز

(۴) طاهریان - مأمون - مسجد جامع یزد

۹۲- سپاه غزنوی در جنگ ... ، از سپاه سلجوقی به فرماندهی ... شکست خوردند و سپاه مغول در نبرد ... از ... به سختی شکست خوردند.

(۱) دندانقان - ملکشاه - عین جالوت - فاطمیان مصر

(۲) ملازگرد - ملکشاه - ملازگرد - مملوکان مصر

(۳) دندانقان - طغرل - عین جالوت - مملوکان مصر

(۴) ملازگرد - طغرل - ملازگرد - اسماعیلیان مصر

۹۳- به دنبال کدام جنایت هولناک، رئیس‌جمهور آمریکا به صراحت از رژیم شاه حمایت کرد و با کدام حادثه، تهران به یک شهر نظامی مبدل شد؟

(۱) حماسه ماه محرم - برقراری حکومت نظامی در اصفهان

(۲) حماسه ماه محرم - حمله گارد شاهنشاهی به افراد نیروی هوایی

(۳) واقعه ۱۷ شهریور - برقراری حکومت نظامی در اصفهان

(۴) واقعه ۱۷ شهریور - حمله گارد شاهنشاهی به افراد نیروی هوایی

۹۴- در هر یک از تاریخ‌های ذکر شده، کدام واقعه رخ داده است؟ (به ترتیب)

«سال سیزدهم بعثت - سال هشتم هجرت - سال ۶۱ ه. ق.»

(۱) پیمان عقبه دوم - صلح حدیبیه - شهادت امام علی (ع)

(۲) پیمان عقبه اول - فتح مکه - شهادت امام حسین (ع)

(۳) پیمان عقبه دوم - فتح مکه - شهادت امام حسین (ع)

(۴) پیمان عقبه اول - صلح حدیبیه - شهادت امام علی (ع)

۹۵- خلافت ... آغاز دوره‌ای است که ترکان بر دستگاه خلافت عباسی غلبه یافتند و ... با تکیه بر پشتیبانی موالی بر حجاج بن یوسف ثقفی، حاکم ستمگر و سفاک عراق شورش کرد و آل‌بویه نسب خود را به ... می‌رساندند.

(۱) متوکل - عبدالرحمان بن اشعث - بهرام چوبین

(۲) معتصم - مختار ثقفی - بهرام چوبین

(۳) متوکل - مختار ثقفی - بهرام گور

(۴) معتصم - عبدالرحمان بن اشعث - بهرام گور

۹۶- کدام حکومت جنگ‌های صلیبی را با پیروزی مسلمانان و با تصرف پایگاه‌های صلیبی‌ها به پایان برد؟

(۱) مملوکان مصر و شام

(۲) فاطمیان در مصر و فلسطین

(۳) ایوبیان در مصر و شام

(۴) سلجوقیان در شام و ایران

۹۷- کدام مورد از مهم‌ترین نتایج قیام پانزده خرداد ۱۳۴۲ بود؟

(۱) لغو تصویب‌نامه انجمن‌های ایالتی و ولایتی

(۲) کناره‌گیری علی‌امینی از نخست‌وزیری

(۳) لغو همه‌پرسی اصول شش‌گانه

(۴) کم‌رنگ شدن جاذبه گروه‌های سیاسی

۹۸- وقایع زیر به ترتیب مربوط به کدام‌یک از پادشاهان قاجار است؟

(الف) آیت‌الله طباطبایی چندین بار به وی نامه نوشت و رفتار مستبدانه عین‌الدوله را به وی یادآور شد.

(ب) وی با رسیدن به سلطنت راه مخالفت با مشروطه‌خواهان را در پیش گرفت و دو سال بعد از استقرار مشروطیت، برنامه از بین بردن مجلس را به اجرا درآورد.

(پ) فاتحان تهران وی را با وجود این‌که به سن بلوغ هم نرسیده بود به سلطنت منصوب کردند.

(ت) در جریان کودتای سیاه، آبرون ساید به وی چنین القا کرده بود که حرکت نظامی به سمت تهران، در جهت حفظ کشور و سلطنت ضروری است.

(۱) ناصرالدین شاه - مظفرالدین شاه - محمدعلی شاه - احمد شاه

(۲) ناصرالدین شاه - مظفرالدین شاه - احمد شاه - رضاخان

(۳) مظفرالدین شاه - محمدعلی شاه - احمد شاه - احمد شاه

(۴) مظفرالدین شاه - محمدعلی شاه - محمدعلی شاه - رضاخان

۹۹- کدام گزینه نادرست است؟

- ۱) در دوران جنگ جهانی دوم، در اثر کمبود و کیفیت نامطلوب نان، آشوب‌های بزرگی در نقاط مختلف کشور به پا شد.
 - ۲) انگلیسی‌ها برای تسلط بیش‌تر بر ذخایر نفت ایران و رقابت با آمریکا و شوروی، قرارداد گس - گلشائیان را با دولت قوام به امضا رسانیدند.
 - ۳) انگلیسی‌ها برای ممانعت از ملی شدن نفت در ایران دو شعبه بانک انگلیس را در ایران تعطیل کردند.
 - ۴) قیام ۳۰ تیر ۱۳۳۱ با حکم آیت‌الله کاشانی و به منظور مخالفت با نخست‌وزیری قوام برپا شد.
- ۱۰۰- ... به طرح خلع قاجاریه از سلطنت در سال ۱۳۰۴ ش. رأی منفی داد و رضا شاه در راستای نوسازی ارتش در سال ... ش. قانون نظام وظیفه عمومی را به تصویب رساند.

- | | |
|----------------------------|----------------------------|
| ۱) یحیی دولت‌آبادی - ۱۳۰۸ | ۲) تقی رفعت - ۱۳۰۸ |
| ۳) محمود دولت‌آبادی - ۱۳۰۴ | ۴) سیدحسین تقی‌زاده - ۱۳۰۴ |

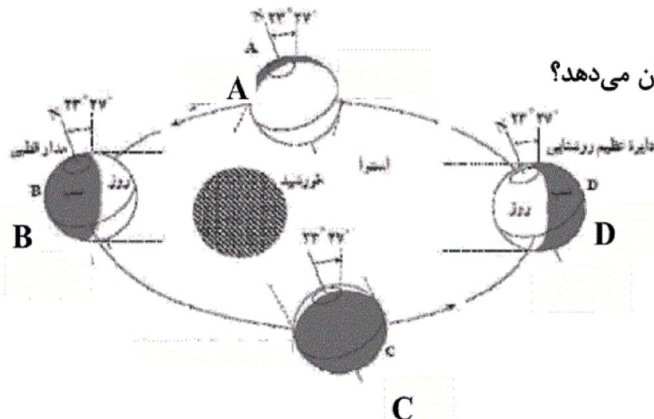
۱۰۱- کدام گزینه در ارتباط با فلات ایران صحیح نیست؟

- ۱) غرب فلات ایران را رشته‌کوه زاگرس و شرق آن را رشته‌کوه سلیمان محدود کرده‌اند.
- ۲) فلات ایران سرزمین بلند و کوهستانی است که علاوه بر ایران، پاکستان و بخشی از افغانستان را دربرگرفته است.
- ۳) ضلع شمالی فلات ایران از ترکیه شروع و تا کوه‌های هندوکش در شمال شرق فلات امتداد دارد.
- ۴) جلگه سند و پنجاب در شرق فلات ایران قرار دارد.

۱۰۲- جلگه چیست و جلگه‌های ساحلی به کدام دلیل شکل می‌گیرند؟

- ۱) سرزمین نسبتاً همواری که حصاری کوهستانی آن را فرا گرفته و ممکن است یک یا چند رود به آن وارد شوند. - رودهای فصلی و پر آب و رطوبت زیاد
- ۲) سرزمین‌های پست و همواری که از یک طرف به کوه‌ها و از طرف دیگر به دریاها و دریاچه‌ها منتهی می‌شوند. - رودهای فصلی و پر آب و رطوبت زیاد
- ۳) سرزمین‌های پست و همواری که از یک طرف به کوه‌ها و از طرف دیگر به دریاها و دریاچه‌ها منتهی می‌شوند. - رسوب‌گذاری رودخانه‌هایی که به دریا منتهی می‌شود.
- ۴) سرزمین نسبتاً همواری که حصاری کوهستانی آن را فرا گرفته و ممکن است یک یا چند رود به آن وارد شوند. - رسوب‌گذاری رودخانه‌هایی که به دریا منتهی می‌شود.

۱۰۳- در شکل داده شده، نقطه D، چه زمانی از سال در نیم‌کره شمالی را نشان می‌دهد؟



- ۱) اول تیر
- ۲) اول دی
- ۳) اول مهر
- ۴) اول فروردین

۱۰۴- چه عواملی پس از انقلاب صنعتی موجب گردید جمعیت جهان چند برابر شود؟

(۱) پیشرفت چشمگیر پزشکی و بهداشت - پیشرفت امکانات حمل و نقل و ارتباطات

(۲) افزایش سطح دانش و آگاهی مردم - بالا رفتن نرخ زاد و ولد بین مردم

(۳) توسعه ابزار و آلات و شیوه‌های کشاورزی - کاهش نرخ مرگ و میر کودکان

(۴) سیل مهاجرت روستائیان به شهرها - بالا رفتن نرخ زاد و ولد بین مردم

۱۰۵- به ترتیب هر یک از موارد زیر مربوط به چه نوعی از مهاجرت هستند؟

«مهاجرت فلسطینی‌ها به اردن و لبنان - مهاجرت ترک‌ها به آلمان - مهاجرت ایل بختیاری به قشلاق خوزستان - مهاجرت مردم از حومه‌ها

به شهرهای بزرگ»

(۱) اختیاری خارجی - اجباری خارجی - فصلی - روزانه

(۲) اجباری خارجی - اجباری خارجی - فصلی - روزانه

(۳) اختیاری خارجی - اجباری خارجی - فصلی - روزانه

(۴) اجباری خارجی - اجباری خارجی - فصلی - روزانه

۱۰۶- مناطق مقابل فعالیت‌های زیر در چند مورد نادرست معرفی شده است؟

«پلانتیشن: نواحی جنوبی ایالات متحده آمریکا / کشت و صنعت: روسیه / گله‌داری شبانی: اندونزی / کشت برنج غرقابی: فیلیپین / دامداری

تجاری: آفریقای جنوبی / کشت نوبتی: عربستان»

(۴) چهار

(۳) سه

(۲) دو

(۱) یک

۱۰۷- کارشناسان توسعه معتقدند که:

سایت کنکور

(۱) توسعه پایدار به تأمین نیازهای مادی انسان امروز می‌اندیشد.

Konkur.in

(۲) بسیاری از پدیده‌هایی که در امر توسعه تأثیر می‌گذارند جهانی هستند.

(۳) محاسبه درآمد سرانه مردم کشورها، تنها شاخص، برای محاسبه میزان توسعه است.

(۴) در تهیه نقشه جهان‌نما، وسعت کشورها براساس میزان تولید ناخالص ملی در نظر گرفته می‌شود.

۱۰۸- برونی، پاکستان و ونزوئلا به ترتیب از اعضای کدام سازمان یا پیمان اقتصادی هستند؟

(۲) آ.سه.آن - اکو - اوپک

(۱) آ.سه.آن - اوپک - اوپک

(۴) اکو - آ.سه.آن - اکو

(۳) اوپک - آ.سه.آن - اکو

۱۰۹- محل جابه‌جایی «ایل‌سون‌ها» و محل ییلاق «ایلات بختیاری» به ترتیب کدام است و کدام مورد از عوامل مؤثر در شکل‌گیری شهرها

نمی‌باشد؟

(۱) جلگه خوزستان، زاگرس شمال غرب - عامل دفاعی

(۲) جلگه خوزستان، اطراف شهرکرد - منابع انرژی

(۳) جلگه مغان، زاگرس شمال غرب - عامل دفاعی

(۴) جلگه مغان، اطراف شهرکرد - منابع انرژی

۱۱۰- کدام گزینه درباره نواحی عمده گردشگری در جهان صحیح است؟

(۱) آسیا و حوزه دریای خلیج فارس و خاورمیانه، یکی از مهم‌ترین قطب‌های گردشگری در جهان است و آب و هوا یکی از مهم‌ترین عوامل

جذب گردشگری تفریحی در این ناحیه است.

(۲) میزان گردشگران وارد شده و خارج شده در کشور فرانسه و انگلستان برابر است.

(۳) قصر دالایی لاما، دیوار چین و قصر الحمرا از جاذبه‌های گردشگری آسیا به شمار می‌روند.

(۴) مرکز فضایی کندی، آکواریوم مداری، پارک گلف استریم و جزایر مرجانی از جاذبه‌های توریستی در فلوریدای آمریکا به شمار می‌روند.

۱۱۱- کدام عبارت، از راه‌های ایجاد جامعه‌پذیری و کنترل اجتماعی است و براساس دیدگاه پوزیتیویستی، کدام مورد علم محسوب نمی‌شود؟

(۱) آموزش و پرورش و تشویق و تنبیه بدون الزام به تحقق هنجارها - یافته‌هایی که از راه حس و تجربه به دست نیامده باشد.

(۲) تحقق هنجارها از طریق کنش‌های اجتماعی انسان‌ها - دانش پیشینیان به دلیل اتکا به عقل و شهود.

(۳) تحقق ارزش‌ها و هنجارها از طریق تعلیم و تربیت و تشویق و تنبیه - دانش اجتماعی پیشینیان به دلیل عدم استفاده از حس و تجربه.

(۴) تحقق ارزش‌ها و هنجارها از طریق تعلیم و تربیت و تشویق و تنبیه - یافته‌های مبتنی بر استدلال‌های تجربی.

۱۱۲- جایگاه پدیده‌های اجتماعی زیر بر روی دو پیوستار خرد و کلان - ذهنی و عینی چگونه است؟

«روستا - هدیه دادن برای روز تولد یک دوست - عدالت اجتماعی»

(۱) کلان و محسوس - متوسط و محسوس - نامحسوس و خرد

(۲) خرد و عینی - خرد و محسوس - ذهنی و کلان

(۳) خرد و ذهنی - خرد و ذهنی - عینی و کلان

(۴) کلان و نامحسوس - خرد و ذهنی - محسوس و کلان

۱۱۳- کدام یک از گزینه‌های زیر به ترتیب به عقاید و ارزش‌های نظام تعلیم و تربیت اشاره می‌کند؟

(۱) دانایی از نادانی بهتر است. - انسان تربیت‌پذیر است.

(۲) انسان تربیت‌پذیر است. - برای دانا شدن باید به مدرسه رفت.

(۳) برای دانا شدن باید به مدرسه رفت. - دانایی از نادانی بهتر است.

(۴) انسان تربیت‌پذیر است. - دانایی از نادانی بهتر است.

۱۱۴- به ترتیب هریک از عبارات زیر به کدام یک از ویژگی‌های جهان متجدد از نظر «وبر» اشاره می‌کند؟

- جهانی که ما در آن زندگی می‌کنیم، از مواد و موجودات خامی ساخته شده است که همه در اختیار و کنترل بشرند.
- نظام اجتماعی برنامه‌ریزی شده‌ای که همه ابعاد وجود انسان‌ها را احاطه می‌کند.
- در جهان متجدد، متافیزیک و علومی که داوری ارزشی می‌کنند، از بین می‌رود.
- در این جهان، آدمیان متوجه اهداف دنیوی‌اند و برای رسیدن به این هدف‌ها از علوم تجربی استفاده می‌کنند.

(۱) رویکرد دنیوی و این جهانی - افسون‌زدایی - بسط و توسعه عقلانیت ابزاری - زوال عقلانیت ذاتی

(۲) قفس آهنین - افسون‌زدایی - زوال عقلانیت ذاتی - بسط و توسعه عقلانیت ابزاری

(۳) افسون‌زدایی - قفس آهنین - زوال عقلانیت ذاتی - غلبه کنش‌های عقلانی معطوف به هدف

(۴) غلبه کنش‌های عقلانی معطوف به هدف - قفس آهنین - افسون‌زدایی - زوال عقلانیت ذاتی

۱۱۵- هریک از عبارات زیر، به ترتیب با کدام ویژگی کنش انسانی مرتبط است؟

- ناتوانی کودکان در حرف زدن

- تصمیم به انجام کاری با وجود آگاهی به غلط بودن آن کار

- چگونگی برخورد یک فرد با دوست خود

- بلندشدن دانش‌آموزان در هنگام ورود معلم به کلاس

(۱) آگاهانه بودن - ارادی بودن - هدف‌دار بودن - تناسب داشتن با موقعیت‌های مکانی و اجتماعی

(۲) آگاهانه بودن - هدف‌دار بودن - تناسب داشتن با موقعیت‌های مکانی و اجتماعی - معنادار بودن

(۳) ارادی بودن - هدف‌دار بودن - معنادار بودن - معنادار بودن

(۴) آگاهانه بودن - ارادی بودن - تناسب داشتن با موقعیت‌های مکانی و اجتماعی - معنادار بودن

۱۱۶- دلیل تفاوت شیوه‌های زندگی جوامع مختلف کدام است و استخدام فرزند یک کارمند در بخش خدمت‌آداره آن کارمند چه نوع تحرکی است؟

(۱) فرهنگ آگاهی و شناخت مشترک است. - تحرک افقی میان‌نسلی

(۲) فرهنگ پدیده‌ای آموختنی است. - تحرک نزولی میان‌نسلی

(۳) جامعه بدون فرهنگ وجود ندارد. - تحرک افقی درون‌نسلی

(۴) فرهنگ در حکم جان و روح است. - تحرک نزولی درون‌نسلی

۱۱۷- در رابطه با جامعه و فرهنگ، کدام گزینه درست نیست؟

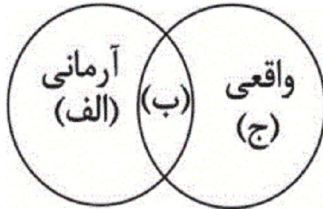
(۱) فرهنگ آگاهی و شناخت مشترک در جوامع مختلف است.

(۲) نگرش به عالم و آدم از مصادیق فرهنگ است.

(۳) جامعه گروهی از انسان‌ها با فرهنگ مشترک است.

(۴) جامعه و فرهنگ را به جسم و جان یک موجود زنده می‌توان تشبیه کرد.

۱۱۸- هر کدام از موارد زیر در کدام قسمت نمودار قرار می‌گیرد؟ (به ترتیب)



- ناپسندبودن اسراف

- استکبارستیزی

- تکاثر

(۱) الف - ب - ب

(۲) ب - ب - ج

(۳) ج - الف - ج

(۴) الف - ب - ج

۱۱۹- باطل بر اساس ... شکل گرفته‌است و حق از نظر ... صحیح است و مطابق ... است.

(۱) خرافات - عقلی - احساس انسان

(۲) ظلم - علمی - عقل انسان

(۳) خرافات - علمی - فطرت انسان

(۴) ظلم - عقلی - عقل انسان

۱۲۰- کدام گزینه به ترتیب در رابطه با ویژگی‌های هویتی «پزشک وقت‌شناس - متولد ماه مهر - فرزند دوم خانواده» درست است؟

(۱) انتسابی متغیر اجتماعی - اکتسابی ثابت اجتماعی - اکتسابی اجتماعی ثابت

(۲) اکتسابی متغیر اجتماعی - انتسابی ثابت فردی - انتسابی اجتماعی ثابت

(۳) انتسابی ثابت فردی - اکتسابی متغیر اجتماعی - اکتسابی فردی ثابت

(۴) اکتسابی ثابت فردی - انتسابی متغیر فردی - انتسابی فردی ثابت

۱۲۱- از آن جا که وجود ما آمیخته‌ای از روح و جسم است و جسم ما کارکرد طبیعی خود را دارد؛ پس تفکر ...

(۱) که جنبه روحانی دارد از همان قوانین طبیعی تبعیت می‌کند.

(۲) که جنبه روحانی دارد بر اساس قوانین خاص فعالیت می‌کند.

(۳) که مهم‌ترین فعالیت روح است، امری ارادی است.

(۴) که مهم‌ترین فعالیت روح است، ضوابطی دارد که می‌توان در آن تصرف نمود.

۱۲۲- در تعریف «انسان» به «مهندس نقاش» کدام یک از شرایط تعریف رعایت شده است؟

الف) روشن تر بون معرف از معرف

ب) مرتبط بودن مفاهیم به کار رفته در معرف با معرف

ج) جامع و مانع بودن تعریف

د) استفاده از حداقل یک مفهوم درونی در تعریف

(۴) الف و ب

(۳) ج و د

(۲) الف و د

(۱) ب و ج

۱۲۳- جامع و مانع بودن تعریف به این معنا است که ...

(۱) معرف با معرف در مفهوم و تصور مساوی هستند.

(۲) معرف با معرف در افراد و مصادیق مساوی هستند.

(۳) معرف با معرف در مفهوم و تصور مابین هستند.

(۴) معرف با معرف در افراد و مصادیق مابین هستند.

۱۲۴- وجود ذاتی برای ذات علت نمی‌خواهد، به این معناست که ...

(۱) به محض تحقق ذات، ذاتی تحقق نمی‌یابد.

(۲) ذات و ذاتی بی‌نیاز از علت هستند.

(۳) ذات علت دارد و ذاتی علت ندارد.

(۴) ذاتی نیاز به علتی جدای از ذات ندارد.

۱۲۵- اگر نسبت بین دو کلی ... باشد، در میان قضایای سازنده آن، حکم ... به چشم می‌خورد؛ مثل ...

(۱) عموم و خصوص مطلق - عکس مستوی - هر حیوانی ناطق است ← بعضی ناطق‌ها حیوان نیستند.

(۲) تباین - تناقض - هیچ گاو علفخوار نیست ← هیچ علفخواری گاو نیست.

(۳) عموم و خصوص مطلق - تداخل تحت تضاد - برخی انسان‌ها مهندس هستند ← برخی انسان‌ها مهندس نیستند.

(۴) عموم و خصوص من‌وجه - تداخل - برخی مارها سیاه هستند ← برخی سیاه‌ها مار هستند.

۱۲۶- صفتی که گربه را گربه کرده ... است که ... گربه است که او را از سایر حیوانات جدا ساخته و به حکم ... می‌فهمیم که چنین حقیقتی در

گربه هست و خود گربه ... است که مجموعه ... است.

(۱) فصل - اختصاصی عرضی - عقل - نوع - جنس و فصل

(۲) عرضی خاص - اختصاصی عرضی - تجربه - جسم - جوهر و نامی

(۳) فصل - اختصاصی ذاتی - عقل - نوع - جنس و فصل

(۴) عرضی خاص - اختصاصی ذاتی - تجربه - جسم - جوهر و نامی

۱۲۷- هرگاه «شیرینی» را تحلیل منطقی کنیم، جنس قریب و جنس عالی آن به ترتیب ... و ... بوده که چون شیرین‌مزه است، جنس الاجناس آن ... نیست.

(۱) کیفیت چشیدنی - جوهر - کیف

(۲) کمیت چشیدنی - کمیت - جوهر

(۳) کیفیت چشیدنی - کیف - جوهر

(۴) کمیت چشیدنی - جوهر - کمیت

۱۲۸- کدام مورد درباره اثبات ضروب قیاس اقترانی درست نیست؟

(۱) ضرب اول شکل دوم از راه برهان خلف قابل اثبات است.

(۲) در روش برهان خلف، ابتدا باید فرض کنیم، نقیض نتیجه درست است.

(۳) در روش عکس با فرض درست بودن دو مقدمه، استدلال را با عکس نتیجه آغاز می‌کنیم.

(۴) اساس در روش عکس، استفاده از عکس مستوی یا عکس نقیض برای اثبات ضروب منتج شکل دوم و سوم است.

۱۲۹- درباره اثبات ضروب شکل‌های مختلف قیاس اقترانی، کدام گزینه نادرست است؟

(۱) در اثبات ضروب منتج می‌توان از عکس مستوی صغرا یا کبرا استفاده کرد.

(۲) در اثبات ضروب منتج، روش برهان خلف کاربرد فراوانی دارد.

(۳) در اثبات ضروب منتج می‌توان از روش برهان خلف یا عکس مستوی استفاده کرد.

(۴) در اثبات ضروب منتج به روش برهان خلف می‌توان از نقیض کبرا یا صغرا استفاده کرد.

۱۳۰- جمله‌های «تور سفید با عبور از منشور به هفت رنگ تجزیه می‌شود.» و «مال از بهر آسایش عمر است / نه عمر از بهر گرد آمدن مال»

به ترتیب از چه راهی به دست آمده‌اند و در کدام صنعت کاربرد دارند؟

- (۱) احساس - قوه خیال - برهان - شعر
(۲) احساس - مقبولات - خطابه - جدل
(۳) تجربه - قوه خیال - خطابه - شعر
(۴) تجربه - مقبولات - برهان - جدل

۱۳۱- نقطه اشتراک شرطی منفصل حقیقی به ترتیب با مانعة الجمع و مانعة الرفع چیست؟

- (۱) غلط بودن هر دو طرف محال است. - یکی درست و دیگری غلط است.
(۲) غلط بودن هر دو طرف محال است. - درست بودن هر دو طرف محال است.
(۳) درست بودن هر دو طرف محال است. - غلط بودن هر دو طرف محال است.
(۴) درست بودن هر دو طرف محال است. - هر دو طرف غلط هستند.

۱۳۲- اگر از این قضیه که «برخی انسان‌ها بی سواد هستند» نتیجه بگیریم که «همه باسوادها انسان‌اند»، درباره این نتیجه‌گیری کدام عبارت درست است؟

- (۱) استدلالی است که حد وسط ندارد.
(۲) اساس آن مشاهده است.
(۳) نوعی ایهام انعکاس است.
(۴) استنتاج بی‌واسطه معتبر است.

۱۳۳- کدام عبارت در بیان مبارزه سقراط با سوفسطائیان مناسب‌تر است؟

- (۱) سقراط با شیوه پیامبرگونه و همراه با کرامت روحی خود به ترویج فلسفه پرداخت.
(۲) خود را مأموری از جانب خداوند می‌دانست که باید اذهان مردم را بیدار سازد.
(۳) در تمام عمر جوینده حقیقت بود و تا دم مرگ از آن دست برنداشت.
(۴) انسان‌ها را به تأمل در خویشتن دعوت کرد تا با روش درست بیندیشند و به حقیقت دست یابند.

۱۳۴- کدام عبارت با نظرات سقراط ناسازگار است؟

- (۱) گریختن او از زندان به منزله پذیرفتن اتهاماتش می‌باشد.
(۲) اولین مرحله برای انجام هر کار، تشخیص درستی یا نادرستی آن است.
(۳) علت این که مردم از مرگ می‌ترسند آن است که دچار داناپنداری شده‌اند.
(۴) کسانی که ادعای دانایی ندارند خردمندتر از کسانی هستند که به دانایی مشهورند.

۱۳۵- در مقایسه نظریات شناخت‌شناسی سوفسطائیان و افلاطون کدام عبارت درست نیست؟

- (۱) در نظر سوفسطائیان هیچ معیار ثابتی در شناخت وجود ندارد.
(۲) از نظر سوفسطائیان شناخت حقیقی همان ادراک حسی است.
(۳) از نظر افلاطون ادراک حسی فاقد اعتبار است و هیچ ارزشی در شناخت ندارد.
(۴) از نظر افلاطون عقل ابزار شناخت و مُثُل یا موجودات ماوراءطبیعی متعلق به شناخت حقیقی‌اند.

۱۳۶- منظور اصلی افلاطون از ارائه «تمثیل غار»، بیان کدام مطلب است؟

- (۱) نحوه سیر عقل به سوی حقیقت
(۲) دلایل ناپایداری موجودات طبیعت
(۳) نهایت بی‌اعتباری ادراکات حسی
(۴) دلایل نارسایی ادراکات حسی

۱۳۷- از نظر افلاطون طبیعت پیوسته ... و موجودات آن به منزله ... بوده و از نظر ارسطو طبیعت در یک کلام در حال ... است و این معنای از

طبیعت را نباید با ... به منزله مبدأ حرکت و سکون در اشیاء اشتباه گرفت و علتی که کار برای آن انجام می‌شود همان ... است که جزو ... به حساب می‌آید.

- (۱) در حال تغییر و تحول است - مُثُل یا ایده‌ها - بودن - طبیعت شیء - علت غایی - علل بیرونی
(۲) در حال ثبات و سکون است - سایه‌های مُثُل - شدن - عالم ماده - علت فاعلی - علل درونی
(۳) در حال تغییر و تحول است - سایه‌های مُثُل - شدن - طبیعت شیء - علت غایی - علل بیرونی
(۴) در حال ثبات و سکون است - مُثُل یا ایده‌ها - بودن - عالم ماده - علت فاعلی - علل درونی

۱۳۸- بر اساس سخن بهمنیاربن مرزبان در توضیح نظریه علت‌های چهارگانه، به‌ترتیب درباره «بدو چیزی به فعل آید» و «جزئی بود از وجود» کدام گزینه صحیح است؟

- (۱) ماهیت و نوع است. - علت فاعلی و مادی و بیرونی است. (۲) شدنی و نسبی است. - علت مادی و جنس است.
(۳) علت فاعلی است. - نسبی و درونی است. (۴) درونی و بودنی است. - علت صوری و مادی است.

۱۳۹- کدام گزینه بیانگر علت صوری شیء در هر مرتبه از حرکت و سکون شیء است؟

- (۱) نوع و ماهیت شیء به عنوان جنسی که پدیده به خود گرفته است.
(۲) کارکرد و وظیفه‌ای که از شیء در مرتبه خودش انتظار می‌رود.
(۳) میل درونی شیء به عنوان یک عامل بیرونی و محرک اول شیء.
(۴) طبیعت و ذات شیء به عنوان سازگار کننده شیء با عالم طبیعت مادی.

۱۴۰- با توجه به نظریه علل اربعه، نمی‌توان گفت ماده شیء ...

- (۱) در واقعیت، از صورت آن قابل تفکیک نیست. (۲) در هر مرحله از مراحل تغییر، صورتی خاص دارد.
(۳) در ضمن تغییرات طبیعی، تبدیل به ماده دیگری می‌شود. (۴) استعداد آن برای تبدیل به حالت‌های گوناگون است.

۱۴۱- کدام گزینه در مورد فرآیند استقرا - قیاس نادرست است؟

- (۱) بررسی دقیق‌تر اطلاعات به‌دست‌آمده در فرآیند استقرا از طریق آزمایش انجام می‌شود.
(۲) اگر تمامی مراحل فرآیند استقرا با دقت انجام شود، از طریق نتیجه به‌دست‌آمده می‌توان فرضیه را مطرح کرد.
(۳) داده‌های تأییدکننده فرضیه در فرآیند قیاس، از طریق جمع‌آوری اطلاعات و آزمایش و بررسی ارائه می‌شوند.
(۴) در فرآیند قیاس، تجدیدنظر در نظریه یا ارائه نظریه جدید، بعد از جمع‌آوری شواهد تجربی کافی امکان‌پذیر است.

۱۴۲- کدامیک از دستاوردهای زیر با رویکرد مطرح شده در مقابل آن هماهنگی دارد؟

- (۱) مقدار از بین برده شده بافت مغز در ایجاد رفتار نقش مهمی دارد ← رویکرد رفتاری
(۲) دلبستگی مادر - فرزند چیزی فراتر از نیاز به غذاست ← رویکرد روان‌کاوی
(۳) آموزش توانایی مهار فرآیندهای جسمانی خودکار و غیرارادی ← رویکرد زیست‌شناختی
(۴) لزوم توجه به درک دنیای درونی فرد در مشاوره مراجع محور ← رویکرد شناختی

۱۴۳- هر کدام از روان‌شناسان زیر، به‌ترتیب در کدامیک از حوزه‌های روان‌شناسی می‌توانند مشغول به فعالیت شوند؟

«مشاور شغلی - مدیر روابط عمومی - دستیار آماری - دستیار بهداشت روانی - تبلیغات»

- (۱) تحقیق - تجارت - تحقیق - خدمات اجتماعی و انسانی - تحقیق
(۲) خدمات اجتماعی و انسانی - خدمات اجتماعی و انسانی - تجارت - تحقیق - تجارت
(۳) خدمات اجتماعی و انسانی - تحقیق - تجارت - خدمات اجتماعی و انسانی - تجارت
(۴) خدمات اجتماعی و انسانی - تجارت - تحقیق - تحقیق - تجارت

۱۴۴- ویژگی‌های کدام دوره شناختی پیازه درست معرفی شده است؟

- ۱) دوره حسی - حرکتی: کودکان در این دوره دارای بازتاب‌های ارثی‌اند و برای شناسایی محیط از نمادها استفاده می‌کنند.
- ۲) دوره پیش عملیاتی: در این دوره کودکان خودمکزیبن هستند؛ یعنی تصور می‌کنند دیگران نیز دنیا را مانند آنان می‌بینند.
- ۳) دوره عملیات عینی: کودک در این دوره وارد تفکر انتزاعی می‌شود.
- ۴) دوره عملیات ذهنی یا صوری: در این دوره تفکر منطقی پایه‌ریزی می‌شود.

۱۴۵- کدام یک از گزینه‌های زیر در ارتباط با رشد دوره قبل از تولد صحیح نمی‌باشد؟

- ۱) در مرحله زیگوت، توده سلولی به دیواره رحم مادر متصل شده و ارتباط تغذیه بین مادر و جنین برقرار می‌شود.
- ۲) در مرحله رویانی بیش‌تر اندام‌ها از جمله اندام تولید مثل مشخص می‌شوند و رشد در این مرحله سریع‌تر است.
- ۳) بین هفته ۲۴ تا ۲۸ جنین به حدی از رشد رسیده است که می‌تواند خارج از رحم زنده بماند.
- ۴) در مرحله جنینی سیستم عصبی مرکزی، ماهیچه‌ها و استخوان‌ها رشد سریعی دارند.

۱۴۶- کدام گزینه صحیح می‌باشد؟

- ۱) بهبود وضعیت تغذیه بشر موجب افزایش سن بلوغ شده است.
- ۲) خواهران دوقلوی دوتخمکی، عادات ماهانه را به طور متوسط با ۱۳ ماه فاصله از یکدیگر شروع می‌کنند.
- ۳) هرچه فشارهای روانی خانوادگی بیش‌تر و فاصله عاطفی بین پسر نوجوان و والدین بیش‌تر باشد لزوماً بلوغ دیرتر اتفاق می‌افتد.
- ۴) دختران بلندقد، لاغر و عموماً غیرفعال دیرتر از متوسط دختران بالغ می‌شوند.

۱۴۷- هریک از نمونه‌های زیر مربوط به کدام یک از ویژگی‌های تحولات شناختی در نوجوان است؟

- الف) نوجوانی با خواندن شاهنامه خود را در نقش رستم قرار می‌دهد.
- ب) نوجوانی برای خرید کتاب‌های آموزشی که پیرامون سؤالات اخلاقی مربوط به فعالیت‌های جنسی است، به کتابفروشی می‌رود.
- ج) نوجوان، وجود آدم‌های فضایی یک‌چشم را که از انسان‌ها بزرگ‌تر هستند، تصور می‌کند.

- ۱) استدلال قیاسی - استدلال قیاسی - تفکر درباره خود
- ۲) استدلال قیاسی - استدلال اخلاقی - تفکر فرضیه‌سازی
- ۳) تفکر درباره خود - استدلال قیاسی - تفکر درباره خود
- ۴) تفکر درباره خود - استدلال اخلاقی - تفکر فرضیه‌سازی

۱۴۸- عمده‌ترین نقش قشر خاکستری و لوب گیجگاهی به ترتیب در چیست؟

- ۱) ادراک - اطلاعات بینایی و فضایی
- ۲) احساس - ادراک اطلاعات لامسه
- ۳) ادراک - اطلاعات شنوایی
- ۴) احساس - تکلم و حافظه

۱۴۹- اگر در حین پاسخ‌گویی به این سؤال، پاسخ یکی از سؤالات درس اقتصاد که به آن توجه نکرده بودید و سریع از آن عبور کرده بودید، به

ذهنتان برسد؛ کدام گزینه این اتفاق را توجیه می‌کند؟

- ۱) بازیابی نهان
- ۲) اثر تولید
- ۳) نظریه گلوگاه شناختی
- ۴) اصل زمینه

۱۵۰- یافتن قافیه‌ها در بیت زیر و به خاطر سپردن آن‌ها، در کدام سطح یادگیری قرار می‌گیرد؟

«مافات مزی و ما سیاتیک فاین / قم فأغتنم الفرصة بین العدمین»

- (۱) یادگیری سطحی درجه اول
(۲) یادگیری سطحی درجه دوم
(۳) یادگیری عمقی درجه اول
(۴) یادگیری عمقی درجه دوم

۱۵۱- چرا روان‌شناسان باید تعریف عملیاتی دقیقی از واژه‌هایی چون هوش ارائه بدهند و ابهام این مفاهیم را به حداقل برسانند؟

- (۱) تا از این طریق بتوانند به جنبه آزمون‌پذیر بودن جامعه عمل ببوشانند.
(۲) تا بتوانند به نتایج یکسانی در آزمایش‌های مکرر برسند.
(۳) برای این‌که از این طریق فرآیند کنترل را اجرا کنند.
(۴) برای دست یافتن به نظریه‌ای دقیق و مطمئن.

۱۵۲- کدامیک از عبارات زیر مربوط به «روش آزمایشی» نمی‌باشد؟

- (۱) مهم‌ترین اصل آن، کنترل متغیری است که دستکاری می‌شود.
(۲) در این روش، ضروری است که ابتدا فرضیه‌ای در خصوص موضوع ارائه شود.
(۳) هیچ راهی برای انجام روش آزمایشی به صورت خیلی دقیق وجود ندارد.
(۴) از مزایای اصلی این روش تکرارپذیر بودن آن می‌باشد.

۱۵۳- کدام گزینه در خصوص ریش و یادگیری صحیح نیست؟

- (۱) یادگیری نتیجه تغییرات نسبتاً دائمی در احساس، فکر و ... است.
(۲) وراثت در فرآیند ریش بی‌تأثیر نیست.
(۳) در مورد اهمیت ریش و یادگیری نسبت به هم، اتفاق نظر وجود ندارد.
(۴) توانایی تلفظ اولین کلمات در یک‌سالگی محصول ریش است.

۱۵۴- هر یک از موارد زیر به ترتیب به کدام مرحله رشد دوره قبل از تولد مربوط می‌شود؟

الف) در این مرحله سیستم عصبی مرکزی، ماهیچه‌ها و استخوان‌ها رشد سریعی دارند.
ب) در این مرحله ارتباط تغذیه‌ای بین مادر و فرزند برقرار می‌شود.

ج) در این مرحله بیش‌تر اندام‌ها و اجزای بدن مشخص می‌شود و رشد در این مرحله سریع‌تر است.

- (۱) جنینی - رویانی - زیگوت
(۲) رویانی - جنینی - زیگوت
(۳) جنینی - زیگوت - رویانی
(۴) رویانی - زیگوت - جنینی

۱۵۵- طی دوره کودکی، کدامیک از خصوصیات زیر در رشد هیجانی و اجتماعی مشهود نیست؟

- (۱) خودمرکزی
(۲) شکل‌گیری مثبت مفهوم خود
(۳) رفتار نسبتاً مستقل
(۴) آگاهی نسبت به توانایی‌های خود

۱۵۶- میثم در تشخیص رنگ‌های جعبه مداد رنگی مشکل دارد، او در ادراک تصویر میز با دشواری روبه‌رو نیست و به راحتی می‌تواند جزئیات

تصویری پیچیده را تحلیل کند. کدام تشخیص به وضعیت او نزدیک‌تر است؟

- ۱) مخروط‌های پیرامونی شبکه که حساس به رنگ‌اند، دچار مشکل‌اند.
- ۲) منطقه گیجگاهی تحتانی سالم است اما منطقه چهارم بینایی مشکل دارد.
- ۳) منطقه سوم بینایی سالم است اما منطقه چهارم احتمالاً معیوب است.
- ۴) منطقه سوم بینایی لزوماً سالم نیست و منطقه گیجگاهی تحتانی معیوب است.

۱۵۷- کدام گزاره در مورد اصول مهم در حافظه کاملاً درست نیست؟

- ۱) در تشخیص دسته‌بندی کلمات، یادگیری عمقی درجه اول مطرح است.
- ۲) این‌که کدام‌یک از معانی کلمه «مهر» را به خاطر آوریم، در چارچوب شباهت مرحله رمزگردانی و بازیابی تبیین می‌شود.
- ۳) اصل شباهت بین مرحله یادگیری و بازیابی به «اصل زمینه»، و یادگیری فعال به «اثر تولید» شهرت دارند.
- ۴) این‌که یادآوری آزاد از بازشناسی دشوارتر است، همواره صحیح نیست.

۱۵۸- عبور از حافظه کوتاه‌مدت به حافظه بلندمدت نیازمند ... است و عامل از بین رفتن حافظه کوتاه‌مدت ... است.

- ۱) تکرار - تداخل ۲) توجه - تداخل ۳) تمرین - جابه‌جایی ۴) دقت - زوال

۱۵۹- هر یک از مفاهیم زیر به ترتیب با کدام یک از انواع درمان در ارتباط است؟

«تقویت و تنبیه - کاربرد عمده در درمان افسردگی - جو حمایتی - کاهش علامت‌ها»

- ۱) شناخت درمانی - درمان زیستی - شناخت درمانی - درمان زیستی
- ۲) درمان رفتاری - شناخت درمانی - درمان رفتاری - شناخت درمانی
- ۳) شناخت درمانی - شناخت درمانی - درمان رفتاری - شناخت درمانی
- ۴) درمان رفتاری - شناخت درمانی - درمان مراجع محوری - درمان زیستی

۱۶۰- به هر یک از افراد زیر به ترتیب توصیه می‌کنید به کدام‌یک از متخصصان سلامت روان مراجعه کند؟

- فردی که بعد از عوض کردن مدرسه خود در سازگار شدن با محیط جدید مشکل دارد.

- فردی که به اختلال روانی اسکیزوفرنی مبتلاست.

- فردی که به خاطر ترس شدید از مسخره شدن، در محیط‌های اجتماعی حاضر نمی‌شود.

- ۱) روان‌شناس مشاوره - روان‌شناس بالینی - روان‌شناس بالینی
- ۲) روان‌شناس مشاوره - روان‌پزشک - روان‌شناس بالینی
- ۳) روان‌شناس بالینی - روان‌پزشک - روان‌شناس مشاوره
- ۴) روان‌شناس بالینی - روان‌پزشک - روان‌شناس بالینی