

۱- کدام واژه نادرست معنا شده است؟

- (۱) کنگره: واژه‌ای روسی به معنای مجمعی از دانشمندان و یا سیاستمداران که درباره مسائل علمی یا سیاسی بحث کنند.
- (۲) گرتّه برداری: طراحی چیزی به کمک گرده یا خاکه زنگ یا زغال؛ نسخه برداری از روی یک تصویر یا طرح
- (۳) بیرنگ: نمونه و طرحی که نقاش به صورت کم رنگ یا نقطه چین بر کاغذ می آورد و سپس آن را کامل رنگ آمیزی می کند، طرح اولیه
- (۴) وقف: زمین یا دارایی و ملکی که برای مقصود معینی در راه خدا اختصاص دهند.

۲- در کدام بیت غلط املایی وجود ندارد؟

- (۱) قوک را جامه بهری جوی و من از شرم عدو / روزها گشته چو خفاش مرا خانه ستر
- (۲) چون زر و طاعت عزیزی در دو عالم زان که تو / با قناعت همنشینی با فراغت آشنا
- (۳) صورت نغز وفای ما مباحش / بی‌وفایی را مکن بیهوده فاش
- (۴) صحبت پیر خرابات بهار ترب است / نفس سوختگان سرو جوان است اینجا

۳- شاعر کدام بیت با سایر ابیات تفاوت دارد؟

- (۱) ارباب حاجتیم و زبان سؤال نیست / در حضرت کریم تمنا چه حاجت است
- (۲) گوش کن پند، ای پسر، وز بهر دنیا غم مخور / گفتمت چون در حدیثی گر توانی داشت هوش
- (۳) لاله دیدم، روی زیبای توام آمد به یاد / شعله دیدم، سرکشی های توام آمد به یاد
- (۴) حسنت به اتفاق ملاحظت جهان گرفت / آری به اتفاق، جهان می توان گرفت

۴- تعداد تشبیهات کدام بیت، بیشتر است؟

- (۱) تیر آهی از پشیمانی نجست از سینه‌ام / گر چه از بار گنه، قد چون کمانی شد مرا
- (۲) در محیط رحمت حق چون حباب شوخ چشم / بادبان کشتی از دامان تر باشد مرا
- (۳) تا به کی گرد خجالت زنده در خاکم کند؟ / شسته رو چون گوهر از باران رحمت کن مرا
- (۴) کعبه عشقم، بلا ریگ بیابان من است / زخم شمشیر زبان خار مگیلان من است

۵- بیت زیر فاقد کدام آرایه ادبی است؟

«مگر که لاله بدانست بی‌وفایی دهر / که تا بزاد و بشد جام می ز کف ننهاده»

- (۱) حسن تعلیل (۲) استعاره (۳) ایهام تناسب (۴) مجاز

۶- ضمیر متصل در همه گزینه‌ها نقش دستوری یکسانی دارد به جز گزینه ...

- (۱) حلقه پیر مغان از ازلم در گوش است / بر همانیم که بودیم و همان خواهد بود
- (۲) پروانه او گر رسد در طلب جان / چون شمع همان دم به دمی جان بسپارم
- (۳) هرگز نقش تو از لوح دل و جان نرود / هرگز از یاد من آن سرو خرامان نرود
- (۴) بدو گفت کای نامور پهلوان / چه گفتی کزان تیره گشتم روان

۷- با توجه به بیت زیر نقش دستوری واژه‌های «مرد، دلیر و خویشتن» در کدام گزینه درست آمده است؟

«از او خویشتن را نگه دار سخت / که مردی دلیر است و پیروز بخت»

- (۱) نهاد، مسند، مفعول (۲) نهاد، مسند، بدل (۳) مسند، صفت، مفعول (۴) مسند، صفت، بدل

۸- مفهوم کدام بیت متفاوت است؟

(۱) خاک ره شو گر طلبکار دلی، کاین کعبه را / جز غبار خاکساری جامهٔ احرام نیست

(۲) سعدی چو سروری نتوان کرد لازم است / با سخت بازوان به ضرورت فروتنی

(۳) بر آتش آب چیره بود از فروتنی / کاتش قیام دارد و آب است در سجود

(۴) چو موج پست شود کوه‌ها و بحر شود / که بیم آب کند سنگ‌های خارا را

۹- کدام بیت با عبارت زیر تناسب مفهومی دارد؟

«مردم بدانند که به شدتی که از روزگار پیش آید، نباید نالید و از فضل و رحمت کردگار ناامید نباید شد.»

(۱) از در رحمت حق جوی گشایش چو «عبید» / بر در بستهٔ مخلوق گدایی تا چند؟

(۲) چو دیدم پای سعی خویش در ره بسته، بگشادم / به سوی رحمت حق هر دو دستم تا چه پیش آید

(۳) ناامید از آه سرد و نالهٔ سوزان مباحش / کاین بخار و دود آخر ابر رحمت می‌شود

(۴) حق اگر بندد دری، ده در گشاید در عوض / طفل بی مادر ز هر انگشت جوی شیر داشت

۱۰- مفهوم کلی کدام ابیات یکسان است؟

(الف) راز سر بستهٔ مابین که به دستان گفتند / هر زمان با دف و نی بر سر بازار دگر

(ب) هر که زد مهر خموشی به لب چون و چرا / گر چه مور است درین دایره خاتم با اوست

(ج) لب فروبستن غواص گوهر می‌گوید / که در این قَلزم (دریا) خونخوار، نفس، محرم نیست

(د) من راز فلک را به دل شنودم / هشیار به دل کور و کر نباشد

- (۱) ب و ج (۲) الف و ج (۳) الف و د (۴) ب و د

۱۱- «أُنظُرْنَ بَدَقَّةٍ؛ أَنْتَن تَشَاهِدْنَ سَقُوطَ الْأَسْمَاكِ مِنَ سَمَاءِ الْمَدِينَةِ، كَأَنَّ سَمَاءَنَا تُمَطِّرُ أَسْمَاكَ.»

(۱) با دقت نگاه کنید، شما افتادن ماهی‌ها را از آسمان شهر می‌بینید؛ گویی آسمان ما، ماهی‌هایی می‌بارد.

(۲) به دقت نگاه کردید؛ شما فروافتادن ماهی‌ها را از آسمان شهرمان مشاهده می‌کنید؛ گویی آسمان ماهی‌هایی می‌بارد.

(۳) با دقت نگاه کنید؛ شما سقوط ماهی از آسمان شهر را مشاهده کردید؛ مثل اینکه آسمان ما، ماهی‌هایی می‌بارد.

(۴) با دقت نگاه کردید، شما فرو افتادن ماهی‌ها از آسمان شهر را مشاهده کردید، مثل اینکه از آسمان ما، ماهی می‌بارد.

۱۲- «هل تعلم أن عميل العدو يحاول أن يُبعد خمسَ مسلمي العالم عن الوحدة لأته ينتفع من هذه الأعمال؟!»: آیا می‌دانی که ...

- (۱) مزدور دشمن تلاش می‌کند که یک پنجم مسلمانان جهان را از وحدت دور کند، زیرا او از این کارها سود می‌برد؟!
- (۲) تلاش دشمن مزدور دوساختن یک پنجم مسلمانان جهان از وحدت است، برای این‌که او با این کارها سود می‌برد؟!
- (۳) مزدور دشمن تلاش می‌کند تا پنج درصد مسلمانان دنیا را از یکپارچگی دور سازد برای این‌که از این کار منفعت می‌برد؟!
- (۴) مزدور دشمنی است که تلاش می‌کند پنج درصد مسلمانان جهان را از متحد بودن دور سازد، زیرا او از این کارها سود خواهد برد؟!

۱۳- «إلهي؛ أخی ظَلَم نفسه و أضعَ عمره فأغفر له لأنَّ من مات و ما انتبه لا يدخل الجنة.»:

- (۱) خداوند! برادرم به خودش ستم کرد و عمرش را تباه کرد؛ پس او را ببخشای؛ زیرا نباید داخل بهشت شود هر کس مرد و باخبر نگشت.
- (۲) خدایا! برادری به خود ظلم کرد و عمر خود را نابود کرد؛ او را ببامرز؛ زیرا هر آن‌که درگذشت و آگاه نشد به بهشت داخل نمی‌گردد.
- (۳) خدای من برادرم به خودش ستم کرد و عمر خود را تباه کرد؛ پس ببامرز، زیرا هر کس مرد و آگاه نشد داخل بهشت نمی‌شود.
- (۴) خداوند! برادرم به خود ظلم کرد و عمرش را نابود کرد؛ او را ببامرز؛ زیرا به بهشت داخل نمی‌گردد هر که درگذشت و باخبر نشد.

۱۴- عین الصَّحیح:

- (۱) «لا تموت جاهلاً؛ لأنَّ الله لا يعذر المؤمنین علی الجهل»؛ با نادانی نمیر؛ زیرا خدا بر نادانی عذر مؤمنان را نمی‌پذیرد!
- (۲) «إحدى صدقاتي تنام في اليوم الواحد أقل من سبع ساعات.»؛ یکی از دوستانم در یک روز کمتر از هفت ساعت می‌خوابد!
- (۳) «فأصبر إنَّ وعدَ الله حقٌّ و استغفر لذنبك»؛ پس بردبار باش. همانا نوید خداوند درست است و برای گناهانت آمرزش بخواه!
- (۴) «لا يقبل شعبنا الإيراني أيَّ ضغطٍ من جانب الأجنبي.»؛ ملت ایرانی ما هیچ فشاری را از طرف بیگانگان نخواهد پذیرفت.

۱۵- «در باغ ما درختان بزرگ از دانه‌هایی کوچک رشد کرده‌اند!»:

- (۱) شجرة كبيرة نمت من حبة صغيرة في الحديقة.
- (۲) في حديقنا قد نمت الأشجار الكبيرة من حباتٍ صغيرة.
- (۳) قد تنمو أشجار كبيرة من حبة صغيرة في بستاننا.
- (۴) في بستاننا كانت قد نمت الأشجار الكبيرة من حباتٍ قليلة.

۱۶- عین الخطأ حول المفهوم: ﴿كُلُّ حِزْبٍ بِمَا لَدَيْهِمْ فَرِحُونَ﴾

- (۱) ﴿لا إكراه في الدين﴾
- (۲) حُرِّيَّة العقيدة لكل إنسان.
- (۳) ﴿لكم دينكم و لي دين﴾
- (۴) ﴿لا تستوى الحسنة و لا السيئة﴾

۱۷- عین الصَّحیح في المترادفات و المتضادات:

- (۱) الأنتى = البنت
- (۲) فرح = مسرور
- (۳) القائد = الإمام
- (۴) حفلة = غرفة

۱۸- عین العبارة التي لا تناسب توضیح المفردات التالية:

- (۱) الإعصار: ریح شديدة تنقل الأشياء من مكان إلى مكان آخر.
- (۲) مكيف الهواء: جهاز للخلاص من حرارة الصيف.
- (۳) الصلاة: مكان كبير يجلس هناك الطلاب للإمتحان.
- (۴) المنشفة: آلة لتنظيف الأسنان بعد أكل الطعام و الشرب.

۱۹- عین الخطأ للفراغات مما بين القوسين:

- (۱) لدى ... تفرغ بطاريتُه خلال نصف يوم. (جوال)
- (۲) إن أكثر فيتامين C للبرتقال في ... (قشره)
- (۳) زملائي في الدرس على حد ... (سواء)
- (۴) رجاء؛ ... جوازاتكم في أيديكم. (إجعلی)

۲۰- عین الخطأ في ضبط حركات الأفعال التالية:

- (۱) استخدمنا
- (۲) أنزلوا
- (۳) تكلمتن
- (۴) يكاتبان

■ اقرأ النص التالي بدقة ثم أجب عن الأسئلة بما يناسب النص: (٢١-٢٥)

«سمع الغزال الصغيرُ كلامَ الأسدِ والذئبِ. هما يتحدَّثانِ ويتفاخرانِ بقتل الحيواناتِ والسَّيطرةِ على الغابةِ. عندما رجع الغزالُ سألَ أمَّهُ: يا أمَّاه، عندما يفتخرُ الآخرونَ بقوتهم نحنُ بماذا نفتخرُ؟! قالت الأمُّ: نحنُ تحمَّلنا صعوبةَ الحياةِ بشهامةٍ بين هذه الوحوشِ سنواتٍ طويلةٍ ولكن ما انهرَمنا و ما تركنا الغابةَ واكتسبنا رزقنا. هذا فخرنا يا ولدي. يتسم الغزالُ و رفع رأسهُ بافتخارٍ وقَبَل وجه أمه.»

٢١- بِمَ يفتخرُ الأسدُ والذئبُ؟ (عين الخطأ):

- (١) بقتل الحيوانات  
(٢) بالسَّيطرة على الغابة.  
(٣) بقدرتهما  
(٤) بتحمُّل الصُّعوبات

٢٢- عيِّن الصَّحيح حسبَ النصِّ:

- (١) تَرَكَّتْ أُمُّ الغزالِ الغابةَ مع ولدها بسببِ وجودِ الأعداءِ.  
(٢) كانت الأمُّ و ولدها تفتخرانِ بشهامتِهِما أمامِ الوحوشِ في الغابةِ.  
(٣) اِبْتَسَمَتِ الوالدةُ من كلامِ ولدها وقَبَلته بافتخارٍ.  
(٤) مَن يَسْتَسَلِمُ أمامَ المشاكلِ يكتسِبُ رزقه براحةٍ.

٢٣- ما هو الأبعد لمفهوم النصِّ؟

- (١) مرد آن است که در کشاکش دهر سنگ زيرين آسيا باشد!  
(٢) در بيابان گر به شوق كعبه خواهي زد قدم / سرزنشها گر كند خار مغيلان غم مخور  
(٣) ای دل اندر بند زلفش از پریشانی منال / مرغ زيرك چون به دام افتد تحمّل بايدش  
(٤) هر که در اين يزم مقرب تر است / جام بلا بيش تر می دهند

٢٤- ما هو الخطأ حول الأفعال التالية في النصِّ:

- (١) يَتَفَاخَران: فعل مضارع، جمع مذكّر غائب، من مصدر «تفاخُر» و مزيد بزيادة حرف واحد  
(٢) يَفْتَخِر: فعل مضارع، مفرد مذكّر غائب، مصدره على وزن «افتعال» بزيادة حرفين  
(٣) تَحَمَّلنا: فعل ماضٍ، للمتكلّم مع الغير، مصدره على وزن «تفعّل»، مزيد بزيادة حرفين  
(٤) اِكْتَسَبنا: فعل ماضٍ، مزيد ثلاثي من باب «افتعال»، حروفه الأصليّة «ك س ب»

٢٥- ما هو الصَّحيح من باب الأفعال التالية و حروفها الأصليّة على الترتيب؟

- (١) يتحدَّثان: (من باب «تفعيل»، «ح د ث») (٢) قَبِلَ: (من باب «تفعيل»، «ق ب ل») (٣) اِبْتَسَمَ: (من باب «انفعال»، «ت س م») (٤) اِنهَرَمنا: (من باب «افتعال»، «ه ز م»)

٢٦- عيِّن عبارة يختلف فعلها من جهة النوع:

- (١) أنتج فلماً رائعاً حول الدلفين و النباتات البحرية هذه السنّة!  
(٢) شجّع الأحزاب على التعايش السلمي على أساس المنطق!

- (٣) تكاتب الصديقان عبر الإنترنت بمدة سنتين!  
(٤) تفقّه في دين الله، فإنّ الفقه مفتاح البصيرة في المؤمن!

٢٧- عيِّن ما ليس فيه الفعل المتعدّي:

- (١) اشتري والدُ حامدٍ حاسوباً له.  
(٢) لا تجتمعُ خصلتان في مؤمنٍ؛ البخل و الكذب.

- (٣) زان الله السّماء بأنجم كالدرر.  
(٤) إنّي رأيتهم لى ساجدين.

۲۸- عین الفعل المزیّد یختلف بآیه مع غیره:

- (۱) تُعلِّمُ هذه المعلّمة التلميذات الدروس المفيدة. (۲) إلهي علّمنا طرق الحياة للوصول إلى السعادة.
- (۳) تقدّم الطلابُ في أعمالهم بعد جهدٍ كثيرٍ. (۴) إنك تقدّمين هذه الهدايا إلى زميلاتك.

۲۹- عین الخطأ حول الأفعال التالية:

- (۱) «يَحْتَرِمُ»: مضارع - مفرد مذکر غائب - مزيد ثلاثي - حروفه الأصلية (ح ر م) - مصدره «إحترام»
- (۲) «تَوَاضَعُوا»: فعل الأمر - جمع مذکر مخاطب - مزيد ثلاثي من باب «تَفَاعُلُ» - مضارعه «تَوَاضَعُونَ»
- (۳) «إِتَّبَعُوا»: فعل ماضٍ - جمع مذکر غائب - مزيد ثلاثي من باب «انْفَعَالُ» - حروفه الأصلية: «ت ب ه»
- (۴) «لَا تَحْمَلْ»: فعل مضارع للنهي - مفرد مذکر مخاطب - مزيد ثلاثي من باب «تَفْعِيلُ»

۳۰- عین الخطأ للحوارات التالية:

(۱) من يُفتشُ حقائب المسافرين في الجمارك؟ - شرطی الجمارك.

(۲) هل فرشاة الأسنان والمعجون للتفتيش ممنوعان؟ - لا، هما مسموحان.

(۳) لماذا يجلب ذلك المسافر الحبوب المهدئة؟ - لأنّ عنده صداعاً.

(۴) عفواً، ماذا في حقيبتك؟ - تفضّل، أخی جالسٌ هناك.

۳۱- در کلام نبوی، حال مردم در این جهان چگونه ذکر شده است و وجود زندگی حقیقی پس از مرگ در کدام عبارت شریفه منعکس است؟

(۱) در خوابی کوتاه و گذرا - «ما هی الا حیاتنا الدنیا»

(۲) در خوابی کوتاه و گذرا - «ان الدار الآخرة لهی الحیوان»

(۳) مشغول سرگرمی و بازی - «ان الدار الآخرة لهی الحیوان»

(۴) مشغول سرگرمی و بازی - «ما هی الا حیاتنا الدنیا»

۳۲- کدام عبارت بیانگر اعتقاد پیامبران الهی در مورد مرگ است و با کدام حدیث مرتبط می باشد؟

(۱) غروبی است برای روح - باهوش ترین مؤمنان کسانی هستند که فراوان به یاد مرگ اند.

(۲) طلوعی است برای جسم - باهوش ترین مؤمنان کسانی هستند که فراوان به یاد مرگ اند.

(۳) طلوعی است برای روح - برای نابودی و فنا خلق نشده اید بلکه برای بقا آفریده شده اید.

(۴) غروبی است برای جان - برای نابودی و فنا خلق نشده اید بلکه برای بقا آفریده شده اید.



۳۳- «آسان تر شدن دفاع از حق و مظلوم و فداکاری در راه خدا» و «ایجاد شور و نشاط و انگیزه فعالیت و کار» برای معتقدین معاد به ترتیب

معلول چه عواملی است؟

(۱) نهراسیدن از مرگ - بی پاداش نماندن همه کارهای نیک

(۲) نهراسیدن از مرگ - نهراسیدن از مرگ

(۳) بی پاداش نماندن همه کارهای نیک - باز شدن پنجره امید و روشنایی

(۴) بی پاداش نماندن همه کارهای نیک - نهراسیدن از مرگ

۳۴- شذنی بودن معاد، مؤید کدام صفت الهی است و کدام آیه، آن را تبیین می کند؟

(۱) حکمت الهی - «آیا گمان کردید که شما را بیهوده خلق کردیم و اینکه به سوی ما باز نمی گردید؟»

(۲) قدرت الهی - «آیا گمان کردید که شما را بیهوده خلق کردیم و اینکه به سوی ما باز نمی گردید؟»

(۳) قدرت الهی - «و آن زمین مرده را بدان [وسیله] پس از مرگش زندگی بخشیدیم»

(۴) حکمت الهی - «و آن زمین مرده را بدان [وسیله] پس از مرگش زندگی بخشیدیم»

۳۵- به ترتیب هر یک از موارد «گریز از نابودی» و «تیل انسان ها به استحقاق خویشتن»، بیانگر ضرورت معاد در پرتو کدام صفات الهی است؟

(۱) حکمت الهی - حکمت الهی

(۲) حکمت الهی - عدل الهی

(۳) عدل الهی - حکمت الهی

(۴) عدل الهی - عدل الهی

۳۶- مخاطب این جمله سؤالی که «چرا علیه ما شهادت می دهید؟»، کدام یک از شهود روز قیامت است و اشاره به چه چیزی دارد؟

(۱) فرشتگان الهی - معاد جسمانی

(۲) اعضای بدن - معاد روحانی

(۳) اعضای بدن - معاد جسمانی

(۴) فرشتگان الهی - معاد روحانی

۳۷- به ترتیب ظرف تحقق «سنجش اعمال» و «آشکار شدن واقعیت اعمال»، کدام حادثه مرحله دوم قیامت است؟

(۱) کنار رفتن پرده از حقایق عالم - برپاشدن دادگاه عدل الهی

(۲) برپاشدن دادگاه عدل الهی - کنار رفتن پرده از حقایق از عالم

(۳) دادن نامه اعمال - کنار رفتن پرده از حقایق عالم

(۴) برپاشدن دادگاه عدل الهی - دادن نامه اعمال

۳۸- براساس آیات قرآن کریم، علت انکار معاد توسط انسان چیست و کدام عبارت زبان حال انسان گناهکار و مغرور از نعمت‌ها در دنیا است؟

(۱) می‌خواهد بدون ترس از دادگاه الهی، در دنیا گناه کند. - هنگامی که ما مردیم و استخوان شدیم، آیا برانگیخته خواهیم شد؟

(۲) دل بستگی به دنیا و میل به جاودانگی باعث انکار او می‌شود. - هنگامی که ما مردیم و استخوان شدیم، آیا برانگیخته خواهیم شد؟

(۳) دل بستگی به دنیا و میل به جاودانگی باعث انکار او می‌شود. - وای بر ما که از وجود چنین روزی غافل بوده‌ایم و امروز با آن روبرو شدیم.

(۴) می‌خواهد بدون ترس از دادگاه الهی، در دنیا گناه کند. - وای بر ما که از وجود چنین روزی غافل بوده‌ایم و امروز با آن روبرو شدیم.

۳۹- با توجه به کلام رسول اکرم (ص)، هر کس سنت و روش زشتی را در بین مردم مرسوم کند، کدام مجازات در انتظار اوست؟

(۱) با مردمی که آن سنت را انجام می‌دهند، در جزا و گناه سهیم می‌شود.

(۲) تا زمانی که مردمی بدان عمل کنند، گناه آن را به حساب او هم می‌نویسند.

(۳) آثار ماتقدم این رسم و سنت ناپسند، تا قیامت گریبان او را خواهد گرفت.

(۴) مجازات آن عمل میان تمام افرادی که آن سنت را انجام داده‌اند، تقسیم می‌گردد، هر چند مرده باشند.

۴۰- کدام عبارت قرآنی زیر حاکی از تفاوت بین دنیا و برزخ است؟

(۱) «يَنْبِئُوا الْإِنْسَانَ يَوْمَئِذٍ بِمَا قَدَّمَ وَأَخَّرَ» (۲) «وَمِنَ وَّرَائِهِمْ بَرْزَخٌ إِلَى يَوْمِ يُبْعَثُونَ»

(۳) «أَفَحَسِبْتُمْ أَنَّمَا خَلَقْنَاكُمْ عَبَثًا وَأَنَّكُمْ إِلَيْنَا لَا تَرْجَعُونَ» (۴) «قَالَ رَبِّ ارْجِعُونِ لَعَلِّي أَعْمَلُ صَالِحًا»

41- If you drive ... east for 10 kilometers, you'll see the airport on your right.

- 1) farer                              2) more far                              3) farther                              4) the farthest

42- I don't want to talk about the problem we had because it is ... thing at the moment.

- 1) less important                      2) least important                      3) the least important                      4) less important of

43- If you have no liking for ... music and art, you will probably not enjoy this concert.

- 1) modern                              2) natural                              3) important                              4) useful

44- Hard work and hope are the main ... in the story of my father's success.

- 1) forms                              2) qualities                              3) opinions                              4) elements

45- If you agree to become a/an ... donor now, you may help save someone's life later.

- 1) part                              2) organ                              3) body                              4) pattern

46- The government has asked the people who survived the coronavirus to ... their blood to patients in need.

- 1) keep                              2) carry                              3) compare                              4) donate

47- The guidebook will provide the tourists with detailed ... about the hotels in the area.

- 1) creation                      2) cell                              3) information                      4) intonation

48- Scientists studying societies have ... some of the social problems that most families with unemployment have been involved in.

- 1) celebrated                      2) expressed                      3) exchanged                      4) identified

49- I am worried about my grandfather because his ... blood sugar is a clear sign that he is going to become diabetic soon.

- 1) following                      2) rocky                              3) rising                              4) interesting

50- Jane accidentally ... the television while she was trying to go up the stairs.

- 1) fell                              2) collected                      3) recognized                      4) dropped

51- Our scientists are going to put a weather and communication satellite into ... around the earth.

- 1) gift                              2) orbit                              3) plasma                              4) planet

**PART B: Cloze Test**

**Directions:** Read the following passage and decide which choice (1), (2), (3), or (4) best fits each space. Then mark the correct choice on your answer sheet.

There are many different animals that live in the nature. Some of them are ...(52)... animals, for example lions, bears, and cheetahs. These animals ...(53)... other animals and eat them. Some animals in the nature live in groups, which means they are always together. For example, ...(54)... are always in groups and live with each other. They live ...(55)... life in the group so that other big animals cannot injure them. Small animals like birds, are the food for big animals. Birds do not kill other animals as their food, ...(56)... they eat plants.

- 52- 1) wild                              2) near                              3) long                              4) hopeful  
53- 1) destroy                              2) hunt                              3) fly                              4) buy  
54- 1) wolfs                              2) a wolf                              3) wolf                              4) wolves  
55- 1) them                              2) him                              3) their                              4) his  
56- 1) instead                              2) after                              3) for                              4) however



**PART C: Reading Comprehension**

**Directions:** Read the following passage and decide which choice (1), (2), (3) or (4) best fits each space. Then mark the correct choice on your answer sheet.

We have nine planets in our Solar System. These planets circle around the sun; this is called orbits. A lot of astronomers like to think that the Solar System has been made up in two parts. We have the Inner Solar System which has Mercury, Venus, Earth and Mars. These are closest to the sun and are called the terrestrial planets simply because they have very solid rocky surfaces. The Outer Solar System has Jupiter, Saturn, Uranus, and Neptune. These are sometimes called the gas giants. Outermost planet is Pluto, which many don't class as a planet anymore. Our Solar System also contains comets, asteroids, moons, dust, gas and some minor planets. The sun has such powerful gravity it tries to pull the planets towards it. There are 140 moons that orbit the eight planets in the solar system. The moons don't orbit the sun; they orbit the planet they are nearest to.

57- The best title for the above passage is ... .

- 1) Terrestrial Planets
- 2) The Solar System
- 3) The Gas Giants
- 4) Minor Planets

58- According to the passage, which of the following is NOT true?

- 1) Only Jupiter and Earth have asteroids and moons.
- 2) The orbits of the planets should be actually different from each other.
- 3) The moons orbit the nearest planets.
- 4) The outer Solar System is farther than the Inner Solar System to the sun.

59- The underlined word 'terrestrial' is closest in meaning to ... .

- 1) orbital
- 2) icy
- 3) earthly
- 4) circular

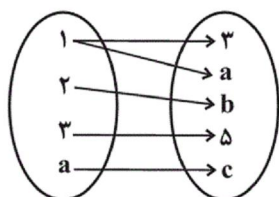
60- We can find all the following things in our Solar System EXCEPT ... .

- 1) icy surface
- 2) air
- 3) comet
- 4) minor planets

۶۱- کدام یک از نمودارهای زیر معرف یک تابع نمی‌باشد؟



۶۲- اگر رابطه زیر نمایش دهنده یک تابع باشد، حاصل  $a + c$  کدام است؟



- ۳ (۱)
- ۵ (۲)
- ۷ (۳)
- ۸ (۴)

۶۳- اگر در جدول زیر شعاع دایره و  $S$  و  $P$  به ترتیب تابع‌های مساحت و محیط دایره باشند، مقدار  $a + b + c$  کدام است؟

r	۱	۲	۳	۴	۵
s	$\pi$	a	$9\pi$	$16\pi$	c
p	$2\pi$	$4\pi$	b	$8\pi$	$10\pi$

- $20\pi$  (۲)
- $15\pi$  (۱)
- $35\pi$  (۴)
- $30\pi$  (۳)

۶۴- اگر رابطه  $f = \{(5, a+2b), (3, 4), (9, 2), (3, 2a-b), (5, 7)\}$  تابع باشد،  $(a+b)^2$  کدام است؟

- (۱) ۲۵ (۲) ۱۶ (۳) ۹ (۴) صفر

۶۵- اگر  $f$  یک تابع خطی باشد و جدول تعدادی از نقاط آن به صورت زیر باشد،  $\frac{f(10)}{f(9)}$  کدام است؟

x	۰	۱	۲	۳
f(x)	۲	۴	۶	۸

- (۱) ۱/۱ (۲) ۱/۲ (۳) ۰/۸ (۴) ۰/۹

۶۶- اگر  $f: A \rightarrow B$  به طوری که  $A = \{x | x \in Z, x^2 \leq 9\}$ ، آن گاه برد تابع  $f(x) = x^2 + x$  کدام است؟

- (۱)  $R_f = \{0, 2, 4, 6, 8, 12\}$  (۲)  $R_f = \{0, 1, 2\}$

- (۳)  $R_f = \{0, 2, 6, 12\}$  (۴)  $R_f = \{0, 2, 4, 6\}$

۶۷- در تابع خطی  $f(x) = mx + h$ ،  $f(1) = 5$  و  $f(-2) = 6$  است. حاصل  $m - h$  کدام است؟

- (۱)  $\frac{17}{3}$  (۲)  $-\frac{17}{3}$  (۳)  $\frac{14}{3}$  (۴)  $-\frac{14}{3}$

۶۸- در تابع خطی  $f(x) = 2x - 3$ ، اگر برد تابع  $\{y | 1 \leq y \leq 2 \text{ یا } -1 \leq y \leq -2\}$  باشد، دامنه تابع کدام است؟

- (۱)  $\{x | 1 \leq x \leq 2 \text{ یا } -1 \leq x \leq -2\}$  (۲)  $\{x | 0 \leq x \leq 1 \text{ یا } 2 \leq x \leq 3\}$

- (۳)  $\{x | \frac{3}{4} \leq x \leq 1 \text{ یا } 2 \leq x \leq \frac{9}{4}\}$  (۴)  $\{x | \frac{1}{4} \leq x \leq 1 \text{ یا } 2 \leq x \leq \frac{5}{4}\}$

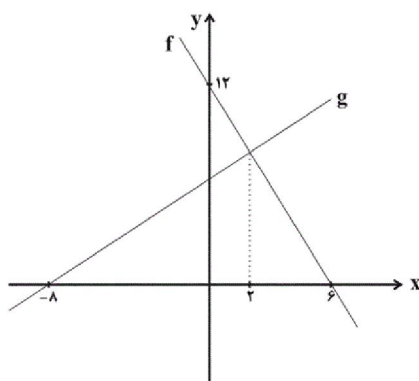
۶۹- با توجه به جدول زیر، کدام یک از ضابطه‌های داده شده برای تابع  $f$  می‌تواند درست باشد؟

x	۰	۱	۲	۳
f(x)	۵	۷	۱۱	۱۷

- (۱)  $f(x) = x^2 + 2x + 5$  (۲)  $f(x) = x^2 - 2x + 5$

- (۳)  $f(x) = x^2 - x + 5$  (۴)  $f(x) = x^2 + x + 5$

۷۰- در شکل زیر، نمودار توابع خطی  $f$  و  $g$  رسم شده است. جواب معادله  $f(x) - 5g(1) = 3x + 1$  کدام است؟



-۴ (۱)

۴ (۲)

۵ (۳)

-۵ (۴)

۷۱- عبارات کدام گزینه پاسخی مناسب برای پرسش‌های داده شده است؟

(الف) مالیات بر مشروبات غیرالکلی ماشینی و مالیات بر دخانیات مثال‌هایی از این نوع مالیات هستند.

(ب) در این نوع مالیات وظیفه قانونی پرداخت مالیات به عهده تولیدکنندگان و فروشندگان است.

(ج) اگر قیمت فروش با مالیات بر ارزش افزوده یک محصول در مرحله اول، ۲۲,۰۰۰ تومان و نرخ مالیات بر ارزش افزوده ۱۰ درصد باشد، در این صورت مالیات بر ارزش افزوده جمع‌آوری شده توسط فروشنده در این مرحله چند تومان است؟

(۱) الف) مالیات بر ارزش افزوده، (ب) مالیات بر مصرف، (ج) ۱,۸۸۰

(۲) الف) مالیات بر مصرف، (ب) مالیات بر مصرف، (ج) ۲,۰۰۰

(۳) الف) مالیات بر مصرف، (ب) مالیات بر مصرف، (ج) ۱,۸۸۰

(۴) الف) مالیات بر ارزش افزوده، (ب) مالیات بر ارزش افزوده، (ج) ۲,۰۰۰

۷۲- هر یک از موارد زیر مربوط به کدامیک از وظایف دولت در اقتصاد است؟

(الف) دولت با تعریف و اجرای حقوق مالکیت، امنیت خرید و فروش و مبادلات را بهبود می‌بخشد. دولت اجازه نمی‌دهد تا زمانی که فروشنده اثبات نکند که مالک واقعی چیزی است، آن را بفروشد.

(ب) دولت با وضع قوانین و مقرراتی ویژه در زمینه‌های مختلف می‌کوشد تا وجود اطلاعات و آگاهی‌های لازم را برای مبادله بین افراد تضمین کند.

(ج) تأمین بهداشت و امنیت مردم و همچنین احداث جاده‌ها و پل

(۱) الف) بهبود عملکرد بازار، (ب) ارائه کالای عمومی، (ج) ارائه کالای عمومی

(۲) الف) ارائه کالای عمومی، (ب) ارائه کالای عمومی، (ج) بهبود عملکرد بازار

(۳) الف) بهبود عملکرد بازار، (ب) بهبود عملکرد بازار، (ج) ارائه کالای عمومی

(۴) الف) ارائه کالای عمومی، (ب) بهبود عملکرد بازار، (ج) ارائه کالای عمومی

۷۳- کدامیک از گزینه‌های زیر در مورد خانوارها و بنگاه‌ها نادرست است؟

(۱) کسب و کارها، کالاها و خدمات مورد نیاز را به خانوارها می‌فروشند.

(۲) کسب و کارها، زمین، نیروی کار، سرمایه و کارآفرینی را برای تولید کالاها و خدمات ارائه می‌کنند.

(۳) بنگاه‌ها همان چیزی است که مردم معمولاً آن را به‌عنوان کسب و کار می‌شناسند.

(۴) برای تولید کالاها و خدمات، بنگاه‌ها باید از خانوارها منابع را خریداری یا اجاره کنند.

۷۴- در دوره بین دو جنگ جهانی، چه افرادی کنگره آمریکا را متقاعد کردند که تعرفه‌های گمرکی را افزایش دهد، این افزایش تا چه میزان بود

و اقدام سایر کشورها در مقابل آن در کدام گزینه به‌درستی ذکر شده است؟

(۱) کارگران و تولیدکنندگان - ۵۲ درصد - در پیش گرفتن سیاست‌های حمایت‌گرایانه در مقابل تجارت آزاد

(۲) سازمان‌های حمایت از حقوق مصرف‌کنندگان - ۴۰ درصد - در پیش گرفتن سیاست‌های حمایت‌گرایانه در مقابل تجارت آزاد

(۳) کارگران و تولیدکنندگان - ۵۲ درصد - کاهش تجارت با آمریکا

(۴) سازمان‌های حمایت از حقوق مصرف‌کنندگان - ۴۰ درصد - کاهش تجارت با آمریکا

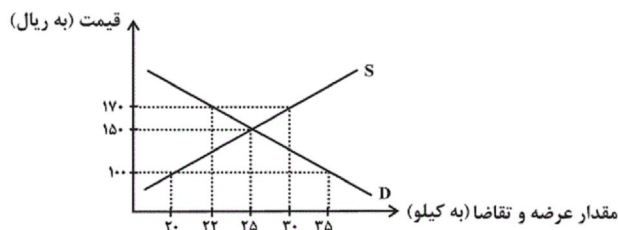
۷۵- چند ملیتی بودن در کدام کالاها بیش‌تر مشاهده می‌شود و پایهٔ بده - بستان دو کشور، ناشی از چیست؟

- ۱) محصولاتی که از فناوری‌های پیشرفته‌تری بهره می‌برند. - به صرفه بودن تولید یک کالا در یک کشور و صرفهٔ اقتصادی نداشتن آن در کشور دیگر
- ۲) کالاهای واسطه‌ای - تفاوت در دسترسی به فناوری و متفاوت بودن نرخ ارز
- ۳) محصولاتی که از فناوری‌های پیشرفته‌تری بهره می‌برند. - تفاوت در دسترسی به فناوری و متفاوت بودن نرخ ارز
- ۴) کالاهای واسطه‌ای - به صرفه بودن تولید یک کالا در یک کشور و صرفهٔ اقتصادی نداشتن آن در کشور دیگر

۷۶- با توجه به نمودار زیر که مربوط به بازار یک کالای معین است، به ترتیب از راست به چپ:

الف) در قیمت ۱۷۰ ریال مازاد عرضه، در قیمت ۱۰۰ ریال مازاد تقاضا و مقدار تعادلی چند کیلو است؟

ب) منحنی «تقاضا - قیمت» و «عرضه - قیمت» به ترتیب کدام است و هر یک در کدام وضعیت هستند؟



۱) الف) ۸ - ۱۵ - ۲۵، ب) D - S - صعودی - نزولی

۲) الف) ۱۵ - ۸ - ۲۵، ب) S - D - نزولی - صعودی

۳) الف) ۱۵ - ۸ - ۲۲، ب) D - S - صعودی - نزولی

۴) الف) ۸ - ۱۵ - ۲۵، ب) S - D - نزولی - صعودی

۷۷- کدام گزینه دربردارندهٔ گروه ویژگی‌هایی است که کشوری را به وضعیت «استقلال اقتصادی» نزدیک می‌کند؟

- ۱) امکان تأمین کلیهٔ نیازهایش را در داخل فراهم کند - به کشوری «وابستگی سیاسی» نداشته باشد. - از وضعیت «تک‌محصولی» فاصله بگیرد.
  - ۲) «وابستگی اقتصادی» به کشوری نداشته باشد. - نتواند کالای خاصی را صادر کند. - از وضعیت «تک‌محصولی» فاصله بگیرد.
  - ۳) از وضعیت «تک‌محصولی» فاصله بگیرد. - امکان تأمین بعضی از نیازها را در داخل فراهم کند. - به علم و فناوری و اقتصاد دانش بنیان توجهی بیشتر داشته باشد.
  - ۴) منابع تأمین کالاهای صادراتی یا بازارهای فروش کالاهایش را متنوع کند - از وضعیت «تک‌محصولی» فاصله بگیرد - همهٔ نیازهایش را در داخل فراهم نماید.
- ۷۸- با فرض اینکه هر سه کشور به یک اندازه از نیروی کار، سرمایه و دانش فنی برخوردارند؛ با توجه به اصل مزیت مطلق کدام کشور باید به

تولید گندم بپردازد و کدام کشور باید از اصل مزیت نسبی استفاده کند و چرا؟

کشور	پاکستان	هند	کنا
گندم	۳۰	۶۰	۱۰
برنج	۶۵	۴۵	۲۰

- ۱) پاکستان - هند، زیرا در تولید گندم نسبت به دو کشور دیگر مزیت ندارد.
- ۲) هند - پاکستان، زیرا در تولید برنج نسبت به دو کشور دیگر مزیت ندارد.
- ۳) پاکستان - کنیا، زیرا هیچ یک از دو کالا را به صرفه تولید نمی‌کند.
- ۴) هند - کنیا، زیرا در تولید هیچ یک از محصولات نسبت به دو کشور دیگر مزیت مطلق اقتصادی ندارد.

۷۹- صحیح یا غلط بودن عبارتهای زیر در کدام گزینه به درستی مشخص شده است؟

- با وجود منافع قابل توجهی که تجارت بین‌الملل برای کشورها دارد؛ اما در عمل دولت‌های گوناگون با روند تجارت بین‌الملل یکسان برخورد نکرده‌اند.
- کنفرانس پولی و مالی سازمان ملل (برتن وودز) در سال ۱۹۵۰ تشکیل و نتیجهٔ آن تشکیل سازمان توسعهٔ صنعتی ملل متحد بود.
- در سال ۱۹۴۲، ۳۵ کشور قراردادی غیررسمی به نام قرارداد تجارت جهانی را امضا کردند. بعدها این قرارداد به سازمان دائمی گات تبدیل شد.
- در سال ۱۹۹۲، آمریکا و کانادا و مکزیک، پیمان تجارت آزاد (مشهور به پیمان نفتا) را امضا کردند.

۴) ص، ص، غ، ص

۳) ص، ص، غ، غ

۲) ص، غ، ص، ص

۱) ص، غ، غ، ص



۸۰- کدام گزینه از دلایل مبادلات میان کشورها نیست؟

- (۱) یکسان نبودن منابع و عوامل تولید در کشورها  
(۲) یکسان نبودن قدرت سیاسی کشورها  
(۳) یکسان نبودن کشورها از نظر دسترسی به فناوری  
(۴) تفاوت‌های اقلیمی و آب و هوایی

۸۱- عبارات کدام گزینه بیانگر پاسخ صحیح دو پرسش زیر است؟

- الف) بخش زیادی از درآمدهای دولت در کشور ما، از محل فروش دارایی‌های تجدیدناپذیری مانند نفت و گاز تأمین شده است که درآمدی ... است.  
ب) صرف درآمد حاصل از فروش دارایی‌های تجدیدناپذیر در ... کار درستی نیست.  
(۱) الف) پایدار، ب) خلق دارایی‌های دیگر  
(۲) الف) ناپایدار، ب) هزینه‌های عمرانی  
(۳) الف) پایدار، ب) هزینه‌های جاری کشور  
(۴) الف) ناپایدار، ب) هزینه‌های جاری

۸۲- کدام گزینه در خصوص انواع مالیات‌ها، نادرست است؟

- (۱) مالیات بر ارزش افزوده یک مالیات چند مرحله‌ای است.  
(۲) مالیات بر مصرف نهایتاً به وسیله مصرف‌کننده نهایی پرداخت می‌شود.  
(۳) مالیات بر ارزش افزوده با ایجاد شفافیت، فرار مالیاتی را کاهش می‌دهد.  
(۴) در مالیات بر ارزش افزوده کالا و خدمات سرمایه‌ای از پرداخت مالیات معاف می‌شوند.

۸۳- کدام گزینه در مورد عوارض گمرکی و خدماتی درست نیست؟

- (۱) یکی از انواع مالیات‌های مستقیم است.  
(۲) در واقع مالیات هر کشور بر صادرات و واردات کالاهای مختلف است.  
(۳) تابع سیاست‌های کلان بازرگانی و شرایط اقتصادی کشورها هستند.  
(۴) انواع عوارض درج شده در قبض‌های شهرداری مالیات تلقی می‌شود.

۸۴- عبارات کدام گزینه بیانگر پاسخ صحیح پرسش‌های زیر است؟

- الف) منابع مالی دولت برای ارائه خدمات و کالاهای عمومی معمولاً و در بیشتر موارد از دو محل تأمین می‌شود: ۱- ... و ۲- ...  
ب) هدف اصلی از مالیات این است که ...  
ج) مالیات‌های مستقیم به دو دسته ... و ... تقسیم می‌شوند.  
د) اساس و مبنای مالیات بر دارایی ... است.

- (۱) الف) مالیات‌ها - فروش دارایی‌های ملی، ب) درآمد دولت را تا حدی بالا ببرد که عملکرد دولت مؤثر واقع شود. ج) مالیات بر دارایی - مالیات بر درآمد، د) ثروت مؤدی  
(۲) الف) فروش اوراق مشارکت - سرمایه‌گذاری‌های مولد، ب) فعالیت‌های نامناسب را کاهش و فعالیت‌های مطلوب را تشویق کند. ج) مالیات بر مصرف - مالیات بر ارزش افزوده، د) درآمد مؤدی  
(۳) الف) مالیات‌ها - فروش دارایی‌های ملی، ب) درآمد دولت را تا حدی بالا ببرد که عملکرد دولت مؤثر واقع شود. ج) مالیات بر مصرف - مالیات بر ارزش افزوده، د) درآمد مؤدی  
(۴) الف) فروش اوراق مشارکت - سرمایه‌گذاری‌های مولد، ب) فعالیت‌های نامناسب را کاهش و فعالیت‌های مطلوب را تشویق کند. ج) مالیات بر دارایی - مالیات بر درآمد، د) ثروت مؤدی



۸۵- چند مورد از عبارتهای زیر در خصوص تقاضاکنندگان و نمودار تقاضا نادرست است؟

- (الف) با فرض ثابت بودن قیمت کالا، تقاضا برای کالا به صورت مثبت با درآمد ارتباط دارد. افزایش در درآمد سبب افزایش در مقدار تقاضا در هر قیمت می‌شود.
- (ب) کالاهای معمولی به کالایی گفته می‌شود که با افزایش درآمد تقاضا برای آن کاهش می‌یابد، کالای پست، کالایی است که با کاهش درآمد، تقاضا برای آن کم می‌شود و با افزایش درآمد میزان مصرف آن کالا افزایش می‌یابد.
- (ج) علاوه بر قیمت و درآمد، عوامل دیگری مانند سلیقه، انتظارات و قیمت دیگر کالاها هم بر مقدار تقاضا اثرگذار است.
- (د) طبق قانون تقاضا مقدار تقاضا از یک کالا با قیمت آن رابطه‌ای مستقیم دارد، با افزایش قیمت، مقدار تقاضا افزایش می‌یابد و بالعکس.
- (ه) کالاهای مکمل کالاهایی هستند که در استفاده یا مصرف جایگزین یکدیگر می‌شوند. در این زمانی که قیمت یک کالا افزایش می‌یابد، تقاضا برای آن کاهش و تقاضا برای کالای جانشین افزایش می‌یابد.

۱ (۱) ۲ (۲) ۳ (۳) ۴ (۴)

۸۶- کدام گزینه به منافع حاصل از صادرات برای تولیدکنندگان اشاره دارد؟

(۱) استفاده از کالاهای خارجی که مشابه آن‌ها در داخل تولید نشده است.

(۲) استفاده از کالاهای خارجی که از کالاهای مشابه داخلی ارزان‌تر و مرغوب‌تر هستند.

(۳) کسب ارز لازم برای پرداخت بهای کالاهای ضروری وارداتی

(۴) فروش محصولات خود در بازارهای بزرگ‌تر

۸۷- عبارات کدام گزینه در خصوص عرضه‌کنندگان و منحنی عرضه نادرست است؟

(۱) فروشندگان همان بنگاه‌های ارائه‌کننده کالا یا خدمات و نیز عوامل فروش آن‌ها هستند.

(۲) طبق قانون عرضه، با افزایش قیمت، مقدار عرضه از هر کالا افزایش می‌یابد و بالعکس.

(۳) هزینه‌های تولید: مانند قیمت مواد اولیه، اگر قیمت مواد اولیه افزایش یابد، هزینه‌های تولید افزایش می‌یابد و میزان تولید کالا کاهش می‌یابد.

(۴) ابداعات و اختراعات معمولاً با افزایش هزینه‌ها و کاهش به‌کارگیری نیروی انسانی، اثر منفی بر مقدار تولید و عرضه دارد.

۸۸- در هر یک از موارد زیر مشخص کنید، تغییر ذکر شده آیا باعث تشویق و یا دلسرد شدن فعالیت اقتصادی مشمول مالیات می‌شود؟

(الف) دولت قوانین را تغییر می‌دهد تا شرکت‌ها مالیات بیشتری بپردازند.

(ب) دولت نرخ مالیات املاک برای کارخانجات جدید را کاهش می‌دهد.

(ج) دولت بر غذاهایی که حاوی سطوح بالای چربی و سطح بالایی از سدیم هستند، مالیات اعمال می‌کند.

(۱) (الف) دلسرد شدن، (ب) تشویق شدن، (ج) دلسرد شدن

(۲) (الف) تشویق شدن، (ب) دلسرد شدن، (ج) تشویق شدن

(۳) (الف) تشویق شدن، (ب) دلسرد شدن، (ج) تشویق شدن

(۴) (الف) تشویق شدن، (ب) تشویق شدن، (ج) تشویق شدن

۸۹- با افزایش درآمد، میزان مصرف کالای معمولی و پست چه تغییری می‌کند؟

(۱) میزان مصرف هر دو کالا یک اندازه کاهش می‌یابد.

(۲) میزان مصرف کالای معمولی افزایش و مصرف کالای پست کاهش پیدا می‌کند.

(۳) با افزایش درآمد، میزان مصرف هر دو افزایش می‌یابد.

(۴) میزان مصرف آن‌ها تغییر نمی‌کند.

۹۰- کدام مورد بیانگر «قیمت تعادلی و مقدار تعادلی» است؟

(۱) قیمت ۱۵۰ - مقدار تقاضا ۶۰ - مقدار عرضه ۱۵۰

(۲) قیمت ۲۰۰ - مقدار تقاضا ۵۰ - مقدار عرضه ۵۰

(۳) قیمت ۲۵۰ - مقدار تقاضا ۲۵۰ - مقدار عرضه ۳۰۰

(۴) قیمت ۳۰۰ - مقدار تقاضا ۲۰۰ - مقدار عرضه ۴۰۰

۹۱- در زمان ... ، ... عمده‌ترین مرکز فرهنگی به‌شمار می‌آمد و بعضی از امیران ... خود، صاحب فضل و ادب بودند. آن‌ها شاعران فارسی‌گوی را

تشویق می‌کردند.

(۱) غزنویان، غزنه، سامانی

(۲) صفاریان، بخارا، طاهری

(۳) طاهریان، غزنه، صفاری

(۴) سامانیان، بخارا، سامانی

۹۲- رواج تاریخی زبان‌های ایرانی در کدام گزینه به‌درستی ذکر شده است؟

(۱) فارسی باستان (هخامنشیان)، پارتی (اشکانیان)، پهلوی (ساسانیان)

(۲) فارسی دری (پس از اسلام)، فارسی باستان (اشکانیان)، پارتی (ساسانیان)

(۳) پهلوی (سامانیان)، پارتی (اشکانیان)، فارسی دری (پس از اسلام)

(۴) فارسی باستان (هخامنشیان)، فارسی دری (ساسانیان)، پارتی (آلبویه)

۹۳- کدام گزینه نادرست است؟

(۱) منطقه رواج فارسی دری نخست در مشرق و شمال شرقی ایران بود.

(۲) یکی از نتایج نفوذ اسلام در ایران، رواج تدریجی خط عربی بود.

(۳) زبان پارتی در شمال و مغرب ایران متداول بود.

(۴) فرمان‌ها و نامه‌های شاهان هخامنشی به خط میخی نوشته شده است.

۹۴- چرا اوایل قرن چهارم هنوز بیشتر دانشمندان ایرانی به ضرورت، آثار خود را به عربی می‌نویسند؟

(۱) عدم تسلط دانشمندان به زبان فارسی

(۲) پیدا کردن خوانندگان بیشتر در سرتاسر دنیای اسلام

(۳) عدم حمایت حاکمان وقت از آثار زبان فارسی

(۴) نفوذ اسلام در ایران

۹۵- کدام گزینه از ویژگی‌های شعر در قرن چهارم و پنجم دور است؟

- (۱) شعر حکمی و اندرزی در این دوره به وجود آمد و در دوره سلجوقیان به پختگی رسید.
- (۲) رایج‌ترین انواع شعر در این دوره، «حماسی»، «علمی» و «غنائی» بود.
- (۳) داستان‌سرایی و قصه‌پردازی و آوردن حکایت‌ها و مثل‌ها نیز در شعر این دوره آغاز گشت.
- (۴) شعر غنائی با دو شاعر مشهور، رودکی و شهید بلخی، قوت و استحکام یافت.

۹۶- کدام بیت را نمی‌توان از اشعار دوره «قرن چهارم و پنجم» دانست؟

- (۱) مرا بسود و فروریخت هر چه دندان بود / نبود دندان لا بل چراغ تابان بود
- (۲) برآمد قیرگون ابری ز روی نیلگون دریا / چو رای عاشقان گردان چو طبع بیدلان شیدا
- (۳) آمد بهار خرم با رنگ و بوی طیب / با صد هزار نزهت و آرایش عجیب
- (۴) آب آتش فروز عشق آمد / آتش آبسوز عشق آمد

۹۷- کدام گزینه درباره «نثر عهد سامانی» نادرست است؟

- (۱) بیشتر به موضوع‌های حماسی، ملی و تاریخی توجه دارد.
- (۲) در عهد سامانی، نثر هم مانند شعر فارسی، رواج و رونق گرفت.
- (۳) اصل تفسیر طبری را «محمدبن جریر طبری» به زبان پهلوی نوشته است.
- (۴) کتاب «تاریخ الرسل و الملوک» اثر محمدبن جریر طبری و به عربی است.

۹۸- اصل پهلوی کدامیک از کتاب‌های زیر از بین رفته است اما ترجمه‌های عربی و فارسی آن باقی مانده است؟

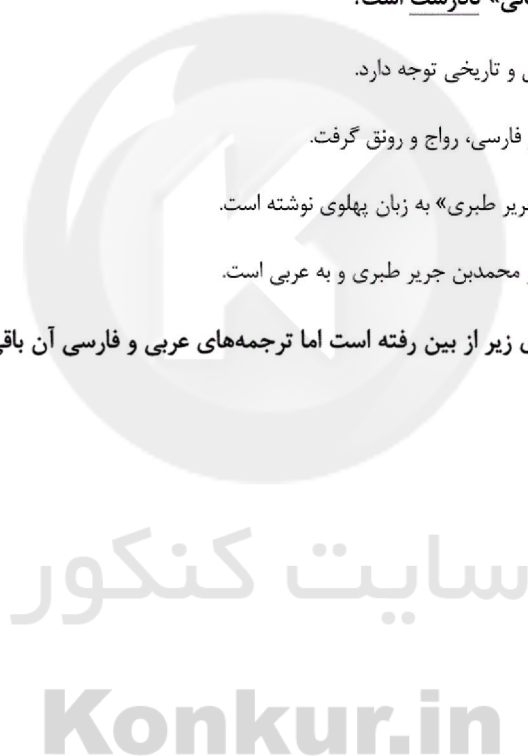
(الف) یادگار زریران

(ب) درخت آسوریک

(ج) کلیله و دمنه

(د) اوستا

(ه) هزار و یک شب



(۴) ج، هـ

(۳) ب، ج

(۲) الف، د

(۱) الف، ب

۹۹- دولت صفاری پس از کدام دولت روی کار آمد؟ چرا در دوره حکومت یعقوب لیث صفاری، زبان رسمی کشور، زبان فارسی شد؟

- (۱) آل بویه - ارزشمند بودن زبان فارسی در ذهن یعقوب لیث صفاری
- (۲) سامانی - تضعیف حکومت بغداد
- (۳) سامانی - تنفر شدید یعقوب لیث صفاری نسبت به اعراب و زبان عربی
- (۴) طاهری - عدم تمایل و آشنا نبودن یعقوب لیث صفاری به زبان عربی

۱۰۰- در عبارت کدام گزینه سجع وجود ندارد؟

- (۱) هر که امروز در میدان خدمت است فردا در مجمع روح و ریحان است.
- (۲) چراغ حقایق معرفت در سینه آدم خاکی روشن گردانیم و منشور ولایت خاکی به دست او دهیم.
- (۳) علم متعدی است نفع آن و اثر آن به دیگران تعدی کند، راست همچون چراغ است که خود روشن است و دیگران را روشن دارد.
- (۴) خاکبان را عالم سفلی دادی عالم علوی به ما ده ما نیز پرندگان حضرتیم و طاووسان درگاه عزت.

۱۰۱- در ابیات همه گزینه‌ها به جز ... سجع وجود دارد.

- (۱) چون برف را به روی لطیف تو نسبتی است/ ای جان عاشقان، منم از عاشقان برف
- (۲) معنی هر قد و خدم سایه لطف احدم/ کعبه هر نیک و بدم دابه باغ و چمنم
- (۳) ای آفرین بر روی شه کز وی خجل شد روی مه/ کوران به دیده گفته خه بشنوده لطفش گوش کر
- (۴) آرام گیر و کم خروش آخر به خون ما مکوش/ در خون دل ما را مجوش ای بی وفا ای پاسبان

۱۰۲- در کدام گزینه، «سجع متوازن» دیده می‌شود؟

- (۱) دست انابت به امید اجابت به درگاه حق بردارد.
- (۲) فلان را اصلی است پاک و طینتی است صاف.
- (۳) گاه مجرمان را ثواب کردار مخلصان ارزانی می‌دارند و گاه ناصحان را عذاب زلت جانیان می‌نمایند.
- (۴) نصیحت پادشاهان کردن، کسی را مسلم بود که بیم سر ندارد یا امید زر.

۱۰۳- در چند عبارت سجع متوازن دیده می‌شود؟

(الف) هر که علم خواند و عمل نکرد بدان ماند که گاو راند و تخم نیفشاند.

(ب) آتش خشم اول در خداوند خشم اوفتد؛ پس آنکه زبانه به خصم رسد یا نرسد.

(پ) فلان را کرم بی‌شمار است و هنر بی‌حساب

(ت) هر که بدین صفت‌ها موصوف است به حقیقت درویش است اگرچه در قباست.

(ث) ما را بر کیسه بند نیست و با خلق خدای جنگ نیست.

- (۱) یک (۲) دو (۳) سه (۴) چهار

۱۰۴- گونه سجع در کدام گزینه متفاوت است؟

- (۱) پارسایی را دیدم به محبت شخصی گرفتار نه طاقت صبر و نه یارای گفتار.
- (۲) شباهنگ به غروب آهنگ کرد و مشاطه دهر، جبین صباح را رنگ کرد.
- (۳) گفتا: سخنی با من چرا نگویی که هم از حلقه درویشانم بلکه حلقه به گوش ایشانم؟
- (۴) درویش ضعیف‌حال را در خشکی تنگ‌سال می‌رس که چونی آلا به شرط آن که مرهم ریشش بنهی و معلومی پیشش.

۱۰۵- علامت هجاهای کدام بیت، چهار بار تکرار «U - - -» نیست؟

- (۱) نظر در نامه می‌دارد ولی با لب نمی‌خواند/ همی‌داند کز این حامل چه صورت زایدش فردا  
(۲) اگر صد همچو من گردد هلاک او را چه غم دارد/ که نی عاشق نمی‌یابد که نی دلخسته کم دارد  
(۳) تو مستان را نمی‌گیری پریشان را نمی‌گیری/ خنک آن را که می‌گیری که جانم مست ایشان است  
(۴) شمع جهان دوش نبد نور تو در حلقهٔ ما/ راست بگو شمع رخت دوش کجا بود کجا

۱۰۶- تعداد مصوت‌های کوتاه مقابل کدام عبارت درست است؟

- (۱) احمق را ستایش خوش آید. (۵)  
(۲) نادان را به از خاموشی نیست. (۲)  
(۳) حریص با جهانی گرسنه است. (۷)  
(۴) سَرِ مار به دست دشمن بگوب. (۷)

۱۰۷- تعداد هجاهای کوتاه کدام مصراع کم‌تر است؟

- (۱) همی گفت این معما با قرینی  
(۲) خورشید را حاجب تویی امید را واجب تویی  
(۳) آن مه تابندهٔ فرخنده را  
(۴) راهِ دراز است برانیم تیز

۱۰۸- علامت هجاهای کدام گزینه‌ها با بیت زیر برابر نیست؟

«همین حاصلت باشد از عمر باقی / اگر همچنین‌اش به آخر رسانی»

- (۱) همی‌گویم بگریم در غمت زار / دگر گویم بخندی بر گریستن  
(۲) مرنجان دلم را که این مرغ وحشی / ز بامی که برخاست مشکل نشیند  
(۳) پیمبر بدان داد مر علم حق را / که شایسته دیدش مر این مهتری را  
(۴) خدایا تو دانی که بر ما چه آمد؟ / خدایا تو دانی که ما را چه می‌شد؟

۱۰۹- تعداد هجاهای کشیده در کدام بیت بیشتر است؟

- (۱) کاشکی صد چشم ازین بیخواب‌تر بودی مرا / تا نظر می‌کردمی در منظر زیبای تو  
(۲) دوست دارم که کست دوست ندارد جز من / حیف باشد تو که در خاطر اغیار آیی  
(۳) گویند رفیقانم: در عشق چه سرداری؟ / گویم که سری دارم درباخته در پایی  
(۴) صوفی گلی بچین و مرقع به خار بخش / وین زهد خشک را به می خوشگوار بخش



۱۱۰- در کدام گزینه واج‌های «و»، «ی» و «ه» همگی صامت‌اند؟

- (۱) گوارا - دین - سیاه - توس - سریر - پنجاه  
 (۲) اوج - صید - هراس - فردوس - جریان - سایه  
 (۳) غریو - پیمان - کوزه - شوق - بیل - ماه  
 (۴) درو - حسین - نگاه - گرو - سیلاب - چاه

۱۱۱- به ترتیب کدام گزینه پاسخ درست سؤالات زیر می‌باشد؟

- (الف) کدام مورد مهم‌ترین نوشته تاریخی دوره ساسانی به‌شمار می‌رود؟  
 (ب) دلیل ضعف تاریخ‌نگاری در دوران باستان چه بوده است؟  
 (ج) در زمان کدام پادشاه قاجار سرهنری راولینسون موفق به خواندن خط میخی شد؟  
 (۱) الف (خدای‌نامه‌ها ب) مقبولیت سنت شفاهی ج) محمدشاه  
 (۲) الف (اوستا ب) فقدان شعور و آگاهی تاریخی بالای ایرانیان ج) ناصرالدین شاه  
 (۳) الف (خدای‌نامه‌ها ب) فقدان شعور و آگاهی تاریخی بالای ایرانیان ج) محمدشاه  
 (۴) الف (اوستا ب) مقبولیت سنت شفاهی ج) ناصرالدین شاه

۱۱۲- کدام گزینه نادرست است؟

- (۱) امروزه دوران سلسله‌های پیشدادیان و کیانیان به عنوان دوره افسانه‌ای تاریخ ایران شناخته می‌شود.  
 (۲) واژه‌هایی مانند افسانه، قصه، داستان و اسطوره، گرچه هر یک معنای خاص و ریشه لغوی خود را دارند، اما تقریباً همگی به معنای داستان یا سرگذشت خیالی و غیرواقعی به‌کار می‌روند.  
 (۳) بیشتر اسطوره‌شناسان و مورخان بر این عقیده هستند که افسانه‌ها براساس تخیل ساخته شده‌اند، اما با گذشت زمان تغییر کرده و به شکل اسطوره درآمدند.  
 (۴) عموم مورخان تا دویست سال پیش، در میان سلسله‌های حکومتی ایران باستان، تنها از تاریخ ساسانیان اطلاع و شناخت نسبتاً در خور توجهی داشتند.

۱۱۳- با توجه به عبارت‌های زیر، هر دو عبارت کدام گزینه درباره «تمدن روم» نادرست است؟

- (الف) رومیان با لشکرکشی به سرزمین‌های شمال دریای مدیترانه در غرب آسیا، بقایای حکومت سلوکیان را برانداختند.  
 (ب) روم غربی تا زمانی که پایتخت آن توسط امپراتوری مسلمان عثمانی فتح شد، دوام آورد.  
 (پ) ارتش روم برای دولتمردان رومی عرصه آموزش و اثبات لیاقت بود. هیچ شهروندی رومی به منصب دولتی برگزیده نمی‌شد مگر آنکه در ده نبرد شرکت کرده باشد.  
 (ت) زنان رومی نسبت به زنان یونانی آزادتر بودند و حضور مؤثر و گسترده‌تری در زندگی عمومی و اجتماعی داشتند.

- (۱) الف و پ (۲) ب و پ (۳) ب و ت (۴) الف و ب

۱۱۴- هر یک از عبارت‌های زیر به ترتیب مربوط به کدام دولت - شهر یونان است؟

- (الف) زادگاه مردم سالاری به‌شمار می‌رفت.  
 (ب) جنگ‌های پلوپونزی سرانجام با پیروزی آن‌ها پایان یافت.  
 (پ) جامعه‌ای نظامی‌گرا و جنگاور بود.

- (۱) اسپارت - آتن - آتن  
 (۲) آتن - اسپارت - اسپارت  
 (۳) اسپارت - اسپارت - آتن  
 (۴) آتن - آتن - اسپارت

۱۱۵- بقایای کاخ شاهی مینوسیان حکایت از چه چیزی دارد و به احتمال زیاد، تمدن مینوسی چگونه از بین رفته است؟

- (۱) روابط بازرگانی آنان با مصر و مناطق هم‌جوار خود - در اثر کشمکش با اقوام مهاجر  
 (۲) روابط بازرگانی با مصر و مناطق هم‌جوار خود - رقابت شهرها و جنگ‌های داخلی  
 (۳) قدرت، رفاه و معماری پیشرفته آنان - در اثر کشمکش با اقوام مهاجر  
 (۴) قدرت، رفاه و معماری پیشرفته آنان - رقابت شهرها و جنگ‌های داخلی

۱۱۶- کدام گزینه در مورد جایگاه فلات ایران از لحاظ جغرافیایی صحیح می‌باشد؟

- (۱) شمال: دریای مازندران، غرب: جلگه خوزستان، شرق: جلگه سند (۲) جنوب: اقیانوس هند، شمال: دریاچه آرال، شرق: جلگه سند  
(۳) جنوب: خلیج فارس، شمال: دریای خزر، غرب: جلگه خوزستان (۴) غرب: جلگه بین‌النهرین، جنوب: دریای مکران، شرق: اقیانوس هند

۱۱۷- در رأس دوازده خدایان یونان کدام خدا قرار داشت و مسابقات المپیک در کدام دولت شهر برگزار می‌شد؟

(۱) زئوس - المپ (۲) آتنا - المپیا

(۳) زئوس - المپیا (۴) آتنا - المپ

۱۱۸- صحیح و غلط بودن عبارتهای زیر به ترتیب در کدام گزینه به درستی آمده است؟

(الف) کهن‌ترین نشانه و آثار از حضور انسان در ایران مربوط به بستر کشف‌رود در نزدیکی مشهد می‌باشد.

(ب) با روی آوردن گروه‌هایی از مردم به کشاورزی و دامپروری، به تدریج سکونتگاه‌هایی نخست در شمال و سپس در سایر مناطق ایران پدید آمد.

(پ) تا ۱۲ هزار سال پیش، نواحی جلگه‌ای و ساحلی ایران، جولانگاه انسان‌هایی بوده که در پی شکار جانوران و گردآوری مواد خوراکی گیاهی بوده‌اند.

(ت) مردم ایران از حدود ۸ هزار سال پیش در ساختن ظروف و ابزارهای سفالی پیشرفت قابل توجهی یافتند.

(۱) ص - غ - ص - غ (۲) غ - ص - غ - ص

(۳) غ - ص - ص - غ (۴) ص - غ - غ - ص

۱۱۹- به ترتیب چغامیش، سیلک، شهداد و شوش از نخستین شهرها در فلات ایران در کدام مناطق ایران قرار داشتند؟

(۱) خوزستان - کاشان - کرمان - خوزستان (۲) ایلام - کرمان - سیستان - خوزستان

(۳) خوزستان - کاشان - سیستان - ایلام (۴) ایلام - کاشان - خوزستان - ایلام

۱۲۰- سرزمین اصلی ایلامیان شامل کدام مناطق بود و فرمانروایان کدام مناطق و به چه علت به سرزمین ایلامی‌ها لشکرکشی می‌کردند؟

(۱) جلگه خوزستان و مناطق کوهستانی زاگرس شمالی و غربی - سومری و آشوری به دلیل نیاز به زمین‌های کشاورزی فلات ایران

(۲) جلگه خوزستان و مناطق کوهستانی زاگرس جنوبی و میانی - سومری و آکدی به دلیل نیاز به منابع طبیعی و معدنی فلات ایران

(۳) جلگه خوزستان و مناطق کوهستانی زاگرس جنوبی و میانی - آکدی و آشوری به دلیل نیاز به منابع طبیعی و معدنی فلات ایران

(۴) جلگه خوزستان و مناطق کوهستانی زاگرس شمالی و مرکزی - سومری و بابلی به دلیل نیاز به زمین‌های کشاورزی فلات ایران

۱۲۱- مهم‌ترین عوامل ناشی از موقعیت جغرافیایی ایران کدام‌اند و مهم‌ترین کمربندهای خشک و بیابانی جهان در اثر کدام‌یک از این عوامل به‌وجود

آمده است؟

- (۱) عرض جغرافیایی، پرفشار جنب حاره‌ای و دوری و نزدیکی به دریاها - پرفشار جنب حاره‌ای
- (۲) عرض جغرافیایی، دوری و نزدیکی به دریاها و ارتفاع - عرض جغرافیایی
- (۳) عرض جغرافیایی، پرفشار جنب حاره‌ای و دوری و نزدیکی به دریاها - عرض جغرافیایی
- (۴) عرض جغرافیایی، پرفشار جنب حاره‌ای و ارتفاع - پرفشار جنب حاره‌ای

۱۲۲- شباهت و تفاوت توده هوای موسمی و سودانی چیست؟

- (۱) هر دو در فصل سرد وارد ایران می‌شوند ولی توده هوای سودانی موجب ریزش باران و توده هوای سودانی موجب گرم شدن و خشکی هوا می‌شود.
- (۲) هر دو از سمت جنوب غربی ایران وارد کشور می‌شوند ولی توده هوای موسمی در فصل گرم و توده هوای سودانی در فصل سرد وارد می‌شود.
- (۳) هر دو باعث ریزش باران در کشور می‌شوند ولی توده هوای موسمی از جنوب شرقی و توده هوای سودانی از سمت جنوب غربی وارد کشور می‌شود.
- (۴) هر دو در فصل گرم وارد کشور می‌شوند ولی توده هوای موسمی از سمت جنوب شرقی و توده هوای سودانی از سمت جنوب غربی وارد کشور می‌شود.

۱۲۳- یکی از عوامل ایجاد بیابان‌های ایران کدام است و «دشت کویر» از کدام نوع بیابان‌ها محسوب می‌شود؟

- (۱) ارتفاع رشته کوه‌های زاگرس و البرز - بیابان‌های گرم با زمستان‌های سرد
- (۲) جهت رشته کوه‌های زاگرس و البرز - بیابان‌های گرم با زمستان‌های سرد
- (۳) ارتفاع رشته کوه‌های زاگرس و البرز - بیابان‌های گرم با زمستان‌های ملایم
- (۴) جهت رشته کوه‌های زاگرس و البرز - بیابان‌های گرم با زمستان‌های ملایم

۱۲۴- محدوده جغرافیایی بحرانی پدیده ریزگردها شامل کدام یک از کشورهای زیر نمی‌شود؟

- (۱) عراق (۲) ترکیه (۳) کویت (۴) بحرین

۱۲۵- در حالت وارونگی دما در لایه اولیه جو (... با افزایش ارتفاع دمای هوا ابتدا ... و سپس ... می‌یابد.

- (۱) تروپوسفر - کاهش - افزایش
- (۲) مزوسفر - کاهش - افزایش
- (۳) تروپوسفر - افزایش - کاهش
- (۴) مزوسفر - افزایش - کاهش

۱۲۶- هر یک از عبارتهای زیر به ترتیب مربوط به کدام منطقه کوهستانی کشورمان است؟

- (الف) بخش اعظم این چین خوردگی وسیع، حاصل کوه‌زایی مواد رسوبی طی میلیون‌ها سال است.  
(ب) رشته کوه قره داغ از رشته کوه‌های این منطقه کوهستانی است.  
(پ) چین خوردگی دیواره مانندی با دره‌های موازی و به طول صدها کیلومتر، چشم‌انداز این ناحیه کوهستانی را تشکیل داده است.

- (۱) زاگرس - آذربایجان - مرکزی
- (۲) البرز - شمال خراسان - زاگرس
- (۳) زاگرس - شمال خراسان - مرکزی
- (۴) البرز - آذربایجان - زاگرس

۱۲۷- کوهستان‌های تالش با چه جهتی، منطقه آذربایجان را از کناره‌های دریای خزر جدا کرده است و شیب عمومی این کوه‌ها به کدام سمت

بیش تر است و کدام مورد از عواملی است که هم طبیعت و هم انسان در منطقه زاگرس در ایجاد و گسترش آن مؤثر است؟

- (۱) شرقی، غربی - خزر - سیلاب دشت‌ها  
(۲) شرقی، غربی - منطقه آذربایجان - توفان‌های گردوغبار  
(۳) شمالی، جنوبی - خزر - توفان‌های گردوغبار  
(۴) شمالی، جنوبی، منطقه آذربایجان - سیلاب دشت‌ها

۱۲۸- پیدایش نهایی ناهمواری‌های ایران مربوط به چه دورانی است و طی چه دوره‌ای ناهمواری‌های کشور ما شکل نهایی یافته است؟

- (۱) اوایل دوره مزوزوئیک - ترشیاری  
(۲) اوایل دوره مزوزوئیک - کوآترنر  
(۳) اواخر دوره سنوزوئیک - ترشیاری  
(۴) اواخر دوره سنوزوئیک - کوآترنر

۱۲۹- کدام گزینه به ترتیب پاسخ سؤالات زیر می‌باشد؟

الف) کدام مورد از مشخصات گل‌فشان‌ها نیست؟

ب) کدام دشت در هنگام چین‌خوردگی‌ها و حد فاصل تاقدیس‌ها و یا در میان ناودیس‌ها ایجاد شده است؟

- (۱) الف) به صورت حوضچه‌های مملو از آب و گل مشاهده می‌شوند. ب) دشت کاکان در کرمانشاه  
(۲) الف) به صورت حوضچه‌های مملو از آب و گل مشاهده می‌شوند. ب) دشت ارژن در فارس  
(۳) الف) گل‌فشان‌ها به علت خروج گاز یا گوگرد از اعماق زمین به بالا می‌آیند. ب) دشت کاکان در فارس  
(۴) الف) گل‌فشان‌ها به علت خروج گاز یا گوگرد از اعماق زمین به بالا می‌آیند. ب) دشت ارژن در فارس

۱۳۰- به ترتیب کدام گزینه پاسخ صحیح سؤالات زیر می‌باشد؟

الف) کدام مفهوم بیانگر اصطلاح «هوا» است؟

ب) کدام مناطق بهترین مکان برای انجام فعالیت‌های کشاورزی هستند؟

ج) کدام عامل می‌تواند نهشته‌ها و آبرفت‌های فراوانی را بر جلگه‌های ساحلی تحمیل کند؟

- (۱) الف) به حالت آبی و زودگذر جو گفته می‌شود. ب) جلگه‌ها ج) رودهای طغیانی  
(۲) الف) مجموعه عناصر جوی پایدار و غالب در یک منطقه در درازمدت ب) دشت‌ها ج) نوسانات عمومی آب دریاها  
(۳) الف) به حالت آبی و زودگذر جو گفته می‌شود. ب) دشت‌ها ج) نوسانات عمومی آب دریاها  
(۴) الف) مجموعه عناصر جوی پایدار و غالب در یک منطقه در درازمدت ب) جلگه‌ها ج) رودهای طغیانی

۱۳۱- در چه صورتی ما متوجه تنوع جهان‌های اجتماعی دیگر نمی‌شویم و انسان‌ها در هر موقعیتی که قرار می‌گیرند، ابتدا چه کاری انجام می‌دهند؟

- (۱) به تاریخ گذشته خود رجوع کنیم. - آن موقعیت را برای خود تعریف می‌کنند.  
(۲) چشم خود را بر جوامع دیگر که هم اینک در دیگر نقاط دنیا وجود دارند بگشاییم. - در آن موقعیت دست به عمل می‌زنند.  
(۳) فقط جهانی را ببینیم که در آن متولد شده‌ایم. - آن موقعیت را برای خود تعریف می‌کنند.  
(۴) جهان خود را با جوامع دیگر مقایسه کنیم. - در آن موقعیت دست به عمل می‌زنند.



۱۳۲- هر جهان اجتماعی بر چه اساس افق‌ها و ظرفیت‌های جدیدی برای انسان فراهم می‌کند و جهان‌های اجتماعی را بر چه اساس می‌توان

ارزیابی کرد؟

- (۱) رفتارها و هنجارهای خود - قواعد و ساختاری که دارند.
- (۲) عقاید و ارزش‌های خود - قواعد و ساختاری که دارند.
- (۳) رفتارها و هنجارهای خود - فرصت‌ها و محدودیت‌هایی که به دنبال می‌آورند.
- (۴) عقاید و ارزش‌های خود - آرمان‌ها و ارزش‌های آنها و فرصت‌ها و محدودیت‌هایی که به دنبال می‌آورند.

۱۳۳- کدام گزینه مناسب هر یک از عبارات‌های زیر است؟

الف) فرقه‌های صوفیه

ب) یک دانشجوی خرم‌آبادی برای تحصیل در دانشگاه تهران مجبور به ترک دیار می‌شود.

- (۱) با رویکرد دنیاگریز خود، از توانمندی‌های آدمی برای آباد کردن این جهان استفاده نمی‌کنند. - فرصت‌ها و محدودیت‌ها به هم وابسته‌اند.
- (۲) استعدادها و سرمایه‌های معنوی انسان را نادیده می‌گیرند. - فرصت‌ها و محدودیت‌ها به دنبال نمادها و هنجارها به وجود می‌آیند.
- (۳) با رویکرد دنیاگریز خود از توانمندی‌های آدمی برای آباد کردن این جهان استفاده می‌کنند. - فرصت‌ها و محدودیت‌ها دو روی یک سکه‌اند.
- (۴) مانع بسط ابعاد دنیوی وجود انسان می‌شوند. - فرصت‌ها و محدودیت‌ها دو روی یک سکه‌اند.

۱۳۴- در ارتباط با «جهان متجدد» کدام یک از عبارات‌های زیر درست نیست؟

الف) جهان صرفاً از مواد و موجودات خامی ساخته شده است که همه در اختیار و کنترل بشرند.

ب) در جهان متجدد، کنش‌هایی که اهداف دنیوی را به وسیلهٔ علوم عقلانی تعقیب می‌کنند، به شدت رواج می‌یابند.

پ) در این جهان آدمیان متوجه اهداف دنیوی‌اند و برای رسیدن به این اهداف، از علوم تجربی استفاده می‌کنند.

ت) رواج کنش‌های حسابگرانهٔ معطوف به دنیا، عرصه را بر سایر کنش‌های انسانی وسیع‌تر می‌کند.

- (۱) الف و ب (۲) پ و ت (۳) ب و ت (۴) الف و پ

۱۳۵- جهان متجدد چه علمی را علم نمی‌شناسد و رشد علوم تجربی و فناوری حاصل از آن، برای تسلط بر طبیعت و جامعه را چه می‌نامند؟

(۱) علمی را که با روش‌های تجربی به‌دست می‌آیند - گسترش عقلانیت ابزاری

(۲) علمی را که با روش‌های تجربی به‌دست می‌آیند - گسترش عقلانیت ذاتی

(۳) علمی را که از روش‌های عقلانی و وحیانی استفاده می‌کنند - گسترش عقلانیت ذاتی

(۴) علمی را که از روش‌های فراتجربی استفاده می‌کنند - گسترش عقلانیت ابزاری

۱۳۶- به ترتیب کدام گزینه جاهای خالی عبارات‌های زیر را کامل می‌کند؟

الف) آرمان‌های جهان اجتماعی در ... متبلور می‌شود.

ب) آرمان‌ها و قلمرو آرمانی همان نظام معیار ... است که بسیاری کم و بیش به آن عمل می‌کنند.

پ) ارزش‌هایی که مردم یک جامعه به آن عمل می‌کنند، قلمرو ... جهان اجتماعی را شکل می‌دهد.

ت) برنامه‌ریزان فرهنگی هر جامعه، همواره تلاش می‌کنند تا از طریق ... زمینهٔ تحقق بیش‌تر آرمان‌ها و ورود آن‌ها به قلمرو جهان

اجتماعی را فراهم کنند.

(۱) هنجارها - جهان انسانی - آرمانی - فرهنگ

(۲) هنجارها - جهان اجتماعی - آرمانی - تعلیم و تربیت

(۳) ارزش‌ها - جهان انسانی - واقعی - فرهنگ

(۴) ارزش‌ها - جهان اجتماعی - واقعی - تعلیم و تربیت



۱۳۷- کدام گزینه مبین پاسخ صحیح پرسش‌های زیر است؟

الف) چگونه جوامع از حق گسسته می‌شوند و به سوی باطل گام برمی‌دارند؟

ب) علت وجود داشتن امکان انحراف از حق و پذیرش باطل از سوی جوامع چیست؟

- ۱) اگر ایمان خود را نسبت به حقایق از دست بدهند - تغییرپذیر بودن حقایق از جهت قرار گرفتن در قلمروهای آرمانی و واقعی
- ۲) اگر به حقایق ایمان نیاورند - ثابت نبودن حقیقت به خودی خود
- ۳) اگر به حقایق ایمان نیاورند - ثابت بودن حقیقت در قلمرو آرمانی و تغییرپذیر بودن آن در قلمرو واقعی
- ۴) اگر هنجارهای خود را براساس ارزش‌های حقیقی سامان ندهند - متغیر بودن حقایق از جهت قرار گرفتن در قلمرو واقعی

۱۳۸- کدام گزینه دربارهٔ حق و باطل در جهان‌های اجتماعی مختلف درست است؟

- ۱) حق و باطل، مانند آرمان و واقعیت از جامعه‌ای به جامعهٔ دیگر متفاوت نیست.
- ۲) حق و باطل بودن عقاید، ارزش‌ها، کنش‌ها و هنجارها، براساس توجه یا بی‌توجهی مردم جهان‌های اجتماعی مختلف نسبت به آن‌ها تعیین می‌شود.
- ۳) باطل بودن عقاید و ارزش‌هایی مانند نژادپرستی، استکبار و پول‌پرستی با نوع مواجههٔ جوامع مختلف با آن‌ها دگرگون می‌شود.
- ۴) ارزش‌های حق و باطل با موافقت و مخالفت آدمیان تغییر نمی‌یابند.

۱۳۹- به ترتیب هر یک از موارد زیر مربوط به تأثیر کدام یک از جهان‌ها بر جهان دیگر می‌باشد؟

- یک انسان باتقوا، جهانی را تغییر می‌دهد.

- جهان اجتماعی مانع شکوفایی برخی از اخلاقیات می‌شود.

- ترشح از بیش از اندازهٔ غدهٔ تیروئید موجب عصبانی شدن انسان می‌شود.

- ۱) جهان نفسانی بر جهان اجتماعی - جهان اجتماعی بر جهان نفسانی - بعد جسمانی بر جهان نفسانی
- ۲) جهان جسمانی بر جهان طبیعی - جهان اجتماعی بر جهان نفسانی - جهان نفسانی بر جهان طبیعی
- ۳) جهان نفسانی بر جهان اجتماعی - جهان طبیعی بر جهان نفسانی - جهان نفسانی بر جهان طبیعی
- ۴) جهان جسمانی بر جهان طبیعی - جهان اجتماعی بر جهان نفسانی - جهان جسمانی بر جهان طبیعی

۱۴۰- هر جهان اجتماعی بر چه اساسی، با طبیعت و بدن آدمی تعامل می‌کند و هویت اجتماعی هر فرد درون جهان اجتماعی، بر چه اساسی

شکل می‌گیرد؟

۱) به تناسب هویت خود - نمادها و هنجارهای نظام اجتماعی

۲) به تناسب هویت اخلاقی و روانی انسان‌ها - نمادها و هنجارهای نظام اجتماعی

۳) به تناسب هویت خود - عقاید و ارزش‌های آن

۴) به تناسب هویت اخلاقی و روانی انسان‌ها - عقاید و ارزش‌های آن

۱۴۱- بیت «ز ترتیب صورهای معلوم / شود تصدیق نامفهوم، مفهوم» به کدام یک از اقسام علم منطق اشاره می‌کند؟

- ۱) تصور
- ۲) تعریف
- ۳) تصدیق
- ۴) استدلال

۱۴۲- برای دستیابی به مفهوم «طاس» در بیت «بگفت این و از بارگه شد برون / دو چشمش به مانند دو طاس خون» از همهٔ راه‌های زیر می‌توانیم

استفاده کنیم به جز ...

- ۱) یافتن مصادیق خارجی طاس یا نشان دادن تصویر آن
- ۲) مراجعه به لغت‌نامه
- ۳) فهمیدن مفهوم کلی بیت و استفاده از آرایه‌های ادبی به کار رفته
- ۴) از طریق یافتن تعریف آن

۱۴۳- کدام گزینه نادرست است؟

- ۱) آموختن نحوهٔ صحیح تعریف کردن مفاهیم از اهمیت زیادی برخوردار است.
- ۲) در علم تعریف اصطلاحات تخصصی تمامی علوم مورد استفاده قرار می‌گیرد.
- ۳) از طریق تعریف می‌توانیم به کشف صورهای مجهول دست یابیم.
- ۴) در بسیاری اوقات ریشهٔ اصلی اختلافات ناشی از مشخص نبودن مفاهیم و نداشتن تعریف دقیقی از آن‌ها است.

۱۴۴- میوه فروشی ۱۰ جعبه از بین ۱۵۰ جعبه سیب یک باغدار را بررسی می کند و بیان می کند که سیب های باغ مرغوب نیستند؛ کدام شرط

استفاده از استقرا به درستی رعایت نشده است و دچار چه نوع مغالطه ای شده ایم؟

(۱) تعداد نمونه ها باید نسبت به کل جامعه آماری نسبت مناسبی داشته باشد - تعمیم شتاب زده

(۲) نمونه ها باید تصادفی باشند - مغالطه توسل به معنای ظاهری

(۳) تعداد نمونه ها باید نسبت به کل جامعه آماری نسبت مناسبی داشته باشد. مغالطه توسل به معنای ظاهری

(۴) نمونه ها باید تصادفی باشند - تعمیم شتاب زده

۱۴۵- در استدلال ... حکم یکی را به دلیل مشابهت ظاهری به مورد دیگر سرایت می دهیم و در استدلال ... با چند بار بررسی یک مورد حکم کلی

خود را بیان می کنیم.

(۱) استنتاج بهترین تبیین - تمثیلی

(۲) تعمیمی - استنتاج بهترین تبیین

(۳) تمثیلی - تعمیمی

(۴) تعمیمی - تمثیلی

۱۴۶- کدام گزینه مغالطه عبارت زیر را به درستی نشان می دهد؟

«زینب و زهرا با هم خواهر هستند. آنها هر دو سفید پوست اند، پس کل خانواده آنها سفید پوست هستند»

(۱) تمثیل ناروا (۲) مصادره به مطلوب (۳) ابهام در عبارت (۴) تعمیم شتاب زده

۱۴۷- در استدلال تمثیلی به ... توجه می کنیم و رابطه دو مفهوم شکل و بیضی ... می باشد.

(۱) وجوه اشتراک - تبیین

(۲) وجوه اختلاف - عموم و خصوص مطلق

(۳) وجوه اشتراک - تساوی

(۴) وجوه اختلاف - عموم و خصوص من وجه

۱۴۸- کدام تعریف جامع و مانع هست؟

(۱) آجر: مکعب مستطیلی که در دیوار به کار می رود.

(۲) انسان: جسمی سخت که به تدریج از بین می رود.

(۳) استدلال: معلوماتی که در آن حکم و قضاوت وجود دارد.

(۴) مجهول: ندانسته هایی که برایش استدلال یا تعریف می آوریم.

۱۴۹- ما در یک تعریف از مفاهیم ... شروع کرده و سپس مفهوم ... را بیان می کنیم و تعریف درخت به جسم نامی میوه دار، کدام یک از شرایط

تعریف را دارا نیست؟

(۱) عام - خاص - جامع و مانع بودن

(۲) عام - خاص - مانع بودن

(۳) خاص - عام - جامع بودن

(۴) خاص - عام - مانع بودن

۱۵۰- مبنای کدام نوع استقرا بر اساس تخمین بنا شده است و در کدام نوع استدلال مقدمات، ضرورتاً نتیجه را در پی دارند؟

(۱) استقرای تعمیمی - استدلال استقرایی

(۲) استنتاج بهترین تبیین - استدلال قیاسی

(۳) استقرای تعمیمی - استدلال قیاسی

(۴) استنتاج بهترین تبیین - استدلال استقرایی

۱۵۱- در کدام گزینه تعریف «مربع» شرایط تعریف صحیح رعایت شده است؟

(۱) شکل چهارضلعی با زاویه های یکسان (۲) شکل چهارضلعی منتظم با اضلاع و زوایای برابر

(۳) شکل چهارضلعی با زاویه ی ۹۰ درجه (۴) شکل چهارضلعی با اضلاع یکسان و زاویه ی مشخص

۱۵۲- تعریف «آتش» به «عنصری شبیه به نفس انسان» و تعریف «قدیم»، «به چیزی که حادث نباشد» و تعریف «شیعه» به «مسلمانی که قائل به

دوازده امام باشد» به ترتیب، کدام شرایط تعریف را ندارند؟

(۱) واضح بودن - دوری نبودن - جامع بودن

(۲) مانع نبودن - دوری بودن - واضح بودن

(۳) واضح بودن - دوری نبودن - جامع نبودن

(۴) مانع بودن - دوری بودن - مانع و جامع بودن

۱۵۳ - «تعریف نرده: به تارمی» شرط ... را ندارد و تعریف دانشگاه به مرکزی که مدرک علمی اعطا می‌کند، تعریفی ... و در تعریف باید از واژه‌های

... استفاده کنیم.

(۱) واضح بودن - مانع و جامع نیست - روشن‌تر

(۲) واضح نبودن - مانع نیست - دشوارتر

(۳) واضح نبودن - جامع است - روشن‌تر

(۴) واضح بودن - جامع است - دشوارتر

۱۵۴ - اگر هنگام تعریف، واژه «قیمتی» را به «ثمین» و «هوا» را به «سطقس شفافی که نور را از خود عبور می‌دهد» و «پرنده» را به «حیوانی که پرواز

می‌کند» تعریف کنیم، به ترتیب چه ایراداتی بر تعاریف ما وارد است و در کدام گزینه، تعریف درست و بدون نقصی ارائه شده است؟

(۱) عدم رعایت شرط واضح بودن، دوری بودن، عدم رعایت شرط جامع بودن، انسان: حیوان ناطق

(۲) عدم رعایت شرط مانع بودن، عدم رعایت شرط جامع بودن، عدم رعایت شرط واضح بودن، هلال ماه: گوشواره آسمان

(۳) عدم رعایت شرط واضح بودن، عدم رعایت شرط جامع بودن، انسان: حیوان ناطق

(۴) عدم رعایت شرط مانع بودن، عدم رعایت شرط جامع بودن، دوری بودن، آینه: شیئی که نور را منعکس می‌کند.

۱۵۵ - تعیین کنید در تعریف زیر، کدامیک از شرایط تعریف صحیح لحاظ شده است؟

«علم منطوق: علمی است که به چگونگی تفکر و تأمل در ذهن انسان می‌پردازد.»

(۱) جامع بودن (۲) مانع بودن (۳) دوری نبودن (۴) واضح بودن

۱۵۶ - در نقد استقرای تمثیلی غلط، از شیوه‌های ... و ... استفاده می‌کنیم. نتایج استدلال تمثیلی ... است. اگر بگوییم «این فرد مانند برادرش

لابالی است، برادر این فرد مردم‌آزار است، این فرد مردم‌آزار است» از ... استفاده کرده‌ایم.

(۱) نقد و بررسی نمونه‌های تصادفی - یافتن وجوه شباهت بیشتر - احتمالی - استدلال استقرایی

(۲) توجه به وجوه اختلاف - یافتن استدلال تمثیلی مخالف - احتمالی - استدلال تمثیلی

(۳) یافتن وجوه شباهت بیشتر - یافتن استدلال تمثیلی مخالف - یقینی - استدلال قیاسی

(۴) توجه به وجوه اختلاف - نقد و بررسی نمونه‌های مناسب - یقینی - استدلال تمثیلی

۱۵۷- کدام عبارت دربارهٔ تمثیل و استقرای تمثیلی نادریست است؟

- (۱) در علوم مختلف، از مشابهت و تمثیل برای توضیح بهتر مطالب استفاده می‌شود.
- (۲) مشابهت و تمثیل، در موارد زیادی از جمله ادبیات، روان‌شناسی و صنایع هوایی کاربرد دارد.
- (۳) از آن‌جا که استدلال تمثیلی براساس تخمین بیان شده، نمی‌توان از آن نتیجهٔ یقینی به‌دست آورد.
- (۴) استدلال تمثیلی ضعیف است، زیرا به صرف مشابهت ظاهری میان دو چیز، نمی‌توان احکام یکی را به دیگری سرایت داد.

۱۵۸- در صورتی که از مقدمه جزئی به نتیجه جزئی و از مقدمات جزئی به نتیجه کلی برسیم به‌ترتیب از چه نوع استدلالی استفاده کرده‌ایم؟

- (۱) تمثیل - استقرای تعمیمی
- (۲) تمثیل - قیاس
- (۳) استقرای تعمیمی - قیاس
- (۴) استقرای تعمیمی - تمثیل

۱۵۹- کدام گزینه دربارهٔ تعریف مفهومی نیست؟

- (۱) در این تعریف، علاوه بر ارائه نمونه‌ها و مصادیق، به ذکر اصطلاحات مترادف و اوصاف و ویژگی‌های مشترک و خاص یک مفهوم می‌پردازد.
- (۲) این تعریف، به دو روش صورت می‌گیرد یا تعریف به سلسله اوصاف و ویژگی‌های مفهوم می‌پردازد یا تعریف به مفاهیم عام و خاص صورت می‌گیرد.
- (۳) در این نوع تعریف به دسته‌بندی ویژگی‌های یک مفهوم به صورت ویژگی‌های مشترک با سایر مفاهیم و ویژگی‌های خاص آن شیء می‌پردازیم.
- (۴) در این نوع از تعریف، اوصاف و ویژگی‌ها به نحوی ذکر می‌شوند که در کنار هم تنها بیانگر یک مفهوم باشند.

۱۶۰- تعریف «سخن چین به واشی» و «عطر به ماده‌ای خوشبو» به‌ترتیب کدام یک از شرایط تعریف رعایت نشده است؟

- (۱) واضح بودن - جامع بودن
- (۲) واضح بودن - مانع بودن
- (۳) مانع بودن - واضح بودن
- (۴) مانع بودن - دوری نبودن