

۱- معنای صحیح واژه‌های (دژم، آوری، نفیر، سروش) در کدام گزینه آمده است؟

- (۱) قلعه، بی‌گمان، نفرت، فرشته
- (۲) خشمگین، به طور قطع، فریاد، فرشته پیام آور
- (۳) دشمن، تردید، صدای بلند، پیغام
- (۴) خشمگین، شک و گمان، بیزاری، پیام رسان

۲- در کدام بیت غلط املایی می‌یابید؟

- (۱) سپهد ز خالیگران خواست خوان / کسی را نفرمود کو را بخوان
- (۲) بداد لعل لبث یوسه‌ای به صد زاری / گرفت کام دلم ز او به صد هزار الحاح
- (۳) دمنده سیه دیوشان پیشرو / همی به آسمان برکشیدند غو
- (۴) گاه براند به نیم همچو کبوتر ز وطن / گاه به صد لابه مرا خواند تا محضر خود

۳- پدیده‌آورنده آثار «چشمه روشن و روضه خلد» به ترتیب چه کسانی هستند؟

- (۱) غلامحسین ساعدی، مجد خوانی
- (۲) غلامحسین یوسفی، سنایی
- (۳) غلامحسین ساعدی، سنایی
- (۴) غلامحسین یوسفی، مجد خوانی

۴- کدام بیت، آرایه تشبیه بیشتری دارد؟

- (۱) نفس آشفته می‌دارد چو گل جمعیت ما را / پریشان می‌نویسد کلک موج احوال دریا را
- (۲) در این وادی که می‌باید گذشت از هرچه پیش آید / خوش آن رهرو که در دامان دی پیچید فردا را
- (۳) نزاکت‌هاست در آغوش میناخانه حیرت / مژه برهم مزین تا نشکنی رنگ تماشا را
- (۴) سیه روزی فروغ تیره بختان بس بود بیدل / ز دود خویش باشد سرمه چشم داغ دلها را

۵- کدام آرایه‌ها در بیت زیر وجود دارد؟

«چو غنچه بر سرم از کوی او گذشت نسیمی / که پرده بر دل خونین به بوی او بدریدم»

- (۱) تشخیص، جناس، تضاد
- (۲) ایهام، تشبیه، جناس
- (۳) استعاره، ایهام تناسب، مجاز
- (۴) حس آمیزی، ایهام، تناقض

۶- نقش واژه‌های مشخص شده در بیت زیر در کدام گزینه به‌درستی آمده است؟

«قلب ما صاف کن ای شعله اکسیر اثر / چه شود نقد به جز دود ز خاشاک تو را»

- (۱) نهاد، مسند، قید
- (۲) منادا، قید، متمم
- (۳) مفعول، مسند، متمم
- (۴) مفعول، قید، قید

۱۳- هر دو آرایه مقابل کدام بیت، درست است؟

- (۱) پیمانۀ حیاتم پر شد فغان که نتوان / پیمان از او گرفتن پیوند از او بریدن (حسن تعلیل - جناس)
 (۲) برخیز تا به پای شود روز رستخیز / وانگه ببین شهید غمت در چه حالت است (تلمیح - ایهام)
 (۳) شد چمن انجمن از بوی خوشش پنداری / که سمن در بغل و گل به گریبان دارد (جناس - حس آمیزی)
 (۴) اسباب پریشانی جمع است برای من / جمعیت اگر خواهی زان طره پریشان باش (پارادوکس - مجاز)

۱۴- آرایه‌های «مجاز - جناس - ایهام تناسب - تناقض» به ترتیب در کدام گزینه آمده است؟

- (الف) بعد از این در عوض اشک، دل آید بیرون / آب چون کم شود از چشمه گل آید بیرون
 (ب) دلم امروز چون قمری سر نالیدنی دارد / مگر آن سرو قد فردا به خود بالیدنی دارد
 (ج) چون شب‌نم اوفتاده بدم پیش آفتاب / مهرم به جان رسید و به عتیق برشدم
 (د) روزگاری است که سودای بتان، دین من است / غم این‌کار، نشاط دل غمگین من است

(۱) ب، الف، ج، د (۲) الف، ب، د، ج (۳) ج، الف، د، ب (۴) د، ب، ج، الف

۱۵- نقش دستوری موصوفها در بیت زیر، به ترتیب کدام است؟

«دو چشم مست تو کز خواب صبح برخیزند/ هزار فتنه به هر گوشه‌ای برانگیزند»

(۱) نهاد، مسند، متمم (۲) مسند، مفعول، نهاد (۳) نهاد، مفعول، متمم (۴) مفعول، مسند، نهاد

۱۶- کدام بیت «متمم با دو حرف اضافه» ندارد؟

- (۱) به هر موجی اندر نهان یک نهنگ / ز شمشیر دندان، از خشت چنگ
 (۲) سنان‌ها به ابر اندر افراشته / ز چرخ برین نعره بگذاشته
 (۳) به زیر اندرش ژنده پیلی چو عاج / همه پیل‌بانانش با طوق و تاج
 (۴) گرفتش به بر برد از افزاز تخت / ببوسید روی و ببوسید سخت

۱۷- در کدام بیت، از رویدادی غیرطبیعی و بیرون از نظام عادت سخن گفته است که با منطق و تجربه علمی سازگاری ندارد؟

- (۱) شیرین بتم ای خسرو خوبان زمانه / در عشق تو گشتیم چو فرهاد فسانه
 (۲) سوز دل من شعله زد از اشک دمام / کس دید که آتش زند از آب زبانه
 (۳) در دام بلا دانه‌ی خال توام افکند / ای بس که فتد مرغ به دام از پی دانه
 (۴) زان بر جگر آب نمانده است که چشم / از گوهر شهبوار بپرداخت خزانه

۱۸- مفهوم بیت «تو یک ساعت چو آفریدون به میدان باش تا زان پس / به هر جانب که روی آری، درفش کاویان بینی» با همه ابیات

به استثنای بیت ... تناسب دارد.

- (۱) سرافکنندگی کن که زلف نگار / سرافرازی در سرافکنندگی است
 (۲) مشو غافل ز گردیدن که روزی در قدم باشد / همین آوازه می‌آید ز سنگ آسیا بیرون
 (۳) نشاید بهی یافت بی‌رنج و بیم / که بی‌رنج کس نارد از سنگ سیم
 (۴) هرآن کس که بگریزد از کارکرد / از او دور شد نام و ننگ و نبرد

۱۹- مفهوم بیت زیر، در کدام بیت دریافت می‌شود؟

«بزن زخم، این مرهم عاشق است / که بی‌زخم مردن، غم عاشق است»

- (۱) زخم شمشیر بود چاره‌پذیر از مرهم / زخم عشق است که او را به جهان مرهم نیست
 (۲) از زخم عشق گرچه دلم ریش شد ولی / ناله نمی‌کنم که چنان ریش مرهم است
 (۳) «اهلی» مکن از زخم جفا ناله که در عشق / که مرهم لطف است و گهی نشتر کین است
 (۴) مرهم بنهم بر دل و زخم مزین از طعن / کاین زخم زبان سخت‌تر از زخم سنان است

۲۰- همه ابیات به جز بیت ... با ابیات زیر قرابت معنایی دارند.

«جهل و بی‌باکی شده فاش و حلال / دانش و آزادی گشته حرام / واژگونه کرده عالم پوستین / رادمردان بندگان را گشته رام»

- (۱) نهان گشت کردار فرزانتگان / پراکنده شد نام دیوانگان
 (۲) هنر خوار شد جادویی ارجمند / نهان راستی آشکارا گزند
 (۳) به یزدان هر آن کس که شد ناسپاس / به دلش اندر آید ز هر سو هراس
 (۴) شده بر بدی دست دیوان دراز / ز نیکی نرفتی سخن جز به راز

عین الأصحّ و الأدقّ فی الجواب للترجمة أو التعريب أو المفهوم: (۲۱ - ۲۵)

۲۱- «دَخَلَتْ أَلْفَاظُ فَارِسِيَّةٌ كَثِيرَةٌ اللَّغَةَ الْعَرَبِيَّةَ وَكَانَتْ هَذِهِ الْأَلْفَاظُ تَرْتَبِطُ بِبَعْضِ الْبَضَائِعِ الَّتِي مَا كَانَتْ عِنْدَ الْعَرَبِ كَالدِّيَابِجِ!»:

- (۱) الفاظ فارسی بسیاری داخل زبان عربی شد و این الفاظ به برخی کالاهایی مربوط می‌شد که عرب نداشت مثل ابریشم!
 (۲) الفاظ فارسی بسیاری داخل زبان عربی شد و آن الفاظ به برخی کالاهایی مرتبط می‌شود که نزد عرب نبود مثل ابریشم!
 (۳) بسیاری از الفاظ فارسی داخل زبان عربی شد و اینها الفاظی بودند که به برخی کالاها مربوط می‌شد که عرب نداشت مثل ابریشم!
 (۴) الفاظ فارسی بسیاری داخل زبان عربی شده بود و این الفاظ به برخی کالاها مربوط می‌شد که نزد عرب نبود مثل ابریشم!

۲۲- «كَادَ الرَّجُلُ الْفَلَّاحُ يَغْرُقُ فِي الْبَحْرِ فَأَسْرَعَ أَصْدَقَاؤُهُ لِيَنْقِذُوهُ.»

- ۱) مرد کشاورز نزدیک بود که در دریا غرق شود، پس دوستانش برای نجات او رفتند.
- ۲) مرد کشاورز نزدیک بود که در دریا غرق شود، پس دوستانش شتافتند تا او را نجات دهند.
- ۳) آن مرد کشاورز داشت در دریا غرق می‌شد، پس دوستان شتافتند برای این‌که او را نجات دهند.
- ۴) مردی کشاورز در حال غرق شدن بود و دوستان وی می‌شتافتند تا او نجات یابد.

۲۳- عَيْنُ الْخَطَا:

- ۱) «أَفْتَشُّ عَنْ مُعْجَمٍ يُسَاعِدُنِي فِي فَهْمِ النَّصُوصِ.» به دنبال فرهنگ لغتی می‌گردم که من را در فهم متون یاری کند.
- ۲) «كَرَّرَتِ الْمَدْرَسَةُ كَلَامَهَا ثَلَاثَ مَرَّاتٍ حَتَّى تَتَعَلَّمَ الطَّالِبَاتُ الدَّرْسَ جَيِّدًا.» (خانم) معلم سخنش را سه بار تکرار کرد تا دانش‌آموزان درس را به خوبی یاد بگیرند.
- ۳) «لَا يَسْتَطِيعُ الْكَذَّابُ أَنْ يُخْفِيَ كِذْبَهُ أَوْ يُنْكِرَهُ.» فرد بسیار دروغ‌گو نمی‌تواند دروغش را پنهان کند یا آن را انکار کند.
- ۴) «لَا يَرْجِعُ الْوَالِدُ إِلَى الْبَيْتِ حَتَّى السَّاعَةِ الثَّامِنَةِ مَسَاءً.» پسر تا ساعت هفت شب به خانه نمی‌آید.

۲۴- «در روز شنبه کتابی را خریدم که در بازار آن را دیده بودم.»

- ۱) فی یوم السَّبْتِ اشْتَرَيْتُ كِتَابًا قَدْ رَأَيْتُهُ فِي السُّوقِ.
- ۲) فی یوم الثَّلَاثَاءِ اشْتَرَيْتُ كِتَابًا أَشَاهِدُ فِي السُّوقِ.
- ۳) اشْتَرَيْتُ يَوْمَ السَّبْتِ الْكِتَابَ قَدْ رَأَيْتَهَا فِي سُوْقٍ.
- ۴) قَدْ اشْتَرَيْتُ يَوْمَ السَّبْتِ كِتَابًا شَاهَدْتُهُ فِي الْمَتَجَرِّ.

۲۵- «الصَّبْرُ مِفْتَاحُ الْفَرَجِ.» عَيْنُ الْأَبْعَدِ فِي الْمَفْهُومِ:

- ۱) إِنَّ اللَّهَ يُحِبُّ الصَّابِرِينَ!
- ۲) گر صبر کنی ز غوره حلوا سازی!
- ۳) مَنْ صَبَرَ ظَفَرَ!
- ۴) إِعْلَمُ أَنَّ النَّصْرَ مَعَ الصَّبْرِ.

۲۶- عَيْنُ مَا لَيْسَ فِيهِ الْمُتَضَادُّ:

- ۱) لَا تَسْتَشِيرِ الْكَذَّابَ فَإِنَّهُ كَالسَّرَابِ يُقْرَبُ عَلَيْكَ الْبَعِيدُ وَ يُبْعَدُ عَلَيْكَ الْقَرِيبُ.
- ۲) يَبْلُغُ الصَّادِقُ بِصَدْقِهِ مَا لَا يَبْلُغُهُ الْكَاذِبُ بِاِحْتِبَالِهِ.
- ۳) «عَسَى أَنْ تَكْرَهُوا شَيْئًا وَ هُوَ خَيْرٌ لَكُمْ وَ عَسَى أَنْ تُحِبُّوا شَيْئًا وَ هُوَ شَرٌّ لَكُمْ»
- ۴) «أَنْفَقُوا مِمَّا رَزَقْنَاكُمْ مِنْ قَبْلِ أَنْ يَأْتِيَ يَوْمٌ لَا بَيْعَ فِيهِ وَ لَا خَلَّةَ...»

۲۷- فی اى عبارة الاسم النكرة يترجم معرفة؟

- ۱) بعد اى حادث تاريخى اشتد نقل الكلمات الفارسية الى العربية؟
- ۲) هذا المؤلف فقد ألف كتاباً يضم الكلمات الفارسية المعربة.
- ۳) فريقنا فى مسابقة كرة المنضدة فائز اليوم.
- ۴) وصلت إلى قرية جميلة فى محافظتكم فى الأسبوع الماضى.

۲۸- عَيْنُ الْجُمْلَةِ غَيْرِ الصَّحِيحَةِ حَسَبَ الْحَقِيقَةِ:

- ۱) الْمِسْكُ عَطْرٌ يَتَّخَذُ مِنْ نَوْعٍ مِنَ الْغِرْلَانِ.
- ۲) الشَّرْشَفُ قِطْعَةٌ قِمَاشٍ تُوَضَعُ عَلَى السَّرِيرِ.
- ۳) فى اللُّغَةِ الْعَرَبِيَّةِ مِثَالُ الْكَلِمَاتِ الْمُعْرَبَةِ ذَاتِ الْأَصُولِ الْفَارْسِيَّةِ.
- ۴) الْعَرَبُ يَنْطِقُونَ الْكَلِمَاتِ الدَّخِيلَةَ طَبَقَ أَصْلِهَا.

۲۹- عَيْنُ الْخَطَا حَوْلَ الْحَوَارِ:

- ۱) بِمَ يَذْهَبُ الطُّلَّابُ إِلَى الْمَدْرَسَةِ؟ الطُّلَّابُ يَذْهَبُونَ إِلَى الْمَدْرَسَةِ بِالْحَافِلَةِ.
- ۲) كَيْفَ الْجَوُّ فِي أَرْدَبِيلَ فِي الشِّتَاءِ؟ الْجَوُّ فِيهَا بَارِدٌ جَدًّا.
- ۳) مَا هُوَ التَّمَثَالُ؟ (هِيَ) الْأَمْثَلَةُ الَّتِي نَسْتَعْمَلُهَا فِي الْحَوَارَاتِ.
- ۴) مَاذَا تَشَاهِدُ فَوْقَ النَّهْرِ؟ أَشَاهِدُ جِسْرًا لِلْمُرُورِ.

٣٠- عَيْنِ الْخَطَأِ فِي ضَبْطِ حَرَكَاتِ الْكَلِمَاتِ:

- (١) الْكَلِمَاتُ الْفَارِسِيَّةُ الَّتِي دَخَلَتْ اللَّغَةَ الْعَرَبِيَّةَ قَدْ تَغَيَّرَتْ أَصْوَاتُهَا وَأَوْزَانُهَا!
- (٢) عَلَيْنَا أَنْ نَعْلَمَ أَنَّ تَبَادُلَ الْمُفْرَدَاتِ بَيْنَ اللُّغَاتِ فِي الْعَالَمِ أَمْرٌ طَبِيعِيٌّ!
- (٣) كَانَ لِابْنِ الْمُقَفَّعِ دَوْرٌ عَظِيمٌ فِي نُفُوزِ اللُّغَةِ الْفَارِسِيَّةِ!
- (٤) عَالِمٌ يُنْتَفَعُ بِعِلْمِهِ، خَيْرٌ مِنْ أَلْفِ عَابِدٍ.

■ اِقْرَأِ النَّصَّ التَّالِيَ بِدَقَّةٍ ثُمَّ أَجِبْ عَنِ الْأَسْئَلَةِ: (٣١-٣٥)

يعتبر الصدق من أحد الضروريات لاستقامة حياة الناس والمجتمع النَّاجِح. له أثر كبير على حياة الفرد وعلى المجتمع أيضاً. الصدق يدخل كل تفاصيل حياة الفرد ولا يقتصر على صدق القول والأحاديث بل يرتبط ذلك بدلالات أخرى في القرآن الكريم ولو نتدبر في حال المؤمن لوجدنا أنه نال (وصل) أعلى درجات الإيمان بفضل صدقه في القول والعمل وصدق الإرادة والعزم فالمسلم حينما يكون صادقاً مع نفسه ومع ربه ومع الناس جميعاً يستطيع أن يكتسب الثقة (الاعتماد) بين نفسه والمجتمع. الصدق سبيل الأمة للنجاة من المهالك، كما قال الرسول (ص): «إنَّ الصِّدْقَ يَهْدِي إِلَى الْبِرِّ وَإِنَّ الْبِرَّ يَهْدِي إِلَى الْجَنَّةِ وَإِنَّ الرَّجُلَ لِيَصْدُقَ حَتَّى يَكُونَ صِدِّيقًا وَإِنَّ الْكُذْبَ يَهْدِي إِلَى الْفُجُورِ وَإِنَّ الْفُجُورَ يَهْدِي إِلَى النَّارِ وَإِنَّ الرَّجُلَ لِيَكْذِبَ حَتَّى يُكْتَبَ عِنْدَ اللَّهِ كَذَّابًا.»

٣١- ماذا نستنبط من النص؟

- (١) الصدق وآثاره لا يشاهد إلّا في زمن محدود.
- (٢) لا فرق بين الصديق والكذاب حينما يعيشان في مجتمع واحد.
- (٣) النجاة في الصدق والسقوط في الكذب وكل منهما يوجد بين الناس.
- (٤) الرجل الصادق يصدق في قوله والرجل الكاذب يكذب في عمله.

٣٢- عَيْنِ الْخَطَأِ حَسَبِ النَّصِّ:

- (١) الصدق والالتزام به يُنجيان المرء من السقوط في المهالك.
- (٢) على الإنسان أن يكون صادقاً في قوله وعمله.
- (٣) بفضل الصدق يصل المؤمن إلى إيمان قوي.
- (٤) المجتمع النَّاجِح لا يعتقد بصدق الفرد وحياته.

■ عَيْنِ الصَّحِيحِ فِي التَّوَعُّيَّةِ وَالْمَحَلِّ الْإِعْرَابِيِّ لِلْكَلِمَاتِ الْمَعْيَنَةِ فِي النَّصِّ: (٣٣-٣٥)

٣٣- «يُكْتَسَبُ»:

- (١) مضارع - حروفه الأصلية «ك س ب» و له حرفان زائدان / فعل و فاعله «الثقة»
- (٢) فعل مضارع - مفرد مذكر غائب - له حرفان أصليان / مع فاعله جملة فعلية
- (٣) للغائب - مصدره «اكتساب» من وزن «انفعال» - معلوم / مع فاعله جملة فعلية و مفعوله «الثقة»
- (٤) فعل مضارع - للغائب - ماضيه «اكتسب» على وزن «افتعل» / فعل و مع فاعله جملة فعلية

٣٤- «النَّاجِحُ»:

- (١) اسم - نكرة - اسم الفاعل / فاعل لفعل «يعتبر»
- (٢) مفرد مذكر - اسم الفاعل (مأخوذ من فعل «نَجَح») / صفة و مجرورة
- (٣) اسم - معرفٌ بأل - اسم مفعول / مفعول لفعل «يعتبر»
- (٤) مفرد مذكر - معرفٌ بال - حروفه الأصلية «ن ج ح» / مضاف إليه و مجرور

٣٥- «تَدَبَّرَ»:

- (١) فعل مضارع - للمتكلم مع الغير - ماضيه «تدبّر» على وزن «تفعل» / فعل و مع فاعله جملة فعلية
- (٢) فعل مضارع - حروفه الأصلية (د ب ر) و مصدره على وزن «تفعيل» / فعل و فاعله «المؤمن»
- (٣) فعل مضارع - للمخاطبين - ليس له حرف زائد / مع فاعله جملة فعلية
- (٤) للمتكلم مع الغير - حروفه الأصلية (ب د ر) / فعل و مع فاعله جملة فعلية

۳۶- فی آیّ جوابِ ما جاء الاسم النكرة؟

- (۱) الشجرة الخانقة شجرة تنمو في غابات إفريقيا.
- (۲) السوار العتيق على المنضدة الخشبية للجدّة الحنونة.
- (۳) قالت طالبان: جزيرة قشم وقعت في محافظة هرمزجان في جنوب إيران.
- (۴) يحتوي بعض الأشجار في جذورها على مقدار من الزيت.

۳۷- عین اسماً معرفة في محلّ المفعول:

- (۱) اُكْتُبْ نصّاً حول حياة الموجودات الحيّة باللّغة العربيّة.
- (۲) سَطَّحْ أُمَكِ الأَطعمة اللّذيذة بمساعدة أختك الصّغيرة.
- (۳) يَكْتُبُ العلماءُ مقالاتين في هذه المجلّة العلميّة.
- (۴) قرأت الطالبة المثاليّة إنشاءً عن آداب الطالب في محضر المعلّم.

۳۸- عین الخطأ فيما يلي:

- (۱) «أَكْرَمَنْ»: الماضي من باب إفعال
- (۲) «تُنزِّلِينَ»: المضارع من باب تفعيل
- (۳) «تَكَاتَيْنِ»: الأمر من باب تفاعل
- (۴) «وَأَفْقَى»: الأمر من باب مُفاعلة

۳۹- عین الفعل المضارع بمعنى المستقبل المنفي:

- (۱) تَجْتَهِدِ الطّالبات كثيراً لِيَنْجَحْنَ في امتحاناتهنّ.
- (۲) يَعْمَلُ الفلّاحون في المزارع كلّ يومٍ.
- (۳) يَجِبُ عليكم أن تعبدوا ربّكم الغفور.
- (۴) أو لئلك التلاميذُ لَنْ يتكاسلوا في أمورهم الدّراسيّة.

۴۰- عین عبارة ليست فيها جملةٌ بعد نكرة:

- (۱) ذَهَبَ سعيدٌ يُسَاعِدُ زملاءه في الدّرس.
- (۲) اللَّهُمَّ إِنِّي أَعُوذُ بِكَ مِنْ نَفْسٍ لَاتَشْبَعُ.
- (۳) رأيتُ طالباً يَجْتَهِدُ للنّجاح في مسابقة حفظ القرآن.
- (۴) إرضاءُ النَّاسِ غايةٌ لا تُدرَكُ.

۴۱- در کلام امیرالمؤمنین (ع) و هشدار ایشان، تشخیص راه رستگاری در ابتدا کدام است و راه حل نهایی آن چیست؟

- (۱) شناسایی فراموش کنندگان قرآن کریم - ثابت قدم بودن در مسیر الهی
- (۲) شناسایی پشت کنندگان به صراط مستقیم - ثابت قدم بودن در مسیر الهی
- (۳) شناسایی پشت کنندگان به صراط مستقیم - طلب راه حق از اهل آن
- (۴) شناسایی فراموش کنندگان قرآن کریم - طلب راه حق از اهل آن

۴۲- به جز امام علی (ع) کدام یک از امامان دارای ولایت معنوی هستند و رهبری حقیقی مسلمانان، هم اکنون برعهده چه کسی است؟

- (۱) امام زمان (ع) - ولی فقیه
- (۲) امام زمان (ع) - امام زمان (ع)
- (۳) تمام امامان (ع) - امام زمان (ع)
- (۴) تمام امامان (ع) - ولی فقیه

۴۳- در حدیث رضوی «شروطها و أنا من شروطها» کدام قلمرو و مسئولیت امامان مورد نظر است و علت آن کدام است؟

- (۱) مرجعیت دینی - زیرا تبیین معارف اسلامی با توجه به نیازهای نو توسط امامان انجام می گیرد.
- (۲) ولایت ظاهری - زیرا تبیین معارف اسلامی با توجه به نیازهای نو توسط امامان انجام می گیرد.
- (۳) مرجعیت دینی - زیرا تجلی توحید در زندگی اجتماعی با ولایت امام که همان ولایت خداست میسر است.
- (۴) ولایت ظاهری - زیرا تجلی توحید در زندگی اجتماعی با ولایت امام که همان ولایت خداست میسر است.

۴۴- امام حسین (ع)، آمادگی برای ملاقات با خدا را حق چه گروهی می‌داند و کدام امام با انتقادهای شدید نسبت به حکومت، مردم را آگاه

می‌ساخت؟

(۱) مسلمانان - امام حسن (ع)

(۲) مؤمنان - امام حسن (ع)

(۳) مسلمانان - امام حسین (ع)

(۴) مؤمنان - امام حسین (ع)

۴۵- از آیه شریفه «ذلک بأن الله لم یکمغیراً نعمته انعمها علی قوم حتی یغیروا ما بانفسهم و ان الله سمیع علیم» تمام مفاهیم زیر استنباط

می‌شود؛ به جز ...

(۱) اگر مردم نعمتی را که خدا به آنها داده است، درست استفاده نکنند، خداوند آن نعمت را از آنان می‌گیرد.

(۲) مردم اختیار دارند سرنوشت خود را با اراده خود انتخاب کنند.

(۳) سیاست‌گزاران واقعی نعمت رسالت، کسانی هستند که پیرو اسلام باشند.

(۴) زمینه‌ساز هلاکت یا عزت و سربلندی یک جامعه، اعمال و کردار همان جامعه است.

۴۶- رفتار اهل بیت و مسیر حرکت آنها به ترتیب چگونه بود و تقیه چه ثمره‌ای داشت؟

(۱) یکسان - مکمل یکدیگر - در عین کمتر ضربه زدن به دشمن، کمتر ضربه بخورند.

(۲) مکمل یکدیگر - مختلف - در عین کمتر ضربه زدن به دشمن، کمتر ضربه بخورند.

(۳) یکسان - مکمل یکدیگر - عدم شناسایی و به شهادت نرساندن یاران صمیمی و قابل اعتماد و فداکار توسط حاکمان

(۴) مکمل یکدیگر - مختلف - عدم شناسایی و به شهادت نرساندن یاران صمیمی و قابل اعتماد و فداکار توسط حاکمان

۴۷- مفاهیم «امامان تفاوت‌های اخلاقی و رفتاری حاکمان را در نظر می‌گرفتند.» و «سعی در باقی‌ماندن تفکر اسلام راستین» به ترتیب مبین

کدام اصول کلی امامان در مبارزه با حاکمان زمان بوده است؟

(۱) انتخاب شیوه‌های درست مبارزه - معرفی خویش به عنوان امام برحق

(۲) انتخاب شیوه‌های درست مبارزه - انتخاب شیوه‌های درست مبارزه

(۳) عدم تأیید حاکمان - انتخاب شیوه‌های درست مبارزه

(۴) عدم تأیید حاکمان - معرفی خویش به عنوان امام برحق

۴۸- کدام گزاره درباره اهل بیت (ع)، صحیح بیان شده است؟

(۱) امام صادق (ع) سال‌های طولانی در زندان به سر بردند تا اینکه به وسیله هارون به شهادت رسیدند.

(۲) با شهادت امام سجاد (ع) مرحله بسیار سختی برای شیعیان و علویان پدید آمد به طوری که حتی ارتباط معمولی و رفت و آمد به خانه امام نیز مشکل

شد.

(۳) امام صادق (ع) اقدام به پایه‌گذاری یک مدرسه علمی بزرگ در مدینه کرد که اقدامی ضروری بود.

(۴) زیارت جامعه کبیره یکی از منابع معرفتی شیعه است که توسط امام هادی (ع) بیان شده و یاران امام برای ما نقل کرده‌اند.

۴۹- به ترتیب بیان کنید «حضور نواب اربعه در چه دورانی بود.» و «مردم معاصر با تولد امام زمان کدام وظیفه را انجام نمی‌دادند.» و «امامان

در صورت به‌دست گرفتن خلافت، مردم را به سوی کدام اصول دین، پیش از پیش فرا می‌خواندند؟

(۱) غیبت صغری - تولی و تبری - توحید و عدل

(۲) غیبت صغری - امر به معروف و نهی از منکر - توحید و عدل

(۳) غیبت کبری - امر به معروف و نهی از منکر - نبوت و امامت

(۴) غیبت کبری - تولی و تبری - نبوت و امامت

۵۰- تداوم دین اسلام، ثمره کدام عمل مهم امامان (ع) است و تشکیل نظام ارتباطی و کلا با مردم، چه بازتابی داشت؟

(۱) فداکاری‌های اهل بیت (ع) - ممانعت از، از هم‌پاشیدگی شیعیان

(۲) فداکاری‌های اهل بیت (ع) - حفظ احکام دینی

(۳) تعلیم و تبیین دین صرفاً از طریق احادیث - ممانعت از، از هم‌پاشیدگی شیعیان

(۴) تعلیم و تبیین دین صرفاً از طریق احادیث - حفظ احکام دینی

51- During the past twenty years, new technologies ... our lives so much that I can't even imagine how life would be without them.

- 1) are changing 2) were changing 3) has changed 4) have changed

52- I last met John when I was in London and haven't seen him ... then.

- 1) from 2) since 3) for 4) of

53- We left the office a little earlier to avoid ... stuck in the heavy traffic of the city center.

- 1) get 2) to get 3) to getting 4) getting

54- Harriet preferred to be alone most of the time. She wasn't interested in ... time with others.

- 1) to spend 2) spend 3) spending 4) spent

55- The sign read that photography was ... in the areas near the embassy.

- 1) natural 2) forbidden 3) famous 4) emotional

56- They recommended the ... of a new government agency to be responsible for the environment.

- 1) reality 2) disorder 3) stage 4) creation

57- Some birds that were once a/an ... sight in the city are now becoming extremely rare.

- 1) common 2) unsafe 3) incomplete 4) recreational

58- They have tried to ... the public about the real cause of the accident by publishing false information.

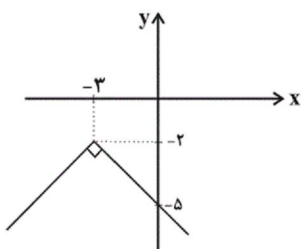
- 1) enjoy 2) imagine 3) confuse 4) remember

59- The island is a/an ... holiday destination for those who like to spend their holidays on sunny beaches.

- 1) slow 2) favorite 3) homeless 4) harmful

60- He officially ... from his position as the manager of the company in 2014.

- 1) disagreed 2) influenced 3) described 4) retired



$$y = -|x + 3| - 2 \quad (2)$$

$$y = -|x - 3| + 2 \quad (4)$$

۶۱- نمودار روبه‌رو، مربوط به کدام تابع می‌باشد؟

$$y = -|x - 3| - 2 \quad (1)$$

$$y = -|x + 3| + 2 \quad (3)$$

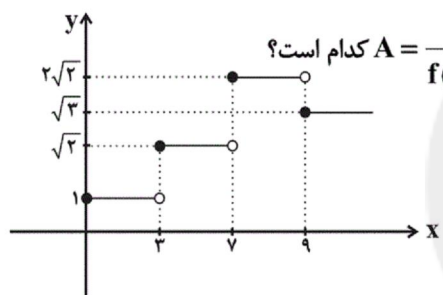
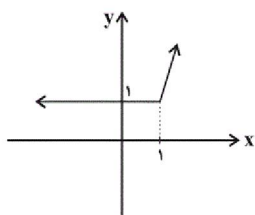
۶۲- شکل زیر، نمودار کدام تابع می‌تواند باشد؟

$$y = |x - 1| + x \quad (1)$$

$$y = |x - 1| - x \quad (2)$$

$$y = |x| - x \quad (3)$$

$$y = |x| + x \quad (4)$$



۶۳- با توجه به نمودار تابع پلکانی f در شکل روبه‌رو، حاصل عبارت $A = \frac{f(\sqrt{3}) + f(6)}{f(8/5) + 2f(\sqrt{5})}$ کدام است؟

$$2 \quad (2)$$

$$\frac{1 + \sqrt{2}}{1 - 2\sqrt{2}} \quad (4)$$

$$1 + \sqrt{3} \quad (1)$$

$$\frac{1}{2} \quad (3)$$

۶۴- یک فروشگاه مطابق جدول زیر، به مشتریانش تخفیف می‌دهد. اگر فردی برای خریدش ۱۹۰ هزار تومان بپردازد، قیمت خرید او بدون

درصد تخفیف	مبلغ خرید (تومان)
۶	۰ تا ۵۰۰۰۰
۱۰	مازاد بر ۵۰۰۰۰ تا ۱۰۰۰۰۰
۲۰	مازاد بر ۱۰۰۰۰۰ تا ۲۰۰۰۰۰
۴۰	مازاد بر ۲۰۰۰۰۰

تخفیف چقدر بوده است؟

$$۲۰۰ \text{ هزار تومان} \quad (1)$$

$$۲۲۰ \text{ هزار تومان} \quad (2)$$

$$۲۳۰ \text{ هزار تومان} \quad (3)$$

$$۲۴۰ \text{ هزار تومان} \quad (4)$$

۶۵- حاصل $\text{sign}(2\pi) - \text{sign}(-\frac{1}{3}) + \text{sign}(\sqrt{5} - \sqrt{3})$ کدام است؟

$$-2 \quad (4)$$

$$3 \quad (3)$$

$$1 \quad (2)$$

$$-1 \quad (1)$$

۶۶- اگر $f(x) = \text{sign}(x)$ و $g(x)$ یک تابع همانی باشد، حاصل عبارت $A = \frac{3f(0) + 4f(-1) - 2g(3)}{f(-3) + g(1) - 2f(5)}$ کدام است؟

$$\frac{1}{5} \quad (4)$$

$$-\frac{1}{5} \quad (3)$$

$$5 \quad (2)$$

$$-5 \quad (1)$$

۶۷- حاصل عبارت $A = \frac{3[\sqrt{8} - 2] + [7/991]}{[-\sqrt{3}] + [-3]}$ کدام است؟ ()، نماد جزء صحیح است.)

- (۱) -۲ (۲) ۱/۴ (۳) ۲ (۴) -۱/۴

۶۸- اگر $f(x) = [2x] + [-x]$ باشد، مقدار $f(\sqrt{2})$ کدام است؟ ()، نماد جزء صحیح است.)

- (۱) صفر (۲) ۱ (۳) -۱ (۴) ۲

۶۹- تابع $f(x) = 2x - |2x|$ ، به صورت دوضابطه‌ای کدام است؟

$$f(x) = \begin{cases} 2x & , x \geq 0 \\ -2x & , x < 0 \end{cases} \quad (۲) \qquad f(x) = \begin{cases} 0 & , x \geq 0 \\ -4x & , x < 0 \end{cases} \quad (۱)$$

$$f(x) = \begin{cases} 2x - 2 & , x \geq 0 \\ 2x + 2 & , x < 0 \end{cases} \quad (۴) \qquad f(x) = \begin{cases} 0 & , x \geq 0 \\ 4x & , x < 0 \end{cases} \quad (۳)$$

۷۰- توابع $f(x) = |x + 3| - 3$ و $g(x) = \text{sign}(x)$ در چند نقطه یکدیگر را قطع می‌کنند؟

- (۱) ۴ (۲) ۳ (۳) ۲ (۴) ۱

۷۱- ویژگی‌های «ظرافت و رقت معانی - واقع‌گرایی - مضمون‌های بدیع و گاه دور از ذهن - ابداع خیال‌های رنگین» به ترتیب هر کدام مربوط

به کدام شاعر است؟

- (۱) صائب تبریزی - محتشم کاشانی - بیدل دهلوی - بابا فغانی شیرازی
 (۲) بابا فغانی شیرازی - کلیم کاشانی - صائب تبریزی - محتشم کاشانی
 (۳) صائب تبریزی - وحشی بافقی - کلیم کاشانی - بیدل دهلوی
 (۴) بابا فغانی شیرازی - وحشی بافقی - بیدل دهلوی - کلیم کاشانی

۷۲- عوامل همه گزیندها به جز ... باعث شده بود که به طور کلی شعر و شاعری و معماری و انواع هنر در عصر صفوی مورد توجه قرار گیرد.

- ۱) برخی از شاهان صفوی مقام شیخی و رهبری طریقت داشتند و از این رو لازم می‌دانستند خود را در چنین مقام فرهنگی نگاه دارند.
- ۲) شاهان صفوی با رؤسای مذاهب در تماس نزدیک بودند.
- ۳) شاهان صفوی به شعر ستایشی و عاشقانه‌های زمینی و انواع هنرها بها می‌دادند، در نتیجه بسیاری از مردم به این هنرها روی آوردند.
- ۴) شاهان صفوی رقاباتی چون شاهان عثمانی و هندی داشتند که آنها نیز به مسائل فرهنگی توجه نشان می‌دادند.

۷۳- با توجه به ویژگی‌های شعر شاعران سبک هندی، بیت گزینۀ ... می‌تواند سروده یکی از شاعران این سبک باشد.

- ۱) قدح پر کن که من در دولت عشق / جوان بخت جهانم گرچه پیرم
- ۲) اگر به دست من افتد، فراق را بکشم / که روز هجر سیه باد و خان و مان فراق
- ۳) آن میسر شود به کوشش و رنج / که قضا بخشد و قدر خواهد
- ۴) از محو جلوه، گر همه تمثال برکشد / حیرت مقام جوهر آیینه داده است

۷۴- در کدام بیت نام شاعری آمده که سبک شعرش حد واسط سبک دوره عراقی و دوره هندی است؟

- ۱) بدنای حیات دو روزی نبود بیش / آن هم کلیم با تو بگویم چه سان گذشت
- ۲) وحشی اگر تو عاشقی کو نفس تو را اثر / هست نشانه‌ای دگر سینۀ داغدار را
- ۳) خاموش محتشم که دل سنگ آب شد / بنیاد صبر و خانه طاقت خراب شد
- ۴) عیش شیرین را بود در چاشنی صد چشم شور / برگ صائب بیشتر از بار می‌ماند به جا

۷۵- نام شاعری با لقب «خلاق المعانی ثانی» و نام معروف‌ترین شاعر سبک هندی به ترتیب در کدام گزینه آمده است؟

- ۱) صائب تبریزی - کلیم کاشانی
- ۲) بیدل دهلوی - صائب تبریزی
- ۳) کلیم کاشانی - بیدل دهلوی
- ۴) کلیم کاشانی - صائب تبریزی

۷۶- در کدام بیت، از آرایه «تشخیص» استفاده شده است؟

- ۱) اشک خونین بنمودم به طبیبان گفتند / درد عشق است و جگر سوز دواپی دارد
- ۲) چو ماه روی تو در شام زلف می‌دیدم / شبیم به روی تو روشن چو روز می‌گردید
- ۳) عالم از شور و شر عشق خبر هیچ نداشت / فتنه‌انگیز جهان غمزه جادوی تو بود
- ۴) از درد فراق ای به لب شکر ناب / نی روز مرا قرار و نی در شب، خواب

۷۷- در کدام بیت اضافه استعاری وجود ندارد؟

- ۱) نه من بر آن گل عارض غزل سرایم و بس / که عندلیب تو از هر طرف هزارانند
- ۲) سعدیا کنگره وصل بلند است و هر آنک / پای بر سر نهد دست وی آن جا نرسد
- ۳) از بهر من بخر دهلوی از دهل زنان / تا برکنم ز باغ جهان شاخ و بیخ غم
- ۴) ز شوق روی تو اندر سر قلم سودا / فتاد و چون من سودازده به سر می‌گشت

۷۸- در کدام گزینه «استعاره آشکار» کمتر به کار رفته است؟

- ۱) واله و شیداست دایم همچو بلبل در قفس / طوطی طبعم ز عشق شکر و بادام دوست
- ۲) زلف او دام است و خالش دانه آن دام و من / بر امید دانه‌ای افتاده‌ام در دام دوست
- ۳) دو گل را به دو نرگس خوابدار / همی شست تا شد گلان آبدار
- ۴) در سیه‌خانه افلاک دل روشن نیست / اخگری در ته خاکستر این گلخن نیست

۷۹- در کدام گزینه، استعاره از نوع استعاره مکنیه (پنهان) وجود دارد؟

- ۱) نه آن صیدم که عشق از فکر من غافل تواند شد / نمک در چشم ریزد دام را ذوق شکار من
- ۲) به خشم رفته ما را که می‌برد پیغام / بیا که ما سپر انداختیم اگر جنگ است
- ۳) به قول مطرب و ساقی برون رفتم گه و بی‌گه / کزان راه گران تا صد خبر دشوار می‌آورد
- ۴) زهر غم در کام ما هرگز نباشد کارگر / در فراق خویش تریاقی ز سم داریم ما

۸۰- واژه مشخص شده در کدام بیت، معنای استعاری ندارد؟

- ۱) گر چه نرگس بر نمی‌دارد نظر از پیش پا / زیر پای خود نبیند نرگس جادوی تو
- ۲) مخمور آن دو چشمم آیا کجاست جامی / بیمار آن دو لعلم آخر کم از جوابی
- ۳) ای که بر ماه از خط مشکین نقاب انداختی / لطف کردی سایه‌ای بر آفتاب انداختی
- ۴) به مشکین کمند اندر آویخت چنگ / به فندق گلان را به خون داد رنگ

۸۱- در بیت گزینه ... هر دو نوع استعاره «آشکار و پنهان» به کار رفته است.

- ۱) کمان ابرویت را گو بزن تیر / که پیش دست و بازویت بمیرم
- ۲) غم گیتی گر از پایم در آرد / به جز ساغر که باشد دستگیرم
- ۳) برای ای آفتاب صبح امید / که در دست شب هجران اسیرم
- ۴) به فریادم رس ای پیر خرابات / به یک جرعه جوانم کن که پیرم

۸۲- در همه ابیات زیر به جز ... آرایه «تشخیص» به کار رفته است.

- ۱) در شب مهتاب خوش باشد سفر کردن ز خویش / تن مده چون نقش دیبا در چنین وقتی به خواب
- ۲) از صدای آب سنگین‌تر شود خواب و مرا / قل‌قل مینای می، ریزد نمک در چشم خواب
- ۳) گر چه می‌گویند باران نیست در ابر سفید / از طراوت می‌چکد از پرتو مهتاب، آب
- ۴) باده روشن کز او شد دیده ساغر پر آب / می‌شود نور علی نور از فروغ ماهتاب

۸۳- با کاستن یک هجا از پایان کدام مصراع سه پایه آوایی همسان پدید می‌آید؟

(۱) باده او همدم من بام فلک منزل من / گر بگشایم پر خود بریرم آنجا چه شود

(۲) با گل رویت چه زند لاله و نسرين / با سر کویت چه کنم گلشن و بستان

(۳) رخس جفا بر سر ما می‌رانی / فتنه رها کرده عنان می‌آید

(۴) چوب هم گوید بدم من شاخ سبز / زین من بشکست و بدرید آن رکاب

۸۴- بیت کدام گزینه از تکرار چهار بار «فعالتن» تشکیل شده است؟

(۱) تو مپندار کزین در به ملامت بروم / دلم این جاست بده تا به سلامت بروم

(۲) سخن از نیمه بریدم که نگه کردم و دیدم / که به پایان رسدم عمر و به پایان نرسانم

(۳) سر از بیچارگی گفتم نهم شوریده در عالم / دگر ره پای می‌بندد وفای عهد اصحابم

(۴) نصیحت گوش کن جانا که از جان دوست‌تر دارند / جوانان سعادت‌مند پند پیر دانا را

۸۵- وزن کدام بیت با بقیه متفاوت است؟

(۱) چو شیران جنگی برآشوفتند / پر از خشم اندام‌ها کوفتند

(۲) گواهی امین است بر درد من / سرشک روان بر رخ زرد من

(۳) مرنجان دلم را که این مرغ وحشی / ز بامی که برخاست مشکل نشیند

(۴) بسی تیر و دی‌ماه و اردیبهشت / برآید که ما خاک باشیم و خشت

۸۶- نشانه‌های هجایی کدام بیت به صورت «U---U---U---U---» نیست؟

(۱) ای ساربان آهسته ران کارآم جانم می‌رود / وان دل که با خود داشتم با دلستانم می‌رود

(۲) دودی برآید از فلک نی خلق ماند نی ملک / زان دود ناگه آتشی بر گنبد اعظم زند

(۳) گر جان عاشق دم زند آتش در این عالم زند / وین عالم بی‌اصل را چون ذره‌ها بر هم زند

(۴) کعبه منم، قبله منم، سوی من آرید نماز / کان صنم قبله‌نما خم شد و بوسید مرا

۸۷- نشانه‌های هجایی کدام مصراع در برابر آن کاملاً درست آمده است؟

(۱) وان جان شیرین از جفا ما را به جان می‌آورد (---U---U---U---U---)

(۲) چو بنشست گفتم که بنشیند آتش (---U---U---U---U)

(۳) اگر جور بر ما پسندی رواست (---U---U---U---U)

(۴) حکمت یونان بطلب ملکت یونان چه کنی (---UU---UU---UU---U)

۸۸- وزن کدام بیت «مفتعلن مفتعلن فاعلن» نیست؟

- ۱) خُلد برین ساحت این گلشن است / خامه در او بلبل دستان زن است
- ۲) خویش و بی خویشی به یک جا کی بود / هر گلی کز ما بروید خار ماست
- ۳) شمع که آتش ز درون برفروخت / سوخت دلش چون دل پروانه سوخت
- ۴) خانه پر از گنج خداداد داشت / عالمی از گنج خود آباد داشت

۸۹- هر دو بیت کدام گزینه، هم وزن هستند؟

- الف) ز معشوق اعظم به هر جان خرم / به پستی چه آمد به بالا چه می شد
- ب) نشاید گفتن آن کس را دلی هست / که ندهد بر چنین صورت دل از دست
- ج) هر آن ناظر که منظوری ندارد / چراغ دولتش نوری ندارد
- د) بهشت است این که من دیدم نه رخسار / کمند است آن که وی دارد نه گیسو
- ه) چو در دشت آیم بود روضه او / چو وا چرخ آیم بود اختر او

- ۱) الف، ب ۲) ه، د ۳) الف، د ۴) ب، ج

۹۰- با توجه به ابیات زیر، کدام گزینه نادرست است؟

- «نیستم بلبل که بر گلشن نظر باشد مرا / باغهای دلگشا در زیر پر باشد مرا
 سرمه خاموشی من از سواد شهرهاست / چون جرس گلبانگ عشرت در سفر باشد مرا
 باده نتواند برون بردن مرا از فکر یار / دست دایم چون سبو در زیر سر باشد مرا
 در محیط رحمت حق، چون حباب شوخ چشم / بادبان کشتی از دامان تر باشد مرا»
- ۱) از نوع قرارگیری قافیه‌ها و مفهوم کلی ابیات، متوجه می‌شویم که اشعار در قالب غزل سروده شده است.
 - ۲) وزن این شعر «فاعلاتن فاعلاتن فاعلاتن فاعلن» است.
 - ۳) در بیت سوم و چهارم از آرایه تشخیص استفاده شده است.
 - ۴) شاعر در این ابیات، از آرایه‌های تشبیه و تلمیح نیز بهره برده است.

۹۱- در مورد مقایسه نظام اداری دوره «خوارزمشاهیان» با نظام اداری دوره «سلجوقیان» کدام گزینه نادرست است؟

- ۱) در دوره خوارزمشاهیان اختیارات برخی دیوان‌ها نسبت به دوره سلجوقی کم شد.
- ۲) در دوره خوارزمشاهیان قدرت و نقش وزیر نسبت به دوره سلجوقیان به شدت کاهش یافت.
- ۳) در دوره خوارزمشاهیان برخلاف دوره سلجوقیان وزیر در منصب خود هیچ امنیتی نداشت.
- ۴) در دوره خوارزمشاهیان نسبت به دوره سلجوقی برخی دیوان‌های جدید تشکیل شد.

۹۲- جانشین حاکمی که دوره مسلمانی مغول‌ها از زمان او در ایران آغاز شد که بود و آشفتگی اوضاع ایران بعد از ایلخانان تا چه زمانی ادامه

داشت؟

- ۱) الجایتو - قدرت‌گیری تیمور
- ۲) ابوسعید - روی کار آمدن حکومت‌های شیعه مذهب
- ۳) الجایتو - روی کار آمدن حکومت‌های شیعه مذهب
- ۴) ابوسعید - قدرت‌گیری تیمور

۹۳- چه تعداد از عبارات‌های زیر نادرست است؟

- الف) هجوم مغولان به ایران در ابتدای قرن ششم هجری، آغازگر دوران جدیدی در تاریخ ایران و جهان اسلام بود.
 ب) موج اول حمله مغول به ایران که با فرمان چنگیزخان انجام گرفت، پنج سال طول کشید.
 پ) در دوره مسلمانان مغول، بزرگان ایرانی برای مهار خشونت و رفتارهای خودسرانه فاتحان مغول، تلاش‌های بسیار کردند.
 ت) هولاکو در زمان فرمانروایی برادرش منگوقاآن، به منظور نظم بخشیدن به قلمرو متصرفی مغول و گسترش فتوحات در غرب آسیا، به ایران لشکرکشی کرد.

۱) چهار (۲) سه (۳) دو (۴) یک

۹۴- بخش عمده اقتصاد ایران در دوران اسلامی همچون عصر باستان، بر ... استوار بود و مناطق ... و ... که در تهاجم مغولان بیش‌ترین

خسارت را تحمل کردند، از جمله حاصل‌خیزترین و آبادترین مناطق ایران به‌شمار می‌رفتند.

- ۱) دامداری و کشاورزی - نیشابور - خراسان
 ۲) کشاورزی و تجارت - گرگان - هرات
 ۳) دامداری و کشاورزی - ماوراءالنهر - هرات
 ۴) کشاورزی و تجارت - ماوراءالنهر - خراسان

۹۵- هر یک از عبارات زیر به‌ترتیب ناظر بر رابطه کدام حکومت و سلسله‌های ایرانی با خلافت عباسی است؟

الف) عباسیان نسبت به این حکومت بی‌اعتماد بودند.

ب) روابط این سلسله با عباسیان، با سایر حکومت‌های ایرانی فرق داشت.

پ) روابط این حکومت با عباسیان همواره خصومت آمیز بود.

- ۱) طاهریان - زیاریان - سامانیان (۲) صفاریان - علویان - آل‌بویه (۳) صفاریان - آل‌بویه - علویان (۴) طاهریان - صفاریان - زیاریان

۹۶- پس از تضعیف حکومت سلجوقی چه کسی در خوارزم ادعای استقلال کرد و به چه علت خلیفه عباسی از تأیید حکومت خوارزمشاهی خودداری

کرد و چه کسی طغرل سوم آخرین سلطان سلجوقی را شکست داد؟

۱) اتسز - تلاش جهت احیای قدرت سیاسی و نظامی خلافت - تکش

۲) تکش - حمله سلطان محمد خوارزمشاه به بغداد - اتسز

۳) تکش - تلاش جهت احیای قدرت سیاسی و نظامی خلافت - اتسز

۴) اتسز - حمله سلطان محمد خوارزمشاه به بغداد - تکش

۹۷- کدام گزینه درباره ایران در عهد تیموریان نادرست است؟

۱) تیمور پس از سه مرحله یورش که همچون هجوم مغول‌ها، با کشتار فراوان همراه بود، سرتاسر ایران را تحت سیطره خود درآورد.

۲) شاهرخ، پسر و جانشین تیمور، حکومت گورکانیان هند را در هند بنیان نهاد.

۳) در اوایل قرن دهم هجری، با به قدرت رسیدن صفویان در ایران، حکومت نوادگان تیمور در ایران به پایان رسید.

۴) دو اتحادیه قبیله‌ای متشکل از ترکمانان به نام‌های قراقویونلو و آق‌قویونلو، به‌ترتیب با پی‌افکندن حکومت‌هایی، نواحی غربی و مرکزی ایران را تصرف کردند.

۹۸- کدام گزینه به ترتیب پاسخ درست پرسش‌های زیر می‌باشد؟

الف) ویژگی اجتماعی کدام دوره فرمانروایی، بر ایجاد دگرگونی نسبی در بافت قومی و جمعیتی ایران بود؟

ب) جامعه ایران در دوران کدام حکومت‌ها به دو دسته کلی فرا دست و فرودست تقسیم می‌شدند؟

ج) در نظام حقوقی و قضایی مغول‌ها، «یرغو» چه کاربردی داشت؟

۱) الف) مغول - تیموری ب) مغول - تیموری ج) دعوی حقوقی در دادگاه‌هایی موسوم به یرغو حل و فصل می‌شد.

۲) الف) مغول - خوارزمشاهی ب) تیموری - سلجوقیان ج) دعوی حقوقی زیر نظر یرغو حل و فصل می‌شد.

۳) الف) مغول - تیموری ب) غزنوی - خوارزمشاهیان ج) نام قوانین شرعی و عرفی این دوران بود.

۴) الف) تیموری - غزنوی ب) مغول - تیموری ج) نام قوانین شرعی و عرفی این دوران بود.

۹۹- کدام مورد از عوامل ضعف حکومت سلجوقیان محسوب نمی‌شود؟

۱) اختلافات فراوان بر سر قدرت و جانشینی، پس از مرگ خواجه نظام‌الملک و ملک‌شاه

۲) هجوم اقوام مهاجمی همچون قراختائیان و غزها

۳) مبارزات اسماعیلیان در ایران و قدرت گرفتن اتابکان

۴) تیرگی روابط با خلافت عباسی و عدم تأیید حاکمیت حکومت سلجوقیان توسط خلیفه

۱۰۰- در دوره مغول - تیموری برخلاف اقتصاد کشاورزی، اقتصاد شهری و تجاری وضعیت به مراتب ... داشت و تیمور مجموعه قوانینی موسوم به ... را

به وجود آورد.

۱) بدتری - یرغو ۲) بدتری - تزوکات ۳) بهتری - تزوکات ۴) بهتری - یرغو

۱۰۱- در دوره سلجوقی، کدام شهرها از جمله شهرهای مهم بود و بافت مذهبی جمعیت شهری و روستایی این دوره را عمدتاً چه کسانی تشکیل می‌دادند

و در این عصر با تدبیر چه کسی شکلی از زمین‌داری به نام اقطاع، گسترش یافت؟

۱) گرگان، ساری و قم - شیعیان دوازده امامی - خواجه نظام‌الملک

۲) ری، اصفهان، مرو و نیشابور - شیعیان دوازده امامی - خواجه نصیرالدین

۳) گرگان، ساری و قم - اهل تسنن - خواجه نصیرالدین

۴) ری، اصفهان، مرو و نیشابور - اهل تسنن - خواجه نظام‌الملک

۱۰۲- از میان سلسله‌های ایرانی که در سده‌های سوم تا پنجم هجری در ایران برسرکار آمدند، کدامیک ریشه در خاندان‌های کهن دهقانی

منطقه خراسان و ماوراءالنهر داشتند؟

۱) طاهریان و صفاریان ۲) سامانیان و آل‌بویه ۳) سامانیان و زیاریان ۴) طاهریان و سامانیان

۱۰۳- چه عواملی در شکوفایی هر چه بیشتر هنر و معماری در دوره سلجوقی تأثیر داشت و کدام هنر در عصر سلجوقی یکی از درخشان‌ترین

دوران خود را در تاریخ ایران پشت سر گذاشت؟

- (۱) حمایت دولت‌مردان، حکومت فراگیر، علاقه به مظاهر شکوه و جلال، فلزکاری
- (۲) توسعه شهرنشینی، گسترش قلمرو، برقراری نظم و امنیت، وجود نظامی قدرتمند، کاشی‌کاری
- (۳) گسترش قلمرو، توسعه شهرنشینی، رشد اقتصادی، فلزکاری
- (۴) حکومت فراگیر، برقراری نظم و امنیت، وجود نظامی قدرتمند، علاقه به مظاهر شکوه و جلال، کاشی‌کاری

۱۰۴- کدام گزینه درباره شهر و شهرنشینی دوران مغولان و تیموریان نادرست است؟

- (۱) شهرنشینی با هجوم مغول به ایران، برای مدتی دچار افول شد.
- (۲) تیمور هنرمندان و صنعت‌گران شهرهایی را که فتح می‌کرد، به سمرقند، پایتخت خود می‌فرستاد.
- (۳) شهر و شهرنشینی در دوران تیموریان همانند مغولان دچار رکود و زوال شد.
- (۴) در مجموعه قوانین چنگیزخان مغول، به دوری از شهر و شهرنشینی توصیه می‌شد.

۱۰۵- در دوره سلجوقی کدام بخش از شهرها و به چه دلیل نسبت به دوره‌های پیشین، گسترش بیشتری یافت؟

- (۱) کهنه‌ژ - وجود نهادهای اداری و اهمیت سیاسی - اجتماعی
- (۲) ریض - رشد تجارت و افزایش جمعیت شهرها
- (۳) ریض - وجود نهادهای اداری و اهمیت سیاسی - اجتماعی
- (۴) کهنه‌ژ - رشد تجارت و افزایش جمعیت شهرها

۱۰۶- نخستین اقدام هولاکوخان مغول پس از تأسیس حکومت ایلخانان چه بود؟

سایت کنکور

Konkur.in

- (۱) از میان بردن اسماعیلیان با گشودن قلعه‌های مستحکم آنان
- (۲) تسخیر بغداد و کشتن خلیفه عباسی و پایان دادن به حکومت بنی‌عباس
- (۳) مقابله با سپاه حکومت مملوکان مصر در عین الجالوت
- (۴) نظم بخشیدن به قلمرو متصرفی مغول و گسترش فتوحات در شام

۱۰۷- کدام گزینه در مورد غزنویان نادرست است؟

- (۱) مسعود بسیاری از اقدامات سیاسی و مذهبی خود را در پوشش جهاد در راه خدا انجام می‌داد.
- (۲) به هنگام ضعف سامانیان، محمود در شهر غزنه حکومت غزنویان را تأسیس کرد.
- (۳) هدف اصلی محمود از حمله به هند، دستیابی به ثروت فراوان هند از طریق غارت معابد و پرستشگاه‌های آن سرزمین بود.
- (۴) در زمان مسعود ساکنان خراسان زیر بار فشار مالیاتی مأموران دولتی به شدت آسیب دیده بودند.

۱۰۸- کدام یک از گزینه‌های زیر از شهرها و شهرک‌های جدید در زمان ایلخانان مغول نیست؟

- (۱) شهرک رشیدیه (۲) شنب غازان (۳) ایوان سلطانیه (۴) شهر سلطانیه

۱۰۹- در ساختار شهرهای دوره سلجوقی نسبت به دوره‌های قبل، کدام تغییر به وجود آمد؟

- (۱) کهنه‌دژ (ارگ) به شارستان منتقل شد.
- (۲) شهر بیرونی (رَبَض) گسترش پیدا کرد.
- (۳) مسجد و بازار به کهنه‌دژ (ارگ) منتقل شد.
- (۴) شهرستان (شارستان) توسعه بیشتری پیدا کرد.

۱۱۰- نخستین مسجد جمعه چهار ایوانی، که الگویی برای معماران مساجد دوره‌های بعدی شد، در دوره سلجوقیان در کدام شهر بنا گردید؟

- (۱) کرمان (۲) ورامین (۳) اصفهان (۴) نیشابور

سایت کنکور
Konkur.in

۱۱۱- به ترتیب پاسخ صحیح سؤالات زیر کدام گزینه می‌باشد؟

- الف) کدام مورد از ویژگی‌های مزارع پلاتیشن نیست؟
ب) در کدام نوع از کشت خطر فرسایش و ضعیف شدن خاک زیاد است؟
ج) نواحی صنعتی اروپای شرقی شامل کدام کشورها می‌باشد؟
۱) الف) واقع شدن در نزدیکی ساحل دریاها ب) تک‌محصولی ج) لهستان، چک
۲) الف) زمین‌های مختص کشت انواع محصولات ب) کشت غله تجاری ج) چک، رومانی
۳) الف) زمین‌های مختص کشت انواع محصولات ب) تک‌محصولی ج) لهستان، چک
۴) الف) نیاز به سرمایه‌گذاری زیاد ب) کشت غله تجاری ج) رومانی، چک

۱۱۲- هر یک از موارد زیر به ترتیب مربوط به کدام نوع از فعالیت‌های اقتصادی است؟

«تجارت، دامپروری، تولید خودرو، فناوری‌های ارتباطی»

(۱) نوع دوم - نوع اول - نوع دوم - نوع سوم

(۲) نوع سوم - نوع دوم - نوع اول - نوع چهارم

(۳) نوع سوم - نوع اول - نوع دوم - نوع چهارم

(۴) نوع اول - نوع دوم - نوع سوم - نوع چهارم

۱۱۳- پس از کدام رویداد، کشورهای جهان به دو بلوک غرب و شرق تقسیم شدند و یکی از مهم‌ترین ویژگی‌های این دوره چه بود؟

(۱) جنگ جهانی دوم - افزایش نهضت‌های استقلال‌طلبانه در کشورهای مستعمره

(۲) جنگ جهانی اول - افزایش نهضت‌های استقلال‌طلبانه در کشورهای مستعمره

(۳) جنگ جهانی دوم - گسترش شرکت‌های چندملیتی

(۴) انقلاب صنعتی - گسترش شرکت‌های چندملیتی

۱۱۴- به ترتیب کدام گزینه پاسخ صحیح سؤال‌های زیر است؟

(الف) صنایع «های‌تک» به‌طور عمده با چه صناعی سر و کار دارند؟

(ب) پارک‌های صنعتی در نزدیکی کدام نواحی ایجاد می‌شوند؟

(پ) شهر تسوکوبا در کدام کشور واقع شده است؟

(ت) پیشرفت صنایع «های‌تک» بر چه مبنایی است؟

(۱) الکترونیک - دانشگاهی و علمی - چین - استفاده از محققان و متخصصان

(۲) میکروالکترونیک - صنعتی - ژاپن - نوآوری و رقابت

(۳) میکروالکترونیک - دانشگاهی و علمی - ژاپن - استفاده از محققان و متخصصان

(۴) الکترونیک - صنعتی - چین - نوآوری و رقابت

۱۱۵- از چه قرن و با چه رویدادی، استعمارگری اروپایی‌ها در جهان گسترش یافت و کدام کشورها به ترتیب مستعمره بلژیک و هلند بودند؟

(۱) هجدهم - انقلاب صنعتی - کنگو - اندونزی

(۲) هفدهم - انقلاب صنعتی - هند - الجزایر

(۳) هجدهم - پیشرفت در دریانوردی - اندونزی - کنگو

(۴) هفدهم - پیشرفت در دریانوردی - الجزایر - هند



۱۱۶- کدام یک از موارد زیر درباره غله تجاری نادرست است؟

(۱) میانگین تولید سالانه غلات در جهان ۱/۵ میلیارد تن است که البته در سال‌های مختلف، کاهش یا افزایش یافته است.

(۲) ایالات متحده آمریکا حدود ۴۰ درصد ذرت جهان را تولید می‌کند.

(۳) از دهه ۱۹۷۰ میلادی با انقلاب سبز، فیلیپین و بنگلادش توانستند در زمینه تولید برنج به خودکفایی برسند.

(۴) مزارع غله تجاری معمولاً بسیار بزرگ‌اند و کاشت و برداشت محصول در آنها به صورت ماشینی انجام می‌شود.

۱۱۷- کدام گزینه به درستی صحیح و غلط بودن عبارت‌های زیر را بیان می‌کند؟

(الف) دامداری‌های تجاری ممکن است در کنار مزارع بزرگ غله تجاری ایجاد شوند.

(ب) پلاتیشن عبارت است از زمین‌های کوچکی که به تولید یک محصول کشاورزی خاص اختصاص دارد.

(پ) استرالیا، زلاندنو و اتحادیه اروپا از مهم‌ترین مراکز دامداری تجاری در جهان هستند.

(ت) مزارع محصولات خاص نواحی استوایی در کشورهای مجاور و استوا در قاره‌های آسیا، اروپا و آمریکای جنوبی قرار دارند.

(۱) ص - غ - غ - ص (۲) ص - ص - غ - غ (۳) ص - غ - ص - ص (۴) ص - غ - غ - ص

۱۱۸- سازمان اوپک با چه هدفی ایجاد شده است و نابرابری اقتصادی در چه فضایی جلوه‌گر می‌شود و پیامد آن چیست؟

- ۱) تعیین سهمیه تولید نفت برای کشورهای صادرکننده - سیاسی - ایجاد تنش‌های سیاسی بین جوامع مرکز و پیرامون
- ۲) تعیین سهمیه تولید نفت برای کشورهای صادرکننده - جغرافیایی - ایجاد تنش‌های سیاسی بین جوامع مرکز و پیرامون
- ۳) جلوگیری از آسیب‌پذیری ناشی از کاهش قیمت نفت در بازار جهانی - سیاسی - پدید آمدن نواحی با امکانات و تسهیلات و چشم‌اندازهای جغرافیایی متفاوت

- ۴) جلوگیری از آسیب‌پذیری ناشی از کاهش قیمت نفت در بازار جهانی - جغرافیایی - پدید آمدن نواحی با امکانات و تسهیلات و چشم‌اندازهای جغرافیایی متفاوت

۱۱۹- همه گزینیه‌ها در مورد «شرکت‌های چند ملیتی» درست هستند، به جز:

- ۱) نقش مهمی در تجارت جهانی دارند و می‌توانند انحصار تولید یک کالا را در دست بگیرند.
 - ۲) به تشویق شرکت‌های محلی برای سرمایه‌گذاری در سایر مناطق جهان می‌پردازند.
 - ۳) طراحی و فناوری علمی اصلی تولید آنان، در کشورهای پیشرفته صنعتی قرار دارد.
 - ۴) شعبات خود را به شکل شرکت‌های وابسته در کشورهای دیگر ایجاد می‌کنند.
- ۱۲۰- هریک از عبارتهای زیر به ترتیب مربوط به کدام تقسیم‌بندی نظام سرمایه‌داری جهانی که براساس روابط و مبادله نابرابری بین نواحی پدید آمده، می‌باشد؟

الف) با روش‌های مختلف مغزهای متفکر را از کشورهای پیرامون به خود جذب می‌کنند.

ب) چین و سنگاپور جزء این تقسیم‌بندی قرار گرفته‌اند.

پ) عمدتاً تولیدکننده و صادرکننده مواد اولیه و خام‌اند.

۲) نیمه پیرامون - پیرامون - پیرامون

۱) مرکز - پیرامون - پیرامون

۴) مرکز - نیمه پیرامون - پیرامون

۳) نیمه پیرامون - مرکز - پیرامون

۱۲۱- به ترتیب کدام گزینه، پاسخ صحیح پرسش‌های زیر را دربر دارد؟

الف) عامل گسترش آسیب‌های زیست‌محیطی چه بود؟

ب) چرا انسان مدرن نگاه معنوی به طبیعت را کودکانه می‌پندارد؟

پ) در کدام رویکرد، طبیعت ماده خام نیست و از ابعاد و نیروهای ماورائی برخوردار است؟

۱) گسترش زندگی مدرن - چون طبیعت را ماده خام و بی‌جانی می‌داند. - نگاه توحیدی

۲) انقلاب صنعتی - چون طبیعت را ماده خام و بی‌جانی می‌داند. - نگاه اساطیری

۳) گسترش زندگی مدرن - چون نگاه دنیوی به جهان دارد. - نگاه اساطیری

۴) انقلاب صنعتی - چون نگاه دنیوی به جهان دارد. - نگاه توحیدی

۱۲۲- نخستین بحران اقتصادی در کدام کشور اتفاق افتاد و مهم‌ترین آنها چه زمانی رخ داد؟

۱) انگلستان - بعد از جنگ جهانی دوم

۲) آلمان - در فاصله بین دو جنگ جهانی

۳) انگلستان - در فاصله بین دو جنگ جهانی

۴) آلمان - بعد از جنگ جهانی دوم

۱۲۳- چالش و نزاع بلوک شرق و غرب در سراسر ... تا زمان فروپاشی ... در سال ۱۹۹۱ م ادامه یافت.

۱) قرن هجدهم - بلوک غرب

۲) قرن نوزدهم - بلوک شرق

۳) قرن بیستم - بلوک غرب

۴) قرن بیستم - بلوک شرق

۱۲۴- اصطلاح استعمارگر و استعمارزده را چه کسانی به کار می‌برند و از نظر این گروه، مشکل کشورهای فقیر چیست؟

- (۱) کسانی که چالش و نزاع بین کشورهای غنی و فقیر را به ابعاد اقتصادی محدود می‌کنند. - خودباختگی فرهنگی
- (۲) کسانی که چالش و نزاع بین کشورهای غنی و فقیر را به ابعاد اقتصادی محدود نمی‌کنند. - تنها ضعف اقتصادی و صنعتی
- (۳) کسانی که چالش و نزاع بین کشورهای غنی و فقیر را به ابعاد اقتصادی محدود می‌کنند. - تنها ضعف اقتصادی و صنعتی
- (۴) کسانی که چالش و نزاع بین کشورهای غنی و فقیر را به ابعاد اقتصادی محدود نمی‌کنند. - خودباختگی فرهنگی

۱۲۵- هر یک از عبارات زیر مربوط به نظر کدام یک از افراد شاخص تفکر لیبرالیسم است؟

- (الف) افزایش دستمزد کارگران و رفاه آنان را موجب افزایش تولید نسل آنها و پیدایش مشکلات بعدی می‌داند.
- (ب) انسانی که در دنیای از قبل تملک‌شده به دنیا می‌آید، اگر نتواند قدرت خود را از والدینش دریافت کند، هیچ حقی برای دریافت کمترین غذا و چون و چرا دربارهٔ مقام و موقعیت خود ندارد.
- (ج) اگر حکومتگران ما بگذارند سرمایه، پرسودترین راه خود را دنبال کند و کالاها قیمت مناسب خود را داشته باشند، پیشرفت کشور را به بهترین وجه تأمین خواهند کرد.

- | | |
|--------------------------------|-------------------------------|
| (۱) ریکاردو - مالتوس - ریکاردو | (۲) ریکاردو - مالتوس - مالتوس |
| (۳) مالتوس - ریکاردو - ریکاردو | (۴) مالتوس - ریکاردو - مالتوس |

۱۲۶- در ارتباط با نظریهٔ «جنگ تمدن‌ها» که ساموئل هانتینگتون آن را مطرح کرد، کدام عبارت درست نیست؟

- (۱) نظریه‌ای بود که عملیات نظامی قدرت‌های غربی در مقابله با مقاومت‌های کشورهای غیرغربی را توجیه می‌کرد.
- (۲) وی از آخرین مرحلهٔ درگیری‌ها در جهان معاصر، با عنوان جنگ تمدن‌ها یاد می‌کرد.
- (۳) از نظر او در این مرحله رقابت‌ها و درگیری‌ها، بین دولت - ملت‌ها به وقوع خواهد پیوست.
- (۴) در این میان، فرهنگ اسلامی بزرگ‌ترین تهدید برای غرب است.

۱۲۷- کدام گزینه صحیح یا غلط بودن عبارات‌های زیر را به درستی بیان می‌کند؟

- (الف) سوسیالیسم به مالکیت خصوصی معتقد است ولی برخلاف سرمایه‌داری آن را مطلق نمی‌داند.
- (ب) لیبرالیسم اولیه با تکیه بر شعار آزادی و به‌ویژه آزادی اقتصادی، راه استثمار را برای صاحبان ثروت باز کرد.
- (ج) لیبرالیسم قرن‌های نوزدهم و بیستم را لیبرالیسم اولیه می‌نامند.
- (د) اگر جهان غرب با حل کردن چالش‌های پیشین، نیازهای دنیوی و معنوی آدمیان را برطرف می‌کرد، با چالش‌های جدید مواجه نمی‌شد.

- | | | | |
|-------------------|-------------------|-------------------|-------------------|
| (۱) غ - ص - ص - غ | (۲) ص - غ - ص - غ | (۳) ص - ص - غ - ص | (۴) ص - غ - غ - ص |
|-------------------|-------------------|-------------------|-------------------|

۱۲۸- شکل‌گیری اقتصاد جهانی و کاهش اهمیت مرزهای سیاسی و جغرافیایی، کدام یک از نتایج زیر را در برداشت؟

- (۱) بحران‌های اقتصادی به سرعت آثار و پیامدهای خود را در سطح جهان آشکار ساختند.
- (۲) آسیب‌های فقر و غنا متوجه قشرهای فقیر و ضعیف جامعه شد.
- (۳) آسیب‌های بحران اقتصادی تمام اقشار جامعه را دربرگرفت.
- (۴) بحران‌های اقتصادی در مواردی منجر به فروپاشی حکومت‌ها می‌شد.

۱۲۹- کدام گزینه، به ترتیب پاسخ صحیح سؤال‌های زیر است؟

الف) در کدام جنگ برای اولین بار از بمب اتم استفاده شد؟

ب) از دیدگاه آگوست کنت، جنگ در فرهنگ و جامعه جدید غربی چه امری است؟

پ) از مهم‌ترین عوامل وقوع دو جنگ جهانی اول و دوم چه بود؟

۱) جنگ جهانی دوم - ذاتی - رقابت دو بلوک شرق و غرب

۲) جنگ جهانی اول - ذاتی - رقابت کشورهای اروپایی بر سر مناطق استعماری

۳) جنگ جهانی دوم - عارضی و تحمیلی - رقابت کشورهای اروپایی بر سر مناطق استعماری

۴) جنگ جهانی اول - عارضی و تحمیلی - رقابت دو بلوک شرق و غرب

۱۳۰- اقتصاد قرون وسطی بر چه اساسی استوار بود و رویکرد لیبرالیسم قرن‌های هجدهم و نوزدهم چه بود؟

۱) سرمایه و ثروت - فردی و اجتماعی

۲) روابط اجتماعی ارباب، رعیتی - فردی و اجتماعی

۳) سرمایه و ثروت - فردی و اقتصادی

۴) روابط اجتماعی ارباب، رعیتی - فردی و اقتصادی

۱۳۱- چه تعداد از گزاره‌های زیر، در مورد «قلب و معرفت حاصل از آن»، درست است؟

الف) معرفت شهودی بدون استفاده از تجربه و با استدلال عقلی مستقیم در قلب تجلی می‌کند.

ب) وجه تسمیه معرفت شهودی بدان جهت است که قلب انسان حقیقت را چنان درک می‌کند که گویا با چشم می‌بیند.

ج) عارف و سالک الی الله امکان ندارد بتواند در همین دنیا، از راه شهود قلبی آخرت را مشاهده کند.

د) شیوه حصول این معرفت گام به گام و به تدریج است.

۱) دو ۲) سه ۳) یک ۴) چهار

۱۳۲- پی‌بردن به رموز و اسرار طبیعت و شناخت قوانین طبیعی از چه طریقی میسر است و شاگرد کدام دانشمند مبانی آن را پایه‌گذاری کرد؟

۱) شناخت تجربی - افلاطون ۲) شناخت عقلی - ارسطو ۳) شناخت شهودی - افلاطون ۴) شناخت عقلی - افلاطون

۱۳۳- کدام گزینه درباره توجه اندیشمندان غربی به عقل درست است؟

۱) بیکن معتقد بود عقل انسان به طور ذاتی معرفت‌هایی دارد که از تجربه به دست نیامده است.

۲) از منظر دکارت، معرفت به وجود نفس مجرد و وجود خدا نیاز به حس و تجربه دارد.

۳) از نظر کانت، قوه ادراکی انسان تصوراتی مثل زمان و مکان را نزد خود دارد.

۴) از منظر کنت، مفاهیمی مانند علیت بدون نیاز به تجربه درک و فهم می‌شوند.

۱۳۴- کدام گزینه پیرامون پراگماتیست‌ها کاملاً درست است؟

۱) ابزار شناخت اشیا را به حس و تجربه محدود نمی‌کنند و عقل را نیز در رسیدن به علم دخیل می‌دانند.

۲) معتقد بودند تنها از راه تجربه نمی‌توان به شناخت واقعیت رسید، پس عالم غیرقابل شناخت است.

۳) ملاک درست بودن علوم را با میزان منفعت‌رسانی به انسان می‌سنجیدند.

۴) هدف انسان را کشف واقعیات و باورهایی می‌دانستند که در عمل به کار انسان بیاید.

۱۳۵- کدام گزینه صادق است؟

۱) عموم فیلسوفان مسلمان برای معرفت حسی اعتبار قائل نیستند و فقط عقل و شهود را معتبر می‌دانند.

۲) با اتکا صرف به تجربه، یا شهود قلبی یا وحی می‌توان به معرفت معتبر فلسفی رسید.

۳) ملاصدرا پایه بحث‌های فلسفی خود را روی پیوند میان تجربه حسی، کشف و شرع گذاشت.

۴) ملاصدرا احکام دین و عقل را مطابق یکدیگر می‌داند و تعارض عقل و دین نورانی را نفی می‌کند.

۱۳۶- کدام یک از گزینه‌های زیر را نمی‌توان از اندیشه نسبی‌گرایی نتیجه گرفت؟

۱) ویژگی‌های هر فرد شناخت او را از دیگران متمایز می‌کند.

۲) هیچ وقت مطلق در جهان وجود ندارد.

۳) شناخت هر کس برای خودش و نسبت به خودش اعتبار دارد.

۴) شناخت حقیقی و واقعی وجود ندارد.

۱۳۷- در دوره شکوفایی فلسفه در جهان اسلام، کدام یک از گزینه‌های زیر به‌عنوان ابزار شناخت، معتبر دانسته می‌شد؟

۱) حس، عقل، تجربه ۲) وحی، حس، قلب ۳) عقل، حس، قلب ۴) قلب، وحی، عقل

۱۳۸- چند گزاره از گزاره‌های زیر صحیح نیست؟

- (الف) تجربه‌گرایان گروهی بودند که تجربه را اساس کسب معرفت می‌دانستند.
 (ب) فیلسوفان قبل از بیکن با تکیه بر نظریات افلاطون بیشتر بر استدلال عقلی تکیه کرده بودند.
 (ج) در دوره قرون وسطی بیشتر به تجربه توجه می‌شد.

(۱) یک (۲) صفر (۳) دو (۴) سه

۱۳۹- عبارت «مفاهیمی مانند خدا، اختیار، نفس و روح که تجربه درباره نفی یا اثبات آن‌ها نمی‌تواند نظر دهد، معنای روشنی ندارند. لذا اصولاً قابل

بررسی علمی نیستند» مربوط به کدام جریان فکری می‌باشد؟

(۱) پوزیتیویست‌ها (۲) عقل‌گرایان (۳) پراگماتیست‌ها (۴) نسبی‌گرایان

۱۴۰- کدامیک از راه‌های کسب معرفت بی‌واسطه است و برای دریافت آن سیر و سلوک و تهذیب نفس ضروری است؟

(۱) معرفت شهودی (۲) معرفت حسی (۳) معرفت تجربی (۴) معرفت عقلی

۱۴۱- به ترتیب کدامیک از پرسش‌های زیر به مسئله «خوب تعریف شده» یا «خوب تعریف نشده» اشاره دارد؟

(الف) علل تبعیض نژادی در برخی کشورها چیست؟

(ب) علت وارونگی دما چیست؟

(پ) کوچکترین عدد پنج رقمی چه عددی است؟

(۱) خوب تعریف نشده - خوب تعریف نشده - خوب تعریف شده

(۲) خوب تعریف نشده - خوب تعریف نشده - خوب تعریف شده

(۳) خوب تعریف شده - خوب تعریف نشده - خوب تعریف نشده

(۴) خوب تعریف شده - خوب تعریف شده - خوب تعریف نشده

۱۴۲- با توجه به شاخص‌هایی، مسئله‌ها به دو گروه «خوب تعریف شده» و «خوب تعریف نشده» تقسیم می‌شوند. کدام مورد در ارتباط با این

شاخص‌ها درست نیست؟

(۱) شناسایی موقعیت اولیه (۲) فهرست اقدامات یا راهبردهای مختلف

(۳) امکان تضمین دستیابی یا عدم دستیابی به هدف (۴) تعریف دقیق هدف

۱۴۳- ناتوانی در حل مسئله، وضعیت عاطفی ناخوشایندی را ایجاد می‌کند که «...» نام دارد.

(۱) فشار روانی (۲) پرخاشگری (۳) ناکامی (۴) تعارض

۱۴۴- کدام گزینه به عاملی که باعث داشتن ملاک روشن برای فهم موقعیت می‌شود، اشاره دارد؟

(۱) علی که در آزمون میان ترم درس ریاضی خود با استفاده از روش مطالعه ثابت روزانه نمره ۱۹ گرفته بود تلاش کرد با ایجاد تغییراتی جزئی، در آزمون ترم خود نیز از همین روش استفاده کند.

(۲) محسن که برنامه غذایی رژیمی را جایگزین ورزش کردن برای رسیدن به وزن دلخواه خود کرده بود به بررسی ورزش قبل و بعد از اجرای برنامه و مقایسه آن با زمان ورزش کردن خود پرداخت.

(۳) پدر مریم که با خرید کادوهای گوناگون برای دخترش موفق به ترمیم رابطه خود با او نشده بود، تصمیم گرفت از راه صحبت کردن بیشتر و محبت‌های کلامی وارد شود.

(۴) کوثر برای افزایش ساعت مطالعه خود با مشکل روبه‌رو بود بنابراین، برای حل آن به خرد کردن درس‌ها و کم کردن بار مطالعاتی پرداخت.

۱۴۵- کدام گزینه در ارتباط با «روش تحلیلی و اکتشافی» نادرست است؟

(۱) روش تحلیلی برخلاف روش اکتشافی مورد قبول همه نیست.

(۲) روش اکتشافی عمدتاً تابع نظر و احساس شخصی است.

(۳) اجرای روش تحلیلی برخلاف اکتشافی رسیدن به راه‌حل را تضمین می‌کند.

(۴) روش‌های تحلیلی مبتنی بر محاسبات ذهنی و قواعد منطقی است و روش‌های اکتشافی بدون دلیل می‌باشند.

۱۴۶- «علی تصمیم دارد پازلی که برای جشن تولدش هدیه گرفته است را تکمیل کند. او ابتدا سراغ قسمت‌های کناری پازل می‌رود و سعی

می‌کند آن‌ها را جای‌گذاری کند تا تصویر دلخواه را بسازد.» در این مثال علی از کدام روش اکتشافی حل مسئله استفاده کرده است؟

(۱) روش خرد کردن مسئله (۲) روش کاهش تفاوت وضعیت موجود با وضعیت مطلوب

(۳) روش بارش مغزی (۴) روش شروع از آخر

۱۴۷- به ترتیب هر یک از گزاره‌های زیر با کدام گزینه در ارتباط است؟

«سر و کار داشتن با اولویت‌ها - سر و کار داشتن‌ها با راه‌حل‌ها»

(۱) تصمیم‌گیری - حل مسئله (۲) حل مسئله - تصمیم‌گیری

(۳) تصمیم‌گیری - استدلال (۴) استدلال - حل مسئله

۱۴۸- به ترتیب کدام گزینه صحیح یا غلط بودن هر یک از عبارتهای زیر را به‌درستی بیان می‌کند؟

(الف) تصمیم‌گیری به معنای ارزیابی راه‌های مختلف و انتخاب بهترین راه است.

(ب) استدلال، عالی‌ترین و پیچیده‌ترین فعالیت شناختی انسان است.

(پ) تصمیم‌گیری، نوعی حل مسئله است.

(۱) ص - ص - ص (۲) غ - ص - غ (۳) ص - غ - غ (۴) ص - غ - ص

۱۴۹- به ترتیب هر یک از عبارتهای زیر به کدام یک از حیطه‌های تصمیم‌گیری مربوط می‌شود؟

(الف) انتخاب رشته تحصیلی در دانشگاه

(ب) انتخاب نماینده اصلاح از بین نامزدهای انتخاباتی مجلس شورای ملی

(۱) فردی - فردی (۲) گروهی - فردی

(۳) گروهی - گروهی (۴) فردی - گروهی

۱۵۰- در عبارت «مینا در رشته تجربی تحصیل کرده و توانسته است با کسب رتبه خوب در کنکور سراسری در رشته پزشکی قبول شود. مینا

خواهر کوچکتر اوست. مینا با توجه به موفقیت خواهرش در رشته تجربی می‌خواهد در این رشته تحصیل کند.» سبک تصمیم‌گیری مینا از

چه نوع است؟

(۱) سبک تکانشی (۲) سبک وابسته (۳) سبک احساسی (۴) سبک منطقی

۱۵۱- «پدر زهرا یک سفر ضروری به یکی از شهرهای ایران دارد دغدغه فکری او این است که با کدام وسیله نقلیه به آن شهر برود. یکی از وسایل مورد نظر او قطار است، اما قطار با تأخیر حرکت می‌کند و استفاده از خودروی شخصی یکی از گزینه‌های دیگر اوست، ولی به دلیل نقص فنی اطمینان‌بخش نیست و گزینه دیگر اتوبوس که ولی اتوبوس نیز خیلی کند حرکت می‌کند و شهر مقصد فاقد فرودگاه است.» با توجه به این مثال به ترتیب هدف و مسئله کدام است؟

- (۱) هدف ← رفتن به یکی از شهرهای ایران - مسئله ← انتخاب وسیله نقلیه مناسب برای رفتن به سفر
- (۲) هدف ← مسافرت - مسئله ← استفاده از وسیله نقلیه برای رفتن به سفر
- (۳) هدف ← استفاده از وسیله نقلیه مناسب - مسئله ← رفتن به یکی از شهرهای ایران
- (۴) هدف ← دغدغه فکری پدر زهرا - مسئله ← رفتن به یکی از شهرهای ایران

۱۵۲- با توجه به مبحث ویژگی‌های حل مسئله، به ترتیب معلول هریک از پدیده‌های زیر کدام است؟

الف) آگاهی به چیستی هدف

ب) عدم شناسایی دقیق توانمندی‌ها

پ) روشن نبودن هدف

- (۱) احساس مسئله - استفاده از راه‌حل‌های غیرمنطقی - عدم صراحت در تعریف هدف
- (۲) استفاده از راه‌حل‌های منطقی - احساس مسئله - درک ناقص از مسئله
- (۳) احساس مسئله - استفاده از راه‌حل‌های غیرمنطقی - درک ناقص از مسئله
- (۴) استفاده از راه‌حل‌های منطقی - احساس مسئله - عدم صراحت در تعریف هدف

۱۵۳- با توجه به گزینه‌های دیگر کدام یک از مسئله‌ها «خوب تعریف شده» است؟

- (۱) بزرگ‌ترین عدد چهار رقمی فرد کدام است؟
- (۲) چرا خودروی در حال حرکت مقابل شما متوقف شده است؟
- (۳) دلیل فقر در جامعه چیست؟
- (۴) علت بالا رفتن رفتار خشونت‌آمیز در جامعه چیست؟

۱۵۴- اصطلاح «بن‌بست» در برخورد با حل مسائل مختلف در کدام گزینه به درستی بیان شده است؟

- (۱) مسئله مورد نظر غیرقابل حل می‌باشد.
- (۲) نوع نگاه حل‌کننده مسئله محدود است.
- (۳) تجارب گذشته فرد جوابگوی حل مسئله نمی‌باشند.
- (۴) نوع نگاه حل‌کننده مسئله منجر به حل مسئله نگردد.

۱۵۵- تصور کنید که در یک فضای بسته قرار گرفته‌اید و قرار است دو رشته طناب را به هم برسانید، اما ممکن نیست به یک رشته برسید، در حالی که یک رشته دیگر را در دست دارید؛ در چنین شرایطی هیچ چیزی در اختیار ندارید، به جز انبردستی که در گوشه اتاق است و قصد دارید این دو رشته طناب را به یکدیگر گره بزنید. این در حالی است که به هیچ وجه هم‌زمان نمی‌توانید هر دو رشته طناب را بگیرید. برای حل این مسئله احتمالاً به این فکر نمی‌افتادید که می‌توانید از انبردست به عنوان یک وزنه یا پاندول استفاده کنید؛ چرا که تحت تأثیر ... هستید که به اصطلاح به آن ... می‌گویند.

- (۱) موانع و محدودیت‌ها - اثر نهفتگی
- (۲) تجربه گذشته - انتقال
- (۳) پیش‌داوری - اثر نهفتگی
- (۴) نوع نگاه به مسئله - مهندسی معکوس

۱۵۶- انتخاب یک رشته تحصیلی، یک تصمیم ... است، اما انتخاب رئیس جمهور از بین نامزدهای مختلف، یک تصمیم ... است.

- (۱) مهم و پیچیده - فردی
(۲) فردی - گروهی
(۳) گروهی - مهم و پیچیده
(۴) گروهی - فردی

۱۵۷- با توجه به ملاک‌های تصمیم‌گیری کدام گزینه نادرست است؟

- (۱) اینکه به دلیل خرید لوازم مورد نیاز برای شنا، علی‌رغم طوفانی بودن دریا، به شنا کردن می‌پردازید به تصمیم‌گیری بر پایه ملاک هزینه اشاره دارد.
(۲) عدم شرکت در مرحله دوم مسابقه به دلیل این‌که در ازای عبور موفقیت‌آمیز از هر مرحله هدیه‌ای دریافت می‌شود، اما در صورت عدم موفقیت حتی در یک مرحله، جوایز تمام مراحل قبل بازپس گرفته می‌شود، به تصمیم‌گیری بر پایه خطر اشاره دارد.
(۳) با خواندن این مطلب که ۹۵٪ افرادی که سرطان ریه داشته‌اند، سیگاری بوده‌اند، از مصرف هرگونه دخانیات صرف نظر می‌کنید، اشاره به تصمیم‌گیری بر پایه میزان خطرناک بودن دارد.
(۴) محمد و علی تصمیم گرفتند برای تماشای بازی تیم فوتبال پرسپولیس از خوزستان به ورزشگاه آزادی بروند. آنها با تحمل مشکلات زیاد، مسیر خوزستان تا تهران را طی کردند، و مبلغ زیاد بلیت را به سختی پرداخت کردند. قبل از شروع بازی متوجه شدند برف و باران در راه است. اشاره به تصمیم‌گیری بر پایه «خطرناک بودن» دارد.

۱۵۸- عبارت «در این سبک تصمیم‌گیری فرد به صورت ناگهانی و با عجله و بدون محاسبه تصمیم می‌گیرد و در نوجوانان بیشتر دیده می‌شود که بلافاصله با پشیمانی همراه است» مربوط به کدام سبک تصمیم‌گیری است؟

- (۱) احساسی (۲) اجتنابی (۳) منطقی (۴) تکانشی

۱۵۹- در سبک تصمیم‌گیری ... ، تصمیم‌گیرنده تمامی راهکارهای ممکن را می‌سنجد، تابع یک روش ... و ... است و فرد به صورت ... و طبق

Konkur.in

قوانین پیش می‌رود.

- (۱) منطقی - قاعده‌مند - منظم - پله پله
(۲) تکانشی - قاعده‌مند - ثابت - مرحله‌ای
(۳) منطقی - قاعده‌مند - ثابت - پیوسته
(۴) تکانشی - ثابت - معقول - پله پله

۱۶۰- تصمیم‌گیری‌های افراد نیازمند روش‌های پایدار و ماندنی است؛ زیرا: ...

- (۱) تابع اصول یادگیری هستند.
(۲) تمامی ابعاد زندگی را دربر می‌گیرند.
(۳) در رفتار ما با دیگران تأثیر می‌گذارند.
(۴) تعیین‌کننده میزان شکست یا موفقیت افراد هستند.