

۱- در کدام گزینه واژه‌ای نادریست معنا شده است؟

- (۱) (تیره رای: بداندیشی) (اقبال: سعادت) (اطباً: پزشکان)
- (۲) (دوال: چرم و پوست) (شبگیر: شامگاه) (وزر: گناه)
- (۳) (نماز پیشین: نماز ظهر) (باره: اسب) (تفریط: کوتاهی کردن در کاری)
- (۴) (اذن: اجازه) (شایق: آرزومند) (نهیب: فریاد بلند)

۲- کدام گزینه غلط املایی دارد؟

- (۱) سفیر مرغ و نوشانوش ساقی / ز دلها برده اندوه فراقی
- (۲) ز عزت و عظمت در گمان نمی‌آید / به هر دمی ز درونت ستاره‌ای تابد
- (۳) میل و رغبت کان زمام آدمیست / جنبش آن رام امر آن غنیست
- (۴) او پر سخن دراز کرده / پرنده رحیل ساز کرده

۳- شاعر کدام بیت متفاوت است؟

- (۱) رزق هرچند بی گمان برسد / شرط عقل است جُستن از درها
- (۲) حساب خود اینجا کن، آسوده دل شو / میفکن به روز جزا کار خود را
- (۳) ای مرغ سحر، عشق ز پروانه بیاموز / کان سوخته را جان شد و آواز نیامد
- (۴) با زمانی دیگر انداز ای که پندم می دهی / کاین زمانم گوش بر چنگ است و دل در چنگ نیست

۴- در کدام یک از بیت‌های زیر تشبیه وجود ندارد؟

- (۱) هر شبمنی در این ره صد بحر آتشین است / دردا که این معماً شرح و بیان ندارد
- (۲) امید وصل تو نگذاشت تا دهم جان را / و گرنه روز فراق تو مردن آسان بود
- (۳) از هر کران تیر دعا کرده‌ام روان / باشد کز آن میانه یکی کارگر شود
- (۴) صحن سرای دیده بشستم، ولی چه سود؟ / کاین گوشه نیست در خور خیل خیال تو

۵- در بیت کدام گزینه یکی از آرایه‌های روبه‌رو نادریست آمده است؟

- (۱) طعمه مور شوی گر چه سلیمان شده‌ای / زال می‌گردد اگر رستم دستان شده‌ای (ایهام تناسب، تلمیح)
- (۲) دست در دامن دریای کرم زن، ورنه / تشنه می‌میری اگر چشمه حیوان شده‌ای (مجاز، کنایه)
- (۳) می‌کند هستی فانی ترا باقی، مرگ / تو چه از دولت جاوید گریزان شده‌ای؟ (تناقض، استعاره)
- (۴) شکوه از درد نمودن گل بی دردی هاست / شکر کن شکر که شایسته درمان شده‌ای (جناس، طباق)

۶- در گروه‌های اسمی زیر چند صفت بیانی وجود دارد؟

مدیر کارخان - درخت دوستی - فصل دوم - نگاه معنوی - آب روان - دوست خندان - آینده‌دانش‌آموزان - منظره دیدنی - بهترین دوست -
خوراک زمستانی - درون روشن - آن مرد زرگر - سینی زرین - کلاه شاهانه - خاطر ترسان - رفتار سنجیده - فلان رفیق قدیمی - دروازه
گشوده - سود نخورده

(۴) شانزده

(۳) پانزده

(۲) چهارده

(۱) سیزده

۷- فعل پایانی در کدام بیت از نظر زمان با بقیه یکسان نیست؟

- (۱) برق را هر چند نتوان کرد پنهان زیر ابر / در سواد چشم او بازندگی پوشیده است
- (۲) دیدن داغ عزیزان لازم پایدگی است / روی این ظلمت به آب زندگی پوشیده است
- (۳) دولت و پایدگی با هم نمی‌گردند جمع / بر سکندر چشمه سار زندگی پوشیده است
- (۴) روی خود را بعد مردن صائب از شرم گناه / در نقاب خاک از شرمندگی پوشیده است

۸- مفهوم «هر که دست از جان بشوید، هر چه در دل دارد، بگوید» با کدام بیت قرابت مفهومی بیشتری دارد؟

- (۱) به خون دل بشستم دست از جان / که به زین شُست و شویی می ندانم
- (۲) راز خود در سینه چندان رو نمی‌سازد نهان / هر چه دارد در دل خود گل نمایان می‌کند
- (۳) ور غیر از او دل من یاری به دست گیرد / من دست از او بشویم، کان دل مرا نشاید
- (۴) هر چه در دل گذرد وقف زبان دارد شمع / سوختن نیست خیالی که نهان دارد شمع

۹- مفهوم عبارت «به این زندگی گذرا آن قدرها دل نمی‌بست که پیشامد ناگوار را فاجعه‌ای بینگار و در نظرش اگر یک روی زندگی زشت

می‌شد، روی دیگری بود که بشود به آن پناه برد» با کدام بیت ارتباط دارد؟

- (۱) عمرم زوال یافت کمالی نیافته / گلبرگ عیش من به چه امید بشکفد
- (۲) به یک خزان مکن از حُسن خویش قطع امید / که گلستان تو را نوبهار بسیار است
- (۳) امیدوار و صلح از خود مبر امیدم / صعب است ناامیدی بعد از امیدواری
- (۴) چه شکر گویمت ای باد مشک بوی وصال / که بوستان امیدم بخواست پژمردن

۱۰- مفهوم نهایی کدام ابیات به هم نزدیک است؟

الف) که پیروزگر در جهان ایزدست / جهاندار کز وی نترسد بدست

ب) به طاعت قرب ایزد می‌توان یافت / قدم در نه گرت هست استطاعت

ج) تکیه بر خنجر و سپاه مکن / جز به ایزد به کس پناه مکن

د) هر چه او داد غایت آن باشد / شکر می‌کن، کفایت آن باشد

- (۱) ب، ج (۲) ج، الف (۳) ب، الف (۴) ج، د

عَيْنِ الْأَصْحَحِ وَالْأَدَقِّ فِي الْجَوَابِ لِلتَّرْجَمَةِ أَوْ التَّعْرِيبِ: (۱۱-۱۴)

۱۱- «وَمَا تُقَدِّمُوا لِأَنْفُسِكُمْ مِنْ خَيْرٍ تَجِدُوهُ عِنْدَ اللَّهِ»:

(۱) و هر کدام از شما پیشاپیش نیکی فرستاده باشید آن را نزد خدا خواهید یافت.

(۲) و چنانچه برای خودتان نیکی از پیش بفرستید آن را نزد خدایتان می‌یابید.

(۳) و هر چه قدر برای خودتان از نیکی‌ها فرستاده‌اید آن را نزد خدا یافته‌اید.

(۴) و هر آن‌چه از نیکی برای خودتان پیش بفرستید آن را نزد خدا می‌یابید.

۱۲- عین الصحیح:

- (۱) «يُجهزُ السَّائِقُ سيارته ببطاريةٍ جديدةٍ قبلَ سفره»: رائدته قبل از سفر، خودروی خود را به یک باطری جدید مجهز نمود!
- (۲) «رجاءٌ علمينا درسَ الكيمياء في المختبر!»: لطفاً یاد بگیرید درس شیمی را در آزمایشگاه!
- (۳) «تفكروا في الخلق و لا تفكروا في الخالق!»: در آفرینش اندیشه کنید و در آفریدگار اندیشه نکنید!
- (۴) «أريتُ طلاباً في الصفِّ. كان الطلابُ جالسین علی الكراسی!»: دانش آموزانی را در کلاس دیدم که روی صندلی‌ها نشسته‌اند.

۱۳- عین الخطأ:

- (۱) «من جربَ المُجربَ حلتَ به الندامة»: هر کس آزموده‌شده را بیازماید پشیمانی بر او فرود آید.
 - (۲) «أحبتي هجروني كما تشاء عذاتي»: دوستانم مرا ترک کردند همان‌طور که دشمنانم می‌خواهند.
 - (۳) «سجلتُ منظمةَ اليونسكو قبةَ قابوس في قائمة التراث العالمي»: سازمان یونسکو گنبد کاووس را در لیست میراث جهانی ثبت کرده است.
 - (۴) «إن أبي كان يُعین الضمیف علی شدائد الدهر»: همانا پدرم به ناتوان در سختی روزگار کمک کرده است.
- ۱۴- «کتاب‌هایی در کتابخانه یافتیم که به من در آموختن درس‌های سختم کمک می‌کرد»:

- (۱) وَجَدْتُ كُتُباً فِي الْمَكْتَبَةِ تُسَاعِدُنِي عَلَي تَعَلُّمِ الدَّرْسِ الصَّعْبِ.
- (۲) أَنَا رَأَيْتُ كُتُباً فِي مَكْتَبَةِ لَكِي تُسَاعِدُ عَلَي تَعَلِيمِ الدَّرْسِ صَعْبِي.
- (۳) وَجَدْتُ كُتَاباً فِي الْمَكْتَبَةِ كَانَ سَاعَدَتْنِي عَلَي تَعَلُّمِ الدَّرْسِ الصَّعْبِ.
- (۴) أَنَا وَجَدْتُ فِي مَكْتَبَةِ كُتُباً أَلْتِي سَاعَدَتْنِي عَلَي تَعَلُّمِ الدَّرْسِ الصَّعْبِ.

۱۵- عین عبارة ماجاء فيها المتضاد:

- (۱) من سأل في صغره أجاب في كبره!
- (۲) هل تعلم بأن السكوت ذهب و الكلام فضة؟
- (۳) إن الأحقق يريد أن ينفك في الأمور و هو يضرک!
- (۴) كان الرجل كثير المعاصي فندم على أعماله السيئة!

۱۶- عین الخطأ في ضبط حركات الكلمات:

- (۱) أفضل الأعمال مساعدة الناس في الشدائد.
- (۲) هؤلاء العمال يندفعون إلى المصانع كل صباح!
- (۳) في منتصف النهار تضع حية الصحراء ذنبها في الرمل!
- (۴) من أخلاق الجاهل الإجابة قبل أن يسمع الكلام!

۱۷- عین الصحیح حسب الحقيقة و الواقع:

- (۱) إن الملمات أشمارٌ عربيةٌ ممزوجةٌ بالفارسية!
- (۲) التمساح يفرز سائل من عيونه عند أكل فريسة أكبر من فمه.
- (۳) الشرف قطعة قماش توضع على السرير في الفندق قطاً!
- (۴) هل تعلم بأن الأشجار في فصل الشتاء غصونها بديعة خضرة؟

۱۸- عَيْنَ مَا لَيْسَ فِيهِ اسْمُ الْفَاعِلِ، اسْمُ الْمَفْعُولِ وَ اسْمُ الْمِبَالِغَةِ مَعًا:

(۱) الْفَلَّاحُونَ لِأَيُّحْيُونَ مُضَادَّةَ الْمُفْسِدِينَ وَ هُمْ مُحْتَرَمُونَ عِنْدَ جَمِيعِ النَّاسِ.

(۲) دَافِعٌ عَنِ الْحُكَّامِ الَّذِينَ يُسَاعِدُونَ الْمَظْلُومِينَ فِي الْعَالَمِ.

(۳) أَنْشَدَ الْفَتَى الْعَلَمَاءُ أَشْعَارًا عِنْدَ الشُّعْرَاءِ الْمُلتَزِمِينَ ذَاتَ مَضَامِينٍ مُهِمَّةٍ.

(۴) ذَهَبَ سَائِقُ السِّيَّارَةِ إِلَى جَلْسَةِ كَانَ مَوْضِعُهَا تَقَافِيًّا.

۱۹- عَيْنَ مَا لَيْسَ فِيهِ أَسْلُوبُ الشَّرْطِ:

(۱) إِنْ تَلَّمَّ الطَّلَابُ الْعُلُومَ التَّاقَمَهُ حَصُلُوا عَلَى النَّجَاحِ! (۲) مَنْ يَتَفَكَّرَ فِي خَلْقِ اللَّهِ يُشَاهِدُ قُدْرَةَ اللَّهِ فِي الْعَالَمِ!

(۳) إِذَا فَكَّرْتَ قَبْلَ التَّكَلُّمِ سَلِمْتَ عَنِ الْخَطَا! (۴) مَا اشْتَرَيْتَ مِنَ السُّوقِ لِأَخِيكَ يَا صَدِيقِي!

۲۰- عَيْنَ مَا فِيهِ اسْمُ الْمَكَانِ وَ اسْمُ التَّفْضِيلِ كِلَاهِمَا مَفْعُولَانِ:

(۱) يُشَجِّعُنِي أَقْوَى الْعُلَمَاءِ أَنْ أَدْخُلَ مَجَالِسَ عِلْمِيَّةٍ.

(۲) فِي سَفَرِنَا إِلَى بِلَادِ أوروپَا شَاهَدْنَا أَجْمَلَ الْمَنَاطِرِ.

(۳) شَاهَدْتُ فِي هَذِهِ الْمَدَارِسِ مَكْتَبَةً كَبِيرَةً يُطَالَعُ التَّلَامِيذُ فِيهَا أَهْمَ الْكُتُبِ.

(۴) بُنِيَتْ مَسَاجِدُ فِي هَذَا الْبَلَدِ أَشَاهِدُ الْأَفَاضِلَ يَعْبُدُونَ فِيهَا.

۲۱- در دوران اختناق حاکمان بنی‌امیه، کدام امام مبارزه خویش را آشکارتر کرد و ارتباط از چه طریقی، زمینه را برای غیبت امام عصر (عج) آماده گردانید؟

(۱) امام کاظم (ع) - وکلای امام (ع) (۲) امام صادق (ع) - وکلای امام (ع)

(۳) امام کاظم (ع) - نائبان عام امام (ع) (۴) امام صادق (ع) - نائبان عام امام (ع)

۲۲- «تواب اربعه» چه کسانی بودند و غیبت صغری از چه زمانی آغاز شد؟

(۱) یاران صمیمی امام عسکری (ع) که قبل از رحلت ایشان، از ولادت موعود مطلع بودند - ۲۵۵ هـ. ق

(۲) یاران صمیمی امام عسکری (ع) که قبل از رحلت ایشان، از ولادت موعود مطلع بودند - ۲۶۰ هـ. ق

(۳) واسطه‌های امام زمان (ع) در رهبری امت در زمان غیبت صغری - ۲۵۵ هـ. ق

(۴) واسطه‌های امام زمان (ع) در رهبری امت در زمان غیبت صغری - ۲۶۰ هـ. ق

۲۳- کدام مفهوم از بیت «وز ایشان سید ما گشته سالار / هم او اول هم او آخر در این کار» برداشت می‌شود و قاعده «لا ضرر و لا ضرار فی

الاسلام» مؤید کدام موضوع است؟

- (۱) خاتمیت پیامبر اسلام (ص) - وجود قوانین تنظیم‌کننده دارای خاصیت تسلط و کنترل
- (۲) خاتمیت پیامبر اسلام (ص) - آمادگی جامعه بشری برای دریافت برنامه کامل زندگی
- (۳) دلسوزی پیامبر (ص) در هدایت مردم - آمادگی جامعه بشری برای دریافت برنامه کامل زندگی
- (۴) دلسوزی پیامبر (ص) در هدایت مردم - وجود قوانین تنظیم‌کننده دارای خاصیت تسلط و کنترل

۲۴- اولین اقدام اصلاحی امام علی (ع) در راستای عدالت بی‌ماندش چه بود؟

- (۱) صرفاً مبارزه با تبعیض و نابرابری و برقراری عدالت
- (۲) تقسیم باقی‌مانده بیت‌المال میان حکام و فرمانداران پس از پرداخت هزینه‌های عمومی کشور
- (۳) برکناری کارگزاران گمراه
- (۴) معرفی معیار واقعی حق از باطل

۲۵- حدیث نبوی: «من اصبح و لم یهتّم بامور المسلمین فلیس بمسلم» مؤید کدام برنامه وحدت‌آفرین میان مسلمانان است؟

- (۱) اعتقادات خود را با دانش و استدلال، ارتقا و اعتلا ببخشیم تا بتوانیم بر اساس معرفت و استدلال سخن بگوییم.
- (۲) دفاع منطقی از اعتقادات، نه تنها سبب تفرقه و جدایی نمی‌شود بلکه دل‌ها را به یکدیگر نزدیک می‌کند.
- (۳) از اهانت و توهین به مقدسات سایر مسلمانان که بذر دشمنی را میان مسلمان می‌کارد خودداری کنیم.
- (۴) خود را از سایر مسلمانان دور ندانیم و برای پیشرفت جهان اسلام، پیروزی و سربلندی مسلمانان در تمام نقاط جهان تلاش کنیم.

۲۶- ارتباط موضوعی کدام‌یک از گزاره‌های زیر با مفهوم آیه «فلا یتدبرون القرآن و لو کان من عند غیرالله ...» به‌درستی بیان شده است؟

الف) سخن گفتن از مسئولیت‌های اجتماعی انسان‌ها

ب) سخن گفتن از حقوق برابر انسان‌ها

ج) نیاز جامعه به اصلاح

د) عدم نیاز قرآن به اصلاح

ه) نفوذ خارق‌العاده در افکار و قلوب

و) هماهنگی آیات قرآن کریم و عدم تعارض

- (۱) الف، ج، د (۲) د، و (۳) ج، د و (۴) ب، و، هـ

۲۷- بازتاب برگزیدن برنامه دیگری غیر از برنامه خداوند در کدام آیه شریفه تجلی دارد و در بیان امام کاظم (ع)، آن کس که در پیام الهی تعقل

می‌کند و عقلش کامل‌تر است دل‌های چه ویژگی می‌یابد؟

- (۱) «ان الانسان لقی خسر» - برخوردار از معرفت برتر است.
- (۲) «ان الانسان لقی خسر» - رتبه‌اش در دنیا و آخرت بالاتر است.
- (۳) «و هو فی الآخرة من الخاسرین» - رتبه‌اش در دنیا و آخرت بالاتر است.
- (۴) «و هو فی الآخرة من الخاسرین» - برخوردار از معرفت برتر است.

۲۸- از آنجا که یکی از لوازم نبوت، برخورداری از عصمت می‌باشد، کدام آیه شریفه ثمره بهره‌مندی پیامبر اسلام (ص) در اجرای احکام الهی از

آن است؟

(۱) «الله اعلم حيث يجمل رسالته»

(۲) «انما يريد الله ليذهب عنكم الرجس اهل البيت و يطهرکم تطهیرا»

(۳) «لقد ارسلنا رسلنا بالبينات و اتزلنا معهم الكتاب و الميزان ليقوم الناس بالقسط»

(۴) «لقد کان لکم فی رسول الله اسوة حسنة لمن کان یرجوا الله و الیوم الآخر و ذکر الله کثیرا»

۲۹- به ترتیب هر یک از گزاره‌های زیر مؤید چه موضوعی هستند؟

- عدم تغییر عقیده به امام برای راسخان در ایمان

- همانا این، برادر من، وصی من و جانشین من در میان شما خواهد بود.

- «ذلک بأنّ الله لم یک مغیراً نعمة انعمها علی ...»

(۱) حدیث جابر - حدیث غدیر - عامل زمینه‌ساز هلاکت و یا عزت

(۲) حدیث ثقلین - حدیث منزلت - خورشید پشت ابر

(۳) حدیث جابر - آیه انذار - عامل زمینه‌ساز هلاکت و یا عزت

(۴) حدیث ثقلین - آیه ولایت - خورشید پشت ابر

۳۰- از کدام آیه شریفه مستفاد می‌گردد که پیامبر (ص) در سلسله انبیای الهی قرار داشته است و هر یک از کتاب‌های «کافی» و «تهذیب» از

کدام دانشمندان علوم اسلامی است؟

(۱) «لقد کان فی رسول الله اسوة حسنة» - شیخ صدوق - کلینی

(۲) «و لکن رسول الله و خاتم النبیین» - شیخ صدوق - شیخ طوسی

(۳) «لقد کان فی رسول الله اسوة حسنة» - کلینی - شیخ صدوق

(۴) «و لکن رسول الله و خاتم النبیین» - کلینی - شیخ طوسی

31- The best thing about his new job is that he can enjoy ... to different places without having to pay for his trips.

- 1) to travel 2) travel 3) from travelling 4) travelling

32- They are not willing to give ... about the exact origins of the virus.

- 1) many information 2) many informations 3) much information 4) much informations

33- "I don't remember what she said about her new flat. ... painting it?"

- 1) Has she finished 2) Have she finished
3) Does she have finished 4) Did she have finished

34- Her parents have told her to drive carefully, but she just turns a ... car to what they say.

- 1) oral 2) deaf 3) native 4) quick

35- He has received emergency medical care and fortunately his health condition is ... now.

- 1) communicating 2) marking 3) measuring 4) improving

36- No matter how long you ... an answer to your questions, you won't find anything without help.

- 1) look after 2) look for 3) keep on 4) keep off

37- He is famous for expressing his ... opinion without caring about others' feelings.

- 1) honest 2) balanced 3) interesting 4) familiar

38- After many years, his music is still hugely ... in Latin America.

- 1) fluent 2) tiny 3) popular 4) harmful

39- If you work hard and give your full ... to what you do, you will certainly succeed.

- 1) attention 2) diet 3) subject 4) member

40- Many believe that universities cannot provide students with skills that are ... in the job market today.

- 1) healthy 2) cheap 3) mental 4) necessary

۴۱- نماد ریاضی گزاره «هر عدد حقیقی مثبت همواره بزرگتر یا مساوی تفاضل معکوسش از عدد ۲ است.» کدام است؟

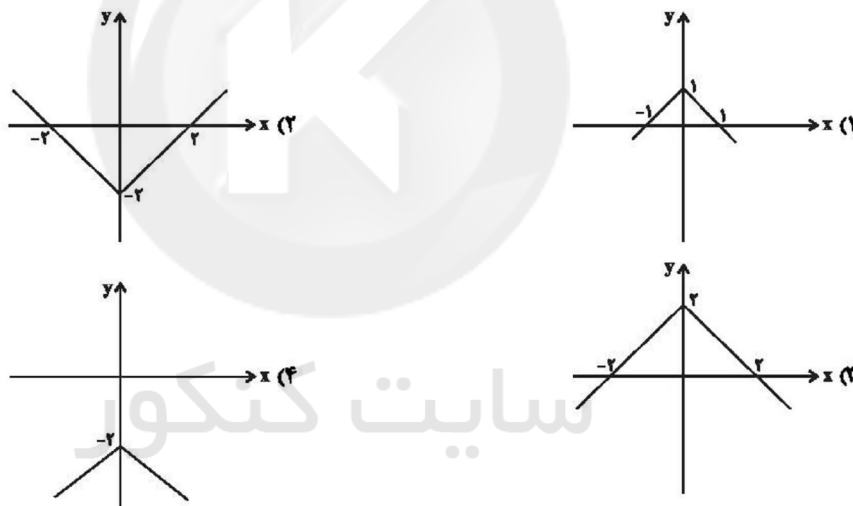
$x \leq 2 - \frac{1}{x}, x > 0$ (۴) $x \geq 2 - \frac{1}{x}, x > 0$ (۳) $x \leq 2 + \frac{1}{x}, x > 0$ (۲) $x \geq 2 + \frac{1}{x}, x > 0$ (۱)

۴۲- اگر p گزاره‌ای دلخواه باشد، کدام هم‌ارزی زیر درست است؟ (F : همواره نادرست و T : همواره درست)

$(p \Leftrightarrow \sim p) \equiv F$ (۲) $(p \Rightarrow \sim p) \equiv T$ (۱)

$\sim(\sim p \wedge p) \equiv p$ (۴) $[(\sim p \vee F) \wedge (\sim p \wedge F)] \equiv \sim p$ (۳)

۴۳- نمودار تابع $f(x) = -|x| + 2$ کدام است؟



۴۴- اگر $f(x) = \text{sign}(x)$ و $g(x)$ یک تابع همانی با دامنه مجموعه اعداد حقیقی باشد، حاصل $\frac{2f(-1) + 2f(0) - 2g(1)}{f(2) + g(2) - 2f(-3)}$ کدام است؟

$-\frac{3}{4}$ (۴) $-\frac{8}{5}$ (۳) $-\frac{7}{6}$ (۲) $-\frac{3}{5}$ (۱)

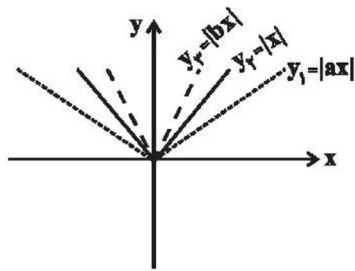
۴۵- حاصل عبارت $[\sqrt{2}] + [\sqrt{3}] + \dots + [\sqrt{7}]$ کدام است؟ ([]، نماد جزء صحیح است.)

۲۱ (۴) ۱۴ (۳) ۷ (۲) ۱۰ (۱)

۴۶- مقلدر $\text{sign}(\sqrt{3} - \pi) + \text{sign}(\sqrt{6} - 2) + \text{sign}(\sqrt{2})$ کدام است؟

۱ (۴) -۱ (۳) صفر (۲) ۲ (۱)

۴۷- اگر a و b اعداد حقیقی مثبت باشند برای این که نمودار توابع y_1 ، y_2 و y_3 به شکل زیر باشد، مقادیر a و b کدامیک می‌تواند باشد؟



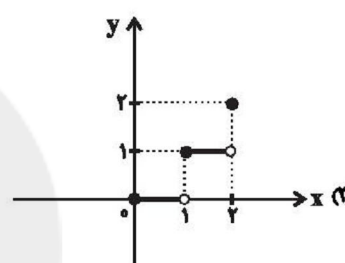
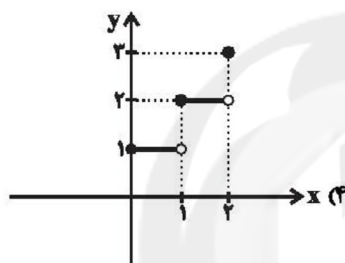
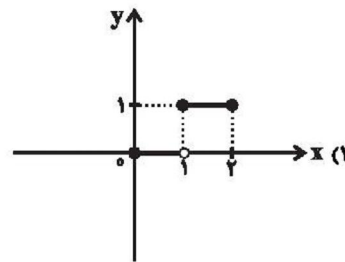
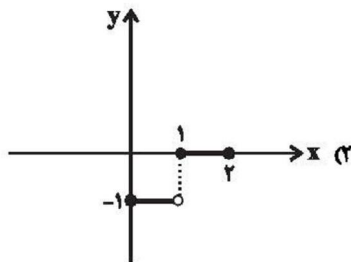
$a = \frac{1}{5}$, $b = 9$ (۳)

$a = \frac{1}{5}$, $b = \frac{1}{6}$ (۱)

$a = 3$, $b = \frac{1}{3}$ (۴)

$a = 5$, $b = 8$ (۲)

۴۸- نمودار $y = [x-2] + 3$ در فاصله $0 \leq x \leq 2$ کدام است؟ ([] ، نماد جزء صحیح است.)



۴۹- اگر $-6 \leq x \leq 2$ باشد، آنگاه برد تابع $y = |x|$ کدام است؟

$\{y | 0 \leq y \leq 2\}$ (۴)

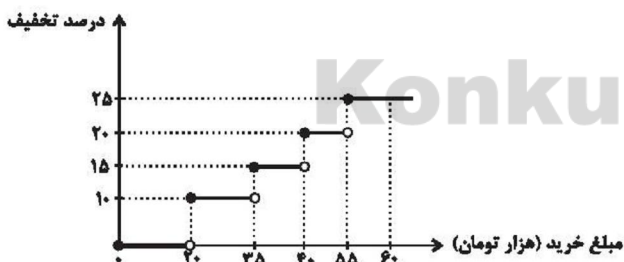
$\{y | -6 \leq y \leq 2\}$ (۳)

$\{y | 0 \leq y \leq 6\}$ (۲)

$\{y | 2 \leq y \leq 6\}$ (۱)

۵۰- یک فروشگاه برای خرید مشتریان در بخش پوشاک طبق تابع پلکانی زیر برحسب مزاد مبلغ خرید تخفیف معین می‌دهد. اگر از این فروشگاه با

قیمت قبل از تخفیف ۶۰ هزار تومان خرید کنیم چند تومان تخفیف شامل حال ما می‌شود؟



۶۵۰۰ (۱)

۱۰۲۵۰ (۲)

۴۷۵۰ (۳)

۵۰۲۵ (۴)

۵۱- توضیح مقابل کدام اثر، کاملاً درست است؟

- (۱) مکاتیب: این اثر که شامل مباحث عرفانی است، مولانا گفته و شاگردان نوشته‌اند.
- (۲) المعجم فی معاییر اشعار العجم: از نخستین و مهم‌ترین آثار در علم عروض، قافیه، بدیع و نقد شعر به شمار می‌رود. نثر نجم‌الدین رازی، نویسنده این اثر، در مقدمه، مصنوع و در اصل کتاب، ساده و عالمانه است.
- (۳) تاریخ گزیده: این کتاب تاریخ پیامبران، خلفای چهارگانه، خلفای بنی‌عباس و تاریخ ایران را تا سال ۷۳۰ هـ. ق. دربر می‌گیرد.
- (۴) نفحات‌الانس: نام یکی از مثنوی‌های جامی است که در سرودن آن، شیوه نظامی را به کار برد.

۵۲- هر دو مورد کدام گزینه در پاره نثر دوره عراقی و آثار آن نادرست است؟

الف) سلطان حسین بايقرا و اميرعليشير نوایی در حوزه ادبی هرات، فارسی گویی و فارسی نویسی را تشویق می کردند.

ب) کتاب ظفرنامه شامی نوشته ملاحسین واعظ کاشفی، قدیمی ترین تاریخ نوشته شده درباره چنگیز است.

پ) در این دوره حاشیه نویسی های متعددی به نثر ساده بر تاریخ های قدیم انجام گرفت. البته باید توجه داشت که این سادگی نثر همه جا یکسان نیست و نثر ساده این دوره را نمی توان فصیح و بلیغ دانست.

ت) در این دوره، کتاب عرفانی مهمی به نثر نوشته نشد.

ث) در اندیشه ادیبان این دوره، تعمق و تفکر، جای صنایع ادبی را گرفت.

۱) الف، پ ۲) ب، ث ۳) ت، ب ۴) ت، ث

۵۳- با توجه به ویژگی های شعری شاعران قرن های دهم و یازدهم، هریک از عبارات های زیر به ترتیب مربوط به ویژگی های سبکی شاعران کدام گزینه است؟

«خداوندگار مضامین تازه شعری، مشهور به دقت و ظرافت و رقت معانی، وجود ابهام و تخیل های رمزآمیز شاعرانه، استفاده از ضرب المثل ها و الفاظ محاوره در غزل»

۱) صائب تبریزی، بابافغانی شیرازی، بیدل دهلوی، کلیم کاشانی

۲) صائب تبریزی، وحشی بافقی، کلیم کاشانی، بیدل دهلوی

۳) بیدل دهلوی، کلیم کاشانی، صائب تبریزی، وحشی بافقی

۴) بیدل دهلوی، بابافغانی شیرازی، صائب تبریزی، محتشم کاشانی

۵۴- ویژگی های فکری «بازتاب بیشتر علوم در شعر، واقع گرایی یا توجه به دنیای بیرون، عشق گرایی، فراق، روحیه عرفانی و اخلاقی» به ترتیب در ابیات کدام گزینه، دیده می شود؟

الف) کجاست هم نفسی تا به شرح، عرضه دهم / که دل چه می کشد از روزگار هجرانش

ب) چو زر شدند رزان، از چه؟ از نهیب خزان / به کینه گشت خزان، یا که؟ باستاک رزان

پ) گوهر پاک بپاید که شود قابل فیض / و نه هر سنگ و گلی لؤلؤ و مرجان نشود

ت) با غم عشق تو گو دین برو و عقل ممان / عقل و دین هر دو به عشق تو کجا می مانند

ث) شهرت به سعد اکبر از آن یافت مشتری / کو روز و شب دعای تو ورد زبان کند

۱) پ، الف، ت، ب، ث ۲) ث، پ، الف، ت، ب

۳) پ، ب، الف، ث، ت ۴) ث، ب، ت، الف، پ

۵۵- در بیت کدام گزینه، تشبیه فشرده غیراضافی وجود ندارد؟

۱) نیست شاه آن کس که دارد گنج گوهر بی شمار / هر که را سد رمق هست از جهان، اسکندر است

۲) چشم ما را شد رگ خواب گران، موی سفید / بادبان بر کشتی دریایی ما لنگر است

۳) شکرستان با وجود حرص باشد شوره زار / با قناعت چشم تنگ مور، تنگ شکر است

۴) خیره چشمان را نباشد در حریم حسن راه / از دو چشم شوخ، جای حلقه بیرون در است

۵۶- بخش های مشخص شده در تمام بیت ها به چه چیز ... در معنای مجازی به کار رفته اند.

۱) امروز روز نوبت دیدار دلبرست / امروز روز طالع خورشید اکبر است

۲) از حور و ماه و روح و پری هیچ دم مزین / کان ها به او نماند او چیز دیگر است

۳) داری سر آن کز سر سر بر خیزی / تا درد سر و بار کله بر خیزد

۴) به نام خداوند خورشید و ماه / که دل را به نامش خرد داد راه

۵۷- با توجه به غزل زیر، از فخرالدین عراقی، کدام گزینه نادرست است؟

هز خواب، نرگس مست تو سرگران برخاست / خروش و ولوله از جان عاشقان برخاست
 چه سحر کرد ندانم دو چشم جادوی تو؟ / که از نظارگیان ناله و فغان برخاست
 به تیر غمزه، ازین بیش، خون خلق مریز / که رستخیز به یکباره از جهان برخاست
 بدین صفت که تو آغاز کرده‌ای خونریز / چه سیل خواهد ازین تیره خاکدان برخاست!
 به بوی آنکه به دامان تو درآویزد / دل من از سر جان آستین‌فشان برخاست»

- (۱) در بیت چهارم، استعاره آشکار وجود دارد. (۲) دو تشبیه فشرده اضافی در این شعر وجود دارد.
 (۳) آرایه جان‌بخشی بیش از دو بار در این شعر دیده می‌شود. (۴) «نرگس» در بیت اول، مجاز به علاقه‌م شباهت است.

۵۸- وزن چند واژه در برابر آن درست آمده است؟

«سلامت: فعولن) / (عاطفتی: مستفعلن) / (لب خندان: فعلاتن) / (سر قضا: مفتعلن) / (مه‌جبینان: فاعلاتن) / (آزادگی: مستفعلن) /
 (پریشانی: مفاعیلن) / (جبین: فَعْل) / (سبزپوشان: فاعلاتن) / (آوازخوان: مفتعلن)»

- (۱) هشت (۲) هفت (۳) شش (۴) پنج

۵۹- هر دو بیت کدام گزینه بر وزن «مفتعلن مفتعلن فاعلن» سروده شده است؟

(الف) دولت جاوید به طاعت در است / سود مسافر به بضاعت در است
 (ب) مست عشق آن دم که برخیزد سماع / یک نفس خاموش نتواند نشست
 (پ) خیز که از هر طرفی بانگ چنگ / در فلک انداخت ندا و صدا
 (ت) صبحدم در بلخ اگر دستت دهد / خوش برآ چون سرو و طرف جوی جوی
 (ث) مجلس ما بی تو ندارد فروغ / زان که رخت شمع شبستان ماست
 (ج) هر زمان آهنگ بیزاریش بین / عهد و پیمان وفاداریش بین

- (۱) الف، پ (۲) ب، ت (۳) الف، ج (۴) پ، ج

۶۰- وزن کدام بیت در برابر آن درست آمده است؟

(۱) رام را گر برگ گل باشد نبیند ویس را / و سلیمان ملک خواهد ننگرد بلقیس را (فاعلاتن فاعلاتن فاعلاتن)
 (۲) دل می‌دهد جان را خبر کارام جان می‌پرسدت / جان مژدگانی می‌دهد دل را که جانان می‌رسد (مفتعلن مفتعلن مفتعلن مفتعلن)
 (۳) تو پروا نداری که پروانه داری / تو پیمان ندانی که پیمانانه دانی (فعولن فعولن فعولن فعولن)
 (۴) آن گل رخسار نگر نام گلستان چه بری / وان قد و رفتار نگر سرو خرامان چه کنی (مستفعلن مستفعلن مستفعلن مستفعلن)

۶۱- به ترتیب هر یک از کتاب‌های زیر مربوط به کدام نوع تاریخ‌نگاری می‌باشند؟

«تاریخ بیهقی، المسالک و الممالک، تاریخ طبری»

- (۱) تک‌نگاری - تاریخ سلسله‌ای - تاریخ‌های عمومی (۲) تک‌نگاری - تاریخ عمومی - تاریخ‌های عمومی
 (۳) تاریخ سلسله‌ای - نوشته‌های جغرافیایی - تاریخ‌های عمومی (۴) تاریخ‌های عمومی - نوشته‌های جغرافیایی - تاریخ سلسله‌ای

۶۲- کدام یک از گزینه‌های زیر در مورد دین و اعتقادات ساکنان شبه‌جزیره عربستان قبل از ظهور اسلام نادرست است؟

(۱) ساکنان این شبه‌جزیره و برخی از عرب‌ها الله را آفریننده جهان می‌دانستند.

(۲) حنفاء پیرو آیین حضرت ابراهیم بودند و از گوشت قربانی بت‌پرستان نمی‌خوردند.

(۳) مردم عربستان به آیین زرتشتی و کیش مانوی اعتقاد نداشتند.

(۴) در آستانه ظهور اسلام، تعدادی از قبیله‌های عرب به آیین یهودیت و مسیحیت گرویده بودند.

۶۳- در بین عبارتهای زیر چند عبارت نادرست درباره اقدامات «عبدالله بن ابی» بر عیله پیامبر (ص) وجود دارد؟

(الف) پس از پیروزی مسلمانان در جنگ بدر، اظهار مسلمانی کرد.

(ب) هنگامی که پیامبر (ص) تصمیم به محاصره یهودیان بنی‌نضیر گرفت، عبدالله بن ابی یهودیان را تشویق به مقاومت کرد و به آنها وعده یاری داد.

(ج) همواره می‌کوشید که مهاجران را علیه انصار تحریک نماید.

(د) در غزوه‌های احد و خندق، به همراه یارانش از سپاه اسلام جدا شد و در جنگ شرکت نکرد.

(۱) سه (۲) چهار (۳) دو (۴) یک

۶۴- کدام گزینه درباره شهر و شهرنشینی در عصر مغولان نادرست است؟

(۱) شهر و شهرنشینی که در تمدن ایرانی، دارای پیشینه‌ای کهن بود، با هجوم مغولان به ایران، دچار وقفه و افول شد.

(۲) پس از استقرار ایلخانان و تلاش‌های دیوان‌سالاران ایرانی، رفتار غیرمردمی مغول‌ها مهار شد اما باز هم در رونق شهر و شهرنشینی تأثیری به‌وجود نیامد.

(۳) رشد نسبی تجارت و فعالیت‌های اقتصادی شهرنشینی را احیا کرد.

(۴) توصیه‌های یاسا به دوری از شهر و شهرنشینی باعث شد که مغول‌ها به اصول و قواعد زندگی یک‌جانشینی پایبند نباشند.

۶۵- کدام گزینه مهم‌ترین اقدام پیامبر (ص) برای تأسیس نظام اجتماعی و سیاسی منسجمی در چارچوب دین اسلام به‌شمار می‌رود؟

(۱) برقراری پیوند برادری میان مسلمانان (۲) نبرد با متافتان توطئه‌گر مدینه

(۳) تدوین پیمان‌نامه عمومی مدینه (۴) ساخت مسجد به‌عنوان نماد وحدت مسلمانان

۶۶- بخش عمده اقتصاد ایران در دوران اسلامی، بر ... استوار بود و سه گونه مالیات کشاورزی، مالیات بازرگانی و مالیات دامی، تا ... تداوم یافت.

(۱) دامداری و زراعت - پایان عهد مغولان (۲) مالیات و خراج از کشاورزان - پایان عهد مغولان

(۳) کشاورزی و تجارت - پایان عهد تیموریان (۴) مالیات و خراج از کشاورزان - پایان عهد تیموریان

۶۷- چه تعداد از عبارتهای زیر نادرست است؟

الف) دورهٔ مسلمانی مغولها در ایران از زمان هولاکوخان شروع شد.

ب) موج اول حملهٔ مغول به ایران که با فرمان چنگیزخان انجام گرفت، پنج سال طول کشید.

پ) مرگ ابوسعید، آخرین ایلخان مغول، آغازگر سه دههٔ آشفتگی سیاسی و نابسامانی نسبی در اوضاع اقتصادی و اجتماعی ایران بود.

ت) هولاکو در زمان فرمانروایی برادرش منگوقاآن، به منظور نظم بخشیدن به قلمرو متصرفی مغول و گسترش فتوحات در غرب آسیا، به

ایران لشکرکشی کرد.

۱) چهار (۲) سه (۳) دو (۴) یک

۶۸- در عصر مغول و تیموری، در مقایسه با مردم غیرشهری ... از زندگی به مراتب بهتری برخوردار بودند و مناطق ... و ... که در تهاجم

مغولان بیشترین خسارت را تحمل کردند، از جمله حاصل خیزترین و آبادترین مناطق ایران به شمار می‌رفتند.

۱) بازاریان و صنعت‌گران - نیشابور، خراسان

۲) اشراف نظامی و کشاورزان - گرگان، هرات

۳) دامداران و کشاورزان - ماوراءالنهر، هرات

۴) بازاریان و صنعت‌گران - ماوراءالنهر، خراسان

۶۹- هدف و انگیزهٔ محمود غزنوی از حملهٔ به هند چه بود و کدام سیاست مسعود غزنوی باعث غافل شدن از وضعیت مردم خراسان شد؟

۱) ترویج اسلام - سرکوب شیعیان آل بویه

۲) سرکوب شیعیان - تصرف ماوراءالنهر

۳) جهاد در راه خدا - درگیری‌های مکرر با خلافت عباسیان

۴) دستیابی به ثروت فراوان هند - درگیری‌های داخلی و سرگرم شدن در لشکرکشی به هندوستان

۷۰- کدام هنر در دورهٔ سلجوقی، یکی از درخشان‌ترین دوران خود را در تاریخ ایران پشت سر گذاشت و کدام مسجد یکی از کهن‌ترین

مسجدهای چهار ایوانی در ایران است؟

۱) فلزکاری - مسجد جمعهٔ اصفهان

۲) سفالگری - مسجد شیخ لطف‌الله

۳) معماری - مسجد شیخ لطف‌الله

۴) کاشی‌کاری - مسجد جمعهٔ اصفهان

۷۱- کدام گزینه دربارهٔ تقسیم‌بندی ناحیه‌های بارشی ایران صحیح است؟

۱) جغرافی‌دان‌ها فقط براساس ترکیب ویژگی‌های عمدهٔ بارش از قبیل میانگین بارندگی سالانه و روزانه نواحی بارشی ایران را تقسیم‌بندی کرده‌اند.

۲) خزر غربی، شرقی، کردستان، آذربایجان و زاگرس جزء چهار ناحیهٔ بارشی تقسیم‌بندی شده توسط جغرافی‌دانان است.

۳) بیشترین میزان بارش مربوط به ناحیهٔ بارشی خزر غربی با ۱۲۶۱ میلی‌متر بارش سالانه است.

۴) نواحی بارشی خراسان شمالی و کردستان میانگین سالانهٔ بارش یکسانی دارند.

۷۲- با دور شدن از کانون یک ناحیه جغرافیایی و حرکت به طرف مرزهای آن، وحدت و همگونی در یک ناحیه چگونه می‌شود و کدام گزینه

درباره قلمرو و وسعت نواحی درست است؟

- ۱) به تدریج از عوامل همگونی آن ناحیه کاسته می‌شود. - قلمرو و وسعت نواحی متفاوت نیست.
- ۲) به تدریج از عوامل همگونی آن ناحیه کاسته می‌شود. - قلمرو و وسعت نواحی متفاوت است.
- ۳) تغییری در وحدت و همگونی نواحی ایجاد نمی‌شود. - قلمرو و وسعت نواحی متفاوت است.
- ۴) وحدت و همگونی هم‌نواحی کره‌زمین به‌طور یکسان منتقل می‌شود. - قلمرو و وسعت نواحی قابل تغییرند.

۷۳- پرتوهای خورشید در مدار ۶۰ درجه به چه دلیل مساحتی دو برابر ناحیه استوایی را دربرمی‌گیرند و هر چه از استوا به سمت عرض‌های

جغرافیایی بالاتر حرکت می‌کنیم، بر روی دمای هوا چه تأثیری می‌گذارد؟

- ۱) به دلیل مایل تابیدن - دمای هوا تغییری نمی‌کند.
- ۲) به دلیل مایل تابیدن - دمای هوا کاهش می‌یابد.
- ۳) به دلیل عمود تابیدن - دمای هوا افزایش می‌یابد.
- ۴) به دلیل مایل و عمود تابیدن - دمای هوا کاهش می‌یابد.

۷۴- هر یک از عبارات‌های زیر به ترتیب مربوط به کدام نوع تغییر در چهره زمین و سنگ‌ها می‌شود؟

الف) ایجاد تونل زیرزمینی توسط موربانه

ب) اثرات خوردگی روی مجسمه‌های کشف شده توسط باستان‌شناسان

پ) باکتری‌های تجزیه کننده

- ۱) فیزیکی - شیمیایی - شیمیایی
- ۲) فیزیکی - فیزیکی - شیمیایی
- ۳) شیمیایی - فیزیکی - فیزیکی
- ۴) شیمیایی - فیزیکی - شیمیایی

۷۵- صحیح یا غلط بودن هر یک از عبارات‌های زیر به ترتیب در کدام گزینه، به درستی بیان شده است؟

الف) دین و زبان هر دو از شاخص‌های فرهنگی به‌شمار می‌روند.

ب) دین نقش مهمی در خلق چشم‌اندازهای فرهنگی دارد.

پ) دین مسیحیت در آسیا ظهور کرد.

ت) دین، عنصر اصلی گسترش یک فرهنگ است.

- ۱) ص - ص - ص - غ
- ۲) ص - غ - ص - غ
- ۳) غ - ص - غ - ص
- ۴) ص - غ - غ - ص

۷۶- تا دهه ۱۹۸۰ میلادی، فعالیت‌های اقتصادی به چند بخش عمده تقسیم می‌شد و کدام شیوه کشت هم در کشورهای پیشرفته و هم در

کشورهای کمتر توسعه یافته جهان رواج دارد و به دنبال چه مسئله‌ای این شیوه در جهان گسترش یافته است؟

۱) چهار - تجاری - پیشرفت در فناوری

۲) سه - تجاری - رشد جمعیت

۳) چهار - معیشتی - رشد جمعیت

۴) سه - معیشتی - پیشرفت در فناوری

۷۷- با ورود به عصر ... و پیشرفت ... در قرن‌های ... و ... میلادی، اروپاییان به سرزمین‌های نو در آمریکا و اقیانوسیه دست یافتند.

۱) انقلاب صنعتی - در فناوری - هجدهم - نوزدهم

۲) اکتشافات جغرافیایی - در فناوری - هجدهم - نوزدهم

۳) انقلاب صنعتی - در دریانوردی - چهاردهم - پانزدهم

۴) اکتشافات جغرافیایی - در دریانوردی - پانزدهم - شانزدهم

۷۸- هر یک از موارد زیر به ترتیب در مورد کدام دسته از کشورها درست است؟

الف) ساختار اقتصادی و اجتماعی آنها دچار تغییر و تحولات صنعتی و فناوریانه شده است.

ب) از نظر توسعه صنعتی و فناوری‌های نوین در سطح پایین‌تری قرار دارند.

پ) چین جز این دسته از کشورها می‌باشد.

ت) کانون‌های سلطه اقتصادی بر جهان است.

(۱) نیمه پیرامون - پیرامون - نیمه پیرامون - مرکز

(۲) پیرامون - نیمه پیرامون - مرکز - پیرامون

(۳) نیمه پیرامون - مرکز - پیرامون - مرکز

(۴) پیرامون - مرکز - نیمه پیرامون - پیرامون

۷۹- کدام اشکال فرسایش کاوشی، حاصل فرسایش بادی - آبی هستند که بیان گیبی نیز نمونه‌ای از آن است و طبقه‌بندی زیست‌بوم‌ها

کدام جغرافی‌دان، بر مبنای دو عامل بارش و دما انجام شده است؟

(۱) رگ - گودی (۲) کلوت - گودی (۳) تلماسه - وایتکر (۴) یاردانگ - وایتکر

۸۰- دامداری‌های تجاری، ممکن است در کنار مزارع بزرگ ... ایجاد شوند و از بقایای محصولات کشورهای برای ... استفاده می‌کنند و

کشورهای کره جنوبی، ... سنگاپور و ... در چند دهه اخیر به تولیدکنندگان و صادرکنندگان مهم کالاهای صنعتی در جهان تبدیل شده‌اند.

(۱) پلانتیشن - تهیه کود - اندونزی - هنگ کنگ (۲) پلانتیشن - تغذیه دام - اندونزی - مالزی

(۳) غله تجاری - تهیه کود - تایوان - هنگ کنگ (۴) غله تجاری - تغذیه دام - تایوان - مالزی

۸۱- دولت - ملت‌ها، حاکمیت‌های سیاسی - اقتصادی جدیدی بودند که نخستین بار در ... با ... پدید آمدند. هویت آنها اغلب ... بود.

(۱) اروپای غربی - شروع استعمارگری - سکولاریستی و دنیوی (۲) آمریکا - شروع استعمارگری - ناسیونالیستی و قومی

(۳) اروپای غربی - افول قدرت کلیسا - ناسیونالیستی و قومی (۴) آمریکا - افول قدرت کلیسا - سکولاریستی و دنیوی

۸۲- به ترتیب، هر یک از عبارات‌های زیر با کدام گزینه ارتباط بیشتری دارند؟

الف) داشتن حیاتی حیوانی یا پست‌تر از آن برای انسان‌ها

ب) توجه به بعد جسمانی وجود انسان

ج) خودداری از آشکار کردن دنیا و مسائل مادی به‌عنوان هدف برتر

د) اهمیت پیدا کردن رمان در فرهنگ غرب

(۱) محدود ماندن به ابعاد دنیوی خود - هنر مدرن - فرهنگ معنوی و دینی - منعکس کردن حالات روانی آدمیان در زندگی روزمره

(۲) توجه نکردن به نیازهای مادی - هنر قرون وسطی - فرهنگ سکولار - توجه داشتن به مکاشفات و مشاهدات الهی انسان

(۳) محدود ماندن به ابعاد دنیوی خود - هنر مدرن - فرهنگ معنوی و دینی - توجه داشتن به مکاشفات و مشاهدات الهی انسان

(۴) توجه نکردن به نیازهای مادی - هنر قرون وسطی - فرهنگ سکولار - منعکس کردن حالات روانی آدمیان در زندگی روزمره

۸۳- به ترتیب، هر یک از عبارتهای زیر با مفاهیم کدام گزینه مرتبط است؟

الف) اندیشه سیاسی جدیدی که اراده آدمی را مبدأ قانون گذاری می داند.

ب) نخستین انقلاب لیبرال در جهان است.

پ) مهم ترین عامل ادغام جوامع غیر غربی در نظام جهانی جدید بود.

۱) اومانیسیم - انقلاب فرانسه - جنگ جهانی دوم

۲) لیبرالیسم - انقلاب روسیه - استعمار

۳) اومانیسیم - انقلاب روسیه - جنگ جهانی دوم

۴) لیبرالیسم - انقلاب فرانسه - استعمار

۸۴- کدام گزینه درباره «دیدگاه قرآنی» در ارتباط با جهان های ذهنی، فرهنگی و تکوینی درست است؟

۱) تفاوتی بین علوم طبیعی و علوم انسانی قائل نیست.

۲) جهان تکوینی مهم تر از جهان ذهنی و جهان فرهنگی است.

۳) جهان فرهنگی مهم تر از جهان ذهنی و تکوینی است.

۴) جهان فرهنگی، جهان ذهنی و جهان تکوینی در تعامل با یکدیگرند.

۸۵- کدامیک از گزاره های زیر صحیح بیان نشده اند؟

الف) روشنگری در معنای خاص، روشی از معرفت و شناخت است که با سکولاریسم و اومانیسیم همراه شده است.

ب) روشنگری با رویکرد دنیوی، اگر با شناخت عقلی همراه باشد، به دلیل اینکه وحی را نمی پذیرد به «دئیسم» منجر می شود.

ج) استبداد با وجود اینکه دارای هویتی اسلامی بود به دلیل اینکه پشتوانه و پیشینه ای خارج از جهان اسلام داشت، می کوشید با رعایت ظواهر اسلامی، ظاهر دینی خود را حفظ کند.

د) غلبه قدرت هایی مانند سلجوقیان، خوارزمشاهیان، مغولان و عثمانی که در چارچوب فرهنگ قومی و قبیله ای رفتار می کردند، مانع می شد تا ظرفیت های فرهنگ اسلامی به طور کامل آشکار شود.

۱) د

۲) ج

۳) ج و ب

۴) الف و د

۸۶- فرهنگ، ... را شکل می دهد و محصول ... است.

۱) باورها و ارزش های اخلاقی و روانی - نگرش انسان به هنجارها و نمادهای اجتماعی

۲) شیوه زندگی اجتماعی انسانها - آگاهی و عمل مشترک آدمیان

۳) باورها و ارزش های اخلاقی و روانی - آگاهی و عمل مشترک آدمیان

۴) شیوه زندگی اجتماعی انسانها - نگرش انسان به هنجارها و نمادهای اجتماعی

۸۷- به ترتیب، کدام گزینه در ارتباط با «استعمار نو» و «فرانو» درست آمده است؟

۱) جست و جوی فرهنگ خود در حاشیه جهان غرب - به دست گرفتن کنترل سیاست کشورهای دیگر از طریق دولت های دست نشانده

۲) کودتای آمریکایی ۲۸ مرداد و کودتای آمریکایی، انگلیسی نوژه دو مورد از کودتاهای موفق این نوع استعمارند. - رفتن به مسیری که جهان غرب

برای فرهنگ جوامع استعماری ترسیم می کند.

۳) استفاده از نهادها و سازمان های اقتصادی و سیاسی بین المللی و در اختیار گرفتن بازار و سیاست کشورهای دیگر - هجوم به آرمانها و ارزش های

فرهنگ های دیگر و تبلیغ ارزش های خود

۴) در این نوع استعمار، استعمارگران پنهان و مجریان آشکارند. - اتکا به قدرت اقتصادی خود با استفاده از نهادها و سازمان های اقتصادی و سیاسی

بین المللی و در اختیار گرفتن بازار و سیاست کشورهای دیگر

۸۸- به ترتیب، صحیح یا غلط بودن عبارتهای زیر در کدام گزینه آمده است؟

الف) چالشهای عارضی جهان غرب ریشه در عقاید و ارزشهای درونی جهان اجتماعی دارند.

ب) از نظر ریکاردو، کسانی که در فقر متولد می‌شوند، حق حیات ندارند.

پ) نظریه جنگ تمدن‌های هانتینگتون، نظریه‌ای بود که عملیات نظامی قدرت‌های غربی در مقابله با مقاومت‌های کشورهای غیرغربی را توجیه می‌کرد.

ت) تقابل شمال و جنوب، تقابلی جهانی است و در صورت فعال شدن، بسیاری از چالش‌های درونی کشورهای غیرغربی، دیگر بار فعال خواهند شد.

(۱) ص - غ - ص - غ (۲) غ - غ - ص - غ (۳) غ - غ - غ - ص (۴) غ - ص - غ - ص

۸۹- کدام گزینه در رابطه با «فرهنگی که عقاید و ارزش‌ها و یا هنجارهای آن متعلق به قوم، منطقه یا گروه خاصی باشد» نادرست است؟

(۱) فرهنگ صهیونیسم بین‌الملل و فرهنگ سرمایه‌داری دو نمونه از آن است.

(۲) منطقه مرکزی، منطقه‌ای است که منطقه پیرامونی را به خدمت می‌گیرد.

(۳) یکی از انواع این فرهنگ، با رویکرد دنیوی خود، دیگران را در خدمت به آن نژاد به کار می‌گیرد.

(۴) بدون نیاز به عبور از مرزهای جغرافیایی خود، جهان را به مناطقی دوگانه تقسیم می‌کند.

۹۰- کدام گزینه درباره «دیدگاه فارابی» در ارتباط با جوامع مختلف درست است؟

(۱) جامعه جاهلی، علاوه بر اینکه ارزش‌ها و آرمان‌های آن منطبق با حق نمی‌باشد، رفتارها و هنجارهای آن هم موافق با حق نیست.

(۲) جامعه فاسقه، عقاید و ارزش‌های آن حق است اما هنجارها و رفتارهای آن موافق حق نمی‌باشد.

(۳) جامعه فاسقه، علاوه بر اینکه ارزش‌ها و آرمان‌های آن منطبق با حق نمی‌باشد، رفتارها و هنجارهای آن هم منطبق با حق نیست.

(۴) جامعه جاهلی، عقاید و ارزش‌های آن حق می‌باشد اما هنجارها و رفتارهای آن موافق با حق نمی‌باشد.

۹۱- همین‌که انسان سوآلی را از خودش می‌پرسد، به چه معناست؟

(۱) هنوز نمی‌دانیم چه چیزی را باید انتخاب کنیم و دنبال دانستن آن هستیم.

(۲) تفکر واسطه رسیدن انسان به ندانسته‌هایش است.

(۳) بدون تفکر کاری از انسان ساخته نیست.

(۴) اولین مرحله اندیشه‌ورزی و تفکر در انسان، روبه‌رو شدن با مسئله است.

۹۲- کدام یک از گزینه‌های زیر، در مورد مراتب تفکر صحیح است؟

(۱) تلاش برای پاسخ دادن به سوآل‌های معمولی و روزانه تفکر فلسفی می‌باشد.

(۲) ملاصدرا فطرت اول را شایسته انسان‌ها نمی‌داند و از آن‌ها می‌خواهد در فطرت ثانی باشند.

(۳) انتخاب معلومات مناسب با سوآل، سومین مرحله از مراحل تفکر فلسفی است.

(۴) ورود به مرتبه بالاتر تفکر، نیازمند اهمیت ندادن به امور عادی زندگانی است.

۹۳- کدام گزینه، درباره فلسفه‌های مضاف صحیح نیست؟

- (۱) فلسفه اخلاق، فلسفه دین، فلسفه فیزیک و فلسفه طبیعت از جمله فلسفه‌های مضاف است.
- (۲) در فلسفه‌های مضاف، کلمه فلسفه به دانش و یا موضوع خاص اضافه شده است.
- (۳) به آن بخش از مباحث فلسفی که مبانی هر علم را بررسی می‌کند، فلسفه مضاف آن علم گفته می‌شود.
- (۴) فلسفه‌های مضاف مستقل و بی‌ارتباط با هستی‌شناسی و معرفت‌شناسی می‌باشند.

۹۴- کدام گزینه از فواید تفکر فلسفی نیست؟

- (۱) نقد و ارزیابی افکاری که به صورت عادت درآمده و بدون دلیل پذیرفته شده است.
- (۲) توجیه و تأیید عقایدی که نسل به نسل منتقل شده و به صورت عادت درآمده است.
- (۳) تبعیت از برهان و استدلال و نه تبعیت از افراد و اشخاص.
- (۴) تلاش برای یافتن مغالطات و دوری از آنها

۹۵- «همه چیز در سیلان و حرکت است و هیچ چیز ثابتی در این جهان وجود ندارد»، این گزاره، اندیشه کدام فیلسوف است؟

- (۱) تالس (۲) پارمنیدس (۳) هراکلیتوس (۴) فیثاغورس

۹۶- کدام گزینه در ارتباط با سقراط نادرست است؟

- (۱) ثروت فضیلت نمی‌آورد، بلکه از فضیلت است که ثروت و هر چه که برای فرد و جامعه سودمند است، به دست می‌آید.
- (۲) رسالت سقراط از طریق نداهای غیبی و در بیداری برعهده او نهاده شده است.
- (۳) گریز از مرگ دشوار نیست، بلکه گریز از بدی دشوار است.
- (۴) از نظر سیسرون، سقراط فلسفه را از آسمان به زمین آورد و آن را به خانه‌ها و شهرها برد.

۹۷- تعریف زیر، اشاره به کدام بخش از فلسفه دارد و کدام جمله در مورد این بخش نادرست است؟

«بخشی از فلسفه است که به پدیده شناخت می‌پردازد و می‌کوشد به این گونه پرسش‌ها پاسخ دهد.»



Konkur.in

forum.konkur.in

www.konkur.in

- (۱) انسان‌شناسی - همواره بخشی از فلسفه بوده است.
- (۲) معرفت‌شناسی - نام دیگر آن نظریه وجود است.
- (۳) هستی‌شناسی - شاخه مستقلی از فلسفه است.
- (۴) فلسفه اولی - دکارت، هیوم و کانت از فیلسوفان دوره جدید اروپا در این موضوع اظهارنظر کرده‌اند.

۹۸- معرفت از طریق قلب، ... است و ... حاصل می‌شود؛ البته برای دریافت چنین معرفتی ... ضروری است.

(۱) بی‌واسطه - به تدریج - تهذیب نفس

(۲) با واسطه - به تدریج - استدلال عقلی

(۳) بی‌واسطه - دفعتاً - سیر و سلوک

(۴) با واسطه - دفعتاً - استدلال عقلی

۹۹- ... و ... از فیلسوفان تجربه‌گرایی هستند که به شهود عرفانی و تجربه دینی نیز معتقدند و به بُعد ... انسان اهمیت می‌دهند.

(۱) ویلیام جیمز - هانری برگسون - معنوی

(۲) رنه دکارت - فرانسویس بیکن - معنوی

(۳) ویلیام جیمز - هانری برگسون - مادی

(۴) رنه دکارت - فرانسویس بیکن - مادی

۱۰۰- کدام گزینه نادرست است؟

(۱) یکی از مهم‌ترین دیدگاه‌هایی که در میان تجربه‌گرایان بروز کرده، «پوزیتیویسم» بود.

(۲) اثبات‌گراها، معتقد بودند که اصولاً آن دسته از مفاهیم و گزاره‌ها که تجربه‌پذیر نیستند، بی‌معنا هستند.

(۳) پوزیتیویسم‌ها معتقد بودند مفاهیمی مثل خدا، اختیار، نفس و روح اصولاً قابل بررسی علمی نیستند.

(۴) اثبات‌گراها، تنها راه رسیدن به شناخت و معرفت را تجربه توأم با عقل می‌دانستند.

۱۰۱- کدام گزینه در ارتباط با رشد یا پختگی نادرست است؟

(۱) براساس فرایند رشد، آدمی، از دوره جنینی تا مرگ، برخی خصوصیات را در جنبه‌های مختلف رشد نشان خواهد داد.

(۲) رشد یا پختگی با گذشت زمان طبق یک برنامه طبیعی انجام می‌گیرد.

(۳) رشد یا پختگی به معنای آن دسته از تغییراتی است که از آمادگی زیستی مستقل است.

(۴) عوامل محیطی نیز می‌تواند تا حدودی بر رشد یا پختگی تأثیر بگذارد.

۱۰۲- کدام گزینه در خصوص دلیل دشواری پیش‌بینی و کنترل در روان‌شناسی نادرست است؟

(۱) مهم‌ترین دلیل دشواری پیش‌بینی و کنترل در علم روان‌شناسی، پیچیدگی و دشواری توصیف و تبیین در موضوعات مختلف این علم است.

(۲) انسان و رفتارهای او به عنوان موضوعی برای بررسی‌های علمی در روان‌شناسی، دارای ابعاد و ویژگی‌های مختلف و بسیار پیچیده‌ای است.

(۳) توصیف دقیق از موضوعات مختلف در انسان، مانند هوش، عواطف، شناخت، اراده، خود و ... بسیار دشوار است.

(۴) این دشواری در توصیف انسان‌ها باعث می‌شود شاهد تبیین‌های بسیار مشابهی از این موضوعات و مانند آنها، در روان‌شناسی باشیم.

۱۰۳- کدام گزینه عبارات زیر را به درستی تکمیل می‌کند؟

الف) در توجه، هر چه ... شما بیشتر باشد، نوع توجه هم ارادی‌تر خواهد بود.

ب) برای ایجاد توجه متمرکز، از ... برای انجام دادن یک تکلیف استفاده کنید.

ج) برآورد دقیق حداکثر مدت زمان مفید برای ایجاد توجه مستمر، به ... و ... بستگی دارد.

(۱) الف) تمرکز ب) مدت زمان بیشتری ج) نوع رمزگردانی - بازیابی فرد

(۲) الف) آگاهی ب) حواس مختلف ج) ویژگی‌های شخصی - دشواری تکلیف

(۳) الف) تمرکز ب) حواس مختلف ج) نوع رمزگردانی - دشواری تکلیف

(۴) الف) آگاهی ب) مدت زمان بیشتری ج) ویژگی‌های شخصی - بازیابی فرد

۱۰۴- به ترتیب کدام گزینه مربوط به عبارتهای زیر است؟

(الف) نوع رمزگردانی در حافظه حسی

(ب) ظرفیت حافظه کوتاهمدت

(پ) زمان بازیابی حافظه بلندمدت

(۱) حسی - 7 ± 2 ماهه - از چند دقیقه تا آخر عمر

(۲) حسی (همراه با توجه) - نامحدود - چند دقیقه

(۳) حسی - نامحدود - چند دقیقه

(۴) حسی (همراه با توجه) - 7 ± 2 ماهه - از چند دقیقه تا آخر عمر

۱۰۵- رشد دستگاه تولیدمثل، با بروز کدام پدیده رخ می‌دهد و تغییر جهت تفکر لحظه به لحظه ویژگی شناختی کدام گروه سنی است؟

(۱) بلوغ جنسی - کودکان

(۲) ویژگی‌های ثانویه - نوجوانان

(۳) بلوغ جنسی - نوجوانان

(۴) ویژگی‌های ثانویه - کودکان

۱۰۶- کدامیک از گزینه‌های زیر از فاکتورهای خوب تعریف نشده بودن یک مسئله نمی‌باشد؟

(۱) پیچیده بودن و داشتن علت‌های مختلف

(۲) عدم وجود اقدامات مشخص و استاندارد

(۳) نبود امکان تضمین دستیابی به هدف

(۴) قابل تعریف نبودن مسئله

۱۰۷- کدامیک از گزینه‌های زیر نادرست است؟

(۱) تأثیر یادگیری‌های گذشته بر حل مسئله را اثر نهفتگی می‌گویند.

(۲) اثر تجربه گذشته، همیشه آسان کردن راه‌حل نیست.

(۳) راه خروج از بن‌بسته، تغییر نگاه فرد و تغییر بازنمایی آن مسئله است.

(۴) تجربه گذشته در صورت بازبینی، راهگشای مفیدی خواهد بود.

۱۰۸- حل مسئله «برج هانوی» با کدامیک از روش‌های اکتشافی حل مسئله بهتر انجام می‌شود و کدامیک از این روش‌ها در حل مسائل ریاضی

کاربرد دارد؟

Konkur.in

(۱) روش خرد کردن - روش بارش مغزی

(۲) روش کاهش تفاوت وضعیت موجود با وضعیت مطلوب - روش بارش مغزی

(۳) روش خرد کردن - روش شروع از آخر

(۴) روش کاهش تفاوت وضعیت موجود با وضعیت مطلوب - روش شروع از آخر

۱۰۹- به ترتیب در کدام یک از انواع سبک‌های تصمیم‌گیری «فرد دست، دست می‌کند» و «فرد پله‌پله و طبق قوانین پیش می‌رود»؟

- (۱) اجتنابی - تکانشی (۲) وابسته - تکانشی (۳) اجتنابی - منطقی (۴) وابسته - منطقی

۱۱۰- کدام یک از گزینه‌های زیر نادرست است؟

- (۱) تصمیم‌ها براساس تعداد اولویت‌ها به ساده و پیچیده تقسیم می‌شوند.
(۲) دشواری یک تصمیم‌گیری تابع توانمندی و نگرش‌ها و تجربیات شخصی است.
(۳) در بعضی مواقع تصمیم‌گیری با خطر همراه است. در چنین حالتی اطمینان کافی به نتایج تصمیم‌گیری وجود ندارد.
(۴) هزینه‌ها، مزیت‌ها و تعداد افراد تصمیم‌گیرنده، از ملاک‌های تصمیم‌گیری است.



سایت کنکور
Konkur.in

۱- گزینه «۲»

(مضمون‌پرداز قورچیان، لغت، ترکیبی)

شبهگیر: سحرگاه، پیش از صبح

- ۴
- ۳
- ۲✓
- ۱

۲- گزینه «۱»

(مضمون‌پرداز قورچیان، املا، ترکیبی)

تصحیح املایی: صغیر

- ۴
- ۳
- ۲
- ۱✓

۳- گزینه «۲»

(مضمون‌پرداز قورچیان، تاریخ ادبیات، ترکیبی)

بیت گزینه «۲» از صائب تبریزی است ولی سایر ابیات از سعدی است.

- ۴
- ۳
- ۲✓
- ۱

۴- گزینه «۲»

(عبدالحمید رزاقی، آرایه، ترکیبی)

تشریح گزینه‌های دیگر:

گزینه «۱»: هر شب‌نمی : مشبه / صد بحر آتشین: مشبه‌به

گزینه «۳»: تیر دعا: اضافه تشبیهی

گزینه «۴»: سرای دیده: اضافه تشبیهی

- ۴
- ۳
- ۲✓
- ۱

سایت کنکور

Konkur.in

۵- گزینه «۴»

(مفسر فدایی - شیراز، آرایه، ترکیبی)

واژه‌های «درد و درمان» طباق دارد؛ ولی بیت مذکور فاقد «جناس» است.

تشریح گزینه‌های دیگر:

بیت گزینه «۱»: مصراع اول «تلمیح» دارد به داستان «حضرت سلیمان» در قرآن و

مصراع دوم تلمیح دارد به داستان «زال و رستم» در شاهنامه فردوسی.

«زال» ایهام تناسب دارد؛ معنای نزدیک «پیر» است که در این بیت کاربرد دارد و معنای

دور آن «نام پدر رستم است که در این جا کاربرد ندارد؛ ولی با «رستم» تناسب دارد.

بیت گزینه «۲»: «چشمه» مجاز از آب / «دست زن» کنایه از متوسل شو

بیت گزینه «۳»: «مرگ، هستی فانی تو را باقی می‌کند» و «دولت جاوید دانستن

مرگ» دو بار «تناقض» ایجاد کرده است و «مرگ» تشخیص و استعاره مکنیه دارد.

۴ ✓

۳

۲

۱

۶- گزینه «۳»

(عبدالحمید رزاقی، دستور، صفحه ۹۴ و ۹۵)

مدیر کاردان (صفت فاعلی) / نگاه معنوی (صفت نسبی) / آب روان (صفت فاعلی) /

دوست خندان (صفت فاعلی) / منظره دیدنی (صفت لیاقت) / خوراک زمستانی (صفت

نسبی) / درون روشن (صفت بیانی ساده) / مرد زرگر (صفت فاعلی) / سینی زرین

(صفت نسبی) / کلاه شاهانه (صفت نسبی) / خاطر ترسان (صفت فاعلی) / رفتار

سنجیده (صفت مفعولی) / رفیق قدیمی (صفت نسبی) / دروازه گشوده (صفت

مفعولی) / سود نخورده (صفت مفعولی)

توجه: فصل دوم (صفت شمارشی) / آینده دانش‌آموزان (ترکیب اضافی) / آن مرد

(صفت اشاره) / فلان رفیق (صفت مبهم) / درخت دوستی (اضافه تشبیهی ترکیب

اضافی) / بهترین دوست (بهترین، صفت پیشین است).

۴

۳ ✓

۲

۱

۷- گزینه «۴»

(مسن فدایی - شیراز، دستور، ترکیبی)

«پوشیده است» در پایان بیت گزینه «۴»، ماضی نقلی است ولی در بقیه ایات «پوشیده» مسند است و «است» فعل مضارع اخباری است.

۱ ۲ ۳ ۴

۸- گزینه «۴»

(ابراهیم رضایی مقدم، مفهوم، صفحه ۱۰۳)

مفهوم عبارت سؤال «ناامید شدن از زندگی یا نترسیدن از مرگ سبب می شود که شخص تمام حرف هایش را بگوید» این مفهوم را می توان از مفهوم بیت گزینه «۴» دریافت.

تشریح گزینه های دیگر:

گزینه «۱»: پاک بازی در عشق

گزینه «۲»: فاش کردن راز / داشتن صداقت

گزینه «۳»: وفاداری در عشق

۱ ۲ ۳ ۴

۹- گزینه «۲»

(ابراهیم رضایی مقدم، مفهوم، صفحه ۷۵)

مفهوم عبارت سؤال و گزینه «۲»، «بی توجهی به سختی های دنیایی و امیدوارانه زندگی کردن» است.

۱ ۲ ۳ ۴

۱۰- گزینه «۲»

(حسن و سکری، مفهوم، ترکیبی)

مفهوم ایات مرتبط «تعز من تشاء» است (عزت بخش واقعی خداست).

مفهوم بیت «ب»، «اطاعت و سپاسگزاری از خداوند است.»

مفهوم بیت «د»، «راضی بودن به آن چه که خدا داده است.»

۱ ۲ ۳ ۴

۱۱- گزینه «۴»

(فدیه علی پور، ترجمه، صفحه ۳۷)

«ما»: هر آن چه / «تَقَدِّمُوا»: پیش بفرستید / «لأنفسکم»: برای خودتان / «من خیر»:

از نیکی / «تجدوه»: آن را می باید / «عندالله»: نزد خدا

۱ ۲ ۳ ۴

۱۲- گزینه «۳»

(مریم آقاییاری، ترجمه، ترکیبی)

ترجمه گزینه‌های دیگر:

گزینه «۱»: راننده، قبل از سفرش، خودروی خود را به یک باطری جدید (باطری

جدیدی) مجهز می‌کند.

گزینه «۲»: لطفاً، درس شیمی را در آزمایشگاه به ما یاد بده!

گزینه «۴»: دانش‌آموزانی را در کلاس دیدم. آن دانش‌آموزان روی صندلی‌ها نشسته بودند.

۱	۲	۳ ✓	۴
---	---	-----	---

۱۳- گزینه «۴»

(فدیه علی‌پور، ترجمه، ترکیبی)

ترجمه درست عبارت: «همانا پدرم در سختی‌های روزگار به ناتوان کمک می‌کرد.»

۱	۲	۳	۴ ✓
---	---	---	-----

۱۴- گزینه «۱»

(فدیه علی‌پور، تعویب، ترکیبی)

کتاب‌هایی: کتیباً / در کتابخانه: فی المكتبة / یافتم: وَجَدْتُ / آموختن: تَعَلَّمُ / درس‌های

سختم: دروسی الصعبة / به من کمک می‌کرد: تُسَاعِدُنِي (فعل مضارع پس از اسم نکره

به صورت ماضی استمراری ترجمه می‌شود اگر قبل از آن فعل ماضی بیاید).

تکلیف: (ماضی + اسم نکره + مضارع ← ماضی استمراری)

۱ ✓	۲	۳	۴
-----	---	---	---

۱۵- گزینه «۴»

(ولی‌الله نوروزی، لغت، صفحه‌های ۱۴، ۲۶، ۴۳ و ۶۲)

در گزینه «۴» کلمات متضاد نیامده، ولی در سایر گزینه‌ها به ترتیب: «سأل - اجاب /

صغر - کبر / السکوت - الکلام / ینفع - یضر» کلمات متضاد هم هستند.

۱	۲	۳	۴ ✓
---	---	---	-----

۱۶- گزینه «۱»

(ولی الله نوروزی، حرکت گذاری، ترکیبی)

در گزینه «۱»، کلمه «أفضل» اسم تفضیل و بر وزن «أفعل» و کلمه «مُساعدَة» مصدر باب «مُفاعلة» است که از نظر حرکت اشتباه آمده‌اند.

۱ ✓ ۲ ۳ ۴

۱۷- گزینه «۲»

(ولی الله نوروزی، مفهوم، صفحه‌های ۱۸، ۲۵، ۴۰ و ۵۲)

تمساح هنگام خوردن شکاری بزرگ‌تر از دهانش، مایعی از چشمانش ترشح می‌شود.

(درست)

۱ ۲ ✓ ۳ ۴

۱۸- گزینه «۲»

(علی‌اکبر ایمان‌پرور، قواعد، صفحه ۲۱ تا ۲۳)

«دافع» فعل امر از باب مُفاعلة است (دفاع کن) و اسم فاعل نیست. / الحُكَّام جمع مکسر است و مفردش الحاکم و اسم فاعل می‌باشد. / المظلومین: اسم مفعول / العالم به معنی جهان نیز اسم فاعل نیست.

تشریح گزینه‌های دیگر:

گزینه «۱»: الفلَّاحون: اسم مبالغه (دلالت بر شغل و حرفه) / المُفسدین: اسم فاعل از

باب إفعال - مُحترَمون: اسم مفعول از باب اِفعال

گزینه «۳»: العلامَة: اسم مبالغه / الشعراء: (مفردش الشاعِر): اسم فاعل / الملتزمین:

اسم فاعل از مصدر التزام / مضامین (مفردش مضمون): اسم مفعول / «مهمَة» نیز اسم فاعل است.

گزینه «۴»: سائق: اسم فاعل / السَّیَّارة: اسم مبالغه (دلالت بر وسیله و ابزار کار) /

موضوع: اسم مفعول

۱ ۲ ✓ ۳ ۴

۱۹- گزینه «۴»

(علی‌اکبر ایمان‌پرور، قواعد، صفحه ۳۵ و ۳۶)

«ما» (چه چیزی) اسم استفهامی است و ادات شرط نیست. (از بازار چه چیزی برای

برادرت خریدی ای دوست من!؟)

تشریح گزینه‌های دیگر:

گزینه «۱»: إن: از ادوات شرط / تَعَلَّم: فعل شرط / حَصَلُوا: جواب شرط

گزینه «۲»: مَنْ: از ادوات شرط / يَتَفَكَّر: فعل شرط / يُشَاهِد: جواب شرط

گزینه «۳»: «إذا»: از ادوات شرط / فَكَّرت: فعل شرط ماضی / سَلِمت: جواب شرط ماضی

۱ ۲ ۳ ۴ ✓

۲۰- گزینه «۳»

(علی اکبر ایمان پرور، قواعد، صفحه‌های ۵، ۶ و ۹)

«مکتبه» اسم مکان و در نقش مفعول برای فعل «شاهدت» و «أهم» نیز اسم تفضیل و در نقش مفعول برای «یُطالع» است.

تشریح گزینه‌های دیگر:

گزینه «۱»: اقوی: اسم تفضیل در نقش فاعل / مجالس: اسم مکان در نقش مفعول

گزینه «۲»: أجمل: اسم تفضیل در نقش مفعول / المناظر: اسم مکان در نقش مضاف الیه

گزینه «۴»: مساجد: اسم مکان در نقش نائب فاعل / الأفاضل (مفردش الأفضّل): اسم تفضیل در نقش مفعول

۱ ۲ ۳ ۴

۲۱- گزینه «۲» (مر تفتی مفسنی کبیر، جهاد در راستای ولایت ظاهری، صفحه ۱۴۱ و ۱۴۲)

در زمان امام صادق (ع) ناخشنودی نسبت به دستگاه بنی‌امیه به اوج رسیده بود، در این شرایط دو جریان علیه امویان فعالیت می‌کردند، یکی عباسیان و دیگر علویان که دوستان اهل بیت (ع) بودند به همین جهت امام صادق (ع) مبارزه خود را علنی تر کرد و حتی قیام زید بن علی عمومی خود را تأیید نمود.

پس از شهادت امام رضا (ع) امامان بعدی از طریق شاگردان، معارف بازمانده از پدران گرامی خود را حفظ کرده و در این دوره بود که فعالیت وکلا و نمایندگان امام اوج گرفت، ارتباط از طریق وکیل، زمینه را برای غیبت امام عصر (عج) نیز آماده می‌کرد.

۱ ۲ ۳ ۴

۲۲- گزینه «۴» (مهمم آقا صالح، عصر غیبت امام زمان (ع)، صفحه ۱۴۹)

دوران غیبت صغری از زمان رحلت امام عسکری (ع) در سال ۲۶۰ هـ. ق آغاز شد و امام عصر (ع) در این دوره، با اینکه زندگی مخفی داشت. اما از طریق ۴ نفر از یاران صمیمی و مورد اعتماد، پیوسته با پیروان خود در ارتباط بود و آنان را رهبری می‌کرد. این چهار شخصیت بزرگوار به نواب اربعه و نواب خاص معروف‌اند.

۱ ۲ ۳ ۴

۲۳- گزینه «۱»

(مرتضیٰ مفسنی کبیر، آخرین پیامبر، صفحه ۳۱)

این بیت شعر مربوط به «ختم نبوت» است و حدیث نبوی «لا ضرر و لا ضرار فی الاسلام: اسلام با ضرر دیدن و ضرر رساندن مخالف است» مربوط به وجود قوانین تنظیم کننده‌ای است که بر همه احکام و مقررات اسلامی تسلط دارند و مربوط به پویایی و روز آمد بودن دین اسلام از عوامل ختم نبوت است.

۱ ✓ ۲ ۳ ۴

۲۴- گزینه «۳»

(فردین سماقی، جان و جانشین پیامبر (ص)، صفحه ۱۰۳ و ۱۰۴)

در راستای برقراری عدالت بی‌مانند امام علی (ع) ایشان از همان ابتدا به اصلاح امور اقدام کرد و در همان آغاز، فرمانروایانی همچون معاویه را که به ناحق به پست و مقام رسیده بودند و به شیوه پادشاهان و امپراتوران ستمگر حکومت می‌کردند، برکنار کرد.

۱ ۲ ✓ ۳ ✓ ۴

۲۵- گزینه «۴»

(مرتضیٰ مفسنی کبیر، پیشوای اسوه، صفحه ۷۵ و ۷۶)

یکی از اقدامات وحدت‌آفرین در جامعه اسلامی عبارت است از: خود را از سایر مسلمانان دور ندانیم و برای پیشرفت جهان اسلام و پیروزی و سربلندی مسلمانان در تمام نقاط جهان تلاش کنیم و به این سخن پیامبر گرامی توجه کامل داشته باشیم که فرمود: «من اصبح و لم یهتّم بامور المسلمین فلیس بمسلم: کسی که صبح کند و در اندیشه رسیدگی به سایر مسلمانان نباشد، مسلمان نیست.»

۱ ۲ ۳ ۴ ✓

سایت کنکور
Konkur.in

۲۶- گزینه ۲»

(مهمدرضا فرهنگیان، معجزه جاویدان، صفحه ۴۵ و ۴۶)

آیه «افلا يتدبرون القرآن و لو كان من عند غير الله لوجدوا فيه اختلافاً كثيراً» اشاره به اعجاز محتوایی قرآن (انسجام درونی در عین نزول تدریجی قرآن) دارد. برای این جنبه از اعجاز قرآن، قرآن برخلاف نوشته‌های دانشمندان احتیاج به تجدید نظر و اصلاح ندارد و با اینکه بیش از شش هزار آیه قرآن کریم در طول ۲۳ سال به تدریج نازل شد اما تعارضی در بین آیات آن مشاهده نمی‌شود.

تشریح عبارات نادرست:

الف) سخن گفتن از مسئولیت‌های اجتماعی مربوط به جامعیت و همه‌جانبه بودن قرآن است.

ب) سخن گفتن از حقوق برابر انسان‌ها مربوط به تأثیرناپذیری از عقاید دوران جاهلیت است.

ج) نیاز جامعه به اصلاح مربوط به تأثیرناپذیری از عقاید دوران جاهلیت است.

ه) نفوذ خارق‌العاده قرآن در میان افکار و قلوب مربوط به اعجاز لفظی قرآن است.

۴

۳

۲✓

۱

۲۷- گزینه ۳»

(مهمدرضا فرهنگیان، توکیبی، صفحه ۱۰ و ۳۳)

قرآن کریم می‌فرماید «من یتبع غیر الاسلام دینا فلن یقبل منه و هو فی الآخرة من الخاسرین: و هر کس که دینی جز اسلام اختیار کند هرگز از او پذیرفته نخواهد شد و در آخرت از زیانکاران خواهد بود».

امام کاظم (ع) به شاگرد برجسته خود، هشام بن حکم فرمود: «... و آن کس که عقلش کامل‌تر است، رتبه‌اش در دنیا و آخرت بالاتر است.»

۴

۳✓

۲

۱

۲۸- گزینه ۴»

(مهمدرضا فرهنگیان، توکیبی، صفحه ۶۱ و ۶۹)

با توجه به اینکه اگر پیامبری در اجرای احکام الهی معصوم نباشد، امکان دارد کارهایی که مخالف دستورهای خداست انجام دهد و مردم نیز از او سرمشق بگیرند و مانند او عمل کنند و به گمراهی دچار شوند؛ پس عصمت پیامبر اسلام (ص) در اجرای احکام الهی و ولایت ظاهری منجر به معرفی ایشان به عنوان اسوه و سرمشق از سوی خداوند گردید.

۴✓

۳

۲

۱

۲۹- گزینه ۳»

(احمد منصوری، ترکیبی، صفحه‌های ۸۴، ۸۶ و ۱۴۹)

رسول خدا (ص) در حدیث جابر، کسانی را پایبند به عقیده خود به امام عصر می‌داند که ایمان راسخ دارند. پس از نزول آیه انذار و دعوت پیامبر (ص) از خویشان، امام علی (ع) بعد از هر سه بار درخواست پیامبر اعلام کرد که یار و یاور رسول خدا (ص) خواهد بود؛ پیامبر بیعت ایشان را پذیرفت و فرمود: «همانا این، برادر من، وصی من و جانشین من در میان شما خواهد بود.»

خداوند در آیه شریفه «ذلک بأنّ الله لم یک مغیراً...» عامل زمینه‌ساز هلاکت و یا عزت و سربلندی یک جامعه را خود مردم جامعه می‌داند.

۱ ۲ ۳ ۴

۳۰- گزینه ۴»

(احمد منصوری، ترکیبی، صفحه ۲۸ و ۱۲۶)

رسول خدا (ص) در سلسله انبیای الهی قرار داشت و خاتم النبیین است که از آیه شریفه «و لکن رسول الله و خاتم النبیین» برداشت می‌شود و کتاب‌های «کافی» از کلینی و «استبصار و التهذیب» از شیخ طوسی است.

۱ ۲ ۳ ۴

۳۱- گزینه ۴»

(شهاب مهران فر)

ترجمه جمله: «بهترین چیز درباره شغل جدیدش این است که می‌تواند از سفر کردن به جاهای مختلف لذت ببرد بدون این که مجبور باشد پولی برای سفرهایش بپردازد.»
توضیح نکات درسی:

چنان چه بعد از فعل "enjoy" از فعل دیگری استفاده کنیم، فعل دوم باید به شکل "ing" دار بیاید (رد گزینه‌های «۱» و «۲»). همچنین دقت کنید که فعل "enjoy" نیازی به حرف اضافه ندارد (رد گزینه «۳»).

(گرامر)

۱ ۲ ۳ ۴

۳۲- گزینه ۳»

(شهاب مهران فر)

ترجمه جمله: «آن‌ها مایل نیستند که اطلاعات زیادی درباره منشأ دقیق و بروس ارایه کنند.»

توضیح نکات درسی:

کلمه "information" یک اسم غیر قابل شمارش است که هرگز "s" جمع نمی‌گیرد (رد گزینه‌های «۲» و «۴»). از طرفی، اسامی غیر قابل شمارش هیچ‌گاه با "many" نمی‌آیند (رد گزینه‌های «۱» و «۲»).

(گرامر)

۱ ۲ ۳ ۴

۳۳- گزینه ۱»

(شهاب مهران فر)

ترجمه جمله: «یادم نیست که او درباره آپارتمان جدیدش چه گفت. آیا رنگ کردن آن را تمام کرده است؟»

توضیح نکات درسی:

در شکل سؤالی افعالی که در زمان حال کامل هستند، باید از ترتیب زیر پیروی کنیم:

Have / Has + فعل اصلی + فاعل

حال با توجه به این که فاعل این جمله یک ضمیر مفرد (she) است، باید از "Has" استفاده کنیم (رد گزینه ۲). توجه کنید که استفاده از هر فعل کمکی دیگری در کنار افعالی با زمان حال کامل، نادرست است (رد گزینه های ۳ و ۴).

(گرامر)

۴

۳

۲

۱ ✓

۳۴- گزینه ۲»

(فربیا توکلی)

ترجمه جمله: «پدر و مادرش به او گفته اند که با دقت رانندگی کند، اما او گوشش به حرف آن ها بدهکار نیست.»

(۱) شفاهی (۲) ناشنوا (۳) بومی، ملی (۴) سریع

توضیح نکات درسی:

توجه کنید که عبارت "turn a deaf ear to ..." به معنای «بی توجهی کردن» به گفته های دیگران است.

(واژگان)

۴

۳

۲ ✓

۱

۳۵- گزینه ۴»

(فربیا توکلی)

ترجمه جمله: «او مراقبت درمانی اورژانسی دریافت کرده است و خوشبختانه وضع سلامتی اش در حال بهبود است.»

(۱) ارتباط برقرار کردن (۲) علامت گذاری کردن

(۳) اندازه گرفتن (۴) بهبود دادن، بهبود یافتن

(واژگان)

۴ ✓

۳

۲

۱

۳۶- گزینه ۲»

(همیشه رزمجو)

ترجمه جمله: «صرف نظر از این که چقدر به دنبال پاسخ سوالات بگردی، بدون کمک نمی توانی چیزی پیدا کنی.»

- (۱) مراقبت کردن
(۲) به دنبال چیزی گشتن
(۳) ادامه دادن
(۴) اجتناب کردن

(واژگان)

- ۱ ۲ ۳ ۴

۳۷- گزینه ۱»

(همیشه رزمجو)

ترجمه جمله: «او برای بیان صریح و صادق عقایدش، بدون اهمیت دادن به احساسات دیگران، معروف است.»

- (۱) صادق، صریح، راستگو
(۲) متعادل
(۳) جالب
(۴) آشنا

(واژگان)

- ۱ ۲ ۳ ۴

۳۸- گزینه ۳»

(فریبا توکلی)

ترجمه جمله: «پس از گذشت سال های بسیار، موسیقی او همچنان به شکلی گسترده در آمریکای لاتین محبوب است.»

- (۱) روان، سلیس
(۲) بسیار کوچک
(۳) محبوب
(۴) مضر

(واژگان)

- ۱ ۲ ۳ ۴

۳۹- گزینه ۱»

(فریبا توکلی)

ترجمه جمله: «اگر سخت تلاش کنی و تمام توجهت را برای کاری که انجام می دهی صرف کنی، قطعاً موفق خواهی شد.»

- (۱) توجه
(۲) رژیم غذایی
(۳) موضوع
(۴) عضو

(واژگان)

- ۱ ۲ ۳ ۴

۴۰- گزینه «۴»

(شهاب مهران‌فخر)

ترجمه جمله: «افراد بسیاری باور دارند که دانشگاه‌ها نمی‌توانند مهارت‌هایی را که امروزه در بازار کار ضروری است، برای دانشجویان فراهم آورند.»

(۱) سلامت، سالم (۲) ارزان، بی‌ارزش (۳) ذهنی، فکری (۴) ضروری

(واژگان)

[۴]✓

[۳]

[۲]

[۱]

(ممد زرين‌كفش، استدلال رياضي، صفحه ۱۲ تا ۱۳)

۴۱- گزینه «۳»

اگر عدد حقیقی مثبت را با x و معکوشش را با $\frac{1}{x}$ نشان دهیم، در این صورت

تفاضل معکوشش از عدد ۲ معادل $2 - \frac{1}{x}$ است، در نتیجه نماد ریاضی عبارت به

صورت زیر است:

$$x \geq 2 - \frac{1}{x}, x > 0$$

[۴]

[۳]✓

[۲]

[۱]

(ممد بفرایی، گزاره‌ها و ترکیب گزاره‌ها، صفحه ۲ تا ۱۱)

۴۲- گزینه «۲»

می‌دانیم ارزش p و $\sim p$ همواره مخالف هم است، لذا ارزش گزاره $(p \leftrightarrow \sim p)$

همواره نادرست است. اصلاح شده بقیه گزینه‌ها به شکل زیر است:

گزینه «۱»: $(p \Rightarrow \sim p) \equiv \sim p$ گزینه «۳»: $[(\underbrace{\sim p \vee F}_{\sim p}) \wedge (\underbrace{\sim p \wedge F}_{F})] \equiv F$ گزینه «۴»: $\sim(\underbrace{\sim p \wedge p}_{F}) \equiv T$

[۴]

[۳]

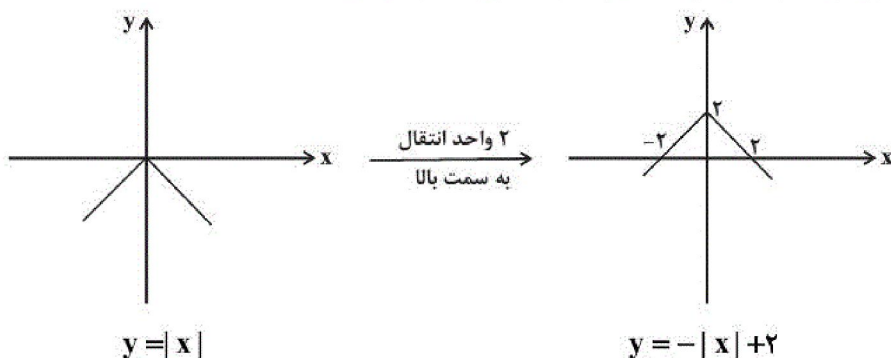
[۲]✓

[۱]

(فاطمه رای‌زن، توابع پلکانی و قدرمطلق، صفحه ۳۰ تا ۴۴)

۴۳- گزینه «۳»

نمودار تابع $y = -|x| + 2$ به صورت زیر رسم می‌شود:



$$y = |x|$$

$$y = -|x| + 2$$

پس نمودار گزینه «۳» جواب است.

[۴]

[۳]✓

[۲]

[۱]

ضابطه تابع علامت به صورت زیر است:

$$f(x) = \text{sign}(x) = \begin{cases} 1 & , x > 0 \\ 0 & , x = 0 \\ -1 & , x < 0 \end{cases}$$

$$f(-1) \xrightarrow{-1 < 0} -1$$

$$f(0) \xrightarrow{0} 0$$

$$f(2) \xrightarrow{2 > 0} 1$$

$$f(-3) \xrightarrow{-3 < 0} -1$$

همچنین ضابطه تابع همانی $g(x) = x$ است، پس:

$$g(1) = 1$$

$$g(3) = 3$$

$$\frac{3(-1) + 2(0) - 4(1)}{1 + 3 - 2(-1)} = \frac{-3 + 0 - 4}{1 + 3 + 2} = \frac{-7}{6}$$

۴

۳

۲✓

۱

۴۵- گزینه ۱» (مهریس همزه‌ای، توابع پلکانی و قدر مطلق، صفحه ۳۷ تا ۳۹)

برای پیدا کردن حاصل عبارت، ابتدا باید تعیین کنیم هر کدام از اعداد داخل جزء صحیح

بین کدام دو عدد صحیح متوالی هستند. اعداد $\sqrt{2}$ و $\sqrt{3}$ بین یک و ۲ هستند، عدد $\sqrt{4}$ برابر با ۲ است و اعداد $\sqrt{7}$ ، $\sqrt{6}$ و $\sqrt{5}$ بین ۲ و ۳ هستند. پس:

$$[\sqrt{2}] + [\sqrt{3}] + [\sqrt{4}] + [\sqrt{5}] + [\sqrt{6}] + [\sqrt{7}] = 1 + 1 + 2 + 2 + 2 + 2 = 10$$

۴

۳

۲

۱✓

سایت کنکور

Konkur.in

۴۶- گزینه «۴»

(مدرس عمزه‌ای، توابع پلکانی و قدر مطلق، صفحه ۳۵)

با توجه به ضابطه تابع علامت داریم:

$$\text{sign}(x) = \begin{cases} 1 & , x > 0 \\ 0 & , x = 0 \\ -1 & , x < 0 \end{cases}$$

 $\sqrt{2}$ تقریباً برابر با $1/4$ ، $\sqrt{3}$ تقریباً برابر با $1/7$ ، $\sqrt{6}$ تقریباً برابر با $2/4$ و عدد
 π تقریباً برابر با $3/14$ است. پس:

$$\text{sign}(\sqrt{6} - 2) \xrightarrow{\sqrt{6} - 2 > 0} 1$$

$$\text{sign}(\sqrt{3} - \pi) \xrightarrow{\sqrt{3} - \pi < 0} -1$$

$$\text{sign}(\sqrt{3} - \pi) + \text{sign}(\sqrt{6} - 2) + \text{sign}(\sqrt{2}) = -1 + 1 + 1 = 1$$

□۴✓

□۳

□۲

□۱

(فاطمه رأی‌زن، توابع پلکانی و قدر مطلق، صفحه ۳۰ تا ۳۴)

۴۷- گزینه «۲»

اگر k عدد حقیقی مثبت باشد، ضابطه تابع $y = |kx|$ را می‌توان به صورت زیر

نوشت:

$$y = \begin{cases} kx & , x \geq 0 \\ -kx & , x < 0 \end{cases}$$

هر چه مقدار عدد مثبت k بزرگ‌تر باشد، شیب نمودار در قسمت x های مثبتبزرگ‌تر می‌شود. با توجه به این توضیحات $a < 1 < b$ است و گزینه «۲» می‌تواند

درست باشد.

□۴

□۳

□۲✓

□۱

(ممد بفرایی، توابع پلکانی و قدر مطلق، صفحه ۳۷ تا ۳۹)

۴۸- گزینه «۴»

با توجه به اینکه عدد صحیح از داخل جزء صحیح خارج می‌شود، ضابطه تابع به

صورت $y = [x] - 2 + 3$ یا همان $y = [x] + 1$ است؛ یعنی باید نمودار تابع $y = [x]$

را یک واحد به طرف بالا ببریم که گزینه «۴» صحیح است.

□۴✓

□۳

□۲

□۱

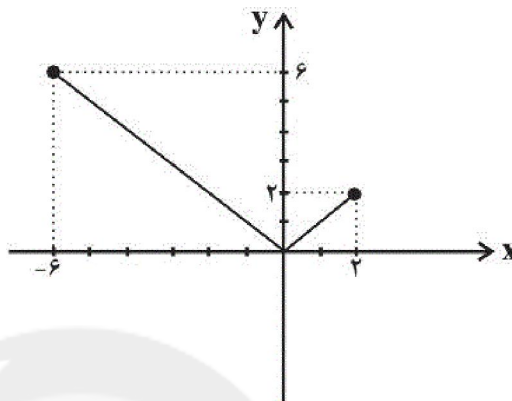
۴۹- گزینه «۲» (مهریس همزه‌ای، توابع پلکانی و قدر مطلق، صفحه ۳۰ تا ۴۴)

با توجه به نمودار تابع $y = |x|$ در محدوده $-6 \leq x \leq 2$ ، برد این تابع به صورت $\{y \mid 0 \leq y \leq 6\}$ به دست می‌آید.

$$y(2) = |2| = 2$$

$$y(0) = |0| = 0$$

$$y(-6) = |-6| = 6$$

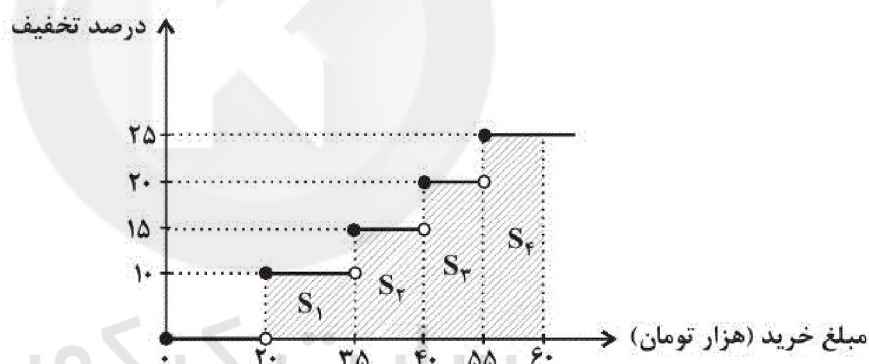

 ۴

 ۳

 ۲

 ۱

۵۰- گزینه «۱» (مهریس همزه‌ای، توابع پلکانی و قدر مطلق، صفحه ۳۴ تا ۳۶)



$$S_1 = [(20000 - 0) \times \frac{10}{100}] = 1500$$

$$S_2 = [(40000 - 20000) \times \frac{15}{100}] = 750$$

$$S_3 = [(55000 - 40000) \times \frac{20}{100}] = 3000$$

$$S_4 = [(60000 - 55000) \times \frac{25}{100}] = 1250$$

$$\text{مساحت هاشور خورده} = S_1 + S_2 + S_3 + S_4 = 1500 + 750 + 3000 + 1250 = 6500$$

 ۴

 ۳

 ۲

 ۱

۵۱- گزینه «۳»

(اعظم نوری نیا، تاریخ ادبیات فارسی در قرن‌های هفتم، هشتم و نهم، ترکیبی)

تشریح گزینه‌های دیگر:

گزینه «۱»: مکاتیب: مجموعه نامه‌های مولانا به قلم خود اوست و سبک نثر وی را بیشتر و بهتر نمودار می‌سازد.

گزینه «۲»: المعجم فی معاییر اشعار العجم: نخستین و مهم‌ترین آثار در علم عروض، قافیه، بدیع و نقد شعر به شمار می‌رود. نثر شمس قیس رازی نویسنده این اثر، در مقدمه، مصنوع و در اصل کتاب، ساده و عالمانه است.

گزینه «۴»: نفحات‌الانس: جامی در این اثر، شیوه تذکره‌الاولیای عطار را در بیان حقایق عرفانی و ذکر احوال عارفان به کار برد.

۱ ۲ ۳ ۴

۵۲- گزینه «۲»

(اعظم نوری نیا، سبک عراقی، صفحه ۳۸ و ۳۹)

الف) سلطان حسین بایقرا و امیرعلیشیر نوایی در حوزه ادبی هرات، ترکی‌گویی و ترکی‌نویسی را تشویق می‌کردند.

ب) کتاب ظفرنامه شامی، قدیمی‌ترین تاریخ نوشته شده درباره تیمور است. ملاحسین واعظ کاشفی، نویسنده کتاب انوار سهیلی است.

ث) در اندیشه ادیبان این دوره، صنایع ادبی جای تعمق و تفکر را گرفت.

۱ ۲ ۳ ۴

۵۳- گزینه «۱»

(اعظم نوری نیا، تاریخ ادبیات فارسی در قرن‌های دهم و یازدهم، صفحه ۶۰ و ۶۱)

صائب تبریزی را خداوندگار مضامین تازه شعری دانسته‌اند.

بابافغانی شیرازی از شعرای تأثیرگذار قرن دهم در ایران است که شعرش از نظر دقت، ظرافت و رقت معانی مشهور است.

از ویژگی‌های عمده شعر بیدل دهلوی، مضمون‌های پیچیده و استعاره‌های رنگین، خیال‌انگیز و سرشار از ابهام و تخیل‌های رمزآمیز شاعرانه است.

ضرب‌المثل‌ها و الفاظ محاوره که زبان غزل شعر قرن یازدهم را به افق خیال عامه نزدیک کرده، سخن کلیم کاشانی را برجسته ساخته است.

۱ ۲ ۳ ۴

۵۴- گزینه ۴»

(اعظم نوری نیا، سبک عراقی، صفحه ۳۷ و ۳۸)

ث) شهرت به سعد اکبر از آن یافت مشتری / کو روز و شب دعای تو ورد زبان کند:
بازتاب بیشتر علوم در شعر

ب) چو زر شدند رزان، از چه؟ از نهیب خزان / به کینه گشت خزان، با که؟ با ستاک
رزان: واقع‌گرایی یا توجه به دنیای بیرون

ت) با غم عشق تو گو دین برو و عقل ممان / عقل و دین هر دو به عشق تو کجا
می‌مانند: عشق‌گرایی

الف) کجاست هم‌نفسی تا به شرح عرضه دهم / که دل چه می‌کشد از روزگار هجرانش:
فراق

پ) گوهر پاک ببايد که شود قابل فیض / ورنه هر سنگ و گلی لؤلؤ و مرجان نشود:
روحیه عرفانی و اخلاقی

۴ ✓

۳

۲

۱

۵۵- گزینه ۴»

(اعظم نوری نیا، تشبیه، صفحه ۲۹)

توضیح نکات درسی:

تشبیه‌های غیراضافی معمولاً به صورت جمله اسنادی هستند.

تشریح گزینه‌های دیگر:

گزینه ۱: هر که را سد رمق هست از جهان، [مانند] اسکندر است.

گزینه ۲: بادبان بر کشتی دریایی ما [مانند] لنگر است.

گزینه ۳: با قناعت چشم تنگ مور، [مانند] تنگ شکر است.

۴ ✓

۳

۲

۱

۵۶- گزینه ۲»

(اعظم نوری نیا، مجاز، صفحه ۵۲ و ۵۳)

«پری» در این بیت در معنای مجازی به کار نرفته است.

تشریح گزینه‌های دیگر:

گزینه ۱: «خورشید اکبر: مجاز از یار زیبارو

گزینه ۳: سر: مجاز از قصد و تصمیم

گزینه ۴: «خورشید و ماه: مجاز از کل هستی

۴

۳

۲ ✓

۱

۵۷- گزینه «۲»

(اعظم نوری نیا، استعاره، ترکیبی)

در این شعر، فقط یک آرایه تشبیه فشرده اضافی وجود دارد: تیر غمزه

تشریح گزینه‌های دیگر:

گزینه «۱»: تیره خاکدان: استعاره آشکار از دنیا

گزینه «۳»: آرایه جان‌بخشی: ۱. برخاستن نرگس (چشم) از خواب / ۲. سحر کردن

چشم / ۳. برخاستن دل

 ۱ ۲ ۳ ۴

۵۸- گزینه «۱»

(اعظم نوری نیا، ترکیبی)

وزن هشت واژه در برابر آن درست و وزن دو واژه نادرست آمده است:

(عاطفتی: مفتعلن) / (آواز خوان: مستفعلن)

 ۱ ۲ ۳ ۴

۵۹- گزینه «۱»

(اعظم نوری نیا، پایه‌های آوایی همسان (۲)، صفحه ۶۶)

ابیات «الف، پ، ث» بر وزن «مفتعلن مفتعلن فاعلن» سروده شده‌اند.

سایر ابیات بر وزن «فاعلاتن فاعلاتن فاعلن» سروده شده‌اند.

 ۱ ۲ ۳ ۴

۶۰- گزینه «۳»

(اعظم نوری نیا، پایه‌های آوایی همسان (۱)، ترکیبی)

تشریح گزینه‌های دیگر:

گزینه «۱»: فاعلاتن فاعلاتن فاعلاتن فاعلن

گزینه «۲»: مستفعلن مستفعلن مستفعلن مستفعلن

گزینه «۴»: مفتعلن مفتعلن مفتعلن مفتعلن

 ۱ ۲ ۳ ۴

۶۱- گزینه «۳»

(سیدمهر مرئی دینانی، منابع پژوهش در تاریخ اسلام و ایران دوران اسلامی، صفحه‌های ۴، ۶ و ۹)

کتاب «تاریخ بیهقی» در تاریخ غزنویان از مشهورترین تاریخ‌های سلسله‌ای است.

«المسالک و الممالک» تألیف نویسندگان مختلف از جمله ابن خردادبه از نوشته‌های

جغرافیایی است.

از مشهورترین و معروف‌ترین تاریخ‌های عمومی می‌توان به «تاریخ طبری» تألیف

محمدبن جریر طبری اشاره کرد.

 ۱ ۲ ۳ ۴

۶۲- گزینه «۳»

(سیرمقدم مدنی «پنانی، اسلام در مکه، صفحه ۲۳۳)

برخی شواهد و مدارک، نشان از گرایش عده‌ای از مردم عرب به آیین زرتشتی و کیش مانوی دارد.

- ۴
- ۳ ✓
- ۲
- ۱

۶۳- گزینه «۳»

(عباس بهرامی (لرستان - دورود)، امت و حکومت نبوی (ص) در مدینه، صفحه ۳۸)

تشریح عبارت‌های نادرست:

ج) عبدالله بن ابی می‌کوشید که انصار را علیه مهاجران تحریک نماید.

د) عبدالله بن ابی در غزوه‌های احد و تبوک، به همراه یارانش از سپاه اسلام جدا شد و در جنگ شرکت نکرد.

- ۴
- ۳ ✓
- ۲
- ۱

۶۴- گزینه «۲»

(مآثره مؤمنی، حکومت، جامعه و اقتصاد در عصر مغول - تیموری، صفحه ۱۱۹)

پس از استقرار حکومت ایلخانی و در پی تلاش‌های دیوان‌سالاران و فرهیختگان ایرانی برای مهار رفتار غیرمدنی مغول‌ها، به تدریج شهر و شهرنشینی رونق یافت.

- ۴
- ۳
- ۲ ✓
- ۱

۶۵- گزینه «۳»

(عباس بهرامی (لرستان - دورود)، امت و حکومت نبوی (ص) در مدینه، صفحه ۳۵)

پیمان‌نامه عمومی یا به تعبیر رایج در عصر ما، قانون اساسی مدینه، مهم‌ترین اقدام پیامبر(ص) برای تأسیس نظام اجتماعی و سیاسی منسجمی در چارچوب دین اسلام به‌شمار می‌رود. این پیمان‌نامه، حقوق و مسئولیت‌های هر یک از گروه‌های مسلمان و غیرمسلمان و چگونگی ارتباط آنها را با یکدیگر مشخص می‌کرد.

- ۴
- ۳ ✓
- ۲
- ۱

۶۶- گزینه «۳»

(بهرروز بهیمی، حکومت، جامعه و اقتصاد در عصر مغول - تیموری، صفحه ۱۲۲ و ۱۲۴)

بخش عمده اقتصاد ایران در دوران اسلامی همچون عصر باستان، بر کشاورزی و تجارت استوار بود. سه گونه مالیات کشاورزی، مالیات بازرگانی و مالیات دامی تا پایان عهد تیموریان تداوم یافت.

- ۴
- ۳ ✓
- ۲
- ۱

۶۷- گزینه «۲»

(آزاده میرزائی، حکومت، جامعه و اقتصاد در عصر مغول - تیموری، صفحه ۱۱۴ تا ۱۱۶)

تشریح عبارت‌های نادرست:

الف) دوره مسلمانان مغول‌ها از زمان غازان آغاز شد.

ب) موج اول حمله مغول به ایران شش سال طول کشید.

پ) مرگ ابوسعید، آغازگر چهاردهه آشفتگی سیاسی در ایران بود.

۱ ۲ ۳ ۴

۶۸- گزینه «۴»

(آزاده میرزائی، حکومت، جامعه و اقتصاد در عصر مغول - تیموری، صفحه ۱۲۲)

در عصر مغول و تیموری، در مقایسه با مردم غیرشهری، بازاریان و صنعت‌گران از زندگی به مراتب بهتری برخوردار بودند. مناطق ماوراءالنهر و خراسان که در تهاجم مغولان بیشترین خسارت را تحمل کردند، از جمله حاصل‌خیزترین و آبادترین مناطق ایران به‌شمار می‌رفتند.

۱ ۲ ۳ ۴

۶۹- گزینه «۴»

(مبیه مبینی، ایران در دوران غزنوی، سلجوقی و خوارزمشاهی، صفحه ۱۰۲)

محمود غزنوی، به بهانه جهاد در راه خدا و با هدف دستیابی به ثروت فراوان هند از طریق غارت معابد و پرستشگاه‌های آن سرزمین به هند حمله کرد. درگیری‌های داخلی و سرگرم شدن مسعود به لشکرکشی، به هند، از جمله عواملی بود که سبب شد وی از وضعیت مردم، به‌خصوص ساکنان خراسان که زیر بار فشار مالیاتی حکام به شدت آسیب دیده بودند، غافل بماند.

۱ ۲ ۳ ۴

۷۰- گزینه «۱»

(مبیه مبینی، ایران در دوران غزنوی، سلجوقی و خوارزمشاهی، صفحه ۱۱۲ و ۱۱۳)

فلزکاری در عصر سلجوقی یکی از درخشان‌ترین دوران خود را در تاریخ ایران پشت سر گذاشت.

مسجد جمعه اصفهان یکی از کهن‌ترین مسجدهای چهار ایوانی در ایران است.

۱ ۲ ۳ ۴

۷۱- گزینه «۳»

(هیبه مهبی، معنا و مفهوم ناحیه، صفحه ۵)

تشریح گزینه‌ها دیگر:

گزینه «۱»: جغرافی‌دان براساس ترکیب ویژگی‌های عمده بارش از قبیل میانگین بارندگی سالانه، توزیع فصلی بارش و بالاترین میزان بارش روزانه، ایران را به شش ناحیه بارشی تقسیم کرده است.

گزینه «۲»: ایران به شش ناحیه بارشی تقسیم شده است.

گزینه «۴»: نواحی بارشی آذربایجان و زاگرس و خراسان شمالی میانگین سالانه بارش یکسانی دارند. (۳۱۳ میلی‌متر)

۴

۳✓

۲

۱

۷۲- گزینه «۲»

(هیبه مهبی، انسان و ناحیه، صفحه ۱۵ و ۱۶)

معمولاً هر چه از کانون یک ناحیه جغرافیایی دور می‌شویم و به طرف مرزهای آن حرکت می‌کنیم، به تدریج از عوامل همگونی آن ناحیه کاسته می‌شود و سرانجام، این عوامل ناپدید می‌گردد. قلمرو و وسعت نواحی، متفاوت است.

۴

۳

۲✓

۱

۷۳- گزینه «۲»

(هیبه مهبی، نواحی آب و هوایی، صفحه ۲۳)

پرتوهای خورشید در مدار ۶۰ درجه به دلیل مایل تابیدن، مساحتی دو برابر ناحیه استوایی را دربر می‌گیرند. هر چه از استوا به سمت عرض‌های جغرافیایی بالاتر حرکت می‌کنیم، دمای هوا کاهش می‌یابد.

۴

۳

۲✓

۱

۷۴- گزینه «۱»

(آزاره میرزائی، ناهمواری‌ها و اشکال زمین، صفحه ۴۱)

الف) رشد ریشه درختان یا ایجاد حفره‌های زیرزمینی توسط جانداران حفار: تغییر فیزیکی
ب) مجسمه‌های کشف شده توسط باستان شناسان و اثرات خوردگی روی آنها: تغییر شیمیایی

پ) باکتری‌های تجزیه کننده یا تنفس گیاهان در سنگ‌ها: تغییر شیمیایی

۴

۳

۲

۱✓

۷۵- گزینه «۱»

(بهروز یحیی، نواحی فرهنگی، صفحه‌های ۶۹، ۷۳ و ۷۴)

تشریح عبارت نادرست:

ت) زبان، عنصر اصلی گسترش یک فرهنگ است.

۴

۳

۲

۱✓

۷۶- گزینه ۲»

(بهروز یبسی، نواحی اقتصادی (کشاورزی و صنعت)، صفحه ۸۴)

در گذشته، فعالیت‌های اقتصادی به سه گروه یا سه بخش عمده تقسیم می‌شدند. از دهه ۱۹۸۰ میلادی، یک بخش دیگر به بخش‌های قبلی افزوده شد. کشاورزی تجاری به دنبال رشد جمعیت در جهان گسترش یافته است و هم در کشورهای پیشرفته و هم در کشورهای کمتر توسعه‌یافته جهان رواج دارد.

۱ ۲ ۳ ۴

۷۷- گزینه ۴»

(بهروز یبسی، نواحی اقتصادی (تجارت و اقتصاد جهانی)، صفحه ۱۰۷)

با ورود به عصر اکتشافات جغرافیایی و پیشرفت در دریانوردی در قرن‌های پانزدهم و شانزدهم میلادی، اروپاییان به سرزمین‌های نو در آمریکا و اقیانوسیه دست یافتند.

۱ ۲ ۳ ۴

۷۸- گزینه ۱»

(بهروز یبسی، نواحی اقتصادی (تجارت و اقتصاد جهانی)، صفحه ۱۰۷)

الف) ساختار اقتصادی و اجتماعی کشورهای نیمه‌پیرامون دچار تغییر و تحولات صنعتی و فناورانه شده است.

ب) کشورهای پیرامون از نظر توسعه صنعتی و فناوری‌های نوین در سطح پایین‌تری قرار دارند.

پ) چین جزء کشورهای نیمه‌پیرامون است.

ت) منظور از مرکز، کانون‌های سلطه اقتصادی بر جهان است.

۱ ۲ ۳ ۴

۷۹- گزینه ۴»

(سیدمهر مرنی دینانی، توکیبی، صفحه‌های ۴۷، ۴۸ و ۵۵)

کلوت‌ها (باردانگ‌ها) حاصل فرسایش بادی - آبی هستند و بیابان گبی نمونه‌ای از آن است. در طبقه‌بندی زیست‌بوم‌ها عوامل مختلفی در نظر گرفته می‌شود. وایتکر، بوم‌شناس،

سال‌ها پیش در طبقه‌بندی معروف خود به دو عامل بارش و دما توجه کرد.

۱ ۲ ۳ ۴

۸۰- گزینه «۴» (بهر روز یهیی، نواحی اقتصادی (کشاورزی و صنعت)، صفحه ۹۰ و ۹۵)

دامداری‌های تجاری ممکن است در کنار مزارع بزرگ غله تجاری ایجاد شوند و از بقایای محصولات کشاورزی برای تغذیه دام استفاده می‌کنند.

کشورهای کره جنوبی، تایوان، سنگاپور و مالزی در چند دهه اخیر به تولیدکنندگان و صادرکنندگان مهم کالاهای صنعتی در جهان تبدیل شده‌اند.

۱ ۲ ۳ ۴

۸۱- گزینه «۳» (آزاده میرزائی، تحولات نظام جهانی، صفحه ۶۷)

دولت - ملت‌ها، حاکمیت‌های سیاسی - اقتصادی جدیدی بودند که نخستین بار در اروپای غربی با افول قدرت کلیسا پدید آمدند. هویت آنها اغلب ناسیونالیستی و قومی بود.

۱ ۲ ۳ ۴

۸۲- گزینه «۱»

(علیرضا رضایی، باورها و ارزش‌های بنیادین فرهنگ غرب، صفحه ۳۸ تا ۴۰)

الف) اگر انسان به ابعاد دنیوی خود محدود بماند، گمراه می‌شود و حیاتی حیوانی یا پست‌تر از آن خواهد داشت.

ب) هنر مدرن به بعد جسمانی وجود انسان توجه دارد.

ج) اگر افرادی در فرهنگ دینی، دنیا را هدف برتر خود قرار داده باشند، از آشکار کردن آن پرهیز می‌کنند.

د) ادبیات مدرن حالات روانی آدمیان در زندگی روزمره و این جهانی را منعکس می‌کند، به همین دلیل، رمان در فرهنگ غرب، بیشترین اهمیت را پیدا کرده است.

۱ ۲ ۳ ۴

۸۳- گزینه «۴» (آزاده میرزائی، ترکیبی، صفحه ۵۳ و ۶۰)

الف) لیبرالیسم، اندیشه سیاسی جدیدی است که براساس اصالت بخشیدن به انسان دنیوی شکل می‌گیرد و خواست و اراده آدمی را مبدأ قانون‌گذاری می‌داند.

ب) انقلاب فرانسه، نخستین انقلاب لیبرال در جهان است.

پ) استعمار، مهم‌ترین عامل ادغام جوامع غیر غربی در نظام جهانی جدید بود.

۱ ۲ ۳ ۴

۸۴- گزینه «۴»

(بهروز یبسی، جهان فرهنگی، صفحه ۸)

براساس دیدگاه قرآن، جهان فرهنگی، جهان ذهنی و جهان تکوینی، مهم و در تعامل با یکدیگرند.

۱ ۲ ۳ ۴

۸۵- گزینه «۲»

(علیرضا رضایی، ترکیبی، صفحه‌های ۲۹، ۳۱، ۳۲ و ۳۳)

تشریح عبارت نادرست:

ج) استبداد قومی در جوامع اسلامی با وجود اینکه دارای هویتی غیر اسلامی بود، به دلیل اینکه پشتوانه و پیشینه‌ای خارج از جهان اسلام نداشت، از رویارویی مستقیم با فرهنگ توانمند اسلامی دوری می‌کرد و می‌کوشید با رعایت ظواهر اسلامی، ظاهر دینی خود را حفظ کند.

۱ ۲ ۳ ۴

۸۶- گزینه «۲»

(بهروز یبسی، جهان فرهنگی، صفحه ۴)

فرهنگ، شیوه زندگی اجتماعی انسان‌ها را شکل می‌دهد و خود نیز محصول آگاهی و عمل مشترک انسان‌هاست.

۱ ۲ ۳ ۴

۸۷- گزینه «۳»

(علیرضا رضایی، نمونه‌های فرهنگ جهانی (۱)، صفحه ۲۳ و ۲۵)

تشریح گزینه‌های دیگر:

بخش اول گزینه «۱»: استعمار فرانو - بخش دوم استعمار نو

گزینه «۲»: کودتای انگلیسی نوژه، نمونه شکست خورده از استعمار نو است.

بخش اول و دوم گزینه «۴»: استعمار نو - استعمار نو

۱ ۲ ۳ ۴

۸۸- گزینه «۲»

(آزاره میرزائی، ترکیبی، صفحه‌های ۷۵، ۷۷، ۸۶ و ۸۹)

تشریح عبارت‌های نادرست:

الف) چالش‌های عارضی جهان غرب در اثر عوامل خارجی پدید می‌آیند.

ب) از نظر مالتوس، کسانی که در فقر متولد می‌شوند، حق حیات ندارند.

ت) تقابل شمال و جنوب، تقابلی جهانی است و در صورت فعال شدن، بسیاری از چالش‌های درونی کشورهای غربی، دیگر بار فعال خواهند شد.

۱ ۲ ۳ ۴

۸۹- گزینه «۴»

(بهروز یبسی، فرهنگ جهانی، صفحه ۱۲ و ۱۳)

فرهنگی که عقاید و ارزش‌های آن، متعلق به گروه خاصی است، در صورت جهانی شدن، جهان را به مناطق دوگانه مرکزی و پیرامونی تقسیم می‌کند.

۱ ۲ ۳ ۴

۹۰- گزینه «۲»

(بهروز یبسی، فرهنگ جهانی، صفحه ۱۳)

فارابی جامعه‌ای را که عقاید و ارزش‌های آن حق باشد اما هنجارها و رفتارهای آن موافق و همسو با حق نباشد، مدینه فاسقه می‌نامد.

۱ ۲ ۳ ۴

۹۱- گزینه «۱»

(سیرمهم مدنی دینانی، چستی فلسفه، صفحه ۴)

همین که از خود می پرسیم «امروز به کجا باید بروم؟» بدین معناست که هنوز نمی دانیم کدام را باید انتخاب کنیم و به دنبال دانستن آن هستیم.

۱ ✓ ۲ ۳ ۴

۹۲- گزینه «۳»

(سیرمهم مدنی دینانی، چستی فلسفه، صفحه ۵)

تشریح گزینه های نادرست:

گزینه «۱»: تفکر غیر فلسفی می باشد.

گزینه «۲»: ملاصدرا ماندن در فطرت اول را شایسته نمی داند.

گزینه «۴»: اهمیت ندادن به امور عادی زندگی مقصود فلاسفه نمی باشد.

۱ ۲ ۳ ✓ ۴

۹۳- گزینه «۴»

(سعید حسن زاده، ریشه و شاخه های فلسفه، صفحه ۱۳ تا ۱۵)

هستی شناسی و معرفت شناسی دو بخش اصلی فلسفه می باشند. بخش اصلی فلسفه به منزله ریشه و اساس فلسفه است و بخش های فرعی در حکم شاخه ها و ستون آن اند. لذا فلسفه های مضاف از هستی شناسی و معرفت شناسی مستقل نیستند و با آن دو ارتباط دارند.

۱ ۲ ۳ ۴ ✓

۹۴- گزینه «۲»

(سعید حسن زاده، فلسفه و زندگی، صفحه ۲۲ تا ۲۴)

تفکر فلسفی باعث می شود که فرد از عادات غیرمنطقی رها شود؛ لذا او به صورت مطلق عقایدی که به صورت عادت در آمده را توجیه و تأیید نمی کند، بلکه به ارزیابی آنها می پردازد.

۱ ۲ ✓ ۳ ۴

۹۵- گزینه «۳»

(سعید حسن زاده، آغاز تاریخی فلسفه، صفحه ۳۱ و ۳۲)

یکی از اندیشه های مشهور «هراکلیتوس» تغییر و تحول دائمی جهان است. او می گفت «همه چیز در سیلان و حرکت است.» هیچ چیز ثابتی در این جهان وجود ندارد.

۱ ۲ ۳ ✓ ۴

۹۶- گزینه «۲»

(نازنین قاسمی، زندگی براساس اندیشه، صفحه ۳۸)

سقراط در سخنان خود می گوید: «من هم با تهی دستان و هم با توانگران همنشینی می کنم تا از من بپرسند و به سخنان من گوش فرا دهند... این رسالتی است که خداوند با ندهای غیبی و در «رؤیاها» برعهده من نهاده است.»

۱ ۲ ✓ ۳ ۴

۹۷- گزینه «۲»

(نازنین قاسمی، امکان شناخت، صفحه ۴۶)

معرفت شناسی یا «نظریه معرفت»، بخشی از فلسفه است که به پدیده شناخت می پردازد و می کوشد به پرسش هایی در مورد معرفت پاسخ دهد.

۱ ۲ ✓ ۳ ۴

۹۸- گزینه «۱»

(سیرمهم مدنی دینانی، ابزارهای شناخت، صفحه ۵۳)

معرفت از طریق قلب، گام به گام و «به تدریج» حاصل می شود؛ «بی واسطه» است؛ و برای آن، تهذیب نفس و سیر و سلوک ضروری است.

۱ ✓ ۲ ۳ ۴

۹۹- گزینه «۱»

(عاطفه ربابه صالحی، نگاهی به تاریخچه معرفت، صفحه ۶۷)

«ویلیام جیمز» و «هانری برگسون» از فیلسوفان تجربه‌گرایی هستند که به شهود عرفانی و تجربه دینی نیز معتقدند و به بعد «معنوی» انسان اهمیت می‌دهند.

۱ ✓ ۲ ۳ ۴

۱۰۰- گزینه «۴»

(عاطفه ربابه صالحی، نگاهی به تاریخچه معرفت، صفحه ۶۵)

در میان تجربه‌گرایان دیدگاه‌های جدیدی بروز کرد که یکی از مهم‌ترین آن‌ها «پوزیتیویسم» یا «اثبات‌گرایی» بود. پوزیتیویست‌ها علاوه بر اینکه تنها راه رسیدن به شناخت و معرفت را تجربه می‌دانستند، معتقد بودند که اصولاً آن دسته از مفاهیم و گزاره‌ها که تجربه‌پذیر نیستند و از طریق تجربه نمی‌توانند مورد بررسی و ارزیابی قرار بگیرند، بی‌معنا هستند.

۱ ۲ ۳ ۴ ✓

۱۰۱- گزینه «۳»

(وفیر دهقان، روان‌شناسی رشد، صفحه ۴۱)

در روان‌شناسی به رفتارهایی که وابسته به آمادگی زیستی است، رسش یا پختگی می‌گویند. رسش یا پختگی به معنای آن دسته از تغییراتی است که به آمادگی زیستی وابسته است و با گذشت زمان طبق یک برنامه طبیعی انجام می‌گیرد. عوامل محیطی نیز می‌تواند تا حدودی بر رسش یا پختگی تأثیر بگذارد. براساس فرایند رسش، آدمی، از دوره جنینی تا مرگ، برخی خصوصیات را در جنبه‌های مختلف رشد نشان خواهد داد.

۱ ۲ ۳ ✓ ۴

۱۰۲- گزینه «۴»

(هژبر رهیمی، روان‌شناسی: تعریف و روش مورد مطالعه، صفحه ۱۵)

مهم‌ترین دلیل دشواری پیش‌بینی و کنترل در علم روان‌شناسی، پیچیدگی و دشواری توصیف و تبیین در موضوعات مختلف این علم است. مثلاً انسان و رفتارهای او به عنوان موضوعی برای بررسی‌های علمی در روان‌شناسی، دارای ابعاد و ویژگی‌های مختلف و بسیار پیچیده‌ای است. انسان علاوه بر آنکه جسم و بدن دارد، دارای ابعاد غیرجسمانی هم هست که با بدن در ارتباط تنگاتنگی است. این امر باعث می‌شود که توصیف دقیق از موضوعات مختلف در انسان، مانند هوش، عواطف، شناخت، اراده، خود و ... بسیار دشوار گردد و در نتیجه، شاهد تبیین‌های متفاوتی از این موضوعات و مانند آنها، در روان‌شناسی باشیم.

۱ ۲ ۳ ۴ ✓

۱۰۳- گزینه «۲»

(کوثر دستورانی، احساس، توجه، ادراک، صفحه ۸۰)

الف) آگاهی

ب) حواس مختلف

ج) ویژگی‌های شخصی - دشواری تکلیف

۱ ۲ ✓ ۳ ۴

۱۰۴- گزینه «۱»

(هژبر رهیمی، حافظه و علل فراموشی، صفحه ۹۷)

نوع رمزگردانی در حافظه حسی، حسی است.

ظرفیت حافظه کوتاه مدت 2 ± 7 ماده است.

زمان بازیابی حافظه بلندمدت از چند دقیقه تا آخر عمر است.

 ۱ ۲ ۳ ۴

۱۰۵- گزینه «۳»

(هژبر رهیمی، روان‌شناسی رشد، صفحه ۵۴ و ۵۶)

رشد دستگاه تولید مثل، تغییر اساسی دوره نوجوانی است که با بلوغ جنسی رخ

می‌دهد. نوجوانان، برخلاف کودکان، قادر به نظارت، ارزیابی و تغییر جهت تفکر لحظه

به لحظه هستند.

 ۱ ۲ ۳ ۴

۱۰۶- گزینه «۴»

(سیرمهر مدنی دینانی، تفکر (۱) حل مسئله، صفحه ۱۱۸)

مسئله خوب تعریف نشده به معنای پیچیده بودن و دشواری حل یک مسئله است؛ به

عبارت دیگر مسئله‌های پیچیده از آنجایی که علل متعددی دارند به راحتی قابل

تعریف نیستند نه اینکه کلاً قابل تعریف نباشند.

 ۱ ۲ ۳ ۴

۱۰۷- گزینه «۱»

(مانده مؤمنی، تفکر (۱) حل مسئله، صفحه ۱۲۱ و ۱۲۲)

تأثیر یادگیری‌های گذشته بر حل مسئله را «انتقال» می‌گویند.

 ۱ ۲ ۳ ۴

۱۰۸- گزینه «۴»

(آزاده میرزائی، تفکر (۱) حل مسئله، صفحه ۱۲۶ تا ۱۲۸)

مسئله برج هانوی را با روش کاهش تفاوت وضعیت موجود با وضعیت مطلوب می‌توان

حل کرد.

روش شروع از آخر در حل مسائل ریاضی کاربرد دارد.

 ۱ ۲ ۳ ۴

۱۰۹- گزینه «۳»

(آزاده میرزائی، تفکر (۲) تصمیم‌گیری، صفحه ۱۴۶ و ۱۴۷)

در سبک اجتنابی: فرد دست، دست می‌کند و کار امروز را به فردا می‌اندازد.

در سبک منطقی: فرد پله پله و طبق قوانین پیش می‌رود.

 ۱ ۲ ۳ ۴

۱۱۰- گزینه «۴»

(مانده مؤمنی، تفکر (۲) تصمیم‌گیری، صفحه ۱۳۹ تا ۱۴۱)

هزینه‌ها، مزیت‌ها و خطر از ملاک‌های تصمیم‌گیری است.

 ۱ ۲ ۳ ۴