



دفترچه سؤال

سال یازدهم انسانی

دوره متوسط دوم (پایه یازدهم)

۹ مهرماه ۱۴۰۰

(آزمون تعیین سطح)

مدت پاسخ گویی به آزمون: ۱۲۰ دقیقه
تعداد کل سؤالات: ۱۰۰ سؤال علمی

نام درس	تعداد سؤال	شماره سؤال	شماره صفحه	زمان پاسخ گویی
عربی زبان قرآن (۱)	۱۰	۱-۱۰	۴-۵	۱۵ دقیقه
زبان انگلیسی (۱)	۱۰	۱۱-۲۰	۶	۲۰ دقیقه
زبان انگلیسی (۱) «آشنا»	۱۰	۲۱-۳۰	۷	
ریاضی و آمار (۱)	۱۰	۳۱-۴۰	۸-۹	۲۵ دقیقه
ریاضی و آمار (۱) «آشنا»	۱۰	۴۱-۵۰	۱۰-۱۱	
اقتصاد	۱۰	۵۱-۶۰	۱۲-۱۴	۲۰ دقیقه
اقتصاد «آشنا»	۱۰	۶۱-۷۰	۱۵-۱۷	
علوم و فنون ادبی (۱)	۱۰	۷۱-۸۰	۱۸-۱۹	۲۵ دقیقه
علوم و فنون ادبی (۱) «آشنا»	۱۰	۸۱-۹۰	۲۰-۲۱	
منطق	۱۰	۹۱-۱۰۰	۲۲-۲۳	۱۵ دقیقه

برای دیدن تحلیل آزمون امروز و آگاهی یافتن از
ویژگی‌ها و نکات آموزشی آزمون بصدی همین امروز به
سایت www.kanoon.ir مراجعه نمایید.

پدیدآورندگان آزمون

گزینشگران و ویراستاران

نام درس	گزینشگر	مسئول درس	ویراستار استاد	ویراستار دانشجو	مسئول درس مستندسازی
عربی زبان قرآن (1)	مریم آقایی	مریم آقایی	درویشعلی ابراهیمی اسماعیل یونس پور	فاطمه صفری فاطمه ایزدی	مهدی یعقوبیان
زبان انگلیسی (1)	محدثه مرآتی	محدثه مرآتی	سعید آقچه‌لو رحمت‌الله استیری	—	سپیده جلالی
ریاضی و آمار (1)	ایمان چینی فروشان	ایمان چینی فروشان	محمد بحیرایی حسین ابومحبوب	نگین رحیمی	حسین اسدزاده
اقتصاد	سارا شریفی	سارا شریفی	—	فاطمه ایزدی فاطمه صفری	زهره قموشی
علوم و فنون ادبی (1)	اعظم نوری نیا	اعظم نوری نیا	—	فاطمه صفری	الناز معتمدی
منطق	عاطفه ربابه صالحی	عاطفه ربابه صالحی	—	فاطمه صفری فاطمه ایزدی	زهره قموشی

طرامان:

عربی زبان قرآن (1):

مریم آقایی، محمد جهان‌بین، خدیجه علی‌پور، ولی‌الله نوروزی، مجید همایی

زبان انگلیسی (1):

سپهر برومندپور، امیرحسین زاهدی، محمدحسین شکوری، فریبا طاهری، ساسان عزیزنژاد، سعید کاویانی، محدثه مرآتی، «آشنا»

ریاضی و آمار (1):

علی ارجمند، فرشاد حسن‌زاده، امیر زراندوز، «آشنا»

اقتصاد:

سارا شریفی، فاطمه صفری، مرده طالب، نازنین قاسمی، مهدی کردان، «آشنا»

علوم و فنون ادبی (1):

سعید جعفری، میترا پاکزاد، ابراهیم رضایی‌مقدم، افشین کیانی، عارفه‌سادات طباطبایی‌نژاد، محمد نورانی، «آشنا»

منطق:

راحله بابائی صومعه‌کیودین، سعید حسن‌زاده، عاطفه ربابه صالحی، کوثر دستورانی، نازنین قاسمی، سیدمحمد مدنی‌دینانی

گروه فنی و تولید

مدیر گروه: لیلا فیروزی

مسئول دفترچه: حبیبه محبی

حروف‌نگاری و صفحه‌آرایی: مهین علی‌محمدی جلالی

مدیر واحد مستندسازی و مطابقت با مصوبات: مازیار شیروانی مقدم

مسئول دفترچه مستندسازی: زهره قموشی

نظارت چاپ: سوران نعیمی

از شما خواهش می‌کنیم، از این آزمون و نتایج آن فقط برای تثبیت و تقویت روش‌های صحیح مطالعه و برای تصحیح روش‌های اشتباه خود بهره بگیرید. یعنی به‌جای آموزش و مشاوره‌های آزمون بیش از جنبه‌ی سنجشی یا رقابتی آن توجه کنید. اگر هم‌اکنون و در هر گام مسیر خود را تصحیح کنید، اشتباه کم‌تری مرتکب خواهید شد و با آرامش و اعتماد به نفس کار را تا پایان ادامه خواهید داد. لطفاً نظرات خود را با ما در میان بگذارید.

مدیر گروه پایه یازدهم انسانی – لیلا فیروزی leilaffirozii@gmail.com

عربی زبان قرآن (۱)

مباحث کل کتاب

صفحه ۹۸۵

وقت پیشنهادی: ۱۵ دقیقه

هدف‌گذاری قبل از شروع هر درس در دفترچه سؤال

لطفاً قبل از شروع پاسخ‌گویی به سؤال‌های درس عربی زبان قرآن (۱)، هدف‌گذاری چند از ۱۰ خود را بنویسید:
از هر ۱۰ سؤال به چند سؤال می‌توانید پاسخ صحیح بدهید؟
عملکرد شما در آزمون قبل چند از ۱۰ بوده است؟
هدف‌گذاری شما برای آزمون امروز چیست؟

چند از ۱۰ آزمون قبل	هدف‌گذاری چند از ۱۰ برای آزمون امروز

■ عَيْنُ الْأَصْحَحِ وَالْأَدَقُّ فِي الْجَوَابِ لِلتَّرْجَمَةِ أَوْ الْمَفْهُومِ: (۱-۴)

۱- «أَكْدَّ صَدِيقِي الْحَمِيمِ عَلَى الْإِتْقَانِ الصُّورِ فِي أَضْوَاءِ تِلْكَ الْأَسْمَاكِ الْمُضِيئَةِ.»

(۱) رفیق مهربان و صمیمی من به عکس‌گرفتن در پرتوهای آن ماهیان نورانی تأکید کرد.

(۲) دوست صمیمی‌ام اصرار کرد تا در پرتوهای این ماهیان نوردهنده، عکس بگیریم.

(۳) دوست صمیمی من به عکسبرداری در نورهای آن ماهی‌های نوردهنده، تأکید کرد.

(۴) دوست مهربانم تأکید می‌کند که در پرتو آن ماهی‌های نورانی، عکسبرداری کنیم.

۲- «طَلِبْتُ مِنَ الصَّيْدِ مِحْرَاراً وَ قَطْناً طَبِيباً بَدُونَ وَصْفَةِ الطَّيِّبِ لِأَنَّ شَرَاتِهِمَا مَسْمُوحٌ.»

(۱) از آقای داروخانه‌دار یک دماسنج و یک بسته پنبه درخواست کردم زیرا فروش آنها بدون نسخه دکتر مجاز است.

(۲) از داروخانه‌دار یک حرارت‌سنج و پنبه‌ای بهداشتی (طبی) خواستم زیرا خرید آن‌دو بدون نسخه پزشک کاملاً مجاز است.

(۳) از داروخانه یک حرارت‌سنج و پنبه الکلی بدون نسخه پزشک گرفتم زیرا خرید آن‌دو ممنوع نیست.

(۴) از داروخانه‌دار یک دماسنج و پنبه‌ای بهداشتی (طبی) بدون نسخه پزشک خواستم زیرا خرید آن‌دو مجاز است.

۳- عَيْنُ الْخَطَأِ:

(۱) «يُعْرِفُ الْمُجْرِمُونَ بِسِمَاهُمْ»: تبهکاران از چهره‌شان شناخته می‌شوند.

(۲) لِكُلِّ ذَنْبٍ تَوْبَةٌ إِلَّا سَوْءَ الْخُلُقِ: هر گناهی جز بداخلاقی توبه‌ای دارد.

(۳) عَلِمُوا وَ تَفَقَّهُوا وَ لَا تَمُوتُوا جُهَالاً: آموختند و اندیشه کردند و همچون نادانان نمرند.

(۴) «هُوَ أَنْشَأَكُمْ مِنَ الْأَرْضِ وَ اسْتَعْمَرَكُمْ فِيهَا»: او شما را از زمین پدیدآورد و خواستار آباد کردن آن از شما شد.

پیام مشاوره‌ای: در سؤالات مترادف و متضاد به علامت‌های (= ، ≠) بین کلمات خوب دقت کنید تا بخاطر یک سهل‌انگاری تست‌های به این سادگی را اشتباه نزنید.

٤- ما هو غير المناسب لمفهوم العبارة التالية؟ «سكوت اللسان سلامة الإنسان.»

- (١) زبان سرخ سر سبز می دهد بر باد!
 (٢) بلاء الإنسان في لسانه.
 (٣) السكوت ذهبٌ و الكلام فضةٌ.
 (٤) ای زبان هم گنج بی پایان تویی / ای زبان هم رنج بی پایان تویی

٥- عین الخطأ في المترادف أو المتضاد:

- (١) بعثنا = أرسلنا
 (٢) استلم = دفع
 (٣) كبار ≠ صغار
 (٤) ضحك ≠ بكين

٦- عین ضمير الياء مفعولاً:

- (١) علی یمنی شجرة باسقة تغني الطيور علی اغصانها!
 (٢) يتمنى والدای أن يوقني الله أن أخدم المحرومين لرضاه!
 (٣) لم لا تعين زماناً أن تحاسبى نفسك فيه و تفكرى بأعمالك؟!
 (٤) إن تتعاونى أبدأ علی العمل بالقانون فأنت عملت بواجبك!

٧- عین الخطأ في المحل الإعرابي لكلمات العبارة التالية:

«عداوة العاقل خير من صداقة الجاهل.»

- (١) عداوة: مبتدأ و مرفوع
 (٢) العاقل: مضاف إليه و مجرور
 (٣) خير: خبر و مرفوع
 (٤) الجاهل: صفة و مجرورة بالتبعية

٨- في أيّ عبارة ما جاء الفعل المجهول؟

- (١) تُفتح أبواب صالة الإمتحان للطلاب.
 (٢) ترسل رسالات إلى مدينة شيراز.
 (٣) يُنزل الله المطر من السحاب.
 (٤) أُجلس الطفل على الكرسي.

٩- عین التعت (الصفة) ليس مجروراً:

- (١) يُحمل الثقل بالنقلات الكبيرة إلى خارج البلاد!
 (٢) إشتريت الملابس النسائية من سوق النجف!
 (٣) هل تعلم أن البلاد مجموعة من المدن الكثيرة؟!
 (٤) البومة تسكن في الأماكن المتروكة وحيدة!

١٠- عین عبارة ما جاء فيها الفعل المتعدى:

- (١) معالم إيران الأثرية تجذب السائحين من كل العالم!
 (٢) هل تشاهد سقوط الأسماك من السماء بدقة؟!
 (٣) الغواصون ذهبوا إلى أعماق المحيط ليلاً!
 (٤) إستخرج الفلاحون ماءً من بئر القرية!



پاسخ دادن به این سوالات اجباری است و در تراز کل شما تأثیر دارد.

آزمون «آشنا»

21- I'm really busy ... the moment. ... you call back later?

- 1) in - Can 2) at - Must 3) on - Should 4) at - Can

PART B: Cloze Test

Directions: Read the following passage and decide which choice (1), (2), (3), or (4) best fits each space. Then mark the correct choice on your answer sheet.

Over the decades, tourism has experienced continued growth and deepening diversification to become one of the fastest growing economic sectors in the world. Modern tourism is ...(22)... linked to development and includes a growing number of new tourist ...(23)... . These factors have turned tourism into a ...(24)... element for socio-economic progress.

Today, the business volume of tourism equals or even surpasses the volume of oil exports, food products, or automobiles. Tourism has become one of the major players in international commerce ...(25)... for many developing countries. This growth goes hand in hand with a/an ...(26)... diversification and competition among destinations.

- 22- 1) closely 2) honestly 3) loudly 4) patiently
 23- 1) ceremonies 2) suggestions 3) destinations 4) vacations
 24- 1) plain 2) key 3) neat 4) rocky
 25- 1) represents and one of the main income sources at the same time
 2) and represents at the same time one of the main income sources
 3) at the same time and represents one of the main income sources
 4) and one of the main income sources represents at the same time
 26- 1) falling 2) energetic 3) domestic 4) increasing

PART C: Reading Comprehension

Directions: Read the following passage and answer the questions by choosing the best choice (1), (2), (3), or (4). Then mark the correct choice on your answer sheet.

The proverb conveys the message that that we can never succeed without trying out something and facing failures. Any person who sits idle and does not do any labor cannot gain anything in their life. As no prey can enter the mouth of a sleeping lion, those who do not take pains in life can't be successful. Without adequate effort, we cannot get any result. A farmer must plough the land, make the land moist, then plant the seeds, pluck out the weeds, protect the crops from insects, and finally he can expect a good harvest. He has to go through the whole process and do them systematically so as to have a good harvest. He cannot just drop the seeds on the land and expect them to grow into a good crop.

Similarly, a student must put in a good deal of hard work for a considerable length of time to attain a proper qualification. He cannot buy the books and sit and relax and think that he will attain a qualification. A person who sits idle and does nothing wastes his own time. The great inventors have achieved so much only by laboring for years for a single objective. So if we take strenuous effort, we can succeed; and we cannot gain anything if we do not take effort.

27- The passage reminds us of the proverb "...".

- 1) Better late than never. 2) No man is an island.
 3) Easy come, easy go. 4) No pain, no gain.

28- The writer of the passage gives the following examples to persuade readers to work hard EXCEPT

- 1) the students spending lots of time to get a proper qualification
 2) a farmer planting and watering the land and protecting the crops to have a good harvest
 3) a lion sleeping in a cave and waiting for a prey to come into its mouth
 4) an inventor working for years just to reach one goal

29- The underlined word "prey" in paragraph 1 is closest in meaning to

- 1) food for animals 2) seeds growing in the field
 3) objective for people 4) places for animals to live

30- The underlined pronoun "them" in paragraph 1 refers to all of the following EXCEPT

- 1) protecting the crops from insects 2) making the land moist
 3) plucking out the weeds 4) seeds growing into a good crop

ریاضی و آمار (۱)

مباحث کل کتاب

صفحة ۹ و ۱۷

وقت پیشنهادی: ۲۵ دقیقه

هدف گذاری قبل از شروع هر درس در دفترچه سؤال

لطفاً قبل از شروع پاسخ گویی به سؤال های درس ریاضی و آمار (۱)، هدف گذاری چند از ۱۰ خود را بنویسید:
از هر ۱۰ سؤال به چند سؤال می توانید پاسخ صحیح بدهید؟
عملکرد شما در آزمون قبل چند از ۱۰ بوده است؟
هدف گذاری شما برای آزمون امروز چیست؟

چند از ۱۰ آزمون قبل	هدف گذاری چند از ۱۰ برای آزمون امروز

۳۱- در معادله $\frac{x-1}{3} - \frac{1-x}{5} = \frac{x}{2}$ حاصل ضرب جواب در نصف جواب کدام است؟

۱۲۶ (۴)

۱۲۸ (۳)

۶۴ (۲)

۸۲ (۱)

۳۲- اگر $x=2$ جواب معادله درجه دوم $ax^2 + (a+2)x - 2 = 0$ باشد، آنگاه کدام گزینه در مورد سهمی $y = ax^2 + (a+2)x - 2$

درست است؟

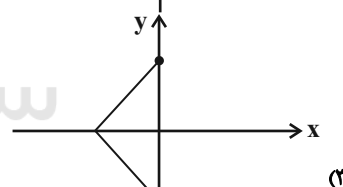
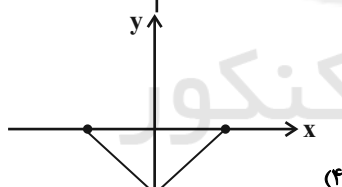
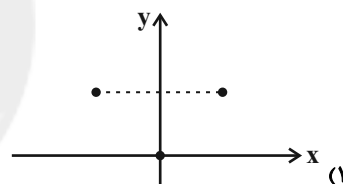
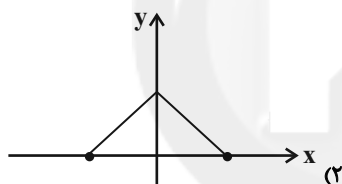
(۲) در نقطه ای به طول $-\frac{5}{4}$ دارای مینیمم است.

(۱) در نقطه ای به طول $\frac{5}{4}$ دارای ماکزیمم است.

(۴) در نقطه ای به طول $-\frac{3}{4}$ دارای ماکزیمم است.

(۳) در نقطه ای به طول $\frac{3}{4}$ دارای مینیمم است.

۳۳- کدام یک از رابطه های رسم شده تابع نیست؟



محل انجام محاسبات

۳۴- اگر برد تابع خطی $f(x) = 4(x - 3)$ ، برابر $-4 \leq y \leq 8$ باشد، دامنه تابع کدام است؟

- (۱) $-2 \leq x \leq 5$ (۲) $-5 \leq x \leq 2$ (۳) $2 \leq x \leq 5$ (۴) $-5 \leq x \leq -2$

۳۵- اگر دامنه تابع $y = -\frac{1}{2}x^2 + 3x$ به صورت $-2 \leq x \leq 4$ باشد، حاصل جمع بیشترین و کمترین مقدار تابع کدام است؟

- (۱) $\frac{9}{2}$ (۲) $-\frac{9}{2}$ (۳) $\frac{7}{2}$ (۴) $-\frac{7}{2}$

۳۶- اگر $5x + 4y = 10$ باشد، بیشترین مقدار عبارت $3xy + 6$ کدام است؟

- (۱) $\frac{39}{4}$ (۲) $\frac{35}{4}$ (۳) ۹ (۴) ۸

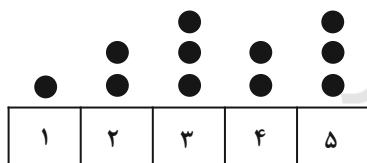
۳۷- مد منحصراً به فرد داده‌های ۸، ۷، ۷، $\frac{k}{2}$ ، ۳، ۲، ۱، ۱ برابر با ۱ است. میانه این داده‌ها کدام است؟

- (۱) $1/5$ (۲) ۲ (۳) $2/5$ (۴) ۳

۳۸- اگر واریانس داده‌های ۵، ۴، $a - 1$ ، $a + 3$ و $2a + 3$ برابر صفر باشد، آنگاه میانه داده‌ها چند برابر میانگین است؟

- (۱) ۵ (۲) ۱۰ (۳) ۱ (۴) ۴

۳۹- برای نمودار نقطه‌ای زیر، یک نمودار جعبه‌ای رسم می‌کنیم. دامنه تغییرات داده‌های داخل جعبه کدام است؟



(۱) ۰/۵

(۲) ۱

(۳) ۱/۵

(۴) ۲

۴۰- کدام گزینه در مورد نمودار راداری درست است؟

(۱) روشی برای نمایش داده‌های چند متغیره در قالب نموداری دو بعدی است.

(۲) نقطه شروع همه متغیرهای کمی که بر روی نمودار مشخص می‌شوند، مختلف است.

(۳) تعداد محورهای ارتباطی به تعداد متغیرهای مورد بررسی ندارد.

(۴) زاویه بین نیم‌خط‌های نمودار راداری متفاوت است.

آزمون «آشنا»

پاسخ دادن به این سوالات اجباری است و در تراز کل شما تأثیر دارد.

۴۱- محیط یک مستطیل ۸۲ واحد است. اگر از طول آن ۷ واحد کم کنیم، شکل باقی مانده یک مربع می‌شود. ضلع کوچک‌تر این مستطیل کدام است؟

- ۱۶ (۱) ۱۷ (۲) ۱۸ (۳) ۱۹ (۴)

۴۲- به ازای کدام مقادیر a ، معادله $1 - \frac{a+2}{x-1} = \frac{x-2}{ax-5}$ ، دارای جواب $x=3$ است؟

- ۱ (۱) $-\frac{1}{3}$ ، ۲ (۲) $-\frac{1}{3}$ ، ۲ (۳) $-\frac{2}{3}$ ، ۱ (۴) $\frac{2}{3}$ ، ۱

۴۳- اگر رابطه $R = \{(2, b), (a+3, 3), (4, a^2+4), (4, 5)\}$ یک تابع باشد، زوج مرتب (a, b) کدام است؟

- (۱) $(-1, 3)$ (۲) $(1, 3)$ (۳) $(1, 2)$ (۴) $(-1, 2)$

۴۴- در یک دانشکده که ۳۰۰ دانشجو دارد، نسبت تعداد دختران به کل دانشجویان $\frac{180}{300}$ است. در کلاس عربی، نسبت دختران به کل افراد

کلاس $\frac{20}{27}$ است و در کلاس ریاضی، این نسبت برابر با $\frac{17}{21}$ است. با توجه به متن ذکر شده و همچنین مفهوم پارامتر و آماره کدام

گزینه صحیح است؟

(۱) نسبت $\frac{180}{300}$ را آماره می‌گویند. (۲) نسبت‌های $\frac{17}{21}$ و $\frac{20}{27}$ را آماره می‌گویند.

(۳) نسبت $\frac{20}{27}$ را آماره و نسبت $\frac{17}{21}$ را پارامتر می‌گویند. (۴) نسبت $\frac{120}{300}$ را آماره‌ای می‌گویند که نسبت تعداد پسران دانشکده را نشان می‌دهد.

۴۵- بهترین روش جمع‌آوری داده در موضوعات الف، ب و پ به ترتیب از راست به چپ کدام است؟

الف) بهترین سریال نروزی از نظر مردم که از شبکه‌های سیما پخش شده است.

ب) تعداد افرادی که در روز جمعه به یک رستوران مراجعه خواهند کرد.

پ) بررسی نرخ رشد باروری در سال ۹۵

(۱) پرسشنامه - دادگان‌ها - پرسشنامه (۲) پرسشنامه - دادگان‌ها - دادگان‌ها

(۳) مصاحبه - مشاهده - پرسشنامه (۴) مصاحبه - مشاهده - دادگان‌ها

۴۶- نمرات ادبیات دانش‌آموزی در ۱۰ آزمون به صورت زیر است. با حذف دو نمره کم‌ترین و بیش‌ترین، مقدار انحراف معیار ۸ نمره باقی‌مانده

تقریباً کدام است؟

۱۴, ۱۲, ۱۵, ۹, ۱۴, ۱۵, ۱۶, ۱۵, ۲۰, ۱۱

۱/۶ (۴)

۱/۵ (۳)

۱/۲ (۲)

۰/۹ (۱)

۴۷- در نمودار جعبه‌ای ۳۶ داده آماری متمایز، میانگین داده‌های سبیل‌های سمت چپ و راست جعبه به ترتیب ۲۲ و ۳۰ می‌باشد. اگر

میانگین تمام داده‌ها ۲۷/۵ باشد، آن‌گاه میانگین داده‌های داخل جعبه کدام است؟

۲۹/۵ (۴)

۲۹ (۳)

۲۸/۵ (۲)

۲۸ (۱)

۴۸- در نمودار جعبه‌ای (میزان بارش: V_3 ، جمعیت: V_2 ، مساحت: V_1) برای شهرهای رشت، تهران و یزد، قطر دایره رشت ۳ برابر شعاع

دایره تهران و مساحت دایره تهران ۴ برابر مساحت دایره یزد است. میزان ریزش باران در رشت به ترتیب چند برابر میزان ریزش باران در

تهران و یزد است؟

۹,۹ (۴)

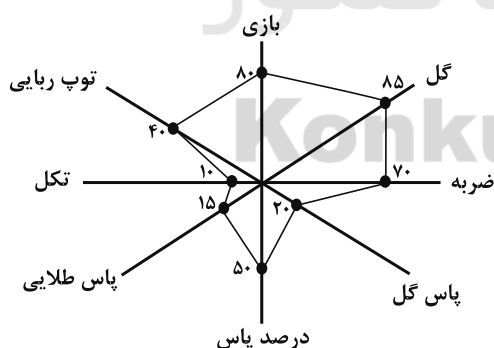
$9, \frac{9}{4}$ (۳)

۱۲,۹ (۲)

$12, \frac{9}{4}$ (۱)

۴۹- در نمودار راداری زیر اگر بیشینه پاس گل برابر ۱/۸ و بیشینه گل برابر ۰/۸۲ باشند، مقدار متغیر پاس گل و مقدار متغیر گل به ترتیب از

راست به چپ برای این مشاهده کدام است؟ (ماکزیمم تمام شعاع‌ها را ۱۰۰ درصد در نظر بگیرید).



۰/۶۹۷,۰/۳۶ (۱)

۰/۷۲۹,۰/۳۶ (۲)

۰/۷۲۹,۰/۴۲۱ (۳)

۰/۶۹۷,۰/۴۲۱ (۴)

۵۰- اگر نمودار راداری (عنکبوتی) یک بازیکن دارای ۸ پره (۸ متغیر) باشد، زاویه بین دو پره متوالی چند درجه است؟

۹۰ (۲)

۴۵ (۱)

۶۰ (۴)

۲۲/۵ (۳)

اقتصاد

کل کتاب

صفحة ۱۶۰ تا ۱۶۲

وقت پیشنهادی: ۲۰ دقیقه

هدف گذاری قبل از شروع هر درس در دفترچه سؤال

لطفاً قبل از شروع پاسخ گویی به سؤال های درس اقتصاد، هدف گذاری چند از ۱۰ خود را بنویسید:
از هر ۱۰ سؤال به چند سؤال می توانید پاسخ صحیح بدهید؟
عملکرد شما در آزمون قبل چند از ۱۰ بوده است؟
هدف گذاری شما برای آزمون امروز چیست؟

چند از ۱۰ آزمون قبل	هدف گذاری چند از ۱۰ برای آزمون امروز

۵۱- به ترتیب هر یک از عبارات زیر، مربوط به معایب و مزایای کدام نوع از کسب و کار است؟

الف) منافع مالیاتی

ب) قوانین پیچیده تر و گزارش دهی بیشتر

ج) بار سنگین مسئولیت

د) امکان افزایش سرمایه و تأمین مالی بانکی

ه) افزایش برخی هزینه ها جهت تنظیم قرارداد و مشاوره حقوقی با وکیل

۱) الف) مزیت کسب و کار شخصی، ب) از معایب ایجاد شرکت، ج) از معایب کسب و کار شخصی، د) مزیت کسب و کار شراکتی، ه) از معایب ایجاد شرکت

۲) الف) مزیت کسب و کار شخصی، ب) از معایب ایجاد شرکت، ج) از معایب کسب و کار شخصی، د) مزیت ایجاد شرکت، ه) از معایب کسب و کار شراکتی

۳) الف) مزیت ایجاد شرکت، ب) از معایب کسب و کار شراکتی، ج) از معایب ایجاد شرکت، د) مزیت کسب و کار شراکتی، ه) از معایب کسب و کار شراکتی

۴) الف) مزیت ایجاد شرکت، ب) از معایب کسب و کار شراکتی، ج) از معایب کسب و کار شراکتی، د) مزیت ایجاد شرکت، ه) از معایب ایجاد شرکت

۵۲- با توجه به جدول «تقاضا، عرضه و قیمت» روبه رو، کدام گزینه مبین پاسخ

صحیح پرسش های زیر است؟

الف) میزان مازاد یا کمبود عرضه در سطح قیمت ۱۷,۰۰۰ تومان، چند کیلو است؟

ب) میزان مازاد یا کمبود تقاضا در سطح قیمت ۲۰,۰۰۰ تومان، چند کیلو است؟

ج) کدام ردیف جدول بیانگر برابری میان «تقاضا و عرضه» است و نام

اصطلاح اقتصادی آن چیست؟

ردیف	قیمت (به تومان)	مقدار تقاضا (به کیلو)	مقدار عرضه (به کیلو)
۱	۱۵,۰۰۰	۴۰	۲۰
۲	۱۷,۰۰۰	۳۵	۲۵
۳	۱۸,۰۰۰	۳۰	۳۰
۴	۲۰,۰۰۰	۲۰	۴۵
۵	۲۳,۰۰۰	۱۵	۵۰

۱) الف) ۱۵ کیلو مازاد عرضه، ب) ۳۰ کیلو مازاد تقاضا، ج) ردیف ۳ - قیمت و مقدار تعادلی

۲) الف) ۱۰ کیلو کمبود عرضه، ب) ۳۰ کیلو مازاد تقاضا، ج) ردیف ۵ - قیمت تعادلی

۳) الف) ۱۰ کیلو کمبود عرضه، ب) ۲۵ کیلو کمبود تقاضا، ج) ردیف ۳ - قیمت و مقدار تعادلی

۴) الف) ۱۵ کیلو مازاد عرضه، ب) ۲۵ کیلو کمبود تقاضا، ج) ردیف ۵ - مقدار تعادلی

۵۳- با توجه به مراحل زیر اگر میزان مالیات بر ارزش افزوده ۵ درصد باشد، آن گاه به ترتیب از راست به چپ، مالیات بر ارزش افزوده

جمع آوری شده توسط فروشنده در مرحله دوم و مجموع مالیات بر ارزش افزوده جمع آوری شده در مرحله آخر، چند تومان است؟

مرحله اول: فروش گندم از سوی کشاورز به آسیابان به مبلغ ۱۰۰۰ تومان

مرحله دوم: فروش آرد از سوی آسیابان به نانوا به مبلغ ۱۵۰۰ تومان

مرحله سوم: فروش نان از سوی نانوا به مشتری به مبلغ ۲۵۰۰ تومان

۱۲۵ - ۷۵ (۴)

۱۲۵ - ۵۰ (۳)

۱۵۰ - ۷۵ (۲)

۱۵۰ - ۵۰ (۱)

۵۴- موارد کدام گزینه به ترتیب، تکمیل کننده جاهای خالی عبارات زیر است؟

- الف) عامل ... ، عامل گسستن از پیمانهای تجاری نیز به شمار می رود.
 ب) کشورهای ... ، ... و ... در سال ۱۹۹۲، پیمان تجارت آزاد، مشهور به ... را امضا کردند.
 ج) برای تعامل قدرتمند با دیگران، کشورها ناگزیرند میان ... از سویی و ... در جهت ... دست به انتخاب بهینه بزنند.
 د) کنفرانس پولی و مالی سازمان ملل (برتن وودز) در سال ۱۹۴۴ تشکیل و نتیجه آن تشکیل ... بود.
 ه) در سال ۱۹۴۷، ... کشور برای جلوگیری از اقدامات حمایت گرایانه کشورها علیه یکدیگر و حفظ روابط تجاری بین خودشان قراردادی غیررسمی را امضا کردند که به نام قرارداد ... مشهور شد و بعدها به ... تبدیل شد.

- ۱) الف) اهمیت خودکفایی و عدم وابستگی، ب) آمریکا - کانادا - مکزیک - پیمان نفتا، ج) استقلال و اقتدار اقتصادی - محدود کردن واردات و صادرات کالاها - خلق مزیت های جدید، د) سازمان دائمی تجارت جهانی، ه) ۳۲ - بانک جهانی توسعه - صندوق بین المللی پول
 ۲) الف) حفاظت از منافع ملی، ب) آمریکا - کانادا - مکزیک - پیمان نفتا، ج) بهره برداری از مزیت های موجود - خلق مزیت های جدید - افزایش استقلال و اقتدار اقتصادی، د) بانک جهانی توسعه و صندوق بین المللی پول، ه) ۲۳ - گات - سازمان دائمی تجارت جهانی
 ۳) الف) حفاظت از منافع ملی، ب) آلمان - اروپای شرقی - ایالات متحده - پیمان جهانی سازمان ملل، ج) استقلال و اقتدار اقتصادی - محدود کردن واردات و صادرات کالاها - خلق مزیت های جدید، د) بانک جهانی توسعه و صندوق بین المللی پول، ه) ۲۳ - گات - سازمان دائمی تجارت جهانی
 ۴) الف) اهمیت خودکفایی و عدم وابستگی، ب) آلمان - اروپای شرقی - ایالات متحده - پیمان جهانی سازمان ملل، ج) بهره برداری از مزیت های موجود - خلق مزیت های جدید - افزایش استقلال و اقتدار اقتصادی، د) سازمان دائمی تجارت جهانی، ه) ۳۲ - بانک جهانی توسعه - صندوق بین المللی پول

۵۵- چند مورد از موارد زیر، در ارتباط با تاریخچه پول صحیح می باشد؟

- الف) انتخاب فلزاتی مانند طلا و نقره به عنوان وسیله معامله، موجب گسترش تجارت در داخل کشورها و بین ملت ها شد.
 ب) پشتوانه پول های فلزی و کاغذی و تحریری و الکترونیکی که امروزه در دست افراد یا در حساب آنهاست، شمش های طلا و جواهراتی است که نزد صراف یا بانک است.
 ج) در معاملاتی که با چک انجام می شود در حقیقت پول نقد رد و بدل نمی شود، بلکه بانک موجودی حسابی را کاهش و موجودی حساب دیگری را افزایش می دهد.

- د) در زمان های گذشته، برخی کالاهای خاص که در هر منطقه پرطرفدار بود به عنوان اولین پول مورد استفاده قرار گرفت. مثلاً در روسیه صدف، در ایران چای و در هندوستان پوست سمور خواهان بیشتری داشت.

۱) دو (۲) سه (۳) یک (۴) چهار

۵۶- در جدول زیر، هزینه سبد بازار مربوط به دو کشور فرضی A و B در طی یک سال ذکر شده است. چنانچه نرخ تورم در این دو کشور

یکسان باشد؛ هزینه سبد بازار در ابتدای سال در کشور A چند ریال است؟

هزینه سبد بازار در انتهای سال (به ریال)	هزینه سبد بازار در ابتدای سال (به ریال)	قیمت کالا
۳,۰۰۰	?	A
۸,۶۴۰	۷,۲۰۰	B

۱,۵۰۰ (۴)

۲,۵۰۰ (۳)

۱,۲۵۰ (۲)

۱,۰۰۰ (۱)

۵۷- به ترتیب، کدام گزینه در بردارنده پاسخ صحیح سؤالات زیر است؟

(الف) زمانی که اقتصاد کشور دچار تورم می‌شود، بانک مرکزی برای پیش‌گیری از افزایش قیمت‌ها یا کاهش سرعت آن، چه سیاستی را به کار می‌گیرد و چه روشی را اتخاذ می‌کند؟

(ب) اگر میزان تقاضای کل از میزان عرضه ... باشد، تورم به وجود می‌آید چرا که ...

(ج) در حالت رکود اقتصادی که سطح تولید ... و بیکاری ... می‌یابد، معمولاً سیاست‌های ... اعمال می‌شود.

(۱) الف) سیاست پولی انقباضی - فروش اوراق مشارکت، (ب) کمتر - همه تولیدکنندگان موفق به فروش کالای خود نمی‌شوند و حاضرند قیمت را پایین آورند. (ج) افزایش - کاهش - انقباضی

(۲) الف) سیاست پولی انبساطی - خرید اوراق مشارکت، (ب) بیشتر - عده محدودی از تقاضاکنندگان که حاضرند قیمت بالاتری بپردازند، می‌توانند کالا را تصاحب کنند. (ج) کاهش - افزایش - انبساطی

(۳) الف) سیاست پولی انقباضی - فروش اوراق مشارکت، (ب) بیشتر - عده محدودی از تقاضاکنندگان که حاضرند قیمت بالاتری بپردازند، می‌توانند کالا را تصاحب کنند. (ج) کاهش - افزایش - انبساطی

(۴) الف) سیاست پولی انبساطی - خرید اوراق مشارکت، (ب) کمتر - همه تولیدکنندگان موفق به فروش کالای خود نمی‌شوند و حاضرند قیمت را پایین آورند. (ج) افزایش - کاهش - انقباضی

۵۸- در جامعه‌ای در مدت یک‌سال کالاهایی مطابق جدول زیر تولید شده است. «تولید ناخالص داخلی» چند ریال است؟

نام کالا	قیمت (به ریال)
مواد غذایی	۳۰,۰۰۰
پوشاک	۲۰۰,۰۰۰
لوازم التحریر	۵۰,۰۰۰
ماشین آلات	۴,۰۰۰,۰۰۰

(۱) ۳,۸۲۰,۰۰۰

(۲) ۴,۲۸۰,۰۰۰

(۳) ۴,۸۲۰,۰۰۰

(۴) ۳,۲۸۰,۰۰۰

۵۹- کدام گزینه در ارتباط با خرید هوشمندانه و خرید مقایسه‌ای نادرست است؟

(۱) مرحله پنجم خرید مقایسه‌ای، تصمیم‌گیری است.

(۲) منظور از خرید هوشمندانه، فرآیند بررسی قیمت‌ها و ویژگی‌های محصولات مشابه قبل از تصمیم‌گیری برای خرید است.

(۳) در خرید مقایسه‌ای لازم است عوامل مختلفی از قبیل تفاوت در ویژگی‌ها، اندازه‌ها، کیفیت محصول، هویت محصول، عملکرد آن، قیمت و خدمات پس از فروش و ... در نظر گرفته شود.

(۴) عبارت «ممکن است پس‌انداز حاصل از خرید مقایسه‌ای، به ویژه برای اقلام با قیمت پایین، کمتر از هزینه‌های زمان، بنزین یا سایر هزینه‌های دیگر برای کسب اطلاعات باشد.» به یکی از معایب خرید مقایسه‌ای اشاره دارد.

۶۰- کدام گزینه از مزایای حساب‌های سپرده سرمایه‌گذاری کوتاه‌مدت است؟

(۱) نرخ سود این سپرده‌ها تا پایان دوره قرارداد تغییری نمی‌کند.

(۲) اگر نرخ سود عمومی افزایش یابد، سود این حساب‌ها در حد توافق شده باقی می‌ماند.

(۳) نرخ سود این سپرده‌ها می‌تواند هم‌زمان با افزایش نرخ سود عمومی بانک‌ها افزایش یابد.

(۴) این سپرده‌ها سود بالاتری دریافت می‌کنند.

آزمون « آشنا »

پاسخ دادن به این سوالات اجباری است و در تراز کل شما تأثیر دارد.

۶۱- با توجه به اطلاعات زیر که مربوط به یک بنگاه اقتصادی است، کدام گزینه در خصوص عملکرد مالی سالانه این بنگاه صحیح است؟

خرید مواد اولیه مورد نیاز سالیانه: ۴۰۰ میلیون تومان

پول آب و برق و گاز و عوارض شهرداری و مالیات سالیانه: ۶۵۰ میلیون تومان

دستمزد ماهیانه هر کارگر: ۲ میلیون تومان (مجموعاً ۱۰ کارگر)

درآمد سالیانه: ۳ میلیارد تومان

(۱) ۲,۴۵۰ میلیون تومان سود

(۲) ۱,۷۱۰ میلیون تومان سود

(۳) ۲,۴۵۰ میلیون تومان ضرر یا زیان

(۴) ۱,۷۱۰ میلیون تومان ضرر یا زیان

۶۲- چند مورد از عبارتهای زیر نادرست است؟

الف) تصمیم‌گیری منطقی، فقط از مقایسه منافع و هزینه‌ها به دست می‌آید.

ب) هزینه‌های دررفته، همان هزینه‌هایی هستند که دیگر رفته‌اند و قابل برگشت نیستند. این هزینه‌ها روی تصمیم شما تأثیر می‌گذارند.

پ) دانش اقتصاد علاوه بر انتخاب‌های شخصی با انتخاب‌های اجتماعی نیز مواجه است.

ت) کارآفرینان در جست‌وجوی فعالیت‌های سودآور، عوامل تولید شامل نیروی کار، سرمایه‌ها و منابع طبیعی را گرد هم می‌آورند تا با

تولید کالاها و خدمات، نیازها و خواسته‌های دیگران را برآورده کنند و از این محل کسب درآمد کنند.

(۱) چهار (۲) سه (۳) دو (۴) یک

۶۳- یک کارخانه کوچک در استان یزد به تولید مواد شوینده و مواد ضدعفونی کننده می‌پردازد. با توجه به منحنی مرز امکانات تولید این

کارخانه، زمانی که ۵۰۰ تن مواد شوینده تولید می‌شود، تولید مواد ضدعفونی ۵۰ تن خواهد بود و با تولید ۶۵۰ تن مواد شوینده

امکانات برای تولید ۲۰ تن مواد ضدعفونی کننده خواهد بود. با فرض اینکه قیمت هر تن مواد شوینده ۳۰۰ هزار تومان و هر تن مواد

ضدعفونی کننده ۱ میلیون تومان باشد، میزان هزینه فرصت افزایش ۱۵۰ تن تولید مواد شوینده چند تومان است؟

(۱) ۳۰ میلیون تومان مواد ضدعفونی کننده‌ای که از تولید آن صرف‌نظر شده است.

(۲) ۴۵ میلیون تومان مواد شوینده‌ای که تولید می‌شود.

(۳) ۴۵ میلیون تومان مواد ضدعفونی کننده‌ای که از تولید آن صرف‌نظر شده است.

(۴) ۳۰ میلیون تومان مواد ضدعفونی کننده‌ای که تولید می‌شود.

۶۴- با توجه به اطلاعات داده شده در جدول زیر که میزان تولید غذا و پوشاک را در دو کشور «الف» و «ب» نشان می‌دهد، کدام رابطه

تجاری بین دو کشور توجیه اقتصادی دارد؟ (هر دو کشور به یک اندازه از نیروی کار، سرمایه و دانش فنی برخوردارند.)

کشورها	کالاها	غذا	پوشاک
		(اگر همه عوامل تولید را با اشتغال کامل برای تولید غذا به کار بگیرند.)	(اگر همه عوامل تولید را با اشتغال کامل برای تولید پوشاک به کار بگیرند.)
الف		۷۰۰ واحد	۶۰۰ واحد
ب		۵۰۰ واحد	۴۵۰ واحد

(۱) براساس اصل مزیت نسبی، کشور «الف» هر دو کالا را از کشور «ب» وارد کند.

(۲) براساس اصل مزیت نسبی، کشور «ب» غذا را در داخل تولید کند و پوشاک را از کشور «الف» وارد کند.

(۳) براساس اصل مزیت مطلق، کشور «الف» غذا را در داخل تولید کند و پوشاک را از کشور «ب» وارد کند.

(۴) براساس اصل مزیت مطلق، کشور «ب» هر دو کالا را تولید کند.

۶۵- در سرشماری از یک منطقه، کل جمعیت ۷۵۰ نفر و جمعیت افراد کمتر از ۱۵ سال ۲۲۰ نفر بوده است. ترکیب جمعیت ۱۵ ساله و

بالاتر در این منطقه (از نظر وضع فعالیت) به صورت جدول زیر است:

شرح	خانه‌دار و سایر افرادی که دنبال کار نمی‌گردند	دانشجویان و دانش‌آموزان	جمعیت بیکار	جمعیت شاغل	جمع
تعداد	۱۷۵	۱۸۰	۲۵	۱۵۰	۵۳۰

الف) نرخ بیکاری در این منطقه چند درصد است؟

ب) جمعیت غیرفعال چند نفر است؟

$$(۲) ۱۷۵ - ۱۵$$

$$(۱) ۵۷۵ - ۱۴/۲۸$$

$$(۴) ۳۵۵ - ۱۴/۲۸$$

$$(۳) ۳۵۵ - ۱۵$$

۶۶- کدام گزینه مشتمل پاسخ صحیح و کامل سؤالات زیر است؟ (به ترتیب)

الف) در عصر «...» دولت با هدف ایجاد توسعه «...» به اجرای طرح‌های عمرانی متعدد در کشور پرداخت.

ب) در دوره «...» دولت به‌عنوان کارفرمای بزرگ در عرصه اقتصاد ظاهر شد و نظام نوینی در «...» ایران پدید آمد.

ج) ویژگی عمده دوره «...»، جدا شدن اقتصاد ایران از ابعاد هویتی، فرهنگی، اجتماعی، تاریخی و دینی خود بود.

د) اعطای امتیاز به شرکت‌ها و کشورهای استعماری، تأسیس بانک‌های روسی و انگلیسی در دوره «...» در ایران شکل گرفت.

(۱) پهلوی، نمایشی - پهلوی، بودجه‌بندی و مالیات ستانی - پهلوی - قاجار

(۲) قاجار، نمایشی - قاجار، ساختار مالیات و تأمین بودجه - پهلوی - قاجار

(۳) پهلوی، اساسی - صفویه، بودجه‌بندی و مالیات ستانی - پهلوی - صفویه

(۴) قاجار، اساسی - پهلوی، ساختار مالیات و تأمین بودجه - قاجار - پهلوی

۶۷- اطلاعات فرضی جدول زیر بیانگر وضعیت توزیع درآمد ایران در سال ۱۳۹۰ شمسی براساس شاخص دهک‌هاست. اگر اختلاف سهم دهک اول و دهک چهارم ۲ درصد باشد، تفاوت سهم دهک ششم و هشتم ۶ درصد باشد و تفاوت سهم دهک هشتم و دهم ۳۸ درصد باشد، به ترتیب از راست به چپ، سهم دهک دوم، چهارم، هشتم و دهم چند درصد است؟

جدول وضعیت توزیع درآمد ایران در سال ۱۳۹۰ شمسی	
سهم دهک اول	۲٪
سهم دهک دوم	؟
سهم دهک سوم	۳/۵٪
سهم دهک چهارم	؟
سهم دهک پنجم	۴/۵٪
سهم دهک ششم	۴/۵٪
سهم دهک هفتم	۸/۵٪
سهم دهک هشتم	؟
سهم دهک نهم	۱۰/۵٪
سهم دهک دهم	؟
۱۰۰ درصد جمعیت کشور	۱۰۰ درصد درآمد ملی

$$(۲) \quad ۵۰ - ۹/۵ - ۴/۲۵ - ۲/۵$$

$$(۱) \quad ۴۸/۵ - ۱۰/۵ - ۴ - ۳/۵$$

$$(۴) \quad ۵۰ - ۱۰/۵ - ۴/۲۵ - ۲/۵$$

$$(۳) \quad ۴۸/۵ - ۹/۵ - ۴ - ۳/۵$$

۶۸- جدول زیر مربوط به مخارج، درآمد و پس‌انداز دو فرد A و B در طول یک سال است. با توجه به این جدول:

نوع فعالیت	به میلیون تومان	
	A	B
درآمد	۳۵	۳۷
خدمات	۲/۴	۲/۸۵
قبوض	۱/۷۵	۲/۲۵
غذا	۲	۳/۷۵
حمل و نقل	۳/۶۵	۱/۲۵
پوشاک	۱/۱۵	۱/۸۵
تفریحات	۱/۵	۱/۶۵
پس‌انداز	؟	؟

الف) کدام فرد بیشترین میزان هزینه را دارد؟

ب) کدام فرد بیشترین میزان پس‌انداز را دارد؟

(۴) B - B

(۳) A - A

(۲) A - B

(۱) B - A

۶۹- فرد A روزهای زوج به صورت پاره‌وقت در کارگاه کفافی کار می‌کند و ۸۰ هزار تومان در هفته به دست می‌آورد. او هر هفته ۳۵ هزار تومان در سپرده بانکی‌اش پس‌انداز می‌کند و هفته‌ای ۳۰ هزار تومان هم به خیریه می‌دهد و هفته‌ای ۱۰ هزار تومان برای خوراکی و سرگرمی خرج می‌کند. اخیراً این فرد به ورزش بسکتبال علاقه‌مند شده است. کلاس بسکتبال در یک بوستان محلی ۴۰۰ هزار تومان هزینه دارد و از شش هفته آینده شروع می‌شود.

الف) آیا ثبت نام در کلاس بسکتبال یک هدف کوتاه‌مدت، میان‌مدت و یا بلند مدت است؟

ب) اگر این فرد به خرج کردن و پس‌انداز کردن معمولش ادامه بدهد، آیا خواهد توانست پول کافی پس‌انداز کند تا بتواند در کلاس ثبت‌نام کند؟

(۴) میان‌مدت - خیر

(۳) کوتاه‌مدت - بله

(۲) میان‌مدت - بله

(۱) کوتاه‌مدت - خیر

۷۰- نظام‌های بیمه در کشورهای مختلف اغلب به نظام بیمه‌های ... و ... تقسیم‌بندی می‌شوند. نظام بیمه تعاونی شامل بیمه‌های ... و ... است.

(۱) فعالیت‌های اقتصادی - درمان و زندگی - اتکالی - اجتماعی - تعاونی

(۲) فعالیت‌های اقتصادی - درمان و زندگی - اتکالی - متقابل - تکافل

(۳) اجتماعی - تعاونی - بازرگانی - بازرگانی - سلامت

(۴) اجتماعی - تعاونی - بازرگانی - متقابل - تکافل

علوم و فنون ادبی [۱]

مباحث کل کتاب

صفحه ۱۳ تا ۱۰۶

وقت پیشنهادی: ۲۵ دقیقه

هدف‌گذاری قبل از شروع هر درس در دفترچه سؤال

لطفاً قبل از شروع پاسخ‌گویی به سؤال‌های درس علوم و فنون ادبی (۱)، هدف‌گذاری چند از ۱۰ خود را بنویسید:
از هر ۱۰ سؤال به چند سؤال می‌توانید پاسخ صحیح بدهید؟
عملکرد شما در آزمون قبل چند از ۱۰ بوده است؟
هدف‌گذاری شما برای آزمون امروز چیست؟

چند از ۱۰ آزمون قبل	هدف‌گذاری چند از ۱۰ برای آزمون امروز

۷۱- چند مورد از موارد زیر، با عبارت داخل پرانتز هماهنگ است؟

(الف) فارسی دری (قدیمی‌ترین گروه از گروه زبان‌های ایرانی به‌شمار می‌رود).

(ب) اوستا (در دوره ساسانیان به نگارش در آمد).

(ج) درخت آسوریک (در قالب نظم است و اصل پارتی دارد).

(د) کلילה و دمنه (اصل کتاب به زبان پهلوی از میان رفته اما ترجمه عربی و فارسی آن باقی مانده است).

(ه) نامه شاهان هخامنشی (به خط میخی نوشته شده است).

(و) زبان فارسی میانه (به دو گروه «دری» و «پهلوی» تقسیم می‌شود).

(۱) دو (۲) چهار (۳) پنج (۴) یک

۷۲- با توجه به وضعیت شعر و شاعری در سده‌های پنجم و ششم هجری، کدام گزینه نادرست است؟

(۱) تحولی که سنایی و انوری در غزل ایجاد کردند، باعث شد که در قرن هفتم، شاعران بزرگی در غزل ظهور کنند.

(۲) تا حدود نیمه دوم قرن پنجم و آغاز قرن ششم، شعر پارسی همچنان تحت تأثیر سبک دوره سامانی و غزنوی است.

(۳) سبک شعر در نیمه دوم قرن ششم و اوایل قرن هفتم متحول شد و عمدتاً با شیوه شاعری پیش از آن، متمایز گردید و مقدمه ظهور سبک هندی در شعر فارسی شد.

(۴) از ویژگی‌های شعر فارسی در این دوره، تأثیرپذیری برخی از شاعران از ادبیات عرب و مضامین شعری آن است.

۷۳- همه آرایه‌های «سجع، واژه‌آرایی، جناس و واج‌آرایی» در کدام بیت دیده می‌شود؟

(۱) ای رستخیز ناگهان، وی رحمت بی‌منتها / ای آتشی افروخته در بیشه اندیشه‌ها

(۲) خورشید را حاجب تویی، امید را واجب تویی / مطلب تویی، طالب تویی، هم منتها، هم مبتدا

(۳) در سینه‌ها برخاسته، اندیشه را آراسته / هم خویش حاجت خواسته، هم خویشان کرده روا

(۴) می‌مال پنهان گوش جان، می‌نه بهانه بر کسان / جان ربّ خلصنی زنان والله که لاغ (بازی، شوخی) است ای کیا

۷۴- کدام بیت دارای آرایه «ترصیع» است؟

(۱) کار عشق از وصل و هجران درگذشت / درد ما از دست درمان درگذشت

(۲) من ز آب دیده نامه نوشتم هزار فصل / او ز آب دوده یک رقم از من دریغ داشت

(۳) لعلت اندر سخن شکر خایید / رویت انگشت بر قمر خایید

(۴) بیابان و کهنسار و راغ آفریدی / خیابان و گلزار و باغ آفریدی

۷۵- تعداد اشتباهات خطّ عروضی بیت زیر در کدام گزینه آمده است؟

«هر ساعت از نو قبله‌ای با بت پرستی می‌رود / توحید بر ما عرضه کن تا بشکنیم اصنام را
هر ساعت از نو قبله‌ای با بت پرستی می‌رود / توحید بر ما عرضه کن تا بشکنیم اصنام را»

(۱) دو (۲) چهار (۳) یک (۴) سه

۷۶- ویژگی سبکی کدام بیت در برابر آن نادرست آمده است؟

- (۱) تنش پُر نگار از کران تا کران / چو داغ گل سرخ بر زعفران (استفاده از تشبیه حسی)
- (۲) بغرید رستم چو شیر ژیان / از آواز او خیره شد مادیان (شعر حماسی است)
- (۳) هم به هر گه دوستی جویمش من / هم سخن به آهستگی گویمش من (استفاده از دو نشانه برای یک مضمون)
- (۴) ترنج بیدار اندر شده به خواب گران / گل غنوده برانگیخته سر از بالین (استفاده از لغت کهنه و مهجور)

۷۷- قاعده قافیه در مقابل کدام بیت غلط نوشته شده است؟

- (۱) آن کس که ز شهر آشنایی است / داند که متاع ما کجایی است (قاعده ۱)
- (۲) غرید به شکل نره دیوی / برداشت چو غافلان غریوی (قاعده ۲)
- (۳) گردد شب و روز بیت‌گویان / آن غالیه را زیاد جویان (قاعده ۱)
- (۴) و گر شد قطره‌ای آب سبویت / بسا دجله که سر دارد به جویت (قاعده ۲)

۷۸- قافیه کدام بیت براساس «قاعده یک» نیست؟

- (۱) ای پادشه خوبان داد از غم تنهایی / دل بی‌تو به جان آمد وقت است که بازایی
- (۲) ای سرو که بی سایه چنین سر به هوایی / در پای تو هرگز نرسیدم به نوایی
- (۳) زهی خورشید را داده رخ تو حسن و زیبایی / در لطف تو کس بر من نبندد گر تو بگشایی
- (۴) ناگه آشفته جوانی دیدم / نی جوان سوخته‌جانی دیدم

۷۹- با توجه به عبارت زیر، کدام گزینه در قلمرو تحلیل زبانی متن به درستی بیان نشده است؟

«کلیله گفت: هول ارتکابی کردی و این غدر و غمز را مداخلتی نیک باریک جستی، ملک را خیانتی عظیم روا داشتی و ایمن نتوان بود که ساعت به ساعت به وبال آن، مأخوذ شوی و تبعات آن به تو رسد. هیچ‌کس از وحوش تو را در آن معذور ندارد و در تخلص تو از آن مظاهرت روا نبیند.»

- (۱) به کار بردن واژگان عربی بسیار در متن
- (۲) به کار بردن واژگانی با ساختمان ساده
- (۳) به کار بردن افعال به صورت دستور تاریخی در افعال «جستی»، «روا داشتی»
- (۴) به کار بردن واژه «نیک» در معنای «بسیار»

۸۰- با توجه به عبارت زیر، کدام گزینه درست است؟

«چون شاه سیارگان به افق مغربی خرامید و جمال جهان‌آرای را به نقاب ظلام بیوشانید؛ سپاه زنگ به غیبت او بر لشکر روم غالب گشت و شبی چون کار عاصی روز محشر در آمد. باد شمال عنان کشیده و رکاب گران کرده بر بوزینگان شبیخون آورد.»

- (۱) این متن توصیف حرکت لشکر روم برای تصرف سرزمین زنگیان است.
- (۲) این متن چگونگی تبدیل روز به شب را توصیف کرده است.
- (۳) این متن چگونگی حمله اعراب مسلمانان بر رومیان را توضیح داده است.
- (۴) این متن پیام‌آوری باد شمال برای بوزینگان را توضیح داده است.

آزمون «آشنا»

پاسخ دادن به این سوالات اجباری است و در تراز کل شما تأثیر دارد.

۸۱- حسن و حال و هماهنگی وزن و درون‌مایه، در کدام بیت بیانگر شادی و نشاط شاعرانه است؟

- ۱) دو یار زیرک و از باده کهن دو منی / فراغتی و کتابی و گوشه چمنی
- ۲) آنان که خاک را به نظر کیمیا کنند / آیا بود که گوشه چشمی به ما کنند
- ۳) یاری اندر کس نمی‌بینیم یاران را چه شد؟ / دوستی کی آخر آمد دوستداران را چه شد؟
- ۴) آب زیند راه را هین که نگار می‌رسد / مژده دهید باغ را بوی بهار می‌رسد

۸۲- کدام گزینه در شعر قرن چهارم و اوایل قرن پنجم رواج نداشت؟

- ۱) شعر حماسی
- ۲) شعر مدحی یا مدیحه‌سرایی
- ۳) شعر حکمی و اندرزی
- ۴) شعر صوفیانه و عارفانه

۸۳- تقطیع هجایی کدامیک از مصراع‌های زیر درست است؟

- ۱) سرمست کسی باشد کو خود خبرش نبود: سَر / مَس / اَت / ک / اَسِ / اِ / بَا / شَد / کُو / اِ / خُو / اِ / د / اِ / خَ / اَبَ / اَرَشَ / اِنَ / اِ / بُوَد
- ۲) باز این دل دیوانه زنجیر همی بُرد: بَا / ز / اِ / اِیْنُ / اِ / دِ / اِلِ / اِ / دِی / اِ / وَا / اِنِ / اِ / زَّ / نِ / جِیَ / اِ / رَ / اِ / هَ / اِ / مِی / اِ / بُ / اَرَد
- ۳) کوه‌ها را ز تجلی همه چون طور کنیم: کُو / هَ / اِ / هَا / اِ / رَا / اِ / زِ / تَ / جَلِ / اِ / لِی / اِ / هَ / اِ / مِ / اِ / چُنِ / اِ / طُو / رِ / اِ / کُ / اِ / نِیْم
- ۴) چون تیر همی پرد از قوس تنم جانم: چوْن / اِ / تِیْر / اِ / هَ / اِ / مِی / اِ / پَر / اَرَد / اِ / زِ / اِ / قُو / سِ / اِ / تَنَمِ / اِ / جَا / نَمِ

۸۴- نوع سجع به‌کار رفته در همه گزینه‌ها به‌جز عبارت ... یک‌سان است.

- ۱) یکی را لاله و ورد سزاوار است و دیگری را ناله و درد.
- ۲) عاقل چون خلاف اندر میان آید بجهد و چون صلح بیند لنگر بنهد.
- ۳) خردمندی را که در زمره اجلاف سخن بندد، شگفت مدار که آواز بریط با غلبه دهل بر نیاید.
- ۴) اسب فصاحت در میدان وقاحت جهانید و بر من دوانید.

۸۵- با توجه به سبک عبارت‌های گزینه‌ها، «حذف افعال به قرینه» و «طناب» می‌تواند جزء ویژگی‌های کدامیک باشد؟

- ۱) بفرمود تا خداوندان کتب را، از دهقانان و فرزنانگان و جهاندیدگان از شهرها بیاورد و چاکر او به فرمان او نامه کرد و کس فرستاد به شهرهای خراسان و هشیاران از آنجا بیاورد.
- ۲) سپاس و آفرین مر خدای کامران و کامکار و آفریننده زمین و آسمان را آن کش نه همتا و نه انباز و نه دستور و نه زن و نه فرزند. همیشه بود و همیشه باشد.
- ۳) شب به حقیقت بودن ماست اندر تاریکی سایه زمین، چون آفتاب از ما غایب باشد زیر افق؛ و چون نزدیک آمد، به برآمدن آن شعاع‌های او را که گرد بر گرد سایه است نخست ببینیم.
- ۴) دیگر روز به درگاه آمدی و با خلعت نبود، که بر عادت روزگار گذشته قبایی ساخته کرد و دستاری نشابوری یا قاینی، که این مهتر را رضی الله عنه با این جامه‌ها دیدندی به روزگار و از ثقات او شنیدم ...

۸۶- در کدام گزینه به‌ترتیب، دو نمونه نثر از دوره غزنوی و سلجوقی و دو نمونه نثر از دوره سامانی آورده شده است؟

- ۱) کشف‌المحجوب - تاریخ بیهقی - ترجمه تفسیر طبری - التفهیم
- ۲) قابوس‌نامه - تاریخ بلعمی - سفرنامه ناصر خسرو - ترجمه تفسیر طبری
- ۳) کیمیای سعادت - قابوس‌نامه - تاریخ بیهقی - تاریخ بلعمی
- ۴) سفرنامه ناصر خسرو - سیاست‌نامه - کیمیای سعادت - کشف‌المحجوب

۸۷- آرایه‌های مقابل همه ابیات به جز بیت گزینۀ ... تماماً درست نوشته شده است.

- (۱) سخن دراز کشیدیم و همچنان باقی است / حدیث دلبر فتان و عاشق مفتون (تشبیه)
- (۲) ای چشم تو مست خواب و سرمست شراب / صاحب‌نظران تشنه و وصل تو سراب (واج‌آرایی)
- (۳) در کف ندارم سنگ من با کس ندارم جنگ من / با کس نگیرم تنگ من زیرا خوشم چون گلستان (سجع)
- (۴) کلاه سعادت یکی بر سرش / گلیم شقاوت یکی در برش (موازنه)

۸۸- نثر کدام گزینه را می‌توان منسوب به خواجه عبدالله انصاری دانست؟

- (۱) هم در اول شب خود را به شکل و زئی او برآورد و شمعی خرد با مفاتیح که برای گشادن در دکان مُعد بود، در آستین نهاد.
- (۲) پس ابراهیم بیرون آمد از میان آتش به سلامت و آن تخت و حوض آب ناپدید شد، به جای خویش رفتند به بهشت.
- (۳) و رفتن به حج تا آنگاه که خلعت مصری بگرفت و ضرورت ستدن و از موصل راه گردانیدن و به بغداد باز نشدن و خلیفه را به دل آمدن که مگر امیرمحمود فرموده است، همه به تمامی شرح کردم.
- (۴) چون شکیبایی در شریعت از پسندیدگی نشان است و ناشکیبایی در حقیقت عین فرمان است، میان این و آن رهی را با تو چه برهان است؟

۸۹- همه ابیات کدام گزینه «جناس ناهمسان افزایشی» دارند؟

- (الف) بزد نیزه و برگرفتش ز زین / بینداخت آسان به روی زمین
- (ب) میان عاشق و معشوق فرق بسیار است / چو یار ناز نماید شما نیاز کنید
- (ج) اگر تو فارغی از حال دوستان یارا / فراغت از تو میسر نمی‌شود ما را
- (د) سر جانان ندارد هر که او را خوف جان باشد / به جان گر صحبت جانان برآید، رایگان باشد
- (ه) شد چمان در چمن حسن و لطافت لیکن / در گلستان وصالش نچمیدیم و برفت

- (۱) ب، ج، ه (۲) الف، ب، د (۳) الف، ب، ه (۴) ج، د، الف

۹۰- نوع آرایه نسبت داده شده به کدام بیت نادرست است؟

- (۱) دو پاکیزه پیکر چو حور و پری / چو خورشید و ماه از سدیگر بری (تشبیه، جناس ناهمسان)
- (۲) رعیت درخت است اگر پروری / به کام دل دوستان بر خوری (تناسب، تشبیه)
- (۳) بر این چشمه چون ما بسی دم زدند / برفتند چون چشم بر هم زدند (جناس ناهمسان، کنایه)
- (۴) نه تدبیر محمود و رای نکوست / که دشمن نداند شهنشه ز دوست (تضاد، استعاره)

منطق

مباحث کل کتاب

صفحة ۳۳ تا ۳۳

وقت پیشنهادی: ۵۰ دقیقه

هدف‌گذاری قبل از شروع هر درس در دفترچه سؤال

لطفاً قبل از شروع پاسخ‌گویی به سؤال‌های درس منطق، هدف‌گذاری چند از ۱۰ خود را بنویسید:
از هر ۱۰ سؤال به چند سؤال می‌توانید پاسخ صحیح بدهید؟
عملکرد شما در آزمون قبل چند از ۱۰ بوده است؟
هدف‌گذاری شما برای آزمون امروز چیست؟

چند از ۱۰ آزمون قبل	هدف‌گذاری چند از ۱۰ برای آزمون امروز

۹۱- کدام گزینه شکل دوم قیاس اقترانی است؟

- (۱) هر انسانی حیوان است؛ هر حیوانی نیازمند اکسیژن است.
(۲) هر حیوانی جاندار است؛ بعضی مهره‌داران حیوان هستند.
(۳) هر حیوانی جاندار است؛ بعضی حیوان‌ها آبری هستند.
(۴) هیچ سربازی بی‌سلاح نیست؛ هر غیرنظامی بی‌سلاح است.

۹۲- نوع مغالطه لفظی در کدام گزینه متفاوت است؟

- (۱) چون ازو گشتی همه چیز از تو گشت.
(۲) او همکار بیست ساله من است.
(۳) برادر که در بند خویش است نه برادر نه خویش است.
(۴) پلنگ به دنبال آهو بود که شکارچی به طرف آن شلیک کرد.

۹۳- کدام یک از قضایای منفصل زیر، با بقیه متفاوت است؟

- (۱) عدد یا زوج است یا فرد.
(۲) گروه خونی او یا A^+ است یا O^- .
(۳) فردا یا سه‌شنبه است یا چهارشنبه.
(۴) در بازی فوتبال یا تیم الف برنده می‌شود یا تیم ب.

۹۴- کدام گزینه درباره تعریف و استدلال صحیح می‌باشد؟

- (۱) به کمک استدلال از تصورات معلوم به تصورات مجهول می‌رسیم.
(۲) به کمک تعریف از تصدیق‌های معلوم به تصدیق‌های مجهول می‌رسیم.
(۳) به کمک استدلال از تصورات معلوم به تصدیق‌های مجهول می‌رسیم.
(۴) به کمک تعریف از تصورات معلوم به تصورات مجهول می‌رسیم.

۹۵- در کدام گزینه، امکان ایجاد مغالطه ابهام در مرجع ضمیر وجود ندارد؟

- (۱) پتو را از رویش کشیدم و تکانش دادم.
(۲) دوستم را در حال عبور از خیابان دیدم.
(۳) او را خود التفات نبودی به صید من
(۴) دوستم خواهر درس‌خوانی دارد و بسیار موفق است.

۹۶- پیش از پرداختن به مباحث کدام گزینه، ذکر نکاتی پیرامون مفاهیم و الفاظ ضروری است؟

- (۱) استفاده از واکنش‌های ساخت ایران، به علت اعتماد بیشتر مناسب‌تر است.
- (۲) پرداختن به ورزش‌هایی هم‌چون یوگا در کاهش عوارض روانی پس از بیماری کرونا مؤثر است.
- (۳) استفاده از داروهای شیمیایی به علت اثبات اثربخشی آنها، نسبت به داروهای گیاهی در از بین بردن عوارض تنفسی بسیار بهتر است.
- (۴) کرونا ویروسی است که بدن انسان در برابر آن مقاومت بسیار کمی دارد و به وسیله سرفه و قطرات تنفسی منتقل می‌شود.

۹۷- در استقرای تعمیمی زیر، کدام نکته برای استقرای تعمیمی قوی رعایت نشده است؟

«در یک تحقیق برای بررسی علت افت تحصیلی دانش‌آموزان در دوران آموزش مجازی در ۷ استان کشور، از دانش‌آموزان تهرانی

نظرسنجی شده است.»

- (۱) نمونه‌ها باید تصادفی باشند.
- (۲) نمونه‌ها باید متفاوت باشند و بیانگر طیف‌های مختلف باشند.
- (۳) تعداد نمونه‌ها باید نسبت به کل جامعه آماری نسبت مناسبی داشته باشند.
- (۴) همه شرایط استقرای تعمیمی قوی رعایت شده است.

۹۸- کدام یک از قضایای زیر، از لحاظ سور با بقیه متفاوت است؟

- (۱) هر انسانی ناطق است.
- (۲) هیچ مسلمانی حرام‌خواری نمی‌کند.
- (۳) هر کسی که قدرت زیادی دارد، محق نیست.
- (۴) در هیچ سری نیست که سری ز خدا نیست.

۹۹- گزاره «هر الف ب است» با گزاره‌های زیر، چه ارتباطی دارد؟

- الف) بعضی ب الف است.
- ب) هیچ الف ب نیست.

- (۱) عکس مستوی - تضاد
- (۲) تداخل - تناقض
- (۳) تداخل - تضاد
- (۴) عکس مستوی - تناقض

۱۰۰- کدام یک از گزینه‌های زیر، اشاره‌ای به تفاوت‌های مهم میان متفکر نقاد و غیرنقاد ندارد؟

- (۱) ایجاد سؤال در ذهن مخاطب
- (۲) جدی گرفتن فرایند تفکر
- (۳) پرسیدن سؤالات درست و به‌جا
- (۴) توجه آگاهانه به تفکر