



سال دهم انسانی

۸ بهمن ماه ۱۴۰۰

دفترچه سؤال

تعداد سوالات و زمان پاسخگویی آزمون:

نام درس	تعداد سؤال	شماره سؤال	وقت پیشنهادی
فارسی و نگارش (۱)	۱۰	۱-۱۰	۱۵
عربی (باز قرآن (۱)	۱۰	۱۱-۲۰	۱۵
دین و زندگی (۱)	۱۰	۲۱-۳۰	۲۰
دین و زندگی (۱) (شاهد گواه)	۱۰	۳۱-۴۰	
(باز انگلیسی (۱)	۱۰	۴۱-۵۰	۱۵
ریاضی و آمار (۱)	۱۰	۵۱-۶۰	۱۵
اقتصاد	۱۰	۶۱-۷۰	۲۰
اقتصاد (شاهد گواه)	۱۰	۷۱-۸۰	
علوم و فنون ادبی (۱)	۱۰	۸۱-۹۰	۱۵
تاریخ (۱) ایران و جهان باستان	۱۰	۹۱-۱۰۰	۱۰
مضامین ایران	۱۰	۱۰۱-۱۱۰	۱۰
جامعه‌شناسی (۱)	۱۰	۱۱۱-۱۲۰	۱۰
منطق	۱۰	۱۲۱-۱۳۰	۱۵
جمع کل	۱۳۰	۱-۱۳۰	۱۶۰ دقیقه

طراحان به ترتیب حروف الفبا:

فارسی و نگارش (۱)	عبدالحمید رزاقی، محسن فدایی، افشین کیانی
عربی (باز قرآن (۱)	بهزاد جهان بخش، مرضی کاظم شیرودی، محمدعلی کاظمی نصرآبادی، خالد مشیربناهی، فاطمه منصورخاکی، رضا معصومی، رضا یزدی
دین و زندگی (۱)	محسن بیاتی، علیرضا ذوالفقاری زحل، مرتضی محسنی کبیر، احمد منصوری
(باز انگلیسی (۱)	رحمت‌الله استیری، مهدی شیرافکن، علی عاشوری، ساسان عزیزنژاد
ریاضی و آمار (۱)	شهرام آموزگار، غلامرضا اکبری، علیرضا ابراهیمی حقیقی، مجید ایوبی نیا، محمد بحیرایی، هادی پلاور، هاشم زمانیان، فرهاد قائد حسینی، محمد کوردزی
اقتصاد	زهره رشوندی، فاطمه صفری، سیدمحمد مدنی دینانی
علوم و فنون ادبی (۱)	سعید جعفری، سمیه فان بیلی، افشین کیانی، محمد نورانی، اعظم نوری نیا
تاریخ (۱) ایران و جهان باستان	علی محمد کریمی، حبیبه محبی
مضامین ایران	محمدعلی پشار، حبیبه محبی
جامعه‌شناسی (۱)	پریسا ایزدی، مبیناسادات تاجیک، علیرضا رضایی، فاطمه صفری
منطق	بهروز پورشعید، مهسا عفتی، محمود فخری، فیروز نژادنجف

گزینشگران و ویراستاران به ترتیب حروف الفبا:

نام درس	مسئول درس	گزینشگر	ویراستار استاد	ویراستار دانشجو	مسئول درس‌های مستندسازی
فارسی و نگارش (۱)	امیرحسین رضافر	امیرحسین رضافر	الهام محمدی، فاطمه فوقانی	---	الناز متمدی
عربی (باز قرآن (۱)	فاطمه منصورخاکی	فاطمه منصورخاکی	درویشعلی ابراهیمی	---	مهدی یعقوبیان
دین و زندگی (۱)	زهره رشوندی	زهره رشوندی	سکینه گلشی	احمد منصوری	زهره قموشی
اهلیت‌های مذهبی	دبورا حاتائیان	دبورا حاتائیان	فاطمه رئیس‌زیدی	---	---
(باز انگلیسی (۱)	رحمت‌اله استیری	رحمت‌اله استیری	---	فاطمه تقدی، عقیل محمدی‌روش، پرهام تکوطلبان	سپیده جلالی
ریاضی و آمار (۱)	حمید زرین‌کنش	حمید زرین‌کنش	محمد بحیرایی	---	حسین اسدزاده
اقتصاد	آفرین ساجدی	آفرین ساجدی	---	علیرضا رضایی	زهره قموشی
علوم و فنون ادبی (۱)	اعظم نوری‌نیا	اعظم نوری‌نیا	---	فاطمه صفری	الناز متمدی
تاریخ (۱) ایران و جهان باستان	محدثه صفاری	محدثه صفاری	بهروز یحیی	---	ستایش محمدی
مضامین ایران	علیرضا رضایی	علیرضا رضایی	---	فاطمه صفری	زهره قموشی
جامعه‌شناسی (۱)	مهسا عفتی	مهسا عفتی	---	امیرکیا باقری، فرهاد علینژاد، احمد منصوری	

مدیر گروه	فاطمه منصورخاکی
مسئول دفترچه	فاطمه رئیس‌زیدی
مستندسازی و مطابقت با مصوبات	مدیر، مازیار شیروانی مقدم، مسئول دفترچه، مهدی یعقوبیان
حروف نگار و صفحه‌آرا	زهره تاجیک
نظارت چاپ	سوران نعیمی

گروه آزمون

بنیاد علمی آموزشی قلم‌چی (وقف عام)

آدرس دفتر مرکزی: خیابان انقلاب - بین صبا و فلسطین - پلاک ۹۲۳ - تلفن چهار رقمی: ۰۲۱-۶۴۶۳

۱۵ دقیقه

ستایش، ادبیات تعلیمی، ادبیات
پایداری، ادبیات غنایی،
ادبیات سفر و زندگی
صفحه ۱۰ تا صفحه ۷۱

هدف‌گذاری قبل از شروع هر درس در دفترچه سؤال

لطفاً قبل از شروع پاسخ‌گویی به سؤال‌های درس فارسی (۱)، هدف‌گذاری چند از ۱۰ خود را بنویسید:
از هر ۱۰ سؤال به چند سؤال می‌توانید پاسخ صحیح بدهید؟
عملکرد شما در آزمون قبل چند از ۱۰ بوده است؟
هدف‌گذاری شما برای آزمون امروز چیست؟

چند از ۱۰ آزمون قبل	هدف‌گذاری چند از ۱۰ برای آزمون امروز

۱- معنای واژه «تیمار» در همه ابیات با واژه «تیمار» در بیت زیر یکسان است، به‌جز گزینه ...

- | | |
|--|--|
| وقت شادی به نشینی، خود کند هر دشمنی | دوست آن باشد که با جان وقت تیمار ایستد |
| (۱) گرچه تیمار یابم از دوری | خواهم از خدمت تو دستوری |
| (۲) مرغکی عاشق آب است که بوتیمارش | نام از آن است که همواره بود با تیمار |
| (۳) مر این درد نه از پی زادن است | که این درد و تیمار جان دادن است |
| (۴) عاشقان چون ذره بسیارند و تو چون آفتابی | می‌توانی گر به لطفی جمله را تیمار داری |

۲- کدام بیت فاقد غلط املائی است؟

- | | |
|--|---------------------------------------|
| (۱) چه پیش آمد جان را که پس انداخت جهان را | بزن گردن آن را که بگوید که تصلاً |
| (۲) تو و طوبی و ما و قامت یار | فکر هر کس به غدر همت اوست |
| (۳) اگر از محنت غربت بمیرم جای آن دارد | که بهر چون تو بدخویی چرا ترک وطن کردم |
| (۴) بر آستان تو مشکل توان رسید عاری | عروج بر فلک سروری به دشواری است |

۳- چند مورد از گزاره‌های زیر نادرست آمده است؟

- (الف) «اتاق آبی» از سهراب سپهری و منظوم است.
(ب) «دیوار» و «قابوس‌نامه» به ترتیب از آثار جمال میرصادقی به نثر و از عنصرالمعالی کیکاووس به نظم است.
(ج) «ارزیابی شتاب‌زده» از جلال آل احمد و به نثر است.
(د) «گوشواره عرش» و «سیاست‌نامه» به ترتیب از آثار منثور سیدعلی موسوی گرمارودی و خواجه نظام‌الملک توسی است.

(۱) یک (۲) دو (۳) سه (۴) چهار

۴- همه «ک»ها در واژه‌های زیر بر تصغیر و کوچکی دلالت دارند، به‌جز گزینه ...

(۱) کمانک (۲) پیامک (۳) پفک (۴) قوزک

۵- در عبارات زیر، به ترتیب، «زمان افعال» کدام است؟

«این مطلب را داشته باشید و حالا سری به مدرسه‌ای که در آن تحصیل می‌کردم بزنیم.»

- | | |
|--|--|
| (۱) ماضی ساده، ماضی مستمر، مضارع التزامی | (۲) ماضی التزامی، ماضی مستمر، مضارع مستمر |
| (۳) ماضی مستمر، ماضی استمراری، مضارع مستمر | (۴) ماضی التزامی، ماضی استمراری، مضارع التزامی |

تمرین تستی آزمون بعدی: ۱۱۶ سؤال
کتاب جامع فارسی ۱ (۵۱۶۲)
سؤال‌های ۲۸۷ تا ۴۰۲

۶- آرایه‌های مشخص‌شده مقابل کدام بیت به‌درستی ذکر شده است؟

- (۱) ندانم از چه سبب رنگ آشنایی نیست
سهی قدان سیه‌چشم ماه‌سیما را (تشبیه - پارادوکس)
- (۲) چو دریای خون شد همه دشت و راغ
جهان چون شب و تیغ‌ها چون چراغ (استعاره - مجاز)
- (۳) ز سرو قد دلجویت مکن محروم چشمم را
بدین سرچشمه‌اش بنشان که خوش آبی روان دارد (استعاره - تشبیه)
- (۴) دست در حلقه آن زلف دوتا نتوان کرد
تکیه بر عهد تو و باد صبا نتوان کرد (مجاز - حس‌آمیزی)

۷- در کدام بیت، آرایه‌های «حس‌آمیزی» و «تشخیص» دقیقاً واژه‌هایی یکسان دارد؟

- (۱) بوی جان از لب خندان قدح (جام) می‌شنوم
بشنو ای خواجه اگر زان که مشامی داری
- (۲) صد می‌کده خون بیش کشیده است لب من
تا کار به رنگینی گفتار کشیده است
- (۳) ریشه دل‌بستگی در خاک این گلشن نبود
رفت گل هم در قفای ناله‌های عندلیب
- (۴) در جواب هر سؤالی حاجت گفتار نیست
چشم گویا عذر می‌خواهد لب خاموش را

۸- مفهوم همه گزینه‌ها به مفهوم بیت زیر نزدیک است به‌جز گزینه ...

- «هزاران قرن، عقل پیر در تاخت»
کمال ذره، زین راه نشناخت»
- (۱) بزرگ‌پیش ناید به وهم اندرون
نه اندیشه بشناسد او را که چون
- (۲) ز نام و نشان و گمان برتر است
نگارنده برشده گوهر است
- (۳) نتوان وصف تو گفتن که تو در وصف ننگی
نتوان شبه تو گفتن که تو در وهم نیایی
- (۴) ندارد راه فـکرم روشنایی
ز لطفت پرتوی دارم، گدایی

۹- مفهوم کدام گزینه با دیگر گزینه‌ها متفاوت است؟

- (۱) بر زمین ناید ز شادی پای ما چون گردباد
تا لباس خاکساری در بر ما کرده‌اند
- (۲) به بال و پر مرو از ره که تیر پرتایی
هوا گرفت زمانی ولی به خاک نشست
- (۳) تا نخوت سعادت بیرون رود ز مغزش
با سگ شریک روزی کردند ازان هما را
- (۴) به چشم کسان در نیاید کسی
که از خود بزرگی نماید بسی

۱۰- مفهوم کدام گزینه از دیگر گزینه‌ها دورتر است؟

- (۱) پیل فنا که شاه بقا مات حکم اوست
هم بر پیادگان شما نیز بگذرد
- (۲) بسیج راه کن، مسکین، درین منزل چه می‌باشی
امل را منتظر، چون هست اجل در انتظار تو
- (۳) گر اندام زمین را بازجویی
همه خاک زمین بودند گویی
- (۴) دل درین پیرزن عشوه‌گر دهر مبند
کاین عروسی است که در عقد بسی داماد است

۱۵ دقیقه

عربی، زبان قرآن (۱)
دوره نیمسال اول
ذاک هو الله
إتکم مسؤولون
مطر السمک
التعایش السلمی
صفحة ۱ تا صفحه ۴۶

هدف گذاری قبل از شروع هر درس در دفترچه سؤال

لطفاً قبل از شروع پاسخ گویی به سؤال های درس عربی، زبان قرآن (۱)، هدف گذاری چند از ۱۰ خود را بنویسید:
از هر ۱۰ سؤال به چند سؤال می توانید پاسخ صحیح بدهید؟
عملکرد شما در آزمون قبل چند از ۱۰ بوده است؟
هدف گذاری شما برای آزمون امروز چیست؟

هدف گذاری چند از ۱۰ برای آزمون امروز	چند از ۱۰ آزمون قبل
--------------------------------------	---------------------

■ عَيْنِ الْأَصْحَحِ وَالْأَدَقِّ فِي التَّرْجُمَةِ مِنْ أَوْ إِلَى الْعَرَبِيَّةِ أَوْ الْمَفْهُومِ: (۱۱-۱۵)

۱۱- «نحنُ قادرونَ على وصفِ تلكِ الشَّجرةِ ذاتِ الغصونِ النَّضرةِ ولكنَّا لا نستطيعُ أن نَصِفَ خالقها!»:

- ۱) ما قادر به توصیف آن درخت با شاخ و برگ های تازه اش هستیم، اما نخواهیم توانست که آفریننده آن را توصیف کنیم!
- ۲) ما می توانیم یک درخت دارای شاخه های تازه را به خوبی وصف نماییم، ولی نمی توانیم خالقش را توصیف کنیم!
- ۳) ما می توانیم آن درخت دارای شاخه های تر و تازه را توصیف کنیم، اما نمی توانیم خالقش را وصف کنیم!
- ۴) ما به توصیف آن درخت تر و تازه و شاخ و برگ هایش توانایییم، اما قطعاً از وصف آفریننده آن عاجزیم!

۱۲- «إِنَّ نَزُولَ الْمَطَرِ أَوْ التَّلُّجِ مِنَ السَّمَاءِ أَمْرٌ طَبِيعِيٌّ؛ وَلَكِنْ أَيْمُنُ يَوْمًا أَنْ تُمَطَّرَ السَّمَاءُ أَسْمَاكَ؟!»: بی گمان ...

- ۱) باریدن باران و برف از آسمان چیزی طبیعی است؛ اما آیا یک روز ممکن است که آسمان ماهی هایی را ببارد؟!
- ۲) باریدن باران یا برف از آسمان یک امر طبیعی است؛ ولی آیا روزی امکان دارد که آسمان ماهیانی را ببارد؟!
- ۳) بارش باران یا برف از آسمان امری طبیعی است؛ اما آیا روزی امکان دارد که از آسمان ماهی هایی باریده شود؟!
- ۴) بارش باران و برف از آسمان یک چیز طبیعی است؛ ولی آیا یک روز ممکن است که از آسمان ماهیانی ببارد؟!

۱۳- عَيْنِ الصَّحِيحِ:

- ۱) ﴿إِنَّ هَذِهِ أُمَّتُكُمْ أُمَّةً وَاحِدَةً وَأَنَا رَبُّكُمْ﴾: بی گمان امت شما، امتی یگانه است و من پروردگارتان هستم!
- ۲) يدعو العملاء الآخرين إلى إيجاد التفرقة و العدوان!: مزدوران، دیگران را به ایجاد تفرقه و دشمنی فرامی خوانند!
- ۳) يأمر القائد الشعب أن يدافعوا عن الوطن كجندٍ!: رهبر به ملت دستور داد که مانند یک سرباز از وطن دفاع کنند!
- ۴) سَكَّانُ هَذِهِ الْقَرْيَةِ يَعِيشُونَ مَعَ بَعْضِهِمْ وَ لَا يَصْرُونَ عَلَى نِقَاطِ خِلَافِهِمْ!: ساکنان این روستا با یکدیگر زندگی می کردند و بر نقاط اختلاف خود پافشاری نمی کردند!

۱۴- عَيْنِ الْخَطَأِ:

- ۱) قَالَتْ أُخْتِي: قَرَأْتُ مَرَّتَيْنِ سَبْعَ صَفَحَاتٍ مِنَ الْكِتَابِ السَّادِسِ!: خواهرم گفت: هفت صفحه از کتاب ششم را دو بار خواندم!
- ۲) تَعَوَّدْنَا عَلَى أَنْ نَتَنَاوَلَ عَدَاتِنَا فِي السَّاعَةِ الْوَاحِدَةِ وَ ثَلَاثِينَ دَقِيقَةً بَعْدَ الظُّهْرِ!: عادت کردیم که ناهارمان را ساعت یک و نیم بعد از ظهر بخوریم!
- ۳) يَا صَدِيقِي: هُنَاكَ عَدَّةُ مَسَائِلٍ مَجْهُولَةٍ فِي هَذِهِ الظَّاهِرَةِ الطَّبِيعِيَّةِ!: ای دوستم: آنجا تعدادی مسأله ای ناشناخته در این پدیده طبیعی وجود دارد!
- ۴) أَصَدَّقُ أَنَّ الْأَعَاصِيرَ تَسْحَبُ الْأَسْمَاكَ مِنَ أَعْمَاقِ الْبِحَارِ إِلَى السَّمَاءِ!: باور می کنم که گردبادها ماهی ها را از اعماق دریاها به آسمان می کشند!

تمرین تستی آزمون بعدی: ۶۰ سؤال
کتاب جامع عربی، زبان قرآن (۱) (۵۱۵۱)
سؤال های ۳۴۱ تا ۴۰۰

١٥- «روز یکشنبه دو بار با سه همکار در کتابخانه شهر رو به رو شدم!»:

- (١) واجهتُ ثلاثة زملاء في مكتبة المدينة مرتين يوم الأحد!
- (٢) إلتقيتُ مرتين بثلاثة من زملائي في مكتبة المدينة يوم الأحد!
- (٣) إلتقيتُ في مكتبة المدينة بالزملاء الثلاثة للمرة الثانية يوم الأحد!
- (٤) اليوم الواحد واجهتُ ثلاثة زملاء في مكتبة المدينة في المرة الثانية!

١٦- عيّن الخطأ في الحوارات:

- (١) يا أخي، هل بطاقة الدخول عندك؟! / نعم، بطاقتي في يدي!
- (٢) افتحي حقيبتك من فضلك! / تفضل، حقيبتني مفتوحة يا أخي!
- (٣) ماذا في حقيبتك؟! / لا، أنا بحاجة إليها جداً!
- (٤) لمن هذه الأدوية؟! / لوالدي. عندهما صداع شديد!

١٧- عيّن الخطأ: (في تعريف الكلمات)

- (١) الجاهزون: هم الذين مستعدون للقيام بعمل!
- (٢) المَطْرُ: قطرات الماء التي تنزل من السحاب و جمعه «الأمطار»!
- (٣) الشتاء: الجو فيه بارد و لا ينزل في هذا الفصل إلا الثلج!
- (٤) الفريق: جماعة من الناس الذين لهم هدف واحد!

١٨- ميّز العدد الذي يختلف نوعاً:

- (١) أنزل الله في الأرض جزءاً واحداً من الرحمة، فمن ذلك الجزء يتراحم الخلق!
- (٢) الكاتب يتحدث عن اشكالات الترجمة في الصفحة الأولى!
- (٣) درس الاستاذ الدرس الثاني عشر من الكتاب!
- (٤) تأخذ الفائزة الثانية جائزة فضيئة!

١٩- عيّن فعلاً فيه حرفان زائدان:

- (١) سنصبر على ما نقولون لأننا من الصابرين!
- (٢) يسجل زميلي اسم الطلاب لسفرة علمية!
- (٣) في هذه الأثناء بعض المياه يتحول إلى بركة جميلة!
- (٤) يلاحظ الناس الأسماك فيأخذونها لطبخها!

٢٠- عيّن أفعالاً كلها من نوع واحد:

- (١) يُعَدُّ - يَعْتَمِدُ - إكْتَشَفَ
- (٢) إِحْتَرَمَ - يَنْتَفِعُ - يَعْتَقِدُ
- (٣) يُسَاعِدُ - يُقَدِّمُ - تُقَصِّرُ
- (٤) نَشَاهَدُ - إِعْتَبِرَ - وَرَعَ

۲۰ دقیقه

دین و زندگی (۱)
تفکر و اندیشه
صفحه ۴ تا صفحه ۷۸

هدف‌گذاری قبل از شروع هر درس در دفترچه سؤال

لطفاً قبل از شروع پاسخ‌گویی به سؤال‌های درس **دین و زندگی (۱)**، هدف‌گذاری چند از ۱۰ خود را بنویسید:
از هر ۱۰ سؤال به چند سؤال می‌توانید پاسخ صحیح بدهید؟
عملکرد شما در آزمون قبل چند از ۱۰ بوده است؟
هدف‌گذاری شما برای آزمون امروز چیست؟

چند از ۱۰ آزمون قبل	هدف‌گذاری چند از ۱۰ برای آزمون امروز

۲۱- هنگامه به آرامش رسیدن انسانی که در جست‌وجوی درون خویش است، در کدام مورد به‌درستی بیان شده است و اولین تفاوت انسان با نباتات و حیوانات در چیست؟

- (۱) رسیدن به سرچشمه خوبی‌ها و زیبایی‌ها - وصول به هدف
- (۲) موفقیت در انتخاب هدف وجودی خویش - وصول به هدف
- (۳) رسیدن به سرچشمه خوبی‌ها و زیبایی‌ها - حرکت به سوی هدف
- (۴) موفقیت در انتخاب هدف وجودی خویش - حرکت به سوی هدف

۲۲- اولین گام برای رسیدن به جامع‌ترین هدف زندگی چیست و این سیر و نگرش چه احساسی در دل ایجاد می‌کند؟

- (۱) خداشناسی - تنفر از رذایل اخلاقی و گرایش به نیکی‌ها
- (۲) خداشناسی - خدایابی و احساس محبت خدا در دل
- (۳) خودشناسی - خدایابی و احساس محبت خدا در دل
- (۴) خودشناسی - تنفر از رذایل اخلاقی و گرایش به نیکی‌ها

۲۳- کدام یک از عناوین زیر با عبارت‌های مقابل خود به درستی ارتباط دارند؟

- (الف) هویت انسان ← با عمل زیبایی و جبران نقص عضو تغییر می‌کند.
- (ب) بعد مادی ← دست تجزیه و تحلیل و فرسایش از دامانش دور است.
- (ج) بعد مجرد ← با رویاهای صادق و راستین ارتباط دارد.
- (د) شخصیت انسان ← در طول زندگی ثابت است و تغییر نمی‌کند.

- (۱) الف، ب (۲) ب، ج (۳) ج، د (۴) الف، د

۲۴- مطابق آیه ۲۴ سوره جاثیه، به‌ترتیب کدام گزینه بیانگر دیدگاه منکران معاد است و کدام عبارت سرچشمه‌ای غیر از علم دارد؟

- (۱) «وَمَا هَذِهِ الْحَيَاةُ الدُّنْيَا» - «نموت و نحيا و ما يُهلِكنا الا الدَّهْرُ»
- (۲) «... مَا هِيَ الا حَيَاتُنَا الدُّنْيَا» - «نَمُوتُ وَ نَحْيَا وَ مَا يُهْلِكُنَا الا الدَّهْرُ»
- (۳) «... مَا هِيَ الا حَيَاتُنَا الدُّنْيَا» - «انَّ الدَّارَ الْاٰخِرَةَ لَهِيَ الْحَيَوَانُ»
- (۴) «وَمَا هَذِهِ الْحَيَاةُ الدُّنْيَا» - «انَّ الدَّارَ الْاٰخِرَةَ لَهِيَ الْحَيَوَانُ»

۲۵- مطابق آیات مبارکه سوره قیامت، علت این‌که بعضی انسان‌ها روز بازپسین را انکار می‌کنند، چیست و تلاش برای حفظ بقا و گرایش به جاودانگی مربوط به کدام‌یک از ابعاد ضرورت معاد است؟

- (۱) شک در وقوع معاد و روز حساب - معاد لازمه عدل الهی
- (۲) عمل بدون ترس از دادگاه عدل - معاد لازمه حکمت الهی
- (۳) عمل بدون ترس از دادگاه عدل - معاد لازمه عدل الهی
- (۴) شک در وقوع معاد و روز حساب - معاد لازمه حکمت الهی

تمرین تستی آزمون بعدی: ۱۰۰ سؤال
کتاب جامع دین و زندگی (۱) (۵۱۵۲)
سؤال‌های ۵۸۶ تا ۶۸۵

۲۶- براساس آیات قرآن، منکران معاد که در دنیا دچار غرور و مست نعمت‌اند دارای چه خصلتی هستند و این انکار را چگونه بیان می‌کنند؟

(۱) «مُصِرُّ بر گناه کبیره‌اند.» - «هنگامی که ما مردیم و استخوان شدیم، آیا برانگیخته خواهیم شد؟»

(۲) «مُصِرُّ بر گناه کبیره‌اند.» - «ما در سرزمین خود تحت فشار و مستضعف بودیم.»

(۳) «متجاوز و منافق‌اند.» - «هنگامی که ما مردیم و استخوان شدیم، آیا برانگیخته خواهیم شد؟»

(۴) «متجاوز و منافق‌اند.» - «ما در سرزمین خود تحت فشار و مستضعف بودیم.»

۲۷- اینکه پیامبر (ص) فرمودند: «قسم به کسی که جانم در دست اوست، ایشان به این کلام از شما شنوا ترند...» بیانگر کدام ویژگی عالم برزخ است و

دامنه اعمال متأخر تا چه زمانی است؟

(۱) وجود حیات - «ینیوا الانسان یومئذ بما قدم و اخر»

(۲) وجود ارتباط میان عالم برزخ و دنیا - «حتی إذا جاء احدهم الموت»

(۳) وجود حیات - «حتی إذا جاء احدهم الموت»

(۴) وجود ارتباط میان عالم برزخ و دنیا - «ینیوا الانسان یومئذ بما قدم و اخر»

۲۸- هریک از عبارات‌های قرآنی زیر، به ترتیب کدام گروه از برزخیان را به تصویر می‌کشد و فرشتگان احوال کدام یک را می‌پرسند؟

- گفتند: مگر زمین خدا وسیع نبود که مهاجرت کنید؟

- به آن‌ها می‌گویند: وارد بهشت شوید به‌خاطر اعمالی که انجام دادید.

(۱) کافران - نیکوکاران - اولی

(۲) ظالمان - پاکیزگان - دومی

(۳) ظالمان - پاکیزگان - اولی

(۴) کافران - نیکوکاران - دومی

۲۹- چرا مردم در زمان واقعه قیامت هم‌چون افراد مست به‌نظر می‌رسند و چه کسانی در این واقعه بزرگ دچار وحشت و هراس نخواهند شد؟

(۱) سخت بودن عذاب الهی و هیبت روز قیامت مسبب این موضوع است - نیکوکاران

(۲) سنجش اعمال در ترازوی عدل خداوند موجب وحشت مردم خواهد شد - نمازگزاران

(۳) سنجش اعمال در ترازوی عدل خداوند موجب وحشت مردم خواهد شد - نیکوکاران

(۴) سخت بودن عذاب الهی و هیبت روز قیامت مسبب این موضوع است - نمازگزاران

۳۰- با توجه به عبارت قرآنی «یعلمون ما تفعلون» دلیل علم این دسته از گواهان قیامت به اعمال انسان‌ها کدام است؟

(۱) زیرا همان‌گونه که در دنیا، ناظر و شاهد بر اعمال انسان‌ها بوده‌اند، در روز قیامت نیز بهترین گواهان دادگاه عدل الهی هستند.

(۲) چون اعمال این گواهان عین آن چیزی است که خدا به آن دستور داده است، لذا معیار و میزان سنجش اعمال قرار می‌گیرد.

(۳) زیرا واقعیت همه چیز از جمله اعمال و رفتار انسان‌ها در دنیا و نیز حوادث تلخ و شیرینی که در زمین اتفاق افتاده، آشکار می‌شود.

(۴) به این دلیل که در طول زندگی انسان‌ها، همواره مراقب آنها هستند و تمامی اعمالشان را ثبت و ضبط می‌کنند.

کانال تلگرام دهم انسانی: kanoonir_10e
پیج اینستاگرام دهم انسانی: kanoonir10e

سؤالات آشنا

پاسخ دادن به این سؤالات اجباری است و در تراز کل شما تأثیر دارد.

- ۳۱- از آیات شریفه «و ما خلقنا السماوات و الارض و ما بینهما لاعین ما خلقناهما الا بالحق» نمی‌توان چنین برداشتی داشت که ...
- ۱) جهان آفرینش پوچ و بی هدف نیست.
 - ۲) هر موجودی براساس برنامه‌ای سنجیده به این جهان، گام نهاده است.
 - ۳) هدف از آفرینش انسان، رسیدن او به تکامل است.
 - ۴) انسان که برترین آفریده خداست، بیهوده آفریده نشده است.
- ۳۲- موجود برخوردار از «جایگاه ویژه» در خلقت قانونمند آفرینش، ... و خدا را قبل و بعد و با همه چیز دیدن، نشانی از ... انسان است.
- ۱) فرشتگان‌اند- بهره‌مندی از کرامت و فضیلت
 - ۲) انسان است- فعلیت یافتن فطرت خداجوی
 - ۳) فرشتگان‌اند- به کار انداختن عقل و تدبّر در پدیده‌ها از سوی
 - ۴) انسان است- مختار و با اراده به اذن خدا بودن
- ۳۳- آیات «و نفس و ما سواها فالهمها فجورها و تقواها» بیانگر سرمایه ... در انسان است.
- ۱) گرایش به نیکی‌ها و زیبایی‌ها
 - ۲) قدرت انتخاب و اختیار
 - ۳) قدرت تعقل و تفکر
 - ۴) وجدان اخلاقی
- ۳۴- هنگامه تقرب انسان به درگاه الهی و مسجود فرشتگان واقع شدن، چه زمانی است و ماجراهای ذکر شده در قرآن کریم از حضرت یوسف (ع) در مورد رؤیا، بیانگر چه مفهومی است؟
- ۱) اگر به فضیلت‌ها آراسته شود. - اصالت رؤیاهای راستین از دیدگاه قرآن
 - ۲) اگر به فضیلت‌ها آراسته شود. - خروج از مکان و زمان به هنگام رؤیای صادق
 - ۳) اگر به رذیلت‌ها تن ندهد. - خروج از مکان و زمان به هنگام رؤیای صادق
 - ۴) اگر به رذیلت‌ها تن ندهد. - اصالت رؤیاهای راستین از دیدگاه قرآن
- ۳۵- نهراسیدن از مرگ و آمادگی برای فداکاری در میان پیروان پیامبران الهی، چه ثمره‌ای در زندگی آنان دارد؟
- ۱) حیات در این دنیا برای آنان چیزی جز ننگ و ذلت نمی‌شود و فداکاری در راه خدا برایشان ضروری می‌گردد.
 - ۲) آنان آرزوی مرگ می‌کنند و به همین دلیل به استقبال شهادت می‌روند و فدای انسان‌ها می‌شوند.
 - ۳) زندگی را کوله‌باری از گناه می‌بینند و همین عامل سبب می‌شود تا همیشه در آرزوی مرگ باشند.
 - ۴) دفاع از حق و مظلومان و از خودگذشتگی برای آنان آسان می‌شود و در شجاعت به مرحله عالی می‌رسند.
- ۳۶- کدام مورد بیانگر پیامدهای انکار معاد برای انسان در زندگی دنیاست؟
- ۱) آماده شدن برای زندگی دیگر و توجه بیش‌تر به حیات اخروی
 - ۲) بیرون آمدن از بن‌بست در زندگی دنیایی و باز شدن پنجره‌های روشنایی
 - ۳) کناره‌گیری از دیگران و بی‌ارزش شدن زندگی چند روزه دنیا
 - ۴) لذت بردن از کار و زندگی و تلاش بسیار به همراه انرژی فوق‌العاده
- ۳۷- خداوند متعال در مورد کدام موضوع می‌فرماید: «وَمَنْ أَضَلُّ مِمَّنِ اللَّهُ حَدِيثًا؟»
- ۱) «وَمَا خَلَقْنَا السَّمَاوَاتِ وَالْأَرْضَ وَمَا بَيْنَهُمَا لَاعِبِينَ»
 - ۲) «أَفَحَسِبْتُمْ أَنَّمَا خَلَقْنَاكُمْ عَبَثًا وَأَنْتُمْ إِلَيْنَا لَا تُرْجَعُونَ»
 - ۳) «اللَّهُ لَا إِلَهَ إِلَّا هُوَ لَيَجْمَعَنَّكُمْ إِلَى يَوْمِ الْقِيَامَةِ لَا رَيْبَ فِيهِ»
 - ۴) «أَمْ نَجْعَلُ الَّذِينَ آمَنُوا وَعَمِلُوا الصَّالِحَاتِ كَالْمُفْسِدِينَ فِي الْأَرْضِ ...»
- ۳۸- از دقت در پیام کدام آیه، به تحقق امری از راه طرح استفهام انکاری، پی می‌بریم؟
- ۱) «أفمن استس بنیانه علی تقوی من الله و رضوان خیر»
 - ۲) «أفحسبتم أنما خلقناکم عبثاً و أنکم الینا لا تُرْجَعُونَ»
 - ۳) «أفرأیتم ما تحرثون أنتم تزرعونہ أم نحن الزارعون»
 - ۴) «أم من استس بنیانه علی شفا جرف هار فانهار به فی نار جهنم»
- ۳۹- با توجه به روایت نبوی، هر کس سنت و روش نیکی را در جامعه جاری سازد و مردمی در دنیا به آن سنت عمل کنند، کدام پاداش را دریافت می‌کند؟
- ۱) مردمی که به آن سنت عمل می‌کنند، بخشی از ثواب خود را به آن فرد هدیه خواهند کرد.
 - ۲) ثواب آن اعمال را به حساب آن شخص می‌گذارند، بدون آن که از اجر انجام‌دهنده آن کم کنند.
 - ۳) شخصی که آن سنت را جاری ساخته اصل ثواب را می‌برد و مابقی از ثمرات و آثار آن استفاده خواهند کرد.
 - ۴) ثواب آن اعمال میان تمام افرادی که آن سنت را انجام داده‌اند تقسیم می‌شود، هرچند مرده باشند.
- ۴۰- اگر بگوییم: «در صحنه پرهیاهوی قیامت، کنار رفتن پرده از حقایق عالم، ... حضور شاهدان و گواهان است.»، سخنی ... گفته‌ایم و مهر خاموشی زدن بر دهان بدکاران مرتبط با ... مورد می‌باشد.
- ۱) مقدم بر- درست- نخستین
 - ۲) مقدم بر- نادرست- نخستین
 - ۳) مؤخر از- درست- دومین
 - ۴) مؤخر از- نادرست- دومین

۱۵ دقیقه

هدف‌گذاری قبل از شروع هر درس در دفترچه سؤال

لطفاً قبل از شروع پاسخ‌گویی به سؤال‌های درس **زبان انگلیسی (۱)**، هدف‌گذاری چند از ۱۰ خود را بنویسید:
از هر ۱۰ سؤال به چند سؤال می‌توانید پاسخ صحیح بدهید؟
عملکرد شما در آزمون قبل چند از ۱۰ بوده است؟
هدف‌گذاری شما برای آزمون امروز چیست؟

چند از ۱۰ آزمون قبل	هدف‌گذاری چند از ۱۰ برای آزمون امروز
---------------------	--------------------------------------

زبان انگلیسی (۱)
Saving Nature
Wonders of Creation
درس‌های ۲ و ۱
صفحه‌های ۱۵ تا ۶۹

PART A: Grammar and Vocabulary

Directions: Choose the word or phrase (1), (2), (3), or (4) that best completes each sentence. Then mark the correct choice on your answer sheet.

- 41- Yesterday, my uncle built a ... for our kitchen. It is much more beautiful than the old one.
1) brown beautiful wooden table 2) table wooden beautiful brown
3) beautiful wooden brown table 4) beautiful brown wooden table
- 42- My brother and ... travel abroad to spend their holiday in France. As far as I know, they leave on the 15th.
1) his two children are going to 2) two his childs will
3) his two childs will 4) two his children are going to
- 43- Scientists now hope research into the gene will enable them to ... people who are most at risk.
1) compare 2) collect 3) identify 4) carry
- 44- The old man was in such ... from his injuries that he couldn't get out of bed for two weeks.
1) pain 2) rule 3) interest 4) element
- 45- Without going into ..., I can tell you that we will have a very successful year if everything goes well.
1) orbits 2) patterns 3) qualities 4) details
- 46- The young man tried to keep his money ... by carrying it in an inside pocket when he was walking down the busy street.
1) strange 2) safe 3) alive 4) neat

PART B: Reading Comprehension

Directions: Read the following passage and answer the questions by choosing the best choice (1), (2), (3), or (4). Then mark the correct choice on your answer sheet.

For many years, people thought the ivory-billed woodpecker was gone. In 2005, a man saw one. Ivory-billed woodpeckers are almost two feet long. They have a white bill. Males also have red feathers on the top of their heads. They have large, curved claws.

An ivory-billed woodpecker's bill plays an important role in its life. Trying to find food, it peels the bark off trees to uncover bugs. Its bill makes a knocking sound against the wood. Long ago, people hunted these birds. They also cut down trees. These trees were home to the ivory-billed woodpecker. Soon, these birds disappeared. Recently, scientists have found at least one male bird in an Arkansas swamp. Welcome back, ivory-billed woodpecker!

- 47- According to the passage, the ivory-billed woodpecker uses its bill to
1) build homes 2) kill its enemies
3) find insects 4) make different noises
- 48- The underlined word "it" in paragraph 2 refers to
1) ivory-billed woodpecker 2) food
3) life 4) bill
- 49- What caused the ivory-billed woodpeckers to disappear?
1) Not finding enough food 2) Hunting and cutting down trees
3) Its beauty 4) Its beautiful bill and hunger
- 50- Which of the following best describes the writer's feeling about the fact that ivory-billed woodpeckers are back?
1) Uninterested 2) Worried
3) Angry 4) Happy

تمرین تستی آزمون بعدی: ۲۰۰ سؤال
کتاب جامع زبان انگلیسی ۱ (۵۱۶۳)
سؤال‌های ۴۲۱ تا ۶۲۰

۱۵ دقیقه

ریاضی و آمار (۱)

دوره نیمسال اول

کل فصل ۱ و ۲

صفحه ۱۰ تا صفحه ۶۲

هدف گذاری قبل از شروع هر درس در دفترچه سؤال

لطفاً قبل از شروع پاسخ گویی به سؤال های درس ریاضی و آمار (۱)، هدف گذاری چند از ۱۰ خود را بنویسید: از هر ۱۰ سؤال به چند سؤال می توانید پاسخ صحیح بدهید؟ عملکرد شما در آزمون قبل چند از ۱۰ بوده است؟ هدف گذاری شما برای آزمون امروز چیست؟

چند از ۱۰ آزمون قبل	هدف گذاری چند از ۱۰ برای آزمون امروز

۵۱- کارخانه ذوب آهن اصفهان، از روز شنبه هر روز تولید خود را دو برابر کرده است. در پایان روز چهارشنبه تولید فولاد به سقف ۴۸ هزار تن رسیده است. مجموع تولید فولاد در این پنج روز چند هزار تن است؟

- ۸۱ (۴)
- ۹۳ (۳)
- ۷۲ (۲)
- ۵۴ (۱)

۵۲- اگر معادله $mx^2 - 3x - 4 = 0$ دارای ریشه مضاعف باشد، در این صورت مقدار ریشه مضاعف کدام است؟

- $-\frac{2}{3}$ (۴)
- $\frac{2}{3}$ (۳)
- $-\frac{8}{3}$ (۲)
- $\frac{8}{3}$ (۱)

۵۳- اگر یکی از ریشه های معادله $x^2 + 4x + k = 0$ از دو برابر ریشه دیگر ۳ واحد بیش تر باشد، در این صورت مقدار k کدام است؟

- $\frac{25}{9}$ (۴)
- $\frac{85}{9}$ (۳)
- $-\frac{35}{9}$ (۲)
- $-\frac{85}{9}$ (۱)

۵۴- به ازای چه مقدار k معادله $\frac{x}{-x^2+k} - \frac{2}{x+k} = 3$ دارای جواب $x = -2$ است؟

- $\frac{7 \pm \sqrt{13}}{3}$ (۴)
- $\frac{8 \pm \sqrt{13}}{2}$ (۳)
- ۶ (۲)
- ۱ (۱)

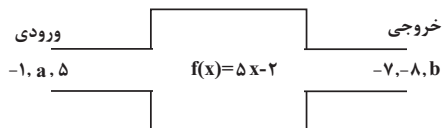
۵۵- اگر رابطه $f = \{(3,5), (2,-1), (3, k^2+1), (k,b), (-2,4)\}$ یک تابع باشد، در این صورت مجموع مقادیر ممکن برای b کدام است؟

- ۳ (۴)
- ۵ (۳)
- ۵ (۲)
- ۳ (۱)

۵۶- تعداد اعضای برد تابع $f(x) = \frac{x^2-1}{1-x^2}$ به ازای $A = \{-5, -2, 4, 3, 7\}$ کدام است؟

- ۵ (۴)
- ۴ (۳)
- ۲ (۲)
- ۱ (۱)

۵۷- با توجه به ماشین زیر مقدار a + b کدام است؟



- $\frac{42}{5}$ (۴)
- $\frac{53}{5}$ (۳)
- $\frac{109}{5}$ (۲)
- $\frac{14}{5}$ (۱)

۵۸- در تابع خطی f داریم: $f(1) = -5$ و $f(-2) = 4$ ، در این صورت نمودار تابع f از کدام ناحیه محورهای مختصات عبور نمی کند؟

- اول (۱)
- دوم (۲)
- سوم (۳)
- چهارم (۴)

۵۹- طول یک فنر در حالتی که هیچ وزنه ای به آن آویزان نیست برابر ۱۲cm است. حال اگر وزنه ای به جرم ۵kg به آن آویزان کنیم، طول فنر به ۱۴cm می رسد، اگر وزنه ای به جرم ۱۸kg به آن آویزان کنیم، طول فنر چند سانتی متر خواهد شد؟

- ۱۶/۸ (۱)
- ۱۷/۶ (۲)
- ۱۹/۲ (۳)
- ۲۱/۴ (۴)

۶۰- اگر هزینه تولید x کالا در یک شرکت $C(x) = 60x + 18000$ تومان باشد و این شرکت هر کالا را ۹۰ تومان بفروشد در این صورت به ازای تولید چه

تعداد کالا سود شرکت $\frac{1}{4}$ هزینه آن خواهد شد؟

- ۷۵۰ (۱)
- ۹۰۰ (۲)
- ۱۲۰۰ (۳)
- ۱۵۰۰ (۴)

تمرین تستی آزمون بعدی: ۹۰ سؤال
 کتاب آبی ریاضی و آمار ۱ (۵۱۵۷)
 سؤال های ۴۰۱ تا ۴۹۰ کتاب آبی

۱۵ دقیقه

اقتصاد

دوره نیمسال اول

کل فصل ۱ و ۲

صفحة ۲ تا صفحه ۸۰

هدف‌گذاری قبل از شروع هر درس در دفترچه سؤال

لطفاً قبل از شروع پاسخ‌گویی به سؤال‌های درس اقتصاد، هدف‌گذاری چند از ۱۰ خود را بنویسید:

از هر ۱۰ سؤال به چند سؤال می‌توانید پاسخ صحیح بدهید؟

عملکرد شما در آزمون قبل چند از ۱۰ بوده است؟

هدف‌گذاری شما برای آزمون امروز چیست؟

هدف‌گذاری چند از ۱۰ برای آزمون امروز

چند از ۱۰ آزمون قبل

۶۱- هنگام روبه‌رو شدن با وضعیت زیان، چگونه می‌توان از آن دوری کرد و کدام یک از موارد زیر مصداق کارآفرینی است؟

(۱) افزایش درآمد و کاهش هزینه‌ها - تدریس در مدرسه دولتی

(۲) افزایش هزینه‌ها و کاهش درآمد - عضو نیروی ارتش شدن

(۳) کاهش هزینه‌ها و افزایش درآمد - راه‌اندازی خدمات باغبانی در منزل

(۴) کاهش درآمد و افزایش هزینه‌ها - کار در مغازه خوار و بار فروشی

۶۲- کدام گزینه در خصوص شرکت‌های سهامی درست است؟

(۱) اگر دارایی شرکتی به ۱۰۰ سهم تقسیم شده باشد، فردی که ۲۵ سهم آن را خریداری می‌کند، مالک ۵ درصد شرکت است.

(۲) هر سهام‌دار به اندازه سهم خود در شرکت مالکیت مطلق دارد.

(۳) ضرر و بدهی سهام‌داران محدود به میزان سهام نیست.

(۴) سهام یک سند مالکیت است که دارنده آن بخشی از مالکیت شرکت را در اختیار دارد.

۶۳- چرا انسان ناچار به بده-بستان بین گزینه‌های انتخاب خود است و کدام‌یک درباره مفهوم «هزینه هدر رفته» صحیح است؟

(۱) به دلیل وجود کمیابی در امکانات - اجتناب‌ناپذیر و قابل برگشت

(۲) به دلیل عدم رعایت قید بودجه - اجتناب‌پذیر و غیرقابل برگشت

(۳) به دلیل محدودیت منابع - اجتناب‌ناپذیر و غیرقابل برگشت

(۴) به دلیل نادیده گرفتن هزینه فرصت - اجتناب‌ناپذیر و غیرقابل برگشت

۶۴- به ترتیب پاسخ درست هر یک از پرسش‌های زیر در کدام گزینه آمده است؟

- هزینه فرصت یک انتخاب چیست؟

- مهارت و دانش ساخت قطعات جزء کدام‌یک از عوامل تولید است؟

- اولین اقدام یک کارآفرین با ورود به میدان اقتصاد چه باید باشد؟

(۱) ارزش بهترین گزینه بعدی که هنگام انتخاب از دست داده‌اید - نیروی انسانی - ترسیم قید بودجه

(۲) مابه‌تفاوت ارزش گزینه انتخابی و بهترین گزینه بعدی - نیروی انسانی - آگاهی از منابع یا عوامل تولید

(۳) ارزش بهترین گزینه بعدی که هنگام انتخاب از دست داده‌اید - سرمایه انسانی - آگاهی از منابع یا عوامل تولید

(۴) مابه‌تفاوت ارزش گزینه انتخابی و بهترین گزینه بعدی - سرمایه انسانی - ترسیم قید بودجه

۶۵- صحیح یا غلط بودن موارد زیر، به ترتیب در کدام گزینه به درستی مشخص شده است؟

- کالاهایی که برای افراد رایگان است، هزینه فرصتی برای جامعه دارد.

- اقتصاد کشوری کارا است که هر فرصتی را برای استفاده بهتر از منابع به کار گیرد، بدون اینکه تولید کالای دیگر کاهش یابد.

- مرز امکانات تولید نشان‌دهنده حداکثر امکان تولید با فرض منابع غیرقابل دسترس است.

(۱) ص - غ - غ (۲) غ - ص - غ (۳) ص - غ - ص (۴) غ - ص - ص

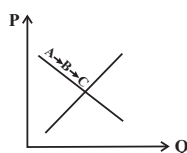
۶۶- با توجه به نمودار منحنی ... علت حرکت از نقطه A به نقطه C، کدام است؟

(۱) تقاضا - قیمت بالاتر و تقاضای کم‌تر

(۲) عرضه - قیمت پایین‌تر و عرضه کم‌تر

(۳) تقاضا - قیمت پایین‌تر و تقاضای بیش‌تر

(۴) عرضه - قیمت بالاتر و عرضه بیش‌تر



تمرین تستی آزمون بعدی: ۳۰ سؤال

کتاب جامع اقتصاد (۵۱۵۸)

سؤال‌های ۳۲۱ تا ۳۵۰

۶۷- کدام یک از عوامل زیر بر مقدار تقاضا اثرگذار نیست؟

- (۱) کالاهایی که مد می‌شوند.
 (۲) ابداعات و اختراعات در هزینه تولید
 (۳) سلیقه و انتظارات افراد
 (۴) کالاهایی که با کالای مورد نظر مرتبطند.

۶۸- به ترتیب، در ارتباط با سوالات زیر کدام گزینه صحیح است؟

(الف) تعریف و اجرای حقوق مالکیت توسط دولت چه پیامدی را به دنبال دارد؟

(ب) چه زمانی با مازاد بودجه روبه‌رو هستیم؟

(ج) در کدام نوع مالیات کالا و خدمات واسطه‌ای از پرداخت مالیات معاف می‌شوند؟

(۱) (الف) بهبود امنیت خرید و فروش و مبادلات (ب) درآمد بودجه از هزینه آن بیش تر باشد. (ج) مالیات بر مصرف

(۲) (الف) کاهش فعالیت‌های نامناسب (ب) هزینه‌ها از درآمد بودجه بیش تر باشد. (ج) مالیات بر مصرف

(۳) (الف) بهبود امنیت خرید و فروش و مبادلات (ب) درآمد بودجه از هزینه آن بیش تر باشد. (ج) مالیات بر ارزش افزوده

(۴) (الف) کاهش فعالیت‌های نامناسب (ب) هزینه‌ها از درآمد بودجه بیش تر باشد. (ج) مالیات بر ارزش افزوده

۶۹- کدام یک از موارد زیر در ارتباط با ابزارها و منابع تأمین مالی دولت صحیح نیست؟

(الف) دولت برای تأمین سطحی از کالاها و خدمات عمومی برای همگان، از مردم مالیات می‌گیرد.

(ب) مالیات بر ارزش افزوده محصولات تنباکویی از جمله سیگار، در دنیا بسیار شایع است.

(ج) در مالیات غیرمستقیم مبلغی به عنوان مالیات از درآمد و دارایی افراد دریافت می‌شود.

(د) گرچه مالیات بر مصرف نهایتاً به وسیله مصرف‌کننده نهایی پرداخت می‌شود، اما وظیفه قانونی پرداخت آن به عهده تولیدکنندگان است.

- (۱) ب، ج (۲) الف، ب (۳) ج، د (۴) ب، د

۷۰- احتمال چندملیتی بودن کدام کالاها بیش تر است و کدام یک از دلایل صادرات و واردات میان دو کشور نیست؟

(۱) محصولاتی که از فناوری‌های پیشرفته‌تری بهره می‌برند - تعرفه واردات کالا و حمایت از صنایع داخلی

(۲) محصولاتی که ارزش افزوده بیش‌تری تولید می‌کنند - یکسان نبودن منابع و عوامل تولید

(۳) محصولاتی که ارزش افزوده بیش‌تری تولید می‌کنند - تفاوت‌های اقلیمی و آب و هوایی

(۴) محصولاتی که از فناوری‌های پیشرفته‌تری بهره می‌برند - یکسان نبودن کشورها از نظر دسترسی به فناوری

سؤالات آشنا

پاسخ دادن به این سؤالات اجباری است و در تراز کل شما تأثیر دارد.

۷۱- فردی، ساختمانی را به منظور تولید اشیای الکترونیکی، ماهی ۴ میلیون تومان اجاره کرده و با استخدام ۴ نفر به عنوان کارگر ماهی ۲ میلیون تومان به آنها حقوق پرداخت می‌کند. هزینه‌های دیگر او مجموعاً ۶ میلیون تومان در سال شده است و در نهایت در پایان سال ۱۰۰۰ عدد از اشیای الکترونیکی ساخته شده را به قیمت ۲۵۰,۰۰۰ تومان فروخته است.
- مجموع هزینه‌های تولید سالانه این بنگاه چند میلیون تومان است؟
- عملکرد سالانه این بنگاه کدام است؟

- (۱) ۱۵۰ میلیون تومان - ۲۵۰ میلیون تومان ضرر
(۲) ۱۵۰ میلیون تومان - ۱۰۰ میلیون تومان سود
(۳) ۱۴۴ میلیون تومان - ۱۰۰ میلیون تومان ضرر
(۴) ۱۴۴ میلیون تومان - ۲۵۰ میلیون تومان سود

۷۲- هر کدام از موارد زیر مربوط به چه نوعی از کسب و کار است؟
(الف) کشاورزان برای سهولت در تأمین مواد و لوازم مورد نیاز با هم شریک می‌شوند.
(ب) دولت تصمیم می‌گیرد مدارسی رایگان برای اقشار ضعیف جامعه تأسیس کند.

(ج) دانشجویی با هدف تأمین درآمد، حسابی در فضای مجازی با عنوان ترجمه باز می‌کند و با پرداخت هزینه، در صفحات دیگر آن را تبلیغ می‌کند.

- (۱) شرکت سهامی، تعاونی، مؤسسه غیرانتفاعی
(۲) شرکت سهامی، تعاونی، کسب و کار شخصی
(۳) تعاونی، مؤسسه غیرانتفاعی، کسب و کار شخصی
(۴) مؤسسه غیرانتفاعی، تعاونی، شرکت سهامی

۷۳- به ترتیب هر یک از موارد زیر بیانگر کدام یک از عوامل تصمیمات و رفتارهای غیرمنطقی است؟

(الف) سرمایه‌گذاری در بورس، بدون تحقیق در مورد آن
(ب) فیلم بی‌محتوا و بی‌ربطی را چون برای آن هزینه کرده‌اید، می‌بینید.

(ج) وقتی از یک برند فقط به خاطر تخفیفی که اعلام کرده است، خرید می‌کنیم.

- (۱) خودرأی بودن - عدم توجه به هزینه‌های هدر رفته - بی‌صبری زیاد
(۲) اعتماد به نفس بیش از حد - عدم توجه به هزینه‌های هدر رفته - اثرگذاری حقه‌های فروش
(۳) چسبیدن به وضعیت فعلی - اثرگذاری حقه‌های فروش - اعتماد به نفس بیش از حد
(۴) بی‌صبری زیاد - چسبیدن به وضعیت فعلی - عدم توجه به هزینه‌های هدر رفته

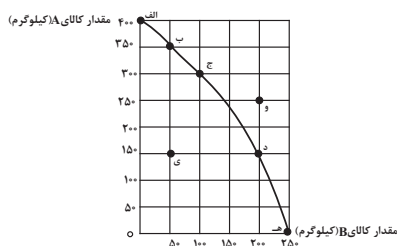
۷۴- منحنی مرز امکانات تولید زیر مربوط به یک کارگاه تولیدی است که تنها دو کالای A و B را تولید می‌کند:

(الف) به ترتیب چند کیلو کالای A و چند کیلو کالای B در نقطه (ه) تولید شده است؟

(ب) با توجه به نقاط (ج) و (د) هزینه فرصت تولید ۱۰۰ کیلوگرم بیش‌تر کالای B کدام است؟

(ج) در نقطه (ج) نسبت به نقطه (الف) کالای A چند کیلوگرم کم‌تر تولید شده است؟

(د) تولید در کدام نقاط به ترتیب کارا، ناکارا و غیرقابل دستیابی است؟

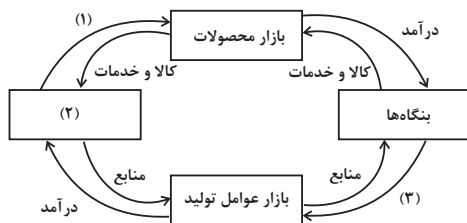


- (۱) الف (صفر - ۲۵۰، ب) ۱۵۰ کیلوگرم کالای A که از تولید آن صرف‌نظر شده است. ج) ۳۰۰ کیلوگرم، د) ۰ - و - الف
(۲) الف (۲۵۰ - صفر، ب) ۲۰۰ کیلوگرم کالای B که تولید شده است. ج) ۳۰۰ کیلوگرم، د) ۰ - ه - و
(۳) الف (صفر - ۲۵۰، ب) ۱۵۰ کیلوگرم کالای A که از تولید آن صرف‌نظر شده است. ج) ۱۰۰ کیلوگرم، د) ۰ - ج - ی - و
(۴) الف (۲۵۰ - صفر، ب) ۲۰۰ کیلوگرم کالای B که تولید شده است. ج) ۱۰۰ کیلوگرم، د) ۰ - ب - ی - و

۷۵- یک شرکت کشاورزی به تولید سم و کود برای مزارع می‌پردازد. در ابتدای سال ۹۵ میزان تولید کود و سم به ترتیب ۷۰۰ و ۲۰۰ کیلوگرم بوده است؛ اگر در میانه سال مدیران شرکت بخواهند میزان تولید کود را به ۸۰۰ کیلوگرم برسانند، با توجه به امکانات، تولید سم به ۱۵۰ کیلوگرم تقلیل می‌یابد، هزینه فرصت افزایش تولید کود در این شرکت کدام است؟

- (۱) ۱۰۰ کیلوگرم افزایش تولید کود
(۲) تولید ۱۵۰ کیلوگرم سم
(۳) تولید ۸۰۰ کیلوگرم کود
(۴) ۵۰ کیلوگرم کاهش تولید سم

۷۶- در شکل زیر موارد مجهول به ترتیب چه چیزهایی هستند؟



(۱) درآمد - دولت - پرداخت‌های عوامل تولید

(۲) خرید - خانوارها - پرداخت‌های عوامل تولید

(۳) درآمد - خانوارها - کالا و خدمات

(۴) خرید - دولت - کالا و خدمات

۷۷- با توجه به جدول مقادیر عرضه و تقاضای کالای زیر، در قیمت تعادلی تقاضاکننده چه مبلغی برای کالا پرداخت می‌کند؟

مقدار تقاضا (به کیلو)	مقدار عرضه (به کیلو)	قیمت کالا (به ریال)
۸۰	۱۲۰	۱۰۰
۱۰۰	۱۰۰	۹۰
۱۲۰	۸۰	۸۰

(۱) ۴۵۰۰ (۲) ۸۸۰۰ (۳) ۹۰۰۰ (۴) ۱۸۰۰۰

۷۸- «عوارض اتومبیل»، «مالیات بر اتومبیل» و «مالیات بر صادرات اتومبیل» هر یک به ترتیب، چه نوع مالیاتی هستند؟

(۱) حقوق و عوارض گمرکی، مالیات بر دارایی، مالیات بر مصرف (۲) عوارض شهرداری، مالیات بر دارایی، حقوق و عوارض گمرکی

(۳) مالیات بر دارایی، عوارض شهرداری، مالیات بر دارایی (۴) مالیات مستقیم، مالیات بر دارایی، عوارض گمرکی

۷۹- کدام عبارت در مورد دولت‌ها و تجارت بین‌الملل صحیح است؟

(۱) کنفرانس پولی و مالی سازمان ملل (برتن وودز) در سال ۱۹۴۷ تشکیل شد و نتیجه آن تشکیل سازمان دائمی تجارت جهانی بود.

(۲) آمریکا، کانادا و مکزیک در سال ۱۹۹۲، پیمان تجارت آزاد، مشهور به پیمان نفتا را امضا کردند.

(۳) مهم‌ترین عامل در گسستن از پیمان‌های تجاری، سود بیشتر و هزینه کم‌تر است.

(۴) کشوری که تک‌محصول است، شرایط اقتصادی بهتری دارد؛ زیرا مزیت مطلق دارد.

۸۰- با توجه به جدول زیر که میزان تولیدات سه کشور چین، اندونزی و فیلیپین را در دو کالای کاغذ و پارچه نشان می‌دهد، کدام گزینه با توجه به اصل

مزیت‌های مطلق و نسبی درست است؟ (هر سه کشور به یک اندازه از نیروی کار، سرمایه و دانش فنی برخوردارند).

کشور	کالا	
	کاغذ	پارچه
چین	۱۷۰ تن	۱۲۰ تن
اندونزی	۶۱۰ تن	۸۰ تن
فیلیپین	۵۰ تن	۴۵ تن

(۱) با توجه به اصل مزیت نسبی فیلیپین باید به تولید پارچه بپردازد. (۲) با توجه به اصل مزیت مطلق اندونزی باید به تولید کاغذ بپردازد.

(۳) با توجه به اصل مزیت مطلق چین باید به تولید کاغذ بپردازد. (۴) با توجه به اصل مزیت نسبی اندونزی باید به تولید پارچه بپردازد.

۱۵ دقیقه

علوم و فنون ادبی (۱)
دوره نیم سال اول
کل فصل ۱ و ۲
صفحه ۲ تا صفحه ۵۸

هدف گذاری قبل از شروع هر درس در دفترچه سؤال

لطفاً قبل از شروع پاسخ گویی به سؤال های درس علوم و فنون ادبی (۱)، هدف گذاری چند از ۱۰ خود را بنویسید:
از هر ۱۰ سؤال به چند سؤال می توانید پاسخ صحیح بدهید؟
عملکرد شما در آزمون قبل چند از ۱۰ بوده است؟
هدف گذاری شما برای آزمون امروز چیست؟

چند از ۱۰ آزمون قبل	هدف گذاری چند از ۱۰ برای آزمون امروز

۸۱- از نگاه تاریخ ادبیات در عبارت زیر چند غلط به چشم می خورد؟

«سامانیان از ترکان آل افراسیاب شکست خوردند و خراسان ابتدا به دست سبکتگین و بعد پسرش مسعود افتاد و سلسله غزنوی در سال ۴۵۱ هجری در شهر بخارا تشکیل شد. غزنویان نیز برای ماندگاری حکومت نوپای خود ناگزیر شدند زبان پارسی را رواج دهند.»

(۱) چهار (۲) سه (۳) دو (۴) یک

۸۲- کدام یک از گزینه های زیر از ویژگی های شعر قرن چهارم و اوایل قرن پنجم نیست؟

- (۱) قصه پردازی و آوردن حکایت ها و مثل ها آغاز شد.
- (۲) قطعه های کوتاه در باب موعظه و نصیحت سروده شد.
- (۳) رایج ترین انواع شعر، موضوعات حماسی، ملی و تاریخی بود.
- (۴) توجه بیشتر به واقعیات بیرونی و به کارگیری انواع توصیف در شعر این دوره وجود داشت.

۸۳- آرایه های برابر همه بیت ها به جز ... درست است.

- (۱) آتش خشم آب دریا را/ همچو آتش نزار خواهد کرد (واژه آرای/ تضاد)
- (۲) من که باشم در آن حرم که صبا/ پرده دار حریم حرمت اوست (جناس/ واژه آرای)
- (۳) بس که در مزرع جان دانه از افکندیم/ عاقبت رست به باغ دل ما خاری چند (استعاره/ واج آرای)
- (۴) فلک حکایت خوناب دیده فرهاد/ به لعل، بر کمر کوهسار بنویسد (جان بخشی/ تلمیح)

۸۴- آرایه های «تشبیه، واج آرای، کنایه، جناس و واژه آرای» به ترتیب در کدام گزینه آمده است؟

- (الف) چشمه چشم مرا ای گل خندان دریاب/ که به امید تو خوش آب روانی دارد
 - (ب) دامن کشان که می روی امروز بر زمین/ فردا غبار کالبدت بر هوا رود
 - (ج) عمری می گفت رخ به تو بنمایم/ چون رخ بنمود دیده بردوخت مرا
 - (د) خیزید و خز آرید که هنگام خزان است/ باد خنک از جانب خوارزم وزان است
 - (ه) ای محتشم بسوز فراق این زمان بساز/ کان آفتاب سایه ز ما برگرفت و رفت
- (۱) الف، د، ب، ه ج (۲) الف، د، ج، ب، ه (۳) ب، ج، د، ه الف (۴) ب، ج، الف، ه د

۸۵- نوع سجع عبارات زیر به ترتیب در کدام گزینه آمده است؟

- (الف) شکر که دولت صبرم دادی تا به ملکوت فقرم رساندی.
- (ب) روزم را چون شبم روحانی گردان و شبم را چون روز نورانی.
- (پ) انسان ضعیف کجا و حمل قول ثقیل کجا.
- (ت) تا حال، تو را پنهان می پنداشتم و حال، جز تو را پنهان می دانم.

(۱) مطرف، مطرف، متوازن، متوازی (۲) مطرف، متوازی، متوازن، مطرف

(۳) متوازی، مطرف، متوازی، متوازن (۴) متوازی، متوازی، مطرف، مطرف

تمرین تستی آزمون بعدی: ۶۰ سؤال
کتاب جامع علوم و فنون ادبی (۵۱۵۰)
سؤال های ۳۶۱ تا ۴۲۰

۸۶- در کدام گزینه ارزش موسیقایی «سجع» از همه بیش تر است؟

- (۱) نامه‌ای که مستودع آن در جهان است و مستقر آن در میان جان.
- (۲) فلان را اصلی است پاک و طینتی است صاف، دارای گوهری است شریف و صاحب طبعی است کریم.
- (۳) دوستی را که به عمری فرا چنگ آرند، نشاید که به یک دم بیازارند.
- (۴) قوت طاعت در لقمه لطیف است و صحت عبادت در کسوت نظیف.

۸۷- تعداد هجای کشیده در مقابل کدام بیت، نادرست آمده است؟

- (۱) چشم بستن شمع‌سان بی تاب می‌سازد مرا / و بر رخسارت گشایم آب می‌سازد مرا (۴)
- (۲) آتش رخسار او نگذاشت در چشمم نمی / با وجود آنکه هر دم آب می‌سازد مرا (۲)
- (۳) دشمن ناساز را خونین جگر دارم به صبر / می‌کنم گل، خار اگر در پیره‌ن باشد مرا (۳)
- (۴) قطره تویی بحر تویی لطف تویی قهر تویی / قند تویی زهر تویی بیش میازار مرا (۷)

۸۸- در چند واژه واج «ی» مصوت است؟

«وثیقه، یخچال، میخانه، یاره، پایانه، دیبا، جامی، یلدا، آیات، ایوان، آینه، ایمان»

- (۱) پنج
- (۲) سه
- (۳) شش
- (۴) چهار

۸۹- علامت هجایی کدام مصراع با «U / --- U / --- U / --- U» هماهنگ نیست؟

- (۱) اگر بیگانگان تشریف بخشند
- (۲) چه سوگند خوردی؟ چه دل سخت کردی؟
- (۳) مرا از بهر دیناری ثنا گفت
- (۴) نه دیدن می‌توانم بی تأمل

۹۰- با توجه به تحلیل حکایت زیر کدام گزینه نادرست است؟

«نصیحت از دشمن پذیرفتن خطاست ولیکن شنیدن رواست تا به خلاف آن کار کنی که آن عین صواب است.

حذر کن آنچه دشمن گوید آن کن / که بر زانو زنی دست تغابن

گرت راهی نماید راست چون تیر / از او بر گرد و راه دست چپ گیر»

- (۱) سجع مطرف در این حکایت وجود دارد.
- (۲) نصیحت‌پذیری از دشمن شایسته نیست.
- (۳) از واژه‌های عربی بسیاری در حکایت استفاده شده است.
- (۴) آرایه‌های ادبی تضاد و کنایه وجود دارد.

۱۰ دقیقه

تاریخ (۱) ایران و جهان باستان
دوره نیم سال اول
درس ۱ تا پایان درس ۸
صفحه ۲ تا صفحه ۷۹

هدف‌گذاری قبل از شروع هر درس در دفترچه سؤال

لطفاً قبل از شروع پاسخ‌گویی به سؤال‌های درس تاریخ (۱) ایران و جهان باستان هدف‌گذاری چند از ۱۰ خود را بنویسید:
از هر ۱۰ سؤال به چند سؤال می‌توانید پاسخ صحیح بدهید؟
عملکرد شما در آزمون قبل چند از ۱۰ بوده است؟
هدف‌گذاری شما برای آزمون امروز چیست؟

چند از ۱۰ آزمون قبل	هدف‌گذاری چند از ۱۰ برای آزمون امروز

۹۱- کهن‌ترین و کامل‌ترین کتاب تاریخ به جا مانده از عصر باستان متعلق به چه کسی است؟

(۲) سرهنری راولینسون

(۱) ابن‌خلدون

(۴) ارنست هرشفلد

(۳) هرودت

۹۲- دانش جغرافیای تاریخی به بررسی کدام مسئله زیر می‌پردازد؟

(۱) به تأثیر محیط طبیعی و عوامل جغرافیایی بر رویدادهای تاریخی

(۲) به تکامل شیوه‌های پژوهش در تاریخ در دو قرن اخیر

(۳) به ارائه اطلاعات اقتصادی، اجتماعی، فرهنگی و جمعیتی

(۴) به محل دقیق جنگ‌ها، شبکه‌راه‌ها، مسیرهای مهاجرت و لشکرکشی‌ها

۹۳- باستان‌شناسان به چه منظوری از روش‌هایی مانند رادیوکربن و پتاسیم- آرگون استفاده می‌کنند؟

(۲) حفاری مکان‌های باستانی

(۱) تنظیم اطلاعات به‌دست آمده

(۴) تعیین سن آثار باستانی

(۳) کشف مکان‌های باستانی

۹۴- اخراج هیکسوس‌ها از مصر باستان در چه دوره‌ای انجام شده است؟

(۲) در دوره اسکندر مقدونی

(۱) در دوره هخامنشیان

(۴) در دوره پادشاهی میانه

(۳) در دوره پادشاهی جدید

۹۵- کدام فرمانده هندی بر ضد یونانیان سر به شورش برداشت و کدام سلسله پادشاهی را بنیان گذاشت؟

(۲) چندراگوپتا - گوپتا

(۱) چندراگوپتا - موريا

(۴) آشوکا - گوپتا

(۳) آشوکا - موريا

۹۶- یونانیان باستان از دستاوردهای کدام تمدن‌های زیر بهره بسیاری بردند؟

- (۱) هند، چین و ایران
(۲) ایلام، بین‌النهرین و مصر
(۳) مصر، بین‌النهرین و ایران
(۴) هند و چین، ایلام و بین‌النهرین

۹۷- دانشمندان یونان باستان بر چه اساسی به مطالعه پدیده‌های مختلف می‌پرداختند؟

- (۱) قدرت و نفوذ کاهنان
(۲) احترام بر خدایان و قهرمانان
(۳) روش علمی و با تکیه بر خرد
(۴) استدلال‌های عقلی و فلسفی

۹۸- ایشیا و ابزارهای باستانی چه اطلاعاتی درباره سازندگان و استفاده‌کنندگان این آثار در اختیار محققان قرار می‌دهند و دو نمونه منابع نوشتاری دوران

هخامنشیان کدام است؟ چه عاملی باعث شده است ثبت و نگارش تاریخ در بین تاریخ‌نگاران ایرانی، در درجه اهمیت کم‌تری قرار بگیرد؟

(۱) شناخت سلسله‌های پادشاهی دوران‌های مختلف و امکان تشخیص تاریخ واقعی از افسانه را تا حدودی فراهم می‌آورد. - خدای نامه‌ها و سنگ نوشته بیستون - علاقه و عادت به حفظ سینه به سینه مطالب در قرن‌ها و هزاره‌ها

(۲) حاوی اطلاعاتی درباره وضعیت اقتصادی، اجتماعی، فرهنگی و سیاسی دوران‌های مختلف هستند. - سنگ‌نوشته‌ها و لوح‌های گلی - علاقه و عادت به حفظ سینه به سینه مطالب در قرن‌ها و هزاره‌ها

(۳) حاوی دانش‌های علمی مختلف، مهارت‌ها، فنون و خلاقیت‌ها و بازگوکننده نوع رفتار، انسان‌های دوران‌های مختلف تاریخی هستند. - کتاب تورات و سالنامه - مقبول‌تر و پسندیده‌تر بودن سنت شفاهی

(۴) بازگوکننده تاریخ عمومی سرزمین‌ها و دوران‌های مختلف تاریخی هستند. - خدای نامه و سنگ‌نوشته خشایارشا - نبود شعور و آگاهی در بین مورخان ایرانی

۹۹- نخستین مردمانی که کشاورزی و اهلی کردن حیوانات را آغاز کردند مربوط به چه نواحی بودند و ظروف سفالی ساده و منقش سکونتگاه‌های ایران، در چه نواحی مشتریان فراوانی داشت؟

(۱) محوطه باستانی چغاگلان در شهرستان مهران - یونان و روم

(۲) تپه‌زاغه در قزوین - اطراف دره سند

(۳) محوطه باستانی چغاگلان در شهرستان مهران - بین‌النهرین

(۴) شهداد و جیرفت در کرمان - هند و چین

۱۰۰- کدام‌یک از پایتخت‌های ایلام، از کهن‌ترین شهرها و مراکز تمدن جهان به‌شمار می‌رود و در دوران حکومت ایلامی‌ها به اوج شکوفایی اقتصادی

رسید و چرا فرمانروایان و همسایگان بین‌النهرینی، پیاپی به سرزمین ایلامی‌ها لشکرکشی می‌کردند؟

(۱) انزان - اقتصاد بین‌النهرین نیازمند منابع طبیعی و معدنی فلات ایران بود.

(۲) سیمش - به سبب موقعیت جغرافیایی ویژه خود

(۳) انزان - برقرار ارتباط سیاسی، فرهنگی و تجاری

(۴) شوش - اقتصاد بین‌النهرین، نیازمند منابع طبیعی و معدنی فلات ایران بود.

تمرین تستی آزمون بعدی: ۵۰ سؤال

کتاب جامع تاریخ ۱ (۵۱۵۴)

سؤال‌های ۵۵۱ تا ۶۰۰

۱۰ دقیقه

جغرافیای ایران
دوره نهم سال اول
درس ۱ تا پایان درس ۵
صفحه ۲ تا صفحه ۴۵

هدف‌گذاری قبل از شروع هر درس در دفترچه سؤال

لطفاً قبل از شروع پاسخ‌گویی به سؤال‌های درس جغرافیای ایران، هدف‌گذاری چند از ۱۰ خود را بنویسید:
از هر ۱۰ سؤال به چند سؤال می‌توانید پاسخ صحیح بدهید؟
عملکرد شما در آزمون قبل چند از ۱۰ بوده است؟
هدف‌گذاری شما برای آزمون امروز چیست؟

چند از ۱۰ آزمون قبل	هدف‌گذاری چند از ۱۰ برای آزمون امروز
---------------------	--------------------------------------

۱۰۱- کدام گزینه درباره مفاهیم اساسی دانش جغرافیا صحیح است؟

(الف) روند تأثیرگذاری و تأثیرپذیری پدیده‌ها در مکان ادامه دارد و این جریان ناپیوسته، منجر به تغییر شکل مکان‌ها می‌شود.
(ب) محیط طبیعی یک مجموعه نامتعادل است.

(پ) فناوری‌های جدید، انسان را قادر ساخته با کمک ابزار و هوش و استعداد فرد، محیط را تغییر دهد و قادر به بهره‌برداری از اعماق زمین شود.
(ت) انسان و محیط دو عامل مهم در علم جغرافیای زیستی است.

(۱) الف، پ (۲) پ، ت (۳) ب، ت (۴) پ

۱۰۲- هر یک از عبارتهای زیر به ترتیب مربوط به کدامیک از مراحل پژوهش در جغرافیا است؟

(الف) پژوهشگر با کمک عکس‌های هوایی و ماهواره‌ای، رشد فیزیکی شهر دماوند را طی یک دهه بررسی می‌کند.
(ب) بین تقاضای نیروی کار در شهر دماوند و جذب جمعیت در آن، رابطه معناداری وجود ندارد.

(پ) به‌نظر می‌رسد وجود خدمات آموزشی، درمانی و تفریحی، عامل افزایش جمعیت شهر دماوند است.

(ت) نتیجه‌گیری - فرضیه - پردازش اطلاعات (۱) نتیجه‌گیری - فرضیه - طرح سؤال - نتیجه‌گیری

(۳) جمع‌آوری اطلاعات (روش کتابخانه‌ای) - نتیجه‌گیری - فرضیه (۴) جمع‌آوری اطلاعات (روش میدانی) - فرضیه - ارائه پیشنهاد

۱۰۳- موضوع «بررسی چشم‌انداز آینده استان تهران به توازن و تعادل جمعیت در تمام نقاط توجه دارد.» بیانگر کدام مرحله پژوهش جغرافیا است؟

(۱) نتیجه‌گیری (۲) ارائه پیشنهاد (۳) پردازش (۴) تدوین فرضیه

۱۰۴- ایران به چه دلیل از موقعیت نسبی ممتازی برخوردار است و کدام ارزش خلیج‌فارس، این منطقه را مورد توجه صادرکنندگان کالاهای صنعتی و غیرصنعتی قرار داده است؟

(۱) قرار گرفتن در مجاورت خلیج‌فارس، دریای عمان، تنگه هرمز و دریای خزر - قرار گرفتن در مرکز و قلب ناحیه سیاسی و جغرافیایی جهان اسلام

(۲) قرار گرفتن در مجاورت خلیج‌فارس، دریای عمان، تنگه هرمز و دریای خزر - درآمد‌ها و دلارهای ناشی از صدور و فروش نفت خام

(۳) وجود عوامل طبیعی و انسانی خاص برای ایران - وجود ذخایر نفت و گاز طبیعی

(۴) قرار گرفتن در منطقه خلیج‌فارس، موازنه قدرت را در جهان تغییر داده است - ارزش و نقش ارتباطی بین قاره آفریقا، اروپا و آسیا

۱۰۵- مثال زیر بیانگر کدام اهمیت ناهمواری است؟

«آریوبرزن با استفاده از تنگه تکاب در مقابل حمله اسکندر مقاومت کرد.»

(۱) تشکیل اجتماعات انسانی

(۲) کوه به عنوان سد یا مانع از جنبه تاریخی

(۳) تأمین‌کننده آب

(۴) نوع معیشت مردم

۱۰۶- شکل مقابل کدام علل پیدایش دشت را بیان می‌کند؟

(۱) انباشت مواد حاصل از فرسایش

(۲) انحلال مواد آهکی و هموار شدن زمین

(۳) اثر فرسایش بادی بر دشت قدیمی

(۴) دشت حد فاصل بین تاقدیس و ناودیس

۱۰۷- کدام گزینه از عوامل گستره فعال البرز محسوب نمی‌شود؟

(۱) گسترش شهرهای پرونوق مانند تهران

(۲) احداث راه‌آهن

(۳) طغیان رودها

(۴) بهره‌برداری از معادن

۱۰۸- کدام مثال زیر از نظر تقسیم‌بندی نواحی آب و هوایی با دیگر موارد منطبق نیست؟

(۱) بیرجند (۲) زاهدان

(۳) بندرعباس (۴) مشهد

۱۰۹- اصلی‌ترین عامل شکل‌گیری بیابان لوت ایران چیست؟

(۱) پرفشار جنب‌حاره‌ای

(۲) جهت رشته‌کوه‌های البرز و زاگرس

(۳) دوری از منابع رطوبت و دریا

(۴) نمکزارهای پف کرده

۱۱۰- علت تفاوت آب و هوایی شهرکرد و دزفول که در یک عرض جغرافیایی واقع شده‌اند در چیست؟

(۱) موقعیت جغرافیایی

(۲) دوری و نزدیکی نسبت به منابع رطوبت

(۳) اثر پرفشار جنب‌حاره‌ای

(۴) اثر ارتفاع و جهت کوهستان



تمرین تستی آزمون بعدی: ۶۰ سؤال

کتاب جامع جغرافیای ایران (۵۱۵۵)

سؤالهای ۴۰۱ تا ۴۶۰

۱۰ دقیقه

جامعه‌شناسی (۱)
دوره نیم‌سال اول
درس ۱ تا پایان درس ۸
صفحه ۳ تا صفحه ۷۴

هدف‌گذاری قبل از شروع هر درس در دفترچه سؤال

لطفاً قبل از شروع پاسخ‌گویی به سؤال‌های درس جامعه‌شناسی، هدف‌گذاری چند از ۱۰ خود را بنویسید:
از هر ۱۰ سؤال به چند سؤال می‌توانید پاسخ صحیح بدهید؟
عملکرد شما در آزمون قبل چند از ۱۰ بوده است؟
هدف‌گذاری شما برای آزمون امروز چیست؟

چند از ۱۰ آزمون قبل	هدف‌گذاری چند از ۱۰ برای آزمون امروز
---------------------	--------------------------------------

۱۱۱- به ترتیب، کدام گزینه جاهای خالی زیر را به درستی تکمیل می‌کند؟

- مجموعه ... جهان اجتماعی را شکل می‌دهد.
- آگاهی و شناختی که جهان اجتماعی براساس آن شکل می‌گیرد، آگاهی ... نیست؛ بلکه نوعی آگاهی ... است.
- همه پدیده‌های اجتماعی، بعد ... ندارند.

- (۱) پدیده‌های اجتماعی - فردی و خصوصی - مشترک و عمومی - معنایی و ذهنی
(۲) کنش اجتماعی - مشترک و عمومی - فردی و خصوصی - محسوس و عینی
(۳) کنش اجتماعی - مشترک و عمومی - فردی و خصوصی - معنایی و ذهنی
(۴) پدیده‌های اجتماعی - فردی و خصوصی - مشترک و عمومی - محسوس و عینی

۱۱۲- به ترتیب، کدام گزینه جدول زیر را به درستی تکمیل می‌کند؟

معتاد شدن به سیگار	ج	ضروری ساختن جامعه‌پذیری و کنترل اجتماعی
الف	پوشش و زبان	ب

- (۱) پیامد طبیعی سیگار کشیدن - ارزش‌ها و هنجارهای اجتماعی - ارزش‌های اجتماعی
(۲) پیامد ارادی سیگار کشیدن وابسته به اراده کنشگر - ارزش‌ها و هنجارهای اجتماعی - پدیده‌های اجتماعی
(۳) پیامد غیرارادی سیگار کشیدن - عقاید و ارزش‌های اجتماعی - هنجارهای اجتماعی
(۴) پیامد ارادی سیگار کشیدن وابسته به اراده کنشگر - عقاید و ارزش‌های اجتماعی - هنجارهای اجتماعی

۱۱۳- کدام گزینه به ترتیب، در ارتباط با تغییرات جهان اجتماعی نادرست و درست است؟

- (۱) تفاوت‌هایی که به حوزه نمادها و هنجارها باز می‌گردد از نوع تفاوت‌های میان جهان‌های اجتماعی مختلف است. - تفاوت‌های مربوط به لایه‌های عمیق جهان اجتماعی و عناصر محوری، سبب تبدیل جهان اجتماعی به جهان اجتماعی دیگر می‌شود.
(۲) رشد یا افول اقتصاد یک جامعه، از جمله تغییرات و تفاوت‌های پذیرفته شده در درون یک جهان اجتماعی است. - تفاوت‌هایی که به ارزش‌های کلان، آرمان‌ها و اعتقادات اصلی باز می‌گردد، از نوع تفاوت‌های میان جهان‌های اجتماعی مختلف است.
(۳) تفاوت‌هایی که مربوط به لایه‌های سطحی جهان اجتماعی باشد، از نوع تفاوت‌هایی است که درون یک جهان اجتماعی پذیرفته می‌شود. - با کم یا زیاد شدن جمعیت یک جامعه، هویت جهان اجتماعی تغییر نمی‌کند.
(۴) دگرگونی زبان و لهجه مردم، از جمله تغییراتی است که جهان اجتماعی را به جهان اجتماعی دیگری تبدیل می‌کند. - تفاوت‌هایی که به حوزه نمادها و هنجارها بازمی‌گردد از نوع تفاوت‌های میان جهان‌های اجتماعی مختلف است.

۱۱۴- چه تعداد از عبارات زیر، ویژگی‌های جهان متجدد از نظر ماکس وبر نمی‌باشد؟

- الف) جهان متجدد، رویکرد دنیوی و این جهانی دارد و در جهت برخورداری از زندگی دنیوی گام برمی‌دارد.
ب) در جهان متجدد، رواج کنش‌های حسابگرانه معطوف به دنیا، عرصه را بر سایر کنش‌های انسانی، تنگ می‌کند.
ج) در این جهان، آدمیان متوجه اهداف دنیوی‌اند و برای رسیدن به این اهداف، از علوم تجربی استفاده می‌کنند.
د) محصول انحراف بشر از فرهنگ توحیدی است و عقاید آن مربوط به همین جهان است.
ه) جهان متجدد فرصت‌رایی از قفسی که انسان برای خود ساخته است، را به وی می‌دهد.

۴ (۴)

۱ (۳)

۲ (۲)

۳ (۱)

۱۱۵- به ترتیب، هر یک از عبارات زیر مربوط به کدام فرهنگ یا جهان است؟

- محصول انحراف بشر از فرهنگ توحیدی است.
- تصرفات انسان در طبیعت مقید به اراده حکیمانۀ الهی است.
- به خداوندگاران و قدرت‌های فوق طبیعی قائل است.
(۱) فرهنگ سکولار - جهان توحیدی - فرهنگ اساطیری
(۲) فرهنگ اساطیری - فرهنگ معنوی - فرهنگ دنیوی
(۳) فرهنگ دنیوی - جهان توحیدی - فرهنگ اساطیری

تمرین تستی آزمون بعدی: ۶۰ سؤال
کتاب جامع جامعه‌شناسی ۱ (۵۱۵۳)
سؤال‌های ۵۵۱ تا ۶۱۰

۱۱۶- کدام گزینه به ترتیب، در ارتباط با موارد زیر صحیح است؟

- استقلال سیاسی ایران پیش از انقلاب اسلامی
- ورود ارزش‌های حقیقی به قلمرو آرمانی جوامع
- ویژگی حقیقت از جهت قرار گرفتن در قلمرو آرمانی و واقعی
- تکاثر، تبعیض نژادی و توحید

- ۱) قلمرو آرمانی - ایمان به آن‌ها - تغییرپذیر - دو مورد اول از عقاید باطل و مورد آخر جزء عقاید حق محسوب می‌شوند.
- ۲) قلمرو واقعی - سامان دادن هنجارها و اعمال براساس آن‌ها - ثابت - مورد اول و سوم از عقاید حق و مورد دوم از عقاید باطل هستند.
- ۳) قلمرو آرمانی - ایمان به آن‌ها - ثابت - دو مورد اول از عقاید باطل و مورد آخر جزء عقاید حق محسوب می‌شوند.
- ۴) قلمرو واقعی - سازمان دادن هنجارها و اعمال براساس آن‌ها - تغییرپذیر - مورد اول و سوم از عقاید حق و مورد دوم از عقاید باطل هستند.

۱۱۷- به ترتیب، کدام گزینه توضیح مناسبی برای موارد زیر بیان کرده است؟

الف) آرمان اجتماعی

ب) شیوه برنامه‌ریزان فرهنگی برای ورود آرمان‌ها به قلمرو واقعی

ج) استکبارستیزی در کشور ایران

د) شناخت باطل بودن مصرف‌گرایی در جامعه

- ۱) مجموعه اهداف و ارزش‌های مشترکی که اعضای یک جهان اجتماعی خواهان رسیدن به آن‌ها هستند. - کنترل اجتماعی و امتناع مردم - درون قلمرو آرمانی و بیرون قلمرو واقعی - از طریق علم متناسب با این زمینه
- ۲) مجموعه اهداف و ارزش‌های مشترکی که اعضای یک جهان اجتماعی خواهان رسیدن به آن‌ها هستند. - تعلیم و تربیت - درون قلمرو آرمانی و واقعی - از طریق علم مرتبط و متناسب با این زمینه
- ۳) پایه‌های شکل‌گیری جهان اجتماعی که براساس آن آگاهی اعضای جهان اجتماعی شکل گرفته است. - تعلیم و تربیت - درون قلمرو آرمانی و واقعی - از طریق علمی که توانایی داوری درباره فنون و روش‌های اجرایی را دارند.
- ۴) پایه‌های شکل‌گیری جهان اجتماعی که براساس آن آگاهی اعضای جهان اجتماعی شکل گرفته است. - کنترل اجتماعی و اقبال مردم - درون قلمرو آرمانی و بیرون قلمرو واقعی - از طریق علمی که توانایی داوری درباره فنون و روش‌های اجرایی را دارند.

۱۱۸- هویت اجتماعی افراد به ترتیب، در جامعه سرمایه‌داری و جامعه دینی بر چه اساسی تعیین می‌شود و مجرای ارتباط ما با جهان اجتماعی چیست؟

۱) جایگاه قبیله‌ای - ثروت و توان اقتصادی افراد - بدن ما

۲) ثروت و توان اقتصادی افراد - عقاید و ارزش‌های مورد احترام آن دین - نقش و عضویت اجتماعی ما

۳) جایگاه قبیله‌ای - عقاید و ارزش‌های مورد احترام آن دین - نقش و عضویت اجتماعی ما

۴) عقاید و ارزش‌های محترم آن دین - توان و ثروت اقتصادی افراد - بدن ما

۱۱۹- به ترتیب، چه تعداد از عبارات‌های زیر صحیح می‌باشد؟

الف) هویت اجتماعی هر فرد، بیرون از جهان اجتماعی و براساس عقاید و هنجارهای آن شکل می‌گیرد.

ب) هر نوع هویت اجتماعی با هر نوع هویت فردی سازگار است.

پ) هویت روانی و اخلاقی جهان متجدد با هویت فرهنگی معنوی ناسازگار نیست.

ت) سه بعد متمایز هویت انسان از یکدیگر جدا نیستند و با یکدیگر تعامل و ارتباط دو سویه دارند.

- ۱) صفر (۲) ۳ (۲) ۴ (۳) ۱ (۴)

۱۲۰- هویت با چه نوع احساسی همراه است و پیامبران و اولیای الهی درباره کدام ابعاد هویت انسان سخن گفته‌اند؟

۱) صرفاً مثبت - ابعاد معنوی و دنیوی هویت فردی و اجتماعی انسان و غفلت و فراموشی او از امکانات و منابع دنیوی

۲) صرفاً منفی - ابعاد دنیوی و مادی هویت فردی و اجتماعی انسان و غفلت و فراموشی او از خویشتن

۳) مثبت یا منفی - ابعاد الهی و فطری هویت فردی و اجتماعی انسان و غفلت و فراموشی او از خویشتن

۴) هم مثبت و هم منفی - ابعاد جسمانی و نفسانی هویت اجتماعی انسان و غفلت و فراموشی او از امکانات و منابع دینی

۱۵ دقیقه

منطق

دوره نیمسال اول

درس ۱ تا پایان درس ۵

صفحة ۳ تا صفحه ۵۲

هدف‌گذاری قبل از شروع هر درس در دفترچه سؤال

لطفاً قبل از شروع پاسخ‌گویی به سؤال‌های درس منطق، هدف‌گذاری چند از ۱۰ خود را بنویسید:
از هر ۱۰ سؤال به چند سؤال می‌توانید پاسخ صحیح بدهید؟
عملکرد شما در آزمون قبل چند از ۱۰ بوده است؟
هدف‌گذاری شما برای آزمون امروز چیست؟

چند از ۱۰ آزمون قبل	هدف‌گذاری چند از ۱۰ برای آزمون امروز
---------------------	--------------------------------------

- ۱۲۱- در تعریف «حرکت» به «انتقال شیء از قوه به فعل به صورت تدریجی» کدام یک از شرایط تعریف صحیح رعایت نشده است؟
(۱) واضح بودن (۲) جامع بودن (۳) مانع بودن (۴) دوری نبودن
- ۱۲۲- به ترتیب کدام یک از گزینه‌های زیر تصدیق است و دلالت کدام یک از گزینه‌های زیر دلالت ضمنی است؟
(۱) خورشید امیدبخش زندگی من - دلالت لفظ درخت بر میوه آن
(۲) هوای آفتابی برای گشت و گذار بسیار مطلوب است. - دلالت لفظ سقف بر دیوار
(۳) امان از دست مردم این شهر - دلالت لفظ خودرو بر راننده آن
(۴) روزگار غریبی است نازنین - دلالت لفظ خانه بر دیوارهای آن
- ۱۲۳- در کدام گزینه هر سه عبارت بیان شده مبین مفهوم تصدیق هستند؟
(۱) زندگی را با امید به آینده بنا کن. - حتماً موفق می‌شوی! - درس بخوان
(۲) توانا بود هر که دانا بود. - پرستیدن مهرگان دین اوست. - آمد.
(۳) قضیه همان تصدیق است. - چگونه آدمی هستی؟ - درس خوان
(۴) دانایی - موفقیت روز افزون - داشتن تلاش و پشت کار
- ۱۲۴- اگر در پاسخ به سؤالات چهارگزینه‌ای، با دلایل منطقی سه گزینه را حذف کرده و به گزینه درست برسیم، از کدام استدلال بهره برده‌ایم و پاسخی که به آن دست یافته‌ایم چگونه قابل توصیف است؟
(۱) استنتاج بهترین تبیین - قطعی
(۲) استنتاج بهترین تبیین - احتمالی
(۳) استقرای تعمیمی - قطعی
(۴) استدلال قیاسی - احتمالی
- ۱۲۵- به ترتیب کدام یک از گزینه‌های زیر مفهومی جزئی است و نسبت کدام یک از گزینه‌های زیر تبیین است؟
(۱) امام اول - مرغ و تخم مرغ
(۲) شکل سه‌ضلعی - گل‌دار و بوته
(۳) پیامبر یهود - رنگ و قرمز
(۴) اورانوس - ماشین و چرخ
- ۱۲۶- کدام گزینه، در مورد تعریف نادرست است؟
(۱) برای شناخت تصورات جدیدتر راهی پر کاربرد در زندگی انسان‌ها به حساب می‌آید.
(۲) فرآیند تعریف کردن اختصاص به مراحل خاصی از زندگی دارد.
(۳) یعنی شناساندن مفاهیم به وسیله مفاهیمی که قبلاً با آن‌ها آشنا شده و آن‌ها را می‌شناسیم.
(۴) در تعریف، تصور مجهول به کمک یک یا چند تصور معلوم شناخته می‌شود.
- ۱۲۷- به ترتیب بگویید اشکال تعریف «انسان: حیوان شهرنشین» چیست و استدلال «دولت همانند یک خانواده نمی‌تواند بیشتر از درآمدش خرج کند» چه نوع استدلالی است؟
(۱) جامع است اما مانع نیست - تمثیلی
(۲) مانع است اما جامع نیست - تعمیمی
(۳) جامع است اما مانع نیست - تعمیمی
(۴) مانع و جامع نیست - تمثیلی
- ۱۲۸- اشکال تعریف‌های زیر به ترتیب در کدام گزینه به درستی مشخص شده‌اند؟
حیوان: موجود جاننداری که حواس دارد.
خفاش: موجودی که در آسمان پرواز می‌کند.
فوتبالیست: انسانی که حرفه‌ای ورزش می‌کند.
دانش‌آموز: انسانی که رمان می‌خواند.
(۱) فاقد اشکال - مانع نیست - مانع نیست - جامع و مانع نیست.
(۲) فاقد اشکال - مانع نیست - مانع نیست - جامع نیست.
(۳) جامع نیست - مانع نیست - جامع و مانع نیست - مانع نیست.
(۴) جامع نیست - مانع نیست - جامع نیست - مانع نیست.
- ۱۲۹- با توجه به جمله، «امروز در شهر تبریز بعد از نماز جمعه در مراسمی از حافظ و قاری‌های قرآن تقدیر شد.» کدام گزینه درست است؟
(۱) «امروز» و «نماز جمعه» کلی هستند.
(۲) «حافظ» و «قرآن» کلی هستند.
(۳) «شهر» و «تبریز» نسبت عموم و خصوص مطلق برقرار است.
(۴) «نماز» و «تقدیر» نسبت تبیین برقرار است.
- ۱۳۰- کدام یک از گزینه‌های زیر درباره علم منطق درست است؟
(۱) حیطة کاربرد منطق در تعریف و استدلال است.
(۲) منطق برنامه‌ای است که به دیگران می‌گوید چگونه فکر کنند.
(۳) عدم آشنایی با انواع خطاهای ذهن، راه جلوگیری از خطاها را نشان می‌دهد.
(۴) منطق علمی برای جلوگیری از خطای اندیشه است.

تمرین تستی آزمون بعدی: ۴۰ سؤال

کتاب جامع منطق (۵۱۷۰)

سؤال‌های ۳۲۱ تا ۳۶۰