

دفترچه شماره ۱

آزمون سراسری ورودی دانشگاه‌های کشور - سال ۱۴۰۰

آزمون عمومی  
گروه آزمایشی علوم تجربی

وقت پیشنهادی	تا شماره	از شماره	تعداد سؤال	مواد امتحانی
۱۸ دقیقه	۲۵	۱	۲۵	زبان و ادبیات فارسی
۲۰ دقیقه	۵۰	۲۶	۲۵	زبان عربی
۱۷ دقیقه	۷۵	۵۱	۲۵	فرهنگ و معارف اسلامی
۲۰ دقیقه	۱۰۰	۷۶	۲۵	زبان انگلیسی
مدت پاسخ‌گویی: ۷۵ دقیقه			تعداد کل سؤالات: ۱۰۰	

## زبان و ادبیات فارسی

## وقت پیشنهادی: ۱۸ دقیقه

۱- معنی واژه‌های «زهی - صاحب‌دل - جفا - مرحمت» به ترتیب در کدام ابیات آمده است؟

- |                                   |                              |                              |                            |
|-----------------------------------|------------------------------|------------------------------|----------------------------|
| الف) ترسی که کسی نیز دل من بریاید | ب) در ناپسته احسان گشاده است | ج) دعا کرد بسیار و کرد آفرین | د) چو هنگام برگشتن شاه بود |
| ۱) ب- الف- د- ج                   | ۲) ب- د- الف- ج              | ۳) ج- الف- د- ب              | ۴) ج- د- الف- ب            |

۲- کدام گزینه، پاسخ مناسبی برای معانی تعداد بیشتری از واژه‌های زیر است؟

«مَنّت - صحیفه - ابدیت - روایی - محظوظ - شگرف - آخته»

- |                                     |  |
|-------------------------------------|--|
| ۱) چاره - کرانه - ارزش - شکر        | ۲) نیرومند - پایندگی - اعتبار - ارزش     |
| ۳) امکان - ساختگی - مانع - جاودانگی | ۴) نیرومند - بی‌کرانگی - اعتبار - نیکویی |

۳- معنی چند واژه غلط است؟

(مستعجل: زودگذر) (تعبیر: عبرت‌آموزی) (بن: پسته وحشی) (کی: پادشاه) (هیون: شتر قوی هیکل) (اسرا: بالا بردن) (جراره: عقرب زرد) (زخمه: ضربه‌زننده) (سعد: خوشبختی)

- |       |       |         |        |
|-------|-------|---------|--------|
| ۱) دو | ۲) سه | ۳) چهار | ۴) پنج |
|-------|-------|---------|--------|

۴- املاي کدام عبارت «کاملاً» درست است؟

۱) از این نمط در حال خشم شیر می‌گفتند تا کراحتی به دل او راه یافت.

۲) مودت او از وصلت تو عوض می‌شمرد و آتش فراغ تو را به آب وصال او تسکینی می‌دهد.

۳) هرکس در میدان بیان به اندازه مجال خود قدمی گزارده‌اند؛ لکن مراد تقریر حکایت بوده است.

۴) هر گناه که از عمد و قصد منزّه باشد، ذات هوا و اخلاص را مجروح نگرداند و در عقوبت آن مبالغت نشاید.

۵- در متن زیر چند «غلط املايي» وجود دارد؟

«در آن خلوت غریب به ناگاه طنین برمهابت صدایش خاموش شد. ناگهان مکثی کرد، گویی مغلب شده باشد. صدایش با درماندگی و زجه همراه شد و من دیگر آثاری از توجیح و تصنع در کلامش ندیدم.»

- |       |       |       |         |
|-------|-------|-------|---------|
| ۱) یک | ۲) دو | ۳) سه | ۴) چهار |
|-------|-------|-------|---------|

۶- در کدام گزینه‌ها «غلط املايي» وجود دارد؟

الف) تا برسیدم شبی از شب‌های غربت بدان دیار و تربت که مقصد بود و فرود آمدم به کاروانسرای که نزول غربا معهود بود.

ب) کار تو همین مزاج دارد و هرگز پند نپذیری و وعظ ناصحان در گوش نگذاری و هرآینه در سر این استبداد و اسرار شوی.

ج) پادشاه موفق آن است که کارهای او به ایثار ثواب نزدیک باشد. نه کسی را به حاجت تربیت کند و نه از بیم عقوبت روا دارد.

د) از شدت و حدت و سورت پادشاهان برحذر باید بودن که غالب همت ایشان به معظمت امور مملکت متعلق باشد.

- |           |         |         |         |
|-----------|---------|---------|---------|
| ۱) الف- ب | ۲) ب- ج | ۳) ب- د | ۴) ج- د |
|-----------|---------|---------|---------|

۷- هریک از عبارات زیر، به ترتیب، از چه کتابی نقل شده است؟

الف) مردان بار را به نیروی همت و بازوی حمیت کشند، نه به قوت تن.

ب) تا در تحصیل فضل و ادب، رغبتی صادق نباشد، این منزلت نتوان یافت.

- |                            |                      |                               |                               |
|----------------------------|----------------------|-------------------------------|-------------------------------|
| ۱) بهارستان - کلیله و دمنه | ۲) گلستان - روضه خلد | ۳) اسرارالتوحید - تاریخ بیهقی | ۴) فیه مافیه - جوامع الحکایات |
|----------------------------|----------------------|-------------------------------|-------------------------------|

۸- آرایه‌های «ایهام، استعاره و جناس تام» تماماً در کدام بیت آمده است؟

۱) نافه مشک ختن گر زانکه می‌خیزد ز چین

۲) مستم آن دم که بمیرم به سر خاک برید

۳) مستی به چشم شاهد دل‌بند ما خوش است

۴) دیدم و آن چشم دل‌سویه که تو داری

۹- آرایه‌های مقابل همه ابیات کاملاً درست است، به جز .....

۱) اگر بر نرگس اندازی نظر نرگس شود ناظر

۲) بوسیدن از جام لبش گر نیست روزی کاشکی

۳) آفتاب از عکس شمشیر تو می‌گیرد فروغ

۴) به مجلسی که زبان آوری کند قلمت

وگر با سوسن آغازی سخن سوسن شود گویا (ایهام - استعاره)

چون جرعه افتادی که من خاک درش بوسیدمی (ایهام - مجاز)

آسمان از بار احسان تو می‌گردد دوتا (تشبیه - اغراق)

به کام درکشید آتش زبان دعوی را (مجاز - استعاره)

۱۰- آرایه‌های بیت زیر، کدام‌اند؟

- تُرک آهوچشمم ای آهووی چشمت شیرگیر  
 (۱) استعاره- اغراق- کنایه- ایهام  
 صید آهووی توام بر صید خویش آهو مگیر  
 (۲) استعاره- تشبیه- جناس تام- کنایه  
 (۳) جناس ناقص- تشبیه- استعاره- مجاز  
 (۴) تشبیه- جناس ناقص- اغراق- ایهام  
 ۱۱- بیت زیر «فاقد» کدام آرایه‌های ادبی است؟

- پیش لب ضحاک تو بس فتنه و آشوب  
 (۱) استعاره- کنایه  
 کز مار سر زلف تو در ملک جم افتد  
 (۲) جناس- تشبیه  
 (۳) مجاز- ایهام  
 (۴) تلمیح- ایهام  
 ۱۲- در جملات کدام ابیات «هم شیوه بلاغی و هم شیوه عادی» مشاهده می‌شود؟

- الف) نیست جاننش محرم اسرار عشق  
 ب) از عمر ذوق دیدم وقتی که با تو بودم  
 ج) جانا هزاران آفرین بر جانت از سر تا قدم  
 د) ای تو با جمله و تنها ز منی فی‌الجمله  
 ه) سیاهوش سیه را به تندی بتاخت  
 (۱) الف- ب- ه  
 (۲) ب- ج- ه  
 (۳) ب- د- ه  
 (۴) ج- د- ه

۱۳- در کدام بیت، حذف فعل به قرینه معنوی و جمله اسنادی مشهود است؟

- (۱) پیاله از تو نگیرم بیار می ساقی  
 (۲) به راه عشق که از هر غمی گریزی نیست  
 (۳) به جان خواجه و حق قدیم و عهد درست  
 (۴) یوسف حسن تو را ای جان هزاران مشتری است  
 ۱۴- صفت‌های «فاعلی، مفعولی، نسبی، لیاقت» به ترتیب، در کدام ابیات آمده است؟

- الف) خواستم از رنجش دوری بگویم یادم آمد  
 ب) جلوه کند چو قامتش زیر قبای زرفشان  
 ج) تا عهد تو دربستم عهد همه بشکستم  
 د) به عصیان سرپای آلوده‌ام  
 (۱) ب- ج- الف- د  
 (۲) ب- د- ج- الف  
 (۳) ج- الف- د- ب  
 (۴) ج- د- الف- ب

- ۱۵- همه موارد در رباعی زیر «کاملاً» یافت می‌شود، به جز .....  
 ای نسخه نامه الهی، که تویی  
 بیرون ز تو نیست هرچه در عالم هست  
 (۱) مترادف واژه «رقع» و یک واژه دوتلفظی در سروده یافت می‌شود.  
 (۲) دو ترکیب اضافی و دو صفت نسبی در ابیات وجود دارد.  
 (۳) ابیات دارای سه متمم و دو منادای محذوف هستند.  
 (۴) ابیات «فاقد» نقش تبعی و دارای مسند هستند.

- ۱۶- نقش واژه‌های مشخص شده به ترتیب، در ابیات زیر کدام است؟  
 به روز مرگ چو تابوت من روان باشد  
 برای من مگری و مگو دریغ! دریغ!  
 (۱) نهاد- مضاف‌الیه- متمم- مسند  
 (۲) متعم- مفعول- متمم- نهاد  
 (۳) نهاد- مضاف‌الیه- مفعول- نهاد  
 (۴) نهاد- مضاف‌الیه- مفعول- مسند

۱۷- مفهوم کدام بیت با سایر ابیات، تفاوت دارد؟

- (۱) محرم این هوش جز بی‌هوش نیست  
 (۲) تا نگردي آشنا زین پرده رمزی نشنوی  
 (۳) از خاصگان دمی است مرا سر به مهر عشق  
 (۴) آشنای حرمی بوده‌ام از جذبه عشق  
 ۱۸- مفهوم مقابل کدام بیت غلط است؟

- (۱) خون در تلاش جامه الوان نمی‌خورم  
 (۲) می‌تواند حلقه بر در زد حریم حسن را  
 (۳) آنکه چون یوسف به نقد جان خریدارش شدم  
 (۴) کمند جذبه خورشید اگر رحمت نفرماید  
 سالی بس است کعبه‌صفت یک قبا مرا (مناعت طبع)  
 در رگ جان هرکه را چون زلف پیچ‌وتاب هست (تجلی معشوق)  
 نیست وزن برگ کاهی در ترازویش مرا (اعراض معشوق)  
 که چون شب‌نم از این پستی به بالا می‌برد ما را (عنایت معبود)

۱۹- مفهوم کدام بیت، یادآور بیت زیر است؟

هم بر چراغندان شما نیز بگذرد

تن به دوزخ برد امسال آنکه گردن بود پار  
خرج اشک و آه شد جسم نزارم همچو شمع  
خرم آن گل که پریشان نشود دفتر او  
لایق صحبت بزم تو شدن آسان نیست

بادی که در زمانه بسی شمع‌ها بکشت

(۱) سر به خاک آورد امروز آن که افسر داشت دی  
(۲) تا گشودم دیده روشن در این ظلمت‌سرا  
(۳) عمر شیرازۀ گل‌های چمن ده روزه است  
(۴) صبر بر داغ دل سوخته باید چون شمع

۲۰- کدام بیت با بیت زیر، تقابل مفهومی دارد؟

زان که توفیق و جهد هست رفیق

که ز غم خوردن تو رزق نگردد کم و بیش  
در تلاش مسند دست سلیمان نیستم  
بر پای سعی سلسله آهنین گذار  
نباید جز به خود محتاج بودن

جهد بر توست و بر خدا توفیق

(۱) پس زانو منشین و غم بیهوده مخور  
(۲) رفته چون مور از قناعت پای سعی من به گنج  
(۳) جویای توست خوشه گندم به صد زبان  
(۴) چه در کار و چه در کار آزمودن

۲۱- کدام بیت «فاقد» مفهوم عبارت زیر است؟

«سودای عشق از زیرکی جهان بهتر ارزد و دیوانگی عشق بر همه عقل‌ها افزون آید.»

من ز عشقت با همه دردی که دارم ناگزیرم  
بگذار که دل حل بکند مسئله‌ها را  
در آن صورت که عشق آید خردمندی کجا ماند  
در آن مقام که سلطان عشق روی نمود

(۱) درد هر کس را که بینی در حقیقت چاره دارد  
(۲) یک بار هم ای عشق من از عقل میندیش  
(۳) بسا نفس خردمندان که در بند هوا ماند  
(۴) سوار عقل که باشد که پشت ننماید؟

۲۲- مفهوم کدام بیت با بیت زیر، مغایرت دارد؟

نگردد تبّه نام و گفتار پاک

که کردار او خوب و گفتار راست  
و گر هیچ کس را نیاید پسند  
ز نامش نگردد نهان آبروی  
که جز حدیث نمی‌ماند از بنی آدم

ز خورشید و از آب و از باد و خاک

(۱) نکونامی از گیتی آن را سزاست  
(۲) بگوی آنچه دانی سخن سودمند  
(۳) هم از پیشه‌ها آن گزین کاندراوی  
(۴) خنک کسی که پس از وی حدیث خیر کنند

۲۳- کدام دو بیت با یکدیگر، قرابت مفهومی دارد؟

بر صدر سلاطین نتوان یافت گدا را  
در آفتاب سایه شاه و گدا یکی است  
به از پادشاهی که خرسند نیست  
سیل یکسان می‌کند پست و بلند راه را  
که گدایان درش را سر سلطانی نیست

(الف) ما را به سرپرده قربت که دهد راه  
(ب) در چشم پاک‌بین نبود رسم امتیاز  
(ج) گدایی که بر خاطرش بند نیست  
(د) عشق بر یک فرش بنشانند گدا و شاه را  
(ه) گر گدایی کنی از درگه او کن باری

(۴) ج- د

(۳) ب- د

(۲) ب- ه

(۱) الف- ج

۲۴- مفهوم کدام بیت، با مفهوم کلی داستان سیاوش تناسب دارد؟

بلبل از روی تو بیند طلب گل نکند  
که ضایع نگرداندت روزگار  
گر اینده گردد به آیین و راه  
ور گل‌افشان می‌کند در بوستان آسوده‌ایم

(۱) به گلستان نروم تا تو در آغوش منی  
(۲) اگر قیمتی گوهری غم‌مدار  
(۳) به یزدان کند پوزش او از گناه  
(۴) برق نوروزی گر آتش می‌زند در شاخسار

۲۵- مفهوم عبارت زیر با کدام بیت، قرابت دارد؟

«هنگامی که در فروتنی بزرگ باشیم، بیش از همه به آن بزرگ نزدیک شده‌ایم.»

آن را که او به دانشش والا شد  
تا صید کنی هزار دل در نفسی  
مهربانی و تواضع از بزرگان خوش‌نماست  
هست پیچیدن کلید قفل این گنجینه را

(۱) خوی مهان بگیر و تواضع کن  
(۲) چون زلف بتان شکستگی عادت کن  
(۳) سهل باشد گر کنند افتادگان افتادگی  
(۴) نشکنی تا خویش را از دوست کی یابی نشان

■ عَيْنُ الْأَنْسَبِ لِلْجَوَابِ عَنِ التَّرْجُمَةِ أَوْ الْمَفْهُومِ مِنْ أَوْ إِلَى الْعَرَبِيَّةِ (۲۶-۳۵):

۲۶- ﴿إِنَّ اللَّهَ لَا يُغَيِّرُ مَا بِقَوْمٍ حَتَّىٰ يُغَيِّرُوا مَا بِأَنْفُسِهِمْ﴾:

- ۱) همانا الله چیزی را که در دل قوم وجود دارد دگرگون نمی کند مگر وقتی که درون خویش را دگرگون کنند!
  - ۲) قطعاً الله در آنچه در اقوام وجود دارد تغییر ایجاد نمی کند مگر زمانی که آنچه در دلهاشان هست تغییر کند!
  - ۳) همانا خداوند آنچه را در قومی هست تغییر نمی دهد تا اینکه آنچه را در دل های خود دارند تغییر دهند!
  - ۴) قطعاً خداوند چیزی را که در دل اقوام هست دگرگون نمی سازد مگر اینکه ابتدا دل های خود را دگرگون نمایند!
- ۲۷- «إِذَا كُنْتَ وَاثِقًا بِنَفْسِكَ فَإِنَّكَ تَسْتَطِيعُ أَنْ تُشَجِّعَ الْأَخْرِيْنَ عَلَىٰ أَنْ يَكُونُوا وَاثِقِينَ بِأَنْفُسِهِمْ!»:

- ۱) هرگاه به خود اعتماد کنی، تو می توانی دیگران را به اینکه از خود مطمئن باشند، تشویق کنی!
  - ۲) اگر به خود اعتماد داشته باشی، می توانی دیگران را تشویق کنی به اینکه به خود اعتماد داشته باشند!
  - ۳) زمانی که به خود اطمینان داشته باشی، دیگران را به اینکه به خود با اعتماد باشند، ترغیب می کنی!
  - ۴) اگر از نفس خود مطمئن باشی، دیگران را ترغیب به این می کنی که به نفس های خودشان اطمینان داشته باشند!
- ۲۸- «فِي الْحَيَاةِ الْفَرْدِيَّةِ مِنَ الْجَمِيلِ جَدًّا أَنْ تَجْعَلَ عَدُوَّكَ صَدِيقًا وَ الْأَجْمَلَ أَلَّا يَتَسَعَ قَلْبُكَ لِلْعَدَاوَةِ!»:

- ۱) در زندگی شخصی زیباست جداً که دشمنت، دوست گردد و زیباتر است که قلبت برای دشمن شدن، فراخ نگردد!
  - ۲) بسیار زیباست که در زندگی شخصی، دشمن خود را دوست بگردانی، و زیباتر اینکه قلبت برای دشمنی فراخ نشود!
  - ۳) بسیار زیباست که در زندگی شخصی دشمنت را دوست قرار بدهی، و زیباتر اینکه قلب خود را برای دشمنت گسترده نکنی!
  - ۴) زیباست که در زندگی شخصی از دشمن خود دوست بسازی، و زیباتر است که قلب خود را برای دشمن شدن، گسترش ندهی!
- ۲۹- «مَا قَلَّ عَدَدُ الْأَشْخَاصِ الْمُخْلِصِينَ الَّذِينَ تَسْتَطِيعُ أَنْ نَسْتَعِينُ بِهِمْ حَتَّىٰ نَجِدَ طَرِيقًا بِسَهُولَةٍ!»:

- ۱) کم نشده است تعداد افراد با اخلاص که بتوانیم از آن ها یاری بجویم تا راه خود را به راحتی بیابیم!
  - ۲) چه کم اند افرادی که مخلص باشند و بتوانیم از آن ها یاری بخواهیم تا راهی آسان برای خود پیدا کنیم!
  - ۳) کم نبوده است افراد مخلصی که می توانستیم از آن ها یاری بخواهیم تا اینکه راه آسان خود را پیدا کنیم!
  - ۴) کم نیست تعداد اشخاص با اخلاصی که می توانیم برای یاری جستن به آن ها روی آوریم تا راه خویش را راحت بیابیم!
- ۳۰- «بَدَأَ إِخْوَانِي الْمَزَارِعُونَ يَحْصِدُونَ الزَّرْعَ بِأَلَّةٍ ذَاتِ يَدٍ مِنَ الْخَشَبِ وَ سِنَّ عَرِيضَةٍ مِنَ الْحَدِيدِ»:

- ۱) برادران کشاورزم با وسیله ای که دارای دسته ای چوبی و دندانه ای پهن از آهن است، شروع کردند کشت را درو کنند!
- ۲) برادرانم که کشاورز هستند زراعت را با وسیله ای که دسته اش چوبی و دندانه های پهنش آهنی است درو می کنند!
- ۳) برادرانم که کشاورزند درو کردن زراعت را با وسیله ای که دسته ای چوبی داشت و دندانه های پهنش از آهن بود، شروع نمودند!
- ۴) برادران کشاورزم با وسیله ای که دارای دسته ای چوبی و دندانه هایی پهن از جنس آهن بود، شروع به درو کردن کشت نمودند!

۳۱- «عِيُونَ الْخَفَاشِ يَفْتَحُهَا ظِلَامُ اللَّيْلِ عِنْدَمَا يُبْسِطُ عَلَىٰ كُلِّ الْأَشْيَاءِ، وَ تُغْلِقُهَا ضِيَاءُ الشَّمْسِ الَّتِي نَجِدُ طَرِيقًا بِنُورِهَا!»:

- ۱) با تاریکی شب که بر همه چیز گسترده است چشمان خفّاش باز می شود و نور خورشید که با روشنی آن راه خود را می یابیم آن ها را می بندد!
- ۲) تاریک بودن شب که بر همه چیزها گسترده است چشمان خفّاش را باز می کند، و روشنی خورشید که نورش هدایت مان می کند آن ها را می بندد!
- ۳) چشمان خفّاش را تاریکی های شبانه که بر همه چیز گسترده می شود باز می نماید، و روشنایی خورشید که به وسیله نور آن هدایت می یابیم آن ها را می بندد!
- ۴) چشمان خفّاش را تاریکی شب هنگامی که بر همه چیزها گسترده می شود باز می کند، و نور خورشید که با روشنایی آن راه خود را می یابیم آن ها را می بندد!

۳۲- «هناك أشجارٌ تعيش بالإلتفاف حول جذور و جذوع الأشجار الأخرى و تنمو بحَنق الأخرين»:

- ۱) درخت هایی وجود دارند که با پیچیدن اطراف ریشه و تنه درخت های دیگر زندگی کرده و با خفقان بقیه رشد کرده اند!
- ۲) درخت هایی هستند که دور ریشه و تنه دیگر درخت ها پیچیده زندگی و رشد می کنند، در حالی که برای بقیه خفقان می آورند!
- ۳) درختانی وجود دارند که با پیچیدن دور ریشه ها و تنه های درختان دیگر زندگی می کنند و با خفه کردن دیگران رشد می کنند!
- ۴) آنجا درختانی با دربرگرفتن ریشه ها و تنه های درختان دیگر زندگی می کنند و رشد می نمایند، در حالی که دیگران را خفه می کنند!

۳۳- عَيْنُ الْخَطَأِ:

- ۱) لَا تَزُولُ ظِلْمَاتُ الْجَهْلِ إِلَّا بِمَصَابِيحِ الْعِلْمِ! تاریکی های جهل فقط با چراغ های علم از بین می رود!
- ۲) مَا إِمْتَنَعَ الطُّفْلُ أَنْ يَأْكُلَ الطَّعَامَ الَّذِي قَدْ طَبَخْتَهُ الْأُمُّ! کودک امتناع نکرد غذایی را که مادر پخته، بخورد!
- ۳) تَلْقِيبُ الْأَخْرِيْنَ هَا يَكْرَهُونَ عَمَلًا قَبِيحًا! لقب دادن دیگران به آنچه ناپسند می دانند کار زشتی است!
- ۴) يُقَطِّعُ التَّوَاصُلَ بَيْنَ الْأَصْدِقَاءِ بِالْغِيْبَةِ وَ الْإِسْتِهْزَاءِ! ارتباط بین دوستان را غیبت و مسخره کردن قطع می کند!

۳۴- عَيْنِ الْخَطَأِ:

- (۱) اجعل فشلك بدايةً جديدةً لنجاحك! شكستت را آغازی نو برای موفقیت خود قرار بده!
- (۲) إذا عَزَمْتَ أَنْ تَبْدَأَ عَمَلًا فَإِنَّكَ قَدْ قَطَعْتَ نَصْفَ الطَّرِيقِ! هرگاه تصمیم به انجام دادن کاری گرفتی، نیمی از راه را پیمودی!
- (۳) إِنْ اسْتَطَعْتَ أَنْ تَمَلَأَ دَقَائِقَ حَيَاتِكَ بِالْعَمَلِ الْمُفِيدِ نَجَحْتَ! اگر بتوانی دقایق زندگی خود را با عمل مفید پر کنی، موفق می‌شوی!
- (۴) طَلَبَ التَّلَامِيذُ مِنَ الْمَدِيرِ أَنْ يُوجِّلَ الْإِمْتِحَانَاتِ لِأَسْبُوعَيْنِ آخَرَيْنِ! دانش‌آموزان از مدیر خواستند که امتحانات را برای دو هفته دیگر به تأخیر بیندازد!

۳۵- «پرنده باهوش تظاهر کرد که بالش شکسته است!» عَيْنِ الصَّحِيحِ:

- (۱) تَظَاهَرَ الطَّائِرُ الذَّكِيَّ بِأَنَّ جَنَاحَهُ مَكْسُورٌ! (۲) يَتَظَاهَرُ الطَّائِرُ الذَّكِيَّ بِأَنَّهُ مَكْسُورُ الْجَنَاحِ!
- (۳) تَظَاهَرَ طَائِرٌ ذَكِيٌّ أَنَّ الْجَنَاحَ لَهُ مَكْسُورٌ! (۴) يَتَظَاهَرُ طَائِرٌ ذَكِيٌّ أَنَّهُ مَكْسُورٌ فِي الْجَنَاحِ!

■ إقرأ النص التالي ثم أجب عن الأسئلة بما يناسب النص (۴۲-۳۶):

«تَعْتَمِدُ الْمِلْيَارَاتُ مِنَ النَّاسِ فِي جَمِيعِ أَنْحَاءِ الْعَالَمِ، خَاصَّةً فِي أَفْقَرِ دُولِ الْعَالَمِ، عَلَى الْمُحِيطَاتِ وَ الْبِحَارِ فَإِنَّهَا مُؤَثِّرَةٌ بِشَكْلِ أُسَاسِيٍّ فِي إِيجَادِ فُرْصِ الْعَمَلِ وَ كَذَلِكَ الْحُصُولِ عَلَى الْغِذَاءِ وَ الْاِحْتِيَاجَاتِ الْيَوْمِيَّةِ. إِنَّ الْبِلَادَ الْمُجَاوِرَةَ لِهَذِهِ النِّعْمَةِ الْكُبْرَى تَسْتَفِيدُ مِنْهَا بِأَشْكَالٍ مُخْتَلِفَةٍ فِي مَجَالِ تَنْمِيَةِ اِقْتِصَادِهَا وَ مَوْهَبَاتِهَا؛ فَإِنَّهَا إِضَافَةً إِلَى أَنَّهَا مَصَادِرٌ مِنَ النِّعَمِ الْغِذَائِيَّةِ وَ غَيْرِهَا فَهِيَ فُرْصَةٌ ذَهَبِيَّةٌ لِجَذْبِ السُّوَّاحِ وَ الْمُسَافِرِينَ مِنْ جَمِيعِ بِلَادِ الْعَالَمِ لِلتَّفَرُّجِ وَ التَّلَذُّذِ. وَ الْأَمْرُ الْجَدِيدُ بِالذِّكْرِ هُوَ أَنَّ النُّقْلَ الْبَحْرِيَّ أَصْبَحَ الْآنَ أَحَدَ طُرُقِ الْاِتِّصَالِ الْأَسَاسِيَّةِ بَيْنَ الْبِلَادِ، فَذَلِكَ يُعَدُّ مِنْ عَوَامِلِ تَنْشِيطِ الْاِقْتِصَادِ. وَ أَخِيرًا مَا تَجِبُ مُرَاعَاتُهَا هِيَ أَنَّ الْبِحَارَ لَيْسَتْ مَكَانًا لِلنَّفَايَاتِ فَإِنَّ عَدَمَ رِعَايَةِ هَذَا الْأَمْرِ يُسَبِّبُ هَلَاكَةَ الْإِنْسَانِ بِيَدِهِ!»

۳۶- عَيْنِ مَا لَمْ يَذْكَرْ فِي النَّصِّ:

- (۱) أثر البحار في الهواء النقي! (۲) البحار و أثرها على إملء ساعات الفراغ!
- (۳) حياة الناس و أثر البحار عليها! (۴) أثر البحار في تواصل البلاد بعضها بعضًا!

۳۷- عَيْنِ مَا لَيْسَتْ مِنْ فَوَائِدِ الْبِحَارِ:

- (۱) إيجاد منظّمات للنقل! (۲) هي أماكن لنفاية المصانع!
- (۳) تأسيس الشركات الغذائية! (۴) شواطئها أماكن للاستراحة!

۳۸- كَيْفَ يَقْتُلُ الْإِنْسَانُ نَفْسَهُ؟

- (۱) بتلويث مياه البحار! (۲) بعدم تنمية اقتصاد بلاده بالبحار!
- (۳) بالاستفادة من النفايات! (۴) بإلقاء ما بقي من طعامه في البحر!

۳۹- العنوان المناسب للنص هو .....

- (۱) مصادر البحار الغذائية! (۲) أهمية البحار! (۳) أثر النفايات في البحار! (۴) النقل البحري!

■ عَيْنِ الْخَطَأِ فِي الْإِعْرَابِ وَ التَّحْلِيلِ الصَّرْفِيِّ (۴۲-۴۰):

۴۰- «تَعْتَمِدُ»:

- (۱) فعل مضارع- له ثلاثة حروف أصلية و هي «ع م د» و ماضيه «اعتمد» على وزن افتعل
- (۲) مضارع- للمؤنث الغائب- مصدره «اعتماد»/ فعل و فاعله «المليارات» و الجملة فعلية
- (۳) فعل مضارع- حروفه الأصلية ثلاثة «ع ت م» و مصدره «اعتماد» على وزن افتعال/ فاعله «المليارات»
- (۴) مضارع- للمفرد المؤنث الغائب- له حرفان زائدان، ماضيه «اعتمد» و مصدره «اعتماد» على وزن افتعال

۴۱- «أَصْبَحَ»:

- (۱) فعل ماضٍ- للغائب- من الأفعال الناقصة بمعنى «صار»- حرفه الزائد: الهمزة
- (۲) فعل ماضٍ- من الأفعال الناقصة بمعنى «كان» وزنه «أفعل» و مصدره «إفعل»
- (۳) ماضٍ- للمفرد المذكر الغائب- له حروف ثلاثة أصلية و حرف واحد زائد، مصدره «إصباح»
- (۴) ماضٍ- للمفرد المذكر الغائب- على وزن «أفعل» و وزن مصدره: إفعال- له حرف واحد زائد

۴۲- «أَفْقَرُ»:

- (۱) مفرد مذكر- اسم تفضيل- مجرور بحرف الجر؛ في أفقر: جار و مجرور
- (۲) اسم- اسم تفضيل (جمعه على وزن «أفاعل»)- فعله: «فقر» و مصدره: «فَقَّرَ»
- (۳) مفرد مذكر- اسم تفضيل (بمعنى «ترين»، و هو مضاف)- مجرور بحرف الجر «في»
- (۴) اسم- مفرد مذكر- اسم تفضيل (مؤنثه على وزن «أفعله» و جمعه على وزن «أفاعل»)

■ عین المناسب للجواب عن الأسئلة التالية (۴۳-۵۰):

۴۳- عین الخطأ في ضبط حركات الحروف:

- (۱) أمتى أن أتشرف مع جميع أعضاء الأسرة لزيارة مكة المكرمة!
- (۲) يجب أن يكون كلامه ليئلاً على قدر عقول المستمعين لكي يقنعهم!
- (۳) عندما يتأكد الطائر من خداع العدو و إنقاذ حياة فراخه، يطير بغتة!
- (۴) أمرهم ذوالقرنين بأن يأتوا بالحديد والنحاس فوضعهما في ذلك المضيق!

۴۴- عین الصحيح عن المفردات:

- (۱) من ثؤلمه رجله لا يقدر الصعود إلى القمة! (جمع) ← رجال، قمم
- (۲) هواة كرة القدم يجتمعون في الملعب! (متضاد) ← راغبون، ينتشرون
- (۳) هو من أهم الكتاب على رغم ظروفه القاسية! (مفرد) ← كتاب، ظرف
- (۴) بعد ذلك جاء بهدايا كثيرة فرفضها الملك! (المترادف) ← أتى به لم يقبل

۴۵- عین الخطأ عن المفهوم:

- (۱) الزرع: مكان يعمل المزارع فيه!
- (۲) زرع: جعل البذور تحت التراب!
- (۳) المزارع: من يزرع شيئاً في الأرض ثم يحصده!
- (۴) المزارع: الأراضي التي زرع فيها الزرع، و الزارع يحصده!

۴۶- عین ما فيه اسم التفضيل:

- (۱) لا خير لنا في مصاحبة الإنسان الكذاب!
- (۲) ما تقدموا لأنفسكم من خير تجدوه عند الله!
- (۳) جهز نفسك لشر الأشياء و عليك أن ترجوا خيرها!
- (۴) جعل الله في كل نعمة خيراً إن لم تبدلها إلى شر!
- (۱) كان التلاميذ يقذفون الكرة حتى تدخل المرعى!
- (۲) كان ذلك الكتاب يضم الكلمات الفارسية و العربية!
- (۳) كان أبي يأمرني بمداواة الناس كما يأمرني بأداء الفرائض!
- (۴) كان طعم البرتقال الذي ينبت في شمال إيران لذيذاً!

۴۸- عین «لا» لفي الجنس:

- (۱) سيأتي يوم لا نفعنا مال و بنون فعلياً أن نجمع الخيرات لأنفسنا لذلك اليوم!
- (۲) إن كنت مع الله فلا تحزن أبداً و لا تضل عن صراطه و لا تفقد محبته!
- (۳) اصطدم إطار سيارتي بشيء حاد فانفجر و لا إطار احتياطي عندي!
- (۴) هل تنسى أن تذكر نعمة ربك؟ لا أنا لست من الغافلين!

۴۹- عین «ما» تختلف في المعنى:

- (۱) ما أفتق المتكلم المستمعين مع أن كلامه ليئ!
- (۲) ما قطع كلام معلّم حتى يفرغ من الكلام!
- (۳) ما استخدم المزارع السياج إلا لحماية محاصيله!
- (۴) ما أجمل الصف الذي يحب المعلم التلاميذ و يحبونه!

۵۰- عین ما فيه الحصر:

- (۱) لا يقدر أحد صعود الجبل المرتفع إلا الإنسان القوي!
- (۲) ما نال هذا الشاعر الجوائز بعد إنشاده إلا جائزة ثمينة!
- (۳) لا تنقل إلى موقف تصلح السيارات إلا سيارة معطلة!
- (۴) لا نشترى الفاكهة اليوم إلا نوعاً واحداً منها و هو التفاح!

### وقت پيشنهائی: ۱۷ دقیقه

### فرهنگ و معارف اسلامی

۵۱- اولین گام برای حرکت در مسیر رستگاری کدام است و آیه شریفه ﴿إِنَّا هَدَيْنَاهُ السَّبِيلَ إِمَّا شَاكِرًا وَإِمَّا كَفُورًا﴾ به کدام ویژگی انسان اشاره دارد؟

- (۱) شناخت جامع ترین و اصلی ترین هدف زندگی و تقرب به آن - هدایت و شکر
- (۲) شناخت جامع ترین و اصلی ترین هدف زندگی و تقرب به آن - اختیار و انتخاب
- (۳) شناخت توانایی ها و سرمایه های انسانی و شناخت موانع حرکت انسان در مسیر تقرب - هدایت و شکر
- (۴) شناخت توانایی ها و سرمایه های انسانی و شناخت موانع حرکت انسان در مسیر تقرب - اختیار و انتخاب

۵۲- کسانی که باور دارند ﴿وَمَا هَذِهِ الْحَيَاةُ الدُّنْيَا إِلَّا لَهُوٌّ وَلَعِبٌ...﴾ کدام مورد را پذیرفته اند؟

- (۱) ﴿حَتَّىٰ إِذَا جَاءَ أَحَدَهُمُ الْمَوْتُ قَالَ رَبِّ ارْجِعُونِ لَعَلِّي أَعْمَلُ صَالِحًا﴾
- (۲) ﴿وَاصْبِرْ عَلَىٰ مَا أَصَابَكَ إِنَّ ذَٰلِكَ مِنْ عَزْمِ الْأُمُورِ﴾
- (۳) ﴿اللَّهُ لَا إِلَهَ إِلَّا هُوَ لِيَجْمَعَنَّكُمْ إِلَىٰ يَوْمِ الْقِيَامَةِ لَا رَبَّ فِيهِ﴾
- (۴) ﴿مَا هِيَ إِلَّا حَيَاتُنَا الدُّنْيَا نَمُوتُ وَنَحْيَا وَمَا يُهْلِكُنَا إِلَّا الدَّهْرُ﴾

۵۳- درخواست گناهکاران برای بازگشت به دنیا چه زمانی مطرح می‌شود و این درخواست با کدام توجیه بیان می‌گردد؟

(۱) «حَتَّىٰ إِذَا جَاءَ أَحَدَهُمُ الْمَوْتُ» - «لَعَلِّي أَعْمَلُ صَالِحًا فِيمَا تَرَكْتُ»

(۲) «لِيَجْمَعَنَّهُمْ إِلَىٰ يَوْمِ الْقِيَامَةِ» - «لَعَلِّي أَعْمَلُ صَالِحًا فِيمَا تَرَكْتُ»

(۳) «حَتَّىٰ إِذَا جَاءَ أَحَدَهُمُ الْمَوْتُ» - «كَلَّا إِنَّهَا كَلِمَةٌ هُوَ قَائِلُهَا»

(۴) «لِيَجْمَعَنَّهُمْ إِلَىٰ يَوْمِ الْقِيَامَةِ» - «كَلَّا إِنَّهَا كَلِمَةٌ هُوَ قَائِلُهَا»

۵۴- با بدکارانی که در روز قیامت سوگند دروغ می‌خورند، چگونه برخورد می‌شود؟

(۱) «إِنَّمَا يَأْكُلُونَ فِي بُطُونِهِمْ نَارًا» (۲) «بَنبَاءَ الْإِنْسَانِ يُؤْمِنُ بِمَا قَدَّمَ وَأَخَّرَ»

(۳) «الْيَوْمَ نَخْتِمُ عَلَىٰ أَفْوَاهِهِمْ...» (۴) «يَوْمَ تَرْجُفُ الْأَرْضُ وَالْجِبَالُ...»

۵۵- مطابق آیات سوره مدثر جهنمیان در پاسخ به سؤال «چه چیزی شما را به دوزخ درآورد؟» چه می‌گویند؟

(۱) خدا را فرمان نمی‌بردیم و پیامبر او را اطاعت نمی‌کردیم، شقاوت بر ما چیره شد و گمراه بودیم و بر گناهان بزرگ اصرار می‌ورزیدیم.

(۲) ما در دنیا نماز نمی‌خواندیم و از محرومان دستگیری نمی‌کردیم، شقاوت بر ما چیره شد و گمراه بودیم و بر گناهان بزرگ اصرار می‌ورزیدیم.

(۳) خدا را فرمان نمی‌بردیم و پیامبر او را اطاعت نمی‌کردیم، همراه بدکاران غرق در معصیت خدا می‌شدیم و روز رستاخیز را تکذیب می‌کردیم.

(۴) ما در دنیا نماز نمی‌خواندیم و از محرومان دستگیری نمی‌کردیم، همراه بدکاران غرق در معصیت خدا می‌شدیم و روز رستاخیز را تکذیب می‌کردیم.

۵۶- سرنوشت ابدی انسان‌ها بر چه اساسی تعیین می‌شود و وظیفه ما پس از دریافت این حقیقت کدام است؟

(۱) اعمال آنان در دنیا - قدم در مسیری بگذاریم که موفقیت آن حتمی باشد.

(۲) اعمال آنان در دنیا - با عزم خویش، آنچه را که انتخاب کرده‌ایم عملی سازیم.

(۳) شناخت اهداف متعالی - قدم در مسیری بگذاریم که موفقیت آن حتمی باشد.

(۴) شناخت اهداف متعالی - با عزم خویش، آنچه را که انتخاب کرده‌ایم عملی سازیم.

۵۷- مطابق آیات قرآن کریم، کدام مورد آثار توجه کردن به دعوت‌های شیطانی برای ترویج قمار و شراب را بیان نموده است؟

(۱) نجاست و پلیدی ظاهری - بازداشتن از نماز (۲) دوری از یاد خدا - بازداشتن از نماز

(۳) نجاست و پلیدی ظاهری - بی‌خاصیت شدن نماز (۴) دوری از یاد خدا - بی‌خاصیت شدن نماز

۵۸- آراستگی و مقبولیت مربوط به کدام مورد است و «تبرج» در قرآن به چه معنا است؟

(۱) علت عفاف در زنان و مردان است - زیاده‌روی در آراسته کردن خود و خودنمایی

(۲) یکی از جلوه‌های عفاف است - زیاده‌روی در آراسته کردن خود و خودنمایی

(۳) علت عفاف در زنان و مردان است - تحسین و تمجید از آراستگی ظاهری

(۴) یکی از جلوه‌های عفاف است - تحسین و تمجید از آراستگی ظاهری

۵۹- کدام مورد توصیف عفاف حضرت مریم عَلَيْهَا السَّلَامُ در قرآن و حضور زنان مسلمانان در زمان پیامبر اکرم صَلَّى اللَّهُ عَلَيْهِ وَسَلَّمَ در تاریخ را بیان نموده است؟

(۱) با پوشش و حجاب کامل مردم را به دین مسیح صَلَّى اللَّهُ عَلَيْهِ وَسَلَّمَ دعوت می‌کرد - در پشت جبهه‌های جنگ برای پرستاری و کمک به مجروحان حاضر می‌شدند.

(۲) با پوشش و حجاب کامل مردم را به دین مسیح صَلَّى اللَّهُ عَلَيْهِ وَسَلَّمَ دعوت می‌کرد - همه‌جا در کنار مردان برای یاری رساندن به اسلام با حجاب کامل حضور داشتند.

(۳) حضور او در معبدی که همگان چه زن و مرد به پرستش می‌آیند را می‌ستاید - در پشت جبهه‌های جنگ برای پرستاری و کمک به مجروحان حاضر می‌شدند.

(۴) حضور او در معبدی که همگان چه زن و مرد به پرستش می‌آیند را می‌ستاید - همه‌جا در کنار مردان برای یاری رساندن به اسلام با حجاب کامل حضور داشتند.

۶۰- کدام مورد دلیلی برای عبارت قرآنی «قطعاً دین نزد خداوند، اسلام است» بیان نموده است؟

(۱) پیروان همه ادیان از حقانیت آن آگاه هستند و فقط به دلیل حسادت در راه دین مخالفت می‌کنند.

(۲) محتوای اصلی دعوت همه پیامبران یکسان بوده و اندک تفاوتی در اصول و احکام فرعی آن‌ها وجود دارد.

(۳) همه انسان‌ها در دوست داشتن فضایل اخلاقی و بیزاری از رذایل اخلاقی و عمل به احکام الهی مشترک هستند.

(۴) ویژگی‌هایی که خداوند در اصل آفرینش انسان قرار داده است با سایر موجودات متفاوت و در نوع انسان مشترک است.

۶۱- عاقبت تلاش مخالفان سرسخت اسلام در مواجهه با سنت تحدی کدام است و متن‌های ارائه شده در برابر قرآن چه سرنوشتی پیدا کرده است؟

(۱) «لَا يَأْتُونَ بِمِثْلِهِ وَ لَوْ كَانَ بَعْضُهُمْ لِبَعْضٍ ظَهِيرًا» - ممکن است برای افراد غیرمتخصص بی‌عیب جلوه کند.

(۲) «لَا يَأْتُونَ بِمِثْلِهِ وَ لَوْ كَانَ بَعْضُهُمْ لِبَعْضٍ ظَهِيرًا» - توسط هیچ فرد آگاه و ناآگاهی پذیرفته نمی‌شود.

(۳) «أَمْ يَقُولُونَ افْتَرَاهُ قُلْ فَأْتُوا بِسُورَةٍ مِّثْلِهِ» - ممکن است برای افراد غیرمتخصص بی‌عیب جلوه کند.

(۴) «أَمْ يَقُولُونَ افْتَرَاهُ قُلْ فَأْتُوا بِسُورَةٍ مِّثْلِهِ» - توسط هیچ فرد آگاه و ناآگاهی پذیرفته نمی‌شود.



۶۲- کدام مورد به جنبه‌ای از اعجاز پیامبر اکرم ﷺ اشاره دارد که لازمه تحقق آن مجاهدت‌های ایشان بوده است؟

(۱) همبستگی عظیم مسلمانان و قدردانی از تلاش‌ها و مجاهدت‌های ایثارگران در جنگ‌ها

(۲) بنای جامعه‌ای باایمان به خدا و به دور از شرک در سرزمین بیگانه از ارزش‌های انسانی

(۳) بینش عمیقی که از آن برخوردار هستند و دوری از گرفتاری در خطا و اشتباه در نتیجه آن

(۴) غلبه بر هوی و هوس با وجود غریزه و اختیار و عوض نکردن هیچ چیز در دنیا با محبت و رضایت خدا

۶۳- مطابق روایت نبوی، شرط باقی ماندن بر عقیده به موعود کدام است و پدر بزرگوار منجی بشریت، فرزند کدام جانشین پیامبر اکرم ﷺ است؟

(۱) ایمان راسخ - حسن بن علی رضی الله عنه

(۲) قیام برای خدا - حسن بن علی رضی الله عنه

(۳) ایمان راسخ - علی بن محمد رضی الله عنه

(۴) قیام برای خدا - علی بن محمد رضی الله عنه

۶۴- از دیدگاه پیامبر اکرم ﷺ، نتیجه تبعیض در اجرای عدالت کدام است و ایشان چگونه با این مسئله مبارزه نمود؟

(۱) پذیرفتن تفاوت طبقاتی - ایستادگی در مقابل تعصبات قومی و قبیله‌ای

(۲) پذیرفتن تفاوت طبقاتی - تقسیم اموال در میان مسلمین به تساوی

(۳) سقوط اقوام و ملل - ایستادگی در مقابل تعصبات قومی و قبیله‌ای

(۴) سقوط اقوام و ملل - تقسیم اموال در میان مسلمین به تساوی

۶۵- شکل جدید جاهلیت که پس از رحلت رسول خدا ﷺ وارد زندگی مسلمین گردید، چه بود و چه تغییری در جامعه ایجاد نمود؟

(۱) تبدیل حکومت عدل نبوی به سلطنت - تبدیل جامعه فداکار عصر پیامبر ﷺ به جامعه‌ای راحت طلب

(۲) تحریف معارف اسلامی و جعل حدیث - تبدیل جامعه فداکار عصر پیامبر ﷺ به جامعه‌ای راحت طلب

(۳) تحریف معارف اسلامی و جعل حدیث - انزوای شخصیت‌های اصیل اسلامی و ظهور افراد جاه طلب

(۴) تبدیل حکومت عدل نبوی به سلطنت - انزوای شخصیت‌های اصیل اسلامی و ظهور افراد جاه طلب

۶۶- ویژگی لازم برای «منتظران مصلح» در کدام عبارت قرآنی بیان شده است؟

(۱) «وَتُرِيدُ أَنْ نَمُنَّ عَلَى الَّذِينَ اسْتَضَعُوا»

(۲) «الَّذِينَ آمَنُوا مِنكُمْ وَعَمِلُوا الصَّالِحَاتِ»

(۳) «لِيَمَكِّنَ لَهُمْ دِينَهُمُ الَّذِي ارْتَضَى لَهُمْ»

(۴) «وَلَقَدْ كَتَبْنَا فِي الزَّبُورِ مِن بَعْدِ الذِّكْرِ»

۶۷- با وجود اینکه امکان تفقه در دین برای همه مؤمنین فراهم نیست، وظیفه مؤمنان در کدام مورد بیان شده و ثمره انجام درست آن برای جامعه چیست؟

(۱) «وَمَا كَانَ الْمُؤْمِنُونَ لِيَنفِرُوا كَافَّةً» - «لَعَلَّهُمْ يَحَذَرُونَ»

(۲) «وَمَا كَانَ الْمُؤْمِنُونَ لِيَنفِرُوا كَافَّةً» - «لِيَتَفَقَّهُوا فِي الدِّينِ»

(۳) «فَلَوْلَا نَفَرَ مِن كُلِّ فِرْقَةٍ مِّنْهُمْ طَائِفَةٌ» - «لَعَلَّهُمْ يَحَذَرُونَ»

(۴) «فَلَوْلَا نَفَرَ مِن كُلِّ فِرْقَةٍ مِّنْهُمْ طَائِفَةٌ» - «لِيَتَفَقَّهُوا فِي الدِّينِ»

۶۸- «مدارا و تحمل سختی‌ها» و «بيازمندی به زندگی با دیگری» از مصادیق کدام اهداف ازدواج می‌باشد؟

(۱) رشد اخلاقی - پاسخ به نیاز جنسی

(۲) رشد اخلاقی - انس با همسر

(۳) رشد و پرورش فرزندان - انس با همسر

(۴) رشد و پرورش فرزندان - پاسخ به نیاز جنسی

۶۹- پس از پذیرش بی‌همتایی خداوند در آفرینش جهان هستی، پذیرش مفهوم کدام آیه شریفه ضرورت دارد و عدم اعتقاد به آن، کدام نوع از شرک را در پی دارد؟

(۱) «قُلِ اللَّهُ خَالِقُ كُلِّ شَيْءٍ» - شرک در ولایت

(۲) «قُلِ اللَّهُ خَالِقُ كُلِّ شَيْءٍ» - شرک در مالکیت

(۳) «وَلِلَّهِ مَا فِي السَّمَاوَاتِ وَمَا فِي الْأَرْضِ» - شرک در ولایت

(۴) «وَلِلَّهِ مَا فِي السَّمَاوَاتِ وَمَا فِي الْأَرْضِ» - شرک در مالکیت

۷۰- کدام مورد به ترتیب گویای دور شدن انسان از توحید در ابعاد فردی و اجتماعی می‌باشد؟

(۱) «وَمِنَ النَّاسِ مَن يُعْبُدُ اللَّهَ عَلَى حَرْفٍ» - «يُرِيدُونَ أَنْ يُتَحَاكَمُوا إِلَى الطَّاغُوتِ»

(۲) «وَالَّذِينَ كَسَبُوا السَّيِّئَاتِ جَزَاءُ سَيِّئَةٍ بِمِثْلِهَا» - «يُرِيدُونَ أَنْ يُتَحَاكَمُوا إِلَى الطَّاغُوتِ»

(۳) «وَمِنَ النَّاسِ مَن يُعْبُدُ اللَّهَ عَلَى حَرْفٍ» - «وَمَنْ يَنْقَلِبْ عَلَى عَقْبَيْهِ فَلَنْ يَضُرَّ اللَّهَ شَيْئًا»

(۴) «وَالَّذِينَ كَسَبُوا السَّيِّئَاتِ جَزَاءُ سَيِّئَةٍ بِمِثْلِهَا» - «وَمَنْ يَنْقَلِبْ عَلَى عَقْبَيْهِ فَلَنْ يَضُرَّ اللَّهَ شَيْئًا»

۷۱- عبارت قرآنی «أَقَمْنَ أَسْسَ بَنِيَانَهُ عَلَى تَقْوَىٰ مِنَ اللَّهِ وَرِضْوَانٍ خَيْرٍ» گویای کدام یک از اقسام حُسن عمل می‌باشد و کدام مورد یکی از راه‌های تقویت اخلاص را معرفی نموده است؟

(۱) فعلی - دوری از گناه و تلاش برای انجام واجبات

(۲) فعلی - نفوذناپذیری در برابر وسوسه‌های شیطان

(۳) فاعلی - نفوذناپذیری در برابر وسوسه‌های شیطان

(۴) فاعلی - دوری از گناه و تلاش برای انجام واجبات

۷۲- وجود «آزم» و «مجازات پیمان‌شکن» نشانه‌های آشکاری برای تحقق مفهوم مندرج در کدام آیه شریفه می‌باشند؟

(۱) «إِنَّهُ كَانَ فَاحِشَةً وَسَاءَ سَبِيلًا»

(۲) «إِنَّا هَدَيْنَاهُ السَّبِيلَ إِمَّا شَاكِرًا وَإِمَّا كَفُورًا»

(۳) «وَوَبَّلْهُمُ الْبَشَرَ وَالْخَيْرِ فِتْنَةً وَإِلَيْنَا تُرْجَعُونَ»

(۴) «أَمْ مِّنْ أَسْسٍ بَنِيَانَهُ عَلَىٰ شَفَا جُرْفٍ هَارٍ فَانْهَارَ بِهِ فِي نَارِ جَهَنَّمَ»

۷۳- سخن امام صادق علیه السلام «إِنَّمَا الْمُؤْمِنُ بِمَنْزِلَةِ كَفَّةِ الْمِيزَانِ...» در تبیین و روشنگری پیرامون کدام آیه شریفه ارائه شده است؟

(۱) «وَالَّذِينَ جَاهَدُوا فِينَا لَنَهْدِيَنَّهُمْ سُبُلَنَا»

(۲) «لَقَدْ فَتَحْنَا عَلَيْهِم بَرَكَاتٍ مِنَ السَّمَاءِ وَالْأَرْضِ»

(۳) «كُلُّ نَفْسٍ ذَائِقَةُ الْمَوْتِ وَ نَبَلُّوكُم بِالشَّرِّ وَ الْخَيْرِ فِتْنَةً»

(۴) «مَنْ جَاءَ بِالْحَسَنَةِ فَلَهُ عَشْرُ أَمْثَالِهَا وَ مَنْ جَاءَ بِالسَّيِّئَةِ فَلَا يُجْزَى إِلَّا مِثْلَهَا»

۷۴- تولید و توزیع لوح‌های فشرده به‌منظور گسترش مبارزه با فرهنگ بیگانه، شرط‌بندی در بازی‌ها و ورزش‌های معمولی و همچنین ایجاد پایگاه‌های اینترنتی با هدف مقابله با ابتذال اخلاقی به ترتیب چه حکمی دارند؟

(۱) مستحب- جایز- جایز (۲) مستحب- حرام- مستحب (۳) واجب کفایی- جایز- جایز (۴) واجب کفایی- حرام- مستحب

۷۵- سخن حضرت فاطمه (س)، «مزد من در برابر هر سؤالی که پاسخ دهم، از مجموع مرواریدهایی که فاصله میان زمین و آسمان را پر کند، بیشتر است»، در تشریح کدام عبارت و معیار تمدن اسلامی مرتبط با آن قابل استفاده می‌باشد؟

(۱) «وَالَّذِينَ جَاهَدُوا فِينَا لَنَهْدِيَنَّهُمْ سُبُلَنَا»

(۲) «قُلْ هَلْ يَسْتَوِي الَّذِينَ يَعْلَمُونَ وَ الَّذِينَ لَا يَعْلَمُونَ»

(۳) «إِنَّمَا يُرِيدُ اللَّهُ لِيُذْهِبَ عَنْكُمُ الرِّجْسَ أَهْلَ الْبَيْتِ»

(۴) «وَ جَعَلَ بَيْنَكُمْ مَوَدَّةً وَ رَحْمَةً إِنَّ فِي ذَلِكَ لَآيَاتٍ لِّقَوْمٍ يَتَفَكَّرُونَ»

وقت پیشنهادی: ۲۰ دقیقه

زبان انگلیسی

### Part A: Grammar and Vocabulary

**Directions:** Questions 76- 87 are incomplete sentences. Beneath each sentence you will see four words or phrases, marked (1), (2), (3), and (4). Choose the one word or phrase that best completes the sentence. Then mark your answer sheet.

76- The first rugs ..... by hand, and the finest ones are still handmade.

- 1) made                      2) were made                      3) had made                      4) have made

77- Stars in our universe vary ..... temperature, color, brightness, size, and mass.

- 1) in                      2) of                      3) by                      4) for

78- The medicine of ancient people probably consisted of scientific practices, and religious .....

- 1) beliefs                      2) believes                      3) they believe                      4) believing

79- In human beings, hairs around the eyes and ears and in the nose, ..... dust, insects, and other matter from entering these body parts.

- 1) prevent                      2) they prevent                      3) by preventing                      4) to prevent

80- Which farmers and which ..... will be the first users of the new technology in developing countries?

- 1) customs                      2) distances                      3) regions                      4) equivalentents

81- Australia has its own cultural ....., which is very different from that of Britain.

- 1) issue                      2) identity                      3) knowledge                      4) observatory

82- When you ..... something such as a report, book, or program, you produce it by collecting and putting together many pieces of information.

- 1) relate                      2) exchange                      3) absorb                      4) compile

83- There have been ..... problems on the freeway because of an accident.

- 1) elementary                      2) endangered                      3) unexpected                      4) unchangeable

84- Shiva's mother is not ..... in English and cannot use technology, so Shiva is responsible for getting all of the children logged into their online classrooms before starting her own online work meetings.

- 1) sociable                      2) careful                      3) ordinary                      4) fluent

85- Tell him you realize he meant well but in future, he should make sure you're happy with plans that influence you so .....

- 1) directly                      2) actually                      3) suddenly                      4) incomprehensibly

86- He talked and talked. At one point I thought he would ..... all night.

- 1) care for                      2) keep on                      3) figure out                      4) stick to

87- Like many other girls, Anna always sought guidance from her mother as she knew .....

- 1) practice makes perfect                      2) too many cooks spoil the broth  
3) two heads are better than one                      4) birds of a feather flock together

**Part B: Cloze Test**

**Directions:** Questions 88- 92 are related to the following passage. Read the passage and decide which choice (1), (2), (3), or (4) best fits each space. Then mark your answer sheet.

In the 1990s when the Internet was new, the most popular password was “12345.” According to a ... (88) ... study, 20 percent of Internet users still choose a very simple password. The top favorite now is “123456.” Other popular passwords are “abc123,” “iloveyou.” and “password.”

In terms of data protection, passwords like these are not very ... (89) ... . According to computer security specialists, this is like leaving a house key under the mat at the front door. It is very easy to discover.

Most people should know by now ... (90) ... is not a good idea. This is not a new issue and there have been lots of stories in the media about Internet security. From the very beginning, the Web ... (91) ... under attack by hackers looking for ways to make trouble or money. They enter e-mail or other accounts, steal personal information, ... (92) ... it to empty bank accounts or credit cards.

- 88- 1) tiny                                      2) recent                                      3) dedicated                                      4) visible  
 89- 1) generous                                      2) cheerful                                      3) effective                                      4) intermediate  
 90- 1) and an easy password that                                      2) an easy password that  
       3) a password and that an easy                                      4) that an easy password  
 91- 1) to be                                      2) being                                      3) had been                                      4) has been  
 92- 1) they use                                      2) and use                                      3) and have used                                      4) so they use

**Part C: Reading Comprehension**

**Directions:** In this part of the test you will read two passages. Each passage is followed by four questions. Answer the questions by choosing the best choice (1), (2), (3), or (4). Then mark your answer sheet.

**■ ■ Reading Comprehension I**

A few decades ago, professional footballers spent their nights partying. Now, they are much more aware of the benefits of a good night's sleep.

The change began in the mid-1990s, when mattress salesman Nick Littlehales contacted the manager of the Manchester United football team, Alex Ferguson, asking whether he had ever considered how sleep affected performance on the football field. Interested, Ferguson arranged for Littlehales to give a presentation to his team. Before long, the whole team had new mattresses and pillows, and Littlehales soon became football's leading mattress advisor. In 1998, he supplied mattresses for England's World Cup team, and at the 2004 Euros, he created individual sleep routines for every player.

Gradually, club managers began to pay more attention to scientific sleep research, and for good reason. In 2011, a sleep specialist discovered that increasing sleep to 8-10 hours per night massively increased the speed and shot accuracy of basketball players. Other research shows that a single night of inadequate sleep can increase the risk of injury, and 64 hours of bad sleep reduces strength, power and balance, and can even cause the body to eat its own muscles!

93- What does the passage mainly discuss?

- 1) A complete change in sleeping habits  
 2) Club managers and their decisions  
 3) The importance of sleep in professional sports  
 4) The relationship between sleep and sports injury

94- According to the passage, Alex Ferguson .....

- 1) was attracted to Littlehales' idea  
 2) was amazed by his players' partying  
 3) had a strange experience in the mid-1990s  
 4) asked Littlehales to create sleep routines for his players

95- The word “supplied” in paragraph 2 is closest in meaning to .....

- 1) ordered                      2) chose                      3) donated                      4) provided

96- Which of the following best describes the function of the last sentence in paragraph 3?

- 1) It introduces the topic of the next paragraph.  
2) It corrects a wrong belief which was described in the previous sentence.  
3) It adds more information to support what was stated earlier in the paragraph.  
4) It explains that the argument given in the previous sentence is not based on facts.

#### ■ ■ Reading Comprehension II

If you think of the jobs robots could never do, you would probably put doctors and teachers at the top of the list. It is easy to imagine robot cleaners and factory workers, but some jobs need human connection and creativity. But are we underestimating what robots can do? In some cases, they already perform better than doctors at diagnosing illness. Also, some patients might feel more comfortable sharing personal information with a machine than a person. Could there be a place for robots in education after all?

Education expert Anthony Seldon thinks so. And he even has a date for the robot takeover of the classroom: 2027. He predicts robots will do the main job of transferring information and teachers will be like assistants. Intelligent robots will read students' faces, movements and maybe even brain signals. Then they will adapt the information to each student. It is not a popular opinion and it is unlikely robots will ever have empathy and the ability to really connect with humans like another human can.

One thing is certain, though. A robot teacher is better than no teacher at all. In some parts of the world, there are not enough teachers and 9-16 percent of children under the age of 14 do not go to school. That problem could be partly solved by robots because they can teach anywhere and will not get stressed, or tired, or move somewhere for an easier, higher-paid job.

97- What does the passage mainly discuss?

- 1) Robots in education                      2) How robots connect with humans  
3) Different types of robot teachers                      4) How education will change in 2027

98- The word “diagnosing” in paragraph 1 is closest in meaning to .....

- 1) avoiding                      2) warning                      3) consuming                      4) identifying

99- It is suggested in paragraph 2 that Anthony Seldon's prediction about robots .....

- 1) does not seem to come true                      2) has not been explained properly  
3) has made human teachers worried                      4) has supporters all around the world

100- Which of the following statements is TRUE according to paragraph 3?

- 1) 9-16% of children younger than 14 want to work, but not go to school.  
2) Human teachers are not available in some parts of the world.  
3) Robots can help human teachers feel less stressed or tired.  
4) Most of the teachers are not paid enough money.

دفترچه شماره ۲

آزمون سراسری ورودی دانشگاه‌های کشور - سال ۱۴۰۰

آزمون اختصاصی  
گروه آزمایشی علوم تجربی

مواد امتحانی	تعداد سوال	از شماره	تا شماره	وقت پیشنهادی
زمین شناسی	۲۵	۱۰۱	۱۲۵	۲۰ دقیقه
ریاضی	۳۰	۱۲۶	۱۵۵	۴۷ دقیقه
زیست شناسی	۵۰	۱۵۶	۲۰۵	۳۶ دقیقه
فیزیک	۳۰	۲۰۶	۲۳۵	۳۷ دقیقه
شیمی	۳۵	۲۳۶	۲۷۰	۳۵ دقیقه
تعداد کل سؤالات: ۱۷۰		مدت پاسخ‌گویی: ۱۷۵ دقیقه		

## زمین‌شناسی

## وقت پیشنهادی: ۲۰ دقیقه

۱۰۱- کدام عبارت را درست‌تر می‌دانید؟

- (۱) حرکت روزانه خورشید در آسمان ظاهری و نتیجه گردش زمین به دور خورشید است.
- (۲) هرچه فاصله زمین تا خورشید کمتر شود، سرعت حرکت انتقالی زمین هم کمتر می‌شود.
- (۳) بین زمان گردش زمین به دور خورشید و فاصله زمین تا خورشید رابطه ریاضی برقرار است.
- (۴) زمین همراه با ماه در مدار دایره‌ای و مخالف حرکت عقربه‌های ساعت به دور خورشید می‌گردد.

۱۰۲- کدام مورد، در جداسازی دو واحد زمانی زمین‌شناسی متوالی از یکدیگر کاربرد کمتری دارد؟

- (۱) جدا شدن دو قاره از یکدیگر
  - (۲) پیشروی یا پسروی جهانی دریاها
  - (۳) برخورد دو ورقه قاره‌ای و ایجاد کوهزایی
  - (۴) ظهور یا انقراض یک گونه خاص از جانداران
- ۱۰۳- نور خورشید حدود ۸ دقیقه طول می‌کشد تا به زمین برسد. نور خورشید حدود چند دقیقه طول می‌کشد تا به سیارکی که هر ۸ سال یک‌بار دور خورشید می‌چرخد، برسد؟

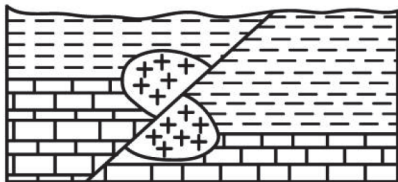
۱۶ (۴)

۲۲/۶ (۳)

۳۲ (۲)

۶۴ (۱)

۱۰۴- در شکل زیر، سن نسبی کدام یک از بقیه بیشتر است؟



- رس
- سنگ آهک
- گرانیت

- (۱) رس
- (۲) گسل
- (۳) گرانیت
- (۴) سنگ آهک

۱۰۵- در آینده، اقیانوسی به اقیانوس‌های کره زمین اضافه می‌شود، محل این اقیانوس در حال حاضر کجاست؟

- (۱) دریای سرخ
- (۲) خلیج فارس
- (۳) محل سابق دریای تتیس
- (۴) مرز ورقه عربستان با ایران

۱۰۶- برای تهیه آهن، سرب و مس به ترتیب از کدام کانه‌ها می‌توان استفاده کرد؟

- (۱) مگنتیت، گالن، کربنوم
- (۲) هماتیت، گالن، پیریت
- (۳) پیریت، کرومیت، کالکوپیریت
- (۴) مگنتیت، گالن، کالکوپیریت

۱۰۷- برای تشکیل ذخایر نفت و گاز، کدام جانداران اهمیت بیشتری دارند؟

- (۱) باکتری‌ها، مرجان‌ها
- (۲) دایناسورها، باکتری‌ها
- (۳) مرجان‌ها، پلانکتون‌ها
- (۴) پلانکتون‌ها، باکتری‌ها

۱۰۸- کدام مورد، در حیطه شاخه پترولوژی علم زمین‌شناسی مورد مطالعه قرار می‌گیرد؟

- (۱) شناسایی و مطالعه مناطق زمین گرمایی
- (۲) طبقه‌بندی سنگ‌های آذرین، دگرگونی و رسوبی
- (۳) شیوه تشکیل و منشأ عناصر تشکیل‌دهنده سنگ‌ها
- (۴) بررسی فرایندهایی چون تشکیل رشته‌کوه‌ها و زلزله‌ها

۱۰۹- کدام ترکیب شیمیایی، در گوشته زمین تبدیل به جواهری قیمتی می‌شود؟

- (۱) اکسید آلومینیم
  - (۲) اکسید سیلیسیم
  - (۳) سیلیکات بریلیم
  - (۴) کربن خالص
- ۱۱۰- آبدهی قناتی در هر دقیقه ۳۰۰۰ لیتر است. اگر عمق و عرض آب در دهانه قنات به ترتیب ۴۰ و ۸۰ سانتی‌متر باشد، آب تقریباً با سرعت چند متر بر ثانیه خارج می‌شود؟

۰/۲ (۴)

۰/۹ (۳)

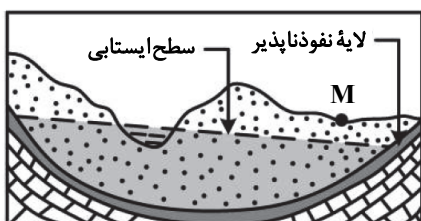
۰/۱۵ (۲)

۰/۶۶ (۱)

۱۱۱- کدام رابطه، اندازه ذرات معدنی تشکیل‌دهنده خاک‌ها را بهتر نشان می‌دهد؟

- (۱) لای > رس > شن
- (۲) رس > سیلت > ماسه
- (۳) شن > سیلت > رس
- (۴) ماسه > شن > سیلت

۱۱۲- در محل زیر، یک رود دائمی در جریان است. اگر در نقطه M چاهی تا زیر سطح ایستابی حفر شود، کدام عبارت را می‌توانیم برای این چاه به‌کار ببریم؟

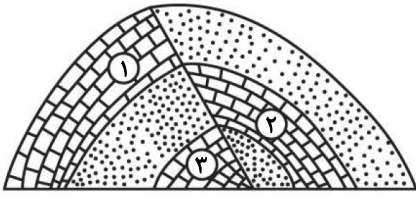


- (۱) پس از بهره‌برداری فصلی، چاه خشک می‌شود.
- (۲) آب خودبه‌خود و به آرامی از دهانه چاه خارج می‌شود.
- (۳) با بهره‌برداری از چاه سطح ایستابی افت چندانی نخواهد داشت.
- (۴) آبخوان این چاه تحت فشار است و آب از دهانه فوران می‌کند.

۱۱۳- کدام عبارت، توصیف مناسب‌تری از امتداد لایه است؟

- (۱) نیمساز زاویه بین سطح لایه با سطح افق
- (۲) محل برخورد سطح هر لایه با سطح زمین
- (۳) فصل مشترک یک صفحه افقی با سطح هر لایه
- (۴) امتداد خط فرضی وصل‌کننده نقاط هم‌ارتفاع لایه

۱۱۴- کدام گزینه، زمان نسبی پدیده‌های زمین‌شناسی شکل زیر را از قدیم به جدید درست‌تر نشان می‌دهد؟



- (۱) رسوب‌گذاری هم‌زمان آهک ۲ و ۳، تنش فشاری، تنش فشاری
- (۲) رسوب‌گذاری هم‌زمان آهک ۲ و ۳، تنش فشاری، تنش کششی
- (۳) رسوب‌گذاری هم‌زمان آهک ۲ و ۱، تنش فشاری، تنش فشاری
- (۴) رسوب‌گذاری هم‌زمان آهک ۲ و ۱، تنش کششی، تنش کششی

۱۱۵- کدام مصالح، در ساخت سدهای بتنی و خاکی از اجزای مهم هستند؟

- (۱) ماسه و شن
- (۲) سیمان و میلگرد
- (۳) خاک رس و ماسه
- (۴) خاک رس و قلوه‌سنگ

۱۱۶- از کدام راه، آرسنیک می‌تواند به راحتی به مواد غذایی وارد شود؟

- (۱) آبیاری مزارع کشاورزی توسط آب چشمه‌های معدنی گازدار
  - (۲) بارش باران‌های اسیدی پس از تراکم بالای ریزگردها در هوا
  - (۳) ورود زهاب معادن استخراج طلا به آبخوان‌های مورد استفاده انسان
  - (۴) خشک کردن مواد غذایی با حرارت سوزاندن زغال‌سنگ در محیط بسته
- ۱۱۷- کدام مورد، چگونگی نقش سلنیم در پیشگیری از سرطان را معرفی می‌کند؟

- (۱) از طریق آنزیم‌ها، سوپر اکسیدها را از بین می‌برد.
- (۲) با اکسیژن آزاد ترکیب شده و مانع از تشکیل سوپراکسیدها می‌شود.
- (۳) با نه‌نشینی لیتیم، مانع از ورود این عنصر سرطان‌زا به آب‌های زیرزمینی می‌شود.
- (۴) در بدن انسان مانند یک کاتالیزگر عمل می‌کند و سبب تشکیل سریع آنتی‌اکسیدان می‌شود.

۱۱۸- در طبقه‌بندی عناصر موردنیاز بدن جانداران به اصلی، فرعی و جزئی به ترتیب، کدام عنصرها در این سه گروه جای می‌گیرند؟

- (۱) آهن، منیزیم، مس
- (۲) آهن، سدیم، فسفر
- (۳) منیزیم، منگنز، روی
- (۴) فسفر، منیزیم، منگنز

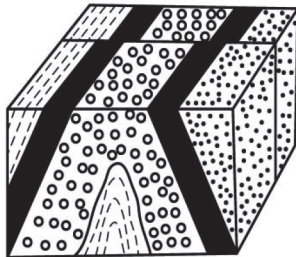
۱۱۹- کدام امواج حاصل از یک زمین‌لرزه در کانون ایجاد می‌شوند؟

- (۱) عرضی و ریلی
- (۲) طولی و عرضی
- (۳) ریلی و لاو
- (۴) لاو و طولی

۱۲۰- کدام یک می‌تواند «پیش‌نشانگر» وقوع زمین‌لرزه باشد؟

- (۱) اختلال در میدان مغناطیسی منطقه
- (۲) بالا رفتن دمای سنگ‌ها در محل کانون
- (۳) تغییرات گاز آرگون در آب‌های زیرزمینی
- (۴) بالا و پایین رفتن سطح ایستایی آب چاه‌ها

۱۲۱- در شکل زیر، ماسه‌سنگ دانه‌ریز، جوان‌تر از ماسه‌سنگ دانه



ماسه‌سنگ دانه‌ریز

ماسه‌سنگ دانه درشت

درشت است. کدام پدیده‌های زمین‌شناسی قابل شناسایی هستند؟

- (۱) گسل عادی، تاقدیس
- (۲) گسل عادی، ناودیس
- (۳) گسل امتداد لغز، تاقدیس
- (۴) گسل امتداد لغز، ناودیس

۱۲۲- در کدام شرایط، توف‌های سبز البرز تشکیل شده‌اند؟

- (۱) آتشفشان‌های آرام، دریای کم‌عمق، گدازه‌های روان پُرسیلیس
- (۲) آتشفشان‌های زیردریایی، دریای کم‌عمق، گدازه‌های روان کم‌سیلیس
- (۳) آتشفشان‌های انفجاری، دریای عمیق، قطعات دوکی شکل نسبتاً خمیری
- (۴) آتشفشان‌های انفجاری، دریای کم‌عمق، ذرات فراوان تفرای بسیار دانه‌ریز

۱۲۳- مطالعه کدام پهنه زمین‌ساختی ایران، تاریخچه کامل‌تری از گذشته، در اختیار زمین‌شناسان قرار می‌دهد؟

- (۱) البرز
- (۲) زاگرس
- (۳) کپه داغ
- (۴) ایران مرکزی

۱۲۴- با بسته شدن اقیانوس تیبس در سرزمین‌های فعلی ایران، کدام رویداد مهم اتفاق افتاد؟

- (۱) جدا شدن دریای مازندران از خلیج فارس
  - (۲) تشکیل رشته‌کوه‌های بلندی از آذربایجان تا کپه داغ
  - (۳) ذوب ورقه فرو رانده شده و فعالیت‌های شدید آتشفشانی
  - (۴) تبخیر شدید آب‌های کم‌عمق و تشکیل کویر مرکزی ایران
- ۱۲۵- کدام پهنه‌های زمین‌ساختی ایران، توان بیشتری برای استخراج سنگ مرمر مورد نیاز ساختمان‌سازی داخل کشور و صادرات به سایر کشورها را دارند؟

- (۱) ارومیه- دختر، زاگرس
- (۲) سنندج- سیرجان، البرز
- (۳) شرق و جنوب‌شرق، ایران مرکزی
- (۴) ایران مرکزی، سنندج- سیرجان

۱۲۶- فرض کنید  $a = \sqrt[3]{\sqrt{6}-2}$  و  $b = \sqrt[3]{\sqrt{6}+2}$ . مقدار  $(a^2 + b^2 - 2ab)^2 (a^2 + b^2 + 2ab)^2$  کدام است؟

- (۱)  $4(2 + \sqrt{3})$  (۲)  $4(2 - \sqrt{3})$  (۳)  $16(2 + \sqrt{3})$  (۴)  $16(2 - \sqrt{3})$

۱۲۷- فرض کنید  $x_1$  و  $x_2$  جواب‌های معادله  $(\sqrt[3]{x^2} - 1) = 2\sqrt[3]{x} = 2\sqrt[3]{x^2} + \frac{1}{\sqrt[3]{x^2}}$  باشند. مقدار  $x_1 + x_2$  کدام است؟

- (۱) -۱ (۲) صفر (۳) ۱ (۴) ۲

۱۲۸- فرض کنید  $x_1$  و  $x_2$  ریشه‌های معادله  $x^2 - 5x = 0$  باشند.  $\frac{1}{(x_1 + 1)^3}$  و  $\frac{1}{(x_2 + 1)^3}$  ریشه‌های کدام معادله هستند؟

- (۱)  $125x^2 + 16x = 1$  (۲)  $125x^2 = 16x + 1$  (۳)  $125x^2 = 12x + 1$  (۴)  $125x^2 + 12x = 1$

۱۲۹- اگر  $f(x) = 16\cos^2(3x)\cos^2(6x)\cos^2(12x)\cos^2(24x)$  باشد، مقدار  $f\left(\frac{\pi}{36}\right)$  کدام است؟

- (۱)  $\frac{6 - 3\sqrt{3}}{16}$  (۲)  $\frac{6 - \sqrt{3}}{16}$  (۳)  $\frac{6 + \sqrt{3}}{16}$  (۴)  $\frac{6 + 3\sqrt{3}}{16}$

۱۳۰- اگر زاویه  $\alpha$  در ناحیه سوم مثلثاتی و  $\tan(\alpha) = \frac{3}{4}$  باشد، مقدار  $\frac{\cos(2\alpha - \frac{\pi}{2}) + \cos(\alpha + \pi)}{\cot(2\alpha)}$  کدام است؟

- (۱)  $-\frac{96}{175}$  (۲)  $\frac{1056}{175}$  (۳)  $\frac{96}{175}$  (۴)  $-\frac{1056}{175}$

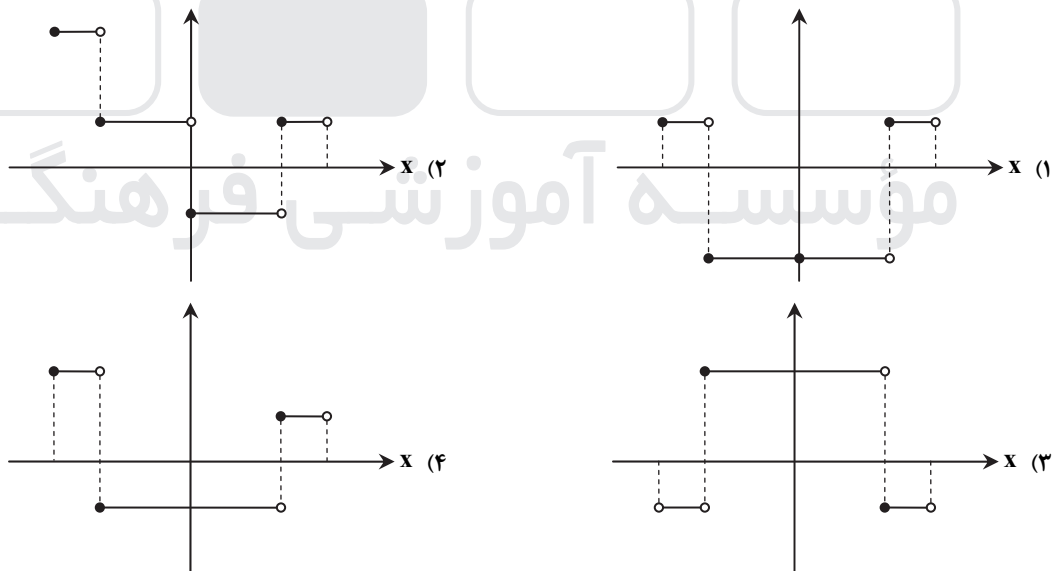
۱۳۱- تعداد جواب‌های معادله مثلثاتی  $\cos^2(x) - \sin^2(x)\cos(3x) = 1$  در فاصله  $[0, 2\pi]$  کدام است؟

- (۱) ۱ (۲) ۳ (۳) ۵ (۴) ۶

۱۳۲- دامنه تابع با ضابطه  $f(x) = \frac{\log_4(x^2 - x - 2)}{\sqrt{x^2 - 1} + 1}$  کدام است؟

- (۱)  $(-\infty, -1) \cup (2, +\infty)$  (۲)  $(-1, 2)$  (۳)  $(-\infty, -2) \cup (1, +\infty)$  (۴)  $(-2, 1)$

۱۳۳- نمودار تابع  $y = 2[3x] - 1$  به ازای  $-\frac{1}{2} \leq x < \frac{1}{2}$  کدام است؟



۱۳۴- فاصله نقطه تلاقی منحنی‌های  $2y = x^2$  و  $x = \sqrt{y+3} - \sqrt{y-3}$  با مبدأ مختصات، کدام است؟

- (۱)  $\sqrt{3}$  (۲)  $\sqrt{6}$  (۳)  $2\sqrt{3}$  (۴)  $\sqrt{15}$

۱۳۵- اگر  $\frac{3^x + 3^{x+1} + 3^{x+2} + 3^{x+3} + 3^{x+4} + 3^{x+5}}{2^{x-2} + 2^{x-1} + 2^x + 2^{x+1} + 2^{x+2} + 2^{x+3}} = 52$  باشد، مقدار  $x$  کدام است؟

- (۱) ۱ (۲) ۲ (۳) ۳ (۴) ۴



۱۳۶- نمودار تابع  $y = 2^{|\sin x|}$  را ابتدا به اندازه  $\frac{\pi}{2}$  در امتداد محور  $x$  ها در جهت مثبت و سپس  $\frac{3}{2}$  در امتداد محور  $y$  ها در جهت منفی انتقال

می‌دهیم. تعداد محل تقاطع نمودار حاصل با محور  $x$  ها در فاصله  $[0, \pi]$ ، کدام است؟

- (۱) صفر (۲) ۱ (۳) ۲ (۴) ۴

۱۳۷- اگر تساوی  $\log_x y - 2 \log_y x = 1$  به‌ازای  $x, y > 1$  برقرار باشد، کدام تساوی درست است؟

- (۱)  $y = x^2$  (۲)  $y = x^3$  (۳)  $y = \sqrt{x}$  (۴)  $xy = 2$

۱۳۸- مقدار  $\lim_{x \rightarrow +\infty} \sqrt{x} \left( \sqrt{\frac{1}{x+1} + \frac{1}{x}} - \sqrt{\frac{1}{x^2} - \frac{1}{x^2+1}} \right)$ ، کدام است؟

- (۱) صفر (۲) ۱ (۳)  $\frac{\sqrt{2}}{2}$  (۴)  $\sqrt{2}$

۱۳۹- مقدار  $\lim_{x \rightarrow \frac{\pi}{6}} [2 \sin x - 1]$ ، کدام است؟ ( [ ] نماد جزء صحیح است.)

- (۱) -۱ (۲) صفر (۳) ۱ (۴) وجود ندارد.

۱۴۰- قرینه نمودار تابع  $y = 2 + \sqrt{x-1}$  را نسبت به خط  $y = x$  رسم کرده و سپس نمودار حاصل را ۲ واحد در جهت مثبت محور  $x$  ها و ۳ واحد

در جهت منفی محور  $y$  ها انتقال می‌دهیم و آن را  $y = g(x)$  می‌نامیم. مقدار  $g(4)$  کدام است؟

- (۱) ۳ (۲) -۳ (۳) -۲ (۴) -۴

۱۴۱- فرض کنید  $g(x) = \begin{cases} 1 & x > 0 \\ 0 & x = 0 \\ -1 & x < 0 \end{cases}$  و  $f(x) = 1 - x^2$ . تعداد نقاط ناپیوستگی تابع  $g \circ f$ ، کدام است؟

- (۱) صفر (۲) ۱ (۳) ۲ (۴) ۳

۱۴۲- تعداد نقاط اکسترمم نسبی تابع  $|x^2 - 4| \cdot x^2 - \frac{x^2}{x^2 - 1}$ ، کدام است؟

- (۱) ۲ (۲) ۳ (۳) ۴ (۴) ۵

۱۴۳- قرینه نقطه  $A$  واقع بر سهمی  $f(x) = x^2$  را نسبت به نیمساز ناحیه اول و سوم صفحه مختصات تعیین کرده و آن را  $A'$  می‌نامیم. اگر طول

نقطه  $A$  بین دو طول متوالی از محل تقاطع تابع  $f$  با خط نیمساز موردنظر باشد، ماکزیمم طول پاره خط  $AA'$ ، کدام است؟

- (۱)  $\sqrt{2}$  (۲)  $\frac{\sqrt{2}}{2}$  (۳)  $\frac{\sqrt{2}}{4}$  (۴)  $\frac{\sqrt{2}}{8}$

۱۴۴- فرض کنید  $f(x) = (x[x^2 + \frac{1}{2}])^2 + 1$  و  $g(x) = \frac{1}{\sqrt{x^2 - 1}}$ . مقدار مشتق تابع  $f \circ g$  در  $x = \frac{3}{\sqrt{8}}$ ، چند برابر  $(-128\sqrt{2})$  است؟

- (۱) -۴ (۲) ۱ (۳) ۲ (۴) ۴

۱۴۵- فرض کنید  $g(x) = ax^2 + bx + c$ ،  $(a \neq 0)$  و  $f(x) = \begin{cases} g(x) & x \geq k \\ g'(x) & x < k \end{cases}$  باشد. اگر  $f$  یک تابع مشتق پذیر باشد، حداکثر مقدار  $k$

به شرط  $b + c = a$ ، کدام است؟

- (۱)  $\frac{3}{4}$  (۲) ۱ (۳) ۳ (۴) ۴

۱۴۶- حداکثر مساحت جانبی استوانه‌ای که درون یک کره به شعاع  $4\sqrt{2}$  محاط می‌شود، کدام است؟

- (۱)  $32\pi$  (۲)  $64\pi$  (۳)  $\frac{256\pi}{3}$  (۴)  $\frac{512\pi}{3}$

۱۴۷- احتمال اینکه یک دانش آموز در یک امتحان نمره قبولی بگیرد  $0/9$  و در دو امتحان متوالی نمره قبولی بگیرد  $0/85$  است. اگر دانش آموز در

امتحان دوم موفق باشد، احتمال اینکه امتحان قبلی نیز موفق شده باشد، کدام است؟

- (۱)  $\frac{8}{9}$  (۲)  $\frac{85}{94}$  (۳)  $\frac{17}{18}$  (۴)  $\frac{45}{47}$

۱۴۸- فرض کنید  $\{1, 2, \dots, 9\}$ ،  $a, b, c \in \{1, 2, \dots, 9\}$ . چند معادله درجه دوم به صورت  $ax^2 + bx - c = 0$  می‌توان تشکیل داد، به طوری که مجموع

ریشه‌های هر معادله از حاصل ضرب ریشه‌های همان معادله، دو واحد بیشتر باشد؟

- (۱) ۱۴ (۲) ۱۵ (۳) ۱۶ (۴) ۱۸

۱۴۹- در یک جلسه آموزشی میزگردی شامل ۴ دانش آموز کلاس پایه یازدهم و ۴ دانش آموز کلاس پایه دوازدهم تشکیل شده است. به چند حالت دانش آموزان در صندلی‌ها بنشینند، به طوری که در کنار هر دانش آموزی، دانش آموز هم پایه قرار نگیرد؟

- (۱) ۱۴۴ (۲) ۲۸۸ (۳) ۲۷۶ (۴) ۱۱۵۲

۱۵۰- با ارقام ۱، ۲، ۳، ۴ و ۵ زیرمجموعه‌ای از اعداد طبیعی می‌سازیم، که در آن رقم تکراری به کار نرفته باشد. یک عضو از مجموعه فوق انتخاب می‌کنیم. احتمال اینکه عضو انتخاب شده بر ۴ بخش پذیر باشد، کدام است؟

- (۱)  $\frac{13}{21}$  (۲)  $\frac{4}{7}$  (۳)  $\frac{3}{7}$  (۴)  $\frac{1}{5}$

۱۵۱- شیب نیم‌خطی با نقطه شروع  $A(2, 4)$  برابر ۳ است. مستطیل ABCD را چنان می‌سازیم، که نقطه B روی نیم‌خط فوق و رأس سوم آن  $C(-3, -1)$  باشد. محیط مستطیل، کدام است؟

- (۱) ۲۴ (۲) ۱۸ (۳)  $6\sqrt{10}$  (۴)  $3\sqrt{10}$

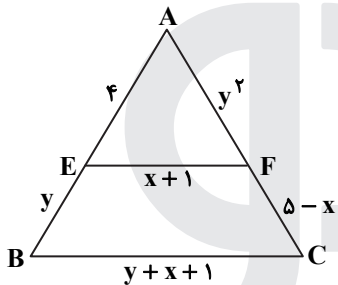
۱۵۲- نقطه  $H(2, 1)$  را روی خط  $3x - y = 5$  در نظر بگیرید. مثلث متساوی‌الاضلاع ABC را با ارتفاع AH می‌سازیم، به طوری که محیط مثلث  $\sqrt{270}$  واحد باشد. مختصات یک رأس A، کدام است؟

- (۱)  $(\frac{7}{2}, \frac{1}{2})$  (۲)  $(\frac{13}{2}, -\frac{1}{2})$  (۳)  $(\frac{1}{2}, \frac{3}{2})$  (۴)  $(-\frac{1}{2}, \frac{11}{6})$

۱۵۳- دایره‌های  $x^2 + y^2 + 2y = 3$  و  $x^2 + y^2 + 2x = 3$  متقاطع‌اند. معادله وتر مشترک این دو دایره، کدام است؟

- (۱)  $x = y$  (۲)  $x = 1 + y$  (۳)  $x = -y$  (۴)  $x = 1 - y$

۱۵۴- در شکل زیر EF موازی BC است. مقدار  $y - 2x$ ، کدام است؟



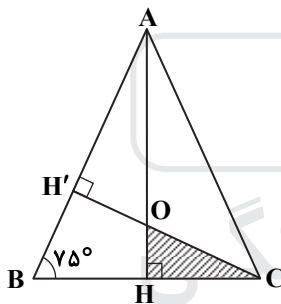
(۱) -۴

(۲) -۲

(۳) ۲

(۴) ۴

۱۵۵- در شکل زیر مثلث ABC متساوی‌الساقین و طول ساق AC برابر ۶ است. مساحت مثلث OHC، کدام است؟



(۱)  $\frac{2}{3}$

(۲)  $\frac{4}{3}$

(۳)  $\frac{18}{7 + 4\sqrt{3}}$

(۴)  $\frac{9}{2(7 + 4\sqrt{3})}$

### وقت پیشنهادی: ۳۶ دقیقه

### زیست شناسی

۱۵۶- خارجی‌ترین یاخته‌های استخوانی موجود در تنه استخوان ران یک فرد سالم چه مشخصه‌ای دارند؟

(۱) در مجاورت خود رگ‌های خونی و رشته‌های عصبی و مغز قرمز دارند.

(۲) در سمت داخل یاخته‌هایی پهن و نزدیک به هم واقع شده‌اند.

(۳) بر روی دایره‌ای با مرکزیت مجرای هاورس قرار گرفته‌اند.

(۴) در بین یاخته‌های خود، حفره‌های نامنظم زیادی دارند.

۱۵۷- کدام گزینه، عبارت زیر را به‌طور مناسب کامل می‌کند؟

«در برگ خرزهره، ..... یاخته‌های سامانه یافت ..... به‌طور حتم .....»

(۱) فراوان‌ترین - پوششی - در ایجاد جریان توده‌ای در نوعی آوند نقش دارند.

(۲) اصلی‌ترین - آوندی - دیواره ای از رسوبات لیگنین با اشکال متفاوت دارند.

(۳) مستحکم‌ترین - زمینه‌ای - شیره گیاهی را در سراسر گیاه جابه‌جا می‌نمایند.

(۴) رایج‌ترین - زمینه‌ای - در سبزدیسه (کلروپلاست)ها، فاقد ساختارهای غشایی و کیسه‌مانند و به هم متصل هستند.

۱۵۸- کدام عبارت، در خصوص برگ گیاه ادریسی نادرست است؟

- (۱) در طی واکنش‌های تولید و مصرف مولکولی پنج کربنی،  $CO_2$  آزاد می‌شود.
  - (۲) نوعی پروتئین غشایی، ترکیبی کربن‌دار را به راکیزه (میتوکندری) وارد می‌نماید.
  - (۳) در واکنش‌های وابسته به نور، همراه با ساخته شدن ATP، مولکول آب نیز تولید می‌گردد.
  - (۴) قند پنج کربنی دوفسفاته و گروه فسفات، از محصولات نهایی یک مرحله محسوب می‌شوند.
- ۱۵۹- چند مورد در ارتباط با بخش‌های چین‌خورده درونی‌ترین لایه دیواره قلب انسان، صحیح است؟
- (الف) ساختارهای کاملاً یکسانی را به وجود آورده‌اند.
  - (ب) از یاخته‌هایی بسیار نزدیک به هم تشکیل شده‌اند.
  - (ج) یاخته‌های آن توسط صفحات بینابینی با یکدیگر مرتبط شده‌اند.
  - (د) توسط بافتی حاوی رشته‌های کلاژن ضخیم، مستحکم گردیده‌اند.

۱ (۱) ۲ (۲) ۳ (۳) ۴ (۴)

۱۶۰- در نوعی کرم، هیچ‌یک از چهار روش اصلی تنفس مشاهده نمی‌گردد، کدام مورد، درباره این جاندار صادق است؟

- (۱) در شرایطی می‌تواند با نوعی تولیدمثل، موجودی تک لاد (هاپلوئید) را به وجود آورد.
- (۲) حفره عمومی بدن آن، علاوه بر گوارش، وظیفه گردش مواد را برعهده دارد.
- (۳) آب اضافی بدن آن، از طریق شبکه‌ای از کانال‌ها، به خارج دفع می‌شود.
- (۴) همولنف مستقیماً در مجاورت یاخته‌های بدن آن، جریان می‌یابد.

۱۶۱- با توجه به مطالب کتب درسی، کدام گزینه، عبارت زیر را به‌طور مناسب کامل می‌کند؟

«همه یاخته‌های خونی که ..... دارند، .....»

- (۱) دانه‌های روشنی در میان‌یاخته - برخلاف همه یاخته‌های خاخره، در داخل مغز استخوان تمایز می‌یابند.
- (۲) دانه‌های تیره‌ای در میان‌یاخته - برخلاف همه یاخته‌های بیگانه‌خوار، می‌توانند باعث افزایش نفوذپذیری رگ‌ها شوند.
- (۳) هسته دوقسمتی - همانند بعضی از یاخته‌های مؤثر در پاسخ ایمنی ثانویه، باعث خنثی‌سازی میکروب‌ها می‌شوند.
- (۴) هسته چند (بیش از دو) قسمتی - همانند بعضی از یاخته‌های تولیدکننده اینترفرون II، در دفاع غیراختصاصی شرکت می‌کنند.

۱۶۲- کدام گزینه، برای تکمیل عبارت زیر نامناسب است؟

«در دستگاه عصبی مرکزی گوسفند، یکی از بخش‌هایی که مجاور ساقه مغز است و با ترشح پیک دوربرد، فعالیت بدن را تنظیم می‌کند، در ..... قرار دارد.»

- (۱) مجاورت بطن سوم مغزی
- (۲) بین دو نیمکره راست و چپ مخ
- (۳) مجاورت دو برجستگی بزرگ‌تر مغز میانی
- (۴) فضای محتوی شبکه‌های مویرگی و اجسام مخطط

۱۶۳- در یوکاریوت‌ها، چند مورد را می‌توان مربوط به تنظیم بیان ژن پیش از رونویسی دانست؟

- (الف) میزان دسترسی پیش ماده به آنزیم
- (ب) اتصال رناهای کوچک به نوعی ریبونوکلیک اسید
- (ج) تغییر در فشردگی واحدهای تکراری در رشته کروماتین
- (د) خمیدگی یا عدم خمیدگی در بخشی از مولکول دنا (DNA)

۱ (۱) ۲ (۲) ۳ (۳) ۴ (۴)

۱۶۴- به‌طور معمول در مهره‌های نوعی جانور ماده، رسوبی از نمک‌های کلسیم یافت نمی‌شود، کدام ویژگی، درباره این جانور صحیح است؟

- (۱) با فشار جریان آب به‌سمت بیرون، به‌سمت مخالف حرکت می‌نماید.
- (۲) می‌تواند تخمکی با اندوخته زیاد و دیواره‌ای چسبناک و ژله‌ای تولید کند.
- (۳) توسط ساختار ویژه‌ای، محلول نمک بسیار غلیظ را به روده ترشح می‌کند.
- (۴) خون پس از عبور از سینوس سیاهرگی، ابتدا به حفره بزرگ‌تر قلب وارد می‌شود.

۱۶۵- در نوعی نظام جفت‌گیری، هر دو جانور نر و ماده در انتخاب جفت و پرورش زاده‌ها سهم یکسان دارند، کدام عبارت، به‌طور حتم، درباره این جانوران صحیح است؟

- (۱) در هر بار غذایی، بیشترین انرژی خالص را دریافت می‌کنند.
- (۲) با استفاده از آزمون و خطا، به هر محرک بی‌اثری، پاسخ غریزی می‌دهند.
- (۳) همواره از طریق آواز خواندن یا تهاجم به جانوران دیگر، قلمرو خود را تعیین می‌نمایند.
- (۴) می‌توانند با چشم‌پوشی از محرک‌های بی‌اهمیت، انرژی خود را صرف انجام فعالیت‌های حیاتی کنند.

۱۶۶- با توجه به مطلب کتاب درسی، در یک منطقه مالاریا خیز، پدر خانواده به سبب شکل گویچه‌های قرمز خود، در معرض خطر ابتلا به بیماری مالاریا قرار دارد، در حالی که مادر خانواده نسبت به این بیماری مقاوم است. تولید کدام فرزند در این خانواده غیرممکن است؟

- (۱) پسر با گویچه‌های قرمز کاملاً غیرطبیعی و در معرض خطر مرگ‌ومیر در سنین پایین  
 (۲) پسر با گویچه‌های قرمز طبیعی و در معرض خطر ابتلا به بیماری مالاریا  
 (۳) دختری حساس نسبت به کمبود اکسیژن محیط  
 (۴) دختری مقاوم نسبت به انگل مالاریا

۱۶۷- چند مورد، درباره هر نوکلئوتید موجود در بدن یک فرد سالم صحیح است؟

- (الف) باز آلی تک حلقه‌ای یا دو حلقه‌ای متصل به ریبوز دارد.  
 (ب) گروه یا گروه‌های فسفات آن، با پیوند کووالانسی به قند اتصال دارد.  
 (ج) از طریق نوعی پیوند اشتراکی به نوکلئوتید دیگری متصل شده است.  
 (د) طی فرایند اکسایش در غشای درونی راکیزه (میتوکندری) تولید گردیده است.

(۱) ۱ (۲) ۲ (۳) ۳ (۴) ۴

۱۶۸- کدام عبارت، در خصوص زنجیره انتقال الکترون موجود در یاخته عضله توأم انسان صحیح است؟

- (۱) فقط از مولکول‌های حامل الکترون موجود در راکیزه (میتوکندری) استفاده می‌شود.  
 (۲) بخشی از مسیر رسیدن الکترون‌ها از حاملین مختلف الکترون به پذیرنده‌های نهایی آن، مشترک است.  
 (۳) یون‌های اکسید در ترکیب با پروتون‌های فضای بین دو غشای راکیزه (میتوکندری)، آب را تشکیل می‌دهند.  
 (۴) انرژی لازم برای پمپ کردن الکترون‌ها به بخش داخلی راکیزه، از مولکول‌های حامل الکترون تأمین می‌شود.

۱۶۹- کدام گزینه، برای تکمیل عبارت زیر مناسب است؟

«در هر یاخته انسان که ..... یافت می‌گردد، ..... نیز ساخته می‌شود.»

- (۱) پپسینوژن - کیلومیکرون  
 (۲) کیلومیکرون - کلریدریک اسید  
 (۳) نمک‌های صفراوی - لسیتین  
 (۴) کلسترول - لیپوپروتئین کم چگال

۱۷۰- کدام عبارت نادرست است؟

- (۱) در مگس، جسم یاخته‌ای هر گیرنده شیمیایی، در بیرون موی حسی قرار دارد.  
 (۲) در جیرجیرک، گیرنده‌های مکانیکی در محل اتصال پاهای جلویی به سینه قرار دارد.  
 (۳) در ماهی، لوب بینایی از مخچه و مخ بزرگ تر است و عصب بینایی از زیر به آن وارد می‌شود.  
 (۴) در ماهی، بعضی از یاخته‌هایی که با پوشش ژلاتینی کانال خط جانبی در تماس‌اند، مزک دارند.

۱۷۱- چند مورد، برای تکمیل عبارت زیر مناسب است؟

«در مرگ برنامه‌ریزی شده یاخته‌ای برخلاف بافت مردگی، .....»

(الف) پاسخ‌های التهابی رخ می‌دهد.

(ب) اثرات مثبتی برای بدن ایجاد می‌شود.

(ج) ابتدا تغییری در غشای یاخته ایجاد می‌شود.

(د) یاخته به سبب فعالیت درشت خوارها می‌میرد.

(۱) ۱ (۲) ۲ (۳) ۳ (۴) ۴

۱۷۲- کدام گزینه، برای تکمیل عبارت زیر مناسب است؟

«در یک پسر بالغ مبتلا به پرکاری غده ..... بیشتر می‌شود و در یک دختر بالغ مبتلا به کم‌کاری این غده، ..... افزایش می‌یابد.»

(۱) تیروئید، میزان ترشح انسولین - دمای بدن

(۲) فوق کلیه، احتمال ابتلا به بیماری‌های عفونی - فشارخون

(۳) پاراتیروئید، احتمال بیماری‌های قلبی - احتمال مشکلات تنفسی

(۴) ساندزده هورمون رشد، تراکم توده استخوانی - تکثیر یاخته‌های استخوانی

۱۷۳- کدام گزینه صحیح است؟

(۱) جهش دگر معنا برخلاف جهش حذف، به تغییر در پلی پپتید ساخته شده می‌انجامد.

(۲) جهش حذف برخلاف جهش بی معنا، به تغییر محصول حاصل از رونویسی می‌انجامد.

(۳) جهش خاموش همانند جهش بی معنا، باعث عدم تغییر رمز یک نوع آمینواسید می‌شود.

(۴) جهش دگر معنا همانند جهش خاموش، به عدم تغییر تعداد نوکلئوتیدهای یک ژن می‌انجامد.

۱۷۴- با در نظر گرفتن اینکه ژن نمود (ژنوتیپ) درون دانه (آندوسپرم) گل میمونی WWR است. کدام ژن نمود (ژنوتیپ) به ترتیب برای دانه

گرده و گل‌اله گل میمونی، مورد انتظار نیست؟

(۱) RW و RR (۲) RW و RR (۳) WW و RW (۴) RW و RW

- ۱۷۵- کدام دو مورد، دربارهٔ همهٔ اندام‌های لنفی انسان که خون خارج شده از آن‌ها به سیاهرگ باب وارد می‌شود، صحیح است؟  
 الف) محتوی یاخته‌هایی است که می‌توانند مولکول‌هایی مشابه با مولکول‌های موجود در سطح خود ترشح کنند.  
 ب) تولیدات خود را از طریق رگ‌هایی به‌نوعی بافت پیوندی وارد می‌کنند.  
 ج) در آزادسازی آهن موجود در یاخته‌های خونی مرده نقش مؤثری دارند.  
 د) در نیمه راست بدن و بالاتر از کولون افقی قرار گرفته‌اند.
- الف و ب (۱)      الف و ج (۲)      ب و د (۳)      ج و د (۴)

۱۷۶- کدام عبارت درست است؟

- ۱) در گیاه آناناس برخلاف گیاه ذرت، میزان  $CO_2$  در محل فعالیت آنزیم روبیسکو بالا ننگه داشته می‌شود.  
 ۲) در گیاه رز همانند گیاه آناناس، تنفس نوری فقط در درون سبزدیسه (کلروپلاست) به انجام می‌رسد.  
 ۳) در گیاه رز همانند گیاه ذرت، همواره با زیاد شدن  $CO_2$  محیط، میزان فتوسنتز افزایش می‌یابد.  
 ۴) در گیاه ذرت برخلاف گیاه رز، در شدت نور زیاد، میزان فتوسنتز افزایش چشم‌گیری می‌یابد.
- ۱۷۷- به‌طور معمول، کدام عبارت در ارتباط با یک خانم باردار صحیح است؟  
 ۱) در طی تمایز یاخته‌های بنیادی بلاستوسیست، جفت به‌وجود می‌آید.  
 ۲) هم‌زمان با شروع تمایز جفت، اندام‌های اصلی جنین شروع به تشکیل شدن می‌کنند.  
 ۳) با شروع ترشح آنزیم‌های لایهٔ خارجی بلاستوسیست، زوائد انگشتی شکل تشکیل می‌شود.  
 ۴) با شروع جایگزینی بلاستوسیست در حفرات دیوارهٔ رحم، نتیجهٔ تست سنجش HCG مثبت می‌گردد.

۱۷۸- کدام گزینه، برای تکمیل عبارت زیر نامناسب است؟

- «در واحدهای تکراری تارچهٔ یک عضلهٔ دلتایی، رشته‌هایی یافت می‌شود که متشکل از اجزایی کروی شکل هستند، این رشته‌ها در هنگام .....»  
 ۱) انقباض، از وسعت نوار روشن می‌کاهند.  
 ۲) استراحت، در بخشی از نوار تیره یافت می‌شوند.  
 ۳) استراحت، از رشته‌های مشابه خود دور می‌شوند.  
 ۴) انقباض، از طریق سرهای خود به‌نوعی رشته‌های پروتئینی متصل می‌گردند.

۱۷۹- به‌طور معمول، کدام گزینه صحیح است؟

- ۱) هر گیاهی که ساقهٔ افقی تخصص یافته‌ای در زیرزمین دارد، جزو گیاهان یک یا دو ساله محسوب می‌شود.  
 ۲) هر گیاهی که توانایی تولید دانه‌ای با رویش روزمینی دارد، در مغز ریشه، حاوی بافت نرم آکنه‌ای (پارانیشیمی) است.  
 ۳) هر گیاهی که گل تک‌جنسی نر و گلبرگ‌هایی متصل به هم دارد، دانه‌های گرده‌ای با دیوارهٔ منفذدار تولید می‌کند.  
 ۴) هر گیاهی که در روزهای کوتاه گل می‌دهد، گل‌هایی تولید می‌کند که برای گرده‌افشانی فقط وابسته به باد هستند.

۱۸۰- در انسان، اغلب گیرنده‌هایی که به کاهش اکسیژن حساس‌اند، در رگ‌هایی یافت می‌شوند که .....

- ۱) بیشتر در قسمت‌های سطحی هر اندام قرار گرفته‌اند.  
 ۲) در برش عرضی، بیشتر به‌شکل گرد دیده می‌شوند.  
 ۳) از نظر فاصله بین یاخته‌های دیواره خود، گروه‌بندی شده‌اند.  
 ۴) به‌کمک دریچه‌هایی در درون خود، جریان خون را یکطرفه می‌کنند.

۱۸۱- کدام گزینه، برای تکمیل عبارت زیر نامناسب است؟

«به‌طور معمول از پنجمین روز شروع دورهٔ جنسی در یک فرد تا زمانی که یاخته‌های انبانک (فولیکول) در حال رشد، نوعی هورمون ترشح می‌کنند .....

- ۱) در مواقعی ترشح هورمون آزاد کننده افزایش می‌یابد.  
 ۲) در مواقعی هورمون‌های محرک غدد جنسی کاهش می‌یابند.  
 ۳) به‌طور حتم، اندوختهٔ خونی دیوارهٔ داخلی رحم به حداکثر میزان خود می‌رسد.  
 ۴) به‌طور حتم، از رشد و تمایز مام یاخته‌های (اووسیت)‌های اولیهٔ دیگر جلوگیری می‌شود.

۱۸۲- به‌طور معمول در ارتباط با قلب انسان، چند مورد، عبارت زیر را به‌طور مناسب کامل می‌کند؟

- «در هر زمانی که دریچه‌های سینی ..... ند/ اند، همانند هر زمانی که دریچه‌های دولختی و سه‌لختی ..... ند/ اند، به‌طور حتم .....
- الف) بسته- بسته - خون وارد دهلیزها می‌شود.  
 ب) بسته- باز - خون به درون بطن‌ها وارد می‌شود.  
 ج) باز- باز - دهلیزها در حالت استراحت به سر می‌برند.  
 د) باز- بسته - فشار خون بطن‌ها در حد پایینی قرار دارد.

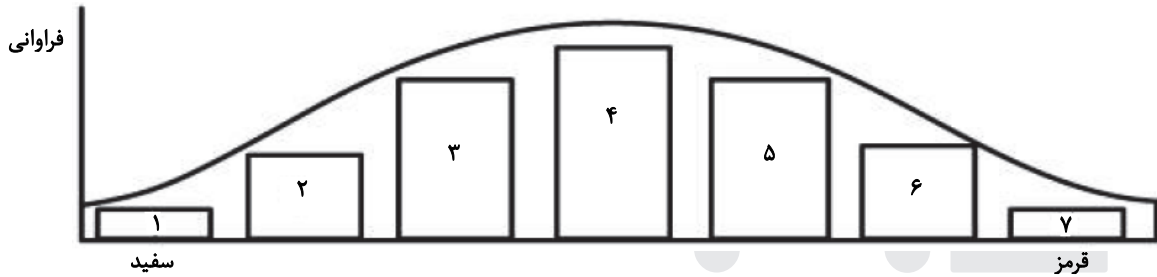
۱۸۳- با توجه به شبکیه چشم یک فرد سالم، کدام گزینه، برای تکمیل عبارت زیر مناسب است؟

«در گیرنده مخروطی ..... گیرنده استوانه‌ای، ماده حساس به نور .....»

- (۱) نسبت به - کمتری یافت می‌شود. (۲) همانند - در مجاورت هسته قرار دارد.  
(۳) برخلاف - در یک انتهای یاخته وجود دارد. (۴) برعکس - در نور زیاد و به کمک ویتامین A ساخته می‌شود.

۱۸۴- با در نظر گرفتن عوامل مؤثر بر تغییر جمعیت‌ها، کدام عبارت درست بیان شده است؟

- (۱) عاملی که افراد سازگارتر با محیط را برمی‌گزیند، ممکن است ژنوتیپ فرد را در جمعیت تغییر دهد.  
(۲) عاملی که خزانه ژنی جمعیت را غنی‌تر می‌سازد، ممکن است توان بقای جمعیت را در شرایط محیطی جدید بالا ببرد.  
(۳) عاملی که خزانه ژنی دو جمعیت را شبیه به هم می‌کند، به‌طور حتم تعادل ژنی را در هر دو جمعیت برقرار می‌سازد.  
(۴) عاملی که فراوانی دگرهای (الی) جمعیت را بر اثر رویدادهای تصادفی تغییر می‌دهد، به‌طور حتم در جمعیت‌های بزرگ بیشترین تأثیر را دارد.  
۱۸۵- با توجه به نمودار توزیع فراوانی رنگ ذرت (صفت چندجایگاهی) در کتاب درسی، کدام عبارت نادرست است؟



- (۱) ژن نمودی (ژنوتیپی) حاوی همه انواع دگره (الی)ها در بخش ۴، وجود دارد.  
(۲) هر ژن نمود (ژنوتیپ) در بخش ۵، در هر جایگاه ژنی، دگره (الی) بارز دارد.  
(۳) هر ژن نمود (ژنوتیپ) در بخش ۶، در یک جایگاه ژنی ناخالص است.  
(۴) هر ژن نمود (ژنوتیپ) در بخش ۲، در دو جایگاه ژنی خالص است.

۱۸۶- چند مورد، عبارت زیر را به‌طور مناسب کامل می‌کند؟

«هر جاننداری که می‌تواند همه یا بخشی از مواد غذایی خود را از گیاهان به‌دست آورد، در زمان حیات خود .....»

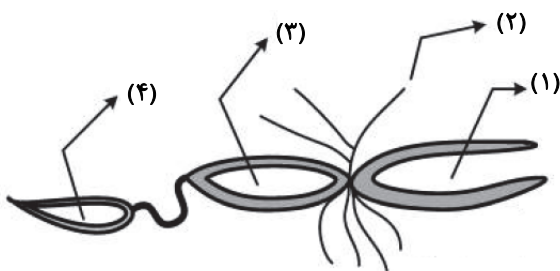
- (الف) فاقد توانایی تولید ترکیبات آلی از مواد معدنی است. (ب) از طریق بخش‌های مکنده به درون گیاه نفوذ می‌نماید.  
(ج) نیتروژن جو را به نیتروژن قابل استفاده گیاه تبدیل می‌کند. (د) با کمک ترکیبی فسفات‌دار، مولکولی دو نوکلئوتیدی می‌سازد.  
۱ (۱) ۲ (۲) ۳ (۳) ۴ (۴)

۱۸۷- مطابق با مطلب کتاب درسی، کدام عبارت، درباره نوعی جاندار صحیح است که بدون نیاز به روش‌های زیست‌فناوری می‌تواند آمیلاز مقاوم به گرما بسازد؟

- (۱) ممکن است، مواد شیمیایی جهش‌زا پس از عبور از غشاهایی، ژن‌های آن را تحت تأثیر قرار دهند.  
(۲) همواره، از طریق تغییر در پایداری رنا (RNA) یا پروتئین، فعالیت ژن‌های خود را تنظیم می‌کند.  
(۳) به‌طور معمول، ذرات بزرگ غذایی را از طریق درون‌بری جذب و مواد زائد را از طریق برون‌رانی دفع می‌کند.  
(۴) ممکن است در یک منطقه از ژنگان (ژنوم) آن، یکی از دو رشته دنا (DNA) و در منطقه بعد، رشته دیگر آن، الگو باشد.  
۱۸۸- کدام گزینه، برای تکمیل عبارت زیر مناسب است؟

«نوعی هورمون گیاهی که .....»

- (۱) در کشاورزی به‌عنوان علف‌کش استفاده می‌شود، از سوخت‌های فسیلی نیز می‌شود.  
(۲) می‌تواند بر خارجی‌ترین لایه درون دانه اثر بگذارد، در غلظت معین باعث رشد ریشه می‌شود.  
(۳) از جوانه راسی به جوانه‌های جانبی می‌رود، یکی از روش‌های تکثیر رویشی را در گیاهان به انجام می‌رساند.  
(۴) می‌تواند مانع تولید و رها شدن آمیلاز در جوانه‌های غلات شود، در بافت قابل ترمیم گیاهان نیز تولید می‌شود.  
۱۸۹- با توجه به شکل زیر که بخشی از دستگاه‌های بدن نوعی جاندار را نشان می‌دهد، کدام عبارت صحیح است؟



- (۱) بخش ۲ همانند بخش ۱، آب و یون‌ها را باز جذب می‌نماید.  
(۲) بخش ۳ همانند بخش ۲، آنزیم‌های مؤثر در هضم مواد غذایی را ترشح می‌کند.  
(۳) بخش ۴ برخلاف بخش ۳، یون‌های ترشح‌شده از مایع میان‌بافتی را دریافت می‌نماید.  
(۴) بخش ۴ برخلاف بخش ۱، نوعی ماده حاصل از سوخت‌وساز نوکلئیک اسیدها را دریافت می‌کند.

۱۹۰- چند مورد، در ارتباط با مراحل ترجمه در یوکاریوت‌ها درست است؟

- (الف) هر tRNA که فقط حامل یک آمینواسید است، ابتدا به جایگاه A رناتن (ریبوزوم) وارد می‌شود.  
 (ب) هر tRNA که وارد جایگاه A رناتن (ریبوزوم) می‌شود، با رمزه (کدون) ارتباط مکملی برقرار می‌کند.  
 (ج) هر tRNA که ارتباط خود را با زنجیره‌ای از آمینواسیدها قطع می‌کند، به جایگاه E رناتن (ریبوزوم) منتقل می‌شود.  
 (د) هر tRNA که پس از تکمیل رناتن (ریبوزوم) در جایگاه خود مستقر می‌شود، می‌تواند به توالی‌ای از آمینواسیدها متصل گردد.
- ۱ (۱) ۲ (۲) ۳ (۳) ۴ (۴)

۱۹۱- کدام گزینه، برای تکمیل عبارت زیر مناسب است؟

«یاخته‌های گیاهی ممکن است به سبب تجمع محصولات نهایی حاصل از روش‌هایی برای تأمین انرژی، حیات خود را از دست بدهند، در همه این روش‌ها، هم‌زمان با به وجود آمدن ..... می‌شود.»

- (۱)  $NAD^+$ ، کربن دی‌اکسید تولید  
 (۲) ترکیب نهایی، NADH مصرف  
 (۳) ترکیب سه کربنی،  $NAD^+$  تولید  
 (۴) نوعی قند سه کربنی، ADP مصرف

۱۹۲- با توجه به مراحل تولید زامه (اسپرم) در یک فرد بالغ، کدام عبارت صحیح است؟

- (۱) همهٔ یاخته‌هایی که فام تن (کروموزوم) مضاعف دارند، تقسیم کاستمان (میوز) انجام می‌دهند.  
 (۲) همهٔ یاخته‌هایی که فام تن (کروموزوم) غیرمضاعف دارند، توسط تقسیم کاستمان (میوز) به وجود آمده‌اند.  
 (۳) همهٔ یاخته‌هایی که دولا (دیپلوئید) هستند، از هم جدا هستند و توسط یاخته‌های ویژه‌ای تغذیه می‌شوند.  
 (۴) همهٔ یاخته‌هایی که فام تن (کروموزوم) همتا دارند، حاوی هسته‌ای غیرفشرده‌اند و به یاخته‌های دیگر متصل هستند.

۱۹۳- مهم‌ترین مرحله در ساخت انسولین به‌روش مهندسی ژنتیک، کدام است؟

- (۱) برقراری پیوند شیمیایی بین زیر واحدهای کوتاه پلی‌پپتیدی انسولین  
 (۲) وارد کردن دنا (DNA)ی نو ترکیب به درون باکتری با شوک الکتریکی یا گرمایی  
 (۳) تشکیل دو نوع دنا (DNA)ی نو ترکیب و دارای ژن مقاومت به پادزیست (آنتی‌بیوتیک)  
 (۴) جداسازی باکتری‌های حاوی دیسک (پلازمید) نو ترکیب از سایر باکتری‌های محیط کشت

۱۹۴- چند مورد، در ارتباط با پارامسی صادق است؟

- (الف) کریچه (واکوئل) گوارشی، به مولکول‌هایی با عمل اختصاصی نیاز دارد.  
 (ب) نوعی کریچه (واکوئل) دفعی، در تنظیم فشار اسمزی جاندار نقش دارد.  
 (ج) کریچه (واکوئل) غذایی، در انتهای حفرهٔ گوارشی جاندار تشکیل می‌شود.  
 (د) نوعی کریچه (واکوئل) غیرانقباضی، محتویات خود را از طریق منفذی به خارج وارد می‌کند.

- ۱ (۱) ۲ (۲) ۳ (۳) ۴ (۴)

۱۹۵- وجه مشترک هر دو نوع تنظیم مثبت و منفی رونویسی در باکتری اشریاکلاهی کدام است؟

- (۱) هر پروتئینی که بر روی توالی خاصی از DNA قرار می‌گیرد، ژن یا ژن‌های سازندهٔ آن با نوع دیگری رنابسپاراز، رونویسی شده است.  
 (۲) هر پروتئینی که آنزیم رونویسی کننده را به سمت راه‌انداز حرکت می‌دهد، می‌تواند به قند دی‌ساکارییدی اتصال یابد.  
 (۳) هر پروتئینی که ژن‌های مربوط به تجزیهٔ قند را رونویسی می‌کند، توسط فعال کننده به راه‌انداز متصل می‌شود.  
 (۴) هر پروتئینی که به قندی متفاوت از گلوکز متصل می‌گردد، در شروع حرکت آنزیم رونویسی کننده نقش دارد.

۱۹۶- کدام عبارت، در ارتباط با بیشترین گیاهان روی کره زمین به‌طور حتم درست است؟

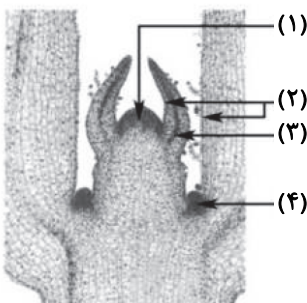
- (۱) تشکیل ساختار اختصاص یافته برای تولیدمثل جنسی آن‌ها، به طول شب و روز بستگی دارد.  
 (۲) کربن دی‌اکسید از طریق یاخته‌های تمایز یافتهٔ اندام‌های هوایی و زمینی آن‌ها، جذب می‌شود.  
 (۳) بیشترین جذب کاروتنوئیدهای آن‌ها، در بخش زرد و نارنجی نور مرئی صورت می‌گیرد.  
 (۴) با تجزیه شدن سبزینه (کلروفیل) برگ‌های آن‌ها، مقدار کاروتنوئیدها افزایش می‌یابد.

۱۹۷- با توجه به شکل زیر کدام گزینه، صحیح است؟

- (۱) یاخته‌های بخش ۲ برخلاف یاخته‌های بخش ۳، بافت‌های لازم برای افزایش زیاد قطر ساقه را فراهم می‌کنند.  
 (۲) یاخته‌های بخش ۴ همانند یاخته‌های بخش ۲، بر روی سطح خود ترکیبی لیپیدی ترشح می‌کنند.

(۳) یاخته‌های بخش ۳ برخلاف یاخته‌های بخش ۱، فضاهای بین یاخته‌ای بسیار اندکی دارند.

(۴) یاخته‌های بخش ۱ همانند یاخته‌های بخش ۴، هستهٔ درشتی در مرکز دارند.

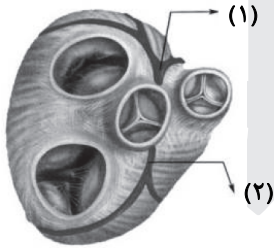


- ۱۹۸- چند مورد را می‌توان دربارهٔ مردی با گروه خونی  $O^+$  و درگیر با مشکل انعقاد خون، با قاطعیت بیان داشت؟  
 الف) بر روی فام‌تن (کروموزوم) شماره ۹، فاقد هرگونه دگره (الل) گروه خونی است.  
 ب) بر روی نوعی فام‌تن (کروموزوم) جنسی آن، دگره‌ای (اللی) نهفته قرار گرفته است.  
 ج) بر روی یکی از بلندترین فام‌تن (کروموزوم)‌های موجود در کاریوتیپ آن، ژن D واقع شده است.  
 د) گویچه‌های قرمز کربوهیدرات‌دار آن، از یاخته‌هایی با توانایی تولید چندین نوع یاخته ایجاد شده‌اند.
- ۱ (۱) ۲ (۲) ۳ (۳) ۴ (۴)

۱۹۹- در ارتباط با همهٔ اندام‌هایی که با تولید پیک شیمیایی دور برد یکسان، تعداد فراوان‌ترین یاخته‌های خونی انسان را تنظیم می‌کنند، کدام مورد نادرست است؟

- ۱) به دفع بعضی مولکول‌های آلی بدن کمک می‌نمایند.  
 ۲) فشار آسمزی خون را در حد مناسبی نگه می‌دارند.  
 ۳) بر فرایند انعقاد خون در محل خون‌ریزی نقش مؤثری دارند.  
 ۴) هریک می‌توانند با تغییر در مقادیر چشم‌گیری از نوعی مادهٔ دفعی نیتروژن‌دار، از میزان سمیت آن بکاهند.
- ۲۰۰- در ارتباط با یک گیاه علفی، کدام گزینه، عبارت زیر را به‌طور مناسب کامل می‌کند؟  
 «در هر نوع بارگیری .....»

- ۱) آب از نوعی آوند به‌نوعی دیگر انتقال می‌یابد.  
 ۲) شیرهٔ گیاهی با مصرف انرژی به درون آوند وارد می‌شود.  
 ۳) ترکیباتی از یاخته‌ای زنده به یاخته‌ای مرده منتقل می‌شود.  
 ۴) شیرهٔ گیاهی به‌صورت توده‌ای از مواد به‌سمت محل مصرف حرکت می‌نماید.
- ۲۰۱- با توجه به‌شکل زیر، که بخشی از دستگاه گردش خون انسان را نشان می‌دهد، کدام عبارت درست است؟



- ۱) بخش ۲ همانند بخش ۱، ابتدا خون را به دهلیز راست وارد می‌نماید.  
 ۲) بخش ۲ برخلاف بخش ۱، خون نواحی چپ قلب را دریافت می‌نماید.  
 ۳) بخش ۱ برخلاف بخش ۲، ابتدا خون را به نواحی چپ قلب هدایت می‌کند.  
 ۴) بخش ۱ همانند بخش ۲، در ایجاد صدای قوی و گنگ قلب نقش اصلی را دارد.

- ۲۰۲- با توجه به بیماری‌های هموفیلی و داسی شدن گلبول‌های قرمز، در صورت ازدواج هر زن و مرد سالمی با یکدیگر، تولد چند مورد زیر ممکن است؟
- الف) پسری سالم ۱ (۱) ب) پسری بیمار ۲ (۲) ج) دختری بیمار و خالص ۳ (۳) د) دختری سالم و ناخالص ۴ (۴)

۲۰۳- کدام عبارت، دربارهٔ یاختهٔ بزرگ‌تر دانهٔ گردهٔ رسیدهٔ گیاه کدو، درست است؟

- ۱) چهار یاختهٔ متصل به هم را ایجاد می‌کند.  
 ۲) با انجام تقسیمات متوالی، لولهٔ گرده را می‌سازد.  
 ۳) به بخشی حاوی سه هستهٔ تک‌لاد (هاپلوئیدی)، تمایز می‌یابد.  
 ۴) در درون لولهٔ گرده، یک تقسیم رشتمان (میتوز) انجام می‌دهد.
- ۲۰۴- با توجه به سازوکار اجزای زنجیره انتقال الکترون در برگ لوبیا می‌توان بیان داشت که با عبور الکترون‌ها از ..... غشای تیلاکوئید است، ..... می‌شود.

۱) دو جزء (ساختار) از زنجیره که متعلق به هر دو- تعدادی  $H^+$  از بستره به فضای درون تیلاکوئید منتشر

۲) یک جزء (ساختار) از زنجیره که متصل به سطح داخلی- الکترون به فتوسیستم ۲ منتقل

۳) یک جزء (ساختار) از زنجیره که مجاور با هر دو لایهٔ فسفولیپیدی- تجزیهٔ نوری آب انجام

۴) دو جزء (ساختار) متوالی از زنجیره که متصل به سطح خارجی-  $NADPH$  تولید

۲۰۵- در ارتباط با فرایند همانندسازی در یوکاریوت‌ها، چند مورد صحیح است؟

الف) آنزیمی که از وقوع جهش در مادهٔ ژنتیکی ممانعت به‌عمل می‌آورد، می‌تواند نوکلئوتیدها را به‌صورت تک فسفات به رشتهٔ پلی‌نوکلئوتیدی متصل نماید.

ب) آنزیمی که باعث جدا شدن هیستون‌ها از مولکول دنا (DNA) می‌شود، مارپیچ دنا (DNA) و دو رشتهٔ آن را از هم جدا می‌کند.

ج) آنزیمی که نوکلئوتیدها را به‌صورت مکمل روی هم قرار می‌دهد، انرژی فعال‌سازی واکنش را کاهش می‌دهد.

د) آنزیمی که پیوندهای هیدروژنی بین دو رشتهٔ مکمل را برقرار می‌کند، تنها آنزیم دو راهی همانندسازی محسوب می‌شود.

- ۱ (۱) ۲ (۲) ۳ (۳) ۴ (۴)



## فیزیک

## وقت پیشنهادی: ۳۷ دقیقه

۲۰۶- نیتونیم  ${}^{237}_{93}\text{Np}$  ایزوتوپ ناپایداری است که واپاشی آن از طریق گسیل  $\alpha$  ذره و یک ذره  $\beta^-$  صورت می‌گیرد. در این واپاشی، هسته نهایی به ترتیب چند نوترون و چند پروتون دارد؟

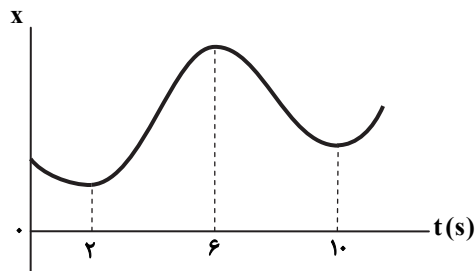
۸۸ و ۱۳۷ (۴)

۸۷ و ۱۳۷ (۳)

۸۸ و ۱۳۶ (۲)

۸۷ و ۱۳۶ (۱)

۲۰۷- نمودار مکان- زمان متحرکی مطابق شکل زیر است. تندی متوسط در کدام یک از بازه‌های زمانی مشخص شده در گزینه‌ها بیشتر است؟



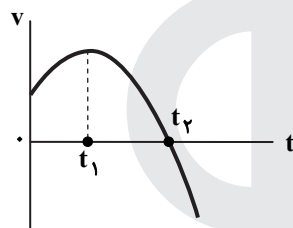
صفر تا ۲s (۱)

صفر تا ۶s (۲)

۱۰s تا ۲s (۳)

۱۰s تا ۶s (۴)

۲۰۸- نمودار سرعت- زمان متحرکی که روی محور x حرکت می‌کند، مطابق شکل زیر قسمتی از یک سهمی است. کدام مورد درست است؟

(۱) در بازه صفر تا  $t_1$  تندی در حال کاهش است.(۲) بزرگی شتاب در لحظه صفر و  $t_2$  برابر است.(۳) در بازه صفر تا  $t_2$  شتاب خلاف جهت محور x است.(۴) بزرگی شتاب متوسط در بازه  $t_1$  تا  $t_2$  بیشتر از بزرگی شتاب متوسط در بازه صفر تا  $t_2$  است.

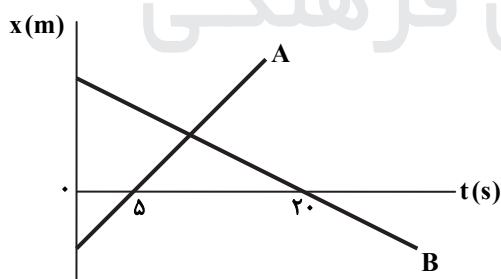
۲۰۹- متحرکی روی محور x در حال حرکت است. بردار شتاب متوسط آن در بازه زمانی  $t_1 = 5\text{s}$  تا  $t_2 = 10\text{s}$  در SI برابر  $-4\vec{i}$  و در بازه زمانی

$t_2 = 10\text{s}$  تا  $t_3 = 12\text{s}$  برابر  $2\vec{i}$  است. بردار شتاب متوسط آن در بازه زمانی  $t_1 = 5\text{s}$  تا  $t_3 = 12\text{s}$  در SI کدام است؟

 $8\vec{i}$  (۴) $4\vec{i}$  (۳) $-\frac{16}{7}\vec{i}$  (۲) $-\frac{2}{7}\vec{i}$  (۱)

۲۱۰- نمودار مکان- زمان دو متحرک A و B مطابق شکل زیر است. اگر در لحظه  $t = 0$  فاصله دو متحرک ۱۵۰ متر باشد و تندی متحرک A،

۲ برابر تندی متحرک B باشد، فاصله دو متحرک در لحظه  $t = 20\text{s}$  چند متر است؟



۵۰ (۱)

۱۰۰ (۲)

۱۵۰ (۳)

۲۰۰ (۴)

۲۱۱- مطابق شکل زیر، به جسمی به جرم  $36\text{kg}$  که روی سطح افقی ساکن است، نیروی افقی  $F = 177\text{N}$  وارد می‌شود و تندی جسم ۴ ثانیه

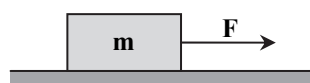
پس از شروع حرکت به  $3\frac{\text{m}}{\text{s}}$  می‌رسد. نیرویی که سطح به جسم وارد می‌کند، چند نیوتون است؟  $(g = 10\frac{\text{m}}{\text{s}^2})$

۳۶۰ (۱)

۳۹۰ (۲)

۴۰۰ (۳)

۵۰۰ (۴)



۲۱۲- وزنه‌ای به جرم  $m$  را به یک فنر که ثابت آن  $k = 200 \frac{N}{m}$  و طول آن  $50 \text{ cm}$  است، می‌بندیم و از سقف یک آسانسور ساکن آویزان می‌کنیم. وقتی وزنه ساکن می‌شود، طول فنر به  $65 \text{ cm}$  می‌رسد. آسانسور با چه شتابی بر حسب متر بر مربع ثانیه حرکت کند که طول فنر به  $60 \text{ cm}$  برسد؟

$$(g = 10 \frac{m}{s^2})$$

$$\vec{a} = \frac{20}{3} \vec{j} \quad (۴)$$

$$\vec{a} = -\frac{20}{3} \vec{j} \quad (۳)$$

$$\vec{a} = \frac{10}{3} \vec{j} \quad (۲)$$

$$\vec{a} = -\frac{10}{3} \vec{j} \quad (۱)$$

۲۱۳- در شکل زیر، جسم در آستانه حرکت روبه‌بالا قرار دارد و نیرویی که جسم به سطح وارد می‌کند، برابر  $R$  است. اگر  $F$  را  $20 \text{ N}$  کاهش دهیم، نیرویی که سطح به جسم وارد

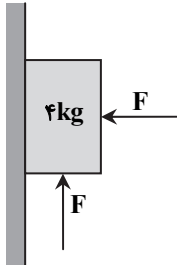
می‌کند، برابر  $R'$  می‌شود. کدام است؟  $(g = 10 \frac{m}{s^2}, \mu_s = 0.5, \mu_k = 0.2)$

$$\frac{\sqrt{2}}{2} \quad (۲)$$

$$\frac{\sqrt{2}}{4} \quad (۱)$$

$$\frac{\sqrt{5}}{4} \quad (۴)$$

$$\frac{\sqrt{5}}{2} \quad (۳)$$



۲۱۴- مطابق شکل زیر، نوسانگری روی محور  $x$  حرکت هماهنگ ساده انجام می‌دهد. اگر حداقل زمانی که طول می‌کشد تا نوسانگر از مکان  $x_1 = 1 \text{ cm}$  در جهت مثبت محور  $x$  عبور کند و به مکان  $x_2 = -1 \text{ cm}$  برسد، برابر  $2$  ثانیه باشد، انرژی مکانیکی نوسانگر چند میلی‌ژول

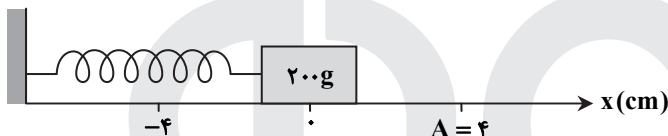
است؟  $(\pi^2 = 10)$

$$0.1 \quad (۱)$$

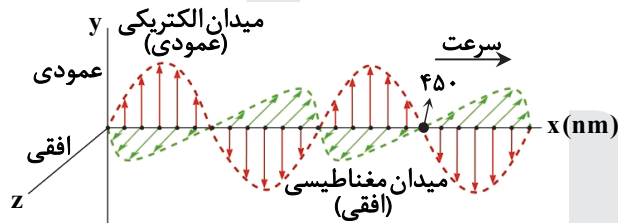
$$0.2 \quad (۲)$$

$$0.4 \quad (۳)$$

$$0.8 \quad (۴)$$



۲۱۵- شکل زیر، تصویر لحظه‌ای از موجی الکترومغناطیسی را نشان می‌دهد که با سرعت  $3 \times 10^8 \frac{m}{s}$  در حال انتشار است. کدام مورد درست است؟



(۱) مدت زمانی که طول می‌کشد تا میدان‌های الکتریکی و مغناطیسی یک نوسان کامل انجام دهند،  $10^{-15}$  ثانیه است.

(۲) میدان‌های الکتریکی و مغناطیسی در هر ثانیه  $1/5 \times 10^{15}$  نوسان انجام می‌دهند.

(۳) مسافتی که موج در مدت یک ثانیه طی می‌کند،  $300$  نانومتر است.

(۴) این موج در ناحیه مرئی طیف قرار دارد.

۲۱۶- شکل زیر، تصویری از موجی عرضی را در یک ریسمان کشیده شده در لحظه  $t = 0$  نشان می‌دهد. اگر تندی متوسط حرکت ذره  $M$  در

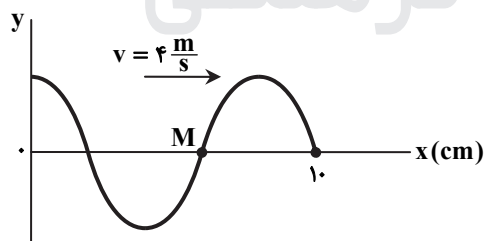
مدت  $0.25 \text{ s}$  برابر  $6 \frac{m}{s}$  باشد، دامنه موج چند سانتی‌متر است؟

$$2 \quad (۱)$$

$$3 \quad (۲)$$

$$4 \quad (۳)$$

$$6 \quad (۴)$$



۲۱۷- مطابق شکل زیر، پرتو نوری تحت زاویه  $30^\circ$  به آینه تخت (۱) می‌تابد و پس از

بازتاب به آینه تخت (۲) می‌تابد. اگر در دومین بازتاب از آینه (۱) پرتو نور موازی

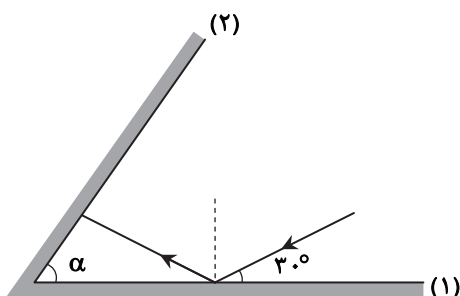
آینه (۲) شود، زاویه  $\alpha$  چند درجه است؟

$$30 \quad (۱)$$

$$40 \quad (۲)$$

$$50 \quad (۳)$$

$$60 \quad (۴)$$



۲۱۸- الکترون اتم هیدروژنی در تراز  $n = 5$  قرار دارد. با در نظر گرفتن تمام گذارهای ممکن، کم انرژی ترین فوتونی که می تواند گسیل کند،

$$(h = 4 \times 10^{-15} \text{ eV} \cdot \text{s}, E_R = 13/6 \text{ eV})$$

۳۲۶۴ (۴)

۱۷۰ (۳)

۷۶/۵ (۲)

۲۵/۵ (۱)

۲۱۹- در اتم هیدروژن، بسامد چندمین خط طیفی در رشته لیمان ( $n' = 1$ ) برابر  $\frac{1}{3} \times 10^{15} \text{ Hz}$  است؟  $(R = \frac{1}{100} (\text{nm})^{-1}, c = 3 \times 10^8 \frac{\text{m}}{\text{s}})$

چهارمین (۴)

سومین (۳)

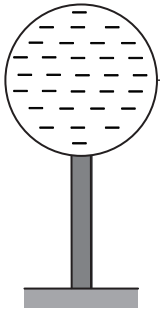
دومین (۲)

اولین (۱)

۲۲۰- در شکل زیر، کره فلزی با بار الکتریکی منفی روی پایه نارسائیی قرار دارد و ذره‌ای با بار منفی را از نقطه A تا نقطه B جابه‌جا می کنیم. در

این آزمایش، پتانسیل الکتریکی نقطه B در مقایسه با پتانسیل الکتریکی نقطه A چگونه است و در این جابه‌جایی، انرژی پتانسیل الکتریکی

ذره باردار چگونه تغییر می کند؟



(۱) بیشتر - کاهش

(۲) بیشتر - افزایش

(۳) کمتر - کاهش

(۴) کمتر - افزایش

۲۲۱- مطابق شکل زیر، نیروی خالص الکتریکی وارد بر هر یک از ذره‌های باردار صفر است. اگر جای بارهای  $q_1$  و  $q_3$  عوض شود، بزرگی نیروی

خالص الکتریکی وارد بر بار  $q_2$  چند برابر بزرگی نیروی خالص الکتریکی وارد بر بار  $q_1$  می شود؟

۲/۳ (۱)

۵/۴ (۲)

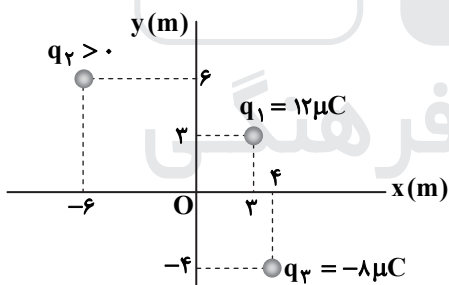
۳ (۳)

۵ (۴)

$$q_1 = -9 \mu\text{C} \quad q_2 = +4 \mu\text{C} \quad q_3 = -36 \mu\text{C}$$

۲۲۲- مطابق شکل زیر، سه بار نقطه‌ای در صفحه XY قرار دارند و بزرگی میدان الکتریکی خالص در نقطه O (مبدأ مختصات) در SI برابر

$$(k = 9 \times 10^9 \frac{\text{N} \cdot \text{m}^2}{\text{C}^2})$$

۲/۱۶ × ۱۰<sup>-۲</sup> (۱)۲/۶۴ × ۱۰<sup>-۲</sup> (۲)۹/۲ × ۱۰<sup>-۲</sup> (۳)۹/۶ × ۱۰<sup>-۲</sup> (۴)

۲۲۳- فاصله بین صفحه‌های یک خازن تخت ۵ mm و مساحت هریک از صفحه‌ها ۲ cm<sup>۲</sup> است و خازن از ماده دی‌الکتریک انعطاف‌پذیری به

ثابت  $\kappa = 4$  پر شده است. اگر فاصله بین صفحه‌ها ۳ mm کاهش یابد، ظرفیت خازن چند پیکوفاراد افزایش می یابد؟

$$(\epsilon_0 = 8/85 \times 10^{-12} \frac{\text{F}}{\text{m}})$$

۲۳/۶ (۴)

۲۱/۲۴ (۳)

۲/۳۶ (۲)

۲/۱۲۴ (۱)

۲۲۴- در پدیده آبرسانایی، مقاومت ویژه جسم با کاهش دما:

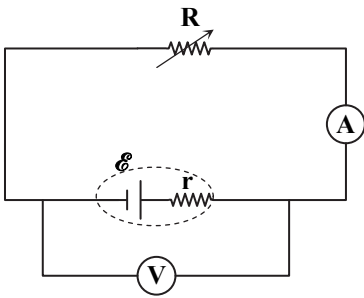
(۱) با شیب ثابتی به صفر می رسد و در دماهای پایین تر نیز صفر می ماند.

(۲) کاهش می یابد و در دمای خاصی، ناگهان به مقدار زیادی افزایش می یابد.

(۳) در دمای خاصی به صورت ناگهانی به صفر افت می کند و با ادامه کاهش دما، دوباره افزایش می یابد.

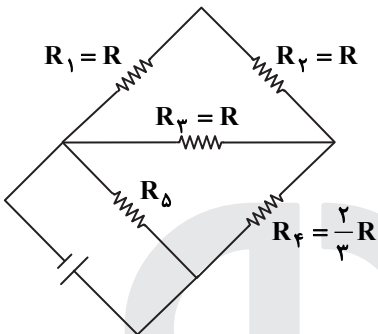
(۴) در دمای خاصی به صورت ناگهانی به صفر افت می کند و در دماهای پایین تر، همچنان صفر می ماند.

۲۲۵- در مدار زیر، توان خروجی باتری به ازای جریان‌های ۳A و ۵A یکسان است. در حالتی که ولت‌سنج عدد صفر را نشان می‌دهد، آمپرسنج چند آمپر را نشان می‌دهد؟ (ولت‌سنج و آمپرسنج آرمانی فرض شود).



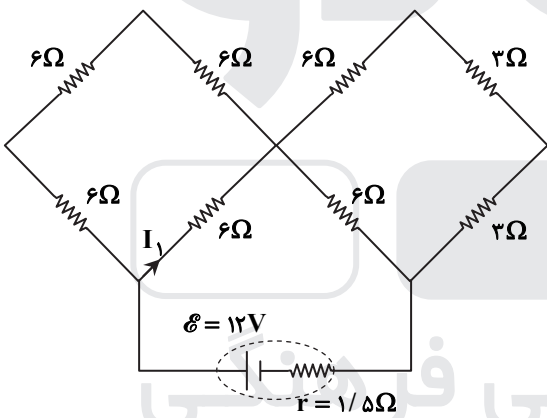
- (۱) صفر
- (۲) ۲
- (۳) ۴
- (۴) ۸

۲۲۶- در مدار زیر، توان مصرفی مقاومت  $R_3$ ،  $\frac{1}{3}$  توان مصرفی مقاومت  $R_5$  است. مقاومت معادل مدار چند برابر  $R$  است؟



- (۱)  $\frac{8}{3}$
- (۲)  $\frac{4}{3}$
- (۳)  $\frac{2}{3}$
- (۴)  $\frac{1}{3}$

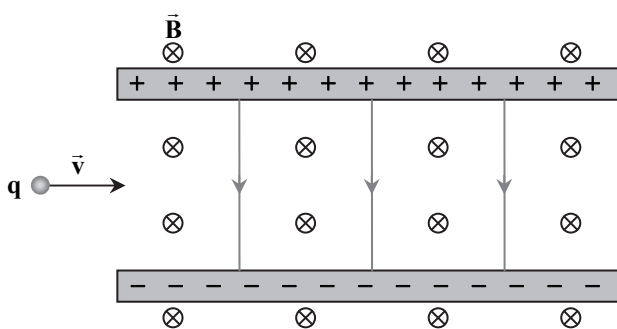
۲۲۷- در مدار مطابق شکل زیر،  $I_1$  چند آمپر است؟



- (۱) ۰/۳
- (۲) ۰/۶
- (۳) ۰/۹
- (۴) ۱/۲

۲۲۸- مطابق شکل زیر، ذره‌ای به بار  $q = 2\mu C$  با جرم ناچیز با تندی  $v = 2 \times 10^4 \frac{m}{s}$  در جهت نشان داده شده که عمود بر میدان‌های

یکنواخت  $B = 0.02T$  و  $E = 500 \frac{N}{C}$  است، وارد فضای این میدان‌ها می‌شود. نیروی خالص وارد بر ذره در لحظه ورود به میدان‌ها چند نیوتون است؟



- (۱) صفر
- (۲)  $3 \times 10^{-4}$
- (۳)  $2 \times 10^{-4}$
- (۴)  $1/8 \times 10^{-3}$

۲۲۹- در شکل زیر، یک حلقهٔ رسانا با تندی ثابت از یک میدان مغناطیسی خارج می‌شود و شار مغناطیسی در هر میلی‌ثانیه  $0.2$  و بر کاهش می‌یابد. جریان الکتریکی القایی در کدام جهت است و نیروی محرکهٔ القایی متوسط چند ولت است؟

× × $\vec{B}$ × × ×		(۱) ساعتگرد، $0.2$
× × × × ×		(۲) ساعتگرد، $20$
× × × × ×	→ $\vec{v}$	(۳) پادساعتگرد، $0.2$
× × × × ×		(۴) پادساعتگرد، $20$

۲۳۰- یک ماشین بالابر، برای بالا بردن وزنه‌ای به جرم  $50 \text{ kg}$  تا ارتفاع معینی از سطح زمین  $2000 \text{ J}$  انرژی مصرف می‌کند. اگر این وزنه از ارتفاع فوق بدون سرعت اولیه در شرایط خلأرها شود، با تندی  $8 \frac{\text{m}}{\text{s}}$  به زمین می‌رسد. بازده این ماشین چند درصد است؟ ( $g = 10 \frac{\text{N}}{\text{kg}}$ )

- (۱) ۵۵ (۲) ۶۰ (۳) ۷۵ (۴) ۸۰

۲۳۱- در مکانی که فشار هوا  $1.026 \times 10^5 \text{ Pa}$  است، اگر از عمق  $10$  سانتی‌متری مایعی، به عمق  $53$  سانتی‌متری برویم، فشار  $1/5$  برابر می‌شود.

چگالی مایع چند گرم بر سانتی‌متر مکعب است؟ ( $g = 10 \frac{\text{m}}{\text{s}^2}$ )

- (۱)  $2/5$  (۲)  $2/6$  (۳)  $13/5$  (۴)  $13/8$

۲۳۲- درون لولهٔ U شکلی که به یک مخزن محتوی گاز وصل شده است، جیوه به چگالی  $\frac{13600 \text{ kg}}{\text{m}^3}$  و مایعی به چگالی  $\rho$  وجود دارد. اگر فشار

هوای بیرون لوله  $10^5 \text{ Pa}$  باشد،  $\rho$  چند کیلوگرم بر مترمکعب است؟ ( $g = 10 \frac{\text{m}}{\text{s}^2}$ )

(۱) ۱۰۰۰  
(۲) ۱۵۰۰  
(۳) ۲۰۰۰  
(۴) ۲۵۰۰

۲۳۳- طول میله‌ای با یک خط‌کش مدرج اندازه‌گیری شده و به صورت  $68 \pm 0.5 \text{ mm}$  گزارش شده است. کمینهٔ درجه‌بندی این خط‌کش چند میلی‌متر است و این اندازه با چند رقم بامعنا گزارش شده است و رقم غیرقطعی (به ترتیب از راست به چپ) کدام است؟

- (۱) ۶ و ۳، ۱ (۲) ۰/۵ و ۲، ۱ (۳) ۰/۵، ۲ و ۱ (۴) ۰/۵، ۳ و ۶

۲۳۴- به مقداری یخ صفر درجهٔ سلسیوس در فشار  $1 \text{ atm}$ ، گرما می‌دهیم و آن را به آب با دمای  $20$  درجهٔ سلسیوس تبدیل می‌کنیم. چند درصد

گرمای داده‌شده، صرف ذوب کردن یخ شده است؟ ( $L_F = 336 \frac{\text{kJ}}{\text{kg}}$ ،  $c = 4200 \frac{\text{J}}{\text{kg} \cdot \text{K}}$ )

- (۱) ۹۰ (۲) ۸۰ (۳) ۸۵ (۴) ۷۵

۲۳۵- جرم دو میلهٔ مسی استوانه‌ای شکل A و B با هم برابر است و طول میلهٔ A،  $\frac{3}{4}$  طول میلهٔ B است. اگر دو سر این میله‌ها را بین دو منبع

گرما قرار دهیم؛ به طوری که اختلاف دما در دو سر میله‌ها با هم برابر باشد، آهنگ شارش گرما در میلهٔ A چند برابر آهنگ شارش گرما در میلهٔ B است؟

- (۱)  $\frac{9}{16}$  (۲)  $\frac{3}{4}$  (۳)  $\frac{4}{3}$  (۴)  $\frac{16}{9}$

۲۳۶- اگر ۱۶ گرم از عنصر A با ۷ گرم از عنصر X واکنش کامل داده و ترکیب AX را تشکیل دهد و ۱۲ گرم از عنصر Z با ۲/۸ گرم از عنصر X واکنش کامل داده و ترکیب XZ<sub>۳</sub> را به وجود آورد، جرم مولی X چند برابر جرم مولی Z و جرم مولی XZ<sub>۳</sub> برابر چند گرم است؟ (جرم مولی عنصر A را برابر ۱۲۸ گرم در نظر بگیرید.)

(۱) ۲۶۹، ۰/۷۰ (۲) ۲۹۶، ۰/۷۰ (۳) ۲۶۹، ۰/۸۵ (۴) ۲۹۶، ۰/۸۵

۲۳۷- در یون فلزی  $M^{2+}$ ، تفاوت شمار پروتون‌ها و نوترون‌ها برابر ۷ است، کدام مورد از مطالب زیر، دربارهٔ عنصر M درست است؟ الف) اتم آن دارای ۸ الکترون با عدد کوانتومی  $l=0$  است.

ب) عنصری از گروه ۱۱ در دورهٔ چهارم جدول تناوبی با عدد اتمی ۲۹ است.

پ) شمار الکترون‌های دارای  $l=1$  در اتم آن، ۱/۲ برابر شمار الکترون‌های دارای  $l=2$  است.

ت) شمار الکترون‌های آخرین لایهٔ اشغال‌شدهٔ اتم آن با شمار الکترون‌های آخرین لایهٔ اشغال‌شدهٔ اتم X ۲۵ برابر است.

(۱) الف و ت (۲) الف و پ (۳) ب و پ (۴) ب و ت

۲۳۸- در کدام ردیف‌های جدول زیر، نام شیمیایی ترکیب‌ها درست نوشته شده است؟

۱	$Na_3N, NO_2, CuO$	مس (I) اکسید، نیتروژن دی‌اکسید، سدیم نیتريد
۲	$CaSO_4, CS_2, Li_2CO_3$	لیتیم کربنات، کربن دی‌سولفید، کلسیم سولفات
۳	$MnO, CrF_3, PCl_5$	فسفر پنتا کلرید، کروم دی‌فلوئورید، منگنز (II) اکسید
۴	$COCl_2, BaI_2, SiO_2$	سیلیسیم دی‌اکسید، باریم یدید، کربونیل کلرید

(۱) ۳، ۱ (۲) ۴، ۱ (۳) ۳، ۲ (۴) ۴، ۲

۲۳۹-  $\frac{2}{7}$  جرم اکسید  $X_2O_3$  را اکسیژن تشکیل می‌دهد، جرم اتمی عنصر X چند amu است و در صورتی که تفاوت شمار پروتون‌ها و نوترون‌های اتم آن برابر ۶ باشد، عنصر X، در کدام دورهٔ جدول تناوبی جای دارد؟ (عدد جرمی را برابر جرم اتمی در نظر بگیرید.)

( $O = 16 \text{ g} \cdot \text{mol}^{-1}$ )

(۱) چهارم، ۶۰ (۲) پنجم، ۶۰ (۳) چهارم، ۷۰ (۴) پنجم، ۷۰

۲۴۰- با توجه به داده‌های جدول زیر، که به عنصرهای دورهٔ چهارم جدول تناوبی مربوط است، کدام مطلب درست است؟

عنصرها				ویژگی
M	E	D	A	
۳۹	۲۶	۴۵	۲۸	شمار نوترون‌ها در هستهٔ اتم
۱/۵	۲	۳/۵	۳	نسبت شمار الکترون‌های ظرفیتی به شمار الکترون‌های لایهٔ اول الکترونی اتم
اصلی	واسطه	اصلی	واسطه	نوع عنصر

(۱) عدد جرمی عنصر A برابر ۵۲ است؛ میان عنصرهای E و M در جدول تناوبی، ۸ عنصر فلزی جای دارد.

(۲) شعاع اتمی عنصر E از عنصر M بزرگ‌تر و تفاوت شمار نوترون‌ها و پروتون‌ها در اتم عنصر D، برابر ۱۲ است.

(۳) A و M در ترکیب‌های خود، به صورت کاتیون  $+3$  وجود دارند؛ عنصر D، با هیدروژن در دمای اتاق واکنش می‌دهد.

(۴) آرایش الکترونی اتم عنصر A، از قاعدهٔ آفبا پیروی نمی‌کند؛ شمار الکترون‌ها با  $l=2$  در اتم عناصر D و E، برابر است.

۲۴۱- کدام موارد زیر، دربارهٔ خانوادهٔ هالوژن‌ها در جدول تناوبی، درست است؟

الف) در واکنش با فلزهای قلیایی، ترکیب‌های یونی تشکیل می‌دهند.

ب) همهٔ آن‌ها با اکسیژن، اکسیدهایی با عددهای اکسایش بزرگ‌تر از صفر تشکیل می‌دهند.

پ) مجموع عددهای کوانتومی  $n+l$  الکترون‌های لایهٔ ظرفیت سومین عضو آن، برابر ۳۳ است.

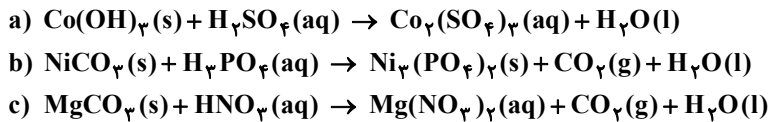
ت) مانند عنصرهای گروه ۱ جدول تناوبی، با افزایش عدد اتمی، واکنش‌پذیری آن‌ها افزایش می‌یابد.

(۱) الف و پ (۲) ب و ت (۳) الف و ب (۴) پ و ت

۲۴۲- ۱۱/۲ لیتر مخلوطی از گازهای اتان، اتن و اتین در شرایط STP، با ۰/۱۵ مول گاز هیدروژن به‌طور کامل واکنش می‌دهد و فراورده‌های سیرشده، تشکیل می‌شود. اگر شمار مول‌های اتن و اتین در این مخلوط با هم برابر باشد، چند درصد از مول‌های مخلوط اولیه را گاز اتان تشکیل می‌دهد؟

(۱) ۲۰ (۲) ۴۰ (۳) ۶۰ (۴) ۸۰

۲۴۳- چند مورد از مطالب زیر، درباره واکنش‌های زیر پس از موازنه معادله آن‌ها، درست است؟



مجموع ضرایب استوکیومتری مواد در معادله a و b، برابرند.

در هیچ‌یک از این واکنش‌ها، عدد اکسایش عنصرها تغییر نکرده است.

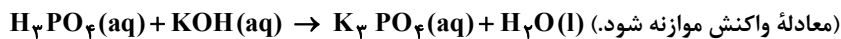
تفاوت مجموع ضرایب استوکیومتری مواد در معادله c با معادله b، برابر ۶ است.

در معادله c، مجموع ضرایب استوکیومتری واکنش‌دهنده‌ها با مجموع ضرایب استوکیومتری فرآورده‌ها برابر است.

۱ (۱) ۲ (۲) ۳ (۳) ۴ (۴)

۲۴۴- به ۲۰۰ میلی‌لیتر محلول پتاسیم هیدروکسید، مقدار کافی فسفریک اسید برای واکنش کامل اضافه شده است. اگر ۵۳ گرم پتاسیم فسفات

تشکیل شود، غلظت باز شرکت‌کننده در واکنش، چند مول بر لیتر است؟ ( $\text{H} = 1, \text{O} = 16, \text{P} = 31, \text{K} = 39 \text{ g} \cdot \text{mol}^{-1}$ )



۱ (۱) ۲ (۲) ۳ (۳) ۴ (۴)

۲۴۵- با توجه به نمودار «انحلال‌پذیری-دما» نشان داده شده، چند مورد از مطالب زیر، نادرست است؟

در نقطه A، محلول‌های دارای یون نیترات، سیر شده‌اند.

تفاوت انحلال‌پذیری نمک‌های دارای یون کلرید در  $90^\circ\text{C}$ ، به تقریب،

برابر ۱۵ گرم است.

در دمای  $25^\circ\text{C}$ ، مجموع انحلال‌پذیری نمک‌های دارای یون  $\text{K}^+$  با

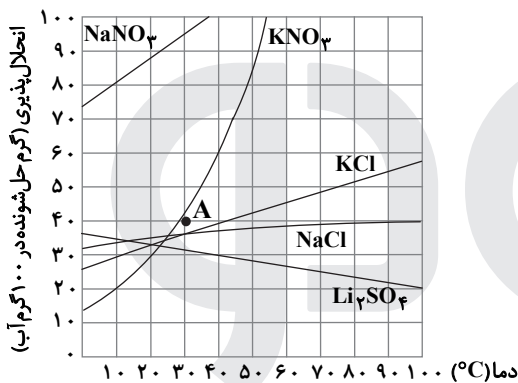
انحلال‌پذیری  $\text{NaNO}_3$  در این دما، برابر است.

اگر انحلال‌پذیری یک نمک در دمای  $20^\circ\text{C}$ ، برابر ۳۳ گرم باشد، آن

نمک، لیتیم سولفات با معادله انحلال‌پذیری:  $S = +0/15\theta + 35$  است.

۱ (۱) ۲ (۲)

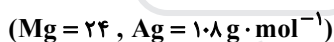
۳ (۳) ۴ (۴)



۲۴۶- اگر ۱۰ گرم مخلوطی از گرد منیزیم و نقره را در ۲۰۰ میلی‌لیتر محلول  $0/8$  مولار هیدروکلریک اسید وارد کنیم تا واکنش کامل انجام شود و

در پایان واکنش، غلظت مولار محلول به  $3 \text{ mol} \cdot \text{L}^{-1}$ ، کاهش یابد، درصد جرمی نقره در این نمونه، کدام است و چند مول فلز منیزیم در

آن وجود دارد؟ (فرآورده واکنش، گاز هیدروژن و کلرید فلز است، از تغییر حجم محلول چشم‌پوشی شود.)



۱ (۱) ۰/۰۵، ۶۶ (۲) ۰/۱۴، ۶۶ (۳) ۰/۰۵، ۸۸ (۴) ۰/۱۴، ۸۸

۲۴۷- درباره عنصرهای X و Z جدول تناوبی، چند مورد از مطالب زیر، درست است؟

عنصر Z، رسانای گرما است و قابلیت مفتول شدن دارد.

هر دو عنصر در واکنش با اکسیژن، دی‌اکسید تشکیل می‌دهند.

شعاع اتمی هر دو عنصر، از شعاع اتمی عنصر مایع گروه ۱۷ جدول تناوبی، بزرگ‌تر است.

اتم عنصر X، مانند اتم عنصرهای دیگر هم‌گروه خود، در واکنش‌ها، الکترون به اشتراک می‌گذارد.

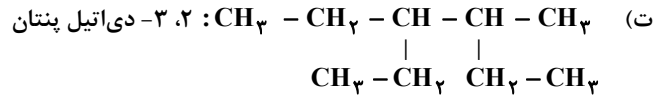
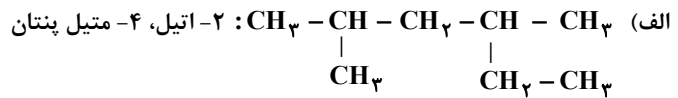
۱ (۱) ۲ (۲) ۳ (۳) ۴ (۴)

۲۴۸- چند مورد از داده‌های جدول زیر، درباره ترکیب‌های آلی داده شده، نادرست است؟

ترکیب آلی	نیروهای بین‌مولکولی	انحلال‌پذیری در آب	گروه عاملی	قطبیت
اتانول	هیدروژنی	بسیار زیاد	هیدروکسید	قطبی
استون	وان‌دروالس	بسیار زیاد	کربونیل	ناقطبی
متیل آمین	هیدروژنی	کم	آمین	قطبی

۱ (۱) ۲ (۲) ۳ (۳) ۴ (۴) ۵ (۴)

۲۴۹- نام کدام دو آلکان با فرمول ارائه شده برای آن‌ها، مطابقت دارد؟



الف و ت (۱)

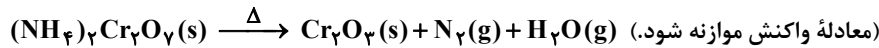
الف و ب (۲)

ب و پ (۳)

پ و ت (۴)

۲۵۰- اگر ۶۳ گرم  $(\text{NH}_4)_2\text{Cr}_2\text{O}_7$  مطابق واکنش زیر، در ظرف سرریسته به میزان ۸۰ درصد تجزیه شود، پس از انجام واکنش، درصد جرمی

تقریبی کروم در توده جامد بر جای مانده، کدام است؟ ( $\text{H} = 1, \text{N} = 14, \text{O} = 16, \text{Cr} = 52 \text{ g} \cdot \text{mol}^{-1}$ )



۴۲/۵ (۴)

۴۵/۲ (۳)

۶۰/۴ (۲)

۷۸/۴ (۱)

۲۵۱- با توجه به نمودار داده شده، چند مورد از مطالب زیر، درست است؟

■ واکنش اکسایش عنصر A، آسان‌تر از واکنش اکسایش عنصر D، انجام می‌شود.

■ مقدار a، برابر با آنتالپی واکنش کلی و آنتالپی ذوب D، برابر  $14 \text{ kJ} \cdot \text{mol}^{-1} +$  است.

■ می‌توان با صرف  $458 / 5 \text{ kJ}$  انرژی، یک مول A را از اکسید آن در واکنش با D، تهیه کرد.

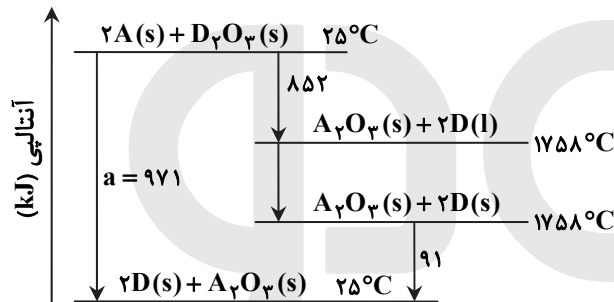
■ با بررسی این نمودار، می‌توان دریافت که واکنش‌پذیری عنصر A از عنصر D، بیشتر است.

۲ (۲)

۱ (۱)

۴ (۴)

۳ (۳)



۲۵۲- جدول زیر، به آزمایش انحلال قرص جوشان در آب و در دماهای داده شده مربوط است. چند مورد از مطالب زیر، درست است؟

آزمایش	مقدار قرص جوشان	دمای آب (°C)
۱	یک قرص	۰
۲	نصف قرص (پودر)	۰
۳	یک قرص	۲۵
۴	نصف قرص (پودر)	۲۵

■ سرعت واکنش در آزمایش ۳، از آزمایش ۱ بیشتر است.

■ سرعت واکنش در آزمایش ۲، نصف سرعت واکنش در آزمایش ۱، است.

■ آزمایش ۴، در قیاس با ۳ آزمایش دیگر، بیشترین سرعت واکنش را دارد.

■ با کامل شدن واکنش‌ها، حجم گاز جمع‌آوری شده در آزمایش ۲، نسبت به ۳ آزمایش دیگر، کمتر است.

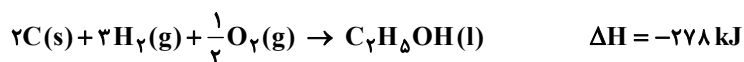
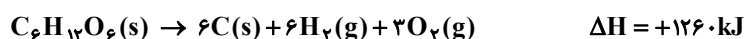
۴ (۴)

۳ (۳)

۲ (۲)

۱ (۱)

۲۵۳- با توجه به واکنش‌های گرمایشیایی زیر:



$\Delta\text{H}$  واکنش:  $\text{C}_6\text{H}_{12}\text{O}_6(\text{s}) \rightarrow 2\text{C}_2\text{H}_5\text{OH}(\text{l}) + 2\text{CO}_2(\text{g})$ ، برابر چند کیلوژول است و با آزاد شدن ۲۱۰ کیلوژول انرژی گرمایی در

این واکنش، چند گرم گلوکز به اتانول تبدیل می‌شود؟ ( $\text{H} = 1, \text{C} = 12, \text{O} = 16 \text{ g} \cdot \text{mol}^{-1}$ )

۴۵۰، -۹۲ (۴)

۴۵۰، -۹۲ (۳)

۴۵۰، -۸۴ (۲)

۴۵۰، -۸۴ (۱)



۲۵۴- با توجه به شکل زیر، که به واکنش کامل فلز روی با  $\frac{1}{3}$  مول  $\text{CuSO}_4(\text{aq})$  در دمای معین مربوط است، چند مورد از مطالب زیر، درست است؟  
( $\text{Cu} = 64, \text{Zn} = 65 \text{ g} \cdot \text{mol}^{-1}$ )



- با گذشت زمان، رنگ محلول موجود در ظرف روشن تر می‌شود.
- در بازه زمانی انجام واکنش،  $19/2$  گرم فلز از یون‌های مربوط آزاد شده است.
- سرعت واکنش در بازه زمانی مشخص شده، برابر  $2/75 \times 10^{-3}$  مول بر دقیقه است.
- مجموعه محلول نمک مس و فلز روی، می‌تواند به عنوان نیم سلول یک سلول گالوانی به کار رود.
- سرعت متوسط مصرف یون‌های فلزی با سرعت متوسط مصرف اتم‌های فلزی، در بازه زمانی انجام واکنش، برابر است.

۱) ۳ (۲) ۲ (۳) ۴ (۴) ۵ (۴)

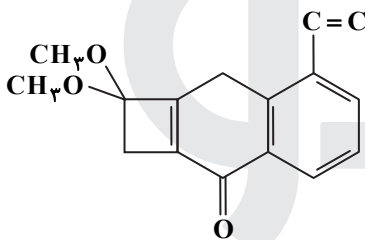
۲۵۵- هرگاه یک مول الکل دو عاملی با یک مول کربوکسیلیک اسید دو عاملی واکنش دهد، فرآورده آلی حاصل، .....  
(۱) دارای دو گروه استری خواهد شد.

(۲) تمایلی به واکنش با الکل یا کربوکسیلیک اسید دیگر، نخواهد داشت.

(۳) همچنان دارای گروه‌های عاملی هیدروکسیل و کربوکسیل خواهد بود.

(۴) در حلال‌های قطبی، انحلال پذیری بیشتری نسبت به اجزای سازنده خود، خواهد داشت.

۲۵۶- با توجه به ساختار «پیوند-خط» مولکولی که نشان داده شده، چند مورد از مطالب زیر، درباره آن درست است؟ ( $\text{H} = 1, \text{C} = 12 \text{ g} \cdot \text{mol}^{-1}$ )



■ دارای دو گروه اتتری، یک گروه کتونی و یک حلقه بنزنی است.

■ شمار جفت الکترون‌های ناپیوندی روی اتم‌های آن با شمار پیوندهای دوگانه در مولکول آن، برابر است.

■ اگر در آن، اتم‌های هیدروژن جایگزین گروه‌های متیل شود، کاهش جرم مولی آن، برابر جرم مولی اتن می‌شود.

■ نسبت شمار اتم‌های کربن به هیدروژن در آن، با نسبت شمار اتم‌های هیدروژن به کربن در مولکول بنزن، برابر است.

۱) ۱ (۲) ۲ (۳) ۳ (۴) ۴ (۴)

۲۵۷- چند مورد از مطالب زیر، درباره هیدروکربنی با فرمول:  $(\text{CH}_3)_3\text{C}(\text{CH}_2)_2\text{HC}(\text{CH}_3)_2(\text{CH}_3)$ ، درست است؟

( $\text{H} = 1, \text{C} = 12, \text{O} = 16 \text{ g} \cdot \text{mol}^{-1}$ )

■ با ۳- متیل اوکتان، همپار است.

■ جرم مولی آن، ۴ برابر جرم مولی متانول است.

■  $72/5$  درصد جرم مولی آن را کربن تشکیل می‌دهد.

■ مجموع عددها در نام آن بر اساس قواعد آیوپاک، برابر ۹ است.

۱) ۱ (۲) ۲ (۳) ۳ (۴) ۴ (۴)

۲۵۸- کدام اکسیدها، اسید آرنیوس به شمار می‌آیند و محلول کدام یک از آن‌ها در آب، اسید قوی تری است؟

a)  $\text{K}_2\text{O}$

b)  $\text{CO}_2$

c)  $\text{SO}_3$

d)  $\text{BaO}$

c : c و b (۴)

b : c و b (۳)

a : d و a (۲)

d : d و a (۱)

۲۵۹- دو ظرف، اولی دارای  $200$  گرم آب مقطر و دومی دارای  $250$  گرم آب مقطر، هر دو در دمای  $25^\circ\text{C}$  را در نظر بگیرید. چند مورد از مطالب زیر، درباره آن‌ها، درست است؟

■ گرمای ویژه آب در دو ظرف، برابر است.

■ میانگین انرژی جنبشی مولکول‌های آب در دو ظرف، یکسان است.

■ ظرفیت گرمایی آب در ظرف ۲، بیشتر از ظرفیت گرمایی آب در ظرف ۱، است.

■ اگر گلوله فلزی مشابه داغ با دمای یکسان را در هر ظرف وارد کنیم، دمای پایانی آب دو ظرف، برابر است.

۱) ۴ (۲) ۳ (۳) ۲ (۴) ۱ (۴)

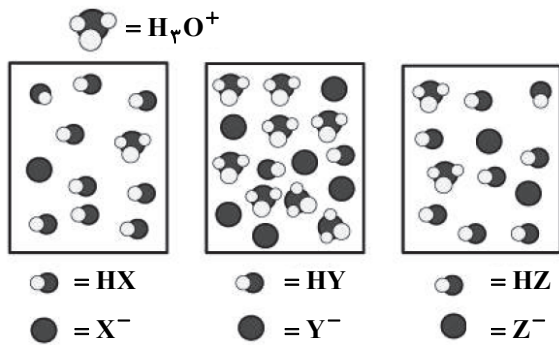
۲۶۰- کدام مطلب، نادرست است؟ (در همه گزینه‌ها، دما ثابت در نظر گرفته شود.)

(۱) درصد یونش اسید ضعیف  $\text{HA}$ ، با افزایش غلظت آن در آب، کاهش می‌یابد.

(۲)  $[\text{OH}^-]$  در محلول یک اسید ضعیف، می‌تواند برابر  $[\text{H}_3\text{O}^+]$  در محلول یک باز ضعیف باشد.

(۳) اگر درصد یونش باز بسیار قوی  $\text{YOH}$ ، دو برابر درصد یونش اسید  $\text{HX}$  باشد،  $\text{pH}$  محلول ۱ مولار اسید برابر ۳ است.

(۴) اگر برای محلول ۳ مولار یک اسید،  $\text{pH}$  در گستره صفر تا ۷ قرار گیرد، آن اسید از هیدروبرمیک اسید، ضعیف تر است.



۵ (۴)

۴ (۳)

۳ (۲)

۲ (۱)

۲۶۱- در شکل زیر، محلول اسیدهای HX، HY و HZ، با غلظت مولی و دمای یکسان، نشان داده شده است و برای سادگی مولکول‌های آب حذف شده است، چند مورد از مطالب زیر، درباره آن‌ها درست است؟

- در میان اسیدها، HX ضعیف‌ترین اسید است.
- واکنش یونش هر سه اسید در آب، تعادلی است.
- قدرت اسیدی اتانویک اسید، به یقین از HY، کوچک‌تر است.
- ثابت یونش HZ، از ثابت یونش HX بزرگ‌تر و از ثابت یونش HY، کوچک‌تر است.
- اگر HX، هیدروسولفید اسید باشد، HZ می‌تواند هیدروفلوئوریک اسید باشد.

۱۰، ۰/۰۵ (۴)

۱۰، ۲۰ (۳)

۰/۱، ۰/۰۵ (۲)

۰/۱، ۲۰ (۱)

۲۶۲- اگر در دمای اتاق، pH محلول HA با درجه یونش  $\alpha = ۰/۱$  برابر ۲ و pH محلول HD با درجه یونش  $\alpha = ۰/۲$  برابر ۳ باشد، نسبت غلظت مولار اولیه HA به غلظت مولار اولیه HD کدام و در حالت تعادل، غلظت مولار یون هیدروکسید در محلول HA چند برابر غلظت مولار این یون در محلول HD است؟

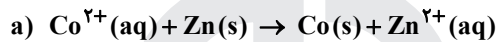
۱۰، ۰/۰۵ (۴)

۱۰، ۲۰ (۳)

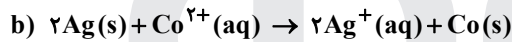
۰/۱، ۰/۰۵ (۲)

۰/۱، ۲۰ (۱)

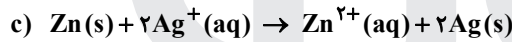
۲۶۳- با توجه به  $E^\circ$  الکترودها، کدام واکنش در شرایط استاندارد، در جهت طبیعی پیش می‌رود و برای انجام برقکافت محلول الکترولیتی که به ولتاژ ۱/۵ ولت نیاز دارد، کافی است؟



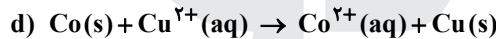
$$E^\circ [\text{Co}^{2+}(\text{aq}) / \text{Co}(\text{s})] = -۰/۲۸\text{V}$$



$$E^\circ [\text{Ag}^+(\text{aq}) / \text{Ag}(\text{s})] = +۰/۸\text{V}$$



$$E^\circ [\text{Zn}^{2+}(\text{aq}) / \text{Zn}(\text{s})] = -۰/۷۶\text{V}$$



$$E^\circ [\text{Cu}^{2+}(\text{aq}) / \text{Cu}(\text{s})] = +۰/۳۴\text{V}$$

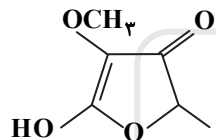
d (۴)

c (۳)

b (۲)

a (۱)

۲۶۴- چند نوع اتم کربن، بر پایه تفاوت عدد اکسایش، در ترکیبی با فرمول «پیوند-خط» زیر، وجود دارد؟



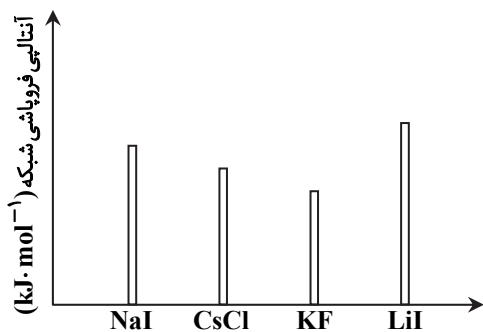
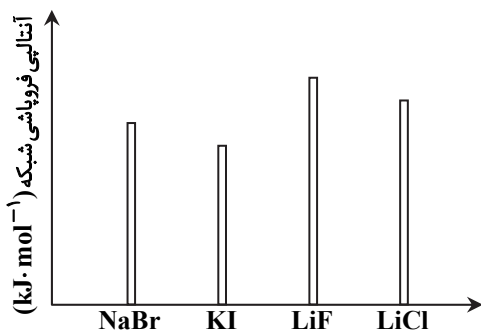


۳ (۱)

۴ (۲)

۵ (۳)

۶ (۴)

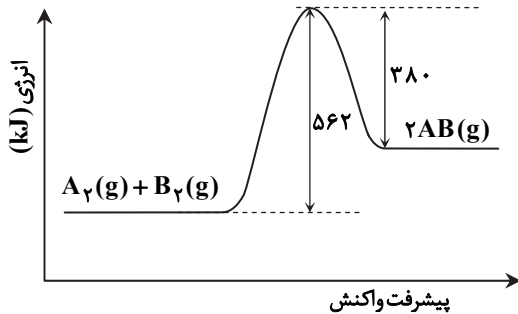
۲۶۵- کدام نمودار، درباره مقایسه نسبی آنتالپی فروپاشی شبکه بلور جامدهای یونی داده شده، درست است؟



۲۶۶- اگر شعاع یون پایدار اکسیژن ( $O$ ) برابر  $135 \text{ pm}$  در نظر گرفته شود، با توجه به جایگاه عنصرها در جدول تناوبی و روند تغییر خواص آن‌ها در دوره‌ها و گروه‌ها، شعاع یون پایدار سدیم ( $Na$ ) با یکای  $\text{pm}$ ، کدام گزینه می‌تواند باشد؟

- (۱) ۵۸ (۲) ۹۹ (۳) ۱۳۸ (۴) ۱۴۴

۲۶۷- با توجه به نمودار «انرژی- پیشرفت واکنش» زیر، آنتالپی پیوند بین اتم‌های  $A$  و  $B$ ، برابر چند کیلوژول بر مول است؟ (آنتالپی پیوند بین اتم‌ها در مولکول‌های  $A_2$  و  $B_2$ ، به ترتیب برابر  $940$  و  $492$  کیلوژول بر مول است).



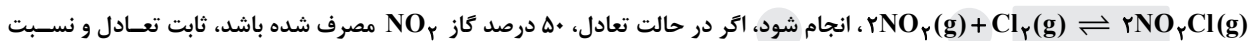
(۱) ۶۲۵

(۲) ۵۶۲

(۳) ۱۲۵۰

(۴) ۱۱۲۴

۲۶۸-  $18/4$  گرم گاز  $NO_2$  را با  $21/3$  گرم گاز کلر در یک ظرف  $4$  لیتری در بسته گرم می‌کنیم تا واکنش تعادلی:



انجام شود، اگر در حالت تعادل،  $50\%$  درصد گاز  $NO_2$  مصرف شده باشد، ثابت تعادل و نسبت مولی گاز  $NO_2$  به گاز  $Cl_2$  در مخلوط تعادلی، کدام است؟ (گزینه‌ها را از راست به چپ بخوانید.)

( $N = 14, O = 16, Cl = 35.5 / \text{g} \cdot \text{mol}^{-1}$ )

(۴) ۲، ۲۰۰

(۳) ۱، ۲۰۰

(۲) ۲، ۲۰

(۱) ۱، ۲۰

۲۶۹- اگر در یک واکنش گازی تعادلی در یک ظرف دربسته، با افزایش دمای سامانه یا اضافه کردن یک گاز بی‌اثر، درصد فراورده‌ها در مخلوط واکنش افزایش یابد، کدام مطلب درست است؟

(۱) واکنش گرماده و شمار مول‌های فراورده(ها)، کمتر از شمار مول‌های واکنش‌دهنده(ها) است.

(۲) واکنش گرماگیر است و کاهش حجم سامانه تعادل را در جهت رفت جابه‌جا می‌کند.

(۳) واکنش گرماگیر و تغییر حجم سامانه بر جابه‌جایی تعادل، بی‌تأثیر است.

(۴) واکنش گرماده است و کاهش فشار، دمای سامانه را افزایش می‌دهد.

۲۷۰- دربارهٔ واکنش  $6I^-(aq) + 2MnO_4^-(aq) + 4H_2O(l) \rightarrow 2MnO_2(s) + 3I_2(s) + 8OH^-(aq)$ ، چند مورد از مطالب زیر درست است؟

■ در این واکنش، کاهنده آنیون تک‌اتمی و اکسنده، آنیون چند اتمی است.

■ عدد اکسایش منگنز در این واکنش، ۳ واحد تغییر کرده و به  $+4$  رسیده است.

■ در این واکنش، به‌ازای مصرف ۲ مول گونهٔ اکسنده، ۶ مول الکترون مبادله می‌شود.

■ هر مول از یون کاهنده، یک مول الکترون از دست داده و یک مول نافلز مربوط آزاد می‌شود.

(۴) ۳

(۳) ۴

(۲) ۱

(۱) ۲



# پاسخ تشریحی

آزمون سراسری سال ۱۴۰۰

● گروه آزمایشی علوم تجربی

## زبان و ادبیات فارسی

۱- پاسخ: گزینه ۴

مترادف واژگان صورت سؤال در هر کدام از ابیات:

الف) ستم = جفا

ب) احسان = مرحمت

ج) آفرین = زهی

د) آگاه = صاحب‌دل

۲- پاسخ: گزینه ۴

ابتدا معنی هر کدام از واژه‌های صورت سؤال را می‌نویسیم تا ببینیم در هر گزینه چند معنی درست دیده می‌شود:

مَنّت: سپاس، شکر، نیکویی

صحیفه: کتاب

ابدیت: جاودانگی، پابندگی، بی‌کرانگی

روایی: ارزش، اعتبار

محظوظ: بهره‌ور

شگرف: قوی، نیرومند

آخته: بیرون کشیده، برکشیده

در گزینه ۴ هر چهار واژه در واژگان صورت سؤال دارای مترادف هستند. در گزینه ۱ تنها دو واژه «ارزش و شکر» دارای مترادف هستند. در گزینه ۲ هر چهار واژه دارای مترادف هستند ولی دو واژه «اعتبار و ارزش» هم‌معنی هستند؛ پس تنها با سه واژه از واژه‌های صورت سؤال مترادف هستند. در گزینه ۳ تنها واژه «جاودانگی» با «ابدیت» هم‌معنی است.

۳- پاسخ: گزینه ۳

معنی درست واژگانی که در سؤال نادرست معنی شده‌اند:

تعبیر: بیان کردن، شرح دادن، بازگویی

اسرا: در شب سیر کردن، هفدهمین سوره قرآن کریم

جرّاره: ویژگی نوعی عقرب زرد بسیار سمّی که دمش روی زمین کشیده می‌شود.

زخمه: ضربه، ضربه‌زدن

۴- پاسخ: گزینه ۴

موارد نادرست هر کدام از گزینه‌ها:

۱) کراهیت ← کراهیت

۲) فراغ ← فراق

۳) قدمی گزارده‌اند ← قدمی گزارده‌اند

۵- پاسخ: گزینه ۳

موارد نادرست:

منقلب ← منقلب / زجه ← ضجه / توجیح ← توجیه

۶- پاسخ: گزینه ۲

موارد نادرست املائی:

ب) اسرار (رازها) ← اصرار (پافشاری)

ج) ثواب (پاداش) ← صواب (درست)

۷- پاسخ: گزینه ۱

۸- پاسخ: گزینه ۱

بررسی آرایه‌های صورت سؤال در گزینه ۱:

۱) ایهام: چین (در مصراع دوم)، (۱) کشور چین (۲) پیچ و تاب / استعاره: چین در مصراع دوم در معنی کشور چین می‌تواند استعاره باشد. / جناس تام: چین (کشور چین) و چین (پیچ و تاب).

■ استعاره در گزینه ۱ قابل دفاع نیست و تست دارای خطای طراحی است. از طرف دیگر در گزینه ۳ هم اگر ایهام «مستی» (مست بودن و یک مست) را در نظر بگیریم، جناس تام و استعاره هم در این بیت موجود است و گزینه ۳ جواب بهتری از گزینه ۱ است، اگرچه این گزینه هم محکم و قابل دفاع نیست.

۹- پاسخ: گزینه ۱

بررسی هر کدام از گزینه‌ها:

(۱) ایهام: ندارد. / استعاره: ناظر (بینا) شدن نرگس و گویا شدن سوسن تشخیص و استعاره است.

(۲) ایهام: روزی: (۱) یک روز (۲) رزق و روزی / مجاز: جام مجاز از شراب است.

(۳) تشبیه: به صورت پنهان عکس شمشیر مخاطب (برق شمشیر او) به آفتاب تشبیه شده و به آن برتری داده شده، همچنین «بار احسان» اضافه تشبیهی است. / اغراق: در جنگاوری و احسان ممدوح اغراق شده است.

(۴) مجاز: قلم و زبان به ترتیب مجاز از شعر و سخن و کلام است. / استعاره: زبان آوری قلم و زبان داشتن آتش، تشخیص و استعاره است.

۱۰- پاسخ: گزینه ۲

بررسی آرایه‌ها مطابق گزینه ۲:

استعاره: «آهو» در مصراع دوم استعاره از چشم یار است.

تشبیه: «آهوچشم» تشبیه درون‌واژه‌ای دارد (کسی که چشمش مثل چشمان آهو است).

جناس تام: «آهو» به معنی حیوان آهو و آهو (آخرین آهو) به معنی عیب جناس تام دارند.

کنایه: «شیرگیر بودن» کنایه از «شجاعت» است.

۱۱- پاسخ: گزینه ۱

بررسی آرایه‌های سایر گزینه‌ها:

جناس: سر و در

تشبیه: مار سر زلف اضافه تشبیهی است.

مجاز: ملک در معنی مجازی مردم به کار رفته است.

ایهام: ضحاک: (۱) خندان (۲) نام پادشاه اسطوره‌ای

تلمیح: به داستان ضحاک و جمشید اشاره شده است.

۱۲- پاسخ: گزینه ۲

بررسی گزینه‌ها:

(الف) هر دو جمله به شیوه بلاغی هستند. جمله اول به دلیل تقدم فعل و جمله دوم به دلیل وجود رای فک اضافه.

(ب) شیوه عادی: از عمر ذوق دیدم / وقتی که با تو بودم / شیوه بلاغی: ذوقی چنان ندارد بی دوست زندگانی ← بی دوست زندگانی ذوقی چنان ندارد.

(ج) شیوه عادی: هزاران آفرین بر جانت از سر تا قدم [باد] / شیوه بلاغی: این وجود آورد بیرون از عدم ← این وجود را از عدم بیرون آورد.

(د) همه جملات به شیوه عادی هستند.

(ه) شیوه عادی: سیاوش سیه را به تندی بتاخت. / جنگ آتش بساخت. / شیوه بلاغی: نشد تنگ دل ← تنگ دل نشد.

۱۳- پاسخ: گزینه ۳

در تمام گزینه‌ها حذف فعل به قرینه معنوی دیده می‌شود ولی فقط در گزینه ۳ فعل اسنادی وجود دارد:

حذف فعل: به جان خواجه و ... [سوگند می‌خورم].

جمله اسنادی: دعای دولت تو (نهاد) مونس دم صبحم (مسند) است.

۱۴- پاسخ: گزینه ۴

صفت فاعلی: بیت ج: روا (بن مضارع + ا)

صفت مفعولی: بیت د: آلوده (بن ماضی + ه)

صفت نسبی: بیت الف: دیرینه (اسم / صفت + ینه)

صفت لیاقت: بیت ب: دریدنی (مصدر + ی)

■ اگرچه جواب سوال روشن است و تست دشوار نیست ولی در این تست هم خطای علمی وجود دارد. در گزینه ۳ «دریدنی» صفت لیاقت نیست.

۱۵- پاسخ: گزینه ۱

بررسی گزینه‌ها:

(۱) مترادف «رقعه»، «نامه» است که در بیت دیده می‌شود. / واژه دو تلفظی در بیت دیده نمی‌شود.

■ واژه «آینه» دو تلفظی است و این تست هم خطای علمی دارد.

(۲) ترکیب اضافی: نسخه نامه - آینه جمال / صفت نسبی: الهی - شاهی

(۳) متمم: ز تو - در عالم - در خود / منادای محذوف: ای [کسی که] نسخه نامه الهی هستی - ای [کسی که] آینه جمال شاهی هستی.

(۴) نقش تبعی در بیت وجود ندارد. / مسندها: نسخه نامه الهی - آینه جمال شاهی.

۱۶- پاسخ: گزینه ۳

برای مشخص کردن نقش واژه‌های مشخص شده، باید ابیات را مرتب کنیم:  
چو به روز مرگ، تابوت (نهاد) من روان باشد. گمان مبر که درد من (مضاف‌الیه) این جهان باشد.  
برای من مگری و دریغ [را] (مفعول) مگو. به دام دیو درافتی، دریغ (نهاد)، آن باشد.

۱۷- پاسخ: گزینه ۴

مفهوم مشترک سایر گزینه‌ها این است که جز عاشق کسی محرم اسرار عشق نیست. اما در گزینه ۴ شاعر از محفلی سخن گفته است که هیچ محرم و بیگانه‌ای در آن حریم راه نداشته‌است.

۱۸- پاسخ: گزینه ۲

بررسی مفهوم هر کدام از ابیات:

- (۱) برای من یک جامه در سال کافی است و برای جامه‌های رنگارنگ خون دل نمی‌خورم = مناعت طبع
- (۲) تنها کسی می‌تواند به حریم حسن برسد و حلقه بر در آن بزند که در عشق بی‌قرار و ناآرام شده باشد = تنها عاشق به درک حسن می‌رسد. (درست است که تجلی معشوق هم به نوعی در این بیت مطرح است اما تأکید بیت بر قابلیت عاشق برای رسیدن به حریم حسن است).
- (۳) آن معشوقی که به بهای دادن جان عشق او را خریداری کردم، به اندازه‌ی پر کاهی برای من ارزش قایل نیست = بی‌توجهی و اعراض معشوق
- (۴) اگر جذب و کشش خورشید وجود معشوق نباشد، من که مانند شب‌نمی‌ناچیز هستم به درگاه او راه نمی‌یابم = عنایت معبود

۱۹- پاسخ: گزینه ۱

مفهوم مشترک بیت سؤال و گزینه ۱ حتمی بودن و فراگیر بودن مرگ است.  
مفهوم سایر گزینه‌ها:

(۲) گذران عمر در غم و اندوه

(۳) برتری معشوق حقیقی بر معشوق ناپایدار

(۴) تنها عاشقی که بر جفای معشوق صبر کند، لایق وصال است.

۲۰- پاسخ: گزینه ۳

مفهوم بیت صورت سؤال از تو حرکت، از خدا برکت است و اینکه عنایت خدا شامل حال کسی می‌شود که حرکت و تلاش کند. مقابل این مفهوم می‌شود: بدون تلاش و حرکت به توفیق رسیدن. در گزینه ۳ شاعر می‌گوید: خوشه‌های گندم به دنبال تو هستند و رزق خودش را به تو می‌رساند، پس پای سعی و تلاش را در غل و زنجیر کن و دست از تلاش بردار. پس این بیت با بیت صورت سؤال تقابل دارد.

مفهوم سایر گزینه‌ها:

(۱) غم خوردن اثری در کسب روزی ندارد.

(۲) با قناعت به آسایش و راحتی رسیدن / مناعت طبع

(۴) فقط به خود و نیروی خود تکیه کردن

۲۱- پاسخ: گزینه ۱

مفهوم مشترک سایر گزینه‌ها تقابل عقل و عشق و تفوق و برتری عشق بر عقل است. اما در گزینه ۱ سخن از این است که هر دردی چاره و درمان دارد به جز درد عشق.

۲۲- پاسخ: گزینه ۲

در گزینه ۲ تأکید بر این است که سخن سودمند را بگو، حتی اگر کسی گوش نکند؛ اما در سایر گزینه‌ها همانند بیت سؤال سخن از این است که نام و گفتار نیک ماندگار می‌ماند.

۲۳- پاسخ: گزینه ۳

در ابیات «ب» و «د» مفهوم اصلی این است که در عشق شاه و گدا تفاوتی ندارند.

مفهوم سایر ابیات:

(الف) خود را شایسته قربت یار ندانستن

(ج) فقیر آسوده برتر از پادشاه ناخرسند است.

(ه) گدایان کوی عشق اهمیتی به سلطنت دنیا نمی‌دهند (سلطنت درویشان) / گدایی کردن در درگاه معشوق بی‌نیاز

۲۴- پاسخ: گزینه ۲

مفهوم اصلی درس سیاوش این بود که انسان بی‌گناه آسیب نمی‌بیند و از آزمون سربلند بیرون می‌آید. همین مفهوم به نوعی در گزینه ۲ تکرار شده‌است.

مفهوم سایر گزینه‌ها:

(۱) عاشق با وجود یار به باغ و گلستان توجه نمی‌کند.

(۳) به درگاه خدا پوزش آوردن و بازگشتن به راه درست

(۴) از غوغای جهان و غم و شادی آن فارغ بودن

۲۵- پاسخ: گزینه ۴

در شعر صورت سؤال تأکید بر این است که فروتنی و تواضع سبب بلندمرتبه‌گی و قرب به خداوند است. در گزینه ۴ نیز شاعر شرط رسیدن به معشوق را، شکستن و کوچک کردن خود دانسته است.

مفهوم سایر گزینه‌ها:

(۱) تواضع کردن در برابر خردمندان خوی بزرگان است.

(۲) با فروتنی و تواضع دل دیگران را به دست آوردن

(۳) تواضع در عین قدرتمندی

### زبان عربی

۲۶- پاسخ: گزینه ۳

لا یغیر: تغییر نمی‌دهد (رد گزینه ۲) // ما: چیزی پیامبران (رد گزینه ۲) // بقوم: در قومی (رد سایر گزینه‌ها) // حتی یغیروا: تا اینکه تغییر دهند (رد گزینه‌های ۲ و ۴)

۲۷- پاسخ: گزینه ۲

(إذا) کنت واثقاً: اعتماد داشته باشی (رد گزینه‌های ۳ و ۴) // أن تشجج: تشویق کنی (رد گزینه‌های ۳ و ۴) // أن یكونوا واثقین: اعتماد داشته باشند (رد گزینه‌های ۱ و ۴)

۲۸- پاسخ: گزینه ۲

أن تجعل: بگردانی (قرار دهی) (رد گزینه‌های ۱ و ۴) // ألا یتسع: فراخ نشود (رد گزینه‌های ۳ و ۴) // للعداوة: برای دشمنی (رد گزینه ۳) // «جداً» در گزینه ۴ ترجمه نشده است.

۲۹- پاسخ: گزینه ۱

ما قل: کم نشده است (رد سایر گزینه‌ها) // عدد الأشخاص المخلصین: تعداد افراد با اخلاص (رد گزینه‌های ۲ و ۳) // أن نستعین: یاری بجوییم (رد گزینه ۴) // طریقنا: راه خود را (رد گزینه‌های ۲ و ۳) // بسهولة: به آسانی (رد گزینه‌های ۲ و ۳)

۳۰- پاسخ: گزینه ۱

بدأ: شروع کردند (رد گزینه ۲) // إخوانی المزارعون: برادران کشاورزم (رد گزینه‌های ۲ و ۳) // سنّ عریضة: دندانهای پهن (رد سایر گزینه‌ها)

۳۱- پاسخ: گزینه ۴

یفتحها ظلام اللیل: تاریکی شب ... باز می‌کند (رد گزینه ۱) // عندما: هنگامی که (رد سایر گزینه‌ها) // کلّ الأشياء: همه چیزها (رد گزینه‌های ۱ و ۳) // نجد: می‌یابیم (رد گزینه ۲) // «با» در ابتدای گزینه ۱ اضافی است.

۳۲- پاسخ: گزینه ۳

هناک (ابتدای جمله): وجود دارند (رد گزینه ۴) // بالالتفاف: با پیچیدن (رد گزینه‌های ۲ و ۴) // جذوع الأشجار: تنه‌های درختان (رد گزینه‌های ۱ و ۲) // تنمو: رشد می‌کند (رد گزینه ۱)

۳۳- پاسخ: گزینه ۴

یَقْطَعُ: قطع می‌شود (مجهول) // فعل مجهول

۳۴- پاسخ: گزینه ۲

أن تبدأ: شروع کنی

۳۵- پاسخ: گزینه ۱

تظاهر کرد: تظاهر (رد گزینه‌های ۲ و ۴) // پرندة باهوش: الطائر الذکی (رد گزینه‌های ۳ و ۴) // بالش: جناحه (رد سایر گزینه‌ها)

■ ■ ترجمه متن:

«میلیون‌ها نفر از مردم در تمام اطراف عالم به‌ویژه در کشورهای فقیرتر زندگی‌شان به دریاها و اقیانوس‌ها تکیه دارد! این دریاها و اقیانوس به‌شکل خیلی مهمی در ایجاد فرصت‌های شغلی و به‌دست آوردن غذا و احتیاجات روزانه آن‌ها مؤثر است! سرزمین‌های نزدیک این اقیانوس‌ها به‌خاطر این نعمت بزرگ از آن به اشکال مختلفی در زمینه توسعه و رشد اقتصادشان استفاده می‌کنند! علاوه بر اینکه آن‌ها منابع مهم نعمت‌های غذایی و غیره هستند، یک فرصت طلایی برای جذب جهانگرد و مسافر از تمام سرزمین‌های عالم هستند برای لذت بردن و گشت و گذار! موضوعی که شایان ذکر است این که حمل و نقل دریایی امروزه یکی از راه‌های اتصال اساسی بین کشورهای شده است! برای همین یکی از عوامل رشد اقتصاد شمرده می‌شود و اخیراً آن چیزی که مراعات کردن آن واجب است اینک دریاها مکانی برای زباله‌ها نیستند و عدم رعایت این موضوع باعث هلاکت انسان به دست خودش می‌باشد!»



۳۶- پاسخ: گزینه ۱

(۱) تأثیر دریاها در هوای پاکیزه! ✓

(۳) زندگی انسان و تأثیر دریا بر آن!

۳۷- پاسخ: گزینه ۲

(۱) ایجاد سازمان‌های حمل‌ونقل!

(۳) تأسیس شرکت‌های غذایی!

۳۸- پاسخ: گزینه ۱

(۱) با آلوده کردن آب دریا ✓

(۳) استفاده از زباله

۳۹- پاسخ: گزینه ۲

(۱) منابع غذایی دریا

۴۰- پاسخ: گزینه ۳

«ع ت م» ← «ع م د» / ماضیه «إعتمد» ... إفتعل ← «إعتمدت» ... إفتعلت

۴۱- پاسخ: گزینه ۲

بمعنی «کان» ← بمعنی «صار»

۴۲- پاسخ: گزینه ۴

«أفعله» ← فُعلی

۴۳- پاسخ: گزینه ۲

«عقول» و «المستمعین» (اسم فاعل ثلاثی مزید)، شیوه درست این دو واژه می باشد.

۴۴- پاسخ: گزینه ۴

(۱) رجل ← جمع → أرْجل

(۲) «هواة: طرفداران» مترادف «راغبون: طرفداران» است؛ نه متضادش.

(۳) الكُتَاب ← مفرد → كاتب

۴۵- پاسخ: گزینه ۱

(۱) کاشت: مکانی که کشاورز در آن کار می‌کند! \* (صحیح: مزرعة)

(۲) کاشت: بذرها را زیر خاک قرار داد!

(۳) کشاورز: کسی که چیزی در زمین می‌کارد، سپس آن را برداشت می‌کند!

(۴) مزرعه‌ها: زمین‌هایی که در آن‌ها دانه کاشته می‌شود و کشاورز آن‌ها را برداشت می‌کند!

۴۶- پاسخ: گزینه ۳

«شَر» در این گزینه به معنای «بدترین» می‌باشد.

هرگاه «خیر» و «شَر» به معنای «خوبی» و «بدی» باشند، اسم تفضیل نیستند (رد سایر گزینه‌ها).

۴۷- پاسخ: گزینه ۴

اگر «کان» به عنوان فعل کمکی نباشد و در معنای اصلی خود (بود) به کار رود، فعل ماضی استمراری نداریم.

در گزینه ۴ فعل «کان» فعل کمکی نیست و به معنای «بود» می‌باشد؛ اما در سایر گزینه‌ها فعل کمکی است، لذا فعل مضارعی که پس از آن

آمده است، به صورت ماضی استمراری ترجمه می‌شود.

۴۸- پاسخ: گزینه ۳

لا نفی جنس بر سر اسم می‌آید (رد سایر گزینه‌ها)

(۱) «لا» نفی مضارع

(۲) هر سه «لا» نهی هستند.

(۴) «لا» جواب برای «أ» و «هل»

۴۹- پاسخ: گزینه ۴

در این گزینه «ما» ادات اسلوب تعجب می‌باشد؛ به معنی «چه زیباست» اما در سایر گزینه‌ها «ما» بر سر فعل آمده و نفی می‌باشد.

۵۰- پاسخ: گزینه ۳

در سایر گزینه‌ها به ترتیب «أحد»، «الجوائز» و «الفاکهة» مستثنی‌منه هستند، پس اسلوب حصر نداریم. اما در گزینه ۳، اسلوب حصر

داریم؛ زیرا مستثنی‌منه محذوف است.

## فرهنگ و معارف اسلام

۵۱- پاسخ: گزینه ۴

اولین گام در مسیر قرب الهی «خود شناسی» است که به معنای شناخت سرمایه‌ها و موانع انسان است. آیه شریفه صورت سؤال با اشاره به عبارت «شاکرا و اما کفورا»، بیانگر قدرت اختیار و انتخاب در انسان است.

۵۲- پاسخ: گزینه ۳

آیه «و ما هذه الحیاة الدنیا الا لهُو و لعب...» بیانگر اعتقاد به معاد و درک این مطلب است که دنیا بازی و سرگرمی است و آخرت زندگی حقیقی و جاویدان است. قاعدتاً کسی که معتقد به معاد است، قطعیت معاد را که در عبارت «لیجمعنک الی یوم القیامة لا ریب فیہ...» بیان شده قبول دارد.

۵۳- پاسخ: گزینه ۱

به آیه «حتی اذا جاء احدهم الموت (هنگامی که زمان مرگ فرا می‌رسد) قال رب ارجعون (درخواست گناهکاران برای بازگشت به دنیا) لعلی اعمل صالحا فیما ترکت (علت درخواست گناهکاران و یا توجیه آن‌ها برای بازگشت به دنیا که می‌خواهند اعمال گذشته را جبران کنند)» توجه کنید.

۵۴- پاسخ: گزینه ۳

باید دقت شود که هنگامی که بدکاران در قیامت برای نجات از مهلکه سوگند دروغ می‌خورند، خداوند بر دهانشان مهر خاموشی می‌زند (الیوم نختم...) و اعضای بدن علیه آن‌ها شهادت می‌دهند.

۵۵- پاسخ: گزینه ۴

حتی اگر ندانیم که سوره مدثر کدام است، با حذف گزینه می‌توانید تست را بزنید. عبارت «شقاوت بر ما چیره شد و همراه بودیم» عبارتی است که جهنمیان در دوزخ به خدا می‌گویند تا آن‌ها را به دنیا بازگرداند، پس این‌گونه گزینه‌های ۱ و ۲ حذف می‌شوند. عدم اطاعت از پیامبر ﷺ هم جزو حسرت‌های جهنمیان در قیامت و در جهنم و پس از دچار شدن به عذاب است، پس گزینه ۳ هم حذف می‌شود.

۵۶- پاسخ: گزینه ۱

از آنجا که دانستیم که سرنوشت ابدی انسان‌ها براساس اعمال آنان در دنیا تعیین می‌شود، لازم است تا در این دنیا قدم در مسیری بگذاریم که موفقیت آن حتمی باشد و سرانجام و آخرتی آباد را برای ما رقم بزند.

۵۷- پاسخ: گزینه ۲

آیات ۹۰ و ۹۱ سوره مائده: «ای مردمی که ایمان آورده‌اید؛ به راستی شراب و قمار و بت‌پرستی و تیرک‌های بخت‌آزمایی، پلیس و از کارهای شیطانی است. پس از آن‌ها دوری کنید تا رستگار شوید. شیطان می‌خواهد با شراب و قمار بین شما دشمنی و کینه ایجاد کند و شما را از یاد خدا دور سازد و از نماز باز دارد.»

۵۸- پاسخ: گزینه ۲

دقت کنید که مقبولیت و آراستگی که نمی‌تواند علت عفاف باشد، بلکه یکی از جلوه‌گاه‌ها و نشان‌دهنده‌ها و ملاک‌های عفاف در پوشش، نوع آراستگی و یا نوع کسب مقبولیت خود است.

۵۹- پاسخ: گزینه ۳

قرآن کریم عفت حضرت مریم علیها السلام را در معبدی که همگان، چه زن و چه مرد به پرستش می‌آیند، می‌ستاید؛ عفت دختران حضرت شعیب را در حال چوپانی و آب دادن به گوسفندان در جمع مردان مثال می‌زند. تاریخ نیز خبر از حضور زنان مسلمان در زمان پیامبر صلی الله علیه و آله، در پشت جبهه‌های جنگ برای پرستاری و کمک به مجروحان می‌دهد.

۶۰- پاسخ: گزینه ۴

اسلام دین واحد است که علت آن فطرت مشترک انسان‌ها است که گزینه ۴ آن را نشان می‌دهد. دقت کنید که در گزینه ۳ عمل به احکام جزو ویژگی‌های فطری نیست و در میان همه انسان‌ها مشترک نیست.

۶۱- پاسخ: گزینه ۱

عبارت «لا یاتون بمثله» بیانگر نتیجه تلاش مخالفان قرآن در تحدی است که ناتوانی ابدی مخالفان قرآن را نشان می‌دهد. البته تلاش مخالفان قرآن شاید برای برخی افراد غیرمتخصص بی‌عیب جلوه کند، اما تاکنون هیچ مرکز علمی و تخصصی آن را تأیید نکرده است.

۶۲- پاسخ: گزینه ۲

رسول خدا صلی الله علیه و آله در مدت ۲۳ سال تلاش و با تحمل رنج‌های فراوان که نظیر آن در تاریخ یافت نمی‌شود، توانست بزرگ‌ترین و ماندگارترین پیام الهی را به مردم برساند و جامعه‌ای با ایمان به خدا و به دور از شرک بنا کند. بنای چنین جامعه‌ای در سرزمینی بیگانه از ارزش‌های انسانی، خود معجزه‌های بزرگ بود که فقط با مجاهدت پیامبر اکرم صلی الله علیه و آله میسر بود. اکنون جا دارد که ما مسلمانان قدردان تلاش‌ها و مجاهدت‌های پیامبر صلی الله علیه و آله باشیم و با اتحاد و همدلی با یکدیگر نگذاریم، دشمنان اسلام زحمات و تلاش‌های آن حضرت را بی‌اثر کنند.

۶۳- پاسخ: گزینه ۳

پیامبر ﷺ در حدیث جابر می‌فرماید: «جابر، آنان جانشینان من و امامان بعد از من‌اند. نخستین آنان علی بن ابی طالب ﷺ است و سپس به ترتیب، حسن بن علی، حسین بن علی، علی بن الحسین، محمد بن علی؛ و تو در هنگام پیری او را خواهی دید و هر وقت او را دیدی، سلام مرا به او برسان. پس از محمد بن علی به ترتیب، جعفر بن محمد، موسی بن جعفر، علی بن موسی، محمد بن علی، علی بن محمد، حسن بن علی و پس از ایشان فرزندش می‌باشد که هم‌نام و هم‌کنیه من است. اوست که از نظر مردم پنهان می‌شود و غیبت او طولانی می‌گردد تا آنجا که فقط افرادی که ایمان راسخ دارند، بر عقیده به او باقی می‌مانند.»

دقت کنید که در اینجا نام پدر بزرگ امام زمان ﷺ خواسته شده، نه نام پدر ایشان

۶۴- پاسخ: گزینه ۳

پیامبر ﷺ تبعیض در اجرای عدالت را علت و عامل اصلی سقوط اقوام و ملل گذشته می‌دانستند. دقت کنید که در قسمت دوم سؤال راه مقابله با سقوط اقوام را خواسته که طبق متن کتاب مقابله با تعصبات قومی است. در گزینه ۴ دقت کنید که تقسیم اموال میان مسلمین درست نیست، بلکه تقسیم مساوی بیت‌المال درست است، نه همه اموال. ضمن اینکه ارتباط کمتری با قسمت اول سؤال دارد.

۶۵- پاسخ: گزینه ۱

تبدیل حکومت عدل نبوی به سلطنت: پس از گذشت مدتی از رحلت رسول خدا ﷺ، جاهلیت با شکلی جدید وارد زندگی اجتماعی مسلمانان شد. شخصیت‌های بانقوا، جهادگر و مورد احترام و اعتماد پیامبر ﷺ منزوی شدند و طالبان قدرت و ثروت جایگاه و منزلت یافتند. حاکمان بنی‌امیه و بنی‌عباس نیز به تدریج مسیر حکومت را عوض کردند و برای خود و اطرافیان‌شان کاخ‌های بزرگ و مجلل ساختند و خزائن خود را از جواهرات گران‌قیمت انباشته کردند. این تغییر مسیر، جامعه مؤمن و فداکار عصر پیامبر اکرم ﷺ را به جامعه‌ای راحت‌طلب، تسلیم و بی‌توجه به سیره و روش پیامبر اکرم ﷺ تبدیل کرد. این تغییر فرهنگ سبب شد که ائمه اطهار ﷺ با مشکلات زیادی روبه‌رو شوند و نتوانند مردمان آن دوره را با خود همراه کنند.

۶۶- پاسخ: گزینه ۲

دقت کنید که ویژگی مصلحان را خواسته که تنها گزینه‌ای که بیانگر ویژگی است، گزینه ۲ و ایمان و عمل صالح است.

۶۷- پاسخ: گزینه ۳

تفقه واجب کفایی است، یعنی از هر گروهی از مؤمنان عده‌ای به‌دنبال تفقه بروند کافی است ﴿فلولا نفر من کل فرقة منهم طائفة﴾. دقت کنید که وظیفه فقها ﴿لینذروا قومهم اذا رجعوا الیهم﴾ است که باید به مردم هشدار دهند و احکام الهی را آموزش دهند که در نهایت ﴿لعلهم یحذرون﴾ یعنی مردم از کیفر الهی بترسند.

۶۸- پاسخ: گزینه ۲

انس با همسر: هریک از زن و مرد، علاوه بر نیاز جنسی، نیازمند به زندگی با دیگری هستند و این نیاز نیز پس از بلوغ آشکار می‌شود. این نیاز به گونه‌ای است که اگر فردی از راه‌های نامشروع نیاز جنسی خود را برطرف کند، اما بدون همسر زندگی کند، باز هم یک بی‌قراری و ناآرامی او را آزار می‌دهد که فقط با بودن در کنار همسر برطرف می‌شود. رشد اخلاقی و معنوی: پسر و دختر جوان با تشکیل خانواده از همان ابتدا زمینه‌های فساد را از خود دور می‌کنند، مسئولیت‌پذیری را تجربه می‌نمایند، مهر و عشق به همسر و فرزندان را در خود پرورش می‌دهند، با گذشت و مدارا و تحمل سختی‌ها و ناگواری‌های زندگی، به درجات معنوی بالاتری نایل می‌شوند.

۶۹- پاسخ: گزینه ۴

باید به رابطه علت و معلولی میان ابعاد توحید توجه کنید. پذیرش خداوند به‌عنوان تنها آفریدگار، یعنی توحید در خالقیت که نتیجه آن توحید در مالکیت است که آیه ﴿و لله ما فی السماوات و ...﴾ به آن اشاره دارد.

۷۰- پاسخ: گزینه ۱

عابدان مقطعی ﴿من یعبد الله علی حرف﴾ از آنجا که گاهی اوقات خدا را بندگی می‌کنند، شرک عملی فردی دارند و رجوع به طاغوت شرک عملی اجتماعی است.

۷۱- پاسخ: گزینه ۴

دقت کنید که حسن فاعلی یعنی انجام کار برای رضای خدا و در آیه هم بیان شده بنای زندگی بر اساس رضوان که همان رضای خداست.

۷۲- پاسخ: گزینه ۲

آزم من بیانگر احساس رضایت و پشیمانی از شواهد وجود اختیار است:

گر نبودى اختیار این شرم چیست این دروغ و خجالت و آرم چیست

و همچنین مجازات پیمان‌شکنان هم بیانگر مسئولیت‌پذیری از شواهد وجود اختیار است و آیه ﴿انا هدینا السبیل...﴾ هم بیانگر اختیار است.

۷۳- پاسخ: گزینه ۳

حدیث شریف صورت سؤال بیانگر سنت ابتلا است که برای مؤمنین، متناسب با درجه ایمان آنها بالا می‌رود.

بررسی سنت‌های موجود در گزینه‌ها:

گزینه ۱: توفیق

گزینه ۲: تأثیر اعمال در زندگی

گزینه ۳: ابتلا

گزینه ۴: سبقت رحمت بر غضب

۷۴- پاسخ: گزینه ۴

تولید، توزیع و تبلیغ فیلم‌های سینمایی و تلویزیونی، لوح‌های فشرده، مجلات، روزنامه‌ها، کتاب‌ها و انواع آثار هنری به‌منظور گسترش فرهنگ و معارف اسلامی و مبارزه با تهاجم فرهنگی و ابتذال اخلاقی، از مصادیق مهم عمل صالح و از واجبات کفایی و دارای پاداش اخروی بزرگ است.

شرط‌بندی، از امور زیان‌آور روحی و اجتماعی است و انجام آن حتی در بازی‌ها و ورزش‌های معمولی نیز حرام می‌باشد.

ایجاد پایگاه‌های اینترنتی و شبکه‌های اجتماعی در فضای مجازی به‌منظور اشاعه فرهنگ و معارف اسلامی و مقابله با اندیشه‌های کفرآمیز و ابتذال اخلاقی، مستحب است.

۷۵- پاسخ: گزینه ۲

سخن حضرت زهرا<sup>(س)</sup> که در صورت سؤال آمده است، بیانگر اهمیت پاسخ به مسائل و مشکلات علمی و نشان‌دهنده توجه تمدن اسلامی به علم و دانش است که آیه ﴿قل هل یستوی الذین یعلمون و...﴾ نیز همین معیار را نشان می‌دهد.

### زبان انگلیسی

۷۶- پاسخ: گزینه ۲

ترجمه: اولین قالیچه‌ها به‌وسیله دست ساخته شدند و بهترین قالیچه‌ها هنوز دست‌باف هستند.

توضیح: تست مجهول است؛ زیرا قالیچه نمی‌تواند فعل make را انجام دهد لذا گزینه ۲ درست است.

۷۷- پاسخ: گزینه ۱

ترجمه: ستاره‌ها در جهان ما از لحاظ دما، رنگ، روشنی، اندازه و جرم با هم تفاوت دارند.

توضیح: حرف اضافه فعل Vary به معنی «تفاوت داشتن» in است.

۷۸- پاسخ: گزینه ۱

ترجمه: پزشکی مردم قدیم احتمالاً شامل تمارین و کارهای علمی و اعتقادات مذهبی بوده است.

توضیح: بعد از صفت نیاز به اسم داریم و جمع لغت (اعتقاد) beliefs است.

۷۹- پاسخ: گزینه ۱

ترجمه: در انسان‌ها موهای اطراف چشم‌ها و گوش‌ها و داخل بینی از ورود گردوغبار، حشرات و بقیه مواد به این قسمت‌های بدن جلوگیری می‌کند.

توضیح: در این تست موها فاعل هستند و جمله نیاز به فعل دارد لذا گزینه ۱ درست است.

۸۰- پاسخ: گزینه ۳

ترجمه: کدام کشاورزان و کدام مناطق اولین استفاده‌کنندگان از تکنولوژی جدید در کشورهای در حال توسعه خواهند بود؟

(۴) معادل‌ها

(۳) مناطق

(۲) مسافت‌ها

(۱) سنت‌ها

۸۱- پاسخ: گزینه ۲

ترجمه: استرالیا هویت فرهنگی خاص خودش را دارد که با هویت بریتانیا بسیار متفاوت است.

(۴) رصدخانه

(۳) دانش

(۲) هویت

(۱) موضوع، مسئله

۸۲- پاسخ: گزینه ۴

ترجمه: «وقتی که شما چیزی مانند یک گزارش، کتاب یا برنامه را تألیف می‌کنید شما آن را به‌وسیله جمع کردن و کنار هم قرار دادن بخش‌های زیادی از اطلاعات تولید می‌کنید.»

ترجمه گزینه‌ها:

(۴) تألیف کردن

(۳) جذب کردن

(۲) تبادل کردن

(۱) نسبت دادن

۸۳- پاسخ: گزینه ۳

ترجمه: مشکلات غیرمنتظره‌ای در آژادراه به علت یک تصادف وجود داشته است.

(۴) غیرمتغیر

(۳) غیرمنتظره

(۲) در معرض خطر و انقراض

(۱) مقدماتی

۸۴- پاسخ: گزینه ۴

ترجمه: مادر شیوا در زبان انگلیسی روان نیست و نمی‌تواند از تکنولوژی استفاده کند. بنابراین شیوا مسئول است که قبل از شروع جلسه‌های آنلاین کاری خودش، تمام بچه‌ها را وارد کلاس‌های آنلاین‌شان کند.

(۱) دوستانه، خوش‌مشرب (۲) بادقت (۳) معمولی (۴) روان

۸۵- پاسخ: گزینه ۱

ترجمه: به او بگویید که متوجه هستید نیت او خیر است، اما در آینده او باید اطمینان پیدا کند که شما از نقشه‌هایی که شما را مستقیماً تحت تأثیر قرار می‌دهند راضی باشید.

(۱) مستقیماً (۲) در واقع (۳) ناگهانی (۴) به‌طور غیرقابل‌فهم

۸۶- پاسخ: گزینه ۲

ترجمه: او حرف می‌زد و حرف می‌زد. در یک لحظه فکر کردم تمام شب را به این کار ادامه می‌دهد.

(۱) توجه کردن، نگهداری کردن (۲) ادامه دادن (۳) متوجه شدن (۴) چسبیدن به

۸۷- پاسخ: گزینه ۳

ترجمه: مانند بسیاری از دختران دیگر، «آنا» همیشه از مادرش راهنمایی طلب می‌کرد چون او می‌دانست هر سری یک فکری دارد.

(۱) کار نیکو کردن از پر کردن است. (۲) آشپز که دو تا شد، آش یا شور می‌شود یا بی‌نمک

(۳) هر سری یک فکری دارد. (۴) کبوتر با کبوتر، باز با باز

■ ■ ترجمه Cloze Test:

در دهه ۱۹۹۰ وقتی که اینترنت جدید بود، مشهورترین کلمه عبور «۱۲۳۴۵» بود. بر طبق یک مطالعه جدید، ۲۰ درصد کاربران اینترنت هنوز یک کلمه عبور خیلی ساده را انتخاب می‌کنند در حال حاضر کلمه عبور خیلی محبوب «۱۲۳۴۵۶» است. سایر کلمات عبور مشهور «abc۱۲۳» و «دوست دارم» و خود کلمه «password» هستند. از نظر حفاظت داده‌ها، کلمات عبور مانند این‌ها خیلی مؤثر نیستند. بر طبق متخصصان امنیت کامپیوتر، این مانند گذاشتن کلید خانه زیر پادری درب ورودی است. پیدا کردن آن خیلی آسان است.

اکثر مردم باید تا الآن می‌دانستند که کلمه عبور آسان ایده خوبی نیست. این یک موضوع تازه نیست و در مورد امنیت اینترنت در رسانه‌ها داستان‌های زیادی رخ داده است. از همان ابتدا وب تحت حمله هکرها بوده است که به دنبال روش‌های آزار و اذیت یا پول هستند. آن‌ها وارد ایمیل یا حساب کاربری دیگران می‌شوند، اطلاعات شخصی را می‌دزدند و از آن برای خالی کردن حساب‌های بانکی یا کارت‌های اعتباری استفاده می‌کنند.

۸۸- پاسخ: گزینه ۲

(۱) ریز (۲) جدید، اخیر (۳) متعهد، وفادار (۴) مرئی، نمایان

۸۹- پاسخ: گزینه ۳

(۱) بخشنده (۲) سرحال، خوشحال (۳) مؤثر (۴) متوسط

۹۰- پاسخ: گزینه ۴

توضیح: در این تست نیاز به یک حرف ربط اتصال‌دهنده داریم تا دو جمله را به هم وصل کند لذا گزینه ۴ درست است.

۹۱- پاسخ: گزینه ۴

توضیح: به‌خاطر قید *from the very beginning* منظور نویسنده از ابتدا تا به‌حال بوده است لذا بهترین زمان برای این تست ماضی نقلی یا حال کامل است.

۹۲- پاسخ: گزینه ۲

توضیح: با توجه به معنای جمله نیاز به یک حرف ربط هم‌پایه‌ساز داریم مانند *and* و یک فعل ساده در انتهای جمله زیرا فعل‌های قبل آن هم‌ریشه هستند.

■ ■ ترجمه درک مطلب ۱:

در چند دهه گذشته، فوتبالیست‌های حرفه‌ای شب‌هایشان را به مهمانی گرفتن سپری می‌کردند. حال، آن‌ها خیلی بیشتر از مزایای خواب شبانه آگاه هستند. تغییر از اواسط دهه ۱۹۹۰ شروع شد، وقتی که فروشنده تشک «نیک‌لیتلهیز» با سرمربی تیم فوتبال «منچستر» آلکس فرگوسن، تماس گرفت و سؤال کرد آیا او تاکنون به اینکه چگونه خواب به عملکرد در زمین فوتبال اثر می‌گذارد توجه کرده است. «فرگوسن» علاقه‌مند شد و ترتیب یک سخنرانی توسط این شخص را برای تیمش داد. طولی نکشید که همه اعضای تیم تشک و بالش تازه گرفتند و «لیتلهیز» مشاور اول تشک فوتبال شد. در سال ۱۹۹۸ او برای تیم انگلیس در جام جهانی تشک‌ها را فراهم کرد و در یورو ۲۰۰۴ او برای هر بازیکن برنامه خواب فردی را ایجاد کرد.

به‌تدریج، مدیران باشگاه‌ها به همین دلیل شروع کردند بیشتر به تحقیق علمی در مورد خواب توجه کنند. در سال ۲۰۱۱ یک متخصص خواب کشف کرد که افزایش ساعات خواب به ۸ تا ۱۰ ساعت در هر شب به‌طور خیلی زیادی سرعت و دقت شوت بازیکنان بسکتبال را افزایش می‌دهد. تحقیق دیگر نشان می‌دهد که تنها یک شب با خواب ناکافی می‌تواند خطر جراحت را افزایش دهد و ۶۴ ساعت خواب بد، قدرت، توان و تعادل را کاهش می‌دهد و می‌تواند حتی باعث شود بدن ماهیچه‌های خود را بخورد.

۹۳- پاسخ: گزینه ۳

ترجمه: عمده متن راجع به چه چیزی بحث می‌کند؟

- (۱) یک تغییر کامل در عادات خواب  
(۲) مدیران باشگاه و تصمیمات آنها  
(۳) اهمیت خواب در ورزش‌های حرفه‌ای  
(۴) رابطه بین خواب و مصدومیت ورزشی

۹۴- پاسخ: گزینه ۱

ترجمه: طبق متن، «آلکس فرگوسن» .....

- (۱) نسبت به ایده «لیتلهیز» علاقه‌مند شد.  
(۲) توسط مهمانی بازیکنانش متحیر شد.  
(۳) یک تجربه عجیب در اواسط دهه ۱۹۹۰ داشت.  
(۴) از «لیتلهیز» خواست تا برنامه‌های خواب برای بازیکنانش ایجاد کند.

۹۵- پاسخ: گزینه ۴

ترجمه: لغت **supplied** در پاراگراف دوم نزدیکترین معنی را با ..... دارد.

- (۱) سفارش دادن  
(۲) انتخاب کردن  
(۳) بخشیدن  
(۴) فراهم کردن

۹۶- پاسخ: گزینه ۳

ترجمه: کدام یک از گزینه‌های زیر بهترین توصیف را از آخرین جمله پاراگراف ۳ دارد؟

- (۱) موضوع پاراگراف بعد را معرفی می‌کند.  
(۲) یک اعتقاد غلط را تصحیح می‌کند که در جمله قبلی توصیف شده است.  
(۳) اطلاعات بیشتر اضافه می‌کند تا گفته‌های بیان شده در قبل آن پاراگراف را حمایت کند.  
(۴) توضیح می‌دهد که بحث ارائه شده در جمله قبلی بر اساس حقایق نیست.

■ ترجمه درک مطلب ۲:

اگر شما به فکر کارهایی هستید که روبات‌ها نمی‌توانند انجام دهند، شما احتمالاً پزشکان و معلمان را در رأس این لیست قرار می‌دهید. تصور کردن ربات‌های تمیزکننده و کارگران کارخانه آسان است، اما برخی کارها به ارتباط و خلاقیت انسانی نیازمند هستند. اما آیا ما داریم ارزش کارهایی که ربات‌ها می‌توانند انجام دهند را پایین می‌آوریم؟ در بعضی موارد، آنها در تشخیص بیماری‌ها در حال حاضر بهتر از پزشکان عمل می‌کنند، همچنین بعضی از بیماران در اشتراک گذاشتن اطلاعات شخصی خود با ماشین نسبت به انسان ممکن است احساس راحتی بیشتری داشته باشند. بعد از همه این مسائل، آیا جایی برای ربات‌ها در آموزش می‌تواند وجود داشته باشد؟ «آنتونی سلدون» متخصص آموزش چنین فکر می‌کند و او حتی تاریخی در مورد رباتی که مسئولیت کلاس را به عهده می‌گیرد دارد: ۲۰۲۷.

او پیش‌بینی می‌کند که ربات‌ها کار اصلی انتقال اطلاعات را انجام خواهند داد و معلمان مانند دستیار خواهند بود. ربات‌های هوشمند حرکات صورت بچه‌ها را و شاید حتی سیگنال‌های ذهنی آنها را خواهند خواند. سپس اطلاعات را با هر دانش آموز وفق می‌دهند. این یک عقیده مشهور نیست و غیرمحمول است که ربات‌ها احساس هم‌دردی کنند و مانند سایر انسان‌ها توانایی برقراری ارتباط با انسان‌ها را داشته باشند.

گرچه، به یک چیز مطمئن هستیم. یک معلم ربات ابتدا بهتر از هیچ معلمی نیست. در برخی قسمت‌های دنیا، معلم‌ها کافی نیستند و ۹ تا ۱۶ درصد بچه‌های زیر ۱۴ سال به مدرسه نمی‌روند. این معضل تا حدودی به وسیله ربات‌ها می‌تواند حل شود زیرا که آنها می‌توانند همه‌جا تدریس کنند و استرس نمی‌گیرند یا خسته نمی‌شوند یا برای کار آسان تر و با حقوق بالاتر جابه‌جا نمی‌شوند.

۹۷- پاسخ: گزینه ۱

ترجمه: عمده متن راجع به چیزی بحث می‌کند؟

- (۱) ربات‌ها در آموزش  
(۲) چگونه ربات‌ها با انسان‌ها ارتباط برقرار می‌کنند  
(۳) انواع مختلف ربات‌های معلم  
(۴) چگونه آموزش در سال ۲۰۲۷ تغییر خواهد کرد

۹۸- پاسخ: گزینه ۴

ترجمه: «لغت **diagnosing** در پاراگراف اول نزدیک‌ترین معنی را با ..... دارد.»

- (۱) اجتناب کردن  
(۲) هشدار دادن  
(۳) مصرف کردن  
(۴) شناسایی کردن

۹۹- پاسخ: گزینه ۱

ترجمه: در پاراگراف ۲ نشان داده می‌شود که پیش‌بینی «آنتونی سلدون» راجع به ربات‌ها .....

- (۱) به نظر نمی‌رسد که درست باشد.  
(۲) به‌طور مناسبی توضیح داده نشده است.  
(۳) معلمان را نگران کرده است.  
(۴) در تمام دنیا طرفدارانی دارد.

۱۰۰- پاسخ: گزینه ۲

ترجمه: کدام جمله طبق پاراگراف ۳ درست است؟

- (۱) ۹ تا ۱۶ درصد بچه‌های زیر ۱۴ سال می‌خواهند کار کنند و به مدرسه نروند.  
(۲) در بعضی مناطق دنیا معلمان کافی وجود ندارد.  
(۳) ربات‌ها به انسان‌ها کمک می‌کنند که احساس خستگی و استرس کمتری داشته باشند.  
(۴) به بیشتر معلم‌ها پول کافی داده نمی‌شود.

## زمین‌شناسی

۱۰۱- پاسخ: گزینه ۳

طبق قانون سوم کپلر، زمان یک دور گردش سیاره به دور خورشید (p) با افزایش فاصله از خورشید (d) افزایش می‌یابد و بین آن‌ها رابطه  $p^2 \propto d^3$  برقرار است.

بررسی سایر گزینه‌ها:

(۱) حرکت روزانه خورشید در آسمان ظاهری است و نتیجه گردش زمین به دور محور خود است (حرکت وضعی).

(۲) هرچه سیاره (زمین) به خورشید نزدیک‌تر باشد، مدار گردش آن به دور خورشید کوچک‌تر است و سیاره فاصله موجود را در زمان کمتری طی می‌کند.

(۴) مدار گردش زمین به دور خورشید بیضی‌شکل است و جهت چرخش آن به دور خورشید مخالف جهت حرکت عقربه‌های ساعت است.

۱۰۲- پاسخ: گزینه ۱

از واحدهای زمانی مورداستفاده در زمین‌شناسی می‌توان به موارد زیر اشاره کرد: عهد، دوره، دوران، اتون (ابردوران)

معیار تقسیم‌بندی این واحدهای زمانی مختلف به حوادث مهمی مانند ظهور یا انقراض گونه خاصی از جانداران، حوادث کوهزایی، پیشروی یا پسروی جهانی دریاها، عصرهای یخبندان و... بستگی دارد.

۱۰۳- پاسخ: گزینه ۲

یک واحد ستاره‌شناسی (نجومی) عبارت است از فاصله متوسط زمین از خورشید که حدوداً معادل ۱۵۰ میلیون کیلومتر است و خورشید این فاصله را در مدت‌زمان حدود ۸/۳ دقیقه نوری طی می‌کند.

طبق قانون سوم کپلر داریم:  $p^2 \propto d^3$ 

واحد نجومی (سال زمینی)  $d = 4 \Rightarrow d^3 \propto (4)^3 \Rightarrow p^2 \propto d^3$

واحد نجومی (سال زمینی)

دقیقه نوری

۱

۸

 $\Rightarrow x = 32$  دقیقه

۴

x

۱۰۴- پاسخ: گزینه ۳

ترتیب بروز وقایع در شکل صورت سؤال عبارتند از:

۱. رسوب گذاری سنگ آهک

۲. رسوب گذاری لایه رسی

۳. غسل خوردگی

با توجه به اینکه توده گرانیتی در داخل لایه قرار گرفته است، پس از نظر سنی قدیمی‌تر است.

نکته: اگر یک قطعه سنگ آذرین در داخل لایه‌های رسوبی وجود داشته باشد، آن قطعه سنگ از نظر سنی قدیمی‌تر از لایه‌های رسوبی است. با توجه به توضیحات بالا سن نسبی پدیده‌های شکل (از قدیم به جدید) به صورت زیر است:

۱. قطعه سنگ گرانیتی

۲. رسوب گذاری سنگ آهک

۳. رسوب گذاری لایه رسی

۴. غسل خوردگی

۵. فرسایش

۱۰۵- پاسخ: گزینه ۱

در مرحله گسترش از چرخه ویلسون، از محل شکاف ایجاد شده، مواد مذاب سست‌کره به بستر اقیانوس می‌رسند و پشته‌های اقیانوسی تشکیل می‌شوند. پوسته جدید ایجاد شده به طرفین حرکت کرده و باعث گسترش بستر اقیانوس‌ها می‌شود. به عنوان مثال می‌توان به دریای سرخ که نتیجه دور شدن عربستان از آفریقا است، اشاره کرد.

۱۰۶- پاسخ: گزینه ۴

کانه بخش ارزشمند یک کانسنگ است.

عنصر اقتصادی	ترکیب شیمیایی	کانه
آهن	$Fe_3O_4$	مگنتیت
سرب	$PbS$	گالن
مس	$CuFeS_4$	کالکوپیریت

۱۰۷- پاسخ: گزینه ۴

نفت خام در محیط‌های دریایی کم عمق (کمتر از ۲۰۰ متر) تشکیل می‌شود. در این محیط‌ها، جاندارانی مانند پلانکتون‌ها مهم‌ترین منشأ مواد آلی هستند. بقایای پلانکتون‌ها پس از مرگ در رسوبات دانه‌ریز بستر دریا دفن می‌شوند. مواد آلی باقیمانده توسط لایه‌های بالایی پوشیده و حفظ می‌شود و در لایه‌های رسوبات ریز (سنگ منشأ یا سنگ مادر) نفت را تشکیل می‌دهند.

در فرآیند رسوبات تشکیل ذخایر نفتی، عواملی مانند دما، فشار، وجود باکتری‌ها، زمان و محیطی بدون اکسیژن، اهمیت فراوانی دارند.

۱۰۸- پاسخ: گزینه ۱

سنگ‌شناسی یا پترولوژی شاخه‌ای از زمین‌شناسی است که در آن شیوه تشکیل، منشأ، رده‌بندی و ترکیب سنگ‌های آذرین و دگرگونی بررسی می‌شود. فرایندهای دگرگونی، آتش‌فشانی، نفوذ توده‌های آذرین در درون زمین و حتی در ماه و دیگر سیاره‌ها و همچنین مناطق زمین‌گرمایی، توسط پترولوژیست‌ها (سنگ‌شناسان) مورد مطالعه قرار می‌گیرد.

۱۰۹- پاسخ: گزینه ۴

الماس، گوهری با ترکیب کربن خالص است که در دما و فشار بسیار زیاد، در گوشته زمین تشکیل می‌شود. این کانی علاوه بر استفاده گوهری، در ساینده‌ها نیز کاربرد دارد.

۱۱۰- پاسخ: گزینه ۲

$$Q = A \times V$$

سرعت جریان آب  $V \rightarrow \left(\frac{m}{s}\right)$ ، مساحت سطح مقطع جریان آب  $A \rightarrow (m^2)$  و  $Q \rightarrow \left(\frac{m^3}{s}\right)$

$$1m^3 = 1000Lit \Rightarrow Q = \frac{3000}{1000} = 3 \frac{m^3}{min}$$

$$Q = 3 \frac{m^3}{min} \times \frac{1min}{60s} = 0.05 \frac{m^3}{s}$$

$$A = عرض رودخانه \times عمق رودخانه \Rightarrow A = 0.4 \times 0.8 = 0.32 m^2$$

$$Q = A \times V \Rightarrow 0.05 = 0.32 \times V \Rightarrow V = 0.15 \frac{m}{s}$$

۱۱۱- پاسخ: گزینه ۲

ذرات تشکیل‌دهنده خاک، برحسب اندازه، به سه دسته اصلی درشت‌دانه (خاک‌های شنی)، متوسط‌دانه (ماسه و سیلت (لای)) و ریزدانه (خاک‌های رسی) تقسیم می‌شوند.

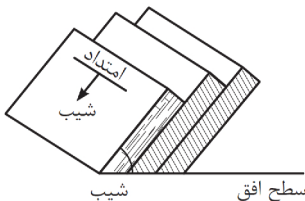
لای (سیلت): به ذرات رسوبی بزرگ‌تر از رس و کوچک‌تر از ماسه گفته می‌شود.

۱۱۲- پاسخ: گزینه ۳

با توجه به شکل صورت سؤال، آبخوان از نوع آزاد می‌باشد، زیرا لایه آبدار تنها در پایین، توسط لایه نفوذناپذیر محدود شده است (نادرستی گزینه ۴). از طرفی، در نقطه M، سطح ایستابی پایین‌تر از سطح زمین است و آب نمی‌تواند خودبه‌خود از دهانه چاه خارج شود (نادرستی گزینه ۲). همچنین، با توجه به اینکه رود دائمی در محل موردنظر، جریان دارد، با بهره‌برداری از چاه، سطح ایستابی افت چندانی نخواهد داشت (نادرستی گزینه ۱).

۱۱۳- پاسخ: گزینه ۳

امتداد لایه عبارت است از محل برخورد سطح لایه با سطح افق و با جهت جغرافیایی بیان می‌شود.



۱۱۴- پاسخ: گزینه ۱

با توجه به شکل صورت سؤال، لایه‌های رسوبی بعد از رسوب‌گذاری، دچار چین‌خوردگی شده و به صورت یک تاقدیس درآمده‌اند (تأثیر تنش فشاری) و پس از آن، با تأثیر گسل معکوس (حرکت فرادایواره به سمت بالا نسبت به فرودایواره)، لایه‌های رسوبی در سطح گسل به سمت بالا جای‌جا شده‌اند (تأثیر تنش فشاری).

بنابراین ترتیب بروز وقایع در شکل به صورت زیر خواهد بود:

۱. رسوب‌گذاری همزمان آهک ۲ و ۳

۲. چین‌خوردگی و تشکیل تاقدیس در نتیجه تأثیر تنش فشاری

۳. ایجاد گسل معکوس در نتیجه تأثیر تنش فشاری



۱۱۵- پاسخ: گزینه ۱

در سدهای بتنی از سیمان، ماسه، شن، میلگرد و در سدهای خاکی از خاک، رس، ماسه، شن و قلوه‌سنگ استفاده می‌شود.

۱۱۶- پاسخ: گزینه ۴

آرسنیک موجود در بعضی از سنگ‌ها، مانند زغال‌سنگ به مواد غذایی منتقل می‌شود. برای مثال، در مناطقی از جنوب چین، خشک کردن مواد غذایی (مانند فلفل قرمز و ذرت) با حرارت زغال‌سنگ در محیط بسته، سبب آزاد شدن آرسنیک و ورود آن به مواد غذایی و آلودگی آن‌ها می‌شود.

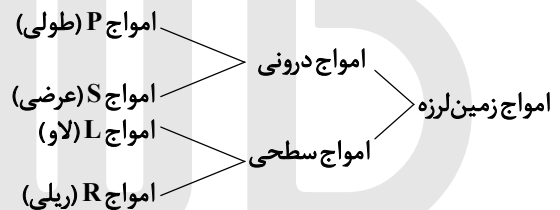
۱۱۷- پاسخ: گزینه ۱

سوپراکسیدها مانند  $\text{LiO}_2$  (لیتیم سوپراکسید) با تشکیل بنیان‌های بسیار واکنش‌گر، باعث وقوع سرطان می‌شوند. برخی عناصر به‌خصوص سلنیم، از طریق آنزیم‌های حاوی این عنصر، با از بین بردن سوپراکسیدها، از وقوع سرطان پیشگیری می‌کنند.

۱۱۸- پاسخ: گزینه ۳

اهمیت در بدن	غلظت در پوسته	عناصر	طبقه‌بندی عناصر
اساسی	بیشتر از ۱ درصد	اکسیژن، آهن، کلسیم، سدیم، پتاسیم، منیزیم	اصلی
اساسی	بین ۱ تا ۰/۱ درصد	منگنز و فسفر	فرعی
اساسی - سمی	کمتر از ۰/۱ درصد	مس، طلا، روی، سرب، کادمیم و...	جزئی

۱۱۹- پاسخ: گزینه ۲



امواج درونی در کانون زمین‌لرزه ایجاد می‌شوند و در داخل زمین منتشر می‌گردند و شامل امواج P (اولیه، طولی) و S (ثانویه، عرضی) می‌باشند.

۱۲۰- پاسخ: گزینه ۴

به برخی از علائم و نشانه‌ها که بتوان با استفاده از آن‌ها وقوع زمین‌لرزه را پیش‌بینی کرد، پیش‌نشانگر می‌گویند.

برخی از پیش‌نشانگرهای وقوع یک زمین‌لرزه عبارتند از:

۱. تغییرات گاز رادون در آب‌های زیرزمینی

۲. ایجاد تغییر در سطح تراز آب زیرزمینی

۳. پیش‌لرزه

۴. ناهنجاری در رفتار حیوانات

۵. ابر زمین‌لرزه

۱۲۱- پاسخ: گزینه ۳

با توجه به شکل صورت سؤال، لغزش سنگ‌ها در امتداد سطح گسل بوده و حرکت قطعات سنگی در امتداد افق است. پس گسل از نوع امتدادلغز می‌باشد. همچنین با توجه به اینکه ماسه‌سنگ دانه‌ریز جوان‌تر از ماسه‌سنگ دانه‌درشت است و در حاشیه چین قرار گرفته است، چین از نوع تاقدیس می‌باشد.

نکته: در تاقدیس، لایه‌های سنگی طوری خم می‌شوند که لایه‌های قدیمی‌تر در مرکز و لایه‌های جدیدتر در حاشیه چین قرار دارند.

۱۲۲- پاسخ: گزینه ۴

در صورتی که خاکسترهای آتش‌فشانی (تفراهای بسیار ریزدانه) در محیط‌های دریایی کم‌عمق ته‌نشین شوند، توف آتش‌فشانی به وجود می‌آید. به‌عنوان مثال، می‌توان توف‌های سبز البرز را نام برد.

نکته: توف، یک نوع سنگ آذرآواری است. سنگ‌های آذرآواری حاصل آتش‌فشان‌های انفجاری هستند.

۱۲۳- پاسخ: گزینه ۴

پهنه زمین‌ساختی ایران مرکزی از سنگ‌های رسوبی، آذرین و دگرگونی در زمان پرکامبرین تا سنوزوئیک تشکیل شده است. در نتیجه به‌دلیل تنوع سنگ‌شناسی و بازه زمانی گسترده شامل دوره‌های مختلف زمانی زمین‌شناسی، تاریخچه کامل تری از گذشته در اختیار زمین‌شناسان قرار می‌دهد.

۱۲۴- پاسخ: گزینه ۲

حدود ۱۸۰ میلیون سال قبل، تئیس بسته شد و البرز تشکیل شد.

نکته: حرکت ورقه اقیانوسی به زیر ورقه قاره‌ای (فرورانش) می‌تواند باعث ذوب ورقه و ایجاد آتش‌فشان انفجاری در سطح زمین شود.

۱۲۵- پاسخ: گزینه ۴

نام پهنه	سنگ‌های اصلی	منابع اقتصادی	ویژگی‌ها
سنندج- سیرجان	سنگ‌های دگرگونی	معادنی مانند: سرب و روی ایرانکوه	انواع سنگ‌های دگرگونی
ایران مرکزی	سنگ‌های رسوبی- آذرین- دگرگونی	معادنی مانند: آهن چغارت و روی مهدی‌آباد	سنگ‌های پرکامبرین تا سنوزویک

مرمر، یک نوع سنگ دگرگونی است که از دگرگونی سنگ آهک به وجود می‌آید. با توجه به اینکه پهنه‌های زمین‌ساختی ایران مرکزی و سنندج- سیرجان هر دو دارای سنگ‌های دگرگونی می‌باشند، توان بیشتری برای استخراج سنگ مرمر خواهند داشت.

## ریاضی

۱۲۶- پاسخ: گزینه ۴

ابتدا عبارت خواسته‌شده را ساده می‌کنیم:

$$(a^2 + b^2 - 2ab)^2 (a^2 + b^2 + 2ab)^2 = ((a-b)^2 (a+b)^2)^2 = ((a^2 - b^2)^2)^2$$

با جای‌گذاری  $a = \sqrt[3]{\sqrt{6}-2}$  و  $b = \sqrt[3]{\sqrt{6}+2}$  داریم:

$$\begin{aligned} ((\sqrt[3]{\sqrt{6}-2} - \sqrt[3]{\sqrt{6}+2})^2)^2 &= (\sqrt{6}-2 + \sqrt{6}+2 - 2\sqrt{(\sqrt{6}-2)(\sqrt{6}+2)})^2 = (2\sqrt{6} - 2\sqrt{6-4})^2 \\ &= (2\sqrt{6} - 2\sqrt{2})^2 = 4(\sqrt{6}-\sqrt{2})^2 = 4(6+2-2\sqrt{12}) = 4(8-4\sqrt{3}) = 4 \times 4(2-\sqrt{3}) = 16(2-\sqrt{3}) \end{aligned}$$

۱۲۷- پاسخ: گزینه ۴

نکته: در معادله درجه دوم  $ax^2 + bx + c = 0$  با شرط  $\Delta \geq 0$  دو ریشه  $x_1$  و  $x_2$  دارد که:

$$S = x_1 + x_2 = -\frac{b}{a} \quad \text{و} \quad P = x_1 x_2 = \frac{c}{a}$$

ابتدا معادله را ساده می‌کنیم:

$$\begin{aligned} (\sqrt[3]{x^2} + \frac{1}{\sqrt[3]{x^2}} + 1)(\sqrt[3]{x^2} - 1) &= 2\sqrt[3]{x} \Rightarrow \left(\frac{\sqrt[3]{x^4} + 1 + \sqrt[3]{x^2}}{\sqrt[3]{x^2}}\right)(\sqrt[3]{x^2} - 1) = 2\sqrt[3]{x} \\ \Rightarrow \frac{(\sqrt[3]{x^2})^3 - 1^3}{\sqrt[3]{x^2}} &= 2\sqrt[3]{x} \Rightarrow x^2 - 1 = 2x \Rightarrow x^2 - 2x - 1 = 0 \end{aligned}$$

$$\Delta = 4 - 4(-1) = 8 > 0 \Rightarrow S = x_1 + x_2 = -\frac{-2}{1} = 2$$

۱۲۸- پاسخ: گزینه ۱

نکته: معادله‌ای که ریشه‌هایش  $\alpha$  و  $\beta$  باشند، به صورت  $x^2 - Sx + P = 0$  است که:

$$S = \alpha + \beta, \quad P = \alpha \cdot \beta$$

$$x = 5 - x^2 \Rightarrow x^2 + x - 5 = 0 \Rightarrow x_1 + x_2 = -1, \quad x_1 x_2 = -5$$

معادله را به صورت زیر می‌نویسیم:

$$x^2 + x = 5 \Rightarrow x(x+1) = 5 \Rightarrow \frac{1}{x+1} = \frac{x}{5} \Rightarrow \frac{1}{(x+1)^3} = \frac{x^3}{125}$$

حال باید معادله‌ای بنویسیم که ریشه‌هایش  $\frac{x_1^3}{125}$  و  $\frac{x_2^3}{125}$  باشند، مجموع و حاصل ضرب ریشه‌های معادله جدید را می‌یابیم:

$$S'_{\text{جدید}} = \frac{x_1^3}{125} + \frac{x_2^3}{125} = \frac{1}{125} (S^3 - 3SP) = \frac{1}{125} (-1 - 3(-1)(-5)) = -\frac{16}{125}$$

$$P'_{\text{جدید}} = \frac{x_1^3}{125} \times \frac{x_2^3}{125} = \frac{1}{125^2} \times (x_1 x_2)^3 = \frac{(-5)^3}{125^2} = -\frac{1}{125}$$

اکنون با داشتن مجموع و حاصل ضرب ریشه‌ها، معادله جدید را می‌نویسیم:

$$x^2 - \left(-\frac{16}{125}\right)x - \frac{1}{125} = 0 \xrightarrow{\times 125} 125x^2 + 16x - 1 = 0 \Rightarrow 125x^2 + 16x = 1$$

۱۲۹- پاسخ: گزینه ۴

$$\text{نکته: } \cos^2 \alpha = \frac{1}{2}(1 + \cos 2\alpha)$$

$$f\left(\frac{\pi}{36}\right) = 16 \cos^2\left(\frac{2\pi}{36}\right) \cos^2\left(\frac{6\pi}{36}\right) \cos^2\left(\frac{12\pi}{36}\right) \cos^2\left(\frac{24\pi}{36}\right)$$

$$f\left(\frac{\pi}{36}\right) = 16 \cos^2\left(\frac{\pi}{12}\right) \cos^2\left(\frac{\pi}{6}\right) \cos^2\left(\frac{\pi}{3}\right) \cos^2\left(\frac{2\pi}{3}\right)$$

مقادیر  $\cos \frac{\pi}{3}$  و  $\cos \frac{\pi}{6}$  را می‌دانیم. مقادیر  $\cos^2\left(\frac{\pi}{12}\right)$  و  $\cos^2\left(\frac{2\pi}{3}\right)$  را محاسبه می‌کنیم:

$$\cos^2\left(\frac{\pi}{12}\right) = \frac{1}{2}\left(1 + \cos\left(\frac{2\pi}{12}\right)\right) = \frac{1}{2}\left(1 + \frac{\sqrt{3}}{2}\right) = \frac{2 + \sqrt{3}}{4}$$

$$\cos^2\left(\frac{2\pi}{3}\right) = \cos^2\left(\pi - \frac{\pi}{3}\right) = \left(-\cos\frac{\pi}{3}\right)^2 = \left(-\frac{1}{2}\right)^2 = \frac{1}{4}$$

بنابراین داریم:

$$f\left(\frac{\pi}{36}\right) = 16 \left(\frac{2 + \sqrt{3}}{4}\right) \left(\frac{\sqrt{3}}{2}\right)^2 \left(\frac{1}{2}\right)^2 \times \frac{1}{4} = 16 \left(\frac{2 + \sqrt{3}}{4}\right) \times \frac{3}{4} \times \frac{1}{16} \Rightarrow f\left(\frac{\pi}{36}\right) = \frac{6 + 3\sqrt{3}}{16}$$

۱۳۰- پاسخ: گزینه ۲

$$\tan \alpha = \frac{3}{4} \Rightarrow \tan 2\alpha = \frac{2 \tan \alpha}{1 - \tan^2 \alpha} = \frac{2 \times \frac{3}{4}}{1 - \frac{9}{16}} = \frac{\frac{3}{2}}{\frac{7}{16}} = \frac{3 \times 16}{2 \times 7} = \frac{24}{7} \Rightarrow \cot 2\alpha = \frac{1}{\tan 2\alpha} = \frac{7}{24}$$

$$1 + \tan^2 \alpha = \frac{1}{\cos^2 \alpha} \Rightarrow 1 + \frac{9}{16} = \frac{1}{\cos^2 \alpha} \Rightarrow \cos^2 \alpha = \frac{16}{25}$$

$\alpha$  در ناحیه سوم است، پس:  $\cos \alpha = -\frac{4}{5}$

$$\sin^2 \alpha = 1 - \cos^2 \alpha = 1 - \frac{16}{25} = \frac{9}{25} \Rightarrow \sin \alpha = -\frac{3}{5}$$

$$\sin 2\alpha = 2 \sin \alpha \cos \alpha = 2 \left(-\frac{3}{5}\right) \left(-\frac{4}{5}\right) = \frac{24}{25}$$

خواسته سؤال به صورت زیر است:

$$\frac{\cos\left(2\alpha - \frac{\pi}{2}\right) + \cos(\alpha + \pi)}{\cot 2\alpha} = \frac{\cos\left(\frac{\pi}{2} - 2\alpha\right) - \cos \alpha}{\cot 2\alpha} = \frac{\sin 2\alpha - \cos \alpha}{\cot 2\alpha} = \frac{\frac{24}{25} - \left(-\frac{4}{5}\right)}{\frac{7}{24}} = \frac{\frac{44}{25}}{\frac{7}{24}} = \frac{24 \times 44}{25 \times 7} = \frac{1056}{175}$$

۱۳۱- پاسخ: گزینه ۳

$$\cos^2 x - \sin^2 x \cos^2 x = 1 \Rightarrow 1 - \sin^2 x - \sin^2 x \cos^2 x = 1 \Rightarrow \sin^2 x + \sin^2 x \cos^2 x = 0 \Rightarrow \sin^2 x (1 + \cos^2 x) = 0$$

$$\begin{cases} \sin^2 x = 0 \Rightarrow \sin x = 0 \Rightarrow x = k\pi \\ 1 + \cos^2 x = 0 \Rightarrow \cos^2 x = -1 \Rightarrow \cos x = \pm i \Rightarrow x = \frac{2k\pi + \pi}{2} \end{cases}$$

جواب‌های واقع در بازه  $[0, 2\pi]$  عبارتند از:

$$x = 0, \frac{\pi}{2}, \pi, \frac{3\pi}{2}, 2\pi$$

۱۳۲- پاسخ: گزینه ۱

شرط معنی‌دار بودن لگاریتم و رادیکال را در نظر می‌گیریم:

$$x^2 - x - 2 > 0 \Rightarrow (x - 2)(x + 1) > 0 \Rightarrow x < -1 \text{ یا } x > 2 \quad (1)$$

$$x^2 - 1 \geq 0 \Rightarrow x^2 \geq 1 \Rightarrow |x| \geq 1 \Rightarrow x \leq -1 \text{ یا } x \geq 1 \quad (2)$$

توجه کنید که مخرج همواره مخالف صفر است. پس اشتراک (۱) و (۲) را می‌یابیم:

$$(1) \cap (2): x < -1 \text{ یا } x > 2 \Rightarrow D_f = (-\infty, -1) \cup (2, +\infty)$$

۱۳۳- پاسخ: گزینه ۲

ابتدا حدود  $3x$  را می‌یابیم:

$$-\frac{1}{2} \leq x < \frac{1}{2} \xrightarrow{\times 3} -\frac{3}{2} \leq 3x < \frac{3}{2}$$

بنابراین داریم:

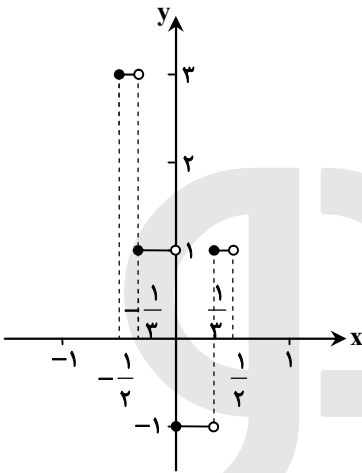
$$-\frac{3}{2} \leq 3x < -1 \Rightarrow [3x] = -2 \Rightarrow y = 2|-2| - 1 = 3, -\frac{1}{2} \leq x < -\frac{1}{3}$$

$$-1 \leq 3x < 0 \Rightarrow [3x] = -1 \Rightarrow y = 2|-1| - 1 = 1, -\frac{1}{3} \leq x < 0$$

$$0 \leq 3x < 1 \Rightarrow [3x] = 0 \Rightarrow y = 2 \times 0 - 1 = -1, 0 \leq x < \frac{1}{3}$$

$$1 \leq 3x < \frac{3}{2} \Rightarrow [3x] = 1 \Rightarrow y = 2 \times 1 - 1 = 1, \frac{1}{3} \leq x < \frac{1}{2}$$

نمودار تابع به صورت زیر است:



۱۳۴- پاسخ: گزینه ۴

دستگاه‌های حاصل از دو منحنی را حل می‌کنیم:

$$\begin{cases} x = \sqrt{y+3} - \sqrt{y-3} \\ y = x^2 \end{cases} \Rightarrow 2y = (\sqrt{y+3} - \sqrt{y-3})^2 \Rightarrow 2y = y+3+y-3-2\sqrt{y^2-9} \Rightarrow 2\sqrt{y^2-9} = 0 \Rightarrow y^2 = 9$$

$$y = \pm 3 \Rightarrow \begin{cases} y = 3 \Rightarrow x^2 = 6 \Rightarrow x = \pm\sqrt{6} \\ y = -3 \Rightarrow x^2 = -6 \text{ غیرممکن} \end{cases}$$

توجه کنید که در رابطه  $x = \sqrt{y+3} - \sqrt{y-3}$  صدق نمی‌کند ولی  $\begin{cases} x = \sqrt{6} \\ y = 3 \end{cases}$  صدق می‌کند، پس نقطه تلاقی دو منحنی نقطه  $A(\sqrt{6}, 3)$  است و داریم:

$$OA = \sqrt{6+9} = \sqrt{15}$$

۱۳۵- پاسخ: گزینه ۲

$$\text{نکته: } a + aq + aq^2 + \dots + aq^{n-1} = \frac{a(q^n - 1)}{q - 1}$$

از صورت کسر  $3^x$  و از مخرج آن  $2^{x-2}$  را فاکتور می‌گیریم:

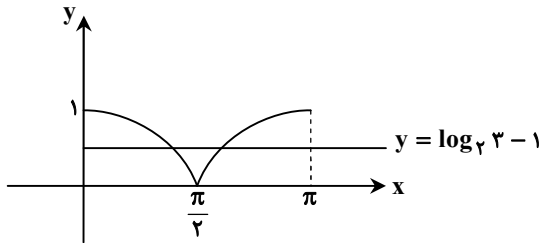
$$\frac{3^x(1+3+3^2+3^3+3^4+3^5)}{2^{x-2}(1+2+2^2+2^3+2^4+2^5)} = \frac{3^x \times 1 \times (3^6 - 1)}{2^{x-2} \times 1 \times (2^6 - 1)} = \frac{3^x \times 728}{2^{x-2} \times 63} = \frac{3^x \times 364}{2^{x-2} \times 63}$$

$$= \frac{3^x \times 52}{2^{x-2} \times 9} = \frac{3^x \times 52}{2^{x-2} \times 3^2} = \frac{3^{x-2}}{2^{x-2}} \times 52 = 52 \Rightarrow \left(\frac{3}{2}\right)^{x-2} = 1 \Rightarrow x-2 = 0 \Rightarrow x = 2$$

۱۳۶- پاسخ: گزینه ۳

تبدیل‌های گفته‌شده را بر روی تابع  $y = 2^{|\sin x|}$  اعمال می‌کنیم:

$$y = 2^{|\sin x|} \xrightarrow[\frac{\pi}{2} \text{ به راست}]{x \rightarrow x - \frac{\pi}{2}} y = 2^{|\sin(x - \frac{\pi}{2})|} = 2^{|\cos x|} \xrightarrow[\frac{3}{2} \text{ به پایین}]{y = 2^{|\cos x|} - \frac{3}{2}}$$

نقاط برخورد تابع حاصل با محور  $x$ ها از حل معادله  $y = 0$  به دست می‌آید.

$$2^{|\cos x|} - \frac{3}{2} = 0 \Rightarrow 2^{|\cos x|} = \frac{3}{2} \Rightarrow |\cos x| = \log_2 \frac{3}{2}$$

$$\Rightarrow |\cos x| = \log_2 3 - \log_2 2 \Rightarrow |\cos x| = \log_2 3 - 1$$

چون  $\log_2 3 - 1$  عددی بین صفر تا ۱ است؛ زیرا:

$$2 < 3 < 2^2 \Rightarrow 1 < \log_2 3 < 2 \Rightarrow 0 < \log_2 3 - 1 < 1$$

بنابراین تابع ثابت  $y = \log_2 3 - 1$  در بازه  $[0, \pi]$  در دو نقطه نمودار تابع  $y = |\cos x|$  را قطع می‌کند.

۱۳۷- پاسخ: گزینه ۱

نکته:  $\log_b a = \frac{1}{\log_a b}$

$$\log_x y - 2 \log_y x = 1 \Rightarrow \log_x y - \frac{2}{\log_x y} = 1$$

با فرض  $\log_x y = t$  داریم:

$$t - \frac{2}{t} = 1 \xrightarrow{\times t} t^2 - 2 = t \Rightarrow t^2 - t - 2 = 0 \Rightarrow (t-2)(t+1) = 0$$

$$\Rightarrow \begin{cases} t = -1 \Rightarrow \log_x y = -1 \Rightarrow y = x^{-1} = \frac{1}{x} \Rightarrow xy = 1 \xrightarrow{x, y > 1} \text{ غیرممکن} \\ t = 2 \Rightarrow \log_x y = 2 \Rightarrow y = x^2 \end{cases}$$

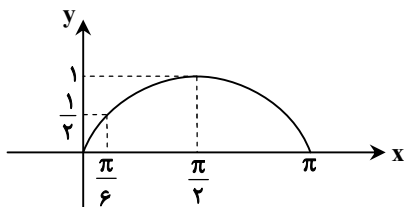
۱۳۸- پاسخ: گزینه ۴

نکته:  $\lim_{x \rightarrow \pm\infty} ax^n + bx^{n-1} + \dots + k = \lim_{x \rightarrow \pm\infty} ax^n$

$$\lim_{x \rightarrow +\infty} \sqrt{x} \left( \sqrt{\frac{1}{x+1} + \frac{1}{x}} - \sqrt{\frac{x^2 + 1 - x^2}{x^2(x^2 + 1)}} \right) = \lim_{x \rightarrow +\infty} \left( \sqrt{\frac{x}{x+1}} + 1 - \sqrt{\frac{x}{x^2(x^2 + 1)}} \right)$$

$$= \lim_{x \rightarrow +\infty} \left( \sqrt{\frac{x}{x}} + 1 - \sqrt{\frac{1}{x(x^2 + 1)}} \right) = \sqrt{1+1} - 0 = \sqrt{2}$$

۱۳۹- پاسخ: گزینه ۱

با توجه به نمودار  $y = \sin x$ ، مشخص است که اگر  $x$  از چپ به  $\frac{\pi}{6}$  میل کند،  $\sin x$  بامقادیر کمتر از  $\frac{1}{2}$  به عدد  $\frac{1}{2}$  میل می‌کند، پس:

$$\lim_{x \rightarrow \frac{\pi}{6}^-} [2 \sin x - 1] = [2(\frac{1}{2})^- - 1] = [1^- - 1] = [0^-] = -1$$

۱۴۰- پاسخ: گزینه ۳

قرینه نمودار تابع  $y = 2 + \sqrt{x-1}$  نسبت به خط  $y = x$  همان نمودار وارون این تابع می‌باشد، پس فاصله وارون آن را می‌یابیم:

$$y = 2 + \sqrt{x-1}$$

$$\sqrt{x-1} = y-2 \Rightarrow x-1 = (y-2)^2 \Rightarrow x = 1 + (y-2)^2 \Rightarrow y = 1 + (x-2)^2$$

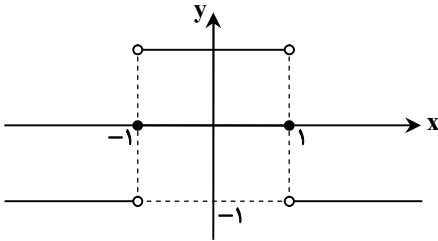
$$\xrightarrow[\frac{2}{x \rightarrow x-2} \text{ واحد به راست}]{y = 1 + (x-2-2)^2 = 1 + (x-4)^2} \xrightarrow[\frac{3}{y = 1 + (x-4)^2 - 3} \text{ واحد پایین}]{} y = 1 + (x-4)^2 - 3$$

$$\Rightarrow g(x) = (x-4)^2 - 2 \Rightarrow g(4) = 0 - 2 = -2$$

۱۴۱- پاسخ: گزینه ۳

تابع  $g \circ f$  را تشکیل می‌دهیم:

$$(g \circ f)(x) = g(1-x^2) = \begin{cases} 1, & 1-x^2 > 0 \Rightarrow x^2 < 1 \Rightarrow -1 < x < 1 \\ 0, & 1-x^2 = 0 \Rightarrow x^2 = 1 \Rightarrow x = \pm 1 \\ -1, & 1-x^2 < 0 \Rightarrow x^2 > 1 \Rightarrow x < -1 \text{ یا } x > 1 \end{cases}$$

بنابراین نمودار  $g \circ f$  به صورت زیر است:تابع  $g \circ f$  در دو نقطه  $x = -1$  و  $x = 1$  ناپیوسته است.

۱۴۲- پاسخ: گزینه ۲

تابع را به صورت دو ضابطه‌ای می‌نویسیم: ( $x \neq \pm 1$ )

$$f(x) = \frac{x^2}{x^2-1} \left| x^2-4 \right| = \begin{cases} \frac{x^2(x^2-4)}{x^2-1}, & x^2-4 \geq 0 \\ \frac{x^2(4-x^2)}{x^2-1}, & x^2-4 < 0 \end{cases}$$

$$f(x) = \begin{cases} \frac{x^4-4x^2}{x^2-1}, & x \leq -2 \text{ یا } x \geq 2 \\ \frac{4x^2-x^4}{x^2-1}, & -2 < x < 2 \end{cases}$$

$$f'(x) = \begin{cases} \frac{(4x^3-8x)(x^2-1) - 2x(x^4-4x^2)}{(x^2-1)^2}, & x \leq -2 \text{ یا } x \geq 2 \\ \frac{(8x-4x^3)(x^2-1) - 2x(4x^2-x^4)}{(x^2-1)^2}, & -2 < x < 2 \end{cases}$$

$$f'(x) = \begin{cases} \frac{2x((2x^2-4)(x^2-1) - (x^4-4x^2))}{(x^2-1)^2}, & x \leq -2 \text{ یا } x \geq 2 \\ \frac{2x((4-2x^3)(x^2-1) - (4x^2-x^4))}{(x^2-1)^2}, & -2 < x < 2 \end{cases}$$

$$f'(x) = \begin{cases} \frac{2x(2x^4-2x^2-4x^2+4-x^4+4x^2)}{(x^2-1)^2}, & x \leq -2 \text{ یا } x \geq 2 \\ \frac{2x(4x^2-4-2x^3+2x^2-4x^2+x^4)}{(x^2-1)^2}, & -2 < x < 2 \end{cases}$$

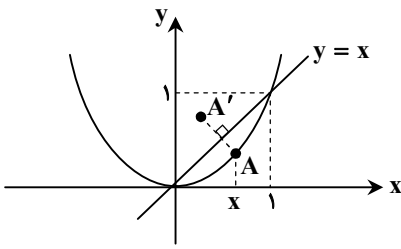
$$f'(x) = \begin{cases} \frac{2x(x^4-2x^2+4)}{(x^2-1)^2}, & x \leq -2 \text{ یا } x \geq 2 \\ \frac{2x(-x^4+2x^2-4)}{(x^2-1)^2}, & -2 < x < 2 \end{cases}$$

عبارات  $x^4 - 2x^2 + 4$  و  $(x^2 - 1)^2$  همواره مثبت و عبارت  $-x^4 + 2x^2 - 4$  همواره منفی است. پس تنها ریشه مشتق  $(f'(x) = 0)$  $x = 0$  است و تعیین علامت مشتق به صورت زیر است:

$x$	$-\infty$	$-2$	$-1$	$0$	$1$	$2$	$+\infty$
$f'$		-	+	+	-	-	+
$f$		↘	↗	↗	↘	↘	↗

 $x = \pm 2$  طول نقاط مینیمم نسبی و  $x = 0$  طول نقطه ماکزیمم نسبی تابع است.

۱۴۳- پاسخ: گزینه ۳



طبق شکل مقابل، نقطه A بر روی  $y = x^2$  قرار دارد. با فرض  $A(x, y)$  داریم:

$A'(y, x)$  و  $AA'$  برابر است با:

$$AA' = \sqrt{(y-x)^2 + (x-y)^2} = \sqrt{2(y-x)^2} = |y-x|\sqrt{2} = |x^2-x|\sqrt{2}$$

در بازه  $0 < x < 1$ ،  $x^2 < x$  است و داریم:

$$AA' = -(x^2-x)\sqrt{2} = (x-x^2)\sqrt{2}$$

مشتق  $AA'$  را می‌یابیم:

$$(AA')' = (1-2x)\sqrt{2} = 0 \Rightarrow x = \frac{1}{2} \Rightarrow (AA')_{\max} = \left(\frac{1}{2} - \frac{1}{4}\right)\sqrt{2} = \frac{\sqrt{2}}{4}$$

۱۴۴- پاسخ: گزینه ۴

نکته:  $(f \circ g)'(a) = g'(a) \cdot f'(g(a))$

طبق نکته داریم:

$$(f \circ g)'\left(\frac{3}{\sqrt{\lambda}}\right) = g'\left(\frac{3}{\sqrt{\lambda}}\right) \cdot f'\left(g\left(\frac{3}{\sqrt{\lambda}}\right)\right)$$

$$g(x) = \frac{1}{\sqrt{x^2-1}} \Rightarrow g\left(\frac{3}{\sqrt{\lambda}}\right) = \frac{1}{\sqrt{\frac{9}{\lambda}-1}} = \frac{1}{\sqrt{\frac{1}{\lambda}-1}} = \frac{1}{2}$$

مشتق  $g$  را محاسبه می‌کنیم:

$$g(x) = (x^2-1)^{-\frac{1}{2}} \Rightarrow g'(x) = -\frac{1}{2} \times 2x \times (x^2-1)^{-\frac{3}{2}} = -\frac{2x}{2} (x^2-1)^{-\frac{3}{2}}$$

$$g'(x) = \frac{-2x}{2\sqrt{(x^2-1)^3}} \Rightarrow g'\left(\frac{3}{\sqrt{\lambda}}\right) = \frac{-2 \times \frac{3}{\sqrt{\lambda}}}{2\sqrt{\left(\frac{9}{\lambda}-1\right)^3}} = \frac{-\frac{3}{\sqrt{\lambda}}}{2\sqrt{\left(\frac{1}{\lambda}-1\right)^3}} = \frac{-\frac{3}{\sqrt{\lambda}}}{2 \times \frac{1}{16}}$$

$$g'\left(\frac{3}{\sqrt{\lambda}}\right) = -\frac{3 \times 16}{2\sqrt{2}} = -8\sqrt{2}$$

بنابراین:

$$g'\left(\frac{3}{\sqrt{\lambda}}\right) \cdot f'\left(g\left(\frac{3}{\sqrt{\lambda}}\right)\right) = -8\sqrt{2} f'\left(\frac{1}{2}\right)$$

تابع  $f$  در  $x=2$  مشتق پذیر است، پس در همسایگی  $x=2$  داریم:

$$f(x) = (x|x^2 + \frac{1}{x}|)^2 + 1 = (x \times 4)^2 + 1 = 16x^2 + 1 \Rightarrow f'(x) = 32x$$

خواسته سؤال برابر است با:

$$-8\sqrt{2} f'\left(\frac{1}{2}\right) = -8\sqrt{2} \times 32 \times \frac{1}{2} = -512\sqrt{2} = 4(-128\sqrt{2})$$

۱۴۵- پاسخ: گزینه ۳

تابع  $f$  به صورت مقابل است:

$$f(x) = \begin{cases} ax^2 + bx + c, & x \geq k \\ 2ax + b, & x < k \end{cases}$$

تابع  $f$  در  $x=k$  مشتق پذیر است، پس در این نقطه پیوسته نیز می‌باشد.

$$f(k) = \lim_{x \rightarrow k^+} f(x) = \lim_{x \rightarrow k^-} f(x) \Rightarrow ak^2 + bk + c = 2ak + b \quad (1)$$

مشتق چپ و مشتق راست در  $x=k$  برابرند.

$$f'(x) = \begin{cases} 2ax + b, & x > k \Rightarrow f'_+(k) = 2ak + b \\ 2a, & x < k \Rightarrow f'_-(k) = 2a \end{cases} \Rightarrow 2ak + b = 2a \quad (2)$$

$$(1), (2) : ak^2 + bk + c = 2a \quad (*)$$

حال با در نظر گرفتن رابطه (۲) و  $b + c = a$  داریم:

$$\begin{cases} a = b + c \Rightarrow b = a - c \\ rak + b = ra \Rightarrow rak + a - c = ra \Rightarrow c = rak - a \\ b = a - c = a - rak + a \Rightarrow b = 2a - rak \end{cases}$$

روابط فوق را در (\*) قرار می‌دهیم:

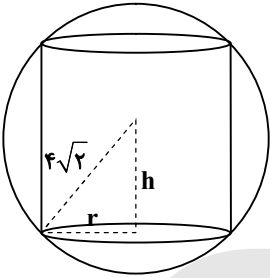
$$ak^2 + (2a - rak)k + rak - a = ra \Rightarrow ak^2 + rak - rak^2 + rak - a - ra = 0$$

$$\Rightarrow -ak^2 + rak - ra = 0 \Rightarrow -a(k^2 - rk + r) = 0 \Rightarrow k^2 - rk + r = 0 \Rightarrow (k-1)(k-r) = 0 \Rightarrow \begin{cases} k = 1 \\ k = r \end{cases}$$

حداکثر  $k$  برابر ۳ است.

۱۴۶- پاسخ: گزینه ۲

شکل مقابل را در نظر بگیرید:



$$r^2 + h^2 = (4\sqrt{2})^2 = 32 \Rightarrow h = \sqrt{32 - r^2}$$

مساحت جانبی استوانه را به صورت تابعی بر حسب  $r$  می‌نویسیم:

$$S = 2\pi r(2h) = 4\pi rh = 4\pi r\sqrt{32 - r^2}$$

$$S = 4\pi\sqrt{32r^2 - r^4} \Rightarrow S'_r = 4\pi \times \frac{64r - 4r^3}{2\sqrt{32r^2 - r^4}} \Rightarrow S'_r = 2\pi \left( \frac{4r(16 - r^2)}{\sqrt{32r^2 - r^4}} \right) = 0$$

$$\Rightarrow r = 0, r = 4$$

به ازای  $r = 0$ ، استوانه‌ای تشکیل نمی‌شود، پس به ازای  $r = 4$  مقدار  $S$  ماکزیمم است و داریم:

$$S_{\max} = 4\pi\sqrt{32 \times 16 - 256} = 4\pi\sqrt{256} = 4\pi \times 16 = 64\pi$$

۱۴۷- پاسخ: گزینه ۳

احتمال قبولی در آزمون اول را  $P(A)$  و احتمال قبولی در آزمون دوم را  $P(B)$  در نظر می‌گیریم، پس:

$$P(A) = P(B) = 0/9, P(A \cap B) = 0/85$$

$$P(A|B) = \frac{P(A \cap B)}{P(B)} = \frac{0/85}{0/9} = \frac{85}{90} = \frac{17}{18}$$

۱۴۸- پاسخ: گزینه ۳

نکته: مجموع و حاصل ضرب ریشه‌های معادله درجه دوم  $ax^2 + bx + c = 0$  به صورت زیر است:

$$S = -\frac{b}{a}, P = \frac{c}{a}$$

در معادله درجه دوم  $ax^2 + bx - c = 0$  باید داشته باشیم:

$$S = P + 2 \Rightarrow -\frac{b}{a} = \frac{-c}{a} + 2 \xrightarrow{\times a} -b = -c + 2a \Rightarrow c - b = 2a$$

توجه کنید که:

$$\Delta = b^2 - 4a(-c) = b^2 + 4ac > 0$$

پس تمام حالاتی که در آن‌ها رابطه  $2a = c - b$  برقرار است، قابل قبول است.

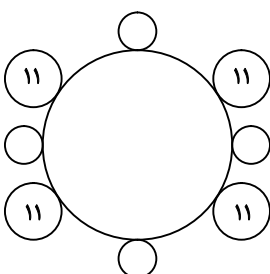
$$(a, b, c) \in \left\{ (1, 1, 3), (1, 2, 4), (1, 3, 5), (1, 4, 6), (1, 5, 7), (1, 6, 8), (1, 7, 9), (2, 1, 5), (2, 2, 6) \right\}$$

$$\left\{ (2, 3, 7), (2, 4, 8), (2, 5, 9), (3, 1, 7), (3, 2, 8), (3, 3, 9), (4, 1, 9) \right\}$$

بنابراین ۱۶ معادله این ویژگی را دارند.

۱۴۹- پاسخ: گزینه ۱

نکته: تعداد حالات قرار گرفتن  $n$  شیء دور یک میزگرد (جایگشت دوری) برابر  $(n-1)!$  است.



ابتدا دانش‌آموزان پایه یازدهم به  $3! = (4-1)!$  حالت دور میز قرار می‌گیرند. برای اینکه دانش‌آموزان یازدهم و دوازدهم یکی در میان قرار بگیرند، دانش‌آموزان دوازدهم به  $4!$  حالت در جایگاه‌هایی که با  $O$  نشان داده شده‌اند قرار می‌گیرند، پس:

$$3! \times 4! = 6 \times 24 = 144$$



۱۵۰- پاسخ: گزینه ۴

فضای نمونه‌ای متشکل از تمام اعداد طبیعی است که با ارقام متمایز ۱, ۲, ۳, ۴, ۵ ساخته می‌شود.

$$n(S) = \underbrace{5}_{\text{یکرقمی}} + \underbrace{5 \times 4}_{\text{دورقمی}} + \underbrace{5 \times 4 \times 3}_{\text{سهرقمی}} + \underbrace{5 \times 4 \times 3 \times 2}_{\text{چهاررقمی}} + \underbrace{5 \times 4 \times 3 \times 2 \times 1}_{\text{پنجرقمی}} = 325$$

پیشامد آن را باید حساب کنیم که عدد انتخابی بر ۴ بخش پذیر باشد. عددی بر ۴ بخش پذیر است که عدد دورقمی حاصل از دو رقم سمت راست آن بر ۴ بخش پذیر باشد.

۱ عدد  $\Rightarrow 4$ : تکرقمی‌ها۴ تا  $\Rightarrow 12, 24, 32, 52$ : دورقمی‌ها

$$\text{سهرقمی‌ها: } \begin{array}{cccc} 1 & 2 & 3 & 4 \\ \downarrow & \downarrow & \downarrow & \downarrow \\ 2 & 3 & 4 & 5 \end{array} \Rightarrow 2+3+4+5=12$$

$$\text{چهاررقمی‌ها: } \begin{array}{ccc} & & \square \\ \downarrow & \downarrow & \downarrow \\ 2 & 3 & 4 \end{array} \Rightarrow 2 \times 3 \times 4 = 24$$

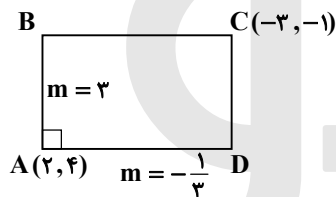
$$\text{پنجرقمی‌ها: } \begin{array}{ccc} & & \square \\ \downarrow & \downarrow & \downarrow \\ 2 & 3 & 4 \end{array} \Rightarrow 2 \times 3 \times 4 = 24$$

$$n(A) = 1 + 4 + 12 + 24 + 24 = 65$$

$$P(A) = \frac{n(A)}{n(S)} = \frac{65}{325} = \frac{1}{5}$$

۱۵۱- پاسخ: گزینه ۳

شکل فرضی زیر را در نظر بگیرید. شیب ضلع AB برابر ۳ است. پس معادله ضلع AB را می‌نویسیم:



$$y - 4 = 3(x - 2) \Rightarrow y - 4 = 3x - 6 \Rightarrow 3x - y - 2 = 0$$

ضلع AD بر AB عمود است، پس شیب آن  $-\frac{1}{3}$  است و داریم:

$$y - 4 = -\frac{1}{3}(x - 2) \xrightarrow{\times 3} 3y - 12 = -x + 2 \Rightarrow x + 3y - 14 = 0$$

فاصله رأس C(-3, -1) از دو ضلع AB و AD را محاسبه می‌کنیم:

$$CB = \frac{|3(-3) - (-1) - 2|}{\sqrt{9+1}} = \frac{|-9+1-2|}{\sqrt{10}} = \frac{10}{\sqrt{10}} = \sqrt{10}$$

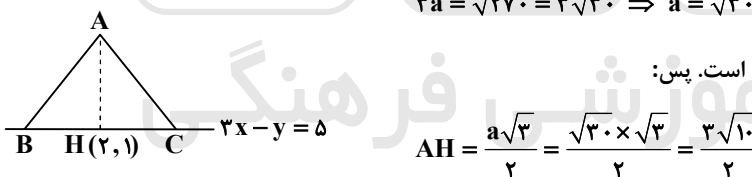
$$CD = \frac{|-3+3(-1)-14|}{\sqrt{1+9}} = \frac{20}{\sqrt{10}} = 2\sqrt{10}$$

$$\text{محیط مستطیل} = 2(\sqrt{10} + 2\sqrt{10}) = 6\sqrt{10}$$

۱۵۲- پاسخ: گزینه ۲

با فرض اینکه ضلع مثلث برابر a باشد، داریم:

$$3a = \sqrt{270} = 3\sqrt{30} \Rightarrow a = \sqrt{30}$$

می‌دانیم ارتفاع مثلث متساوی‌الاضلاع  $\frac{\sqrt{3}}{2}$  برابر ضلع آن است. پس:

$$AH = \frac{a\sqrt{3}}{2} = \frac{\sqrt{30} \times \sqrt{3}}{2} = \frac{3\sqrt{10}}{2}$$

حال معادله AH را می‌یابیم:

$$BC: 3x - y = 5 \Rightarrow y = 3x - 5 \Rightarrow \text{شیب} = 3 \Rightarrow m_{AH} = -\frac{1}{3}$$

$$AH: y - 1 = -\frac{1}{3}(x - 2) \Rightarrow y = -\frac{1}{3}x + \frac{5}{3}$$

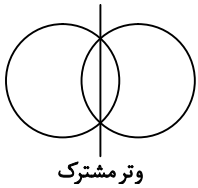
نقطه A روی خط AH قرار دارد، پس مختصات آن به صورت زیر است:

$$A(k, -\frac{1}{3}k + \frac{5}{3}) \Rightarrow AH = \frac{3\sqrt{10}}{2} \Rightarrow \sqrt{(k-2)^2 + (-\frac{1}{3}k + \frac{5}{3} - 1)^2} = \frac{3\sqrt{10}}{2}$$

$$\Rightarrow (k-2)^2 + (-\frac{1}{3}k + \frac{2}{3})^2 = \frac{90}{4} \Rightarrow (k-2)^2 + \frac{1}{9}(k-2)^2 = \frac{90}{4}$$

$$\Rightarrow \frac{10}{9}(k-2)^2 = \frac{90}{4} \Rightarrow (k-2)^2 = \frac{81}{4} \Rightarrow k-2 = \pm \frac{9}{2} \Rightarrow \begin{cases} k = 2 + \frac{9}{2} = \frac{13}{2} \Rightarrow A(\frac{13}{2}, -\frac{13}{6} + \frac{5}{3}) \Rightarrow A(\frac{13}{2}, -\frac{1}{2}) \\ k = 2 - \frac{9}{2} = -\frac{5}{2} \Rightarrow A(-\frac{5}{2}, \frac{5}{6} + \frac{5}{3}) \Rightarrow A(-\frac{5}{2}, \frac{5}{2}) \end{cases}$$

۱۵۳- پاسخ: گزینه ۱

برای یافتن معادله وتر مشترک دو دایره، معادله آن‌ها را از هم کم می‌کنیم تا  $x^2$  و  $y^2$  حذف شود.

$$\begin{cases} x^2 + y^2 + 2x - 3 = 0 \\ x^2 + y^2 + 2y - 3 = 0 \end{cases} \Rightarrow \begin{cases} x^2 + y^2 + 2x - 3 = 0 \\ -x^2 - y^2 - 2y + 3 = 0 \end{cases}$$

$$2x - 2y = 0 \Rightarrow x = y$$

۱۵۴- پاسخ: گزینه ۱

طبق قضیه تالس داریم:

$$\frac{AE}{EB} = \frac{AF}{FC} \Rightarrow \frac{4}{y} = \frac{y^2}{5-x} \Rightarrow y^3 = 20 - 4x$$

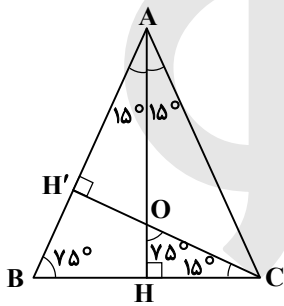
اکنون طبق تعمیم تالس داریم:

$$\frac{AE}{AB} = \frac{EF}{BC} \Rightarrow \frac{4}{4+y} = \frac{x+1}{y+x+1} \xrightarrow{\text{تفصیل درمخرج}} \frac{4}{4+y-4} = \frac{x+1}{y+x+1-(x+1)}$$

$$\Rightarrow \frac{4}{y} = \frac{x+1}{y} \Rightarrow x+1=4 \Rightarrow x=3 \Rightarrow y^3 = 20 - 12 = 8 \Rightarrow y=2$$

$$y - 2x = 2 - 2 \times 3 = -4$$

۱۵۵- پاسخ: گزینه ۴



$$AB = AC = 6$$

$$S_{\triangle ABC} = \frac{1}{2} AB \cdot AC \sin 30^\circ = \frac{1}{2} \times 6 \times 6 \times \frac{1}{2} = 9$$

$$S_{\triangle ABH} = \frac{1}{2} S_{\triangle ABC} = \frac{9}{2}$$

با توجه به زاویه‌های مشخص شده در شکل، دو مثلث  $ABH$  و  $OCH$  متشابه هستند و در دو مثلث متشابه، نسبت مساحت‌ها با توان دوم نسبت تشابه برابر است، یعنی:

$$\frac{S_{\triangle OHC}}{S_{\triangle ABH}} = \left(\frac{OC}{AB}\right)^2 \Rightarrow \frac{S_{\triangle OHC}}{\frac{9}{2}} = \left(\frac{OC}{6}\right)^2 \Rightarrow \frac{2}{9} S_{\triangle OHC} = \frac{OC^2}{36} \Rightarrow OC^2 = 8 S_{\triangle OHC} \quad (1)$$

$$\triangle ACH : \sin 15^\circ = \frac{CH}{AC} = \frac{CH}{6} \Rightarrow CH = 6 \sin 15^\circ$$

$$\triangle OHC : \cos 15^\circ = \frac{CH}{OC} \Rightarrow OC = \frac{CH}{\cos 15^\circ} = \frac{6 \sin 15^\circ}{\cos 15^\circ} = 6 \tan 15^\circ \quad (2)$$

$$(1), (2) \Rightarrow 8 S_{\triangle OHC} = 36 \tan^2 15^\circ \Rightarrow S_{\triangle OHC} = \frac{9}{2} \tan^2 15^\circ$$

مقدار  $\tan^2 15^\circ$  را محاسبه می‌کنیم:

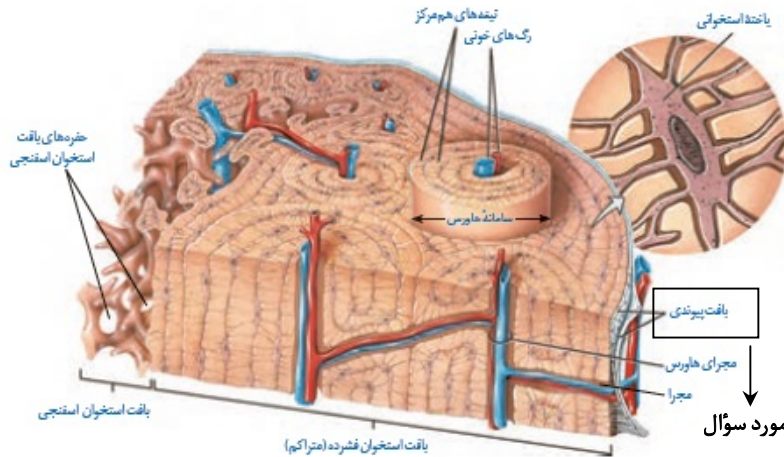
$$\tan^2 15^\circ = \frac{\sin^2 15^\circ}{\cos^2 15^\circ} = \frac{\frac{1}{2}(1 - \cos 2 \times 15^\circ)}{\frac{1}{2}(1 + \cos 2 \times 15^\circ)} = \frac{1 - \cos 30^\circ}{1 + \cos 30^\circ} = \frac{1 - \frac{\sqrt{3}}{2}}{1 + \frac{\sqrt{3}}{2}} = \frac{2 - \sqrt{3}}{2 + \sqrt{3}}$$

$$S_{\triangle OHC} = \frac{9}{2} \times \frac{2 - \sqrt{3}}{2 + \sqrt{3}} \times \frac{2 + \sqrt{3}}{2 + \sqrt{3}} = \frac{9}{2} \times \frac{4 - 3}{(2 + \sqrt{3})^2} = \frac{9}{2(7 + 4\sqrt{3})}$$

## زیست‌شناسی

۱۵۶- پاسخ: گزینه ۲

خارجی ترین یاخته‌های استخوانی موجود در تنه استخوان ران، یاخته‌های بافت استخوانی متراکم هستند. بر روی استخوان بافت پیوندی قرار دارد. با توجه به شکل یاخته‌های بافت پیوندی پوشاننده سطح خارجی تنه استخوان، پهن بوده و نزدیک به هم قرار دارند.



علت نادرستی سایر گزینه‌ها:

(۱) در بافت فشرده مغز استخوان (قرمز و زرد) مشاهده نمی‌شود اما یاخته‌های بافت فشرده می‌توانند در مجاورت رگ‌های خونی و رشته‌های عصبی قرار بگیرند.

(۳) همان‌طور که در شکل مشاهده می‌کنید یاخته‌های بافت متراکم که در خارجی ترین قسمت استخوان که به بافت پیوندی متصل است، قرار دارند؛ روی یک دایره نیستند. در واقع بخش بیشتر بافت متراکم شامل سیستم هاورس می‌شود.

(۴) حفره‌های نامنظم مربوط به بافت استخوانی اسفنجی است نه بافت استخوانی متراکم.

۱۵۷- پاسخ: گزینه ۱

فراوان ترین یاخته‌های سامانه بافت پوششی در برگ، یاخته‌های رویوستی تمایز نیافته هستند. با توجه به اینکه از سطح برگ نیز تعرق صورت می‌گیرد در ایجاد جریان توده‌ای در آوندهای چوبی نقش دارد. در کتاب ذکر شده که بیشتر تعرق گیاهان از روزنه‌های برگ انجام می‌شود.

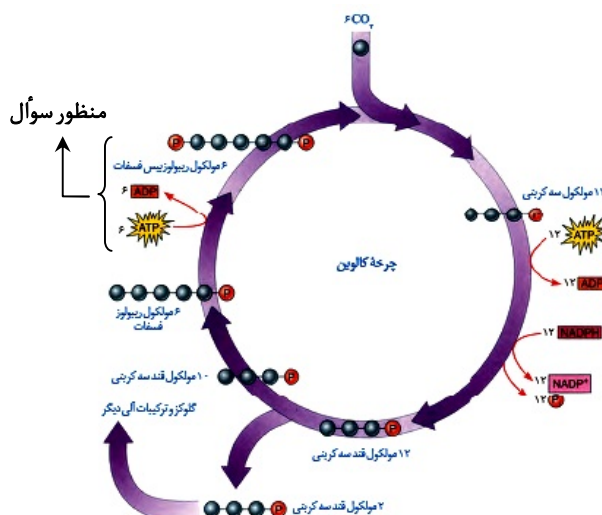
علت نادرستی سایر گزینه‌ها:

(۲) اصلی ترین یاخته‌های سامانه بافت آوندی؛ آوند آبکش و عناصر آوندی و نایدیسی‌ها هستند و یاخته‌های آوند آبکش برخلاف آوند چوبی، لیگنینی نمی‌شوند. این یاخته‌ها فقط دیواره نخستین دارند.

(۳) مستحکم ترین یاخته‌های سامانه بافت زمینه‌ای یاخته‌های سخت آکنه (اسکلرانسیم) هستند و این یاخته‌ها سبب استحکام بافت می‌شوند و شیره گیاهی را جابه‌جا نمی‌کنند.

(۴) رایج ترین یاخته‌های سامانه بافت زمینه‌ای، پارانسیم است. تعدادی از یاخته‌های بافت پارانسیم دارای سبز دیسه هستند و داخل سبز دیسه ساختارهای غشایی و کیسه‌مانند به نام تیلاکوئید وجود دارند.

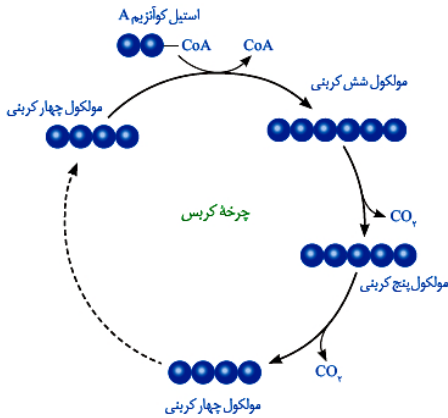
۱۵۸- پاسخ: گزینه ۴



در چرخه کالوین طی فتوسنتز؛ در آخرین مرحله این چرخه، قند ریبولوز پیس فسفات تولید می‌شود این قند ۵ کربنه و ۲ فسفات است برای تولید این قند ATP شکسته می‌شود و فسفات آن به قند ۵ کربنه یک فسفات متصل شده و قند ۵ کربنه ۲ فسفات تولید می‌شود بنابراین فسفات محصول نهایی این مرحله نیست و در این مرحله قند ۵ کربنه دوفسفات محصول نهایی است.

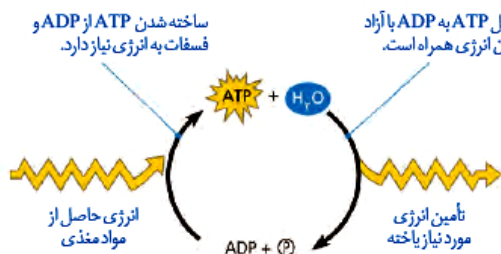
بررسی سایر گزینه‌ها:

(۱) در تنفس هوازی و در چرخه کربس طی واکنش‌های مرحله دوم و سوم ترکیب ۵ کربنی ابتدا تولید و سپس مصرف می‌شود. در هر دو مرحله نیز گاز  $CO_2$  تولید می‌شود.



(۲) منظور از ترکیب کربن در پیرووات است که به روش انتقال فعال به راکبزه وارد می‌شود انتقال فعال توسط پروتئین‌های غشایی صورت می‌گیرد.

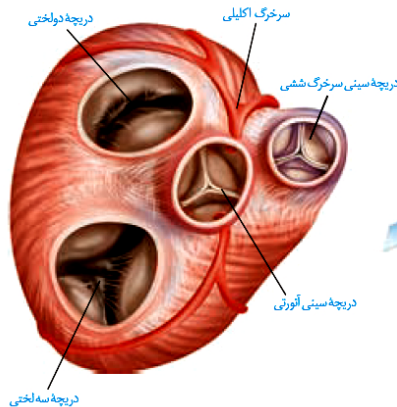
(۳) ساخته شدن ATP یک واکنش سنتز آبدهی است. با مصرف ADP و فسفات؛ یک مولکول ATP و آب تولید می‌شود. (طبق شکل)



۱۵۹- پاسخ: گزینه ۲

موارد «ب» و «د» درست هستند.

درونی ترین لایه دیواره قلب انسان بافت پوششی است. چین خوردگی‌های این بافت دریچه‌ها را می‌سازد (کتاب دهم صفحه ۵۷) در ساختار دریچه‌ها بافت ماهیچه‌ای به کار نرفته است و وجود بافت پیوندی به استحکام این دریچه‌ها کمک می‌کند. در بافت پیوندی رشته‌های کلاژن و کشسان وجود دارند. رشته‌های کلاژن ضخیم هستند. یاخته‌های بافت پوششی بسیار به هم نزدیک هستند.



مؤسسه آموزشی ف

علت نادرستی مورد «الف»:

دریچه‌های قلب شامل دریچه‌های سینی و دهلیزی - بطنی هستند که ساختارهای متفاوتی دارند. با توجه به شکل این دریچه‌ها از نظر شکلی با هم متفاوت هستند.

علت نادرستی «ج» صفحات بینابینی در لایه میوکارد قلب قرار دارد که بخش ماهیچه‌ای قلب است.

۱۶۰- پاسخ: گزینه ۳

چهار روش اصلی تنفس شامل: تنفس نایدیسی، تنفس پوستی، تنفس آبششی و تنفس ششی است.

کرم پهن فاقد ساختار تنفس ویژه است و دارای سامانه دفعی پروتوزویدی است. این سامانه شبکه‌ای از کانال‌ها است. کار اصلی این سامانه، دفع آب اضافی است. (پلاناریا کرم پهن است.)

علت نادرستی سایر گزینه‌ها:

(۱) این گزینه مربوط به بکرزایی است. کرم‌های پهن هرمافرودیت هستند. لقاح داخلی دارند و جانور دیپلوئید ایجاد می‌کنند.

(۲) کرم‌های پهن مثل پلاناریا لوله گوارش ندارند بنابراین سلوم هم ندارند. با شکل‌گیری لوله گوارش سلوم نیز به وجود می‌آید.

(۴) همولنف مربوط به جانورانی است که گردش خون باز دارند. کرم پهن مثل پلاناریا دارای حفره گوارشی است که انشعابات آن به تمامی بدن نفوذ می‌کند و حرکات بدن به جابه‌جایی مواد کمک می‌کند.

۱۶۱- پاسخ: گزینه ۴

نوتروفیل‌ها دارای هسته چندقسمتی هستند و در دفاع غیراختصاصی نقش دارند. یاخته کشنده طبیعی اینترفرون نوع ۲ ترشح می‌کند. این یاخته در دفاع غیراختصاصی نقش دارد. نوتروفیل‌ها عمل بیگانه‌خواری انجام می‌دهند و یاخته‌های کشنده طبیعی باعث فعال شدن ماکروفاژها و از بین بردن یاخته‌های سرطانی و آلوده به ویروس می‌شوند.  
علت نادرستی سایر گزینه‌ها:

۱) آنوزینوفیل‌ها و نوتروفیل‌ها دارای دانه‌های روشن هستند. آنوزینوفیل‌ها دانه‌های روشن درشت و نوتروفیل‌ها دانه‌های روشن ریز دارند. یاخته‌های خاطره نیز می‌توانند در مغز استخوان تمایز یابند. اگر پادگن‌ها وارد مغز استخوان شوند و لنفوسیت‌ها بتوانند آن‌ها را شناسایی کنند خاطره به‌وجود می‌آید و اگر یاخته‌های مغز استخوان سرطانی شوند لنفوسیت‌های T آن‌ها را شناسایی می‌کنند و در همان مکان خاطره به‌وجود می‌آید. بنابراین در مغز استخوان نیز خاطره می‌تواند به‌وجود آید.  
۲) بازوفیل‌ها دارای دانه‌های تیره در میان یاخته خود هستند. بازوفیل‌ها و ماستوسیت‌ها هر دو با ترشح هیستامین باعث افزایش نفوذپذیری رگ‌ها می‌شوند. ماستوسیت‌ها بیگانه‌خوارهای بافتی هستند.  
۳) بازوفیل‌ها و آنوزینوفیل‌ها دارای هسته دوقسمتی هستند. پاسخ ایمنی ثانویه مربوط به ایمنی اختصاصی و لنفوسیت‌ها است. در صورتی که بازوفیل‌ها و آنوزینوفیل‌ها در دفاع غیراختصاصی نقش دارند. پادتن‌ها باعث خنثی‌سازی میکروب‌ها می‌شوند. و آنوزینوفیل‌ها و بازوفیل‌ها هرگز پادتن تولید نمی‌کنند.

۱۶۲- پاسخ: گزینه ۴

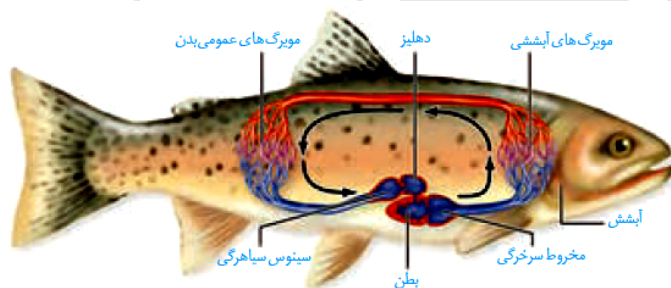
بطن یک و دو حاوی اجسام مخطط و شبکه مویرگی ترشح‌کننده مایع مغزی- نخاعی می‌باشد و در مجاورت ساقه مغز قرار ندارد. منظور سؤال غده اپی‌فیز است که مجاورت بطن سوم مغزی قرار دارد. پینه‌آل (اپی‌فیز) در بالای برجستگی‌های چهارگانه و بین دو نیم‌کره راست و چپ مخ قرار دارد. برجستگی‌های چهارگانه بخشی از مغز میانی‌اند که دو عدد پایین و دو عدد بالا و در مجاورت اپی‌فیز هستند دو عددی که بالا هستند بزرگ‌تر از برجستگی‌هایی هستند که پایین قرار دارند. غده پینه‌آل با ترشح هورمون ملاتونین (پیک دوربرد) در تنظیم ریتم شبانه‌روزی نقش دارد.

۱۶۳- پاسخ: گزینه ۳

مورد «ب» مربوط به تنظیم بیان ژن در هنگام ترجمه و توقف عمل ترجمه می‌باشد. اما موارد «الف»، «ج» و «د» مربوط به تنظیم بیان ژن پیش از رونویسی است.  
مورد «الف» مربوط می‌شود به دسترسی آنزیم رنابسپاراز به دنا (ژن).  
مورد «ج» هرچه فشردگی دنا بیشتر باشد، دسترسی آنزیم به ژن کمتر می‌شود.  
مورد «د» اگر خمیدگی در دنا رخ ندهد، ممکن است رونویسی رخ ندهد. خمیدگی در دنا به هنگام اتصال عوامل رونویسی به توالی افزایش یافته صورت می‌گیرد که سبب تقویت و افزایش سرعت رونویسی می‌شود.

۱۶۴- پاسخ: گزینه ۳

رسوبی از نمک‌های کلسیم مربوط به مهره‌داران استخوانی است. ماهیان غضروفی در مهره‌های خود رسوبی از نمک‌های کلسیم ندارند. ماهیان غضروفی مانند کوسه‌ماهی و سفره‌ماهی غدد راست‌روده‌ای دارند که محلول نمک بسیار غلیظ را توسط این غدد به روده ترشح می‌کنند.  
علت نادرستی سایر گزینه‌ها:



گزینه ۱: مربوط به اسکلت آب ایستایی است. عروس دریایی دارای اسکلت آب ایستایی است که با فشار جریان آب به سمت بیرون، جانور به سمت مخالف حرکت می‌کند.  
گزینه ۲: ماهی‌ها تخمکی با اندوخته غذایی کم و دیواره‌ای چسبناک و ژله‌ای تولید می‌کنند.  
گزینه ۴: در گردش خون ماهی؛ خون پس از آنکه وارد سینه‌سوس سیاهرگی شد، وارد دهلیز می‌شود. دهلیز از بطن کوچک‌تر است.

۱۶۵- پاسخ: گزینه ۴

در نظام جفت‌گیری تک‌همسری هر دو جانور نر و ماده در انتخاب جفت و پرورش زاده‌ها سهم یکسانی دارند که در برخی پستانداران و بیشتر پرندگان نظام جفت‌گیری تک‌همسری مشاهده می‌شود. در این جانوران رفتار خوگیری (عادی شدن) مشاهده می‌شود. در رفتار خوگیری جانور با چشم‌پوشی از محرک‌های بی‌اهمیت، انرژی خود را صرف انجام فعالیت‌های حیاتی می‌کند.  
علت نادرستی سایر گزینه‌ها:

گزینه ۱: در هر بار غذاییابی ممکن است بیشترین انرژی خالص دریافت نشود مثل طوطی‌ها که خاک رس می‌خورند تا مواد سمی حاصل از غذاهای گیاهی را خنثی کنند. پس جانوران گاهی غذاهایی مصرف می‌کنند که محتوای انرژی زیادی ندارد. (در صورت سؤال به کلمه به‌طور حتم دقت شود).  
گزینه ۲: آزمون و خطا نوعی یادگیری است و جانور با توجه به پاداش و یا تنبیهی که دریافت می‌کند؛ رفتاری را تکرار کرده یا از بروز آن رفتار جلوگیری می‌کند.

گزینه ۳: جانوران با رفتارهایی مانند اجرای نمایش و یا تهاجم به جانوران دیگر اعلام می‌کنند که قلمرو متعلق به آن‌ها است. اگر آواز خواندن مؤثر نباشد، ممکن است پرنده صاحب قلمرو برای بیرون راندن مزاحم به آن حمله کند.

۱۶۶- پاسخ: گزینه ۱

پدر خانواده از نظر کم خونی داسی شکل سالم و خالص است ( $Hb^A Hb^A$ ). مادر از نظر کم خونی داسی شکل ناخالص است و نسبت به مالاریا مقاوم ( $Hb^A Hb^S$ ).

برای آنکه این خانواده فرزندی داشته باشند با گویچه‌های قرمز کاملاً غیرطبیعی ( $Hb^S Hb^S$ ) باید هر دو والد دارای  $Hb^S$  باشند. بررسی سایر گزینه‌ها:

گزینه ۲: منظور پسری با  $Hb^A Hb^A$  است.

گزینه ۳: منظور دختری با  $Hb^A Hb^S$  است. این افراد نسبت به کمبود اکسیژن محیط حساس هستند.

گزینه ۴: منظور دختری با  $Hb^A Hb^S$  است.

هر سه مورد ذکر شده در این خانواده می‌تواند متولد شود.

۱۶۷- پاسخ: گزینه ۱

فقط مورد «ب» درباره هر نوکلئوتید موجود در بدن یک فرد سالم صحیح است. هر نوکلئوتید از قند پنج‌کربنه و یک باز آلی و گروه‌های فسفات متصل به قند تشکیل شده است. پیوند بین فسفر و قند از نوع پیوند کووالانسی است. (دقت کنید در صورت سؤال کلمه هر به‌کار رفته است).

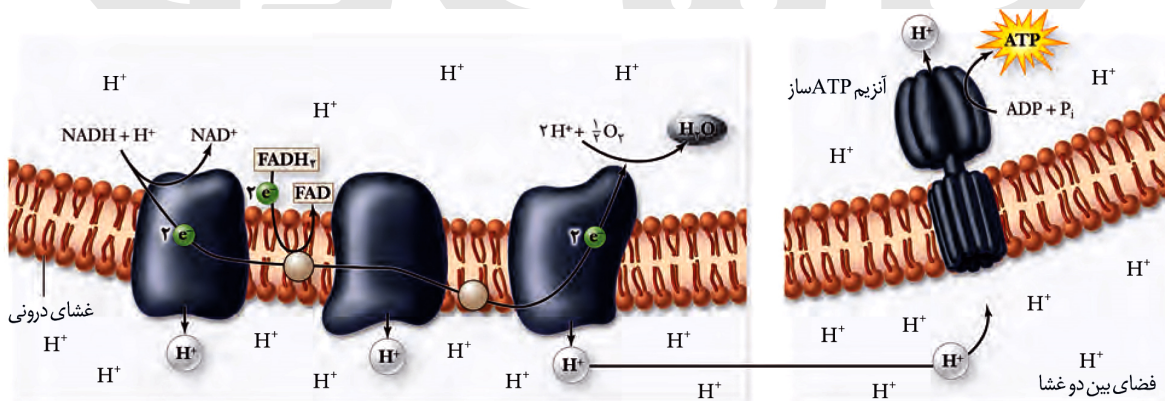
علت نادرستی سایر موارد:

(الف) نوکلئوتیدها از نظر قند به دو دسته تقسیم می‌شوند. عده‌ای قند ریبوز و عده‌ای دیگر قند دئوکسی ریبوز دارند.

(ج) ATP و نوکلئوتیدهای آزاد در یاخته به نوکلئوتیدهای دیگر متصل نیستند. از نوکلئوتیدهای آزاد برای فرایند رونویسی و همانندسازی استفاده می‌شود.

(د) در طی اکسایش در غشای درونی راکیزه فقط ATP تولید می‌شود (نه هر نوکلئوتیدی).

۱۶۸- پاسخ: گزینه ۲



حاملین الکترون  $NADH$  و  $FADH_2$  هستند که الکترون‌های خود را در زنجیره انتقال الکترون به پروتئین‌ها می‌دهند. طبق شکل کتاب بخشی از مسیر حرکت الکترون‌ها در این غشاء تا به اکسیژن که پذیرنده نهایی الکترون است مشترک است.

علت نادرستی سایر گزینه‌ها:

(۱)  $NADH$ هایی که در مرحله قندکافت در سیتوپلاسم تولید شده‌اند وارد میتوکندری شده و الکترون‌های خود را به زنجیره انتقال الکترون می‌دهند.

(۳) یون‌های اکسید در ترکیب با پروتون‌هایی که در بخش داخلی قرار دارند، مولکول‌های آب را تشکیل می‌دهند نه در بین دو غشاء

(۴) الکترون‌ها به بخش داخلی راکیزه پمپ نمی‌شوند.

۱۶۹- پاسخ: گزینه ۳

یاخته‌های کبدی صفرا را می‌سازند و صفرا وارد کیسه صفرا می‌شود. صفرا ترکیبی از نمک‌های صفراوی، بیکربنات، کلسترول و فسفولیپید لسیتین است. پس در یاخته‌های کبدی نمک‌های صفراوی یافت می‌شود و لسیتین هم ساخته شود.

علت نادرستی سایر گزینه‌ها:

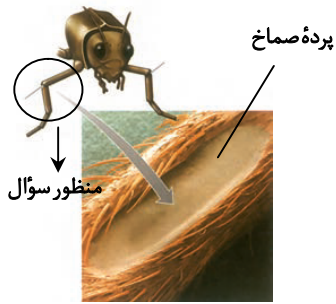
(۱) پپسینوژن در یاخته‌های اصلی غده معده ساخته می‌شود و کیلومیکرون در یاخته‌های پوششی پرز روده ساخته می‌شود.

(۲) کیلومیکرون در یاخته پوششی روده تولید و یافت می‌شود. کلریدریک اسید توسط یاخته‌های کناری غده معده ساخته می‌شود.

(۴) در غشای تمام یاخته‌های بدن انسان کلسترول یافت می‌شود. اما LDL فقط توسط یاخته‌های کبدی ساخته می‌شود.

۱۷۰- پاسخ: گزینه ۲

گیرنده مکانیکی در محل اتصال دو بندپا (نه در محل اتصال پاهای جلویی به سینه) قرار دارد. این گیرنده مکانیکی مربوط به دریافت صدا است.



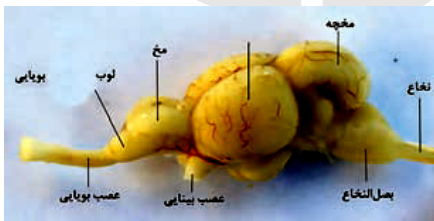
این سؤال کنکور مستقیماً از شکل‌های کتاب برداشت شده است.

بررسی سایر گزینه‌ها:

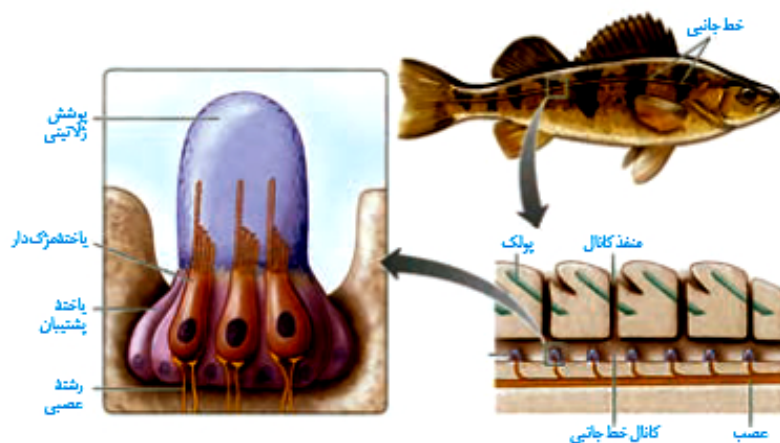
(۱) طبق این شکل کتاب، جسم یاخته‌ای گیرنده‌های شیمیایی در خارج از موی حساسی قرار دارند.



(۳) طبق شکل کتاب، لوب بینایی از مخچه و مخ بزرگ‌تر است و عصب بینایی از زیر به آن متصل است.



(۴) طبق شکل کتاب یاخته‌های پشتیبیان و یاخته‌های مژک‌دار با پوشش ژلاتینی در تماس هستند که یاخته‌های پشتیبیان مژک ندارند.



۱۷۱- پاسخ: گزینه ۱

فقط مورد «ب» درست است.

مرگ برنامه‌ریزی شده برخلاف بافت مردگی اثرات مثبتی برای بدن دارد. مثلاً در مرگ برنامه‌ریزی شده یاخته‌های سرطانی از بین می‌روند.

بررسی سایر موارد:

«الف» و «د» در بافت مردگی می‌تواند پاسخ التهابی رخ دهد و درشت‌خوارها فعال شوند.

«ج» در بافت مردگی مانند آنچه که در بریدگی رخ می‌دهد ابتدا تغییری در غشاء یاخته ایجاد می‌شود با بریدن یاخته، ابتدا غشاء یاخته صدمه می‌بیند.

۱۷۲- پاسخ: گزینه ۳

پرکاری غده پاراتیروئید باعث افزایش میزان کلسیم خون می‌شود. ورود یون کلسیم به درون مایعات بدن باعث تنگی رگ‌ها می‌شود (و فعالیت قلب افزایش می‌یابد) بنابراین می‌تواند باعث بروز بیماری قلبی شود.  
کم‌کاری این غده باعث کاهش میزان کلسیم خوناب می‌شود و در انقباض ماهیچه‌ها اختلال ایجاد می‌کند. ماهیچه‌های تنفسی نیز دچار اختلال در انقباض می‌شوند و احتمال بروز مشکلات تنفسی افزایش می‌یابد.  
علت نادرستی سایر گزینه‌ها:

گزینه ۱: پرکاری غده تیروئید باعث کاهش گلوکز خون می‌شود در نتیجه میزان ترشح انسولین کاهش می‌یابد. کم‌کاری غده تیروئید باعث کاهش میزان سوخت‌وساز بدن شده و دمای بدن را کاهش می‌دهد.

گزینه ۲: ترشح طولانی مدت کورتیزول (از غده فوق کلیه) باعث تضعیف سیستم ایمنی می‌شود و احتمال ابتلا به بیماری‌های عفونی را افزایش می‌دهد. کم‌کاری این غده نمی‌تواند باعث افزایش فشار خون شود. بلکه پرکاری این غده (چه در بخش قشری و چه در بخش مرکزی) می‌تواند باعث افزایش فشار خون شود.

گزینه ۴: غده سازنده هورمون رشد، منظور بخش پیشین غده هیپوفیز است. افزایش ترشح این غده باعث افزایش تعداد یاخته‌های استخوانی می‌شود. اما کم‌کاری این غده نمی‌تواند باعث تکثیر یاخته‌های استخوانی شود.

۱۷۳- پاسخ: گزینه ۴

در جهش دگر معنا رمز یک آمینواسید به رمز آمینواسید دیگری تبدیل می‌شود. در جهش خاموش رمز یک آمینواسید به رمز دیگری از همان آمینواسید تبدیل می‌شود که هر دو نوعی جهش جانشینی هستند و تعداد نوکلئوتیدهای یک ژن را تغییر نمی‌دهند.  
علت نادرستی سایر گزینه‌ها:

گزینه ۱: جهش حذف نیز می‌تواند باعث تغییر در پلی‌پپتید ساخته شده شود.

گزینه ۲: هم در جهش حذف و هم در جهش بی‌معنا، محصول حاصل از رونویسی تغییر می‌کند.

گزینه ۳: در جهش خاموش و بی‌معنا رمز تغییر می‌کند. در جهش بی‌معنا رمز یک آمینواسید به رمز پایان تبدیل می‌شود.

۱۷۴- پاسخ: گزینه ۱

با توجه به اینکه ژن نمود درون دانه WWR است پس اسپرم R و یاخته دوهسته‌ای WW است. بنابراین تخمزا W است. کلاله گل میمونی باید دارای دگره W باشد پس گزینه ۱ نادرست است.

سایر گزینه‌ها می‌توانند درست باشند. (البته منظور صورت سؤال ژنوتیپ یاخته به وجود آورنده دانه گرده است).

۱۷۵- پاسخ: گزینه ۱

منظور سؤال آپاندیس و طحال است. اندام‌های لنفی شامل: لوزه‌ها، تیموس، طحال، آپاندیس و مغز استخوان است که از بین این‌ها آپاندیس و طحال هستند که خون خارج شده از آن‌ها به سیاهرگ‌باب وارد می‌شود در هر دو اندام، لنفوسیت یافت می‌شود که قادرند پادتن تولید کنند که مشابه گیرنده خود است. ترشحات خود را به خون که نوعی بافت پیوندی است وارد می‌کنند.

مورد «ج» و «د» در مورد آپاندیس درست نمی‌باشد. آپاندیس در نیمه راست بدن و پایین کولون افقی قرار دارد. آپاندیس در آزادسازی آهن نقش ندارد. (دقت کنید در صورت سؤال گفته شده درباره همه اندام‌های لنفی)

۱۷۶- پاسخ: گزینه ۴

گیاه ذرت یک گیاه

C<sub>4</sub> است و گیاه رزیک گیاه C<sub>3</sub> است بر

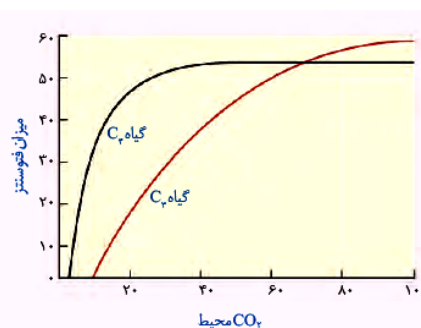
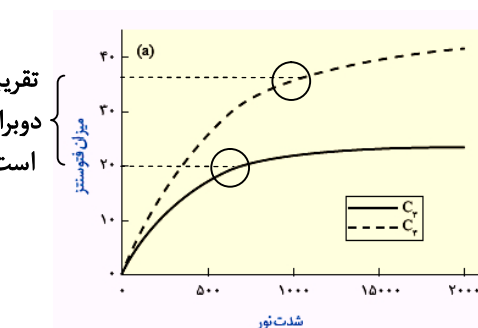
طبق نمودار فعالیت ۵

در شدت نور زیاد

میزان فتوسنتز در

گیاهان C<sub>4</sub> تقریباً دوبرابر گیاه C<sub>3</sub> است.

علت نادرستی سایر گزینه‌ها:



گزینه ۱: آناناس گیاه CAM است. هم در گیاهان C<sub>4</sub> و هم گیاهان CAM، میزان CO<sub>2</sub> در محل فعالیت آنزیم روبیسکو بالا نگه داشته می‌شود.

گزینه ۲: تنفس نوری در کلروپلاست آغاز می‌شود اما بخشی از آن در راکیزه صورت می‌گیرد.

گزینه ۳: طبق نمودار فعالیت ۵ کتاب درسی با افزایش CO<sub>2</sub> میزان فتوسنتز در گیاهان C<sub>3</sub> و C<sub>4</sub> افزایش می‌یابد اما تا حدی پس نمی‌توان گفت همواره.



۱۷۷- پاسخ: گزینه ۱

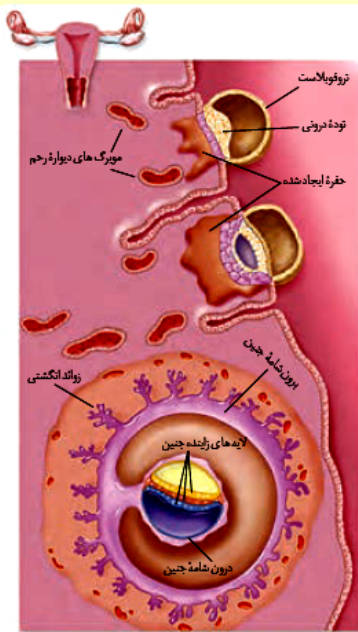
همزمان با تشکیل جفت یاخته‌های توده درونی لایه‌های زاینده را تشکیل می‌دهند که از رشد و تمایز آن‌ها بافت‌های مختلف جنین ساخته می‌شود. بلاستوسیست از یک لایه بیرونی به نام تروفوبلاست و توده درونی تشکیل شده است.

علت نادرستی سایر گزینه‌ها:

گزینه ۲: تمایز جفت از هفته دوم بعد از لقاح شروع می‌شود در حالی که در انتهای ماه اول اندام‌های اصلی شروع به تشکیل شدن می‌کنند.

گزینه ۳: با ترشح آنزیم‌های هضم‌کننده، یاخته‌های جدار رحم تخریب شده و حفره‌ای در آن ایجاد می‌شود که بلاستوسیست عمل جایگزینی را در آن انجام می‌دهد. تشکیل پرده کوریون (دارای زوائد انگشتی مانند) بعد از مرحله جایگزینی رخ می‌دهد.

گزینه ۴: با شروع فرایند جایگزینی هنوز کوریون شکل نگرفته است. کوریون (برون‌شامه) هورمونی به نام HCG ترشح می‌کند که وارد خون مادر می‌شود و اساس تست بارداری است.



۱۷۸- پاسخ: گزینه ۴

واحدهای تکراری تارچه، سارکومر است که از رشته‌های اکتین و میوزین تشکیل شده است. منظور از رشته‌هایی که متشکل از اجزای کروی شکل، رشته‌های اکتین است (طبق شکل کتاب).

در مولکول میوزین اجزای کروی وجود ندارد، بلکه دارای سر و دم است. بررسی سایر گزینه‌ها:

(۱) در هنگام انقباض سر مولکول میوزین بر روی رشته‌های اکتین حرکت می‌کند و از وسعت نوار روشن سارکومر کاسته می‌شود. (طبق شکل) (۲) طبق شکل کتاب، بخشی از نوار اکتین به هنگام استراحت جزو بخش تیره محسوب می‌شود.

(۳) به هنگام استراحت رشته‌های اکتین از رشته‌های اکتین مقابل خود دور می‌شوند (فاصله بین دو خط Z افزایش می‌یابد و رشته‌های اکتین از هم دور می‌شوند).

۱۷۹- پاسخ: گزینه ۳

طبق جمله کتاب، دانه گرده در نهان‌دانگان دارای دیواره داخلی و دیواره خارجی است. دیواره خارجی منفذدار است. گل‌های نر دارای پرچم هستند بنابراین دانه گرده تولید می‌کنند که منفذدار هم هست.

علت نادرستی سایر گزینه‌ها:

(۱) زنبق دارای ساقه تخصص یافته زیرزمینی است اما جزو گیاهان چندساله است.

(۲) طبق شکل کتاب یازدهم صفحه ۱۳۲، لوبیا رویش روزمینی دارد و یک گیاه دولپه محسوب می‌شود دولپه‌ای‌ها فاقد بافت نرم آکنه در مغز ریشه هستند. در مغز ریشه این گیاهان آوند چوب قرار دارد.

(۴) گل داوودی در روزهای کوتاه گل می‌دهد و طبق شکل کتاب گل‌های آن دارای گلبرگ‌های رنگی است پس گرده‌افشانی آن فقط وابسته به باد نیست. گیاهانی که برای گرده‌افشانی به باد وابسته هستند تعداد فراوانی گل کوچک تولید می‌کنند و فاقد رنگ‌های درخشان، بوهای قوی و شیره‌اند.

۱۸۰- پاسخ: گزینه ۲

در خارج از مغز، گیرنده‌هایی وجود دارند که به کاهش اکسیژن حساس‌اند. این گیرنده‌ها بیشتر در سرخرگ آئورت و سرخرگ‌های ناحیه گردن که خون‌رسانی به سر و مغز را برعهده دارند، واقع‌اند. بنابراین منظور صورت سؤال سرخرگ است. در سرخرگ‌ها ضخامت لایه ماهیچه‌ای و پیوندی از سیاهرگ‌ها بیشتر است تا فشار زیاد وارد شده از سوی قلب را بتوانند تحمل و هدایت کنند به همین دلیل سرخرگ‌ها در برش عرضی، بیشتر گرد دیده می‌شوند.

علت نادرستی سایر گزینه‌ها:

(۱) سیاهرگ‌ها بیشتر در قسمت‌های سطحی اندام‌ها قرار دارند.

(۳) این جمله درباره مویرگ‌ها صادق است. مویرگ‌ها به سه دسته؛ پیوسته، ناپیوسته و منفذدار تقسیم می‌شوند.

(۴) این جمله درباره سیاهرگ‌ها صادق است. در سیاهرگ‌های دست و پا دریچه‌های لانه کیبوتری وجود دارد که جریان خون را یک‌طرفه و به سمت بالا هدایت می‌کنند (دقت کنید در گزینه ذکر شده به کمک دریچه‌هایی در درون خود)

۱۸۱- پاسخ: گزینه ۳

یاخته‌های انبانکی در نیمه اول دوره جنسی (۱-۱۴) هورمون استروژن ترشح می‌کنند. اما همان‌طور که در شکل می‌بینید در نیمه دوم جنسی ضخامت رحم به حداکثر خود می‌رسد.

بررسی سایر گزینه‌ها:

(۱) در ابتدای دوره جنسی میزان هورمون استروژن و پروژسترون در خون بسیار کم است این کمبود به هیپوتالاموس پیامی می‌دهد که هورمون آزادکننده ترشح کند. هورمون آزادکننده بخش پیشین هیپوفیز را تحریک می‌کند تا ترشح هورمون‌های LH و FSH را افزایش دهد.

(۲) استروژن با تأثیر بر هیپوتالاموس با بازخورد منفی از ترشح هورمون‌های LH و FSH می‌کاهد.

(۴) بازخورد منفی استروژن بر روی هیپوتالاموس، از رشد و بالغ شدن انبانک‌های جدید در طول دوره جنسی جلوگیری می‌کند.

۱۸۲- پاسخ: گزینه ۱

فقط مورد «ب» درست است.

دریچه‌های سینی در هنگام انقباض دهلیزها و استراحت عمومی بسته‌اند. دریچه‌های دولختی و سه‌لختی در هنگام استراحت عمومی و انقباض دهلیزها باز هستند. در این زمان خون وارد بطن‌ها می‌شود.

علت نادرستی سایر موارد:

«الف» دریچه‌های سینی در هنگام انقباض دهلیزها و استراحت عمومی بسته هستند. دریچه‌های دولختی و سه‌لختی هنگام انقباض بطن‌ها بسته هستند. دقت شود هنگام انقباض دهلیزها، خون وارد دهلیزها نمی‌شود.

«ج» هنگام انقباض بطن‌ها دریچه‌های سینی باز هستند. دریچه‌های دولختی و سه‌لختی هنگام انقباض دهلیزها و استراحت عمومی باز هستند. «د» دریچه‌های سینی هنگام انقباض بطن‌ها باز هستند. دریچه‌های دولختی و سه‌لختی هنگام انقباض بطن‌ها بسته هستند. در مرحله انقباض بطن‌ها، فشار درون بطن‌ها به تدریج افزایش می‌یابد.

۱۸۳- پاسخ: گزینه ۱

محل قرارگیری ماده حساس به نور در شکل نشان داده شده است. همان‌طور که می‌بینید در یاخته استوانه‌ای مقدار ماده حساس به نور بیشتری وجود دارد.

علت نادرستی سایر گزینه‌ها:

(۲) ماده حساس به نور در هیچ‌کدام از یاخته‌ها در مجاورت هسته قرار ندارد.

(۳) ماده حساس به نور در هر دو یاخته در انتهای یاخته وجود دارد.

(۴) با برخورد نور به شبکه، ماده حساس به نور درون گیرنده‌های نوری تجزیه می‌شود و واکنش‌هایی را به راه می‌اندازد که به ایجاد پیام عصبی منجر می‌شود. ویتامین A برای ساخت ماده حساس به نور لازم است.

۱۸۴- پاسخ: گزینه ۲

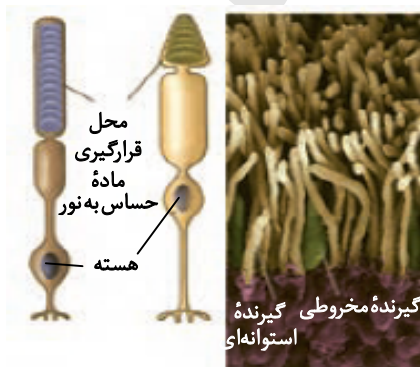
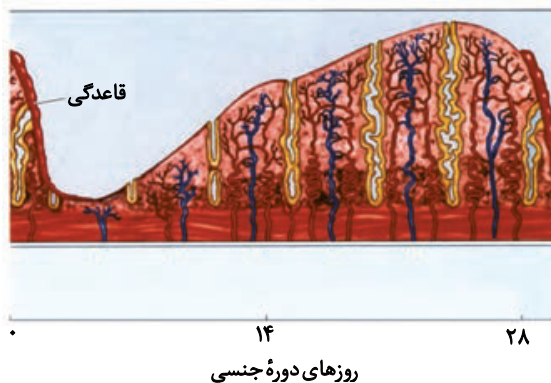
جهش با افزودن دگره‌های جدید، خزانه زن را غنی‌تر می‌کند و گوناگونی را افزایش می‌دهد. بسیاری از جهش‌ها تأثیری فوری بر رخ‌نمود ندارند و بنابراین ممکن است تشخیص داده نشوند. اما با تغییر شرایط محیط ممکن است دگره جدید، سازگارتر از دگره یا دگره‌های قبلی عمل کند. پس جهش می‌تواند توان بقای جمعیت را در شرایط محیطی جدید بالا ببرد. شارش زن نیز می‌تواند خزانه زن را غنی‌تر کرده و می‌تواند توان بقای جمعیت را بالا ببرد.

علت نادرستی سایر گزینه‌ها:

(۱) انتخاب طبیعی افراد سازگارتر با محیط را برمی‌گزیند. انتخاب طبیعی نمی‌تواند تغییر در زن نمود افراد جمعیت ایجاد کند. انتخاب طبیعی خزانه زن نسل آینده را تغییر می‌دهد.

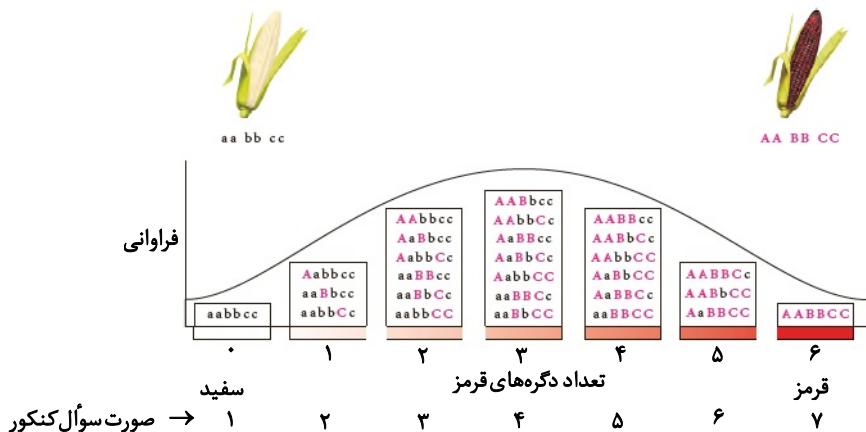
(۳) وقتی افرادی از یک جمعیت به جمعیت دیگری مهاجرت می‌کنند، در واقع تعدادی از دگره‌های جمعیت مبدأ را به جمعیت مقصد وارد می‌کنند و سبب تغییر در فراوانی نسبی دگره‌های هر دو جمعیت می‌شوند. اگر بین دو جمعیت، شارش زن به صورت پیوسته و دوسویه باشد سرانجام خزانه زن دو جمعیت مثل هم می‌شود. بنابراین شارش زن باعث برهم خوردن تعادل ژنی در جمعیت می‌شود.

(۴) عاملی که باعث تغییر فراوانی دگره‌ای بر اثر رویدادهای تصادفی می‌شود، رانش دگره‌ای نام دارد. هرچه اندازه یک جمعیت کوچک‌تر باشد، رانش دگره‌ای اثر بیشتری دارد.



۱۸۵- پاسخ: گزینه ۲

با توجه به شکل کتاب ژن نموده های  $AABBcc$ ،  $AaBbCC$  و  $aaBBCC$  که در جایگاه شماره ۵ سؤال قرار دارند، در یکی از جایگاه های خود فاقد الل بارز هستند.



بررسی سایر گزینه ها:

(۱) در این بخش  $AaBbCc$  وجود دارد که همه انواع دگره های بارز را دارد.

(۳) با توجه به شکل کتاب هر سه زئوتیپ قرار گرفته در جایگاه ۶ در یکی از جایگاه های خود ناخالص هستند. (یک الل غالب و یک الل مغلوب دارند).

(۴) همه ژن نموده های قرار گرفته شده در بخش ۲ در دو جایگاه ژنی خالص و در یک جایگاه ناخالص هستند.

۱۸۶- پاسخ: گزینه ۱

فقط مورد «د» جمله را به درستی کامل می کند.

جاندارانی که می توانند همه یا بخشی از مواد غذایی خود را از گیاهان به دست آورد شامل: گیاهان انگل، جانوران همه چیز خوار، جانوران گیاه خوار و برخی باکتری ها مثل سیانوباکتری ها می شود. جمله «د» در مورد همه این جانداران صدق می کند؛ زیرا گلیکولیز (قندکافت) در همه جانداران زنده مشاهده می شود. در قندکافت  $NADH$  تولید می شود که مولکولی دونوکلئوتیدی است (دقت کنید در صورت سؤال کلمه «هر» آمده است).

بررسی سایر موارد:

«الف» سیانوباکتری ها قادرند فتوسنتز کنند و از مواد معدنی مواد آلی بسازند.

«ب» این جمله در مورد قارچ ها درست است.

«ج» این جمله فقط در مورد سیانوباکتری ها صادق است.

۱۸۷- پاسخ: گزینه ۴

باکتری های گرمادوست در چشمه های آب گرم دارای آمیلازهایی هستند که پایداری بیشتری در مقابل گرما دارند.



با توجه به شکل، جمله ۴ درست است. ژنگان به کل محتوای وراثتی گفته می شود. در این شکل ۳ ژن را نشان می دهد که ژن وسطی رشته الگویی متفاوت با ژن ۱ و ۳ دارد.

علت نادرستی سایر گزینه ها:

(۱) باکتری ها فقط یک غشای پلاسمایی دارند، پس به کار بردن کلمه غشاهایی نادرست است. باکتری ها کلروپلاست (سبز دیسه) و راکیزه ندارند.

(۲) در باکتری ها تنظیم بیان ژن می تواند در هر یک از مراحل ساخت رنا و پروتئین باشد اما به طور معمول تنظیم بیان ژن در باکتری ها در مرحله رونویسی انجام می شود.

(۳) باکتری ها ساختار غشای درونی ندارند. هیچ اندامکی ندارند. بنابراین برون رانی و درون بری نیز نمی توانند داشته باشند؛ زیرا ریزکیسه ندارند.

۱۸۸- پاسخ: گزینه ۳

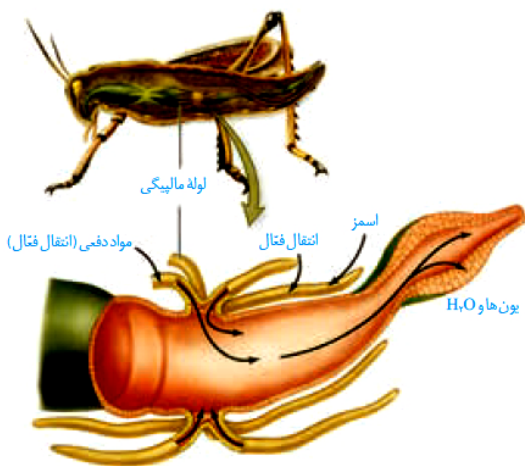
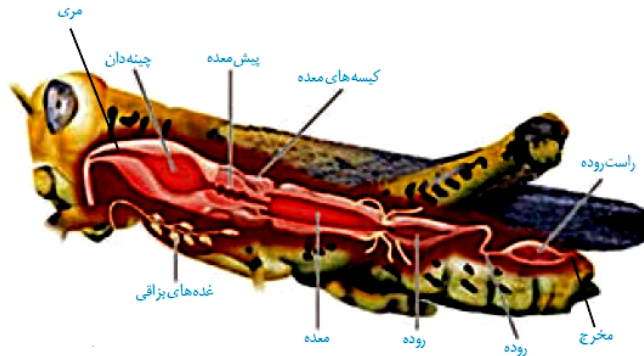
اکسین از جوانه رأسی به جوانه های جانبی می رود. اکسین در ریشه زایی و قلمه زدن مورد استفاده قرار می گیرد. قلمه زدن یکی از روش های تکثیر در گیاهان است. در صفحه ۱۴۰ کتاب درسی یازدهم این جمله ذکر شده که برای تکثیر رویش گیاهان با استفاده از قلمه از اکسین استفاده می شود.

علت نادرستی سایر گزینه ها:

(۱) از اکسین برای از بین بردن گیاهان خودرو در مزارع استفاده می شود. اما هورمون اتیلن از سوخت های فسیلی هم تولید می شود.

(۲) هورمون جیبرلین به خارجی ترین لایه آندوسپرم اثر می گذارد و باعث رشد غلات می شود. نسبت اکسین به سیتوکینین باعث رشد ریشه می شود. اگر میزان اکسین بیشتر از سیتوکینین باشد ریشه زایی را تحریک می کند.

(۴) هورمون آسیتیک اسید اثری مخالف هورمون جیبرلین دارد و موجب جلوگیری از رشد دانه می شود و هورمون اتیلن در بافت های آسیب دیده گیاهان تولید می شود.



اگر شکل سؤال را با این شکل مقایسه کنیم متوجه می‌شویم که شماره‌های ۱، ۲، ۳ و ۴ به ترتیب: معده، لوله‌های مالپیگی، روده و راست‌روده را نشان می‌دهد. این شکل بخشی از دستگاه گوارش ملخ است. اوریک اسید از تجزیه نوکلئیک‌اسیدها ایجاد می‌شود این ماده می‌تواند از همولنف به درون لوله‌های مالپیگی با انتقال فعال وارد شود این ماده جزو مواد دفعی در حشرات است. از راه لوله‌های مالپیگی این ماده دفعی وارد روده می‌شود و از آنجا وارد راست‌روده شده از مخرج دفع می‌گردد. بخش ۱ معده است که لوله‌های مالپیگی بعد از آن قرار گرفته‌اند.

علت نادرستی سایر گزینه‌ها:

(۱) باز جذب آب و یون‌ها از روده صورت می‌گیرد نه معده.

(۲) لوله‌های مالپیگی در ترشح آنزیم‌های گوارشی نقشی ندارند. این آنزیم‌ها توسط غدد بزاقی و کیسه‌های معده و خود معده ساخته می‌شود.

(۳) هر دو بخش توانایی دریافت یون‌های همولنف را دارند. یون‌های پتاسیم و کلر از راه لوله‌های مالپیگی به این ساختارها وارد می‌شوند.

۱۹۰- پاسخ: گزینه ۱

فقط مورد «د» درست است.

پس از تکمیل رناتن مرحله طویل شدن آغاز می‌شود. در این مرحله هر tRNA که وارد ریبوزوم می‌شود در جایگاه A قرار می‌گیرد و پس از برقراری پیوند پپتیدی بین آمینواسید و آمینواسیدهای دیگر (زنجیره پلی‌پپتید) توالی از آمینواسید را خواهد داشت.

علت نادرستی سایر موارد:

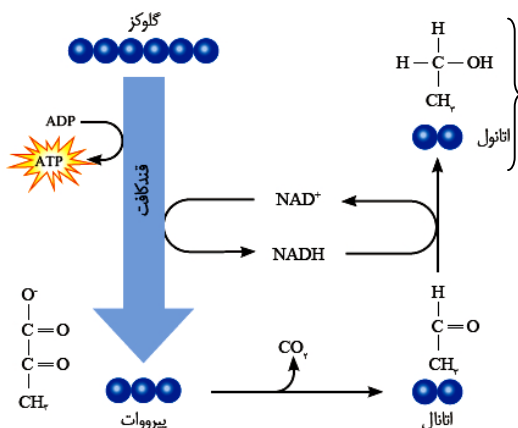
«الف» در مرحله آغاز ترجمه tRNA حامل متیونین وارد جایگاه P می‌شود. در مرحله طویل شدن بقیه رنای ناقل وارد جایگاه A می‌شوند.

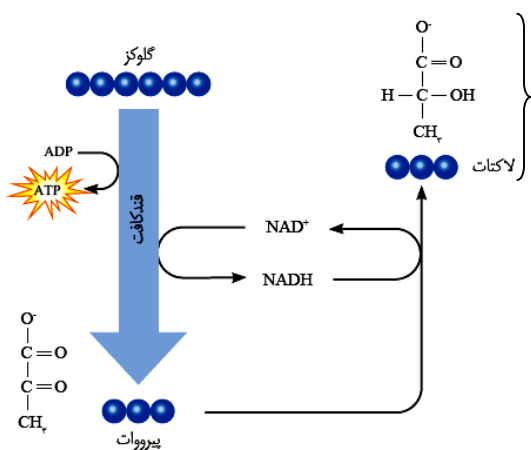
«ب» ممکن است رنای ناقلی که وارد جایگاه A رناتن شده است، آنتی‌کدون آن مکمل کدون نباشد و از آن خارج گردد.

«ج» در مرحله پایان ترجمه، آخرین رنای ناقل که از زنجیره پلی‌پپتید جدا می‌شود، از جایگاه P ریبوزوم خارج می‌شود.

۱۹۱- پاسخ: گزینه ۲

تجمع الکل و لاکتیک‌اسید حاصل از تخمیر در یاخته گیاهی به مرگ یاخته منجر می‌شود. الکل در تخمیر الکلی و لاکتیک‌اسید در تخمیر لاکتیکی تولید می‌شود. سؤال در مورد ویژگی مشترک تخمیر الکلی و تخمیر لاکتیکی است.





۱۹۲- پاسخ: گزینه ۴

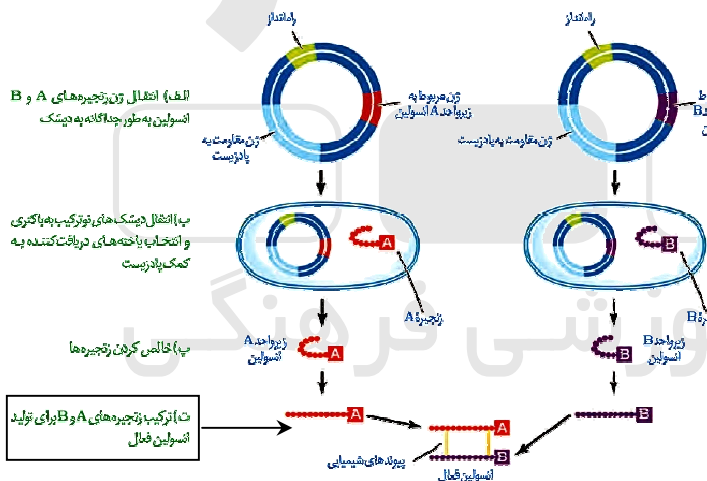
فام‌تن هم‌تا در یاخته‌های دیپلوئید (دولاد) یافت می‌شود. یاخته‌های دولادی که در فرایند اسپرم‌زایی شرکت می‌کنند شامل اسپرماتوگونی (زاهما) و اسپرماتوسیت اولیه (زام‌یاخته اولیه) هستند. این یاخته‌ها هسته‌ای غیرفشرده دارند. توجه کنید که طراح سؤال مراحل تولید زامه را پرسیده در این مرحله طبق متن کتاب درسی زمانی که اسپرماتید تمایز می‌یابد، هسته آن فشرده می‌شود.



علت نادرستی سایر گزینه‌ها:

(۱) یاخته‌های زاهما تقسیم رشته‌مان انجام می‌دهند و به این منظور وارد مرحله S می‌شوند.  
 (۲) زامه از تمایز زام‌یاختک به وجود می‌آید و کروموزوم غیرمضاعف دارد.  
 (۳) همان‌طور که در شکل مشاهده می‌کنید یاخته‌های زاهما دولاد هستند و به یکدیگر متصل هستند.

۱۹۳- پاسخ: گزینه ۱



در متن کتاب درسی اشاره شده است که مهم‌ترین مرحله در ساخت انسولین به روش مهندسی ژنتیک، تبدیل انسولین غیرفعال به انسولین فعال است. طبق مراحل ساخت انسولین در باکتری‌ها در مرحله آخر دو زیرواحد A و B با پیوندهای شیمیایی به یکدیگر متصل می‌شوند. (قسمت ت).

بقیه گزینه‌ها به مراحل دیگری از مراحل ساخت انسولین به روش مهندسی ژنتیک اشاره می‌کنند.

۱۹۴- پاسخ: گزینه ۳

موارد «الف»، «ب» و «د» درست هستند.

پارامسی از آغازبان است و در سطح بدن خود مزک دارد. کریچه گوارشی با اتصال کافنده‌تن به کریچه غذایی به وجود می‌آید داخل کافنده‌تن آنزیم‌های گوارشی وجود دارد. پارامسی دارای کریچه انقباضی هم هست که با دفع آب در تنظیم اسمزی پارامسی نقش دارد. کریچه دفعی که غیرانقباضی است، مواد دفعی را از طریق منفذ دفعی از یاخته خارج می‌کند.

علت نادرستی مورد «ج»: پارامسی حفره گوارش ندارد. کریچه غذایی در انتهای حفره دهانی تشکیل می‌گردد.



۱۹۵- پاسخ: گزینه ۴

در تنظیم منفی رونویسی، لاکتوز به پروتئین مهارکننده متصل می‌شود و باعث رونویسی و حرکت رنابسپاراز می‌شود. در تنظیم مثبت رونویسی، مالتوز با اتصال به پروتئین فعال‌کننده موجب هدایت رنابسپاراز به راه‌انداز می‌شود تا رونویسی از ژن‌ها آغاز شود. بنابراین در هر دو، پروتئینی در شروع حرکت رنابسپاراز مؤثر است و هر دو به قندی به غیر از گلوکز متصل می‌شوند.

علت نادرستی سایر گزینه‌ها:

(۱) در باکتری‌ها (پروکاریوت‌ها) فقط یک نوع رنابسپاراز وجود دارد.

(۲) در تنظیم منفی رونویسی، آنزیم رنابسپاراز به صورت خودبه‌خودی به راه‌انداز متصل می‌گردد اما در تنظیم مثبت پروتئین فعال‌کننده باعث هدایت رنابسپاراز به راه‌انداز می‌شود.

(۳) فعال‌کننده در تنظیم منفی وجود ندارد.

۱۹۶- پاسخ: گزینه ۲

در گیاهان کربن دی‌اکسید از طریق روزنه‌های هوایی می‌تواند وارد گیاه شود. کربن دی‌اکسید با حل شدن در آب به صورت یون بیکربنات درمی‌آید که می‌تواند توسط ریشه جذب شود. (بیشترین گیاهان روی کره زمین نهان‌دانگان هستند).

علت نادرستی سایر گزینه‌ها:

(۱) در نهان‌دانگان گل ساختار اختصاص یافته برای تولیدمثل جنسی است. گیاهان از نظر نیاز نور برای گل‌دهی در سه دسته: روز کوتاه، روز بلند و بی تفاوت قرار می‌گیرند. گیاهان بی تفاوت برای گل دادن به طول روز و شب وابسته نیستند.

(۳) بیشترین جذب کاروتنوئیدها در بخش آبی و سبز نور مرئی است.

(۴) در پاییز با کاهش طول روز و کم شدن نور، ساختار سبزدیسه‌ها در بعضی گیاهان تغییر می‌کند و به رنگ‌دیسه تبدیل می‌شوند. در این هنگام سبزینه در برگ تجزیه می‌شود و مقدار کاروتنوئیدها افزایش می‌یابد.

دقت کنید در صورت سؤال کلمه به‌طور حتم ذکر شده است.

۱۹۷- پاسخ: گزینه ۴

طبق شکل بخش‌های ۱ تا ۴ به ترتیب شامل: سرلاد در جوانه انتهایی، بافت پوششی در حال تشکیل، بافت آوندی در حال تشکیل و سرلاد در جوانه جانبی می‌شود.

سرلاد انتهایی همانند سرلاد جانبی از یاخته‌هایی با هسته‌های درشت تشکیل شده است.

علت نادرستی سایر گزینه‌ها:

(۱) یاخته‌های بافت آوندی در افزایش قطر ساقه نقش دارند.

(۲) پوستک نوعی ترکیب لیبیدی است که بر سطح یاخته‌های روپوستی (در سامانه بافت پوششی) یافت می‌شود.

(۳) یاخته‌های سرلادی به‌طور فشرده قرار می‌گیرند بنابراین فضای بین یاخته‌ای اندکی دارند.

۱۹۸- پاسخ: گزینه ۲

این فرد از نظر گروه خونی iiDD و یا iiDd می‌تواند باشد. اما مشکل انعقاد خون می‌تواند دلایل مختلفی داشته باشد و در این مورد نمی‌توان با قاطعیت اظهار نظر کرد.

موارد «ج» و «د» را می‌توان با قاطعیت گفت.

مورد «ج»: کروموزوم شماره ۱ بلندترین کروموزوم است و دگره D بر روی آن قرار دارد به‌طور قطع این فرد دارای یک دگره D بر روی این کروموزوم است اما در مورد دگره دیگر صحبتی نشده. (فرد می‌تواند خالص (DD) یا ناخالص (Dd) باشد).

مورد «د» غشای تمام یاخته‌های بدن دارای کربوهیدرات است. پس گویچه‌های قرمز هم کربوهیدرات دارند (در گزینه ذکر نشده که کربوهیدرات A و یا B این کربوهیدرات‌ها به غیر از کربوهیدرات‌های مربوط به گروه‌های خونی هستند. گویچه‌های قرمز در مغز استخوان از یاخته‌های بنیادی میلوئیدی به‌وجود می‌آیند. این یاخته‌ها می‌توانند مونوسیت، نوتروفیل، ائوزینوفیل، بازوفیل و گرده یا گویچه قرمز را به‌وجود آورند.

علت نادرستی سایر موارد:

مورد «الف» این فرد بر روی کروموزوم شماره ۹ خود، دگره A برای گروه خونی است که هیچ آنزیمی برای تولید کربوهیدرات A و یا B نمی‌سازد.

مورد «ب» مشکل انعقاد خون می‌تواند دلایل مختلفی داشته باشد. مثلاً کمبود کلسیم، پس به‌طور قطع نمی‌توان گفت که این شخص بیماری هموفیلی دارد. هموفیلی انواع مختلفی دارد که شایع‌ترین نوع آن فقدان عامل انعقادی شماره ۸ است.



۱۹۹- پاسخ: گزینه ۴

فراوان ترین یاخته‌های خونی بدن انسان گویچه‌های قرمز هستند. گروه ویژه‌ای از یاخته‌های کبد و کلیه با ترشح هورمون اریتروپوئیتین (پسک دوربرد یکسان) تعداد این یاخته‌ها را تنظیم می‌کنند. کبد آمونیاک با کربن دی‌اکسید ترکیب کرده و اوره تولید می‌کند که سمیت کمتری نسبت به آمونیاک دارد. کلیه چنین نقشی ندارد.

بررسی سایر موارد:

- کبد موجب دفع بیلی‌روبین و کلسترول و لسیتین، کلیه باعث دفع اوریک‌اسید می‌شود. پس هر دو نوعی مولکول آلی را دفع می‌کنند.
- کبد با ساخت پروتئین (مثل آلبومین) و کلیه با بازجذب سدیم و آب در تنظیم فشار اسمزی خون نقش دارند.
- کبد با ساخت پروتئین (مانند فیبرینوژن) با تنظیم میزان گویچه‌های قرمز و کلیه با انجام بازجذب یون کلسیم در انعقاد خون مؤثر هستند. برای تشکیل صحیح لخته در محل خونریزی باید گویچه‌های قرمز توسط رشته‌های فیبرین به دام بیفتند.

۲۰۰- پاسخ: گزینه ۲

بارگیری چوبی و بارگیری آبکشی هر دو به روش انتقال فعال و با مصرف انرژی زیستی انجام می‌شود. در بارگیری چوبی شیره خام و در بارگیری آبکشی شیره پرورده وارد آوندها می‌شود.

علت نادرستی سایر گزینه‌ها:

- طی بارگیری آبکشی، آب از آوندهای چوبی به آوندهای آبکشی وارد می‌شود اما در بارگیری چوبی چنین چیزی مشاهده نمی‌شود.
  - در بارگیری آبکشی، به یاخته مرده چیزی وارد نمی‌شود.
  - حرکت توده‌ای شیره به سمت محل مصرف فقط در بارگیری آبکشی مشاهده می‌شود.
- (دقت کنید در صورت سؤال ذکر شده در هر نوع بارگیری)

۲۰۱- پاسخ: گزینه ۳

سرخرگ شماره ۱، سرخرگ آکلیلی سمت چپ قلب و سرخرگ شماره ۲، سرخرگ آکلیلی سمت راست قلب را نشان می‌دهد. سرخرگ شماره ۱ باعث هدایت خون به نواحی چپ قلب می‌شود (دریچه دولختی سمت چپ و دریچه سه‌لختی سمت راست قلب قرار دارند).

علت نادرستی سایر گزینه‌ها:

- این رگ‌ها خون را وارد دهلیزها نمی‌کنند.
- این رگ‌ها از آنورت منشعب شده‌اند و خون را به بخش‌های مختلف قلب می‌برند نه اینکه از بخش‌های مختلف قلب خون دریافت کنند.
- صدای اول قلب قوی و گنگ است که در اثر بسته شدن دریچه‌های دهلیزی-بطنی رخ می‌دهد و رگ‌های آکلیلی در ایجاد این صدا نقشی ندارند.

۲۰۲- پاسخ: گزینه ۱

فقط مورد «الف» درست است. برای زن و مرد می‌توان این ژن‌نمودها را در نظر گرفت:

$X^H X^H Hb^A Hb^A$	$X^H X^H Hb^A Hb^A$
$X^H Y$	$X^H X^h Hb^A Hb^A$
$X^H Y$	$X^H X^H Hb^A Hb^S$
	$X^H X^h Hb^A Hb^S$
مرد	زن

هموفیلی بیماری وابسته به جنس و داسی شدن گویچه‌های قرمز بیماری اتوزومی است هر دو بیماری مغلوب هستند.

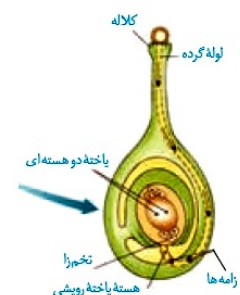
برای زنان ۴ نوع ژن‌نمود و برای مردان ۲ نوع ژن‌نمود می‌توان در نظر گرفت.

دقت کنید در صورت سؤال ذکر شده از ازدواج هر زن و مرد سالمی؛ بنابراین فقط مورد «الف» درباره هر حالتی که در نظر بگیریم می‌تواند رخ دهد.

داشتن دختر بیمار و پسر بیمار فقط در مورد پدر و مادری صدق می‌کند که هر دو ناخالص باشند و در صورتی که پدر و مادر هر دو خالص باشند دختری ناخالص متولد نمی‌شود.

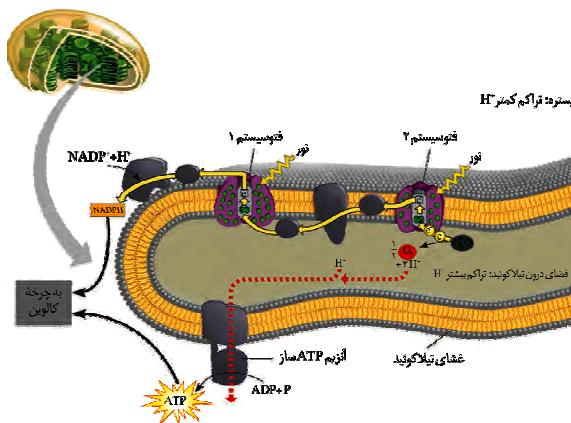
۲۰۳- پاسخ: گزینه ۳

دانه‌گرده رسیده دارای دو یاخته است. یاخته رویشی و یاخته زایشی. یاخته رویشی بزرگ‌تر است که با رشد خود لوله‌گرده تولید می‌کند. هسته یاخته رویشی در جلوی لوله‌گرده حرکت می‌کند و یاخته زایشی با تقسیم میتوز دو تا اسپرم تولید می‌کند. پس در لوله‌گرده سه هسته‌ها پلوئید وجود دارد. به شکل دقت شود.



علت نادرستی سایر گزینه‌ها:

- از تقسیم کاستمان یاخته ۲n در کیسه‌گرده ۴ یاخته (گرده نارس) متصل به هم تولید می‌شود.
- لوله‌گرده از رشد و تمایز یاخته رویشی به وجود می‌آید نه از تقسیم آن.
- یاخته رویشی تقسیم نمی‌شود. از تقسیم میتوز یاخته زایشی دو تا زایه تولید می‌شود.



۲۰۴- پاسخ: گزینه ۴

همان‌طور که در شکل مشاهده می‌کنید در زنجیره دوم که بین فتوسیستم ۲ و  $\text{NADP}^+$  قرار دارد، الکترون به دو تا پروتئین چسبیده به سطح خارجی غشاء تیلاکوئید منتقل می‌شود و سپس به  $\text{NADP}^+$  رسیده و باعث ساخته شدن  $\text{NADPH}$  می‌شود. علت نادرستی سایر گزینه‌ها:

(۱) تیلاکوئید فقط یک غشاء دارد که دو لایه است.

(۲) آخرین جزء زنجیره انتقال الکترون اول در سطح داخلی غشاء تیلاکوئید قرار دارد اما الکترون را به فتوسیستم ۱ منتقل می‌کند.

(۳) تجزیه نوری آب در فتوسیستم ۲ رخ می‌دهد که مجاور با هر دو لایه فسفولیپیدی است اما زنجیره انتقال الکترون شماره ۱ یک بین فتوسیستم ۲ و فتوسیستم ۱ قرار دارد. پس فتوسیستم ۲ جزء زنجیره انتقال الکترون نیست.

۲۰۵- پاسخ: گزینه ۲

موارد «الف» و «ج» درست هستند.

آنزیم دنابسپاراز با انجام ویرایش در حین همانندسازی از بروز خطا و جهش جلوگیری می‌کند. این آنزیم نوکلئوتیدها را به صورت تک‌فسفات به رشته پلی‌نوکلئوتید با پیوند فسفودی‌استر متصل می‌کند.

آنزیم‌ها انرژی فعال‌سازی واکنش‌های شیمیایی را کاهش می‌دهند. آنزیم دنابسپاراز با استفاده از رابطه مکملی نوکلئوتیدهای مکمل را هنگام همانندسازی روبه‌روی هم قرار می‌دهد.

علت نادرستی سایر موارد:

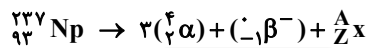
مورد «ب»: قبل از همانندسازی دنا باید پیچ‌وتاب دنا باز و پروتئین‌های همراه آن یعنی هیستون‌ها از آن جدا شوند تا همانندسازی بتواند انجام شود. این کارها با کمک آنزیم‌هایی انجام می‌شود.

سپس آنزیم هلیکاز مارپیچ دنا و دو رشته آن را از هم باز می‌کند.

مورد «د»: پیوند هیدروژنی بین دو رشته مکمل خودبه‌خود به وجود می‌آید و آنزیمی برای برقراری پیوند هیدروژنی وجود ندارد.

## فیزیک

۲۰۶- پاسخ: گزینه ۴



$$237 = 4 + A \Rightarrow A = 237 - 4 = 233$$

$$93 = 2 + Z \Rightarrow Z = 93 - 2 = 91$$

$$N = A - Z = 233 - 91 = 142$$

۲۰۷- پاسخ: گزینه ۳

تندی متوسط در یک بازه زمانی برابر با نسبت مسافت طی شده به بازه زمانی مورد نظر است:

$$s_{av} = \frac{\ell}{\Delta t}$$

با توجه به اینکه مکان متحرک در لحظات  $t = 0\text{s}$ ،  $t = 2\text{s}$ ،  $t = 6\text{s}$  و  $t = 10\text{s}$  داده نشده است، بهتر است ابتدا برای این لحظات، مکان‌هایی با رعایت تناسب روی نمودار فرض کنیم. مثلاً فرض می‌کنیم:  $x_0 = 6\text{m}$ ،  $x_2 = 4\text{m}$ ،  $x_6 = 20\text{m}$  و  $x_{10} = 10\text{m}$ . حالا تندی متوسط در بازه‌های زمانی مشخص شده در گزینه‌ها را حساب می‌کنیم:

$$\text{گزینه ۱: } s_{av(0-2\text{s})} = \frac{6-4}{2-0} = \frac{2}{2} = 1 \frac{\text{m}}{\text{s}}$$

$$\text{گزینه ۲: } s_{av(0-6\text{s})} = \frac{(6-4) + (20-4)}{6-0} = \frac{18}{6} = 3 \frac{\text{m}}{\text{s}}$$

$$\text{گزینه ۳: } s_{av(2\text{s}-10\text{s})} = \frac{(20-4) + (10-20)}{10-2} = \frac{26}{8} = 3 \frac{2}{8} \frac{\text{m}}{\text{s}}$$

$$\text{گزینه ۴: } s_{av(6\text{s}-10\text{s})} = \frac{20-10}{10-6} = \frac{10}{4} = 2 \frac{5}{4} \frac{\text{m}}{\text{s}}$$

همان‌طور که می‌بینید تندی متوسط در گزینه ۳ از بقیه بیشتر است. توجه کنید که هر عدد دلخواه اما با رعایت تناسب اندازه‌ها روی نمودار فرض کنید، جواب گزینه ۳ به دست خواهد آمد.

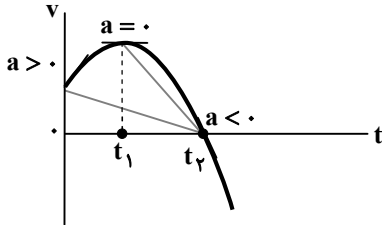


۲۰۸- پاسخ: گزینه ۴

با توجه به نمودار سرعت- زمان داده شده، تندی متحرک در بازه زمانی صفر تا  $t_1$  رو به افزایش است (نادرستی گزینه ۱). از طرفی می‌دانیم که شتاب متوسط متحرک برابر با شیب خط واصل بین دو نقطه از نمودار  $v-t$  است و شتاب متحرک در هر لحظه برابر با شیب خط مماس بر نمودار  $v-t$  در آن لحظه است. همان‌طور که در نمودار مقابل می‌بینید، اندازه شیب خط مماس بر نمودار در لحظه  $t_2$  بیشتر از اندازه شیب خط مماس بر نمودار در لحظه صفر است (نادرستی گزینه ۲).

شیب خط مماس بر نمودار (شتاب متحرک) از صفر تا  $t_1$  مثبت است، در لحظه  $t_1$  برابر با صفر شده و سپس از  $t_1$  به بعد منفی می‌شود؛ یعنی شتاب متحرک در بازه صفر تا  $t_1$  در جهت محور  $x$  و در بازه  $t_1$  تا  $t_2$  در خلاف جهت محور  $x$  است (نادرستی گزینه ۳).

با توجه به اینکه اندازه شیب خط واصل بین دو نقطه  $t_1$  و  $t_2$  بیشتر از اندازه شیب خط بین دو لحظه صفر تا  $t_2$  است، بزرگی شتاب متوسط متحرک در بازه  $(t_1, t_2)$  بیشتر از بزرگی شتاب متوسط آن در بازه  $(0, t_2)$  است. (گزینه ۴ درست است.)



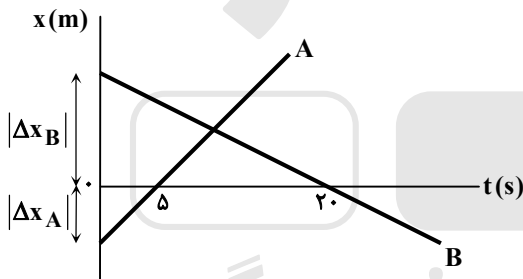
۲۰۹- پاسخ: گزینه ۲

$$a_{av} = \frac{\Delta v}{\Delta t} \Rightarrow \begin{cases} -4 = \frac{v(10) - v(5)}{10 - 5} \Rightarrow v(10) - v(5) = -20 \frac{m}{s} \\ 2 = \frac{v(12) - v(10)}{12 - 10} \Rightarrow v(12) - v(10) = 4 \frac{m}{s} \end{cases}$$

$$a_{av(\Delta s - 12s)} = \frac{v(12) - v(5)}{12 - 5} = \frac{4 + v(10) - (v(10) + 20)}{7} = -\frac{16}{7} \Rightarrow \vec{a}_{av(\Delta s - 12s)} = \left(-\frac{16}{7} \frac{m}{s^2}\right) \vec{i}$$

۲۱۰- پاسخ: گزینه ۲

فاصله دو متحرک در لحظه  $t = 0s$  برابر با  $150m$  است، یعنی داریم:



$$|\Delta x_A| + |\Delta x_B| = 150 \Rightarrow 5v_A + 20|v_B| = 150$$

$$\frac{v_A = 2|v_B|}{v_A = 2|v_B|} \rightarrow 15v_A = 150 \Rightarrow v_A = 10 \frac{m}{s}$$

حالا معادله مکان- زمان متحرک A را به دست می‌آوریم:

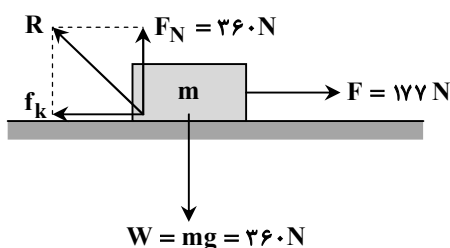
$$x_A = v_A t + x_{0A}$$

$$\Rightarrow x_A = 10t + x_{0A} \xrightarrow[t_A=0]{t=5s} 0 = 10 \times 5 + x_{0A} \Rightarrow x_{0A} = -50m$$

$$x_A(20) = 10 \times 20 - 50 = 150m$$

در لحظه  $t = 20s$ ، مکان دو متحرک به صورت  $x_B(20) = 0$  و  $x_A(20) = 150m$  است؛ بنابراین فاصله آن‌ها در این لحظه  $150m$  است.

۲۱۱- پاسخ: گزینه ۲



$$v = at + v_0 \Rightarrow 3 = fa \Rightarrow a = \frac{3}{4} \frac{m}{s^2}$$

$$(F_{net})_y = 0 \Rightarrow F_N = mg = 36 \times 10 = 360N$$

$$(F_{net})_x = ma \Rightarrow F - f_k = ma \Rightarrow 177 - f_k = 36 \times \frac{3}{4} \Rightarrow f_k = 150N$$

$$R = \sqrt{(f_k)^2 + (F_N)^2} = \sqrt{(150)^2 + (360)^2}$$

$$= 30 \sqrt{5^2 + 12^2} = 30 \times 13 = 390N$$

۲۱۲- پاسخ: گزینه ۱

در حالت اول داریم:

$$F_{\text{net}} = 0 \Rightarrow kx = mg \xrightarrow{x=65-50=15 \text{ cm}} 200 \times 0.15 = 10 \text{ N} \Rightarrow m = 3 \text{ kg}$$

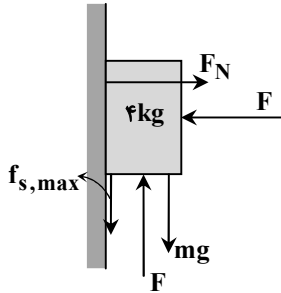
در حالت دوم، بزرگی نیروی فنر از بزرگی نیروی وزن کمتر است؛ بنابراین جهت شتاب رو به پایین خواهد بود:

$$\text{در حالت دوم: } F_e = kx = 200 \times 0.1 = 20 \text{ N}$$

$$F_{\text{net}} = ma \Rightarrow mg - F_e = ma \Rightarrow 3 \times 10 - 20 = 3a \Rightarrow a = \frac{10}{3} \frac{\text{m}}{\text{s}^2} \Rightarrow \vec{a} = \left(-\frac{10}{3} \frac{\text{m}}{\text{s}^2}\right) \vec{j}$$

۲۱۳- پاسخ: گزینه ۲

نیروهای وارد بر جسم در حالت اول به صورت مقابل است:



$$(F_{\text{net}})_{\text{افقی}} = 0 \Rightarrow F_N = F$$

$$f_{s,\text{max}} = \mu_s F_N = \frac{1}{2} F$$

$$(F_{\text{net}})_{\text{در راستای قائم}} = 0 \Rightarrow f_{s,\text{max}} + mg = F \Rightarrow \frac{1}{2} F + (4 \times 10) = F \Rightarrow \frac{1}{2} F = 40 \Rightarrow F = 80 \text{ N}$$

$$R = \sqrt{(F_N)^2 + (f_{s,\text{max}})^2} = \sqrt{(80)^2 + \left(\frac{1}{2} \times 80\right)^2} = 40\sqrt{5} \text{ N}$$

در حالت دوم، نیروی محرک F به اندازه ۲۰ N کاهش یافته است؛ بنابراین داریم:

$$(F_{\text{net}})_{\text{افقی}} = 0 \Rightarrow F'_N = F' = 80 - 20 = 60 \text{ N}$$

$$f'_{s,\text{max}} = \mu_s F'_N = \frac{1}{2} \times 60 = 30 \text{ N}$$

چون اندازه برایند دو نیروی  $\vec{F}'$  و  $m\vec{g}$  کمتر از نیروی اصطکاک ایستایی بیشینه است، می توان نتیجه گرفت که نیروی اصطکاک از نوع ایستایی (نه بیشینه) است و جسم همچنان ساکن می ماند:

$$f_s = F' - mg = 60 - 40 = 20 \text{ N}$$

$$R' = \sqrt{(f_s)^2 + (F'_N)^2} = \sqrt{(20)^2 + (60)^2} = 20\sqrt{10} \text{ N}$$

با توجه به اندازه های به دست آمده برای R و R' داریم:

$$\frac{R'}{R} = \frac{20\sqrt{10}}{40\sqrt{5}} = \frac{\sqrt{2}}{2}$$

۲۱۴- پاسخ: گزینه ۳

حداقل زمان رسیدن از  $+x_1$  به  $-x_1$  برابر با نصف دوره  $\left(\frac{T}{2}\right)$  است:

$$\frac{T}{2} = 2 \Rightarrow T = 4 \text{ s}$$

$$\omega = \frac{2\pi}{T} = \frac{2\pi}{4} = \frac{\pi}{2} \text{ rad/s}$$

$$E = \frac{1}{2} m \omega^2 A^2 = \frac{1}{2} \times \frac{2}{10} \times \frac{\pi^2}{4} \times \frac{16}{10000} = 4 \times 10^{-4} \text{ J} = 0.4 \text{ mJ}$$

۲۱۵- پاسخ: گزینه ۱

طول موج به دست آمده، مربوط به ناحیه فرابنفش است. (نادرستی گزینه ۴)

$$\frac{3\lambda}{2} = 450 \Rightarrow \lambda = 300 \text{ nm}$$

$$T = \frac{\lambda}{c} = \frac{300 \times 10^{-9}}{3 \times 10^8} = 10^{-15} \text{ s} \quad (\text{درستی گزینه ۱})$$

$$f = \frac{1}{T} = 10^{15} \text{ Hz} \quad (\text{نادرستی گزینه ۲})$$

$$\Delta x = c \Delta t = 3 \times 10^8 \times 1 = 3 \times 10^8 \text{ m} \quad (\text{نادرستی گزینه ۳})$$

۲۱۶- پاسخ: گزینه ۲

$$\frac{\Delta\lambda}{\lambda} = \frac{1}{4} \Rightarrow \lambda = 4 \text{ cm} = 0.04 \text{ m}$$

$$\lambda = vT \Rightarrow 0.04 = 4T \Rightarrow T = 0.01 \text{ s}$$

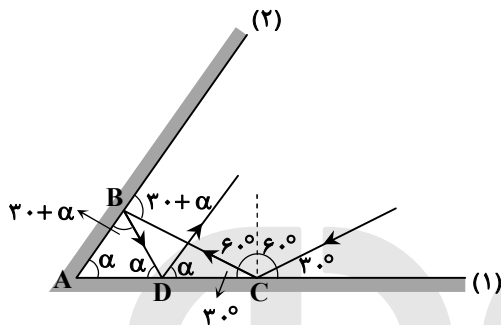
$$\text{تعداد نوسانها: } n = \frac{\Delta t}{T} = \frac{0.25}{0.01} = 25$$

$$\ell = 25 \times 4 = 100 \text{ cm}$$

$$s_{av} = \frac{\ell}{\Delta t} \Rightarrow v = \frac{100}{0.25} \Rightarrow v = 400 \text{ m/s}$$

۲۱۷- پاسخ: گزینه ۳

ابتدا ادامه مسیر پرتو را رسم می‌کنیم و زاویه‌های تابش و بازتابش را روی شکل مشخص می‌کنیم. توجه کنید که در مثلث ABC، زاویه خارجی  $30^\circ + \alpha$  برابر با مجموع زوایای داخلی دو رأس غیرمجاور آن است. با توجه به این نکته که مجموع زوایای داخلی هر مثلث مثل ABD برابر  $180^\circ$  است، داریم:



$$\alpha + (30^\circ + \alpha) + \alpha = 180^\circ \Rightarrow 3\alpha = 120^\circ \Rightarrow \alpha = 40^\circ$$

۲۱۸- پاسخ: گزینه ۲

کم انرژی ترین فوتونی که می‌تواند گسیل شود، مربوط به گذار به یک تراز پایین تر ( $n_L = 4$ ) است:

$$E_n = \frac{-E_R}{n^2}$$

$$E_U - E_L = hf \Rightarrow \frac{-E_R}{n_U^2} - \left( \frac{-E_R}{n_L^2} \right) = hf \Rightarrow f = \frac{E_R \left( \frac{1}{n_L^2} - \frac{1}{n_U^2} \right)}{h} = \frac{13/6}{4 \times 10^{-15}} \times \left( \frac{1}{4^2} - \frac{1}{5^2} \right) = \frac{13/6}{4 \times 10^{-15}} \times \frac{9}{16 \times 25} = 76/5 \text{ THz}$$

۲۱۹- پاسخ: گزینه ۲

$$\lambda = \frac{c}{f} = \frac{3 \times 10^8}{\frac{76}{5} \times 10^{12}} = \frac{9}{76} \times 10^{-4} \text{ m} = \frac{900}{76} \text{ nm}$$

$$\frac{1}{\lambda} = R \left( \frac{1}{n^2} - \frac{1}{n'^2} \right) \Rightarrow \frac{76}{900} = \frac{1}{100} \left( 1 - \frac{1}{n^2} \right) \Rightarrow \frac{1}{n^2} = \frac{1}{9} \Rightarrow n = 3$$

۲۲۰- پاسخ: گزینه ۱

جهت خطوط میدان الکتریکی ناشی از کره با بار منفی، به سمت کره است و ما می‌دانیم هرچه قدر در جهت خطوط میدان حرکت کنیم، پتانسیل الکتریکی نقاط کاهش می‌یابد. بنابراین پتانسیل الکتریکی در نقطه B بیشتر از پتانسیل الکتریکی در نقطه A است ( $V_B - V_A > 0$ )

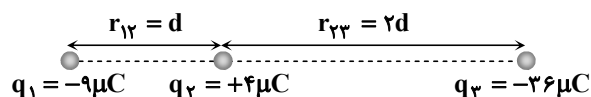
$$\Delta U_{AB} = \frac{\Delta V_{AB}}{q} = \frac{V_B - V_A}{q} \xrightarrow{\text{مخرج کسر مثبت است. صورت کسر منفی است.}} \Delta U_{AB} < 0$$

۲۲۱- پاسخ: گزینه ۴

در حالت اول داریم:

$$F = \frac{k|q||q'|}{r^2}$$

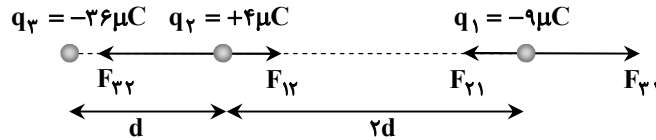
$$F_{12} = F_{22} \Rightarrow \frac{k|q_1||q_2|}{r_{12}^2} = \frac{k|q_2||q_2|}{r_{22}^2} \Rightarrow \frac{|q_2|}{|q_1|} = \left( \frac{r_{22}}{r_{12}} \right)^2 \Rightarrow \frac{36}{9} = \left( \frac{r_{22}}{r_{12}} \right)^2 \Rightarrow \frac{r_{22}}{r_{12}} = 2$$



حالا اگر جای بارهای  $q_1$  و  $q_3$  را عوض کنیم، داریم:

$$F_2 = F_{23} - F_{21} = \frac{k|q_3||q_2|}{d^2} - \frac{k|q_1||q_2|}{(2d)^2} = \frac{k}{d^2} \left( \frac{36 \times 4}{1} - \frac{9 \times 4}{4} \right) = 135 \frac{k}{d^2}$$

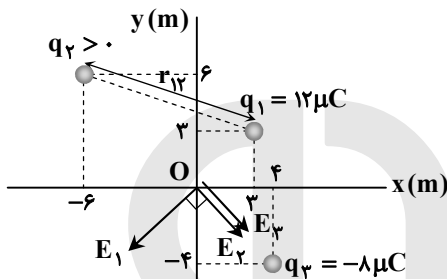
$$F_1 = F_{31} - F_{21} = \frac{k|q_3||q_1|}{(3d)^2} - \frac{k|q_2||q_1|}{(2d)^2} = \frac{k}{d^2} \left( \frac{36 \times 9}{9} - \frac{4 \times 9}{4} \right) = 27 \frac{k}{d^2}$$



$$\frac{F_2}{F_1} = \frac{135 \frac{k}{d^2}}{27 \frac{k}{d^2}} = 5$$

۲۲۲- پاسخ: گزینه ۱

با توجه به اینکه خطوط میدان الکتریکی از بار مثبت خارج و به منفی وارد می‌شوند، بردار میدان الکتریکی ناشی از بارها را در مبدأ مختصات رسم می‌کنیم:



$$E = \frac{k|q|}{r^2} \Rightarrow E_1 = \frac{kq_1}{r_1^2} = \frac{9 \times 10^9 \times 12 \times 10^{-6}}{3^2 + 3^2} = 6 \times 10^3 \frac{N}{C}$$

$$E_T = \sqrt{E_1^2 + (E_2 + E_3)^2} \Rightarrow (7/5 \times 10^3)^2 = (6 \times 10^3)^2 + (E_2 + E_3)^2 \Rightarrow E_2 + E_3 = 4/5 \times 10^3 \frac{N}{C}$$

$$\frac{k|q_2|}{r_2^2} + \frac{k|q_3|}{r_3^2} = 4/5 \times 10^3 \Rightarrow \frac{9 \times 10^9 \times q_2 \times 10^{-6}}{6^2 + 6^2} + \frac{9 \times 10^9 \times 8 \times 10^{-6}}{4^2 + 4^2} = 4/5 \times 10^3 \Rightarrow \frac{9q_2}{2(36)} + \frac{72}{2(16)} = 4/5$$

$$\Rightarrow \frac{q_2}{36} + \frac{1}{2} = 1 \Rightarrow \frac{q_2}{36} = \frac{1}{2} \Rightarrow q_2 = 18 \mu C$$

$$F_{12} = \frac{k|q_1||q_2|}{r_{12}^2} = \frac{9 \times 10^9 \times 12 \times 10^{-6} \times 18 \times 10^{-6}}{9^2 + 3^2} = 2/16 \times 10^{-2} N$$

۲۲۳- پاسخ: گزینه ۱

$$\begin{cases} C_1 = \frac{\kappa \epsilon_0 A}{d_1} = 1/6 \times 8 / 85 \times 10^{-13} \\ C_2 = \frac{\kappa \epsilon_0 A}{d_2} = 4 \times 8 / 85 \times 10^{-13} \end{cases} \Rightarrow C_2 - C_1 = (4 - 1/6) \times 8 / 85 \times 10^{-13} = 2/4 \times 8 / 85 \times 10^{-13}$$

$$= 2/124 \times 10^{-12} F = 2/124 pF$$

۲۲۴- پاسخ: گزینه ۴

در پدیده آبرسانی، با کاهش دما، در دمای خاصی ناگهان مقاومت ویژه جسم به صفر افت می‌کند و در دماهای پایین‌تر از آن نیز همچنان صفر باقی می‌ماند.

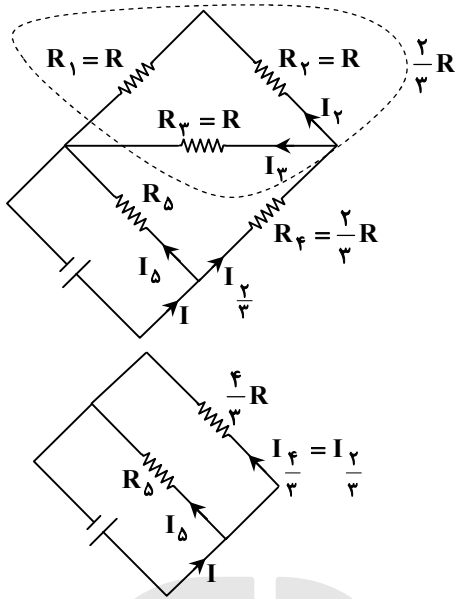
۲۲۵- پاسخ: گزینه ۴

$$P_{\text{خروجی}} = \mathcal{E}I - rI^2 \Rightarrow 3\mathcal{E} - 9r = 5\mathcal{E} - 25r \Rightarrow 2\mathcal{E} = 16r \Rightarrow \mathcal{E} = 8r$$

$$V(\gamma) = 0 \Rightarrow \mathcal{E} - rI = 0 \Rightarrow I = \frac{\mathcal{E}}{r} = 8 A$$

۲۲۶- پاسخ: گزینه ۳

دو مقاومت  $R_1 = R$  و  $R_2 = R$  متوالی اند و معادل آن‌ها با مقاومت  $R_3 = R$  موازی است:



$$R_{1,2,3} = \frac{(R+R)R}{(R+R)+R} = \frac{2R^2}{3R} = \frac{2}{3}R$$

$$2RI_2 = RI_3 \Rightarrow I_3 = 2I_2 \quad \text{رابطه (۱)}$$

$$R_{1,2,3,4} = R_{1,2,3} + R_4 = \frac{2}{3}R + \frac{2}{3}R = \frac{4}{3}R$$

$$I_2 = I_4 + I_3 \xrightarrow{\text{رابطه (۱)}} I_2 = \frac{1}{2}I_4 + I_3 = \frac{3}{2}I_3 \quad \text{رابطه (۲)}$$

$$R_5 I_5 = \left(\frac{4}{3}R\right) I_2$$

$$\xrightarrow{\text{رابطه (۲)}} R_5 I_5 = \frac{4}{3}R \times \frac{3}{2}I_3$$

$$\Rightarrow R_5 I_5 = 2RI_3 \Rightarrow \frac{I_5}{I_3} = \frac{2R}{R_5} \quad \text{رابطه (۳)}$$

$$P_2 = \frac{1}{3}P_5 \Rightarrow RI_2^2 = \frac{1}{3}R_5 I_5^2 \Rightarrow \frac{2R}{R_5} = \left(\frac{I_5}{I_2}\right)^2$$

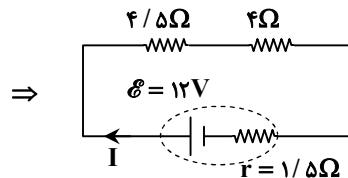
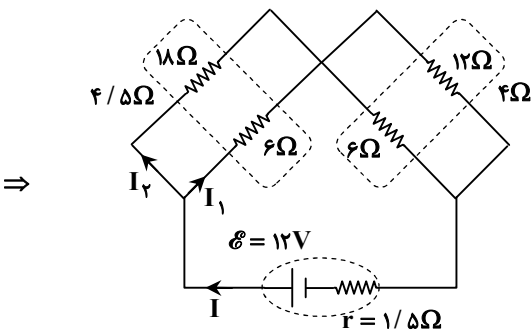
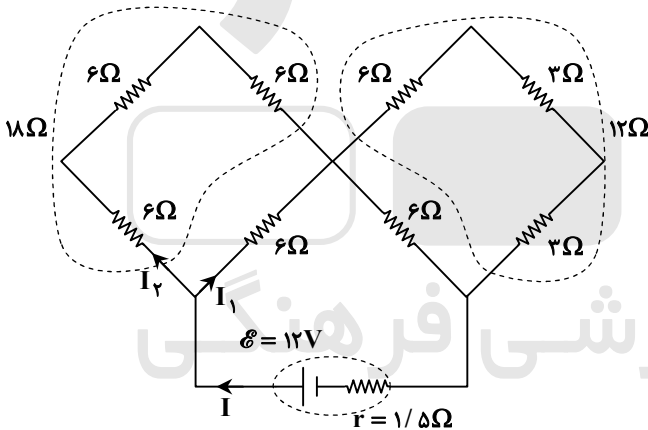
$$\xrightarrow{\text{رابطه (۳)}} \frac{2R}{R_5} = \left(\frac{2R}{R_5}\right)^2 = \frac{4R^2}{R_5^2} \Rightarrow R_5 = \frac{4}{3}R$$

$$R_{eq} = \frac{R_5 \times \frac{4}{3}R}{R_5 + \frac{4}{3}R} = \frac{\frac{4}{3}R \times \frac{4}{3}R}{2\left(\frac{4}{3}R\right)} = \frac{\frac{16}{9}R^2}{\frac{8}{3}R} \Rightarrow R_{eq} = \frac{2}{3}R$$

حالا مقاومت معادل مدار را به دست می آوریم:

۲۲۷- پاسخ: گزینه ۳

شکل مدار را به صورت زیر ساده می کنیم و مقاومت معادل مدار را حساب می کنیم:



$$R_{eq} = 4 + 4/5 = 8/5 \Omega$$

$$I = \frac{\mathcal{E}}{R_{eq} + r} = \frac{12}{8/5 + 1/5} = \frac{12}{10} = 1/2 A$$

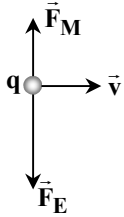
جریان کل  $1/2 A$  در شکل اصلی مدار، در شاخه سمت چپ به دو قسمت  $I_1$  و  $I_2$  تقسیم می شود؛ به طوری که داریم:

$$18 \times I_2 = 6 \times I_1 \Rightarrow 3I_2 = I_1$$

$$I_1 + I_2 = 1/2 \Rightarrow I_1 + \frac{1}{3}I_1 = \frac{4}{3}I_1 = 1/2 \Rightarrow I_1 = \frac{3 \times 1/2}{4} = 0/9 A$$

۲۲۸- پاسخ: گزینه ۳

با توجه به قاعده دست راست، نیروی مغناطیسی وارد بر ذره رو به بالا است و نیروی الکتریکی وارد بر ذره، هم جهت با میدان الکتریکی، یعنی رو به پایین است؛ بنابراین نیروی خالص وارد بر ذره به صورت زیر می شود:



$$F_M = qvB \sin \theta = 2 \times 10^{-6} \times 2 \times 10^4 \times 0.2 \times 1 = 8 \times 10^{-4} \text{ N}$$

$$F_E = qE = 2 \times 10^{-6} \times 500 = 10 \times 10^{-4} \text{ N}$$

$$F_{\text{net}} = F_E - F_M = 10 \times 10^{-4} - 8 \times 10^{-4} = 2 \times 10^{-4} \text{ N}$$

۲۲۹- پاسخ: گزینه ۲

با خروج قاب از فضای میدان مغناطیسی، شار مغناطیسی عبوری از قاب کاهش می یابد و طبق قانون لنز، جریان القایی طوری در قاب ایجاد می شود که با عامل کاهش شار مخالفت کند، یعنی میدان مغناطیسی ناشی از آن هم جهت با میدان مغناطیسی موجود در فضا باشد (میدان درون سو)؛ بنابراین طبق قاعده دست راست، جریان القایی در قاب باید ساعتگرد باشد.

$$|\mathcal{E}| = \left| -N \frac{\Delta \Phi}{\Delta t} \right| = \left| -1 \times \frac{-(0.2)}{1 \times 10^{-3}} \right| = 20 \text{ V}$$

۲۳۰- پاسخ: گزینه ۴

می توان پایستگی انرژی را برای سقوط وزنه از ارتفاع  $h$  نوشت:

$$E_1 = E_2 \Rightarrow \underbrace{\frac{1}{2} m v_1^2}_{\text{صفر}} + mgh_1 = \frac{1}{2} m v_2^2 + \underbrace{mgh_2}_{\text{صفر}} \Rightarrow gh_1 = \frac{1}{2} v_2^2 \Rightarrow 10 h_1 = \frac{1}{2} (8)^2 \Rightarrow h_1 = 3/2 \text{ m}$$

انرژی مفیدی که ماشین بالا بر صرف می کند تا وزنه ای به جرم  $50 \text{ kg}$  را تا ارتفاع  $3/2 \text{ m}$  بالا ببرد، برابر است با:

$$W_{\text{مفید}} = +mgh = 50 \times 10 \times 3/2 = 1600 \text{ J}$$

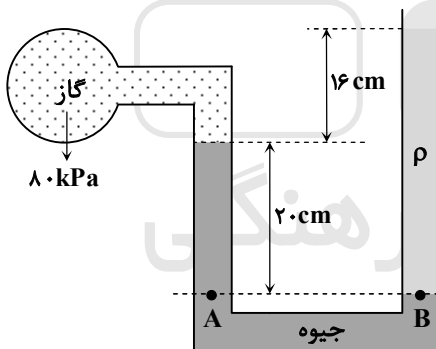
$$Ra = \frac{W_{\text{مفید}}}{W_{\text{کل}}} \times 100 = \frac{1600}{2000} \times 100 = 80\%$$

۲۳۱- پاسخ: گزینه ۳

$$(53 \text{ cm فشار در عمق}) = \frac{3}{4} (10 \text{ cm فشار در عمق}) \Rightarrow P_0 + \rho g \times (0.53) = \frac{3}{4} (P_0 + \rho g \times (0.1)) \Rightarrow \frac{1}{4} P_0 = \rho g \times (0.28)$$

$$\Rightarrow 5/13 \times 10^4 = \rho \times 3/8 \Rightarrow \rho = 13500 \frac{\text{kg}}{\text{m}^3} = 13/5 \frac{\text{g}}{\text{cm}^3}$$

۲۳۲- پاسخ: گزینه ۳



$$P_A = P_B \Rightarrow \rho_1 g h_1 + P_{\text{گاز}} = \rho_2 g h_2 + P_0$$

$$\Rightarrow 13600 \times 10 \times 0.2 + 8 \times 10^4 = \rho \times 10 \times (0.2 + 0.16) + 10^5$$

$$\Rightarrow 7/2 \times 10^3 = 3/6 \rho \Rightarrow \rho = 2000 \frac{\text{kg}}{\text{m}^3}$$

۲۳۳- پاسخ: گزینه ۱

■ کمینه درجه بندی وسایل اندازه گیری مدرج برابر با دقت اندازه گیری آن ها و خطای اندازه گیری در این وسایل برابر با

(دقت اندازه گیری)  $\pm \frac{1}{4}$  است. خطای اندازه گیری داده شده برابر با  $0.5 \text{ mm}$  است؛ بنابراین دقت اندازه گیری خط کش (کمینه درجه بندی

خط کش) یک میلی متر است.

■ عدد  $68/6 \text{ mm}$  دارای سه رقم بامعنا است که رقم ۶ در سمت راست عدد، رقم حدسی و غیرقطعی است.

۲۳۴- پاسخ: گزینه ۲

$$Q_F = mL_F = 336 \text{ m kJ}$$

$$Q_{\text{کل}} = mL_F + mc\Delta\theta = (m \times 336) + (m \times 4/2 \times 20) = 420 \text{ m kJ}$$

$$\frac{Q_F}{Q_{\text{کل}}} \times 100 = \frac{336 \text{ m}}{420 \text{ m}} \times 100 = 0.8 \times 100 = 80\%$$

۲۳۵- پاسخ: گزینه ۴

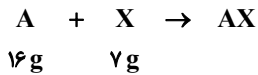
$$m_A = m_B \xrightarrow{m=\rho V} \rho_A A_A L_A = \rho_B A_B L_B \Rightarrow \frac{A_A}{A_B} = \frac{L_B}{L_A} = \frac{4}{3}$$

با استفاده از رابطه آهنگ رسانش گرمایی داریم:

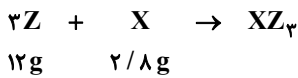
$$H = \frac{kA\Delta\theta}{L} \Rightarrow \frac{H_A}{H_B} = \frac{k_A}{k_B} \times \frac{A_A}{A_B} \times \frac{\Delta\theta_A}{\Delta\theta_B} \times \frac{L_B}{L_A} = 1 \times \frac{4}{3} \times 1 \times \frac{4}{3} = \frac{16}{9}$$

شیمی

۲۳۶- پاسخ: گزینه ۲



$$\frac{16}{1 \times 128} = \frac{7}{1 \times x} \Rightarrow (X \text{ جرم مولی}) x = \frac{128 \times 7}{16} = 56 \text{ g} \cdot \text{mol}^{-1}$$



$$\frac{12}{3 \times z} = \frac{2/8}{56} \Rightarrow (Z \text{ جرم مولی}) z = \frac{56 \times 2}{3 \times 2/8} = 8 \text{ g} \cdot \text{mol}^{-1}$$

$$\frac{X \text{ جرم مولی}}{Z \text{ جرم مولی}} = \frac{56}{8} = 7$$

$$XZ_3 \text{ جرم مولی} = 56 + 3(8) = 296 \text{ g} \cdot \text{mol}^{-1}$$

۲۳۷- پاسخ: گزینه ۳

عبارت‌های «ب» و «پ» درست هستند.

(ب)

$$\begin{cases} N - Z = 7 \\ N + Z = 65 \end{cases} \Rightarrow \begin{cases} N = 36 \\ Z = 29 \end{cases} \Rightarrow M: {}_{29}\text{Cu}: [{}_{18}\text{Ar}] 3d^{10} 4s^1$$

(پ) در اتم  $\text{Cu}$ ، ۲۹، ۱۲ الکترون با  $l=1$  ( $3p^6, 2p^6$ ) و ۱۰ الکترون با  $l=2$  ( $3d^{10}$ ) وجود دارد:

$$\frac{12}{10} = 1/2$$

بررسی عبارت‌های نادرست:

(الف) اتم  $\text{Cu}$  ۲۹ دارای ۷ الکترون با  $l=0$  (زیرلایه‌های s) است.(ت) در آخرین لایه اشغال شده اتم  $\text{Cu}$  ( $4s^1$ ) ۱ الکترون و در آخرین لایه اشغال شده اتم  $X$  ( $4s^2$ ) ۲ الکترون وجود دارد.

۲۳۸- پاسخ: گزینه ۴

همه نام‌های داده شده در ردیف‌های «۲» و «۴» درست است.

بررسی موارد نادرست:

ردیف ۱:  $\text{CuO}$ : مس (II) اکسیدردیف ۳:  $\text{CrF}_4$ : کروم (II) فلئورید

۲۳۹- پاسخ: گزینه ۱

با توجه به فرض سؤال،  $\frac{5}{7}$  جرم  $X_2O_3$  را عنصر X تشکیل می‌دهد:

$$\frac{X \text{ جرم}}{X_2O_3 \text{ جرم}} = \frac{5}{7} \Rightarrow \frac{2x}{2x + 3(16)} = \frac{5}{7} \Rightarrow 14x = 10x + 240 \Rightarrow x = 60 (X \text{ اتمی})$$

$$\begin{cases} N + Z = 60 \\ N - Z = 6 \end{cases} \Rightarrow \begin{cases} N = 23 \\ Z = 27 \end{cases} \Rightarrow \text{دوره چهارم}$$

۲۴۰- پاسخ: گزینه ۱

در لایه اول همه عناصرها (به جز عنصرهای دوره اول)، ۲ الکترون وجود دارد. با توجه به اینکه عنصرها در دوره چهارم جدول قرار دارند، خواهیم داشت:

M	E	D	A
$\frac{e \text{ ظرفیتی}}{2} = 1/5$	$\frac{e \text{ ظرفیتی}}{2} = 2$	$\frac{e \text{ ظرفیتی}}{2} = 3/5$	$\frac{e \text{ ظرفیتی}}{2} = 3$
↓	↓	↓	↓
$e \text{ ظرفیتی} = 3$	$e \text{ ظرفیتی} = 4$	$e \text{ ظرفیتی} = 7$	$e \text{ ظرفیتی} = 6$
↓ عنصر اصلی	↓ عنصر واسطه	↓ عنصر اصلی	↓ عنصر واسطه
گروه ۱۳	گروه ۴	گروه ۱۷	گروه ۶
↓	↓	↓	↓
عدد اتمی = ۳۱	عدد اتمی = ۲۲	عدد اتمی = ۳۵	عدد اتمی = ۲۴
$[_{18}Ar] 3d^1 4s^2 4p^1$	$[_{18}Ar] 3d^2 4s^2$	$[_{18}Ar] 3d^1 4s^2 4p^5$	$[_{18}Ar] 3d^5 4s^1$

عدد جرمی A برابر با  $24 + 28 = 52$  است. بین دو عنصر E و M، ۳۱، ۸ فلز واسطه وجود دارد. بررسی گزینه‌های نادرست:

(۲) تفاوت شمار نوترون‌ها و پروتون‌ها در اتم D برابر با ۱۰ است:

$$45 - 35 = 10$$

(۳) عنصر D ( $Br$ ) در دمای اتاق با هیدروژن واکنش نمی‌دهد (در دمای  $200^\circ C$  واکنش می‌دهد).  
(۴) شمار الکترون‌ها در زیرلایه ۳d اتم‌های D و E برابر نیست.

۲۴۱- پاسخ: گزینه ۱

عبارت‌های «الف» و «ب» درست هستند.  
پ) سومین عضو هالوژن‌ها،  $Br$  است:

$$33 = 2(4 + 0) + 5(4 + 1) = 33$$

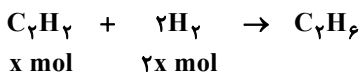
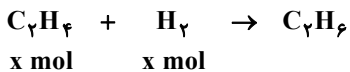
بررسی عبارت‌های نادرست:

(ب) در ترکیب‌های فلئور با اکسیژن، عدد اکسایش فلئور ۱- است.

(ت) در فلزهای گروه ۱، با افزایش عدد اتمی واکنش‌پذیری افزایش می‌یابد، در حالی که در گروه هالوژن‌ها، با افزایش عدد اتمی واکنش‌پذیری کاهش می‌یابد.

۲۴۲- پاسخ: گزینه ۴

$$\text{مول کل گازهای اولیه} = 11/2 L \times \frac{1 \text{ mol}}{22/4 L} = 0/5 \text{ mol}$$



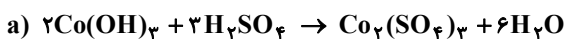
$$x + 2x = 0/15 \Rightarrow x = 0/05$$

$$\text{مول } C_2H_6 \text{ در مخلوط اولیه} = 0/5 - (0/05 + 0/05) = 0/4$$

$$\text{درصد مولی } C_2H_6 = \frac{0/4}{0/5} \times 100 = 80$$

۲۴۳- پاسخ: گزینه ۴

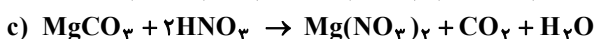
همه عبارت‌های داده شده درست هستند.



$$= 12 \text{ مجموع ضرایب}$$



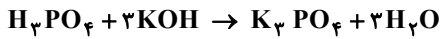
$$= 12 \text{ مجموع ضرایب}$$



$$= 6 \text{ مجموع ضرایب}$$



۲۴۴- پاسخ: گزینه ۲



راه حل اول:

$$53 \text{ g K}_3\text{PO}_4 \times \frac{1 \text{ mol K}_3\text{PO}_4}{212 \text{ g K}_3\text{PO}_4} \times \frac{3 \text{ mol KOH}}{1 \text{ mol K}_3\text{PO}_4} = 0.75 \text{ mol KOH}$$

$$\text{KOH غلظت مولی} = \frac{0.75 \text{ mol}}{0.2 \text{ L}} = 3.75 \text{ mol} \cdot \text{L}^{-1}$$

راه حل دوم:

$$\frac{\text{حجم} \times \text{غلظت مولی}}{\text{ضریب} \times 1} = \frac{\text{جرم}}{\text{جرم مولی} \times \text{ضریب}} \Rightarrow \frac{x \times 0.2}{3 \times 1} = \frac{53}{1 \times 212} \Rightarrow x = 3.75 \text{ mol} \cdot \text{L}^{-1}$$

۲۴۵- پاسخ: گزینه ۳

موارد اول، سوم و چهارم نادرست هستند.

عبارت اول: نقطه A زیر نمودار انحلال پذیری  $\text{NaNO}_3$  و  $\text{KNO}_3$  است؛ بنابراین محلول آن‌ها در این نقطه، سیر نشده است.

عبارت دوم:

$$S(\theta = 90^\circ \text{C}) \Rightarrow \begin{cases} \text{KCl} = 55 \text{ g} \\ \text{NaCl} = 40 \text{ g} \end{cases} \Rightarrow 55 - 40 = 15 \text{ g}$$

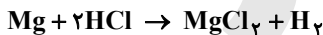
عبارت سوم:

$$S(\theta = 25^\circ \text{C}) \Rightarrow \begin{cases} \text{KNO}_3 = 35 \text{ g} \\ \text{KCl} = 33 \text{ g} \\ \text{NaNO}_3 = 95 \text{ g} \end{cases} \Rightarrow 68 \text{ g}$$

عبارت چهارم: نمودار انحلال پذیری لیتیم سولفات نزولی است؛ بنابراین شیب معادله انحلال پذیری آن منفی می‌باشد.

۲۴۶- پاسخ: گزینه ۳

نقره (Ag) با محلول هیدروکلریک اسید واکنش نمی‌دهد. معادله واکنش منیزیم (Mg) با HCl، به صورت زیر است:



$$\text{HCl مصرف شده} = (0.8 - 0.3) \frac{\text{mol}}{\text{L}} \times \frac{200}{1000} \text{ L} = 0.1 \text{ mol}$$

$$\text{Mg مول} = 0.1 \text{ mol HCl} \times \frac{1 \text{ mol Mg}}{2 \text{ mol HCl}} = 0.05 \text{ mol Mg}$$

$$\text{Mg جرم} = 0.05 \text{ mol Mg} \times \frac{24 \text{ g Mg}}{1 \text{ mol Mg}} = 1.2 \text{ g Mg}$$

$$\text{جرم نقره در مخلوط} = 10 - 1.2 = 8.8 \text{ g}$$

$$\text{درصد جرمی نقره} = \frac{\text{جرم نقره}}{\text{جرم کل}} \times 100 = \frac{8.8}{10} \times 100 = 88\%$$

۲۴۷- پاسخ: گزینه ۲

همه عبارت‌ها به جز عبارت آخر (چهارم) درست هستند.

عبارت اول: عنصر Z (همان تیتانیوم، Ti ۲۲)، فلز و رسانای گرما است و قابلیت مفتول شدن دارد.

عبارت دوم: عنصر X، همان ژرمانیوم است و می‌تواند اکسید  $\text{GeO}_2$  تشکیل دهد (مانند  $\text{CO}_2$ !) عنصر Z یا تیتانیوم هم دارای اکسید  $\text{TiO}_2$  می‌باشد.

عبارت سوم: عنصر مایع گروه ۱۷، همان Br ۳۵ است که در دوره چهارم، در سمت راست عنصرهای X و Z قرار گرفته است. در یک دوره از چپ به راست، شعاع اتمی کاهش می‌یابد.

عبارت چهارم: اتم عنصر X (ژرمانیوم)، در گروه ۱۴ قرار دارد و الکترون به اشتراک می‌گذارد. در این گروه، فلزهای قلع و سرب، الکترون از دست می‌دهند.

۲۴۸- پاسخ: گزینه ۲

۳ مورد نادرست در جدول وجود دارد:

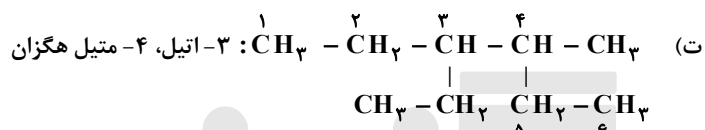
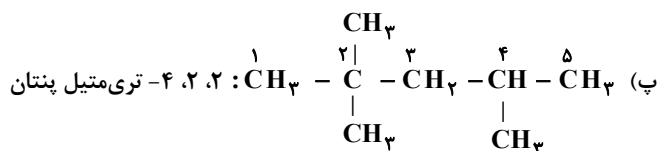
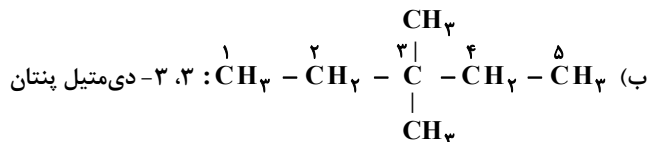
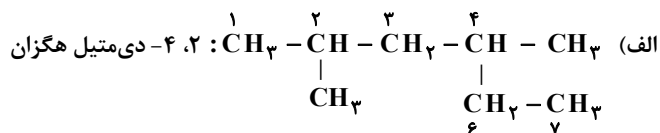
۱. نام گروه عاملی اتانول، هیدروکسیل است.

۲. استون قطبی است.

۳. انحلال پذیری متیل آمین در آب به دلیل توانایی تشکیل پیوند هیدروژنی، زیاد است.

۲۴۹- پاسخ: گزینه ۴

در نام هیچ آلکانی، نمی‌تواند ۲- اتیل وجود داشته باشد؛ بنابراین موارد «الف» و «ت» نادرست و جواب گزینه ۴ است.




۲۵۰- پاسخ: گزینه ۲

طبق قانون پایستگی جرم، مقدار کروم در ظرف تغییری نمی‌کند؛ بنابراین می‌توان با استفاده از جرم اولیه واکنش دهنده (۶۳ g)، مقدار کل کروم در توده جامد باقی‌مانده را حساب کرد:

$$\begin{array}{l} (\text{NH}_4)_2\text{Cr}_2\text{O}_7 \sim 2\text{Cr} \\ \frac{63}{1 \times 252} = \frac{x}{2 \times 52} \Rightarrow x = 26 \text{ g Cr} \end{array}$$

برای به‌دست آوردن جرم کل جامد بر جای مانده، جرم گازهای خارج‌شده ( $\text{N}_2$  و  $\text{H}_2\text{O}$ ) را از جرم اولیه مخلوط (۶۳ g) کم می‌کنیم:



$$\frac{63 \times \frac{80}{100}}{1 \times 252} = \frac{x}{(1 \times 28) + (4 \times 18)} \Rightarrow x = 20 \text{ g}$$

$$\text{جرم جامد بر جای مانده} = 63 - 20 = 43 \text{ g}$$

$$\text{درصد جرمی Cr در توده بر جای مانده} = \frac{26}{43} \times 100 = 60.4\%$$

۲۵۱- پاسخ: گزینه ۳

عبارت‌های اول، دوم و چهارم درست هستند.

عبارت‌های اول و چهارم: با توجه به اینکه واکنش  $2\text{A(s)} + \text{D}_2\text{O}_3(\text{s}) \rightarrow \text{A}_2\text{O}_3(\text{s}) + \text{D(s)}$  گرماده است و به‌طور خودبه‌خودی انجام می‌شود، می‌توان نتیجه گرفت که واکنش‌پذیری A از D بیشتر است یا به عبارت دیگر، اکسایش A راحت‌تر از D صورت می‌گیرد.

عبارت دوم: آنتالپی ذوب D یعنی آنتالپی واکنش  $\text{D(s)} \rightarrow \text{D(l)}$ .

با توجه به نمودار آنتالپی واکنش  $2\text{D(l)} \rightarrow 2\text{D(s)}$  برابر با  $-28 \text{ kJ}$  ( $-(971 - (852 + 91)) = -28$ ) است؛ بنابراین آنتالپی ذوب D،

$$\frac{-(-28)}{2} = 14 \text{ کیلوژول بر مول است.}$$

عبارت سوم: برای تشکیل دو مول A،  $971 \text{ kJ}$  انرژی باید مصرف کرد؛ بنابراین برای تولید ۱ مول از آن به  $485.5 \text{ kJ}$  انرژی نیاز است.

۲۵۲- پاسخ: گزینه ۲

موارد اول و سوم درست هستند، زیرا با افزایش دما و سطح تماس، سرعت واکنش افزایش می‌یابد.

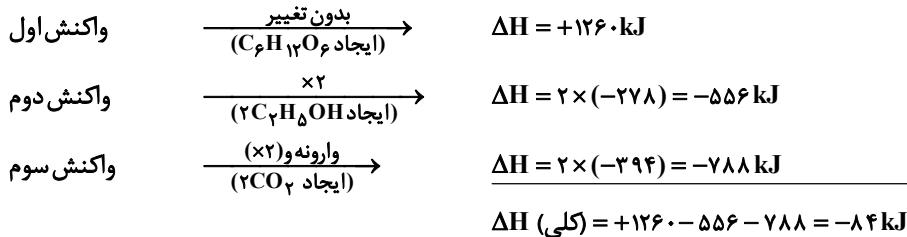
بررسی عبارت‌های نادرست:

عبارت دوم: سرعت واکنش در آزمایش ۲ (نصف قرص پودر) بیشتر از سرعت واکنش در آزمایش ۱ (یک قرص) است.

عبارت چهارم: با توجه به مقدار قرص مصرف‌شده، مقایسه حجم گاز جمع‌آوری شده در آزمایش‌ها با کامل شدن واکنش‌ها به‌صورت زیر است:

$$\text{حجم گاز} \quad \frac{1=3}{\text{نصف قرص}} > \frac{2=4}{\text{یک قرص}}$$

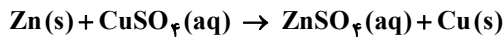
۲۵۳- پاسخ: گزینه ۱



$$210 \text{ kJ} \times \frac{1 \text{ mol } C_6H_{12}O_6}{84 \text{ kJ}} \times \frac{180 \text{ g } C_6H_{12}O_6}{1 \text{ mol } C_6H_{12}O_6} = 450 \text{ g } C_6H_{12}O_6$$

۲۵۴- پاسخ: گزینه ۱

عبارت‌های اول، دوم و پنجم درست هستند.



عبارت اول: با گذشت زمان، رنگ محلول از آبی به بی‌رنگ تغییر کرده و روشن‌تر می‌شود.

عبارت دوم:

$$\text{جرم Cu} = 0.3 \text{ mol} \times \frac{64 \text{ g}}{1 \text{ mol}} = 19.2 \text{ g}$$

عبارت سوم:

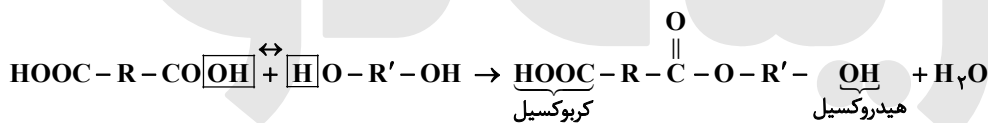
$$\Delta t = 2 \text{ h} = 120 \text{ min}$$

$$\bar{R} (\text{واکنش}) = \bar{R}(\text{Cu}) = \frac{0.3 \text{ mol}}{120 \text{ min}} = 2.5 \times 10^{-3} \text{ mol} \cdot \text{min}^{-1}$$

عبارت چهارم: هر فلز با محلول یونی مربوط به آن، می‌تواند به‌عنوان نیم‌سلول یک سلول گالوانی به کار رود.

عبارت پنجم: درست است، زیرا ضریب آن‌ها در معادله واکنش برابر است.

۲۵۵- پاسخ: گزینه ۳



۲۵۶- پاسخ: گزینه ۴

همه عبارت‌های داده‌شده درست هستند.

■ ترکیب داده‌شده دارای دو گروه اتری (-O-)، یک گروه کتونیک (C=O) و یک حلقه بنزن (بنزن) است.

■ هر اتم اکسیژن، ۳ جفت الکترون ناپیوندی دارد.

$$3 \times 2 = 6 = \text{شمار کل جفت الکترون‌های ناپیوندی}$$

■ شمار پیوندهای دوگانه در مولکول نیز ۶ تا است.

$$2(CH_3) - 2H = C_2H_4 \text{ (اتن)}$$

■ فرمول مولکولی ترکیب داده‌شده،  $C_{16}H_{16}O_3$  و فرمول مولکولی بنزن،  $C_6H_6$  است. در هر دو ترکیب، شمار اتم‌های کربن و هیدروژن برابر است.

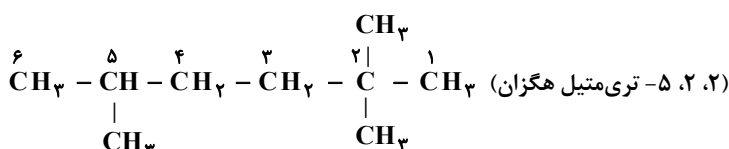
۲۵۷- پاسخ: گزینه ۳

همه عبارت‌ها به‌جز عبارت سوم درست هستند.

■ ترکیب داده‌شده مانند ۳-متیل اوکتان، ۹ کربنی ( $C_9H_{20}$ ) است.

$$\begin{aligned} C_9H_{20} \text{ جرم مولی} &= (9 \times 12) + (20 \times 1) = 128 \text{ g} \\ CH_3OH \text{ جرم مولی} &= 12 + (4 \times 1) + 16 = 32 \text{ g} \end{aligned} \Rightarrow \frac{128}{32} = 4$$

$$C_9H_{20} \text{ درصد جرمی کربن در} = \frac{9 \times 12}{128} \times 100 = 84.4\%$$



۲۵۸- پاسخ: گزینه ۴

- a)  $K_2O \Rightarrow$  باز آرنیوس  $\Rightarrow$  اکسید فلزی  
 b)  $CO_2 \Rightarrow$  اسید آرنیوس  $\Rightarrow$  اکسید نافلزی  
 c)  $SO_3 \Rightarrow$  اسید آرنیوس  $\Rightarrow$  اکسید نافلزی  
 d)  $BaO \Rightarrow$  باز آرنیوس  $\Rightarrow$  اکسید فلزی

$SO_3$  در مقایسه با  $CO_2$ ، اسید قوی تری تشکیل می‌دهد.

۲۵۹- پاسخ: گزینه ۲

عبارت‌های اول، دوم و سوم درست هستند.

■ گرمای ویژه به جرم بستگی ندارد.

■ درست است، زیرا دمای آن‌ها یکسان است.

■ جرم آب در ظرف ۲ بیشتر و در نتیجه ظرفیت گرمایی آن بیشتر است.

■ ظرفیت گرمایی ظرف ۲ بیشتر است؛ بنابراین به‌ازای گرمای یکسان، دمای آن کمتر تغییر می‌کند ( $\Delta\theta$  با ظرفیت گرمایی رابطه عکس دارد).

۲۶۰- پاسخ: گزینه ۳

$50 =$  درصد یونش  $HX \Rightarrow 100 =$  درصد یونش باز قوی

$$[H^+] = M\alpha = 1 \times 0.5 = 0.5 \Rightarrow pH = -\log 0.5 = \log 2 = 0.3$$

بررسی گزینه ۴: در قوی‌ترین حالت اسید مورد نظر، pH محلول ۳ مولار آن برابر با صفر است:

$$pH = 0 \Rightarrow [H^+] = 1 \Rightarrow [H^+] = M\alpha \Rightarrow 1 = 3 \times \alpha \Rightarrow \alpha = \frac{1}{3} \approx 0.33$$

حتی در این حالت نیز، اسید از هیدروبرمیک اسید ( $\alpha \approx 1$ ) ضعیف‌تر است.

۲۶۱- پاسخ: گزینه ۴

همه عبارت‌های داده‌شده درست هستند.

	$HX \rightleftharpoons H^+ + X^-$	$HY \rightleftharpoons H^+ + Y^-$	$HZ \rightleftharpoons H^+ + Z^-$
تعداد ذره‌های اولیه:	۱۰	۱۰	۱۰
تعداد ذره‌های باقی‌مانده:	$10 - 1 = 9$	$10 - 8 = 2$	$10 - 2 = 8$
	$\alpha = \frac{1}{10}$	$\alpha = \frac{8}{10}$	$\alpha = \frac{2}{10}$

■ در دما و غلظت یکسان، هرچه درجه یونش یک اسید بیشتر باشد، آن اسید قوی‌تر است:

قدرت اسیدی:  $HY > HZ > HX$

■ هر سه اسید، ضعیف بوده و درجه یونش آن‌ها کمتر از ۱ است؛ بنابراین واکنش یونش آن‌ها در آب، تعادلی است.

■ قدرت اسیدی اتانویک اسید از  $HY$  که درجه یونش بالایی دارد، کمتر است.

■ در عبارت اول توضیح داده شده است.

■ درست است، زیرا قدرت اسیدی  $HF$  از  $HCl$  بیشتر است.

۲۶۲- پاسخ: گزینه ۱

$$HA \Rightarrow \begin{cases} \alpha = 0.1 \\ pH = 2 \Rightarrow [H^+] = 10^{-2} \\ M_{(HA)} = \frac{[H^+]}{\alpha} = \frac{10^{-2}}{10^{-1}} = 0.1 \end{cases}$$

$$HD \Rightarrow \begin{cases} \alpha = 0.2 \\ pH = 3 \Rightarrow [H^+] = 10^{-3} \\ M_{(HD)} = \frac{[H^+]}{\alpha} = \frac{10^{-3}}{0.2} = 5 \times 10^{-3} \end{cases}$$

$$\frac{M_{(HA)}}{M_{(HD)}} = \frac{0.1}{5 \times 10^{-3}} = 20$$

$$[H^+][OH^-] = 10^{-14} \Rightarrow \begin{cases} [OH^-]_{(HA)} = \frac{10^{-14}}{10^{-2}} = 10^{-12} \\ [OH^-]_{(HD)} = \frac{10^{-14}}{10^{-3}} = 10^{-11} \end{cases} \Rightarrow \frac{10^{-12}}{10^{-11}} = 0.1$$

۲۶۳- پاسخ: گزینه ۳

فلز با  $E^\circ$  کمتر می تواند با کاتیون فلز دیگر با  $E^\circ$  بیشتر واکنش دهد؛ بنابراین واکنش های a، c و d انجام پذیرند.

$$emf = E^\circ(\text{کاتد}) - E^\circ(\text{آند})$$

$$emf (a) = -0.28 - (-0.76) = 0.48 V$$

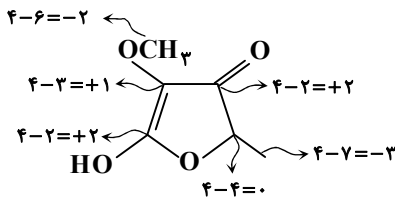
$$emf (c) = 0.18 - (-0.76) = 0.94 V$$

$$emf (d) = 0.34 - (-0.28) = 0.62 V$$

ولتاژ حاصل از واکنش c ( $emf > 1/5 V$ ) می تواند برای برقکافت استفاده شود.

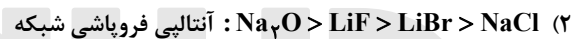
۲۶۴- پاسخ: گزینه ۳

اتم های کربن دارای پنج نوع عدد اکسایش (۳-، ۲-، ۱+، ۲+ و صفر) هستند.



۲۶۵- پاسخ: گزینه ۴

بررسی گزینه های نادرست:



۲۶۶- پاسخ: گزینه ۲

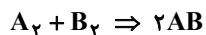
در یون های هم الکترون، شعاع یک کاتیون از شعاع یک آنیون کوچک تر است؛ بنابراین شعاع یون  $\text{Na}^+$  از شعاع  $\text{O}^{2-}$  کوچک تر است ← حذف گزینه های ۳ و ۴!

چگالی بار  $\text{O}^{2-}$  بیشتر از  $\text{Na}^+$  است؛ بنابراین شعاع  $\text{Na}^+$  را نمی توان  $58 \text{ pm}$  که تفاوت زیادی با شعاع  $\text{O}^{2-}$  دارد، در نظر گرفت. (نسبت بار به شعاع برای یون اکسید باید بیشتر از این نسبت برای یون سدیم باشد.)

$$\frac{2}{135} > \frac{1}{99} \quad \checkmark$$

$$\frac{2}{135} < \frac{1}{58} \quad \times$$

۲۶۷- پاسخ: گزینه ۱

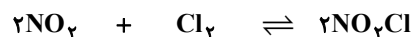
با توجه به نمودار، واکنش گرماگیر و  $\Delta H$  آن برابر با  $182 = 1432 - 2\Delta H(A-B) \Rightarrow \Delta H(A-B) = 625 \text{ kJ} \cdot \text{mol}^{-1}$  کیلوژول است.

$$\Delta H = [\Delta H(A-A) + \Delta H(B-B)] - [2\Delta H(A-B)] \Rightarrow 182 = 1432 - 2\Delta H(A-B) \Rightarrow \Delta H(A-B) = 625 \text{ kJ} \cdot \text{mol}^{-1}$$

۲۶۸- پاسخ: گزینه ۱

$$\text{NO}_2 \text{ مول اولیه} = \frac{18/4}{46} = 0.4$$

$$\text{Cl}_2 \text{ مول اولیه} = \frac{21/3}{71} = 0.3$$



$$\text{مول تعادلی} : \quad 0.4 - 2x \quad 0.3 - x \quad 2x$$

$$\text{NO}_2 \text{ مقدار مصرف شده} = 2x = 0.4 \times \frac{5}{100} \Rightarrow x = 0.1$$

$$K = \frac{[\text{NO}_2\text{Cl}]^2}{[\text{NO}_2]^2 [\text{Cl}_2]} = \frac{(\frac{0.2}{4})^2}{(\frac{0.2}{4})^2 (\frac{0.2}{4})} = 20$$

$$\frac{\text{NO}_2 \text{ مول}}{\text{Cl}_2 \text{ مول}} = \frac{0.2}{0.2} = 1$$

۲۶۹- پاسخ: گزینه ۲

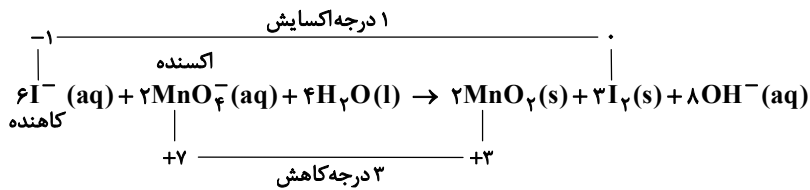
با توجه به اینکه با افزایش دما، درصد فراورده‌ها افزایش یافته است (واکنش در جهت رفت جابه‌جا شده)، واکنش گرماگیر است.

فراورده‌ها  $Q \rightarrow +$  واکنش‌دهنده‌ها

طبق فرض طراح، با افزودن گاز بی‌اثر، فشار افزایش یافته و تعادل به سمت مول‌های گازی کمتر (جهت رفت) جابه‌جا شده است؛ بنابراین می‌توان

گفت کاهش حجم، تعادل را در جهت رفت جابه‌جا می‌کند.

۲۷۰- پاسخ: گزینه ۴



$۶ = ۲ \times ۱ \times ۳ =$  تغییر عدد اکسایش  $\times$  زیروند  $\times$  ضریب اکسنده = تعداد الکترون مبادله شده

با مصرف هر مول گونه کاهنده،  $۰/۵$  مول نافلز  $\text{I}_2$  تولید می‌شود، زیرا ضریب  $\text{I}_2$ ، نصف  $\text{I}^-$  است.

# گزینه دو



## مؤسسه آموزشی فرهنگی