



سال یازدهم انسانی

۱۹ فروردین ماه ۱۴۰۱

نام و نام خانوادگی:	شماره داوطلبی:
تعداد سؤال: ۱۵۰	مدت پاسخ‌گویی: ۱۶۵ دقیقه

نام درس	تعداد سؤال	شماره سؤال	شماره صفحه	زمان پاسخ‌گویی
فارسی و نگارش (۲)	۱۰	۱-۱۰	۴-۵	۲۰ دقیقه
عربی زبان قرآن (۲)	۱۰	۱۱-۲۰	۶-۷	۱۵ دقیقه
دین و زندگی (۲)	۱۰	۲۱-۳۰	۸-۹	۲۰ دقیقه
دین و زندگی (۲) «گواه»	۱۰	۳۱-۴۰	۱۰-۱۱	
زبان انگلیسی (۲)	۲۰	۴۱-۶۰	۱۲-۱۳	۲۰ دقیقه
ریاضی و آمار (۲)	۲۰	۶۱-۸۰	۱۴-۱۶	۲۰ دقیقه
علوم و فنون ادبی (۲)	۱۰	۸۱-۹۰	۱۷-۱۸	۱۵ دقیقه
تاریخ (۲)	۱۰	۹۱-۱۰۰	۱۹-۲۰	۱۰ دقیقه
جغرافیا (۲)	۱۰	۱۰۱-۱۱۰	۲۱-۲۲	۱۵ دقیقه
جغرافیا (۲) «گواه»	۱۰	۱۱۱-۱۲۰	۲۳-۲۴	
جامعه‌شناسی (۲)	۱۰	۱۲۱-۱۳۰	۲۵-۲۶	۱۰ دقیقه
فلسفه	۱۰	۱۳۱-۱۴۰	۲۷-۲۸	۱۰ دقیقه
روان‌شناسی	۱۰	۱۴۱-۱۵۰	۲۹-۳۱	۱۰ دقیقه

برای دیدن تملیل آزمون امروز و آگاهی یافتن از
ویژگی‌ها و نکات آموزشی آزمون بعدی همین امروز به
سایت www.kanoon.ir مراجعه نمایید.

نام طراحان:

نام درس	نام طراحان
فارسی (۲)	حسین پرهیزگار، ابراهیم رضایی مقدم، مهدی ضیائی، محسن فدایی، محمدجواد قورچیان
عربی زبان قرآن (۲)	محمود عاشوری دوجی، حمیدرضا قاندامینی، مجید همایی
دین و زندگی (۲)	حسین ابراهیمی، محسن بیانی، محمد رضایی بقا، علیرضا ذوالفقاری زحل، عباس سیدشبهستری، گواه
زبان انگلیسی (۲)	امیررضا احمدی، سپهر برومندپور، میرحسین زاهدی، ساسان عزیزنژاد، سعید کاویانی، فریبا طاهری، عقیل محمدی روش، پرهام نکوطلبان
ریاض و آمار (۲)	محمد حمیدی، امیر زراندوز، جواد زنگنه قاسم آبادی، امیر محمودیان، مهدی نصراللهی
علوم و فنون ادبی (۲)	داود تالشی، سعید جعفری، افشین کیانی، اعظم نوری نیا، محمد نورانی
تاریخ (۲)	مهدی کاردان، آزاده میرزائی، سیدمحمد مدنی دینانی، بهروز یحیی
جغرافیا (۲)	مهدی کاردان، سیدمحمد مدنی دینانی، آزاده میرزائی، بهروز یحیی، گواه
چشمه شناسی (۲)	فاطمه صفری، آزاده میرزائی، سیدمحمد مدنی دینانی، بهروز یحیی
فلسفه	راحله بابائی صومعه کیودین، کوثر دستورانی، فاطمه صفری، سیدمحمد مدنی دینانی
روانشناسی	فاطمه صفری، کوثر دستورانی، نازنین قاسمی، سیدمحمد مدنی دینانی، آزاده میرزائی

گزینشگران و ویراستاران:

نام درس	گزینشگر	مسئول درس	ویراستار استاد	ویراستار دانشجو	مسئول درس مستندسازی
فارسی (۲)	محمدجواد قورچیان	محمدجواد قورچیان	الهام محمدی مر ترضی منشاری	—	الناز معتمدی
عربی زبان قرآن (۲)	امیرحسین چمنی راد	امیرحسین چمنی راد	اسماعیل یونس پور درویشعلی ابراهیمی	—	مهدی یعقوبیان
دین و زندگی (۲)	علیرضا ذوالفقاری زحل	علیرضا ذوالفقاری زحل	سکینه گلشنی احمد منصوروی	—	زهره قموشی
زبان انگلیسی (۲)	عقیل محمدی روش	عقیل محمدی روش	رحمت‌الله استیری، سعید آقچه‌لو	فاطمه نقدی مارال صالحی	سپیده جلالی
ریاض و آمار (۲)	ایمان چینی فروشان	ایمان چینی فروشان	محمد بجیرایی، امیرحسین ابومحبوب	نگین سادات رحیمی	سپیده پناهی
علوم و فنون ادبی (۲)	اعظم نوری نیا	اعظم نوری نیا	الهام محمدی	فاطمه صفری	الناز معتمدی
تاریخ (۲)	حبیبه محبی	حبیبه محبی	بهروز یحیی	—	ستایش محمدی
چشمه شناسی (۲)	کوثر شاه حسینی	کوثر شاه حسینی	حبیبه محبی	فاطمه صفری	زهره قموشی
فلسفه	عاطفه ربابه صالحی	عاطفه ربابه صالحی	—	فاطمه صفری	
روانشناسی	فاطمه صفری	فاطمه صفری	—	ریحانه خدابخش فاطمه ایزدی	

گروه فنی و تولید

مدیر گروه لیلا فیروزی

مسئول دفترچه حبیبه محبی

حروف نگاری و صفحه آرایی: مهین علی محمدی جلالی

مدیر واحد مستندسازی و مطابقت با مصوبات: مازیار شیروانی مقدم

مسئول دفترچه مستندسازی: زهره قموشی

نظارت چاپ: سوران نعیمی

فارسی [۴]:
ادبیات انقلاب اسلامی
ادبیات حماسی
صفحه ۸۷ و ۸۸
وقت پیشنهادی: ۲۰ دقیقه

هدف گذاری قبل از شروع هر درس در دفترچهٔ سؤال

لطفاً قبل از شروع پاسخ گویی به سؤال های درس فارسی (۲)، هدف گذاری چند از ۱۰ خود را بنویسید:
از هر ۱۰ سؤال به چند سؤال می توانید پاسخ صحیح بدهید؟
عملکرد شما در آزمون قبل چند از ۱۰ بوده است؟
هدف گذاری شما برای آزمون امروز چیست؟

چند از ۱۰ آزمون قبل	هدف گذاری چند از ۱۰ برای آزمون امروز

۱- کدام واژه نادرست معنا شده است؟

- ۱) قبا: نوعی جامهٔ جلوباز که دو طرف جلوی آن با گیره بسته می شود.
- ۲) تپیدن: بی قراری و اضطراب نمودن، لرزیدن از ترس
- ۳) امتناع: سر باز زدن از انجام کاری یا قبول کردن سخنی، خودداری کردن
- ۴) لاف: سخنان بی پایه و اساس، دعوی باطل

۲- از نظر تعداد واژه های نادرست املائی، کدام بیت با سایر ابیات متفاوت است؟

- ۱) هنر خار شد جادویی ارجمند / نهان راستی آشکارا گذند
- ۲) از آن پس چنین گفت تا معبدان / که ای پرهنر نامور بخردان
- ۳) همان کاوه آن بر سر نیزه کرد / همان گه ز بازار برخواست گرد
- ۴) بپوید کین مهتر آهرمن است / جهان آفرین را به دل دشمن است

۳- شاعر بیت زیر کیست؟

«تو یک ساعت، چو افریدون به میدان باش، تا زان پس / به هر جانب که روی آری، درفش کاویان بینی»

- (۱) سنایی (۲) فردوسی (۳) نظامی (۴) مولوی

۴- هر دو آرایهٔ مقابل کدام بیت به درستی ذکر شده است؟

- ۱) هر کس که از محبت او دم برآورد / پای دل از کمند هلاکم برآورد (تشبیه، ایهام)
- ۲) خون جگر به حلق رسیدست و زهره نه / دل راه که پیش عارض او دم برآورد (کنایه، حسن تعلیل)
- ۳) گر دود زلف از آتش رویش جدا شود / آتش ز خلق و دود ز عالم برآورد (تشبیه، حس آمیزی)
- ۴) بعد از وفات بر سر خاکم چو بگذرد / خاک لحد ز گریهٔ من نم برآورد (استعاره، مجاز)

۵- آرایه های بیت زیر به درستی در کدام گزینه آمده است؟

«آنچنان کز خط سواد مردمان روشن شود / سرمه گویاتر کند چشم سخنگوی تو را»

- (۱) ایهام، مراعات نظیر، تضاد، تشخیص
(۲) تناقض، استعاره، اسلوب معادله، ایهام تناسب
(۳) تضاد، تشبیه، ایهام تناسب، استعاره
(۴) ایهام، تشخیص، تناقض، مراعات نظیر

۶- در همهٔ ابیات به جز بیت ... واژه های دیده می شود که معنای پیشین خود را از دست داده است و معنای جدید گرفته است.

- ۱) زاهد ار رندی حافظ نکند فهم چه شد / دیو بگریزد از آن قوم که قرآن خوانند
- ۲) در بیابان فنا گم شدن آخر تا کی / ره بیرسیم مگر پی به مهمات بریم
- ۳) زین بیشتر رکاب ستم سرگران مدار / در راه وصل این همه کوتاه عنان مدار
- ۴) جانا به جز از عشق تو دیگر هوسم نیست / سوگند خورم من که به جای تو کسم نیست

عربی زبان قرآن [٢]

تأثیر اللغة الفارسیة علی اللغة العربیة
المعرفة و النكرة، ترجمة الفعل المضارع (١)، تمارین
درس ٤ / الصدق، الجملة بعد النكرة / حوار شراء

شريحة الهاتف الجوال / تمارین درس ٥

کل درس (٤) و (٥)

صفحه ٣٥ و ٣٠

وقت پیشنهادی: ١٥ دقیقه

هدف گذاری قبل از شروع هر درس در دفترچه سؤال

لطفاً قبل از شروع پاسخ گویی به سؤال های درس عربی زبان قرآن (٢)، هدف گذاری چند از ١٠ خود را بنویسید:
از هر ١٠ سؤال به چند سؤال می توانید پاسخ صحیح بدهید؟
عملکرد شما در آزمون قبل چند از ١٠ بوده است؟
هدف گذاری شما برای آزمون امروز چیست؟

چند از ١٠ آزمون قبل	هدف گذاری چند از ١٠ برای آزمون امروز

عین الأصح و الأدق فی الجواب للترجمة من أو إلى العربیة للعبارة التالية: (١١-١٤)

١١- «كُنَّا نَقْرَأُ قَصِيدَةً رَائِعَةً عَنْ حَيَاةِ بَعْضِ الشُّعْرَاءِ لَنَحْصَلَ عَلَى مَعْلُومَاتٍ كَثِيرَةٍ فِي الْمَجَالَاتِ الْمُخْتَلِفَةِ!»:

- ١) قصیده‌ی زیبایی را در مورد زندگی برخی شاعران می‌خواندیم تا معلومات زیادی را در زمینه‌هایی که مختلف هستند، کسب کنیم.
- ٢) قصیده‌های جالبی را در مورد زندگی بعضی شعرا می‌خوانیم تا اطلاعات زیادی در زمینه‌های گوناگون به دست بیاوریم.
- ٣) در مورد زندگی بعضی شاعران قصیده زیبایی را می‌خواندیم تا معلومات زیادی را در این زمینه‌ها کسب کنیم.
- ٤) قصیده‌ی جالبی را در مورد زندگی بعضی شعرا می‌خواندیم تا معلومات فراوانی را در زمینه‌های گوناگون به دست بیاوریم.

١٢- «إِنْ نَلْتَزِمُ بِالصِّدْقِ فِي أَعْمَالِنَا نَصِلْ إِلَى النَّجَاحِ وَ نَتَخَلَّصُ مِنَ السَّيِّئَاتِ مِنْ دُونِ شَكِّ!»

- ١) هر زمان در کارهای خود به راستگویی پایبند باشیم به موفقیت می‌رسیم و بدون شک از بدی‌ها خلاص خواهیم شد.
- ٢) اگر در کارهایمان به راستگویی پایبند بودیم به موفقیت می‌رسیدیم و از بدی‌ها بدون شک رها می‌شدیم.
- ٣) اگر در کارهای خویش پایبند به راستگویی باشیم به موفقیت می‌رسیم و از بدی‌ها بدون شک رها می‌شویم.
- ٤) اگر در کارهایمان به راستگویی پایبند باشیم موفق می‌شویم و از همه بدی‌ها بدون شک خلاص می‌شویم.

١٣- عین الصحیح فی ترجمة العبارات التالية:

- ١) هذه الطالبة تظنُّ أنَّ صديقها تكذب؛ این دانش آموز تصور می‌کرد که دوستش دروغ می‌گوید.
- ٢) أصحابنا يُسرعون لِيُنْقِذُونَا مِنَ الْغَرَقِ: یاران ما می‌شتابند تا ما را از غرق شدن نجات دهند.
- ٣) لا تستطيعُ الكذَّاباتُ أَنْ يُخْفِينَ كَذِبَهُنَّ: دروغگویان نتوانستند که دروغ خود را پنهان کنند.
- ٤) الْمُؤْمِنُونَ يَعُودُونَ بِاللَّهِ مِنْ دُعَاءٍ لَا يُسْمَعُ: مومنان از دعایی که شنیده نشده است به پروردگار خود پناه می‌برند.

١٤- عین الخطأ فی الترجمة:

- (١) أَسْتَطِيعُونَ أَنْ تَسْتَحْنُوا رَصِيدَ الْجَوَالِ عِبْرَ الْإِنْتَرْنَتِ: آیا می توانید اعتبار مالی تلفن همراهتان را از طریق اینترنت شارژ کنید؟
- (٢) نَشْتَرِي الْيَوْمَ كُتُبًا قَدْ رَأَيْنَاهَا قَبْلَ أُسْبُوعَيْنِ: امروز کتابهایی را می خریم که دو هفته قبل آنها را دیده ایم.
- (٣) يُعْجِبُ الطَّلَابُ عَبْدًا نَفْرَحُ فِيهِ الْمُؤْمِنَاتِ: عیدی که مؤمنان در آن شاد می شوند، دانش آموزان را متعجب می نماید.
- (٤) كَادَ السَّابِحُونَ يَغْرِقُونَ فَأَخَذُوا يُنَادُونَنَا: نزدیک بود شناگران غرق شوند بنابراین شروع به صدا کردن ما کردند.

١٥- أَى كَلِمَةٍ مَنَاسِبَةٌ لِلعِبْرَةِ التَّالِيَةِ: أَخْفَى شَيْئًا وَجَعَلَهُ بَعِيدًا عَنِ الْأَنْظَارِ.

- (١) أَنْكَرَ (٢) أَفْضَلَ (٣) أَصْغَرَ (٤) أَضْمَرَ

١٦- عَيِّنِ الْجَوَابَ الَّذِي جَاءَتْ فِيهِ مَعْرِفَةٌ بِالْعِلْمِيَّةِ:

- (١) هَذَا الرَّجُلُ الْغَنِيُّ مَالِكٌ مَتَجَرٌّ كَبِيرٌ فِي نَهَايَةِ شَارِعِنَا. (٢) الْإِحْسَانُ إِلَى الضُّعْفَاءِ عَمَلٌ مَحْمُودٌ عِنْدَ الرَّبِّ الْعَظِيمِ.
- (٣) قَرَأَ أَخِي آيَاتًا جَمِيلَةً مِنْ حَافِظِ أَمَامٍ تَلَامِيذِ الْمَدْرَسَةِ. (٤) صَدِيقِي الذَّكِيُّ عَارِفٌ بِاللُّغَةِ الْعَرَبِيَّةِ وَهُوَ يُدْرِسُهَا جَيِّدًا.
- ١٧- عَيِّنِ مَا يُتْرَجَمُ عَلَى شَكْلِ الْمُضَارِعِ الْإِتْرَامِي:
- (١) أَعْلَمُوا أَنَّ الْوَالِدَ الْمُؤْمِنَ لَا يَفْرَقُ بَيْنَ أَوْلَادِهِ أَدَا. (٢) جَاءَتْ الْعَالِمَةُ عِنْدَنَا لِنُقَدِّمَ لَهَا مَوَاعِظَ تَنْفَعُنَا فِي الْحَيَاةِ.
- (٣) التَّمْلِيذُ الْكَسْلَانُ لَنْ يَنْجَحَ فِي امْتِحَانَاتِ الْمَدْرَسَةِ. (٤) ذَهَبْنَا إِلَى ذَلِكَ الْمَطْعَمِ النَّظِيفِ لِتَنَاوُلِ طَعَامٍ لَذِيذٍ.

١٨- عَيِّنِ مِضَارِعًا يُتْرَجَمُ عَلَى شَكْلِ «الْمَاضِي الْإِسْتِمْرَارِي» فِي الْفَارْسِيَّةِ:

- (١) سَائِقُ سَيَّارَةِ الْأَجْرَةِ يُدْهِبُنَا إِلَى مُتَحَفٍ وَ يَرْجِعُ بَعْدَ سَاعَةٍ. (٢) الْخُفَّائِسُ طَائِرٌ يُطِيرُ فِي اللَّيْلِ وَ يَنَامُ فِي طُولِ النَّهَارِ.
- (٣) فِي الْمَاضِي شَاهَدْنَا فَلَاحًا يَجْمَعُ الْمَحْصُولَ لِلْبَيْعِ فِي الشِّتَاءِ. (٤) إِعْلَمُوا أَنَّ الْعَمَلَ الْحَرَامَ يَجْلِبُ الْعَوَاقِبَ السَّيِّئَةَ لِغَايِلِهِ.

١٩- عَيِّنِ حَرْفَ اللَّامِ مُخْتَلَفًا عَنِ الْبَاقِي:

- (١) رَاجِعْ أَخِي الْأَكْبَرَ أَسْتَاذًا حَاذِقًا لِنَتَعَلَّمَ اللُّغَةَ الْعَرَبِيَّةَ. (٢) اسْتَغْفَرَ الْعَبْدَ الْمُذْنِبَ رَبُّهُ لِذُنُوبِهِ فِي لِبَالِي الْقَدَرِ نَادِمًا.
- (٣) تَكَلَّمْتُ مَعَ تِلْكَ الْمُعَلِّمَةِ الشَّابَةِ لِتَغْيِيرِ طَرِيقَةِ تَدْرِيسِهَا. (٤) يَسْتَعِينُ الْمُؤْمِنُ الْوَاحِدُ بِاللَّهِ لِتَحْمُلِ صُعُوبَاتِ الدَّهْرِ.

٢٠- فِي أَى عِبْرَةِ مَا جَاءَتْ «ال» بِمَعْنَى إِسْمِ الْإِشَارَةِ:

- (١) شَاهَدْتُ وَلَدًا فِي زَاوِيَةٍ مِنَ الشَّارِعِ؛ الْوَلَدُ يَبْكِي بِشِدَّةٍ. (٢) طَلَّبَ فَقِيرٌ مَنَى الْمُسَاعَدَةَ فَفَضَّرَتْ الْفَقِيرَ دُونَ أَى مَنَةٍ.
- (٣) رَجُلَانِ وَإِقْفَانِ أَمَامَ الْمَسْجِدِ، الرَّجُلَانِ مُنْتَظِرَانِ لِصَدِيقَيْهِمَا. (٤) اللُّغَةُ الْعَرَبِيَّةُ لُغَةٌ تُعْجِبُنِي كَثِيرًا وَ أَنَا أَشْتَاقُ إِلَى تَعَلُّمِهَا.

دین و زندگی [۳]**تفکر و اندیشه**

امیای ارزش‌های (استکون، مهاد در (استکای ولایت ظاهری،
عصر غیبت امام (ع)، در انتظار ظهور

صفحه ۱۳۲ تا ۱۶۶

وقت پیشنهادی: ۲۰ دقیقه

هدف‌گذاری قبل از شروع هر درس در دفترچه سؤال

لطفاً قبل از شروع پاسخ‌گویی به سؤال‌های درس **دین و زندگی (۲)**، هدف‌گذاری چند از ۱۰ خود را بنویسید:
از هر ۱۰ سؤال به چند سؤال می‌توانید پاسخ صحیح بدهید؟
عملکرد شما در آزمون قبل چند از ۱۰ بوده است؟
هدف‌گذاری شما برای آزمون امروز چیست؟

چند از ۱۰ آزمون قبل	هدف‌گذاری چند از ۱۰ برای آزمون امروز

۲۱- شرط لازم و کافی برای دستیابی به ویژگی‌هایی که جهت آماده شدن برای ظهور لازم است، چیست و در صورت فقدان آن، ولی معصوم

چگونه مورد خطاب قرار می‌گیرد؟

- (۱) گریه و دعا برای ظهور - «تو و پروردگارت بروید و بجنگید، ما اینجا می‌نشینیم.»
- (۲) گریه و دعا برای ظهور - «هر کس بمیرد و امام زمان خود را نشناسد، به مرگ جاهلی مرده است.»
- (۳) حضور فعال در جبهه حق در نبرد علیه باطل - «تو و پروردگارت بروید و بجنگید، ما اینجا می‌نشینیم.»
- (۴) حضور فعال در جبهه حق در نبرد علیه باطل - «هر کس بمیرد و امام زمان خود را نشناسد، به مرگ جاهلی مرده است.»

۲۲- براساس روایت نبوی، لازمه ملاقات خداوند با ایمان کامل و مسلمانی مورد رضایت او کدام است و این امر، چگونه حاصل می‌شود؟

- (۱) پذیرش ولایت و محبت امام عصر (ع) - آماده کردن خود و جامعه برای ظهور
- (۲) پذیرش ولایت و محبت امام عصر (ع) - معرفت به این که امام، از والدین مهربان تر است.
- (۳) آماده کردن مردم جامعه برای ظهور - معرفت به این که امام، از والدین مهربان تر است.
- (۴) آماده کردن مردم جامعه برای ظهور - آماده کردن خود و جامعه برای ظهور

۲۳- کدام عبارت‌ها، با اهداف مربوط به خود مناسبت دارند؟

- (الف) عدم وجود قطب مرئه و قطب فقیر ← آبادانی
(ب) عدم نیاز به پرداخت زکات ← عدالت‌گستری
(پ) آشکار شدن ذخایر زمین ← آبادانی
(ت) مهم‌ترین ویژگی جامعه مهدوی ← امنیت کامل

- (۱) الف، ب (۲) ب، پ (۳) الف، ت (۴) پ، ت

۲۴- نام دو کتاب از کتب اربعه و نویسندگان آن را می‌توان در کدام گزینه به‌درستی یافت؟

- (۱) استبصار، شیخ صدوق - کافی، شیخ طوسی
- (۲) استبصار، شیخ صدوق - تهذیب، شیخ طوسی
- (۳) من لایحضره الفقیه، شیخ صدوق - تهذیب، شیخ طوسی
- (۴) من لایحضره الفقیه، شیخ صدوق - کافی، شیخ طوسی

۲۵- پدید آمدن ذخیره عظیم علم دین، نتیجه کدام اقدام ائمه اطهار (ع) است و دانشمندان از این منبع ارزشمند، در چه امری بهره می‌برند؟

- (۱) نگارش کتاب‌هایی در باب حدیث - بیان کردن احکام اسلام مطابق با زمان حال
- (۲) تعلیمات امامان معصوم (ع) - بیان کردن احکام اسلام مطابق با زمان حال
- (۳) نگارش کتاب‌هایی در باب حدیث - تفسیر کردن آخرین کتاب آسمانی
- (۴) تعلیمات امامان معصوم (ع) - تفسیر کردن آخرین کتاب آسمانی

۲۶- کدام گزینه به ترتیب، «شیوه»، «هدف» و «اصول» مبارزه حضرت علی (ع) را به درستی تبیین می‌کند؟

- (۱) سکوت - حفظ نظام نوپای اسلامی - انتقاد از حاکمیت و یاری مردم
- (۲) سکوت - گسترش معارف اسلامی - عدم تأیید حاکمیت و یاری مردم
- (۳) صلح - گسترش معارف اسلامی - انتقاد از حاکمیت و یاری مردم
- (۴) صلح - حفظ نظام نوپای اسلامی - عدم تأیید حاکمیت و یاری مردم

۲۷- هر یک از اقدامات زیر به ترتیب، توسط کدام امام معصوم (ع) صورت گرفت و کدام مورد با توجه به ظهور فرقه‌های گوناگون اقدامی ضروری به

شمار می‌رفت؟

الف) تجدید حیات نهضت شیعیان

ب) پایه‌گذاری مدرسه علمی بزرگ

- (۱) امام سجاد (ع) - امام باقر (ع) - اولی
- (۲) امام سجاد (ع) - امام باقر (ع) - دومی
- (۳) امام باقر (ع) - امام سجاد (ع) - اولی
- (۴) امام باقر (ع) - امام سجاد (ع) - دومی

۲۸- امام صادق (ع) در عبارت «کونوا لنا زیناً و لا تكونوا علينا شیناً» چه کسانی را خطاب قرار می‌دهد و کدام مورد این سخن را به درستی تبیین می‌کند؟

- (۱) مؤمنان - پیرو حقیقی کسی است که دوستان و دشمنان واقعی امامان را بشناسد.
- (۲) مؤمنان - پیروی تنها به اسم نیست بلکه اسم باید با عمل صالح همراه باشد.
- (۳) شیعیان - پیروی تنها به اسم نیست بلکه اسم باید با عمل صالح همراه باشد.
- (۴) شیعیان - پیرو حقیقی کسی است که دوستان و دشمنان واقعی امامان را بشناسد.

۲۹- دعوت مردم به سوی توحید و عدل توسط امامان (ع) در صورت اجابت شدن، چه پیامدی به دنبال داشت و این امر منبعت از اجرای کدام

اصل توسط مردم بود؟

- (۱) تشکیل حکومت جهانی - تولی و تبری
- (۲) پیشروی جامعه در مسیر تکامل - تولی و تبری
- (۳) تشکیل حکومت جهانی - امر به معروف و نهی از منکر
- (۴) پیشروی جامعه در مسیر تکامل - امر به معروف و نهی از منکر

۳۰- تداوم امامت در شکل جدید، به ترتیب، تابع و متبوع چه امری است؟

- (۱) تلاش حاکمان ستمگر در جهت به شهادت رساندن امام (ع) - شایستگی جامعه اسلامی برای درک ظهور
- (۲) تلاش حاکمان ستمگر در جهت به شهادت رساندن امام (ع) - فراهم آمدن شرایط برای تشکیل حکومت جهانی
- (۳) زیاده‌روی حاکمان در گناه و اصرار و لجاجت آن‌ها در ستمگری - شایستگی جامعه اسلامی برای درک ظهور
- (۴) زیاده‌روی حاکمان در گناه و اصرار و لجاجت آن‌ها در ستمگری - فراهم آمدن شرایط برای تشکیل حکومت جهانی

سؤالات گواه

پاسخ دادن به این سوالات اجباری است و در تراز کل شما تأثیر دارد.

۳۱- اطلاع‌رسانی امام صادق (ع) در روز عرفه، در مراسم حج در مورد نسبت دادن مالکیت حقیقی حکومت به خود، به چه هدف مقدسی صورت

پذیرفت؟

(۱) مردم بدانند که تنها آنان جانشینان رسول خدا (ص) و امامان بر حق جامعه‌اند.

(۲) بنای ظلم و جور بنی‌امیه و بنی‌عباس سست شود و تفکر اسلام راستین باقی بماند.

(۳) ارتباط امام با شیعیانش مخفی بماند و جان یاران صمیمی و مورد اعتمادش حفظ شود.

(۴) روش زندگی امام به نسل‌های آینده معرفی گردد و مسیر امامان گذشته، تداوم یابد.

۳۲- این کلام امام رضا (ع) که پس از بیان حدیث سلسله الذهب می‌فرماید: «بشروطها و انا من شروطها»، در راستای کدام یک از اقدامات امامان (ع) است؟

(۱) ولایت ظاهری و معرفی خویش به عنوان امام بر حق (۲) مرجعیت دینی و تعلیم و تفسیر قرآن کریم

(۳) مرجعیت دینی و تبیین معارف اسلامی (۴) ولایت ظاهری و عدم تأیید حاکمان

۳۳- کدام مورد، بیانگر اصول مجاهده امامان معصوم (ع) در راستای ولایت ظاهری و مبارزه با حاکمان طاغوت است؟

(۱) هیچ‌گاه اعمال حاکمان را تأیید نمی‌کردند و این امر را به شیوه‌های گوناگون به اطلاع مردم می‌رساندند.

(۲) هر چند مشروعیتی برای حاکمان قائل نبودند، اما آن‌ها را به‌عنوان خلیفه می‌پذیرفتند و به رسمیت می‌شناختند.

(۳) با وجود همه سختی‌ها و آزار و اذیت‌ها، در مبارزه با همه اعمال حاکمان، به‌صورت علنی و شجاعانه عمل می‌کردند.

(۴) در مواردی که بر طبق دستورات اسلام رفتار می‌کردند، عملشان را تأیید می‌کردند، اما آنان را غاصب خلافت می‌دانستند.

۳۴- آشکار کردن رهنمودهای قرآنی، آموختن سخنان پیامبر(ص) به فرزندان و بهره‌مند ساختن مسلمانان از معارف الهی، به ترتیب از ثمرات حضور

امامان معصوم (ع) در جهت تحقق کدام مورد بوده است؟

(۱) تعلیم و تفسیر قرآن - اقدام برای حفظ سخنان و سیره پیامبر(ص) - تبیین معارف اسلامی متناسب با نیازهای نو

(۲) اقدام به حفظ سخنان و سیره پیامبر(ص) - تعلیم و تفسیر قرآن - تبیین معارف اسلامی متناسب با نیازهای نو

(۳) تبیین معارف اسلامی متناسب با نیازهای نو - تعلیم و تفسیر قرآن - اقدام برای حفظ سخنان و سیره پیامبر(ص)

(۴) تعلیم و تفسیر قرآن - تبیین معارف اسلامی متناسب با نیازهای نو - اقدام برای حفظ سخنان و سیره پیامبر(ص)

۳۵- با توجه به فرمایشات امیرالمؤمنین (ع) لازمه پیروی از قرآن چیست؟

(۱) شناختن کسانی که قرآن را فراموش کرده‌اند. (۲) وفای به عهد خویش با قرآن کریم و اهل بیت(ع)

(۳) شناسایی رهاکنندگان و پشت‌کنندگان به صراط مستقیم (۴) داخل شدن در گروه افرادی که با دین مخالفت نمی‌کنند.

۳۶- هسته مرکزی یاران امام عصر (عج) چند نفرند و شامل چه کسانی می‌شود؟

- (۱) به تعداد مسلمانان حاضر در جنگ احد - مردان با ایمانی که اکثر آن‌ها جوان می‌باشند.
 - (۲) به تعداد یاران پیامبر اکرم (ص) در جنگ بدر - مردان با ایمانی که اکثر آن‌ها جوان می‌باشند.
 - (۳) به تعداد مسلمانان حاضر در جنگ احد - تعدادی از آنان را زنان و بیش‌تر را جوانان تشکیل می‌دهند.
 - (۴) به تعداد یاران پیامبر اکرم (ص) در جنگ بدر - تعدادی از آنان را زنان و بیش‌تر را جوانان تشکیل می‌دهند.
- ۳۷- خداوند چه کسانی را «جانشین در زمین قرار داد» و علاوه بر اینکه «برای آنان امرشان را پسندیده و مستقر ساخت» چه نعمتی را بر آنان

ارزانی داشت؟

- (۱) «الَّذِينَ اسْتَضَعُوا فِي الْأَرْضِ» - «لَيَمَكَّنَنَّ لَهُمْ دِينَهُمْ»
- (۲) «الَّذِينَ آمَنُوا وَعَمِلُوا الصَّالِحَاتِ» - «لَيَمَكَّنَنَّ لَهُمْ دِينَهُمْ»
- (۳) «الَّذِينَ اسْتَضَعُوا فِي الْأَرْضِ» - «يَعْبُدُونَنِي لَا يُشْرِكُونَ بِي شَيْئًا»
- (۴) «الَّذِينَ آمَنُوا وَعَمِلُوا الصَّالِحَاتِ» - «يَعْبُدُونَنِي لَا يُشْرِكُونَ بِي شَيْئًا»

۳۸- مشخص بودن والدین مهدی موعود (ع) کدام فایده را به دنبال دارد؟

- (۱) بهره بردن از هدایت‌های معنوی امام زمان (ع)
 - (۲) حاضر و ناظر دیدن امام بر فداکاری‌های مؤمنان
 - (۳) در میان گذاشتن خواسته‌های خود با امام و درد دل کردن با ایشان
 - (۴) فریب نخوردن از ماجراجویان فریبکار مدعی امامت
- ۳۹- سنت ابتدایی خداوند به هنگام اعطای نعمت‌ها به بندگان خود چیست و تغییر یا عدم تغییر نعمت‌ها برخاسته از کدام صفت الهی است؟

- (۱) «يُغَيِّرُوا» - عدالت و حکمت
- (۲) «لَمْ يَكُ مُغَيِّرًا» - عدالت و حکمت
- (۳) «يُغَيِّرُوا» - علم و آگاهی
- (۴) «لَمْ يَكُ مُغَيِّرًا» - علم و آگاهی

۴۰- با توجه به روایات معصومین (ع) و نامه امام زمان به شیخ مفید، ارتباط ایشان با جامعه چگونه است؟

- (۱) مشکلات گوناگون موجب قطع شدن ریشه مسلمان نشده است و امام زمان (عج) با ولایت ظاهری خود آن را مرتفع می‌سازد.
- (۲) امام زمان (عج) ولایت ظاهری و ولایت معنوی را به عالمان دین واگذار کرده و خود سرپرست علمی جامعه است.
- (۳) رهبری حقیقی مسلمانان هم‌اکنون با امام زمان (عج) است و ایشان سرپرست، حافظ و یاور مسلمان هستند.
- (۴) افراد مستعد و به‌ویژه شیعیان از راه‌های خاص تحت هدایت هستند و مرجعیت علمی ایشان ادامه دارد.



زبان انگلیسی [۳]

*A Healthy Lifestyle
(Vocabulary Development, ..., Writing)
Art and Culture
(Get Ready, Conversation)*

مقطع (۶ و ۵) ۸۶

وقت پیشنهادی: ۲۰ دقیقه

هدف گذاری قبل از شروع هر درس در دفترچه سؤال

لطفاً قبل از شروع پاسخ گویی به سؤال های درس زبان انگلیسی (۲)، هدف گذاری چند از ۱۰ خود را بنویسید:
از هر ۱۰ سؤال به چند سؤال می توانید پاسخ صحیح بدهید؟
عملکرد شما در آزمون قبل چند از ۱۰ بوده است؟
هدف گذاری شما برای آزمون امروز چیست؟

هدف گذاری چند از ۱۰ برای آزمون امروز

چند از ۱۰ آزمون قبل

PART A: Grammar and Vocabulary

Directions: Questions 51-62 are incomplete sentences. Beneath each sentence you will see four words or phrases marked (1), (2), (3) and (4). Choose the one word or phrase that best completes the sentence. Then mark the correct choice on your answer sheet.

- 41- Recently, working with computers and mobile phones ... people's habits and lifestyles.
1) change 2) are changing 3) has changed 4) have changed
- 42- Health experts believe that ... the risk of heart disease, and improves the quality of life.
1) to give up to smoke has reduced 2) to give up to smoke reduces
3) giving up smoking reduce 4) giving up smoking reduces
- 43- I ... my English homework yet, but I will try to do it as soon as possible.
1) hasn't done 2) have done 3) haven't done 4) don't do
- 44- A: I'm tired ... working for her. I can't go on.
B: But why? You're so good ... your work and she is interested in you.
1) in - of 2) at - in 3) of - at 4) about - on
- 45- Black Friday is one of the biggest shopping days of the year when shoppers can get great ... on almost everything.
1) discounts 2) handicrafts 3) workshops 4) collections
- 46- In today's world, it's not surprising to see people at the age of 30 or more who can't make enough money and still ... on their parents.
1) appreciate 2) rush 3) depend 4) prepare
- 47- Four days without food and water has made them so weak ... that they can hardly raise their arms.
1) honestly 2) physically 3) especially 4) properly
- 48- When you ... for a flight, make sure the agent tags all your suitcases and bags before sending them down the conveyer belt.
1) check in 2) look after 3) watch out 4) wake up
- 49- After she found an apartment in London, she quit her job, ... her things and moved to England.
1) increased 2) rushed 3) packed 4) preferred
- 50- In the past, this ... was used to lower blood pressure in some patients in the United States.
1) craft 2) risk 3) drug 4) mission
- 51- According to the general rules, it is strictly ... for all students to use their mobile phones at school.
1) depressed 2) forbidden 3) favorite 4) emotional
- 52- Some research has shown that people without brothers and sisters are less They always tend to spend the day alone.
1) fluent 2) harmful 3) valuable 4) sociable

PART B: Cloze Test

Directions: Read the following passage and decide which choice (1), (2), (3), or (4) best fits each space. Then mark the correct choice on your answer sheet.

Writing can be a playground for humans to be ... (53) Calligraphy, which means beautiful writing, is much more than just a way to write words in a beautiful way. It is a fine ... (54) ..., like painting, drawing or photography. It's a way of seeing life and telling what you see. Humans have looked for the most beautiful and decorative way to present their writings ... (55) ... they began writing. Calligraphy with brushes dates back to ancient China. In Islamic societies, calligraphy ... (56) ... the most important form of Islamic art because it provides a link between the languages of the Muslims with the religion of Islam.

- 53- 1) creative 2) unsafe 3) medical 4) regular
 54- 1) secret 2) invention 3) event 4) art
 55- 1) for 2) from 3) until 4) since
 56- 1) has become 2) become 3) was becoming 4) to become

PART C: Reading Comprehension

Directions: Read the following passage and answer the questions by choosing the best choice (1), (2), (3), or (4). Then mark the correct choice on your answer sheet.

Most Americans look forward to their vacation. Most American employees receive an annual vacation with pay, and it is traditional to use this time off for travel. Travelling within the United States is very popular because foreign travel generally takes more time and money. Every year about thirteen million people travel abroad. The most popular periods are during the summer and the two-week school break on Christmas and New Year holidays. These periods are also the most crowded and the most expensive time to travel, so it's better to travel in the autumn.

American tourists often travel by car. Most families own a car, and those who do not have a car can rent one. Cars are usually the most economical way to travel, especially for families. It is also fairly fast and convenient. Excellent highways with motels and restaurants nearby connect the nation's major cities. They enable tourists to travel at a speed of 55 to 66 miles an hour. Tourists that want to travel faster often fly to their destination and then rent a car when they get there.

57- According to the passage, it is TRUE that

- 1) Americans have no vacations 2) Americans often travel by train
 3) it is impossible to have a day-off in the USA 4) most Americans enjoy travelling

58- The underlined word "they" in paragraph 2 refers to

- 1) cities 2) restaurant 3) highways 4) motels

59- According to the passage, travelling during the summer

- 1) may not be a good idea 2) is not possible for tourists at all
 3) can actually be quite cheap 4) is only done by a few people each year

60- What is the main idea of paragraph 2?

- 1) The importance of restaurants connecting cities 2) Highways in the United States
 3) The popular means of travel in the United States 4) American tourists and their destinations

ریاضی و آمار (۳)

تابع

(توابع پلکانی و قدمطلق، اعمال بر روی توابع)

صفحة ۳۳، ۳۴، ۳۵

وقت پیشنهادی: ۲۰ دقیقه

هدف‌گذاری قبل از شروع هر درس در دفترچه سؤال

لطفاً قبل از شروع پاسخ‌گویی به سؤال‌های درس ریاضی و آمار (۲)، هدف‌گذاری چند از ۱۰ خود را بنویسید:

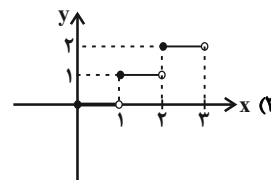
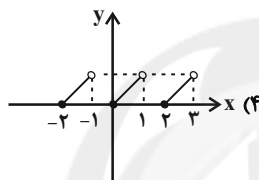
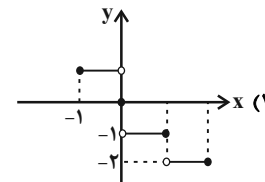
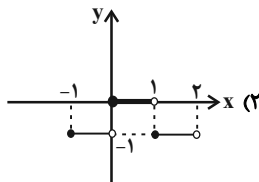
از هر ۱۰ سؤال به چند سؤال می‌توانید پاسخ صحیح بدهید؟

عملکرد شما در آزمون قبل چند از ۱۰ بوده است؟

هدف‌گذاری شما برای آزمون امروز چیست؟

چند از ۱۰ آزمون قبل	هدف‌گذاری چند از ۱۰ برای آزمون امروز

۶۱- کدام نمودار زیر، مربوط به تابع پلکانی نیست؟



۶۲- اگر تابع $f(x) = \begin{cases} (k-1)x + 6, & x \geq 0 \\ 4, & x < 0 \end{cases}$ پلکانی باشد، حاصل $f(k+1) + f(-1)$ کدام است؟

۱۲ (۴)

۱۱ (۳)

۱۰ (۲)

۸ (۱)

۶۳- حاصل عبارت $A = \text{sign}(-[-1/7]) + 2\text{sign}(-|-3/5|)$ کدام است؟ (، |]، نماد جزء صحیح است.)

۲ (۴)

-۲ (۳)

۱ (۲)

-۱ (۱)

محل انجام محاسبات

۶۴- اگر $\text{sign}([4x]) = 0$ باشد، کدام عدد نمی‌تواند باشد؟ ([] ، نماد جزء صحیح است.)

- (۱) ۰/۲ (۲) ۰/۳ (۳) ۰/۰۵ (۴) ۰/۱

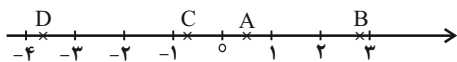
۶۵- اگر $f(x) = 2\text{sign}(x+1) + 3|x-1|$ باشد، حاصل $f(\sqrt{2}) + 2f(\sqrt{14}-4)$ کدام است؟ ([] ، نماد جزء صحیح است.)

- (۱) -۶ (۲) -۲ (۳) ۱ (۴) صفر

۶۶- اگر $\text{sign}(x-1) = \text{sign}(x^2+1)$ باشد، محدوده تغییرات x کدام است؟

- (۱) $x > -1$ (۲) $x > \frac{1}{2}$ (۳) $x > 0$ (۴) $x > 1$

۶۷- با توجه به محور زیر که محل قرارگیری اعداد A ، B ، C و D را نشان می‌دهد، حاصل عبارت $\frac{2[A]-3[B]}{4[C]+6[D]}$ کدام است؟ ([] ، نماد جزء صحیح است.)



- (۱) $\frac{2}{9}$ (۲) $\frac{5}{7}$

- (۳) $\frac{7}{2}$ (۴) $\frac{3}{14}$

۶۸- حاصل عبارت $\frac{3 \times [1-\pi] - [2\pi]}{[-0/07] + [2/05]}$ کدام است؟ ([] ، نماد جزء صحیح است.)

- (۱) -۶ (۲) -۱۲ (۳) -۱۵ (۴) -۸

۶۹- اگر $f(x) = \begin{cases} -3[x] & , x < -3 \\ 4 & , -3 \leq x \leq 2 \\ \text{sign}(x-3) & , x > 2 \end{cases}$ باشد، حاصل $f(4) + f(-2\sqrt{5}) + f(1)$ کدام است؟ ([] ، نماد جزء صحیح است.)

- (۱) ۱۸ (۲) ۲۰ (۳) ۲۲ (۴) ۱۶

۷۰- اگر $0 \leq x < 3$ باشد، بُرد تابع $y = [x] - 1$ کدام است؟ ([] ، نماد جزء صحیح است.)

- (۱) $\{1, 2, 3\}$ (۲) $\{-1, 0, 1\}$ (۳) $\{-2, -1, 0\}$ (۴) $\{0, 4\}$

۷۱- اگر نمودار تابع $f(x) = |x+a|$ به صورت باشد، مقدار $f(7)$ کدام است؟

- (۱) ۲ (۲) ۴ (۳) ۸ (۴) ۶

۷۲- مساحت محدود بین نمودار تابع $y = 3 - |x|$ و محور طول‌ها کدام است؟

- (۱) $13/5$ (۲) ۲۷ (۳) ۹ (۴) ۱۲

۷۳- حاصل عبارت $A = |2\sqrt{3} - \sqrt{2}| + |\sqrt{3} - 3\sqrt{2}| - |-\sqrt{2}|$ کدام است؟

- (۱) $\sqrt{2} + \sqrt{3}$ (۲) $\sqrt{2} - \sqrt{3}$ (۳) $-\sqrt{3} - 3\sqrt{2}$ (۴) $-\sqrt{3} + 3\sqrt{2}$

۷۴- اگر $0 < a < b$ باشد، حاصل $A = |a-b| + |b+1| - |2-a|$ کدام است؟

- (۱) $2a+b$ (۲) $2b-1$ (۳) $2a-1$ (۴) $b-1$

۷۵- اگر $f(x) = \text{sign}(x)$ و $g(x) = [x]$ باشد، دامنه تابع $\frac{f}{g}$ کدام است؟

(۱) $\{x \mid 0 \leq x < 1\}$

(۲) $\mathbb{R} - \{0\}$

(۳) $\{x \mid x \geq 1\}$

(۴) $\{x \mid x \geq 1 \text{ یا } x < 0\}$

۷۶- اگر $f(x) = \begin{cases} 2 & , x \geq 0 \\ -2 & , x < 0 \end{cases}$ و $g(x) = \begin{cases} 2x & , x \geq 0 \\ -2x & , x < 0 \end{cases}$ باشند، حاصل $(f - 2g)(x)$ به ازای $x = f(-3)$ کدام است؟

(۱) -۱۴

(۲) ۱۴

(۳) -۲۰

(۴) ۲۰

۷۷- اگر $f(x) = [x] - 3$ با دامنه $1 \leq x < 3$ و $g(x) = |x| + 3$ با دامنه $2 \leq x < 3$ باشند، ضابطه و دامنه تابع $f + g$ کدام است؟

(۱) $\begin{cases} D_{f+g} = \{2 \leq x \leq 3\} \\ (f+g)(x) = x - [x] \end{cases}$

(۲) $\begin{cases} D_{f+g} = \{1 \leq x \leq 3\} \\ (f+g)(x) = |x| + [x] \end{cases}$

(۳) $\begin{cases} D_{f+g} = \{x \mid 2 \leq x < 3\} \\ (f+g)(x) = x + 2 \end{cases}$

(۴) $\begin{cases} D_{f+g} = \{2 \leq x < 3\} \\ (f+g)(x) = [x] - x \end{cases}$

۷۸- هرگاه $f(x) = x^2 - 4$ و $g(x) = 2 - x$ باشند، ضابطه تابع $\frac{4f}{f+g}$ کدام است؟

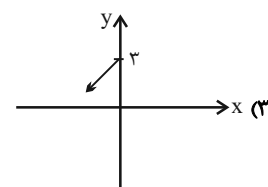
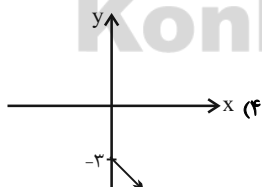
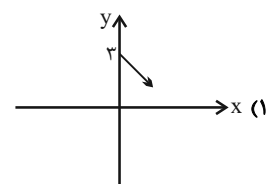
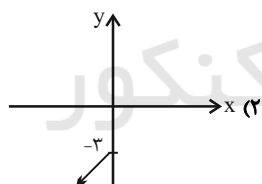
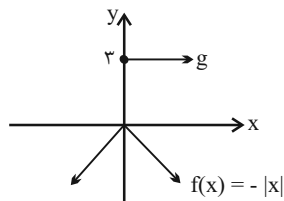
(۱) $h = \frac{4x+8}{x-1}$ و $(x \neq 1, -2)$

(۲) $h = \frac{x+4}{x+1}$ و $(x \neq -1, 2)$

(۳) $h = \frac{x+4}{x-1}$ و $(x \neq 1, 2)$

(۴) $h = \frac{4x+8}{x+1}$ و $(x \neq -1, 2)$

۷۹- با توجه به نمودار توابع f و g ، نمودار تابع $f + g$ کدام است؟



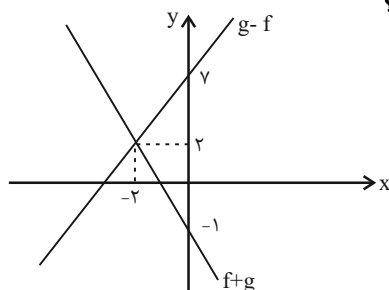
۸۰- نمودار توابع $(f+g)(x)$ و $(g-f)(x)$ به صورت زیر است. حاصل $(f \times g)(x)$ کدام است؟

(۱) -۵۴

(۲) -۷۴

(۳) -۶۰

(۴) -۹۶



علوم و فنون ادبی [۳]

تاریخ ادبیات فارسی در قرن های دهم و یازدهم،
پایه های آوایی همسان (۲)، استعاره، سبک
هندی (نا ابتدای نثر دوره هندی)
صفحه ۵۸ تا ۸۳
وَمَتِ بِيْتَهَارِكِ: ۱۵ رَیْبِقِ

هدف گذاری قبل از شروع هر درس در دفترچه سؤال

لطفاً قبل از شروع پاسخ گویی به سؤال های درس علوم و فنون ادبی (۲)، هدف گذاری چند از ۱۰ خود را بنویسید:
از هر ۱۰ سؤال به چند سؤال می توانید پاسخ صحیح بدهید؟
عملکرد شما در آزمون قبل چند از ۱۰ بوده است؟
هدف گذاری شما برای آزمون امروز چیست؟

چند از ۱۰ آزمون قبل	هدف گذاری چند از ۱۰ برای آزمون امروز

۸۱- به ترتیب، در قرن دهم حکومت در دست چه کسانی بود و کدام مضمون از جمله مضامین شعر قرن یازدهم نیست؟

- (۱) جانشینان تیمور / عاشقانه های زمینی
(۲) صفویه / تبدیل تمثیلات کهن به مضامین تازه
(۳) صفویه / تبدیل موضوعات تازه به مضامین کهن
(۴) جانشینان تیمور / توصیف و بیان امور طبیعی

۸۲- به ترتیب، کدام شاعر را به خاطر تخیل های رمزآمیز شاعرانه اش می شناسند و کدام سخنور به خاطر خیال های رنگینش مشهور است؟

- (۱) صائب تبریزی / بابافغانی شیرازی
(۲) بیدل دهلوی / کلیم کاشانی
(۳) صائب تبریزی / وحشی بافقی
(۴) بیدل دهلوی / محتشم کاشانی

۸۳- درباره ویژگی های فکری شعر هندی؛ چند اشتباه در متن زیر وجود دارد؟

«شعر هندی شعری معنی گراست، نه صورت گرا و شاعران به معنی بیشتر توجه دارند تا به زبان. شاعران این دوره برای مضمون سازی، از هر پدیده ای در عالم طبیعت یا هر موضوعی در قلمرو ذهن استفاده کردند. شاعران این دوره معمولاً مطالب فلسفی، عرفانی و غنایی گذشتگان را به شیوه آنها بازگو می کردند، کوشش شاعر سبک هندی یافتن فکری جزئی؛ اما تازه و گفته و بیان آن به صورتی اعجاب انگیز است.»

- (۱) یک (۲) دو (۳) سه (۴) چهار

۸۴- در بیت کدام گزینه ویژگی های زبانی سبک هندی وجود ندارد؟

- (۱) بخیه شبینم و گل بر رخ کار افتاده است / ورنه حیران تو صاحب نظری نیست که نیست
(۲) من که با مویی به قوت بر نیایم ای عجب / با یکی افتاده ام کاو بگسلد زنجیر را
(۳) از نزاکت رنگ گل بر چهره گل بشکند / خار از بی طاقتی در چشم بلبل بشکند
(۴) با عقل گشتم همسفر یک کوچه راه از بی کسی / شد ریشه ریشه دامنم از خار استدلال ها

۸۵- کدام بیت با برخورداری از آرایه های «تلمیح و حس آمیزی» نمونه ای از اشعار سبک هندی است؟

- (۱) انتظار قتل، نامردی است در آیین عشق / خون خود چون کوهکن مردانه می ریزیم ما
(۲) بدو گفت رستم که ای شوربخت / که هرگز مبادا گل آن درخت
(۳) نیست پروا تلخکامان را ز تلخی های عشق / آب دریا در مذاق ماهی دریا خوش است
(۴) در بساط من ز عنقای سبک پرواز عمر / خواب سنگینی چو کوه قاف بر جا مانده است

۸۶- در کدام دو بیت، «استعاره پنهان» وجود دارد؟

- (الف) نثار روی تو هر برگ گل که در چمن است / فدای قد تو هر سرو بن که بر لب جوست
(ب) ماهم این هفته برون رفت و به چشمم سالی است / حال هجران تو چه دانی که چه مشکل حالی است
(پ) به بالا ز رستم همی رفت خون / بشد سست و لرزان گه بیستون
(ت) خبرش ز رشک جان ها، نرسد به ماه و اختر / که چو ماه او بر آید، بگدازد آسمان ها
(ث) نماز در خم آن ابروان محرابی / کسی کند که به خون جگر طهارت کرد
(ج) چو خورشید بر تخت زرین نشست / شب تیره رخسار خود را بیست

- (۱) الف - ب (۲) الف - ت (۳) ث - ج (۴) پ - ت

۸۷- در کدام بیت، تعداد «استعاره آشکار» کم تر است؟

- (۱) به آواز بر جان افراسیاب / بنفرید (نفرین کرد) با نرگس و گل پر آب
- (۲) دلا! تا کی در این زندان فریب این و آن بینی / یکی زین چاه ظلمانی برون شو تا جهان بینی
- (۳) مرا برف باریده بر پر زاغ / نشاید چو بلبل تماشای باغ
- (۴) مرا در خانه سروی است کاندز سایه فذش / فراغ از سرو بستانی و شمشاد چمن دارم

۸۸- در همه گزینه‌ها اضافه استعاری مشهود است، به جز ...

- (۱) پیشانی عفو تو را پرچین نسازد جرم ما / آینه کی بر هم خورد از زشتی تمثال‌ها
 - (۲) فردا که پیشگاه حقیقت شود پدید / شرمنده رهروی که عمل بر مجاز کرد
 - (۳) ز نوبهار به رقص است ذره ذره خاک / تو نیز جزو زمینی، در این بهار مخسب
 - (۴) سعدیا کنگره وصل بلند است لیکن / تا سر اندر ننهی دست بدانجا نرسد
- ۸۹- ابیات کدام گزینه به ترتیب از تکرار چهار بار «فعولن، مفتعلن، مستفعلن» تشکیل شده است؟

- (الف) زاهدان را چون ز منظوری نهانی چاره نیست / پس نشاید عیب کردن رند درد آشام را
- (ب) گفت که تو کشته نه‌ای در طرب آغشته نه‌ای / پیش رخ زنده کنش کشته و افکنده شدم
- (پ) بی سببی ترک من ای ترک پریرخ چه دهی / بی گنهی قصد من ای خسرو خوبان چه کنی
- (ت) مرا مصلحت نیست لیکن همان به / که در پرده باشی و بیرون نیایی

(ث) یک لحظه بود این یا شبی کز عمر ما تاراج شد / ما همچنان لب بر لبی نابرگرفته کام را

- (۱) ت - ب - ث (۲) پ - الف - ث (۳) ت - الف - ب (۴) پ - ث - ت

۹۰- چند مصراع بر وزن «فعلاتن» سروده شده است؟

- (الف) تو نه آنی که دگر کس بنشیند به مکانت
- (ب) به جفایی و قفایی نرود عاشق صادق
- (پ) خرم آن مردان که روزی خائنین در خون کشیدند
- (ت) کشیدم در برت ناگاه و شد در تاب گیسویت
- (ث) صبحی گناه است در پای سرو
- (ج) چو گل بیرون شد از بستان چه حاصل

- (۱) چهار (۲) سه (۳) یک (۴) دو

تاریخ [۳]**ایران از ورود اسلام تا پایان صفویه**

(ظهور و گسترش تمدن ایرانی - اسلامی، ایران در دوران غزنوی، سلجوقی و قوارزمشاهی، حکومت، جامعه و اقتصاد در عصر مغول - تیموری، فرهنگ و هنر در عصر مغول - تیموری)
 صفحه ۸۹ و ۱۳۴
وقت پیشنهادی: ۱۰ دقیقه

هدف گذاری قبل از شروع هر درس در دفترچه سؤال

لطفاً قبل از شروع پاسخ گویی به سؤال های درس **تاریخ (۲)**، هدف گذاری چند از ۱۰ خود را بنویسید:
 از هر ۱۰ سؤال به چند سؤال می توانید پاسخ صحیح بدهید؟
 عملکرد شما در آزمون قبل چند از ۱۰ بوده است؟
 هدف گذاری شما برای آزمون امروز چیست؟

چند از ۱۰ آزمون قبل	هدف گذاری چند از ۱۰ برای آزمون امروز

۹۱- دوره مسلمانان مغول ها در ایران از زمان چه کسی شروع شد و مرگ کدام ایلخان مغول آغازگر چهار دهه آشفتگی سیاسی و نابسامانی نسبی

در اوضاع اجتماعی و اقتصادی ایران بود و نخستین اقدام هولاکو پس از لشکرکشی به ایران چه بود؟

(۱) هولاکو - الجایتو - از بین بردن قدرت اسماعیلیان با گشودن قلعه های مستحکم آن ها

(۲) هولاکو - ابوسعید - تسخیر بغداد و کشتن خلیفه عباسی

(۳) غازان - الجایتو - تسخیر بغداد و کشتن خلیفه عباسی

(۴) غازان - ابوسعید - از بین بردن قدرت اسماعیلیان با گشودن قلعه های مستحکم آن ها

۹۲- به ترتیب، کدام گزینه پاسخ سؤال های زیر می باشد؟

الف) در عصر ایلخانان، هنر نگارگری تلفیقی از سنت های نقاشی ایرانی و کدام سرزمین بود؟

ب) شاهنامه بایسنقری مربوط به کدام عصر است؟

پ) در زمان شاهرخ تیموری و جانشینانش، کدام شهر به یکی از کانون های بزرگ علمی، فرهنگی و هنری جهان اسلام تبدیل شد؟

ت) کمال الدین بهزاد از نامورترین نقاشان کدام عصر است؟

(۱) هندی - تیموری - سمرقند - تیموری

(۲) چینی - ایلخانی - هرات - ایلخانی

(۳) هندی - ایلخانی - سمرقند - ایلخانی

(۴) چینی - تیموری - هرات - تیموری

۹۳- در عصر تیموریان، کدام علم از اقبال بیشتری برخوردار بود و مراکز علمی و کتابخانه های کدام شهرها در زمان جانشینان تیمور بسیار فعال بودند؟

(۱) ریاضیات و نجوم - هرات و سمرقند

(۲) معارف دینی - هرات و سمرقند

(۳) ریاضیات و نجوم - مراغه و بخارا

(۴) معارف دینی - مراغه و بخارا

۹۴- چه عاملی در زمان مغولان باعث شد که پیروان دین های گوناگون در میان آنان به تبلیغ دین خود بپردازند و در دوره ایلخانان به دنبال

کوشش های علمی و فرهنگی چه کسی، تشیع در ایران گسترش یافت؟

(۱) اختلاف اهل تسنن، شیعیان و صوفیان - خواجه نصیرالدین توسی

(۲) اختلاف اهل تسنن، شیعیان و صوفیان - خواجه نظام الملک توسی

(۳) تسامح و تساهل دینی مغولان - خواجه نصیرالدین توسی

(۴) تسامح و تساهل دینی مغولان - خواجه نظام الملک توسی

۹۵- به ترتیب، کدام گزینه پاسخ درست سؤالات زیر است؟

الف) چه کسی هنرمندان و صنعتگران شهرهایی که فتح می کرد به پایتخت خود می فرستاد تا در آبادانی آن بکوشند؟

ب) دگرگونی نسبی در بافت قومی و جمعیتی ایران مربوط به کدام دوران می شود؟

پ) جامعه ایران در کدام دوره به دو دسته فرادست و فرودست تقسیم می شد؟

(۱) غازان خان - سلجوقی و خوارزمشاهی - مغول و تیموری

(۲) تیمور - مغول و تیموری - مغول و تیموری

(۳) تیمور - سلجوقی و غزنوی - خوارزمشاهی و مغول

(۴) شاهرخ - تیموری و سلجوقیان - مغول و تیموری

۹۶- بنیان قوانین جاری در ایران دوران اسلامی، مبتنی بر دو سرچشمه شریعت اسلام و ... بود و محاکم سه گانه شرع، مظالم و ... براساس این قوانین قضاوت می کردند و دعای حقوقی مغولان در دادگاهی موسوم به ... حل و فصل می شد و برخلاف اقتصاد کشاورزی، اقتصاد شهری و

تجاری در عصر مغول و تیموری وضعیت به مراتب ... داشت.

- (۱) عرف - عرض - یرغو - بدتری
 (۲) عرف - حسب - یرغو - بهتری
 (۳) شرع - حسب - یرغو - بهتری
 (۴) شرع - عرض - یاسا - بدتری

۹۷- علت جنگ علویان طبرستان با طاهریان و سامانیان چه بود؟

- (۱) هر دو مدعی جانشینی عباسیان بودند.
 (۲) طاهریان و سامانیان متحد عباسیان بودند و علویان همواره با عباسیان روابط خصمانه داشتند.
 (۳) علویان طبرستان مدعی بودند که طاهریان و سامانیان خلافت را غصب کرده اند.
 (۴) طاهریان و سامانیان به دنبال مشروعیت بخشیدن به حکومت خود بودند و علویان را غاصب خلافت می دانستند.

۹۸- به ترتیب، در کدام گزینه صحیح یا غلط بودن هر یک از عبارتهای زیر به درستی بیان شده است؟

- (الف) در زمان البارسلان، سلسله سلجوقی به اوج قدرت رسید.
 (ب) با پیروزی اتسز خوارزمشاه بر آخرین سلطان سلجوقی، حکومت سلجوقیان منقرض شد.
 (پ) خلیفه عباسی به طغرل سلجوقی لقب «سلطان رکن الدوله» را داد.
 (ت) صرافان در دوره سلجوقی وظیفه انجام معاملات پولی و تسهیل مبادله کالاها را برعهده داشتند.
- (۱) ص - غ - ص - غ
 (۲) غ - غ - ص - ص
 (۳) ص - غ - غ - ص
 (۴) غ - ص - ص - غ

۹۹- زبان و ادب فارسی در چه زمانی اوج گرفت و کدام زبان علی رغم ورود اسلام به ایران در میان عامه مردم رایج بود؟

- (۱) ساسانیان - فارسی میانه
 (۲) سامانیان - فارسی دری
 (۳) صفاریان - فارسی دری
 (۴) صفاریان - فارسی میانه

۱۰۰- به ترتیب، کدام گزینه پاسخ صحیح سؤالهای زیر است؟

- (الف) بهانه محمود برای حمله به ری که تحت حاکمیت آل بویه شیعه مذهب بود، کدام است؟
 (ب) محمود غزنوی به چه بهانه ای کتابخانه مهم ری را به آتش کشید؟
 (پ) کدام سلطان غزنوی و در کدام جنگ از سلجوقیان شکست خورد و حکومت خود در خراسان را از دست داد؟
- (۱) مبارزه با مخالفان خلافت عباسی - وجود کتابهای فلسفی - سلطان مسعود و جنگ دندانقان
 (۲) وجود کتابهای ضد دینی - ضدیت با خلیفه عباسی - سلطان مسعود و جنگ ملازگرد
 (۳) وجود کتابهای فلسفی - ضدیت با خلیفه عباسی - سلطان مسعود و جنگ دندانقان
 (۴) وجود کتابهای ضد دینی - اسماعیلی بودن - سلطان محمد و جنگ دندانقان

جغرافیا [۲]**نواحی انسانی، نواحی سیاسی**

(نوامی اقتصادی «کشاورزی و صنعتی»، نوامی

اقتصادی «تجارت و اقتصاد جهانی»، معنا و

مفهوم نامیه سیاسی)

صفحه ۸۳ تا ۱۲۶

وقت پیشنهادی: ۱۵ دقیقه

هدف گذاری قبل از شروع هر درس در دفترچه سؤال

لطفاً قبل از شروع پاسخ گویی به سؤال های درس **جغرافیا (۲)**، هدف گذاری چند از ۱۰ خود را بنویسید:

از هر ۱۰ سؤال به چند سؤال می توانید پاسخ صحیح بدهید؟

عملکرد شما در آزمون قبل چند از ۱۰ بوده است؟

هدف گذاری شما برای آزمون امروز چیست؟

چند از ۱۰ آزمون قبل	هدف گذاری چند از ۱۰ برای آزمون امروز
---------------------	--------------------------------------

۱۰۱- برخی از مهم ترین مراکز دامداری تجاری در جهان کدام است و بیشتر مزارع تک محصولی در کدام نواحی استوایی قرار دارند؟

(۱) ایالات متحده آمریکا، اتحادیه اروپا، استرالیا - نواحی دور از مناطق ساحلی

(۲) زلاندنو، آرژانتین، چین - نواحی نزدیک به رود آمازون

(۳) آرژانتین، زلاندنو، اتحادیه اروپا - در نزدیکی ساحل دریاها

(۴) ایالات متحده آمریکا، برزیل، فرانسه - در حاشیه نواحی جنگلی

۱۰۲- فعالیت هایی که در فرایند آن ها خدماتی به دیگران ارائه می شود، جزء کدام دسته از طبقه بندی فعالیت های اقتصادی محسوب می شود و

کشاورزی تجاری به دنبال چه مسئله ای در جهان گسترش یافت و بیشتر برنج دنیا در کدام قسمت آسیا کشت می شود؟

(۱) نوع چهارم - انقلاب سبز - غرب و جنوب غرب

(۲) نوع سوم - انقلاب سبز - شرق و جنوب شرق

(۳) نوع چهارم - رشد جمعیت - غرب و جنوب غرب

(۴) نوع سوم - رشد جمعیت - شرق و جنوب شرق

۱۰۳- کدام دسته از موارد در رابطه با «شاخص توسعه انسانی» درست است؟

(۱) درآمد و رفاه، سواد و آموزش، امید به زندگی

(۲) متوسط طول عمر، قدرت خرید، تورم

(۳) رونق اقتصاد، رکود بازار، قدرت خرید

(۴) متوسط طول عمر، رونق تجارت، سواد و آموزش

۱۰۴- در گذشته کدام کشورها برای دستیابی به منطقه خلیج فارس با یکدیگر به رقابت می پرداختند و شبه جزیره کریمه تا پیش از فروپاشی اتحاد

جماهیر شوروی بخشی از خاک کدام کشور محسوب می شد و تونل مانش چقدر طول دارد و در چند متری زیر دریا ساخته شده است؟

(۱) انگلستان و آمریکا - اوکراین - ۵۲ کیلومتر، ۳۰ متر

(۲) روسیه و انگلستان - اوکراین - ۵۲ کیلومتر، ۴۰ متر

(۳) انگلستان و آمریکا - روسیه - ۶۲ کیلومتر، ۳۰ متر

(۴) روسیه و انگلستان - روسیه - ۶۲ کیلومتر، ۴۰ متر

۱۰۵- پس از چه واقعه ای، کشورهای جهان به دو بلوک شرق و غرب تقسیم شدند و شرکت های چند ملیتی از شرکت های محلی در کشورهای

میزبان به چه منظوری استفاده می کنند و در اقتصاد کشورهای گروه اول از نظر مبادلات تجاری جهانی حمایت از بخش های تولیدی داخلی

چگونه است؟

(۱) جنگ جهانی اول - طراحی و فناوری علمی اصلی - قوی

(۲) جنگ جهانی اول - تولید یا فروش کالاها و خدمات خود - قوی

(۳) جنگ جهانی دوم - تولید یا فروش کالاها و خدمات خود - ضعیف

(۴) جنگ جهانی دوم - طراحی و فناوری علمی اصلی - ضعیف

۱۰۶- پاسخ پرسش‌های زیر در کدام گزینه به ترتیب، آمده است؟

الف) نواحی صنعتی ایالات متحده آمریکا بیشتر در کدام قسمت آن قرار دارند؟

ب) کدام کشور در دو دهه اخیر در زمینه صنعت به رشد قابل ملاحظه‌ای دست یافته و به یک قدرت صنعتی جهانی تبدیل شده است؟

پ) صنایع نو با کدام نوع فعالیت‌های اقتصادی ارتباط نزدیکی دارند؟

(۱) شمال شرق - کره جنوبی - سوم

(۲) شمال غرب - چین - چهارم

(۳) شمال شرق - چین - چهارم

(۴) شمال غرب - کره جنوبی - سوم

۱۰۷- ارکان اصلی نواحی سیاسی کدامند و حد اعمال اراده سیاسی یک نظام مدیریت یا حکومت چیست؟

(۱) قلمرو و فضای جغرافیایی، سازه انسانی و نظام مدیریت - خطوط مرزی

(۲) کانون ناحیه سیاسی، فضای جغرافیایی و نظام مدیریت - خطوط مرزی

(۳) قلمرو و فضای جغرافیایی، سازه انسانی و نظام مدیریت - کانون ناحیه سیاسی

(۴) کانون ناحیه سیاسی، فضای جغرافیایی و نظام مدیریت - کانون ناحیه سیاسی

۱۰۸- صحیح یا غلط بودن عبارت‌های زیر در کدام گزینه به ترتیب، بیان شده است؟

الف) کشور سنگاپور جزء کشورهای پیرامونی محسوب می‌شود.

ب) نفتا، سازمان همکاری اقتصادی جنوب غربی آسیا است.

پ) حدود ۹۰ درصد تجارت جهانی از نظر وزن کالاهایی که جابه‌جا می‌شوند، از طریق حمل و نقل دریایی و توسط کشتی‌ها صورت می‌گیرد.

ت) سیمان از طریق کشتی‌های فله‌بر حمل می‌شود.

(۱) غ - ص - غ - ص

(۲) غ - غ - ص - ص

(۳) ص - غ - ص - غ

(۴) ص - غ - غ - ص

۱۰۹- به بخشی از سطح زمین که تحت مدیریت سیاسی یا فرمانروایی یک قدرت سیاسی باشد، چه می‌گویند و هنگ‌کنگ جزء کدام نوع از

تقسیم‌بندی ناحیه سیاسی می‌باشد؟

(۱) سرزمین - ناحیه سیاسی ملی

(۲) مرز جغرافیایی - ناحیه سیاسی ویژه

(۳) ناحیه سیاسی - ناحیه سیاسی ویژه

(۴) ساختار انسانی - ناحیه سیاسی ملی

۱۱۰- از چه زمانی و با چه رویدادی استعمارگری اروپایی‌ها در جهان گسترش یافت؟

(۱) قرن‌های پانزدهم و شانزدهم - پیشرفت در دریانوردی

(۲) قرن‌های پانزدهم و شانزدهم - وقوع انقلاب صنعتی

(۳) قرن هجدهم - وقوع انقلاب صنعتی

(۴) قرن هجدهم - پیشرفت در دریانوردی

پاسخ دادن به این سؤالات اجباری است و در تراز کل شما تأثیر دارد.

سؤالات «گواه»

۱۱۱- کدام گزینه به ترتیب پاسخ صحیح هر یک از سؤالات زیر می باشد؟

(الف) در کشورهای کدام دو قاره بخش عمده غذای مردم را غلات تشکیل می دهند؟

(ب) در رابطه با اصطلاح «کشت و صنعت» کدام گزینه درست می باشد؟

(۱) آسیایی و آفریقایی - در این نوع کشاورزی معمولاً از فناوری های پیشرفته و ابزار آلاتی مانند تراکتور، کمباین و ... استفاده می شود.

(۲) آسیایی و اروپایی - در این نوع کشاورزی معمولاً در کنار مزارع کارخانه هایی برای تبدیل، بسته بندی و توزیع محصولات در بازارهای مصرف پدید می آید.

(۳) آسیایی و آفریقایی - در این نوع کشاورزی معمولاً در کنار مزارع کارخانه هایی برای تبدیل، بسته بندی و توزیع محصولات در بازارهای مصرف پدید می آید.

(۴) اروپایی و آمریکایی - در این نوع کشاورزی معمولاً از فناوری های پیشرفته و ابزار آلاتی مانند تراکتور، کمباین و ... استفاده می شود.

۱۱۲- کدام گزینه با توجه به عبارتهای زیر درباره طبقه بندی فعالیت های اقتصادی صحیح است؟

(الف) بخشی از فعالیت های اقتصادی که فراهم کننده خدمات مربوط به پژوهش و تحقیق و توسعه است.

(ب) فعالیت هایی که در فرآیند آنها خدماتی مانند تجارت، حمل و نقل و خرید و فروش ارائه می شود.

(پ) زندگی بشر امروز به ماشین آلات و ابزار، وسایل الکترونیک، چوب و کاغذ و صنایع شیمیایی وابسته است.

(۱) فعالیت نوع چهارم - فعالیت نوع سوم (کشاورزی) - فعالیت نوع اول (صنعت)

(۲) فعالیت نوع سوم (صنعت) - فعالیت نوع دوم (خدمات) - فعالیت نوع چهارم

(۳) فعالیت نوع دوم (خدمات) - فعالیت نوع سوم (صنعت) - فعالیت نوع چهارم

(۴) فعالیت نوع چهارم - فعالیت نوع سوم (خدمات) - فعالیت نوع دوم (صنعت)

۱۱۳- تصویر (الف) نشان دهنده عنصر ... و تصویر (ب) نشان دهنده عنصر ... و تصویر (ج) نشان دهنده عنصر ... در تعریف اقتصاد است.



(ج)



(ب)



(الف)

(۴) مبادله - مصرف - تولید

(۳) تولید - توزیع - مبادله

(۲) مصرف - تولید - توزیع

(۱) توزیع - تولید - مبادله

۱۱۴- شهر علمی ژاپن چه نام دارد و صنایع «های تک» به طور عمده با کدام صنایع سروکار دارند و پیشرفت آنها بر چه مبنایی است و پارک های

علمی و فناوری در نزدیکی چه مراکزی ایجاد می شوند؟

(۱) اوزاکا - ریزپردازنده ها - سرمایه گذاری های کلان - دانشگاهی

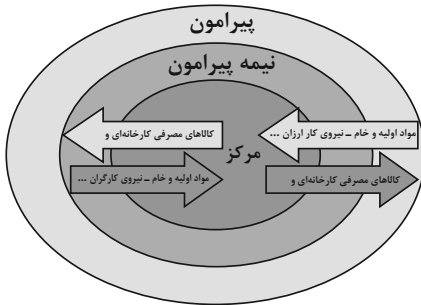
(۲) اوزاکا - میکروالکترونیک ها - سرمایه گذاری های کلان - قطب های صنعتی

(۳) تسوکوبا - میکروالکترونیک ها - نوآوری و رقابت - قطب های صنعتی

(۴) تسوکوبا - ریزپردازنده ها - نوآوری و رقابت - دانشگاهی

۱۱۵- کدام گزینه با توجه به تصویر زیر نادرست است و در ارتباط با کشورهایی که اقتصاد آن‌ها مبتنی بر تولید و صدور مواد اولیه و خام است

درست می‌باشد؟



(۱) برخی نواحی نقش «پیرامون» دارند که به لحاظ اقتصادی به مرکز وابسته هستند - در این نوع

اقتصاد حمایت از بخش‌های تولیدی داخلی ضعیف است و صادرات گسترش زیادی دارد.

(۲) کشورهای نیمه پیرامون از نظر اقتصادی از کشورهای پیرامون ضعیف‌تر هستند و ساختار اقتصادی آن‌ها دچار تغییر و تحول شده است - اقتصاد این کشورها در برابر نوسانات قیمت در بازارهای جهانی آسیب‌پذیری زیادی دارند.

(۳) کشورهای «مرکز»، کشورهای «پیرامون» را استثمار کرده‌اند و بر آن سیطره اقتصادی دارند - در این نوع اقتصاد کاهش قیمت خرید محصولات آن‌ها می‌تواند شوک‌های عظیمی به اقتصادشان وارد کند.

(۴) کشورهای پیرامون از نظر توسعه صنعتی و فناوری‌های نوین در سطح بالایی قرار دارند - در این نوع اقتصاد حمایت از بخش‌های تولیدی خارجی ضعیف است و واردات گسترش زیادی دارد.

۱۱۶- کدام گزینه از اتحادیه‌های اقتصادی منطقه‌ای محسوب نمی‌گردد و بندر شانگهای از چه نظر رتبه نخست بنادر جهان را داراست و کشور

بنگلادش جزء کدام گروه از کشورها از نظر اقتصادی به حساب می‌آید؟

(۱) آکو - تعداد کشتی‌های فله‌بر - نیمه پیرامون

(۲) نفتا - تعداد کشتی‌های فله‌بر - نیمه پیرامون

(۳) آ.سه. آن - تعداد جابه‌جایی کانتینر - پیرامون

(۴) اوپک - تعداد جابه‌جایی کانتینر - پیرامون

۱۱۷- هر یک از موارد زیر به ترتیب مربوط به کدام ناحیه سیاسی می‌باشد؟

(الف) از استقلال محدودی برخوردارند و در امور سیاست خارجی و دفاع، تابع حکومت مرکزی هستند.

(ب) اتباع خارجی می‌توانند بدون اخذ روادید وارد این منطقه شوند.

(ج) اخذ روادید بین کشورهای هم‌پیمان لزومی ندارد.

(۱) الف) ناحیه سیاسی ویژه (خودمختار) (ب) ناحیه سیاسی ویژه (آزاد تجاری) (ج) ناحیه سیاسی منطقه‌ای

(۲) الف) نواحی خودمختار (ب) نواحی خودمختار (ج) ناحیه سیاسی فروملی

(۳) الف) ناحیه سیاسی ویژه (آزاد تجاری) (ب) ناحیه سیاسی ملی (ج) ناحیه سیاسی ملی

(۴) الف) ناحیه سیاسی منطقه‌ای (ب) ناحیه سیاسی آزاد تجاری (ج) ناحیه سیاسی فروملی

۱۱۸- دو قطبی شدن شهرها و پیدایش مناطق مرفه‌نشین، که به طبقه ثروتمند اختصاص دارد و مناطق فقیرنشین که فاقد امکانات، از ویژگی‌های ایدئولوژی ... است و در فضای کشورهایی با ایدئولوژی ... بلوک‌های مسکونی یک‌دست و هم‌شکل که نمای یکسان دارند، فراوان مشاهده می‌شود.

(۱) سرمایه‌داری - سوسیالیستی

(۲) سوسیالیستی - سرمایه‌داری

(۳) کمونیستی - سوسیالیستی

(۴) سرمایه‌داری - اسلامی

۱۱۹- کدام عبارت زیر در ارتباط با تصویر داده شده درست است؟

(۱) توافق‌ها و تصمیمات سیاسی و اقتصادی حکومت‌ها بر فضای جغرافیایی تأثیر چندانی ندارد.

(۲) سیاست‌ها و تصمیماتی که حکومت یک کشور در زمینه اقتصاد، اشتغال و توزیع درآمد اتخاذ می‌کند، بر توزیع امکانات و تجهیزات در نواحی مختلف اثر می‌گذارد.

(۳) تصمیم‌گیری‌های مدیریت سیاسی و اداری یک ناحیه بر فضای جغرافیایی آن ناحیه تأثیر می‌گذارد.

(۴) وجود یک منطقه حساس بر کشمکش‌های بین حکومت‌ها تأثیر می‌گذارد.

۱۲۰- به ترتیب هر یک از مثال‌های زیر، مربوط به کدام انواع نواحی سیاسی است؟

«کشور مستقل ایران - شهرستان‌های استان تهران - اتحادیه اروپا»

(۱) ناحیه سیاسی ملی - ناحیه سیاسی منطقه‌ای - ناحیه سیاسی فراملی

(۲) ناحیه سیاسی منطقه‌ای - ناحیه سیاسی فروملی - ناحیه سیاسی ملی

(۳) ناحیه سیاسی منطقه‌ای - ناحیه سیاسی ملی - ناحیه سیاسی فراملی

(۴) ناحیه سیاسی ملی - ناحیه سیاسی فروملی - ناحیه سیاسی فراملی



جامعه‌شناسی [۲]**چالش‌های جهانی**

(جهان دوقطبی، جنگ‌ها و تقابل‌های جهانی،

بمراzenهای اقتصادی و زیست‌محیطی،

بمراzenهای معرفتی و معنوی)

صفحة ۷۳ ۱۰۳

وقت پیشنهادی: ۱۰ دقیقه**هدف‌گذاری قبل از شروع هر درس در دفترچه سؤال**لطفاً قبل از شروع پاسخ‌گویی به سؤال‌های درس **جامعه‌شناسی (۲)**، هدف‌گذاری چند از ۱۰ خود را بنویسید:

از هر ۱۰ سؤال به چند سؤال می‌توانید پاسخ صحیح بدهید؟

عملکرد شما در آزمون قبل چند از ۱۰ بوده است؟

هدف‌گذاری شما برای آزمون امروز چیست؟

چند از ۱۰ آزمون قبل	هدف‌گذاری چند از ۱۰ برای آزمون امروز

۱۲۱- صحیح یا غلط بودن گزاره‌های زیر در کدام گزینه به‌ترتیب، آمده است؟

(الف) از دیدگاه کنت، جنگ در فرهنگ و جامعه جدید غربی، امری عارضی و ذاتی است.

(ب) در جنگ جهانی دوم برای اولین بار از سلاح‌های شیمیایی استفاده شد.

(پ) هیچ یک از دو جنگ جهانی، منشأ دینی نداشت و ظاهر مذهبی و دینی نیز به خود نگرفت.

(ت) در مرحله آخر درگیری‌ها در جهان معاصر، دولت - ملت‌ها بازیگران اصلی صحنه روابط بین‌المللی هستند.

(۱) غ - غ - ص - ص (۲) غ - ص - ص - غ (۳) ص - غ - ص - غ (۴) غ - غ - ص - ص

۱۲۲- به‌ترتیب، کدام فرهنگ، طبیعت را ماده خام و بی‌جانی می‌داند که انسان اجازه هرگونه تصرفی را در آن دارد و بحران زیست‌محیطی، ابتدا در

کدام حوزه قرار داشت؟

(۱) فرهنگ اساطیری - رابطه انسان با جوامع دیگر

(۲) فرهنگ مدرن - رابطه انسان با طبیعت

(۳) فرهنگ اساطیری - رابطه انسان با طبیعت

(۴) فرهنگ مدرن - رابطه انسان با جوامع دیگر

۱۲۳- ... در صورتی که کنترل نشود، می‌تواند به فروپاشی حکومت‌ها منجر شود و آسیب‌های مربوط به ... همواره متوجه قشرهای فقیر و ضعیف

جامعه است.

(۱) بحران اقتصادی - بحران اقتصادی

(۲) چالش فقر و غنا - فقر و غنا

(۳) بحران اقتصادی - فقر و غنا

(۴) چالش فقر و غنا - بحران اقتصادی

۱۲۴- مهم‌ترین بحران اقتصادی در فرهنگ غرب چه زمانی به‌وجود آمد و تفاوت بحران اقتصادی و چالش فقر و غنا چیست؟

(۱) فاصله بین دو جنگ جهانی - چالش فقر و غنا، مقطعی و بحران اقتصادی همیشگی است.

(۲) سال ۱۸۲۰ م در انگلستان - چالش فقر و غنا، همیشگی و بحران اقتصادی مقطعی است.

(۳) سال ۱۸۲۰ م در انگلستان - بحران اقتصادی همیشگی و چالش فقر و غنا مقطعی است.

(۴) فاصله بین دو جنگ جهانی - بحران اقتصادی مقطعی و چالش فقر و غنا همیشگی است.

۱۲۵- اقتصاد قرون وسطی بر اساس چه روابطی بود و چه کسی حق حیات فقرا را نفی می‌کرد؟

(۱) ارباب - رعیتی، ریکاردو

(۲) ارباب - رعیتی، مالتوس

(۳) سرمایه‌داری - کارگری، مالتوس

(۴) سرمایه‌داری - کارگری، ریکاردو

۱۲۶- چه کسی در نیمه دوم قرن نوزدهم، لیبرالیسم اقتصادی را نقد کرد و از نظر او، چالش‌های جامعه سرمایه‌داری، چگونه قابل حل است و

رویکرد او به عالم، چگونه رویکردی بود و چالش بلوک شرق و غرب چه نوع چالشی بود؟

(۱) مالتوس - آزادی اقتصادی - سوسیالیست - بین فرهنگی

(۲) مارکس - یک انقلاب - سکولار - درون فرهنگی

(۳) مالتوس - یک انقلاب - سوسیالیست - درون فرهنگی

(۴) مارکس - آزادی اقتصادی - سکولار - بین فرهنگی

۱۲۷- دو اصطلاح استعمارگر و استعمارزده را چه کسانی به کار می‌برند و کدام اصطلاح به آسان شدن انتقال ثروت از کشورهای غیرغربی به

کشورهای غربی اشاره دارد؟

- (۱) کسانی که مشکل کشورهای فقیر را خودباختگی فرهنگی آن‌ها می‌دانند. - توسعه‌یافته و توسعه‌نیافته
- (۲) کسانی که معتقدند کشورهای پیرامونی به سبب عملکرد کشورهای مرکز، ضعیف و فقیر شده‌اند. - مرکز و پیرامون
- (۳) کسانی که معتقدند جوامع غربی، چالش‌های درونی خود را از طریق بهره‌کشی از کشورهای غیرغربی حل می‌کنند. - توسعه‌یافته و توسعه‌نیافته
- (۴) کسانی که چالش و نزاع بین کشورهای غنی و فقیر را به ابعاد اقتصادی محدود نمی‌کنند. - مرکز و پیرامون

۱۲۸- کدام گزینه به ترتیب، تکمیل‌کننده عبارات زیر است؟

(الف) مفاهیم شمال و جنوب عمدتاً ... به کار گرفته شد، زیرا ...

(ب) مراد از جهان دوم، ... است.

- (۱) الف) بعد از جنگ جهانی دوم - برخی اندیشمندان معتقد بودند چالش اصلی بین بلوک غرب و شرق، نیست بلکه بین کشورهای غنی و فقیر است. (ب) کشورهایی که در کانون بلوک شرق قرار دارند.
- (۲) الف) بعد از جنگ جهانی اول - بیشتر کشورهای صنعتی و ثروتمند در نیم‌کره شمالی زمین و اغلب کشورهای فقیر در نیم‌کره جنوبی قرار دارند. (ب) کشورهایی که خارج از دو بلوک غرب و شرق قرار دارند.
- (۳) الف) بعد از جنگ جهانی اول - برخی اندیشمندان معتقد بودند چالش اصلی بین بلوک غرب و شرق، نیست بلکه بین کشورهای غنی و فقیر است. (ب) کشورهای سرمایه‌داری بلوک غرب
- (۴) الف) بعد از جنگ جهانی دوم - بیشتر کشورهای صنعتی و ثروتمند در نیم‌کره شمالی زمین و اغلب کشورهای فقیر در نیم‌کره جنوبی قرار دارند. (ب) کشورهایی که خارج از دو بلوک غرب و شرق قرار دارند.

۱۲۹- به ترتیب، هر یک از موارد زیر نتیجه چیست؟

(الف) آسیب‌های اجتماعی، اقتصادی و سیاسی همچون مهاجرت و حاشیه‌نشینی

(ب) نوید تسلط و پیروزی بر طبیعت از جانب انسان مدرن

(پ) ایجاد طرح پیمان باسل توسط سازمان ملل

- (۱) ورود بحران زیست‌محیطی به حوزه روابط انسان با طبیعت - گسترش زندگی مدرن - کم اطلاعاتی دولت‌ها از مزایای صادرات زباله در تجارت بین‌الملل
- (۲) سرایت بحران زیست‌محیطی به روابط انسان‌ها و جوامع - انقلاب صنعتی - جلوگیری از انتقال زباله‌های کشورهای صنعتی به کشورهای فقیر
- (۳) ورود بحران زیست‌محیطی به حوزه روابط انسان با طبیعت - انقلاب صنعتی - جلوگیری از انتقال زباله‌های کشورهای صنعتی به کشورهای فقیر
- (۴) سرایت بحران زیست‌محیطی به روابط انسان‌ها و جوامع - گسترش زندگی مدرن - کم اطلاعاتی دولت‌ها از مزایای صادرات زباله در تجارت بین‌الملل

۱۳۰- به ترتیب، کدام گزینه با توجه به عبارتهای زیر جدول زیر را به درستی تکمیل می‌کند؟

(ب)	وارد کردن زبان‌های جبران‌ناپذیر به انسان و طبیعت	(ج)	مشکل سرنوشت‌ساز قرن بیستم
برخورداری طبیعت از ابعاد و نیروهای ماورائی	(الف)	کودکانه پنداشتن نگاه معنوی به طبیعت	(د)

بحران‌های زیست محیطی

انسان مدرن

نگاه اساطیری

گسترش سریع صنعت و فناوری مدرن

(۴) الف - د - ج - ب

(۳) د - ج - ب - الف

(۲) د - الف - ج - ب

(۱) الف - د - ب - ج

فلسفه

ابزارهای شناخت / نگاهی به تاریخچه معرفت /

چیستی انسان (۱)

مفهوم ۷۵۳۵۰

وقت پیشنهادی: ۱۰ دقیقه

هدف‌گذاری قبل از شروع هر درس در دفترچه سؤال

لطفاً قبل از شروع پاسخ‌گویی به سؤال‌های درس فلسفه، هدف‌گذاری چند از ۱۰ خود را بنویسید:
از هر ۱۰ سؤال به چند سؤال می‌توانید پاسخ صحیح بدهید؟
عملکرد شما در آزمون قبل چند از ۱۰ بوده است؟
هدف‌گذاری شما برای آزمون امروز چیست؟

چند از ۱۰ آزمون قبل	هدف‌گذاری چند از ۱۰ برای آزمون امروز

۱۳۱- از نظر ... اخلاقی بودن انسان در وهله اول لزوم ... را در وی اثبات می‌کند.

(۱) کانت - وجود روح
(۲) دکارت - وجود اختیار و اراده

(۳) کانت - وجود اختیار و اراده
(۴) دکارت - وجود روح

۱۳۲- کدام‌یک از گزینه‌های زیر، در مورد ابن‌سینا نادرست است؟

- (۱) تأملات وی در گسترش اندیشه‌های ارسطو در مورد علیت و ابعاد مختلف آن، هنوز قابل استفاده است.
(۲) به نظر وی قانون علیت از تجربه و آزمایش به‌دست نمی‌آید، بلکه برعکس خودش پایه و اساس هر تجربه‌ای است.
(۳) قانون علیت از قواعد اولیه تعقل است که انسان در شناخت اغلب پدیده‌ها از آن استفاده می‌کند.
(۴) ابن‌سینا علوم طبیعی را از لحاظ عقلی بررسی کرد و قواعد عقلی آن را توضیح و تبیین نمود.

۱۳۳- کدام عبارت در رابطه با «شناخت تجربی» صحیح است؟

- (۱) حس، موارد جزئی را مشاهده و تحلیل می‌کند و عقل، قانون کلی را استنباط می‌کند.
(۲) قواعد عقلی که شناخت تجربی بر پایه آن‌ها استوار هستند، می‌توانند از طریق تجربه اثبات شوند.
(۳) حس، فقط امور جزئی را مشاهده می‌کند و عقل به کمک استدلال استقرایی آن‌ها را تعمیم می‌دهد.
(۴) برای معتبر بودن شناخت تجربی لازم نیست حتماً از قواعد عقلی مانند قانون علیت بهره برد.

۱۳۴- کدام مورد از عوامل عدم قطعیت احکام تجربی نمی‌باشد؟

- (۱) تجربه نمی‌تواند به همه خصوصیات اشیاء دست یابد.
(۲) بسیاری از نتایج تجربی احتمالی است.
(۳) میان تجربه انسان‌ها تفاوت وجود دارد.
(۴) روش تجربه، پاسخگوی سؤالات مهم انسان نیست.

۱۳۵- کدام یک به تفکر ماتریالیست‌ها اشاره دارد؟

- (۱) به علت نبود تفاوت واقعی میان انسان و سایر حیوانات، نمی‌توان برای انسان ارزش ویژه‌ای قائل شد.
(۲) علت توجه انسان به اهداف، درگیری آن‌ها با زندگی فردی و اجتماعی است.
(۳) انسان چیزی نیست جز حیوان راست قامتی پیچیده.
(۴) ذهن انسان ماشین پیچیده‌ای است که روح دارد.

۱۳۶- کدام گزینه پیرامون برترین شهود صحیح است؟

- (۱) این معرفت بی‌واسطه است و بدون استدلال بر قلب مردم تجلی می‌کند.
- (۲) میزان بهره‌برداری مردم از آن به توانایی و همت آنان بستگی دارد.
- (۳) حقایق، معانی، کلمات و عبارات بر قلب افراد مستعد نازل می‌شود.
- (۴) این معرفت به انسان‌ها امکان می‌دهد تا به یافته‌هایی سودمند دربارهٔ کل هستی برسند.

۱۳۷- از نظر علامه طباطبایی ریشهٔ نظریه فلسفی پیوند عقل و کشف و شرع، در کلام کدام یک از فلاسفه زیر دیده نمی‌شود و نظام فلسفی چه

کسی بر پایهٔ شهود می‌باشد؟

- (۱) معلم ثانی - ملاصدرا
- (۲) معلم اول - ملاصدرا
- (۳) ارسطو - شیخ‌شهاب‌الدین سهروردی
- (۴) ابونصر فارابی - شیخ‌شهاب‌الدین سهروردی

۱۳۸- کدام گزینه صحیح است؟

- (۱) سوفسطائیان به سبب اختلاف‌نظرهای دانشمندان تنها راه رسیدن به حقیقت را حس می‌دانند.
- (۲) افلاطون با تدوین منطق، گامی مهم در این زمینه برداشت و توانست مانع رشد سفسطه در جامعه شود.
- (۳) افلاطون به شهود قلبی معتقد بود و عالم برتر را مشاهده کرد.
- (۴) فارابی و ابن‌سینا با وجود پذیرش شناخت شهودی، آن را در تبیین‌های فلسفی خود وارد نکردند.

۱۳۹- به ترتیب، کدام گزینه مربوط به دیدگاه هراکلیتوس و پارمنیدس می‌باشد؟

- (۱) اهمیت به عقل در کنار حس - عدم یکسانی حقیقت و متفاوت بودن آن نسبت به هر کس
- (۲) وجود ثبات و پایداری در همهٔ اشیاء - اعتبار داشتن شناخت حسی با وجود احتمال خطا در آن
- (۳) پی بردن به وجود حرکت از طریق حس در این جهان - عدم اعتبار شناخت حسی به دلیل وجود خطا در حواس
- (۴) عدم وجود حرکت در جهان - اهمیت به حس در کنار عقل

۱۴۰- همهٔ موارد زیر در ارتباط با افلاطون و دیدگاه وی در مورد حقیقت انسان صحیح است؛ به جز ...

- (۱) نفس انسان در هنگام تولد، حالت بالقوه دارد و هیچ چیز بالفعلی ندارد.
- (۲) دیدگاه وی به میزان زیادی منعکس‌کنندهٔ دیدگاه سقراط است.
- (۳) تنها موجودی که به طور خاص دارای عقل و خرد است، نفس است و این نفس چیزی نامرئی است.
- (۴) انسان علاوه بر بدن، دارای حقیقت برتری است که محدودیت‌های بدن را ندارد.

روانشناسی

تفکر (۱) حل مسئله، تفکر (۲) تصمیم گیری

صفحة ۱۱۲ (۱۵۷۳)

وقت پیشنهادی: ۱۰ دقیقه

هدف‌گذاری قبل از شروع هر درس در دفترچه سؤال

لطفاً قبل از شروع پاسخ‌گویی به سؤال‌های درس روان‌شناسی، هدف‌گذاری چند از ۱۰ خود را بنویسید:
از هر ۱۰ سؤال به چند سؤال می‌توانید پاسخ صحیح بدهید؟
عملکرد شما در آزمون قبل چند از ۱۰ بوده است؟
هدف‌گذاری شما برای آزمون امروز چیست؟

چند از ۱۰ آزمون قبل	هدف‌گذاری چند از ۱۰ برای آزمون امروز

۱۴۱- در کدام گزینه، نوع مسئله بیان شده، از اقسام مسئله خوب تعریف نشده است؟

(۱) رنج‌های کودکی چگونه بر شخصیت بزرگسالی تأثیرگذار هستند؟

(۲) چرا درد حاصل از حمله قلبی مدت‌ها پس از جراحی باقی می‌ماند؟

(۳) چرا بیماری دیابت در بزرگسالان نسبت به کودکان بیشتر است؟

(۴) چرا علت اصلی مرگ و میرهای امروزی، بر بیماری‌های عفونی متمرکز است؟

۱۴۲- کدام یک از تصمیم‌های زیر، از نوع «معمولی و پیچیده» می‌باشد؟

(۱) انتخاب بهترین دروازه‌بان از بین دانش‌آموزان مدرسه

(۲) انتخاب شغل آینده

(۳) انتخاب شهر مورد نظر برای سکونت از بین تمام شهرهای ایران

(۴) انتخاب غذای مورد نظر از بین دو غذا در یک غذاخوری

۱۴۳- به ترتیب، هریک از موارد زیر مربوط به کدام پیامد ناتوانی در تصمیم‌گیری می‌باشد؟

(الف) یاسمن تمایل به زدن واکسن ندارد اما از طرفی می‌ترسد دچار بیماری شود، او در این تصمیم‌گیری دچار تردید شده است.

(ب) علی رتبه خوبی در کنکور کسب کرده است او در هنگام انتخاب رشته در اولویت‌بندی میان دو رشته مطلوب خود، روان‌شناسی و حقوق، دچار تعارض است.

(پ) زهرا به غذاهای فست‌فودی علاقه بسیاری دارد، اما همیشه در هنگام تصمیم‌گیری برای خوردن آن، به علت ترس از چاقی دچار تردید می‌شود.

(۱) اجتناب - اجتناب / گرایش - اجتناب / اجتناب - اجتناب

(۲) گرایش - اجتناب / گرایش - گرایش / اجتناب - اجتناب

(۳) اجتناب - اجتناب / گرایش - گرایش / گرایش - اجتناب

(۴) گرایش - اجتناب / گرایش - اجتناب / گرایش - گرایش

۱۴۴- به ترتیب، هر یک از عبارتهای زیر به کدامیک از روشهای اکتشافی حل مسئله مربوط است؟

الف) این روش بیش تر در حل مسائل ریاضی کاربرد دارد.

ب) مسئله برج هانوی با این روش حل می شود.

پ) روش مهندسی معکوس نمونه ای از این روش است.

(۱) روش خرد کردن - روش کاهش تفاوت وضعیت موجود با وضعیت مطلوب - روش بارش مغزی

(۲) روش خرد کردن - روش بارش مغزی - روش شروع از آخر

(۳) روش شروع از آخر - روش کاهش تفاوت وضعیت موجود با وضعیت مطلوب - روش شروع از آخر

(۴) روش شروع از آخر - روش بارش مغزی - روش خرد کردن

۱۴۵- هر یک از عبارتهای زیر به کدام یک از عوامل مؤثر در حل مسئله اشاره دارد؟ (به ترتیب)

الف) وقتی به شدت درگیر حل مسئله هستیم ولی نمی توانیم آن مسئله را حل کنیم، فردی می گوید بیا جور دیگری به مسئله توجه کنیم.

ب) ابوعلی سینا هر موقع قادر به حل مسئله نبود، از این روش استفاده می کرد.

(۱) اثر نهفتگی - تجربه گذشته

(۲) نوع نگاه به مسئله - تجربه گذشته

(۳) اثر نهفتگی - نوع نگاه به مسئله

(۴) نوع نگاه به مسئله - نادیده گرفتن حل مسئله برای مدتی خاص

۱۴۶- به وضعیت عاطفی ناخوشایندی که در اثر ناتوانی در حل مسئله به وجود می آید، ... می گویند که باعث ... می شود.

(۱) ناکامی - فشار روانی

(۲) فشار روانی - ناکامی

(۳) ناکامی - پرخاشگری

(۴) فشار روانی - پرخاشگری

۱۴۷- به ترتیب، هر یک از موارد زیر مربوط به کدام سبک تصمیم گیری می باشد؟

الف) بلافاصله با پشیمانی همراه است.

ب) در این سبک تصمیم گیری، افراد معتقدند همه چیز خود به خود درست می شود.

پ) براساس اطاعت کورکورانه از دیگران تصمیم گیری می شود.

(۱) احساسی - تکانشی - وابسته

(۲) تکانشی - احساسی - اجتنابی

(۳) احساسی - وابسته - اجتنابی

(۴) تکانشی - اجتنابی - وابسته

۱۴۸- به ترتیب، مرحله چهارم و پنجم تصمیم‌گیری در کدام گزینه به درستی مطرح شده است؟

(۱) بیان ویژگی‌های هر انتخاب - ارزیابی پیامدهای هر اولویت

(۲) بیان ویژگی‌های هر انتخاب - اجرای بهترین اولویت

(۳) ارزیابی پیامدهای هر انتخاب - اجرای بهترین اولویت

(۴) اجرای بهترین اولویت - ارزیابی پیامدهای هر انتخاب

۱۴۹- کدام گزینه نادرست است؟

(۱) تصمیم‌گیری، «ارزیابی راه‌های مختلف و انتخاب بهترین راه» است.

(۲) حضرت علی (ع) در حکمت ۱۷۳ نهج‌البلاغه به اهمیت مشورت کردن در تصمیم‌گیری اشاره می‌کنند.

(۳) تصمیم‌گیری نوعی حل مسئله است.

(۴) در تصمیم‌گیری، تصمیم‌گیرندگان مسئله، باید راه‌حل‌های مسئله مورد نظر را خودشان بازآفرینی کنند.

۱۵۰- «مریم خواستگاری دارد که از قبل او را دوست دارد. پدر مریم با تحقیق درباره پسر متوجه عیب‌هایی در او می‌شود و این موارد را به

دخترش اطلاع می‌دهد، با این وجود مریم به نکات مثبت اندکی که پسر دارد اصرار می‌ورزد و هنوز مایل به ازدواج با او است.» در مثال

فوق به کدام یک از موانع تصمیم‌گیری اشاره شده است؟

(۲) سوگیری تأیید

(۱) کنترل نکردن هیجانات

(۴) کوچک شمردن خود

(۳) اعتماد افراطی