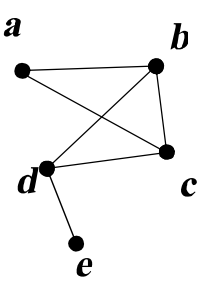
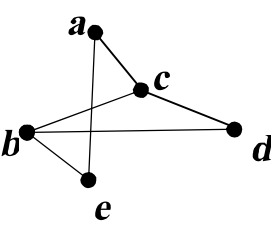


سؤالات امتحان نهایی درس: ریاضیات گسسته	نام و نام خانوادگی:	ساعت شروع: ۱۰ صبح	رشته: ریاضی فیزیک
پایه دوازدهم دوره دوم متوسطه	تعداد صفحه: ۲	تاریخ امتحان: ۱۳۹۸/۱۰/۰۹	مدت امتحان: ۱۲۰ دقیقه
دانش آموزان روزانه، بزرگسال و داوطلبان آزاد سراسر کشور در نوبت دی ماه سال ۱۳۹۸		مرکز سنجش و پایش کیفیت آموزشی http://aee.medu.ir	

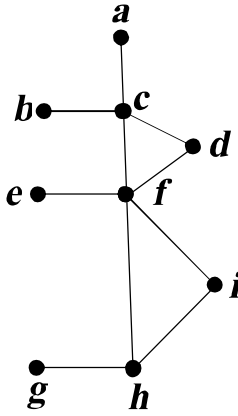
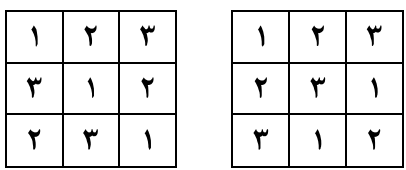
ردیف	سوال	نمره
------	------	------

۱	<p>درست یا نادرست بودن عبارات زیر را مشخص کنید.</p> <p>الف) اگر $a b$ آن گاه $a, b = m$.</p> <p>ب) معادله هم‌نهشتی $a x \equiv b \pmod{m}$ دارای جواب است اگر و تنها اگر $(a, b) m$.</p> <p>پ) تعداد رأس‌های زوج هر گراف، عددی فرد است.</p> <p>ت) تعداد توابع یک به یک از یک مجموعه ۲ عضوی به یک مجموعه ۳ عضوی برابر ۶ است.</p>	۱
۲	<p>به روش بازگشتی ثابت کنید، اگر $a > 0$ آن گاه $a + \frac{1}{a} \geq 2$.</p>	۱
۳	<p>اگر عدد طبیعی $a > 1$، در دو شرط $a 4k + 9$ و $a 6k + 14$ صدق کند، مقدار a را بیابید.</p>	۱
۴	<p>فرض کنید a عددی طبیعی باشد، حاصل $[21a^2, 35a^3]$ را به دست آورید.</p>	۱
۵	<p>باقی مانده تقسیم 13^{22} را بر ۱۷ به دست آورید.</p>	۱
۶	<p>ثابت کنید می‌توان دو طرف یک رابطه هم‌نهشتی را در عددی صحیح ضرب کرد، به عبارتی دیگر، برای اعداد صحیح a, b, c و عدد طبیعی m، اگر $a \equiv b \pmod{m}$ آن گاه $ac \equiv bc \pmod{m}$.</p>	۱
۷	<p>جواب‌های عمومی معادله سیاله خطی $9x + 13y = 7$ را به دست آورید.</p>	۱/۵
۸	<p>گراف G به صورت مقابل را در نظر بگیرید و به سوالات زیر پاسخ دهید.</p>  <p>الف) $\delta(G)$ را مشخص کنید.</p> <p>ب) اندازه گراف را تعیین کنید.</p> <p>پ) مجموعه همسایگی بسته رأس b را بنویسید.</p> <p>ت) اگر $N_G(d) = \{e, x, b\}$ باشد، کدام رأس است x؟</p>	۱/۲۵
۹	<p>الف) گراف k - منتظم از مرتبه n را تعریف کنید.</p> <p>ب) آیا گراف ۳ - منتظم از مرتبه ۵ وجود دارد؟ دلیل بیاورید.</p>	۱
۱۰	<p>گراف G به صورت مقابل را در نظر بگیرید و به سوالات زیر پاسخ دهید.</p>  <p>الف) دوری به طول ۵ مشخص کنید.</p> <p>ب) مکمل گراف G را رسم کنید.</p>	۱

« بقیه سوالات در صفحه دوم »

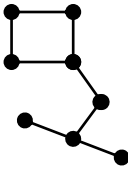
سؤالات امتحان نهایی درس: ریاضیات گسسته	نام و نام خانوادگی:	ساعت شروع: ۱۰ صبح	رشته: ریاضی فیزیک
پایه دوازدهم دوره دوم متوسطه	تعداد صفحه: ۲	تاریخ امتحان: ۱۳۹۸/۱۰/۰۹	مدت امتحان: ۱۲۰ دقیقه
دانش آموزان روزانه، بزرگسال و داوطلبان آزاد سراسر کشور در نوبت دی ماه سال ۱۳۹۸		مرکز سنجش و پایش کیفیت آموزشی http://aee.medu.ir	

ردیف	سؤالات پاسخ نامه دارد	نمره
------	-----------------------	------

۱۱	برای گراف روبه‌رو: الف) یک مجموعه احاطه‌گر با ۴ عضو مشخص کنید. ب) مجموعه‌ای از رئوس را مشخص کنید که احاطه‌گر مینیمال باشد.	۱/۲۵	
۱۲	اگر n تعداد رئوس گراف و Δ ماکزیمم درجه گراف باشد، الف) گرافی رسم کنید که برای آن عدد احاطه‌گر برابر $\left\lfloor \frac{n}{\Delta+1} \right\rfloor$ است. ب) گرافی رسم کنید که برای آن عدد احاطه‌گری بزرگ‌تر از $\left\lfloor \frac{n}{\Delta+1} \right\rfloor$ باشد.	۱/۲۵	
۱۳	با حروف کلمه «می سی سی پی» چند جایگشت ۸ حرفی با معنا یا بی معنا می‌توان نوشت؟	۱	
۱۴	۶ کتاب ریاضی مختلف و ۵ کتاب فیزیک متمایز را به چند طریق می‌توان کنار هم در یک ردیف قرار داد، به طوری که: الف) کتاب‌ها یکی در میان قرار گیرند. ب) کتاب‌های ریاضی کنار هم و کتاب‌های فیزیک نیز کنار هم باشند.	۱/۲۵	
۱۵	معادله $X_1 + X_2 + X_3 + X_4 + X_5 = 14$ چند جواب صحیح و نامنفی دارد، به شرط آن که $X_1 > 2$ ، $X_3 > 3$ باشند.	۱	
۱۶	بررسی کنید، آیا دو مربع لاتین 3×3 روبه‌رو متعامدند؟	۰/۷۵	
۱۷	با استفاده از اصل شمول و عدم شمول، تعداد توابع پوشا از یک مجموعه ۴ عضوی به یک مجموعه ۳ عضوی را به دست آورید.	۱/۷۵	
۱۸	مجموعه اعداد $A = \{1, 2, 3, \dots, 84\}$ را در نظر بگیرید. نشان دهید هر زیر مجموعه ۴۳ عضوی از A دارای ۲ عضو است که مجموعشان برابر ۸۵ است.	۱	
۲۰	جمع نمره	۲۰	"موفق باشید"

راهنمای تصحیح امتحان نهایی درس: ریاضیات گسسته		رشته: ریاضی فیزیک		ساعت شروع: ۱۰ صبح		مدت امتحان: ۱۲۰ دقیقه	
پایه دوازدهم دوره دوم متوسطه				تاریخ امتحان: ۱۳۹۸/۱۰/۰۹			
دانش آموزان روزانه، بزرگسال و داوطلبان آزاد سراسر کشور دی ماه سال ۱۳۹۸				مرکز سنجش و پایش کیفیت آموزشی http://aee.medu.ir			
ردیف	راهنمای تصحیح						نمره
۱	الف) درست (۰/۲۵) (قسمت ب سوال ۱ کار در کلاس صفحه ۱۳) ب) نادرست (۰/۲۵) (قضیه صفحه ۲۵) پ) نادرست (۰/۲۵) (نتیجه ابتدای صفحه ۴۰) ت) درست (۰/۲۵) (نکته قسمت دوم فعالیت صفحه ۷۸)						۱
۲	$a + \frac{1}{a} \geq 2 \Leftrightarrow a^2 + 1 \geq 2a \quad (0/25) \Leftrightarrow a^2 - 2a + 1 \geq 0 \quad (0/25) \Leftrightarrow (a-1)^2 \geq 0 \quad (0/25)$ همواره برقرار است، پس با برگشت روابط حکم برقرار می باشد. (۰/۲۵) (مثال اول صفحه ۷)						۱
۳	$\frac{a 4k+9}{a 6k+14} \Rightarrow a \underbrace{-6(4k+9)}_{(0/25)} + \underbrace{4(6k+14)}_{(0/25)} \Rightarrow a 2 \quad (0/25) \xrightarrow{a>1} a=2 \quad (0/25)$ (مشابه کار در کلاس صفحه ۱۱ سوال ۱)						۱
۴	$A = 21a^2 = 3 \times 7 \times a^2 \quad (0/25), \quad B = 35a^2 = 5 \times 7 \times a^2 \quad (0/25) \Rightarrow [A, B] = 105a^2 \quad (0/5)$ (مشابه سوال ۱۶ صفحه ۱۷)						۱
۵	$13 \equiv -4 \pmod{17} \rightarrow 13^2 \equiv 16 \equiv -1 \pmod{17} \rightarrow 13^{22} \equiv -1 \pmod{17} \xrightarrow{-1 \equiv 16} r = 16 \quad (0/25)$ (مشابه سوال ۹ صفحه ۲۹)						۱
۶	$a \equiv b \pmod{m} \Rightarrow m a-b \quad (0/25) \Rightarrow m c(a-b) \quad (0/25) \Rightarrow m ac-bc \quad (0/25) \Rightarrow ac \equiv bc \pmod{m} \quad (0/25)$ (ویژگی ۲ صفحه ۱۹)						۱
۷	$13y \equiv 7 \pmod{9}, (13 \equiv 4, 7 \equiv 16 \pmod{9}) \rightarrow 4y \equiv 16 \pmod{9} \xrightarrow{(4,9)=1} y \equiv 4 \pmod{9}$ $y = 9k + 4 \quad (0/25), \quad x = -13k - 5 \quad (0/25)$ (مشابه سوال ۱۲ صفحه ۲۹) (لطفاً برای راه حل های دیگر بارم مناسب در نظر بگیرید.)						۱/۵
۸	الف) $\delta(G) = 1 \quad (0/25)$ ب) $q = 6 \quad (0/25)$ پ) $N_G[b] = \{b, a, c, d\} \quad (0/5)$ ت) $x = c \quad (0/25)$ (مشابه سوال ۲ صفحه ۴۱)						۱/۲۵
۹	الف) گرافی از مرتبه n که درجه تمام رئوس آن با هم مساوی و برابر با عدد $k, k < n$ باشد. (تعریف صفحه ۳۵) ب) وجود ندارد. (۰/۲۵) زیرا: تناقض (۰/۲۵) $5 \times 3 = 2q \quad (0/25) \Rightarrow \sum_{i=1}^5 \deg v_i = 2q$ (قسمت ت سوال ۸ صفحه ۴۲)						۱
۱۰	الف) $a, c, d, b, e, a \quad (0/5)$ ب) (مشابه شکل ۱۶ صفحه ۳۷) (۰/۵) (تعریف دور صفحه ۳۸)						۱
۱۱	الف) مجموعه احاطه گر با ۴ عضو مانند: $\{c, f, h, g\} \quad (0/5)$ (کار در کلاس صفحه ۴۷) ب) احاطه گر مینیمال مانند: $\{c, f, g\} \quad (0/75)$ (لطفاً برای راه حل های دیگر بارم مناسب در نظر بگیرید.)						۱/۲۵

ادامه پاسخها در صفحه دوم

راهنمای تصحیح امتحان نهایی درس: ریاضیات گسسته		رشته: ریاضی فیزیک		ساعت شروع: ۱۰ صبح		مدت امتحان: ۱۲۰ دقیقه										
پایه دوازدهم دوره دوم متوسطه				تاریخ امتحان: ۱۳۹۸/۱۰/۰۹												
دانش آموزان روزانه، بزرگسال و داوطلبان آزاد سراسر کشور دی ماه سال ۱۳۹۸				مرکز سنجش و پایش کیفیت آموزشی http://aee.medu.ir												
ردیف	راهنمای تصحیح						نمره									
۱۲	<p>الف) برای مثال اگر $n=10$، رسم C_{10} یا P_{10}. (۰/۲۵) در این گرافها: $\gamma(G) = \left \frac{n}{\Delta+1} \right = 4$ (۰/۲۵) . (کار در کلاس صفحه ۴۹)</p> <p>ب) در گرافی مشابه $\gamma(G) = 3$ ولی (۰/۲۵) $\left \frac{n}{\Delta+1} \right = 2$، (۰/۲۵) . (فعالیت صفحه ۵۰)</p>  <p>(لطفا برای راه حل های دیگر بارم مناسب در نظر بگیرید.)</p>						۱/۲۵									
۱۳	<p>(مشابه مثال صفحه ۵۸) $\frac{8!}{4! \times 2!} = \frac{8 \times 7 \times 6 \times 5}{2} = 840$ (۰/۲۵)</p>						۱									
۱۴	<p>الف) (۰/۵) $6! \times 5! \times 2!$ (ب) (۰/۷۵) $6! \times 5! \times 2!$ (مشابه مثال صفحه ۵۷)</p>						۱/۲۵									
۱۵	<p>$y_1 + 3 + x_2 + y_3 + 4 + x_4 + x_5 = 14 \Rightarrow y_1 + x_2 + y_3 + x_4 + x_5 = 7$ (۰/۲۵)</p> <p>$\Rightarrow \binom{n+k-1}{k-1} = \binom{11}{4}$ (۰/۲۵)</p> <p>(مشابه سوال ۳ کار در کلاس صفحه ۶۱)</p>						۱									
۱۶	<p>متعامدند. زیرا در جدول ترکیب شده از دو مربع لاتین، عدد تکراری نداریم. (۰/۲۵)</p> <p>(شماره ۳ کار در کلاس صفحه ۶۶)</p> <table border="1" data-bbox="223 1176 414 1321"> <tr> <td>۱۱</td> <td>۲۲</td> <td>۳۳</td> </tr> <tr> <td>۳۲</td> <td>۱۳</td> <td>۲۱</td> </tr> <tr> <td>۲۳</td> <td>۳۱</td> <td>۱۲</td> </tr> </table> <p>(۰/۵)</p>						۱۱	۲۲	۳۳	۳۲	۱۳	۲۱	۲۳	۳۱	۱۲	۰/۷۵
۱۱	۲۲	۳۳														
۳۲	۱۳	۲۱														
۲۳	۳۱	۱۲														
۱۷	<p>$1 \leq j \leq 3 \quad A_j = \{f : A \rightarrow B \mid f(a_i) \neq b_j \quad 1 \leq i \leq 4\}$</p> <p>$A = \{a_1, a_2, a_3, a_4\}, B = \{b_1, b_2, b_3\}$ (۰/۲۵)</p> <p>$S = 3^4$ (۰/۲۵) ، $A_i = 2^4$ (۰/۲۵) ، $A_i \cap A_j = 1^4$ (۰/۲۵) ، $A_1 \cap A_2 \cap A_3 = 0$ (۰/۲۵)</p> <p>$\underbrace{ A_1 \cup A_2 \cup A_3 }_{(۰/۲۵)} = S - A_1 \cup A_2 \cup A_3 = 81 - (3 \times 16 - 3 \times 1 + 0) = 36$ (۰/۲۵)</p> <p>(مشابه فعالیت صفحه ۷۷)</p>						۱/۷۵									
۱۸	<p>(سوال ۱۲ صفحه ۸۳)</p> <p>تعداد کیبوترها = ۴۳ (۰/۲۵) و تعداد لانه ها = ۴۲ و به صورت زیر هستند. (۰/۲۵)</p> <p>(۰/۲۵)</p> <p>_____ , _____ , _____ , , _____ 1,84 2,83 3,82 42,43</p> <p>چنان چه قرار باشد کیبوترها لانه ها را اشغال کنند، آن گاه طبق اصل لانه کیبوتری حداقل دو عدد وجود دارد که در یک لانه جای می گیرند و مجموعشان ۸۵ است. (۰/۲۵)</p>						۱									

«همکاران گرامی لطفا برای راه حل های صحیح دیگر بارم را به تناسب تقسیم فرمایید.»