

دفترچه

شماره

۱



رئاست جمهوری
سازمان ملی نخبش و ارزشیابی نظام آموزش کشور

در زمینه مسائل علمی باید دنبال قله بود.

مقام معظم رهبری (مدظله العالی)

صبح جمعه ۱۴۰۳/۰۴/۲۲

دفترچه شماره ۱

آزمون اختصاصی (سراسری) ورودی دانشگاهها و مؤسسات آموزش عالی

گروه آزمایشی علوم تجربی

مدت پاسخگویی: ۴۵ دقیقه

تعداد سؤال: ۴۵

ردیف	مواد امتحانی	تعداد سؤال	از شماره	تا شماره
۱	زیست‌شناسی	۴۵	۱	۴۵

نوبت دوم – تیرماه ۱۴۰۳

استفاده از ماشین حساب مجاز نیست.
این آزمون، نمره منفی دارد.

حق چاپ، تکثیر و انتشار سؤالات به هر روش (الکترونیکی و ...) پس از برگزاری آزمون، برای تمامی اشخاص حقیقی و حقوقی تنها با مجوز این سازمان مجاز می‌باشد و با متخلفین برابر مقررات رفتار می‌شود.

* داوطلب گرامی، عدم درج مشخصات و امضا در مندرجات جدول زیر، به منزله عدم حضور شما در جلسه آزمون است.

اینجانب با شماره داوطلبی با آگاهی کامل، یکسان بودن شماره صندلی خود را با شماره داوطلبی مندرج در بالای کارت ورود به جلسه، بالای پاسخنامه و دفترچه سؤالات، نوع و کد کنترل درج شده بر روی دفترچه سؤالات تأیید می‌نمایم.

امضا:

- ۱- کدام ویژگی، یاخته‌های کوتاه سازنده آوند چوبی را از یاخته‌های بلند این آوند متمایز می‌کند؟ (اصلی‌ترین یاخته‌ها، مدنظر قرار گیرد.)
- ۱) لیگنین در دیواره آنها به شکل‌های متفاوتی قرار می‌گیرد.
 - ۲) از عرض به هم متصل‌اند و لوله پیوسته‌ای را به وجود می‌آورند.
 - ۳) رشته‌های سیتوپلاسمی از درون سوراخ سوراخ‌های دو انتهای یاخته عبور می‌کنند.
 - ۴) جریان شیره خام از یاخته‌ای به یاخته دیگر فقط از طریق منافذ لان صورت می‌گیرد.
- ۲- در یک مرد سالم، چندین غده درون ریز کوچک در پشت غده درون ریز دیگری قرار گرفته‌اند. کدام مورد، درباره این غده کوچک درست است؟
- ۱) همه آنها در یک راستا قرار گرفته‌اند.
 - ۲) در یاخته‌های متفاوت، پاسخ‌های گوناگونی را ایجاد می‌کنند.
 - ۳) ترشحات آنها همواره از طریق چرخه بازخوردی مثبت تنظیم می‌شوند.
 - ۴) مواد ساخته شده یاخته‌های دیگر را ذخیره و در صورت لزوم ترشح می‌کنند.
- ۳- مطابق با اطلاعات کتاب درسی و با توجه به فرایند تنظیم بیان ژن در هسته یوکاریوت‌ها در مرحله رونویسی، کدام عبارت نادرست است؟
- ۱) بعضی از عوامل رونویسی، در ابتدا به توالی‌هایی متصل می‌شوند که با فاصله زیادی از راه‌انداز قرار دارند.
 - ۲) همه عوامل رونویسی، سرانجام با قرار گرفتن در کنار یکدیگر، سرعت رونویسی را افزایش می‌دهند.
 - ۳) رنابسپاراز، در ابتدا به توالی خاصی متصل می‌شود و دو رشته آن را برای رونویسی از هم باز می‌کند.
 - ۴) رنابسپاراز، تحت تأثیر پروتئین‌های ویژه‌ای، مقدار رونویسی ژن‌ها را افزایش یا کاهش می‌دهد.
- ۴- با توجه به مراحل تولید زامه (اسپرم) در یک فرد جوان، کدام مورد را می‌توان بیان نمود؟
- ۱) هر یاخته‌ای که اتصال سیتوپلاسمی خود را با یاخته‌های دیگر قطع می‌کند، تاژک‌دار است.
 - ۲) هر یاخته‌ای که دوک تقسیم را تشکیل می‌دهد، یاخته‌ای کوچک‌تر از خود را به وجود می‌آورد.
 - ۳) هر یاخته‌ای که دستخوش فرایند تقسیم سیتوپلاسم می‌شود، دو مجموعه فام‌تن (کروموزوم) دارد.
 - ۴) هر یاخته‌ای که در مرحله اول اینترفاز به سر می‌برد، فام‌تن (کروموزوم)‌های دو فامینکی (کروماتیدی) دارد.
- ۵- در خصوص بخشی که رابط بین بندناف و دیواره رحم است، کدام مورد یا موارد زیر را می‌توان بیان نمود؟
- الف: پس از تشکیل آن، لایه‌های زاینده جنین به وجود آمده است.
 - ب: خون مادر و خون جنین در آن، با هم مخلوط می‌شوند.
 - ج: از زه‌شامه (کوریون) و بخشی از دیواره رحم منشأ گرفته است.
 - د: پیک شیمیایی آن، از نظر عملکرد به یکی از ترشحات هیپوفیز شباهت دارد.
- ۱) «ب» ۲) «ج» و «د» ۳) «الف» و «ب» ۴) «الف»، «ج» و «د»

- ۶- با فرض اینکه دمای محیط بالا، شدت نور زیاد و کمبود آب وجود داشته باشد، گیاه ذرت در مقایسه با گیاهان دیگر چگونه است؟
- ۱) برخلاف گیاه آناناس، در واکوئول‌های خود می‌تواند آب را به میزان زیادی ذخیره کند.
 - ۲) همانند گیاه آناناس، CO_2 جو را در درون یاخته غلاف آوندی خود تثبیت می‌کند.
 - ۳) نسبت به گیاه رز، مقدار بیشتری نشاسته و ترکیبات آلی دیگر می‌سازد.
 - ۴) نسبت به گیاه رز، با کارایی اندکی آب را به مصرف می‌رساند.
- ۷- کدام مورد دربارهٔ همهٔ جانورانی صادق است که در بخشی از قلب آنها، خون تیره و روشن با هم مخلوط می‌شود؟
- ۱) به هنگام خشکی محیط، دفع ادرار کم و مثانه برای ذخیره و باز جذب آب و یون‌ها بزرگ‌تر می‌شود.
 - ۲) جریان پیوسته‌ای از هوای تازه در مجاورت بخش مبادله‌ای آنها برقرار می‌شود.
 - ۳) لقاح یاخته‌های جنسی در خارج از بدن آنها صورت می‌گیرد.
 - ۴) شبکهٔ مویرگی زیرپوستی با مویرگ‌های فراوان دارند.
- ۸- مطابق با اطلاعات کتاب درسی، کدام عبارت نادرست است؟
- ۱) با زیاد شدن ترشح هورمون رشد، یاخته‌های استخوانی در مجاورت یاخته‌های غضروفی جدیدتر به وجود می‌آیند.
 - ۲) با کم شدن غیرطبیعی ترشح هورمون پاراتیروئیدی، برون‌ده قلب کودک کاهش می‌یابد.
 - ۳) با کاهش غیرعادی ترشح انسولین، محصولات اسیدی خون کودک افزایش می‌یابد.
 - ۴) با زیاد شدن ترشح هورمون پرولاکتین، باروری یک مرد دستخوش تغییر می‌شود.
- ۹- در صورتی که در گل میمونی، ژن نمود (ژنوتیپ) تخم ضمیمه **BBB** باشد، کدام ژن نمود (ژنوتیپ) برای یاخته‌های درون کیسهٔ گرده و یاخته‌های سازندهٔ دیوارهٔ تخمدان محتمل است؟
- (۱) AA - BB (۲) BB - AA (۳) AB - AA (۴) AB - AB
- ۱۰- به طور معمول، کدام مورد یا موارد زیر، در ارتباط با بدن انسان صحیح است؟
- الف: هر اندام لنفی موجود در ناحیهٔ سینه، در تمام مدت حیات فرد، فعالیت زیادی دارد.
- ب: هر اندام لنفی موجود در ناحیهٔ ران، در تولید گویچه‌های سفید و قرمز خون نقش دارد.
- ج: هر اندام لنفی موجود در ناحیهٔ حلق، حاوی نوعی یاخته‌های دومین خط دفاعی بدن است.
- د: هر اندام لنفی موجود در ناحیهٔ شکم، در تخریب گویچه‌های قرمز آسیب‌دیده نقش اصلی را دارد.
- (۱) «الف» (۲) «ب» و «ج» (۳) «ب»، «ج» و «د» (۴) «الف»، «ب»، «ج» و «د»
- ۱۱- دربارهٔ ارتباط یک ژن با رفتار مراقبت از زاده‌ها در موش ماده، کدام مورد زیر درست است؟
- ۱) با فعال شدن ژن B، موش مادر، نوزادان را واری می‌کند.
 - ۲) پس از فعال شدن ژن B در همه یاخته‌های موش مادر، رفتار مراقبت مادری بروز پیدا می‌کند.
 - ۳) پس از اینکه موش مادر، نوزادان را واری کرد، آنزیم‌های مربوط به ژن B فعال می‌شوند.
 - ۴) پس از غیرفعال شدن ژن B، رفتار واری نوزادان و مراقبت از آنها توسط مادر متوقف می‌شود.
- ۱۲- در ارتباط با موجوداتی که توانایی تولید محصولات لبنی مانند ماست و پنیر را دارند، کدام عبارت نادرست است؟
- ۱) هر tRNA آنها، محصول یک ژن است.
 - ۲) فرایند پروتئین‌سازی از ابتدای رنای پیک آنها آغاز می‌شود.
 - ۳) تعداد انواع پادرمزه (آنتی‌کدون)های آنها، کمتر از رمزه (کدون)ها است.
 - ۴) دنای آنها بین جایگاه آغاز و پایان RNA‌سازی، رونویسی می‌شود.

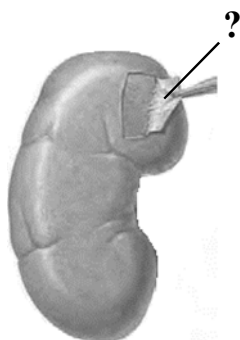
- ۱۳- کدام عبارت را می‌توان دربارهٔ دو مجرای لوزالمعده که به دوازدهه باز می‌شود، بیان نمود؟
- (۱) فقط یکی از آنها، به مجرای صفراوی متصل می‌شود.
 - (۲) هر دوی آنها، حامل بخشی از شیرۀ روده هستند.
 - (۳) فقط یکی از آنها یاخته‌هایی دارد که بسیار به یکدیگر نزدیک‌اند.
 - (۴) هر دوی آنها، محتویات خود را در مجاورت بندارۀ پیلور تخلیه می‌کنند.
- ۱۴- در کتاب درسی، به جانوری اشاره شده که در گذشته‌های دور نمی‌زیسته، درحالی‌که امروزه در حال زندگی کردن است، کدام عبارت را نمی‌توان دربارهٔ این جانور بیان نمود؟
- (۱) گونهٔ خویشاوند کوسه‌ماهی محسوب می‌شود.
 - (۲) همانند پرنده، رفتار قلمروخواهی را نشان می‌دهد.
 - (۳) همانند زنبور نر، توانایی تولید نوعی فرمون را دارد.
 - (۴) همانند طاووس نر، در نگهداری زاده‌هایش نقش دارد.
- ۱۵- کدام مورد یا موارد زیر، در خصوص ساختار دوبار (دیمر) تیمین درست است؟
- الف: بر عملکرد دنابسپاراز به هنگام همانندسازی تأثیر می‌گذارد.
- ب: پیوندی دارد که میان تیمین‌های دو رشتهٔ پلی‌نوکلئوتیدی برقرار می‌شود.
- ج: مانند سدیم نیتريت، در بدن به ترکیبی تبدیل می‌شود که قابلیت سرطان‌زایی دارد.
- د: حاصل پیوندهایی است که در نزدیکی توالی قند - فسفات شکل می‌گیرد.
- (۱) «الف»، «ب»، «ج» و «د»
 - (۲) «ب»، «ج» و «د»
 - (۳) «الف» و «د»
 - (۴) «الف»
- ۱۶- با توجه به زنجیرهٔ انتقال الکترون و تشکیل ATP در راکیزه (میتوکندری) و در ارتباط با ساختاری که توانایی انتقال پروتون‌ها را دارد و می‌تواند الکترون‌ها را از سطح خارجی غشای درونی راکیزه (میتوکندری) دریافت کند، کدام مورد نادرست است؟
- (۱) به‌طور غیرمستقیم به انرژی شیب غلظت نوعی از یون‌ها نیازمند است.
 - (۲) همواره با انتقال الکترون‌ها به اکسیژن، آب را در بخش داخلی راکیزه (میتوکندری) تولید می‌کند.
 - (۳) قسمت عمدهٔ این ساختار، در غشای داخلی راکیزه (میتوکندری) قرار دارد.
 - (۴) به‌طور غیرمستقیم از یکی از محصولات واکنش‌های قندکافت، الکترون‌ها را دریافت می‌کند.
- ۱۷- اگر توالی بخشی از رشتهٔ رمزگذار ژن زنجیرهٔ بتای هموگلوبین در فرد مبتلا به بیماری گویچه‌های قرمز داسی‌شکل (در شرایط معمولی) به صورت ACTCCTGTAGAG باشد، توالی رشته الگو در یک فرد کاملاً سالم کدام است؟
- | | |
|------------------|------------------|
| ACTCCTGAAGAG (۲) | ACUCCUGUAGAG (۱) |
| TGAGGACTTCTC (۴) | TGAGGACATCTC (۳) |
- ۱۸- کدام عبارت صحیح است؟
- (۱) در ساختار دوّم میوگلوبین، با مشاهدهٔ ساختار صفحه‌ای می‌توان تعداد پیوندهای پپتیدی آن ناحیه را محاسبه نمود.
 - (۲) در ساختار نهایی هموگلوبین و میوگلوبین، اتم آهن مستقیماً به گروه‌های R آمینواسیدهای زیرواحد متصل شده است.
 - (۳) در ساختار نهایی هموگلوبین، انتهای آمین و کربوکسیل هر زیرواحد از یکدیگر بسیار دور است.
 - (۴) در ساختار سوم میوگلوبین و هموگلوبین، همهٔ ساختارهای ماریچی هم‌اندازه هستند.

۱۹- در ارتباط با بخش‌های تشکیل‌دهنده گوش انسان، کدام مورد نا درست است؟

- (۱) در یکی از مجاری درون بخش حلزونی، گیرنده‌های شنوایی یافت می‌شوند.
- (۲) استخوان چکشی در نواحی مشخصی به دیواره گوش میانی متصل شده است.
- (۳) سراسخوان سندان با انتهای باریک استخوان چکشی مفصل شده است.
- (۴) انتهای قطور مجرای نیم‌دایره به محل دریچه بیضی نزدیک است.

۲۰- در ارتباط با بخش موردنظر در انسان، کدام مورد یا موارد زیر درست است؟

- الف: دارای ماده زمینه‌ای، رشته‌های کلاژن و کشسان است.
 ب: همه یاخته‌های موجود در آن، در محل استقرار فعلی به وجود آمده‌اند.
 ج: توسط یاخته‌هایی با ذخیره چربی فراوان احاطه شده است.
 د: بعضی از یاخته‌های آن، هسته کشیده‌ای دارند.



- (۱) «ب»، «ج» و «د» (۲) «الف»، «ج» و «د» (۳) «ب» و «د» (۴) «الف»

۲۱- به طور معمول، در صورت بروز تصلب شرایین در کدام یک از سرخرگ‌های زیر، خون‌رسانی به گره سینوسی - دهلیزی دستخوش اختلال بیشتری می‌شود؟

- (۱) سرخرگی که در ابتدای آن، دریچه‌ای وجود دارد که دارای دو قطعه آویخته است.
- (۲) سرخرگی که اغلب انشعابات آن از نزدیکی دریچه دولختی گذشته است.
- (۳) سرخرگی که در ابتدا بین دریچه سینی سرخرگ ششی و دریچه سه‌لختی منشعب گردیده است.
- (۴) سرخرگی که یکی از انشعابات آن، از نزدیکی دریچه سرخرگ ششی به پشت قلب فرستاده شده است.

۲۲- کدام ویژگی در مورد کرم کبد، نا درست است؟

- (۱) بدن برگی شکل
 - (۲) رحم پرپیچ‌وخم
 - (۳) دو غده جنسی نر، نزدیک به انتهای بدن
 - (۴) وجود دو غده جنسی ماده
- ۲۳- در خصوص بخشی از مغز انسان که در زیر لوب پس‌سری قرار دارد، کدام مورد صحیح است؟ (فرد در حالت ایستاده و سر در امتداد تنه قرار گرفته است.)

- (۱) فعالیت ماهیچه‌ها و حرکات بدن را در حالت‌های گوناگون به کمک نیمکره‌های مخ و نخاع تنظیم می‌کند.
- (۲) در گنبدی شدن ماهیچه میان‌بند (دیافراگم) و استراحت ماهیچه‌های بین‌دنده‌ای خارجی نقش اصلی را دارد.
- (۳) مرکز انعکاس‌هایی است که به بیرون راندن مواد خارجی از مجاری تنفسی کمک می‌کند.
- (۴) در یادگیری، تفکر و عملکرد هوشمندانه نقش اصلی را دارد.

۲۴- چند مورد، در ارتباط با جهش‌های کوچکی که در توالی‌های غیرتنظیمی ژن پروکاریوت‌ها رخ می‌دهد، درست است؟

- الف: هر جهشی که بر طول پلی‌پپتید می‌افزاید، به طور حتم نوعی جهش اضافه محسوب می‌شود.
 ب: جهشی که از طول پلی‌پپتید می‌کاهد، ممکن است نوعی جهش جابه‌جایی باشد.
 ج: هر جهشی که باعث ایجاد تغییر در آمینواسید پلی‌پپتید می‌شود، به طور حتم پیامد وخیمی دارد.
 د: جهشی که بر توالی آمینواسیدهای پلی‌پپتید بی‌تأثیر است، ممکن است نوعی جهش جانشینی محسوب شود.

- (۱) ۴ (۲) ۳ (۳) ۲ (۴) ۱

۲۵- در ارتباط با یکی از اجزای گل آلبالو که در مرکز نهنج وجود دارد، کدام مورد را می‌توان بیان کرد؟

(۱) ظاهری برگ‌مانند دارد و از طریق رنگ درخشان خود جانوران گرده‌افشان را جلب می‌کند.

(۲) در نوک آن، چهار تودهٔ یاخته‌ای تمایز یافته (۲n) به‌وجود می‌آید.

(۳) در جذب و نگهداری گرده نقش مؤثری دارد.

(۴) به نخستین حلقهٔ گل تعلق دارد.

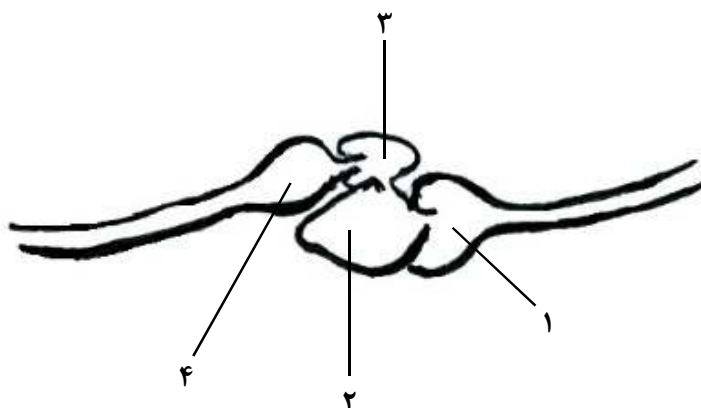
۲۶- با توجه به اطلاعات کتاب درسی و در جریان نخستین ژن درمانی موفقیت‌آمیز در سال ۱۹۹۰، بر روی دختر بچه‌ای

با نوعی نقص ژنی، کدام مرحله انجام شد؟

(۱) جاسازی ژن دو رشته‌ای در درون RNAی ویروس (۲) تزریق ویروس تغییر یافته به باکتری

(۳) جداسازی نوعی یاخته از مغز استخوان و کشت آنها (۴) حذف بخشی از مادهٔ ژنتیکی ویروس

۲۷- شکل زیر بخشی از دستگاه گردش خون نوعی جانور را نشان می‌دهد. با توجه به بخش‌های مورد نظر، کدام مورد نا درست است؟



(۱) بخش ۲ نسبت به بخش ۳، دیوارهٔ ضخیم‌تری دارد.

(۲) بخش ۴ همانند بخش ۱، حاوی خون کم‌اکسیژن است.

(۳) بخش ۱ نسبت به بخش ۴، حاوی خونی با فشار بیشتر است.

(۴) بخش ۲ همانند بخش ۳، محتویات سیاهرگ پشتی را دریافت می‌کند.

۲۸- کدام مورد را می‌توان ویژگی بخش جانبی اسکلت فردی دانست که در حالت ایستاده، پاهای خود را جفت کرده است؟

(۱) استخوان کوچک و پهن کشکک، فقط در جلوی استخوان درشت‌نی قرار دارد.

(۲) دو استخوان درشت‌نی نسبت به دو استخوان نازک‌نی، در فاصلهٔ کمتری از یکدیگر قرار دارند.

(۳) از انطباق سوراخ مهره‌های ناحیهٔ پشت، لولهٔ درازی ایجاد می‌شود که محل استقرار نخاع است.

(۴) هر استخوان مچ دست از یک طرف با استخوان ساعد و از طرف دیگر با استخوان کف دست مفصل می‌شود.

۲۹- در ارتباط با چرخهٔ تخمدانی و دورهٔ جنسی یک خانم جوان، چند مورد زیر صحیح است؟

الف: هورمونی که توسط جسم زرد ترشح می‌شود، عامل اصلی رشد انبانک (فولیکول) و تمایز مام‌یاخته (اووسیت) است.

ب: هورمونی که فعالیت ترشحاتی جسم زرد را افزایش می‌دهد، در ابتدای دورهٔ جنسی، افزایش می‌یابد.

ج: هورمونی که باعث می‌شود ضخامت و چین‌خوردگی و اندوختهٔ خونی رحم افزایش یابد، در حدود نیمه دورهٔ

جنسی افزایش می‌یابد.

د: هورمونی که با رشد انبانک (فولیکول)، میزان آن افزایش می‌یابد، در زمان‌های متفاوت دورهٔ جنسی نقش‌های

متفاوتی دارد.

۴ (۴)

۳ (۳)

۲ (۲)

۱ (۱)

- ۳۶- کدام مورد در خصوص غدهٔ معدۀ انسان، نادرست است؟
 (۱) تعداد یاخته‌های کناری کمتر از یاخته‌های اصلی است.
 (۲) یاخته‌های کناری در نیمه تحتانی غده فراوان‌تر از نیمه فوقانی آن است.
 (۳) یاخته‌های درشت این غده در بین یاخته‌های ترشح‌کنندهٔ آنزیم قرار دارند.
 (۴) یاخته‌های ترشح‌کننده مادهٔ مخاطی در بالاترین ناحیهٔ این غده هم قرار دارند.
- ۳۷- با توجه به ساختار بدن انسان، کدام عبارت درست است؟
 (۱) غدهٔ بناگوشی تنها غدهٔ بزاقی است که در محل یک مفصل متحرک قرار دارد.
 (۲) مفصل میان استخوان دنده و استخوان جناغ سینه، از نوع ثابت است.
 (۳) استخوان ران در گودیٔ پهن‌ترین بخش از استخوان نیم‌لگن فرو می‌رود و با آن مفصل می‌شود.
 (۴) استخوانی که دندان‌های بالا بر روی آن قرار دارند تنها استخوانی است که بخش پایینی کاسه چشم را می‌سازد.
- ۳۸- کدام عبارت دربارهٔ همهٔ سازوکارهایی صادق است که سبب می‌شوند با وجود انتخاب طبیعی، گوناگونی ادامه یابد؟
 (۱) دگره‌های جدیدی را به خزانه ژنی جمعیت می‌افزایند.
 (۲) فراوانی دگره‌های جمعیت را تغییر می‌دهند.
 (۳) در جمعیت در حال تعادل رخ می‌دهند.
 (۴) بر ژن‌نمود (ژنوتیپ) افراد نسل بعد بی‌تأثیرند.
- ۳۹- در ارتباط با آن دسته از اندام‌های دستگاه گوارش که آنزیم‌های تجزیه‌کنندهٔ پروتئین‌ها را ترشح می‌کنند، کدام مورد نادرست است؟
 (۱) فقط بعضی از آنها، توانایی تولید همهٔ مولکول‌های لیپوپروتئین را دارند.
 (۲) همهٔ آنها، توانایی تولید پیکری را دارند که پیام را به فاصله‌ای دور منتقل می‌کنند.
 (۳) فقط بعضی از آنها، دارای شبکه‌های یاخته‌های عصبی هستند.
 (۴) همهٔ آنها توانایی تولید بیکربنات را دارند.
- ۴۰- با توجه به بدن انسان، چند مورد را می‌توان نوعی مولکول زیستی دانست؟
 الف: هر ترکیبی که در نتیجهٔ فعالیت آنزیم تولید می‌شود.
 ب: هر ترکیبی که آنزیم برای فعالیت خود به آن نیاز دارد.
 ج: هر ترکیبی که وجود آن در روند انعقاد خون لازم است.
 د: هر ترکیبی که بسپاری از واحدهای تکرارشونده است.
- (۱) ۴ (۲) ۳ (۳) ۲ (۴) ۱
- ۴۱- در صورت امکان ازدواج مردی که دارای هر دو نوع آنزیم اضافه‌کنندهٔ کربوهیدرات‌های A و B در غشای گویچه‌های قرمز است با هر زنی که فقط توانایی تولید یک نوع آنزیم را دارد، تولد کدام مورد یا موارد زیر، محتمل خواهد بود؟
 الف: دختری با توانایی تولید هر دو نوع آنزیم
 ب: پسری با ژن‌نمود (ژنوتیپ) خالص
 ج: دختری با ژن‌نمود (ژنوتیپ) ناخالص
 د: پسری فاقد توانایی ساختن هر دو نوع آنزیم
- (۱) «د» (۲) «الف» (۳) «ب»، «ج» و «د» (۴) «الف»، «ب» و «ج»

- ۴۲- در انسان، سرخرگ اصلی کلیه برخلاف سیاهرگ اصلی آن، چه مشخصه‌ای دارد؟
- (۱) انشعابات آن در بخش قشری کلیه یافت می‌شود.
 - (۲) انشعابات در مجاورت کیسول بومن و مجرای جمع‌کننده دارد.
 - (۳) در فضای خارج کلیه، به چندین رگ کوچک‌تر از خود متصل است.
 - (۴) در ایجاد مویرگ‌های کلافاک (گلومرول) با غشای پایه ضمیم نقش دارد.
- ۴۳- در صنعت به منظور تهیه مالت از دانه‌های جو، این دانه‌ها را تحت تأثیر نوعی هورمون گیاهی وادار به جوانه‌زدن می‌کنند. کدام دو نقش زیر، درباره این هورمون، صحیح است؟
- (۱) تجزیه سبزینه (کلروفیل)ها و ظاهر شدن کاروتنوئیدها در میوه گوجه‌فرنگی و تنظیم چرخه یاخته‌های گیاهی
 - (۲) ایجاد ریشه در قلمه گیاه گندم و مهار پیری برگ‌های جداشده از گیاه زنبق
 - (۳) افزایش طول ساقه گیاه شمعدانی و درشت کردن پرتقال بدون دانه
 - (۴) سرکوب رشد جوانه‌های جانبی گیاه لوبیا و ریزش برگ گیاه رز
- ۴۴- کدام عبارت نادرست است؟
- (۱) در اشرشیاگلای، محل باز شدن موضعی دو رشته دنا به هنگام رونویسی، محل تشکیل پیوند فسفو دی‌استر است.
 - (۲) در آزولا، به هنگام رشتمان (میتوز)، دناي مادر و دناي جدید به‌طور مساوی بین دو یاخته جدید توزیع می‌شود.
 - (۳) در استرپتوکوکوس نومونیا، نقطه پایان همانندسازی در مقابل محل آغاز همانندسازی قرار دارد.
 - (۴) در اسپروژیتر، فعالیت هلیکاز قبل از جداشدن هیستون‌ها از مولکول دنا، رخ می‌دهد.
- ۴۵- مطابق با اطلاعات کتاب درسی، در هر فرد ضمن فعالیت‌های ورزشی زیاد و در جریان تأمین انرژی از مولکول‌های گلوکزی که از روده جذب شده‌اند، کدام‌یک از واکنش‌های زیر، در هر دو بخش اصلی سیتوپلاسم یاخته ماهیچه دلتایی انجام‌پذیر است؟
- (۱) کاهش نوعی ترکیب دونوکلئوتیدی
 - (۲) تولید نوعی اسید سه کربنی دوفسفاته
 - (۳) تولید کربن دی‌اکسید
 - (۴) تولید مولکول پنج‌کربنی



ریاست جمهوری

سازمان ملی بخش و ارزشیابی نظام آموزش کشور

صبح جمعه ۱۴۰۳/۰۴/۲۲

دفترچه شماره ۲

در زمینه مسائل علمی باید دنبال قله بود.

مقام معظم رهبری (مدظله العالی)

آزمون اختصاصی (سراسری) ورودی دانشگاهها و مؤسسات آموزش عالی

نوبت دوم - تیرماه ۱۴۰۳

گروه آزمایشی علوم تجربی

مدت پاسخگویی: ۷۵ دقیقه

تعداد سؤال: ۶۵

ردیف	مواد امتحانی	تعداد سؤال	از شماره	تا شماره
۱	فیزیک	۳۰	۴۶	۷۵
۲	شیمی	۳۵	۷۶	۱۱۰

استفاده از ماشین حساب مجاز نیست.
این آزمون، نمره منفی دارد.

حق چاپ، تکثیر و انتشار سؤالات به هر روش (الکترونیکی و ...) پس از برگزاری آزمون، برای تمامی اشخاص حقیقی و حقوقی تنها با مجوز این سازمان مجاز می باشد و با متخلفین برابر مقررات رفتار می شود.

* داوطلب گرامی، عدم درج مشخصات و امضا در مندرجات جدول زیر، به منزله عدم حضور شما در جلسه آزمون است.

اینجانب با شماره داوطلبی با آگاهی کامل، یکسان بودن شماره صندلی خود را با شماره داوطلبی مندرج در بالای کارت ورود به جلسه، بالای پاسخنامه و دفترچه سؤالات، نوع و کد کنترل درج شده بر روی دفترچه سؤالات تأیید می‌نمایم.

امضا:

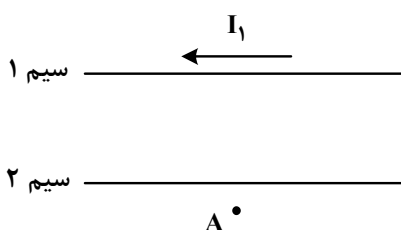
۴۶- یکای فرعی توان، کدام است؟

(۱) $\frac{\text{kgm}^2}{\text{s}^3}$ (۲) $\frac{\text{kgm}^2}{\text{s}}$ (۳) $\frac{\text{kgm}}{\text{s}^3}$ (۴) $\frac{\text{kgm}}{\text{s}}$

۴۷- معادله جریان - زمان یک مولد جریان متناوب در SI به صورت $I = 2 \sin 25^\circ \pi t$ است. در لحظه $t = 2 \text{ ms}$ جریان چند آمپر است؟

(۱) صفر (۲) ۱ (۳) ۲ (۴) $\sqrt{2}$

۴۸- شکل زیر، دو سیم موازی و بلند حامل جریان را نشان می‌دهد. اگر میدان مغناطیسی حاصل از این سیم‌ها در نقطه A صفر باشد، جهت جریان سیم ۲ به کدام سو است و رابطه بین جریان‌ها کدام درست است؟



(۱) $I_2 > I_1$ و \rightarrow

(۲) $I_1 > I_2$ و \leftarrow

(۳) $I_2 > I_1$ و \leftarrow

(۴) $I_1 > I_2$ و \rightarrow

۴۹- نوری از هوا وارد شیشه می‌شود. بخشی از موج در سطح جدایی دو محیط باز می‌تابد و بخشی دیگر شکست می‌یابد و وارد شیشه می‌شود. کدام مشخصه موج بازتابیده و موج شکست یافته و موج فرودی یکسان‌اند؟

(۱) طول موج (۲) بسامد (۳) تندی انتشار (۴) شدت نور

۵۰- جرم ماهواره‌ای 250 kg است و فاصله آن از سطح زمین 3600 km است. وزن ماهواره در این ارتفاع چند نیوتون

است؟ ($R_e = 6400 \text{ km}$ و $g = 10 \frac{\text{m}}{\text{s}^2}$)

(۱) صفر (۲) ۲۵۰۰ (۳) $409/6$ (۴) ۱۰۲۴

۵۱- اتومبیلی روی خط راست با سرعت $72 \frac{\text{km}}{\text{h}}$ در حال حرکت است. راننده با دیدن مانعی با شتاب ثابت ترمز می‌کند

و پس از ۵ ثانیه می‌ایستد. اگر جرم راننده 80 kg باشد، نیروی خالص وارد بر راننده چند نیوتون است؟

(۱) ۳۲۰ (۲) ۸۰۰ (۳) ۴۰۰ (۴) ۱۶۰

۵۲- در یک آتش‌بازی، صوتی با شدت $\frac{W}{\text{m}^2}$ به شنونده‌ای که در فاصله $r_1 = 640 \text{ m}$ از محل انفجار قرار دارد، می‌رسد.

این صوت به شنونده‌ای که در فاصله $r_2 = 160 \text{ m}$ قرار دارد، با شدت چند وات بر مترمربع می‌رسد؟ (از جذب انرژی توسط محیط صرف نظر شود.)

(۱) ۰/۴ (۲) ۱/۶ (۳) ۴ (۴) ۱۶

۵۳- نمودار جابه‌جایی - مکان یک موج عرضی که در یک ریسمان در حال انتشار است، مطابق شکل است. اگر تندی

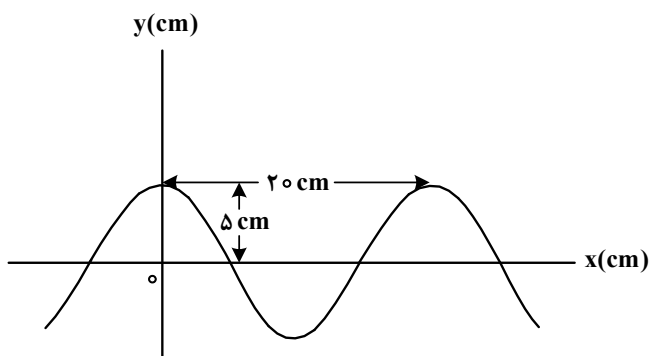
انتشار موج $10 \frac{m}{s}$ باشد، مسافتی که هریک از ذرات ریسمان در مدت $0.1s$ طی می‌کند، چند سانتی‌متر است؟

۲۰ (۱)

۱۵ (۲)

۱۰ (۳)

۵ (۴)



۵۴- معادله حرکت هماهنگ ساده نوسانگری در SI به صورت $x = 0.2 \cos 6\pi t$ است. بیشترین سرعت متوسط

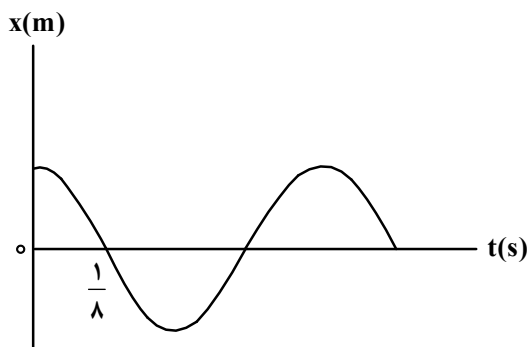
نوسانگر در مدت $0.5s$ چند سانتی‌متر بر ثانیه است؟

 $4\sqrt{2}$ (۴) $2\sqrt{2}$ (۳)

۸ (۲)

۲ (۱)

۵۵- نمودار مکان - زمان نوسانگری مطابق شکل است. اگر تندی متوسط در مدت یک دوره برابر $24 \frac{cm}{s}$ باشد، بزرگی



جابه‌جایی در بازه $t_1 = 0s$ تا $t_2 = \frac{3}{4}s$ ، چند سانتی‌متر است؟

۳ (۱)

۴ (۲)

۶ (۳)

۸ (۴)

۵۶- نمودار تعداد هسته‌های ماده پرتوزا در یک نمونه بر حسب زمان، مطابق شکل است. نیمه‌عمر این ماده پرتوزا چند

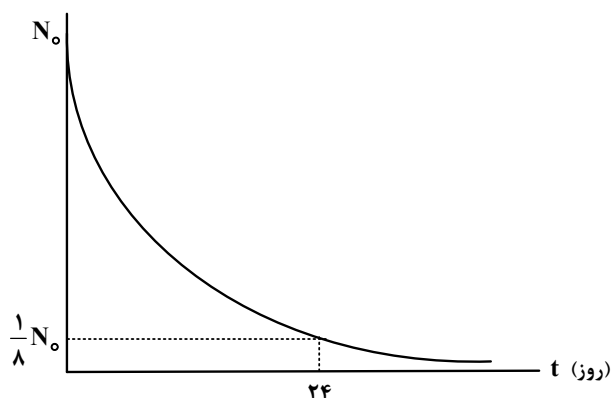
روز است؟

۱۲ (۱)

۳ (۲)

۶ (۳)

۸ (۴)



۵۷- شکل زیر، تعدادی از ترازهای انرژی اتم هیدروژن را نشان می‌دهد. کدام گذار بین دو تراز می‌تواند منجر به گسیل

فوتونی به بسامد $2.755 \times 10^{15} \text{ Hz}$ شود؟ ($h = 4 \times 10^{-15} \text{ eV.s}$)

$E_\infty = 0 \text{ eV}$ _____


$E_7 = -1.51 \text{ eV}$ _____

$E_4 = -3.4 \text{ eV}$ _____

$E_1 = -13.6 \text{ eV}$ _____

 n_1 به n_2 (۱) n_2 به n_3 (۲) n_1 به n_3 (۳) n_1 به n_∞ (۴)

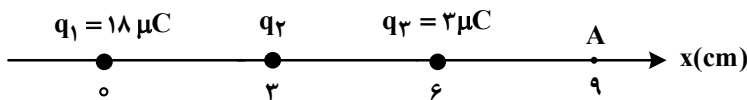
- ۵۸- طول موج سومین خط طیف اتم هیدروژن در رشته براکت ($n' = 4$) تقریباً چند نانومتر است؟ $[R = 0.01 \text{ (nm)}^{-1}]$
- (۱) ۲۰۵۷ (۲) ۲۳۷۶ (۳) ۲۶۴۲ (۴) ۲۹۳۳
- ۵۹- در شکل زیر، سه ذره باردار روی یک خط راست ثابت شده‌اند. نیروی الکتریکی خالص وارد بر هریک از بارها صفر است. کدام مورد درست است؟



(۱) $\frac{q_1}{q_3} = -\frac{3}{2}$ (۲) $\frac{q_2}{q_3} = \frac{3}{4}$ (۳) $\frac{q_2}{q_3} = -\frac{4}{3}$ (۴) $\frac{q_2}{q_1} = -\frac{4}{9}$

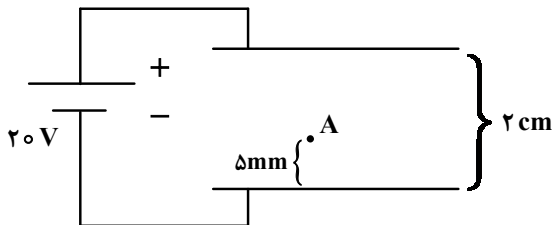
- ۶۰- مطابق شکل، سه ذره باردار روی محور x ثابت شده‌اند. بزرگی میدان الکتریکی خالص در نقطه A برابر $3 \times 10^7 \frac{N}{C}$

است. بار q_2 چند میکروکولن می‌تواند باشد؟ $(k = 9 \times 10^9 \frac{Nm^2}{C^2})$



- (۱) ۴
(۲) ۸
(۳) -۱۶
(۴) -۳۲

- ۶۱- دو صفحه رسانای موازی را به باتری وصل می‌کنیم. اگر بار $q = -5mC$ را در نقطه A رها کنیم، وقتی به صفحه بالایی می‌رسد، انرژی پتانسیل الکتریکی آن چند میلی‌ژول و چگونه تغییر می‌کند؟ (از اثر وزن ذره صرف نظر کنید).

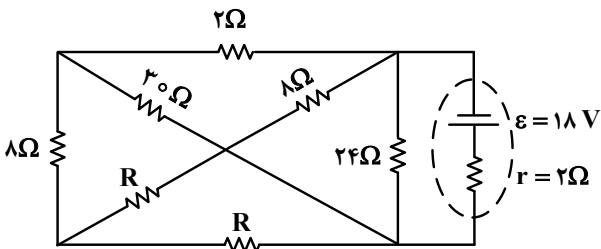


- (۱) ۱۰۰ و کاهش
(۲) ۱۰۰ و افزایش
(۳) ۷۵ و کاهش
(۴) ۷۵ و افزایش

- ۶۲- مساحت مقطع یک ریل فلزی 51 cm^2 است. مقاومت 17 km از این ریل چند اهم است؟ (مقاومت ویژه فلز $3 \times 10^{-5} \Omega \cdot \text{cm}$ است.)

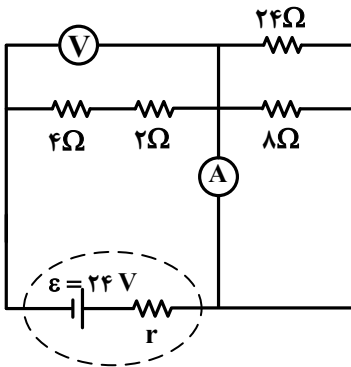
- (۱) ۱ (۲) ۰.۰۱ (۳) ۱۰۰ (۴) ۱۰

- ۶۳- در مدار زیر، اختلاف پتانسیل دو سر باتری برابر ۱۲ ولت است. مقاومت R چند اهم است؟



- (۱) ۷
(۲) ۱۴
(۳) ۱۸
(۴) ۲۸

۶۴- در مدار زیر، اگر جای آمپرسنج آرمانی و ولتسنج آرمانی عوض شود، کدام مورد درست است؟



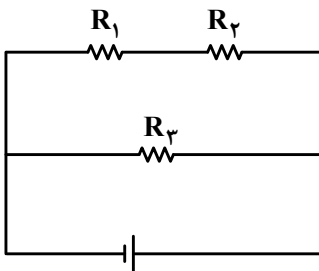
(۱) ولتسنج عدد صفر را نشان می‌دهد.

(۲) آمپرسنج عدد صفر را نشان می‌دهد.

(۳) عددی که آمپرسنج و ولتسنج نشان می‌دهند، هیچ تغییری نمی‌کند.

(۴) عددی که آمپرسنج نشان می‌دهد تغییر نمی‌کند، اما ولتسنج صفر را نشان می‌دهد.

۶۵- سه مقاومت یکسان مطابق شکل به یک باتری متصل‌اند. کدام مورد درست است؟



(۱) توان مصرفی در R_3 از توان مصرفی در هریک از مقاومت‌های R_1 و R_2 بیشتر است.

(۲) توان مصرفی در R_3 از مجموع توان مصرفی در مقاومت‌های R_1 و R_2 کمتر است.

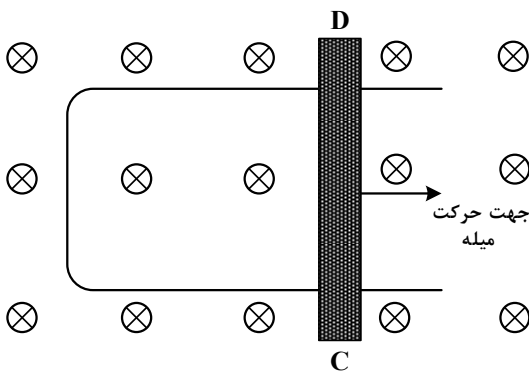
(۳) توان مصرفی در R_3 برابر مجموع توان مصرفی در مقاومت‌های R_1 و R_2 است.

(۴) توان مصرفی در هر سه مقاومت یکسان است.

۶۶- شکل زیر رسانای U شکلی را درون میدان مغناطیسی یکنواخت \vec{B} که عمود بر صفحه و رو به داخل صفحه است،

نشان می‌دهد. اگر سطح رسانا با آهنگ ثابت $20 \frac{\text{cm}^2}{\text{s}}$ افزایش یابد و بزرگی میدان مغناطیسی 5 T باشد، جهت

جریان القایی در میله کدام است و بزرگی نیروی محرکه متوسط القایی چند میلی‌ولت است؟



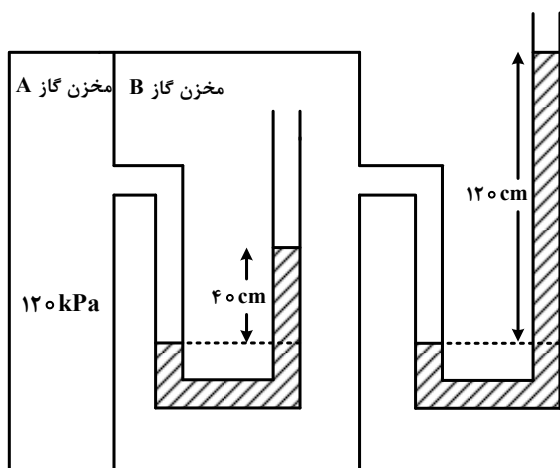
(۱) از C به D و ۲

(۲) از D به C و ۲

(۳) از D به C و ۱

(۴) از C به D و ۱

۶۷- در شکل زیر، در هر دو لوله مایع یکسانی وجود دارد. چگالی مایع چند گرم بر لیتر است؟ (فشار هوای محیط را



و 100 kPa و $g = 10 \frac{\text{m}}{\text{s}^2}$ در نظر بگیرید.)

(۱) ۱/۲۵

(۲) ۱۲۵۰

(۳) ۲/۵۰

(۴) ۲۵۰۰

۶۸- جرم یک خودروی الکتریکی به همراه راننده اش 1000 kg است. وقتی این خودرو از موقعیت A به موقعیت B

می‌رود، کل کار انجام شده روی خودرو $87/5 \text{ kJ}$ است. اگر تندی خودرو در موقعیت A برابر $54 \frac{\text{km}}{\text{h}}$ باشد، تندی

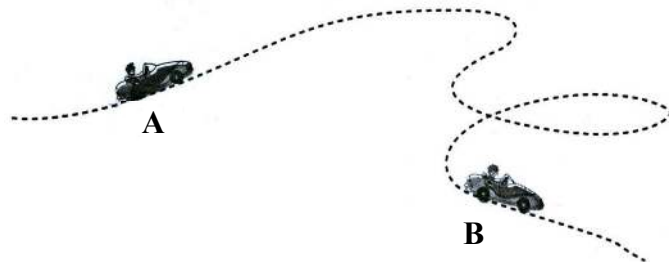
آن در موقعیت B چند کیلومتر بر ساعت است؟

(۱) ۲۰

(۲) ۳۰

(۳) ۷۲

(۴) ۱۰۸



۶۹- یک بزرگراه از قطعه‌های بتونی به طول ۲۰ متر ساخته شده است. این بخش‌ها در دمای 10°C ، بتون‌ریزی شده‌اند.

برای جلوگیری از تاب برداشتن بتون در دمای 40°C ، مهندسان باید چه فاصله‌ای برحسب میلی‌متر را بین این

قطعه‌ها در نظر بگیرند؟ ($\alpha = 1/4 \times 10^{-5} \text{ K}^{-1}$) بتون

(۴) ۸/۴

(۳) ۳/۲

(۲) ۵/۶

(۱) ۶/۲

۷۰- قطعه یخی به جرم 2 kg و دمای اولیه -20°C را آنقدر گرم می‌کنیم تا تبدیل به آب 100°C شود، چند کیلوژول

گرما لازم است؟ ($L_f = 336 \frac{\text{J}}{\text{g}}$ یخ و $c = 2100 \frac{\text{J}}{\text{kg} \cdot ^\circ \text{C}}$ آب و $c = 4200 \frac{\text{J}}{\text{kg} \cdot ^\circ \text{C}}$)

(۴) ۸۴۶

(۳) ۹۲۴

(۲) ۱۵۱۲

(۱) ۱۵۹۶

۷۱- متحرکی با شتاب ثابت روی محور X حرکت می‌کند. تندی متحرک در لحظه‌های $t_1 = 0 \text{ s}$ و $t_2 = 5 \text{ s}$ برابر $10 \frac{\text{m}}{\text{s}}$

است. تندی متوسط متحرک در ۵ ثانیه دوم چند متر بر ثانیه است؟

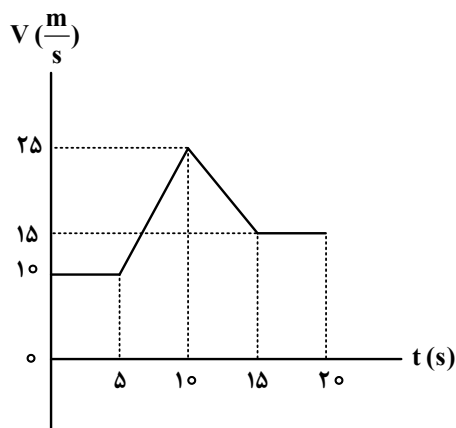
(۴) ۲۰

(۳) ۱۵

(۲) ۱۰

(۱) ۵

۷۲- نمودار سرعت - زمان متحرکی که روی محور x حرکت می کند، مطابق شکل است. شتاب متوسط در بازه $t_1 = 7s$

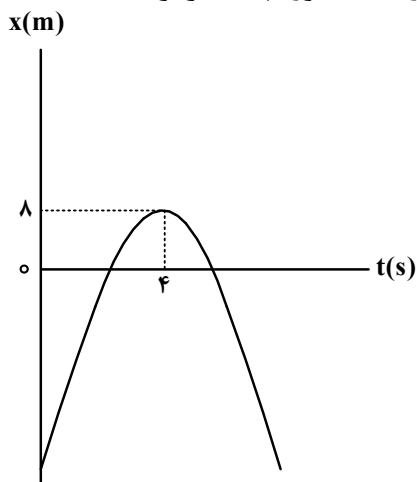


تا $t_2 = 12s$ چند متر بر مربع ثانیه است؟

- (۱) ۱
(۲) $\frac{1}{2}$
(۳) $\frac{1}{5}$
(۴) صفر

۷۳- نمودار مکان - زمان متحرکی که روی محور x با شتاب ثابت حرکت می کند، مطابق شکل است. اگر متحرک در ثانیه

ششم، ۶ متر خلاف جهت محور x ها جابه جا شود، تندی آن در لحظه عبور از مبدأ محور، چند متر بر ثانیه است؟



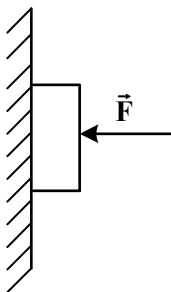
- (۱) ۲۴
(۲) ۱۶
(۳) ۸
(۴) ۶

۷۴- معادله حرکت جسمی در SI به صورت $x = -2t^2 + 10t - 8$ است. در بازه زمانی که متحرک تغییر جهت می دهد تا

دومین لحظه ای که جهت بردار مکان عوض می شود، سرعت متوسط متحرک چند متر بر ثانیه است؟

- (۱) $3\vec{i}$ (۲) $-3\vec{i}$ (۳) $-6\vec{i}$ (۴) $6\vec{i}$

۷۵- جسمی را مطابق شکل با نیروی افقی به دیوار قائمی فشرده و ثابت نگه داشته ایم. اگر نیروی F را ۲ برابر کنیم،



کدام نیرو ۲ برابر می شود؟

- (۱) نیرویی که سطح به جسم وارد می کند.
(۲) نیرویی که جسم به سطح وارد می کند.
(۳) نیروی عمودی سطح
(۴) نیروی اصطکاک

۷۶- در آرایش الکترونی فشرده اتم کدام دو عنصر، نماد شیمیایی گاز نجیب، مشابه است؟

- (۱) Z_{30}, X_{30} (۲) J_9, M_{11} (۳) A_{33}, D_{23} (۴) E_{34}, G_{16}

۷۷- کدام مورد درست است؟

- (۱) در تشکیل مواد مولکولی، همه اتم‌ها به آرایش هشت‌تایی می‌رسند.
 (۲) اتم فلزها یا نافلزها در شرایط مناسب با تشکیل پیوند اشتراکی می‌توانند مولکول‌های دو یا چند اتمی بسازند.
 (۳) مولکول، ترکیبی است که در آن، یک اتم، تک الکترون خود را با تک الکترون اتم دیگر به اشتراک می‌گذارد.
 (۴) در تشکیل مولکول، اتم با بار جزئی منفی، اتمی است که الکترون(های) اشتراکی را بیش از اتم‌های دیگر به سمت فضای اطراف هسته خود می‌کشد.

۷۸- کدام مورد درست است؟

- (۱) در اتم یک عنصر، اگر زیرلایه $5p$ در حال پر شدن از الکترون باشد، زیرلایه $3d$ به یقین پر از الکترون است.
 (۲) بازگشت الکترون از لایه چهارم به لایه دوم الکترونی در اتم‌های هیدروژن و هلیوم، پرتوهایی با طول موج یکسان گسیل می‌کند.
 (۳) در جدول تناوبی، ۱۸ عنصر وجود دارد که زیرلایه d در اتم آنها، خالی از الکترون است.
 (۴) در اتم، انرژی الکترون در زیرلایه $6s$ ، کمتر از انرژی الکترون در زیرلایه $4d$ ، است.

۷۹- نام کدام ترکیب، با توجه به فرمول شیمیایی آن، درست نوشته شده است؟

- (۱) CoF_3 : کبالت فلئورید
 (۲) TiO_2 : تیتانیوم (II) اکسید
 (۳) $NH_4C_6H_5COO$: آمونیوم بنزوات
 (۴) $KHCO_3$: پتاسیم هیدروژن کربنات

۸۰- کدام موارد زیر درست است؟

- الف: کره زمین، سامانه‌ای بزرگ متشکل از هواکره، آب کره و سنگ کره است.
 ب: بخش مهمی از تبادل جرم میان آب کره و هواکره، از طریق فرایندهای فیزیکی انجام می‌شود.
 پ: کاتیون‌های فلزهای قلیایی و قلیایی خاکی، بخش مهمی از یون‌های حل شده در آب‌های روی زمین را تشکیل می‌دهند.
 ت: محققان دریافته‌اند که در طول زمان، حجم آب‌های کره زمین کاهش و غلظت مواد حل شده در آن، افزایش یافته است.
 (۱) «الف» و «ب» (۲) «الف» و «ت» (۳) «ب» و «پ» (۴) «پ» و «ت»

۸۱- اگر $22/5$ گرم اوره در $727/5$ گرم آب مقطر حل شود، غلظت مولی آن کدام است؟ (جرم هر میلی لیتر محلول،

برابر یک گرم در نظر گرفته شود، $g \cdot mol^{-1}$: $H = 1, C = 12, N = 14, O = 16$)

- (۱) $1/5$ (۲) $5/5$ (۳) $75/5$ (۴) $1/25$

۸۲- عنصر X ، نخستین نافلز دوره خود و نخستین عنصر جامد در گروه دارای بیشترین شمار عنصرهای گازی دارای فعالیت

شیمیایی در جدول تناوبی است. چند مورد از موارد زیر درباره آن درست است؟

- با عنصر A_{32} در جدول هم‌دوره یا هم‌گروه نیست.
- در دوره‌ای که X جای دارد، حداکثر دو عنصر شبه‌فلزی وجود دارد.
- بزرگ‌ترین عدد اتمی در میان نافلزهای غیرگازی ۵ دوره اول جدول را دارد.
- با نخستین عنصر فلزی گروه ۱۴ و با آخرین عنصر فلزی دوره چهارم جدول، هم‌دوره است.

- (۱) ۱ (۲) ۲ (۳) ۳ (۴) ۴

۸۳- $1/93$ گرم از ترکیب آلی $C_{27}H_{45}OH$ و با جرم مولی 386 گرم، با $5/8$ گرم برم مایع به‌طور کامل واکنش می‌دهد.

در ساختار این مولکول، چند حلقه وجود دارد؟ (ساختار فاقد پیوند سه‌گانه است، $Br = 80 \text{ g} \cdot mol^{-1}$)

- (۱) ۴ (۲) ۳ (۳) ۶ (۴) ۵

۹۱- کدام مورد، نادرست است؟

- (۱) نخ دندان و پتو به ترتیب از تفلون و پلی سیانو اتن تهیه می‌شوند.
 (۲) تفاوت شمار پیوند دوگانه در مولکول استیرن و مولکول وینیل کلرید، برابر ۳ است.
 (۳) مولکول‌های الکل دارای حداکثر ۳ کربن به هر نسبتی در آب حل می‌شوند و نیروی بین‌مولکولی غالب، از نوع پیوند هیدروژنی است.
 (۴) تفاوت شمار اتم‌ها در ساختار اسید دارای ۴ کربن و الکل دارای یک کربن سازنده استر یک عاملی موجود در سیب، برابر ۹ است.

۹۲- با توجه به مطالب کتاب درسی، اگر اتم‌های هیدروژن حلقه بنزنی در یک پاک‌کننده دارای ۱۸ اتم کربن و با زنجیر هیدروکربنی سیرشده، با گروه متیل جایگزین شود، جرم مولی آن، به تقریب چند درصد افزایش می‌یابد؟

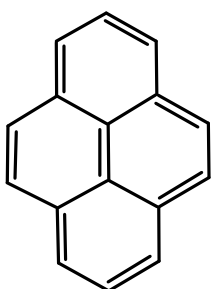
($H = 1, C = 12, O = 16, Na = 23, S = 32 : g.mol^{-1}$)

- (۱) ۱۲ (۲) ۱۶ (۳) ۱۸ (۴) ۲۴

۹۳- کدام مورد درباره یک ترکیب آلی سیرشده دارای ۵ اتم کربن و یک اتم اکسیژن و بدون شاخه فرعی، نادرست است؟

- (۱) اگر اکسیژن با یک جفت الکترون پیوندی به یک کربن متصل باشد، مولکول به یقین الکل است.
 (۲) اگر اکسیژن به هیدروژن متصل باشد، مولکول به یقین الکل است.
 (۳) اگر اکسیژن فقط به یک کربن متصل باشد، مولکول به یقین کتون است.
 (۴) اگر اکسیژن به دو کربن متصل باشد، مولکول به یقین اتر است.

۹۴- با توجه به ساختار مولکول داده‌شده، چند مورد از موارد زیر، نادرست است؟ ($H = 1, C = 12, O = 16 : g.mol^{-1}$)



- شمار اتم‌های هیدروژن، با شمار پیوندهای دوگانه برابر است.
- شمار اتم‌های هیدروژن، با شمار اتم‌های هیدروژن در مولکول بنزالدئید برابر است.
- اگر اتم‌های هیدروژن آن با گروه عاملی هیدروکسیل جایگزین شود، جرم مولی آن، به تقریب، ۵۰ درصد افزایش می‌یابد.
- شمار اتم‌های کربن با عدد اکسایش منفی، ۳ برابر شمار اتم‌های کربن با عدد اکسایش منفی در مولکول اتیل اتانوات است.

- (۱) ۴ (۲) ۳ (۳) ۲ (۴) ۱

۹۵- کدام مورد درست است؟

- (۱) هرچه شمار اتم‌های هیدروژن در ساختار کربوکسیلیک اسید، بیشتر باشد، خاصیت اسیدی بیشتر است.
 (۲) هرچه $[H^+]$ در محلولی بیشتر باشد، آن محلول بازی‌تر و هرچه $[H^+]$ در محلولی کمتر باشد، آن محلول اسیدی‌تر است.
 (۳) مدل آرنیوس، پیش‌بینی می‌کند با حل شدن SO_3 و Na_2O در آب (به‌طور جداگانه)، غلظت یون هیدرونیوم در کدام محلول بیشتر است.

(۴) در دمای ثابت، اگر α برای اسید HA ، نصف α برای اسید HD باشد، رسانایی الکتریکی محلول 0.2 مولار HD با رسانایی الکتریکی محلول 0.1 مولار HA ، برابر است.

۹۶- اگر pH محلول اسید HA ($\alpha = 0.1$)، برابر $1/3$ باشد، در چند میلی‌لیتر از این محلول، $18/8$ گرم اسید حل شده

است؟ ($HA = 47 g.mol^{-1}$)

- (۱) ۱۰۰ (۲) ۲۰۰ (۳) ۴۰۰ (۴) ۸۰۰

۹۷- کدام مورد درست است؟

- (۱) معادله یونش اسیدهای نیتروژن دار در آب، یک طرفه است.
 (۲) محلول یک اسید ضعیف، نمی تواند شامل یون های آبپوشیده باشد.
 (۳) مخرج کسر عبارت های ثابت یونش و درجه یونش اسیدها، مشابه اند.
 (۴) در شرایط تعادلی یونش اسید HF در آب، غلظت مولکول های HF، ثابت است.
- ۹۸- درباره سلول گالوانی استاندارد «آلومینیم - هیدروژن» کدام موارد زیر درست است؟ (حجم هریک از محلول های پیرامون آند و کاتد، برابر یک لیتر است، $E^\circ = (Al^{3+} / Al) = -1.66 V$ ، $Al = 27 : g.mol^{-1}$ ، $H = 1$)
 الف: نسبت تغییرات جرم آند به تغییرات جرم کاتد، برابر ۹ است.

- ب: اگر غلظت $H^+(aq)$ ، 0.3 مولار کاهش یابد، غلظت $Al^{3+}(aq)$ ، 0.9 مولار افزایش خواهد داشت.
 پ: اگر 0.54 گرم از جرم آند کاسته شود، 672 میلی لیتر گاز هیدروژن در شرایط STP، تشکیل شده است.
 ت: در نمودار «مول - زمان» برای این سلول، شیب تغییر یون شرکت کننده در نیم واکنش کاتدی، ۳ برابر شیب تغییر یون شرکت کننده در نیم واکنش آندی است.
- (۱) «پ» و «ت» (۲) «ب» و «پ» (۳) «الف» و «ب» (۴) «الف» و «ت»
- ۹۹- در واکنش برقکافت زیر و پس از موازنه معادله آن، نسبت مجموع ضرایب استوکیومتری مواد محلول در آب، به مجموع ضرایب استوکیومتری مواد گازی شکل، کدام است؟



(۱) ۴ (۲) ۳ (۳) ۲ (۴) ۱

- ۱۰۰- اگر از الکترون های تولید شده در سلول سوختی هیدروژن برای تهیه فلز منیزیم از آب دریا استفاده شود، با مصرف چند کیلوگرم گاز هیدروژن در سلول سوختی با بازدهی ۶۰ درصد، می توان ۱۸ کیلوگرم منیزیم مذاب تهیه کرد؟



(۱) ۲۵/۰ (۲) ۱۲/۵ (۳) ۲/۵ (۴) ۱/۲۵

۱۰۱- کدام مورد، عبارت زیر را از نظر علمی، به درستی کامل می کند؟

«مولکول ، مولکول گوگرد تری اکسید»

(۱) آمونیاک - برخلاف - دارای اتم مرکزی با بار جزئی منفی است

(۲) اکسیژن دی فلوئورید - برخلاف - هشت جفت الکترون ناپیوندی دارد

(۳) نیتروژن تری فلوئورید - همانند - سه جفت الکترون پیوندی دارد

(۴) هیدروژن سولفید - همانند - دارای اتم مرکزی با بار جزئی منفی است

- ۱۰۲- با توجه به معادله داده شده، 0.12 مول وانادیم (V) کلرید با 0.39 گرم فلز روی، واکنش کامل می دهد. محلول



(۱) سبز (۲) زرد (۳) بنفش (۴) آبی

۱۰۳- با توجه به تعادل گازی: $\text{H}_2 + \text{I}_2 \rightleftharpoons 2\text{HI}$, $\Delta H > 0$, که در ظرف ۱۰ لیتری برقرار است، کدام موارد زیر درست است؟
بی‌رنگ بنفش رنگ بی‌رنگ

الف: با افزایش دما، رنگ مخلوط گازی، تیره‌تر می‌شود.

ب: با انتقال تعادل به یک ظرف ۵ لیتری، غلظت گاز HI، ثابت می‌ماند.

پ: با تزریق مقداری گاز HI به ظرف واکنش، غلظت گازهای H_2 و I_2 ، به یک نسبت افزایش می‌یابد.

ت: اگر ۰/۱ مول فراورده از ظرف واکنش خارج شود، میزان تغییر مولی هریک از واکنش‌دهنده‌ها کمتر از ۰/۱ خواهد بود.

(۱) «ب» و «ت» (۲) «پ» و «ت» (۳) «الف» و «پ» (۴) «الف» و «ب»

۱۰۴- کدام مورد، نادرست است؟

(۱) در واحد تکرارشونده PET، از یک سو، گروه عاملی کربونیل و از سوی دیگر، گروه عاملی اتری جای دارد.

(۲) ترفتالیک اسید، یک کربوکسیلیک اسید دوعاملی آروماتیک است که می‌تواند در ساخت پلی‌استر به کار رود.

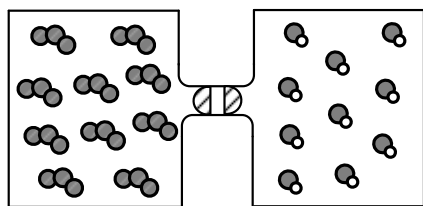
(۳) مونومرهای سازنده PET، به صورت غیرمستقیم و طی واکنش‌های اکسایش - کاهش، از نفت خام به دست می‌آید.

(۴) اضافه کردن اکسیژن و کاتالیزگر می‌تواند در افزایش بازدهی واکنش تشکیل ترفتالیک اسید از پارازایلن مؤثر باشد.

۱۰۵- اگر گازهای O_3 و NO در دو ظرف یک لیتری مطابق شکل و با باز شدن شیر با یکدیگر مخلوط شوند و واکنش تعادلی:

$\text{O}_3(\text{g}) + \text{NO}(\text{g}) \rightleftharpoons \text{O}_2(\text{g}) + \text{NO}_2(\text{g})$, $K = 9$

کدام است و در مجموع، چند مول گاز در ظرف وجود خواهد داشت؟ (هر ذره، معادل ۰/۱ مول ماده است).



(۱) ۲,۰/۷۵

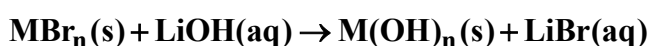
(۲) ۲,۰/۳۷۵

(۳) ۱,۰/۳۷۵

(۴) ۱,۰/۷۵

۱۰۶- مطابق معادله زیر، $43/2$ گرم MBr_n در واکنش کامل با محلول لیتیم هیدروکسید، ۱۸ گرم رسوب $\text{M}(\text{OH})_n$

تشکیل می‌دهد. نسبت عددی جرم مولی M به n کدام است؟ ($\text{H} = 1, \text{O} = 16, \text{Br} = 80$; $\text{g} \cdot \text{mol}^{-1}$)



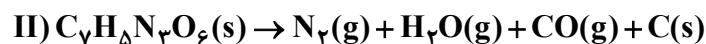
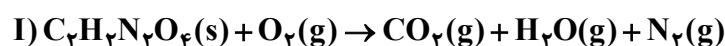
(۴) ۲۱/۵

(۳) ۲۵

(۲) ۲۸

(۱) ۳۴/۵

۱۰۷- درباره دو واکنش داده شده، کدام مورد درست است؟ (معادله واکنش‌ها موازنه شود، $\text{C} = 12 \text{ g} \cdot \text{mol}^{-1}$)



(۱) یکی از واکنش‌ها از نوع سوختن است و مجموع ضرایب استوکیومتری فراورده‌های گازی در واکنش II، دو برابر

مجموع ضرایب استوکیومتری فراورده‌های واکنش I است.

(۲) یکی از واکنش‌ها از نوع سوختن است و مجموع ضرایب استوکیومتری واکنش‌دهنده‌ها در واکنش I، با ضریب

استوکیومتری یکی از فراورده‌های آن برابر است.

(۳) در واکنش I، به‌ازای مصرف ۰/۷۲ مول از واکنش‌دهنده‌ها (با نسبت‌های استوکیومتری)، ۱/۹۲ مول فراورده تشکیل می‌شود.

(۴) در واکنش II، به‌ازای مصرف ۰/۲۷ مول واکنش‌دهنده، ۱۰/۵ گرم فراورده جامد تشکیل می‌شود.

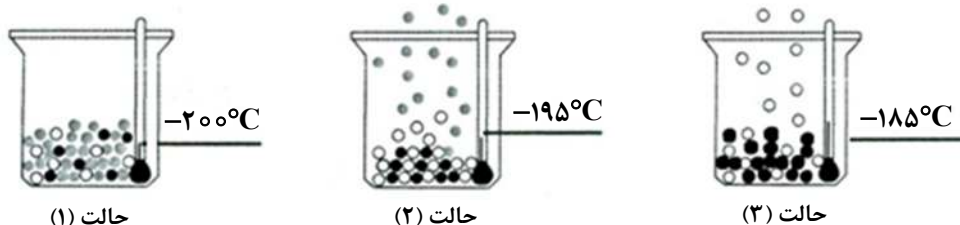
- ۱۰۸- با توجه به شکل، چند مورد از موارد زیر، درست است؟ (در حالت (۱)، اکسیژن، نیتروژن و آرگون درون ظرف جای دارند).
- گلوله‌های سیاه‌رنگ، نماینده اکسیژن‌اند.
 - گلوله‌های سفیدرنگ، نماینده نیتروژن‌اند.
 - مواد درون ظرف در حالت (۱)، حالت فیزیکی مایع دارند.
 - مواد درون ظرف در حالت (۲)، دو حالت فیزیکی متفاوت دارند.

۳ (۱)

۲ (۲)

۱ (۳)

۴ (۴)



حالت (۱)

حالت (۲)

حالت (۳)

- ۱۰۹- اگر ۳۰۰ گرم محلول ۱۰ درصد جرمی و ۵۰۰ گرم محلول ۱۲ درصد جرمی پتاسیم نیترات با یکدیگر مخلوط شوند، درصد جرمی حل شونده در محلول جدید کدام است؟

۱۱/۲۵ (۴)

۱۱/۵ (۳)

۱۰/۲۵ (۲)

۱۰/۷۵ (۱)

- ۱۱۰- کدام مورد همواره درست است؟

- (۱) در هر محلول، حجم حلال بیشتر از حجم حل شونده است.
- (۲) یک مخلوط می‌تواند دارای اجزایی با حالت‌های فیزیکی متفاوت باشد.
- (۳) با کاهش حجم محلول مس (II) سولفات، می‌توان غلظت آن را افزایش داد که باعث پررنگ‌تر شدن آن می‌شود.
- (۴) اگر نصف حجم یک محلول آبی را کم کرده و برابر حجم برداشته‌شده به محلول آب اضافه شود، درصد جرمی محلول، نصف می‌شود.

دفترچه

شماره

۳



ریاست جمهوری
سازمان ملی سخن و ارزشیابی نظام آموزش کشور

صبح جمعه ۱۴۰۳/۰۴/۲۲

دفترچه شماره ۳

در زمینه مسائل علمی باید دنبال قله بود.

مقام معظم رهبری (مدظله العالی)

آزمون اختصاصی (سراسری) ورودی دانشگاهها و مؤسسات آموزش عالی

نوبت دوم - تیرماه ۱۴۰۳

گروه آزمایشی علوم تجربی

مدت پاسخگویی: ۶۰ دقیقه

تعداد سؤال: ۴۵

ردیف	مواد امتحانی	تعداد سؤال	از شماره	تا شماره
۱	ریاضی	۳۰	۱۱۱	۱۴۰
۲	زمین شناسی	۱۵	۱۴۱	۱۵۵

استفاده از ماشین حساب مجاز نیست.

این آزمون، نمره منفی دارد.

حق چاپ، تکثیر و انتشار سؤالات به هر روش (الکترونیکی و ...) پس از برگزاری آزمون، برای تمامی اشخاص حقیقی و حقوقی تنها با مجوز این سازمان مجاز می باشد و با متخلفین برابر مقررات رفتار می شود.

* داوطلب گرامی، عدم درج مشخصات و امضا در مندرجات جدول زیر، به منزله عدم حضور شما در جلسه آزمون است.

اینجانب با شماره داوطلبی با آگاهی کامل، یکسان بودن شماره صندلی خود را با شماره داوطلبی مندرج در بالای کارت ورود به جلسه، بالای پاسخنامه و دفترچه سؤالات، نوع و کد کنترل درج شده بر روی دفترچه سؤالات تأیید می‌نمایم.

امضا:

۱۱۱- حاصل عبارت $\frac{\sqrt[3]{2\sqrt{8}}}{\sqrt[3]{2\sqrt{2}} \times 16^{-\frac{1}{4}}}$ کدام است؟

- (۱) $16\sqrt{2}$ (۲) $16\sqrt[3]{2}$ (۳) $8\sqrt{2}$ (۴) $8\sqrt[3]{2}$

۱۱۲- اعداد طبیعی طوری دسته‌بندی شده‌اند که در هر دسته، کوچک‌ترین عضو $\frac{1}{3}$ بزرگ‌ترین عضو دسته است. میانگین

اعضای دسته پنجم، کدام است؟

- (۱) ۲۴۰ (۲) $240\frac{1}{5}$ (۳) ۲۴۲ (۴) $242\frac{1}{5}$

۱۱۳- در یک دنباله هندسی، جمله سوم جذر جمله چهارم و جمله پنجم برابر ۲۷ است. جمله اول دنباله چقدر از $\frac{1}{3}$ کمتر است؟

- (۱) $\frac{5}{2}$ (۲) $\frac{3}{2}$ (۳) $\frac{1}{3}$ (۴) $\frac{1}{6}$

۱۱۴- اگر $\sqrt{x+a} - \sqrt{x-4} = 2$ باشد، حاصل عبارت $\sqrt{x+a} + \sqrt{x-4} - 2$ کدام است؟

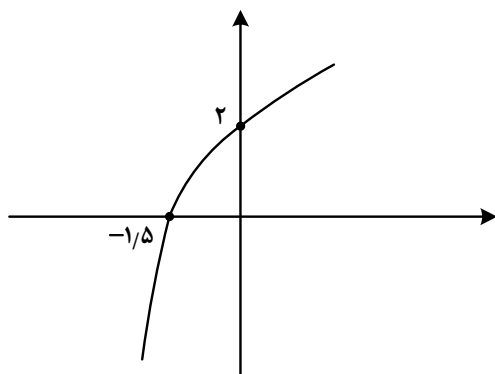
- (۱) صفر (۲) ۱ (۳) $\frac{a}{4}$ (۴) $\frac{a}{2}$

۱۱۵- بازه $(\frac{1}{3}, 0)$ ، بزرگ‌ترین بازه‌ای است که نمودار تابع $y = 2x^2 + \frac{3}{4}x + c$ پایین نمودار تابع $y = \frac{x}{|x|}$ قرار می‌گیرد.

مقدار c کدام است؟

- (۱) $-\frac{3}{4}$ (۲) $-\frac{1}{2}$ (۳) $-\frac{1}{4}$ (۴) $-\frac{3}{8}$

۱۱۶- شکل زیر، نمودار تابع $y = 1 - \log_c(ax - b)$ است. اگر $b + c = -\frac{3}{4}$ باشد، حاصل $(a + c)b$ کدام است؟



- (۱) $-3\frac{1}{5}$ (۲) -۳ (۳) $-2\frac{1}{5}$ (۴) -۲

۱۱۷- اگر نقطه $(-\frac{1}{8}, -\frac{3}{5})$ روی تابع وارون تابع $y = \frac{x}{a + a|x|}$ باشد، مقدار a کدام است؟

- (۱) $\frac{5}{27}$ (۲) ۵ (۳) ۳ (۴) $\frac{3}{5}$

۱۱۸- اگر $\frac{1 + \sin \alpha}{|\cos \alpha|} - \operatorname{tg} \alpha = \frac{1}{\sqrt{\cos^2 \alpha}}$ و $\frac{1}{\cos \alpha} = -\frac{1}{\cot \alpha}$ باشد، انتهای کمان α در کدام ناحیه مثلثاتی است؟

- (۱) چهارم (۲) سوم (۳) دوم (۴) اول

۱۱۹- در یک لوزی، اندازه هر ضلع برابر جذر حاصل ضرب طول قطرهای است. اگر A و B دو زاویه مجاور لوزی باشند، مقدار

مثبت تانژانت $(\frac{A-B}{2})$ کدام است؟

- (۱) $\sqrt{3}$ (۲) $\frac{1}{\sqrt{3}}$ (۳) $\frac{1}{3}$ (۴) ۳

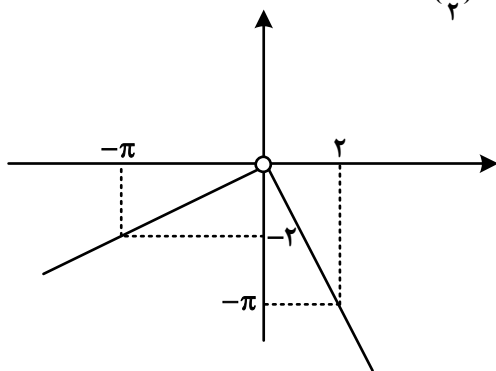
۱۲۰- اختلاف جواب‌های معادله مثلثاتی $\cos 2x = 3 \sin x - 1$ که در بازه $[0, \pi]$ قرار دارند، کدام است؟

- (۱) $\frac{5\pi}{6}$ (۲) $\frac{\pi}{3}$ (۳) $\frac{\pi}{6}$ (۴) $\frac{2\pi}{3}$

۱۲۱- دوره تناوب $f(x) = \frac{1}{2} - \sin \frac{2x}{a}$ برابر $\frac{\pi}{3}$ است. دوره تناوب $y = \cos ax$ کدام است؟

- (۱) 3π (۲) 4π (۳) 6π (۴) 12π

۱۲۲- شکل زیر، نمودار تابع f است. مقدار $\lim_{x \rightarrow (\frac{\pi}{2})^-} \frac{\sin x}{|f(x)|} + \lim_{x \rightarrow (-\frac{\pi}{2})^+} \frac{|f(x)|}{\sin x}$ کدام است؟



(۱) $1 - \frac{4}{\pi^2}$

(۲) $\frac{4}{\pi^2} - 1$

(۳) $4\pi - \frac{1}{\pi^2}$

(۴) $4\pi + \frac{1}{\pi^2}$

۱۲۳- اگر $\lim_{x \rightarrow \pi^-} \frac{f(x)}{\sin x} = -\infty$ باشد، کدام مورد می‌تواند ضابطه f باشد؟

- (۱) $[\frac{2x}{\pi}] - 1$ (۲) $3[\frac{x}{\pi}] + 1$ (۳) $2[\frac{x}{\pi}] + 3$ (۴) $[\frac{3x}{\pi}] - 3$

۱۲۴- تابع غیر صفر $f(x) = a[x] + b[x+1]$ در \mathbb{R} پیوسته است. مقدار $\frac{f(a)}{a}$ کدام است؟

- (۱) ۱ (۲) -۱ (۳) $\frac{1}{2}$ (۴) $-\frac{1}{2}$

۱۲۵- خط مماس بر منحنی $f(x) = \sqrt{ax-1}$ در نقطه A از نقاط $(-1, 1)$ و $(2, 2)$ می‌گذرد. مقدار $f(5)$ کدام است؟

- (۱) ۳ (۲) ۲ (۳) $\frac{\sqrt{23}}{2}$ (۴) $\frac{\sqrt{33}}{3}$

۱۲۶- اگر مساحت بزرگ‌ترین مستطیلی که دو رأس آن بر محور x ها و دو رأس دیگر آن، یکی بر $y = \sqrt{x}$ و دیگری بر

$$y = \sqrt{a-x}$$

واقع است برابر $\sqrt{2}$ باشد، مقدار a کدام است؟

- (۱) ۶ (۲) ۴ (۳) ۳ (۴) ۲

۱۲۷- اگر انحراف معیار داده‌های مثبت ۳، $2a$ و a برابر $\sqrt{14}$ باشد، مقدار $\frac{a}{3}$ کدام است؟

- (۱) $\frac{1}{5}$ (۲) ۲ (۳) $\frac{3}{5}$ (۴) ۴

۱۲۸- چند تابع ثابت با ۴ زوج مرتب می‌توان نوشت، به طوری که دامنه آن اعداد طبیعی یک رقمی و بُرد آن اعداد زوج

نامنفی یک رقمی باشند؟

- (۱) ۱۰۵۰ (۲) ۸۴۰ (۳) ۶۳۰ (۴) ۵۰۴

۱۲۹- دو تاس را پرتاب می‌کنیم. با کدام احتمال یکی از اعداد ظاهر شده، بزرگ‌تر از دیگری است؟

- (۱) $\frac{7}{12}$ (۲) $\frac{5}{12}$ (۳) $\frac{1}{6}$ (۴) $\frac{5}{6}$

۱۳۰- احتمال کسب مدال دو ورزشکار یک تیم ملی در المپیک به ترتیب $\frac{5}{6}$ و $\frac{5}{4}$ است. احتمال اینکه فقط یکی از این

دو ورزشکار مدال کسب کند، چقدر است؟

- (۱) $\frac{5}{52}$ (۲) $\frac{5}{76}$ (۳) $\frac{5}{48}$ (۴) $\frac{5}{36}$

۱۳۱- نقطه $A(-5, -1)$ یک رأس مثلثی است که یک ضلع آن روی خط $x - 2y = 1$ قرار دارد. اگر طول یک ضلع برابر

فاصله رأس A از این خط بوده و نقطه $(-4, -2)$ داخل این مثلث باشد، بیشترین مساحت چنین مثلثی در ناحیه

سوم محورهای مختصات کدام است؟

- (۱) ۴ (۲) $\frac{4}{2}$ (۳) ۶ (۴) $\frac{6}{4}$

۱۳۲- نقاط M و N به ترتیب روی اضلاع AB و BC در مثلث ABC انتخاب شده‌اند. اگر $2BN = 3NC$ و مساحت مثلث

ABC ، ۳ برابر مساحت مثلث BMN باشد، مقدار $\frac{BM}{AM}$ کدام است؟

- (۱) $\frac{5}{75}$ (۲) $\frac{5}{8}$ (۳) $\frac{1}{25}$ (۴) $\frac{1}{4}$

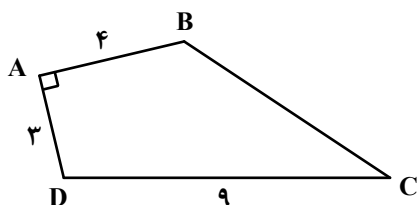
۱۳۳- در مثلث قائم‌الزاویه ABC ، نقطه H ، نقطه تلاقی ارتفاع وارد بر وتر است. اگر طول وتر 20 و کمترین فاصله H از

رأس‌های مجاورش ۴ باشد، نسبت طول اضلاع قائمه این مثلث کدام است؟

- (۱) ۲ (۲) ۳ (۳) $\frac{\sqrt{3}}{2}$ (۴) $\frac{\sqrt{2}}{3}$

۱۳۴- در چهارضلعی $ABCD$ ، از نقاط B و D دو پاره‌خط به ترتیب موازی AD و AB طوری رسم می‌کنیم تا یکدیگر را در

نقطه M (درون چهارضلعی) قطع کنند. اگر $\hat{BDC} = 2\hat{BDM}$ باشد، فاصله نقطه M از وسط ضلع BC چقدر است؟



- (۱) $\frac{1}{5}$

- (۲) ۲

- (۳) $\frac{2}{5}$

- (۴) ۳

۱۳۵- نقاط $F(0, 0)$ و $F'(a, 0)$ کانون‌های یک بیضی و $A(0, -1)$ یک نقطه واقع بر آن است. اگر خروج از مرکز بیضی

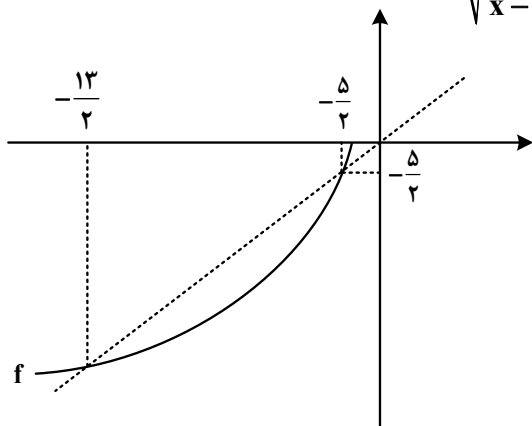
برابر $\frac{2}{\sqrt{5}}$ باشد، مقدار a کدام است؟

- (۱) $2\sqrt{5}$ (۲) $-2\sqrt{5}$ (۳) $-4\sqrt{5}$ (۴) $4\sqrt{5}$

۱۳۶- رابطه $f = \left\{ (7, 1-3n^2), (1, -1), (2, n), (7, -2n), \left(\frac{1}{n}, 2\right) \right\}$ تابع است. مقدار تابع f در ۲، کدام است؟

- (۱) $-\frac{1}{3}$ (۲) $\frac{1}{3}$ (۳) -1 (۴) 1

۱۳۷- شکل زیر، نمودار تابع f را نشان می‌دهد. دامنه تابع $y = \sqrt{\frac{f^{-1}(x)}{x-f^{-1}(x)}}$ شامل چند عدد صحیح است؟



- (۱) ۱
(۲) ۲
(۳) ۴
(۴) ۵

۱۳۸- سهمی $y = 2ax^2 - 5x + 18a$ در نقطه A بر نیمساز ناحیه سوم محورهای مختصات مماس است. مقدار a ، کدام است؟

- (۱) $-\frac{5}{2}$ (۲) $-\frac{1}{2}$ (۳) $\frac{1}{2}$ (۴) $\frac{5}{2}$

۱۳۹- دامنه تابع $y = f(x)$ و $y = f(kx)$ برابر $[b, c]$ است. اگر $k = 2a^2 - a - 5$ باشد، حاصل ضرب مقادیر a کدام است؟

- (۱) -3 (۲) 3 (۳) $-2/5$ (۴) $2/5$

۱۴۰- در یک دامنه محدود، برای چند مقدار مختلف a ، بیشترین مقدار سهمی $y = ax^2 + x + 2a$ برابر $-\frac{1}{4}$ است؟

- (۱) ۳ (۲) هیچ مقدار a (۳) ۲ (۴) ۱

۱۴۱- کدام امواج زلزله معمولاً از برخورد امواج ایجاد شده در کانون با فصل مشترک لایه‌های زمین ایجاد می‌شوند؟

- (۱) R و P (۲) R و L (۳) L و S (۴) P و S

۱۴۲- ویژگی بارز پهنه زمین ساختی کپه داغ کدام است؟

- (۱) معادن سرب و روی
(۲) ذخایر عظیم گاز و نفت
(۳) توالی رسوبی منظم
(۴) تاقدیس و ناودیس‌های متوالی
- ۱۴۳- به غیر از شرایط زمین‌شناسی منطقه، کدام عامل در تعیین نوع سد در یک محل مهم است؟
- (۱) نفوذپذیری بستر مخزن
(۲) خطر ریزش کوه در مخزن
(۳) مصالح موردنیاز
(۴) مقاومت تکیه‌گاه

۱۴۴- کدام فعالیت، در درازمدت سبب آسیب رسانیدن به دستگاه‌های عصبی، گوارشی و ایمنی آدمی می‌شود؟

- (۱) ملقمه کردن طلا با جیوه در معدن کاری
(۲) خشک کردن فلفل به وسیله زغال سنگ
(۳) کار در کارخانه‌های تولید لوله‌های سربی
(۴) کشاورزی با آب‌های آرسنیک‌دار

۱۴۵- پی آمد دور شدن ورقه عربستان از ورقه آفریقا کدام است؟

- (۱) بالا آمدن سواحل مکران
(۲) گسترش درازگودال دریای سرخ
(۳) به وجود آمدن یک اقیانوس جدید
(۴) زلزله‌های شرق و شمال شرق ایران

۱۴۶- کدام گروه، همگی از سنگ‌ها و کانی‌های صنعتی به حساب می‌آیند؟

- (۱) شن - ماسه - خاک رس - سنگ‌های ساختمانی
(۲) آجر - کاشی - سرامیک - سنگ کفپوش
(۳) هماتیت - مگنتیت - کالکوپیریت - گالن
(۴) سیمان - گچ - آهک - بتن

۱۴۷- استفاده از کود که از سنگ معدن تولید می‌شود، در مزارع کشاورزی می‌تواند سبب افزایش در گیاهان و زنجیره غذایی شود.

- (۱) کادمیم - سرب (۲) ید - فلوتور (۳) روی - کادمیم (۴) ید - جیوه

۱۴۸- در نقشه‌های زمین‌شناسی کدام مورد نمایش داده می‌شود؟

- (۱) پراکندگی محل آب‌های زیرزمینی
(۲) جنس و پراکندگی خاک‌های مختلف
(۳) موقعیت رودها و دریاچه‌ها
(۴) وضعیت شکستگی‌ها

۱۴۹- ترکیب شیمیایی کدام کانی‌های قیمتی به هم نزدیک‌تر است؟

- (۱) کربنوم و زبرجد (۲) عقیق و فیروزه (۳) یاقوت و زمرد (۴) عقیق و یاقوت

۱۵۰- غاری با وسایلی به تازگی کشف شده است. زمان استفاده از این غار توسط انسان‌های نخستین را به کمک کدام وسایل می‌توان معلوم کرد؟

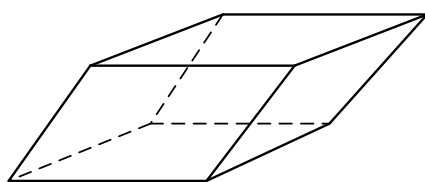
- (۱) تبر سنگی (۲) تیر و کمان (۳) سفال شکسته (۴) قطعه‌ای گارنت

۱۵۱- پایداری خاک‌های ریزدانه با کدام ویژگی خاک رابطه عکس دارد؟

- (۱) ضخامت (۲) تراکم (۳) هوموس (۴) رطوبت

۱۵۲- با کدام دلیل، بلور شفاف کلسیت نمی‌تواند در گروه کانی‌های قیمتی قرار بگیرد؟

- (۱) سختی آن ۳ است.
(۲) بلور سالم آن کمیاب است.
(۳) با کمی ناخالصی رنگی می‌شود.
(۴) بلور آن متوازی‌السطوح کج است.



بلور کلسیت

۱۵۳- آزمایش‌ها نشان می‌دهند، در هر لیتر آب چاهی عمیق تازه حفر شده، ۵ میلی‌گرم یون Mg^{2+} و ۵۰ میلی‌گرم یون Ca^{2+} وجود دارد. سختی کل (TH) آب چاه چند میلی‌گرم بر لیتر است؟

۲۱۷/۵ (۴)

۱۶۵ (۳)

۱۴۵/۵ (۲)

۶۵ (۱)

۱۵۴- در منطقه زیر می‌خواهند ۳ حلقه چاه (AB، CD و EF) را حفر کنند. پس از حفاری، برای بهره‌برداری آب آبخوان‌ها،

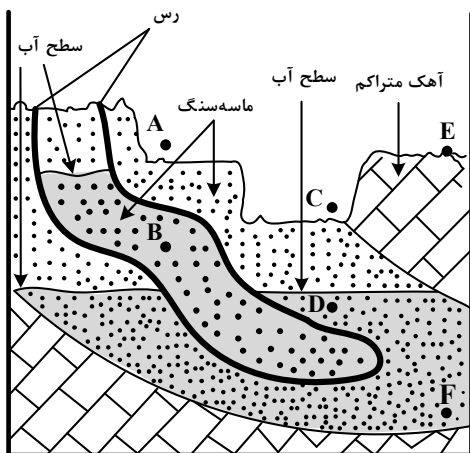
کدام چاه‌ها نیاز به پمپ آب دارند؟

EF و CD، AB (۱)

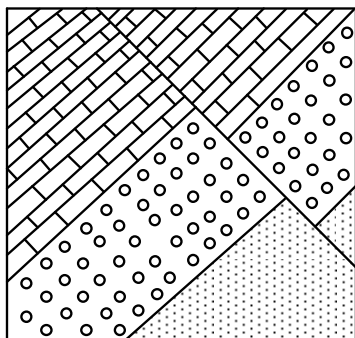
EF و CD (۲)

CD (۳)

EF (۴)



۱۵۵- لایه‌های شکل زیر، پس از رسوب کردن به ترتیب از قدیم به جدید تحت تأثیر کدام تنش‌ها بوده‌اند؟



(۱) برشی - فشاری

(۲) فشاری - فشاری

(۳) کششی - برشی

(۴) فشاری - کششی



998A

کد کنترل

998

A



ریاست جمهوری
سازمان ملی بحش و ارزشیابی نظام آموزش کشور

صبح جمعه ۱۴۰۲/۰۴/۲۲

دفترچه شماره ۴

در زمینه مسائل علمی باید دنبال قله بود.

مقام معظم رهبری (مدظله العالی)

آزمون اختصاصی (سراسری) ورودی دانشگاهها و مؤسسات آموزش عالی

گروه آزمایشی علوم تجربی (ویژه دیپلم‌های بهیاری)

مدت پاسخگویی: ۲۰ دقیقه

تعداد سؤال: ۳۰

ردیف	مواد امتحانی	تعداد سؤال	از شماره	تا شماره
۱	بهیاری	۳۰	۱۵۶	۱۸۵

نوبت دوم - تیرماه ۱۴۰۳

استفاده از ماشین حساب مجاز نیست.
این آزمون، نمره منفی دارد.

حق چاپ، تکثیر و انتشار سؤالات به هر روش (الکترونیکی و ...) پس از برگزاری آزمون، برای تمامی اشخاص حقیقی و حقوقی تنها با مجوز این سازمان مجاز می‌باشد و با متخلفین برابر مقررات رفتار می‌شود.

* داوطلب گرامی، عدم درج مشخصات و امضا در مندرجات جدول زیر، به منزله عدم حضور شما در جلسه آزمون است.

اینجانب با شماره داوطلبی با آگاهی کامل، یکسان بودن شماره صندلی خود را با شماره داوطلبی مندرج در بالای کارت ورود به جلسه، بالای پاسخنامه و دفترچه سؤالات، نوع و کد کنترل درج شده بر روی دفترچه سؤالات تأیید می‌نمایم.

امضا:

۱۵۶- مراقبت بهباری قبل از عمل پانکراتیت، کدام یک از موارد زیر است؟

- (۱) استفاده از داروی دوزنگ
(۲) کنترل جذب و دفع مایعات
(۳) دادن پوزیشن نیمه‌نشسته
(۴) انجام ورزش‌های تنفسی مانند دم و بازدم عمیق

۱۵۷- دفع مدفوع چرب و بدبو، از علائم کدام بیماری زیر است؟

- (۱) فیسور مقعد
(۲) انسداد روده
(۳) گاستروانتریت
(۴) سندرم سوءجذب

۱۵۸- ملنا از علائم کدام یک از بیماری‌های زیر است؟

- (۱) واریس مری
(۲) آشالازی
(۳) دیورتیکول مری
(۴) آپاندیسیت

۱۵۹- روز دهم بعد از زایمان، تغییرات فیزیولوژیکی ته رحم در لمس از روی شکم چگونه است؟

- (۱) در حدود ناف لمس می‌شود.
(۲) نباید از روی شکم لمس شود.
(۳) دو انگشت زیر ناف احساس می‌شود.
(۴) دو انگشت بالای ناف احساس می‌شود.

۱۶۰- کدام بخش مانند کلاهی بر روی بیضه قرار گرفته و مستقیماً ترشحات خارجی این غده را دریافت می‌کند؟

- (۱) پروپوس
(۲) اسکروتوم
(۳) اپیدیدیم
(۴) غده کوپر

۱۶۱- اخلاص، نتیجه چیست؟

- (۱) نیت پاک
(۲) عمل صالح
(۳) نماز و روزه
(۴) اعتقاد به اصول دین

۱۶۲- اسید اوریک، توسط کدام بخش خون به اندام دفعی منتقل می‌شود؟

- (۱) گلبول‌های قرمز
(۲) گلبول‌های سفید
(۳) پلاکت
(۴) پلاسما

۱۶۳- وزن قلب انسان بالغ، چند گرم است؟

- (۱) ۱۵۰
(۲) ۳۰۰
(۳) ۵۵۰
(۴) ۴۰۰

۱۶۴- بیماری خاصی که در آفریقا وجود دارد، کدام مورد زیر است؟

- (۱) تب زرد
(۲) تیفوس
(۳) اسهال خونی
(۴) تب راجعه

۱۶۵- دلیل دیر بهبود یافتن گوش میانی، کدام مورد زیر است؟

- (۱) نبود مویرگ
(۲) حلزونی شکل بودن آن
(۳) وجود مویرگ کم
(۴) باریک و تنگ بودن آن

۱۶۶- گلودرد چرکی، پیش‌زمینه کدام یک از بیماری‌های زیر است؟

- (۱) شوک قلبی
(۲) ادم حاد ریه
(۳) آنژین صدری
(۴) روماتیسم قلبی

۱۶۷- وجود کدام ماده در ادرار، منجر به آسیب منتشر گلوپروولی می‌شود؟

- (۱) اوره
(۲) پروتئین
(۳) اسید اوریک
(۴) لیپید

۱۶۸- بیماری دچار عفونت‌های حاد استرپتوکوک بتاهمولتیک در هفته‌های اخیر شده است. اگر خوب درمان نشود امکان

دارد دچار کدام بیماری شود که خیز صورت را به دنبال دارد؟

- (۱) سیستیت
(۲) پیلونفریت حاد
(۳) گلوپروولی حاد
(۴) پیلونفریت مزمن

- ۱۶۹- فرد بزرگسالی با جثه متوسط، حجم ادرار او کمتر از ۴۰۰ میلی لیتر در روز است. کدام مورد زیر در وی وجود دارد؟
 (۱) کم ادراری (۲) تکرر ادرار (۳) شب ادراری (۴) فقدان ادرار
- ۱۷۰- کدام مورد، از بیماری‌های روانی خفیف است؟
 (۱) توهم (۲) وسواس (۳) هذیان (۴) سوءظن
- ۱۷۱- کدام یک از موارد زیر، در شکل‌گیری شخصیت انسان در کودکی نقش مهم‌تری دارد؟
 (۱) هم‌بازی‌ها (۲) اجتماع (۳) همسالان (۴) خانواده
- ۱۷۲- کدام بیماری به عفونت حاد پرده‌های مننژ اطراف مغز و نخاع گفته می‌شود؟
 (۱) صرع (۲) آلزهایمر (۳) مننژیت (۴) آنسفالیت
- ۱۷۳- کدام مورد، مخ و مخچه را به پل مغز ارتباط می‌دهد؟
 (۱) مغز میانی (۲) هیپوتالاموس (۳) تالاموس (۴) نخاع
- ۱۷۴- عنکبوتیه، در کجا قرار گرفته است؟
 (۱) درست روی سطح مغز قرار گرفته و دارای رگ‌های خونی فراوان است.
 (۲) پرده ظریفی است مابین نرم‌شامه و سخت‌شامه و در زیر آن مایع نخاعی جریان دارد.
 (۳) مابین استخوان‌های کاسه سر و مغز قرار گرفته و از مغز محافظت می‌کند و سه لایه دارد.
 (۴) درست زیر کاسه سر قرار دارد و از غشای فیبری سخت ساخته شده است.
- ۱۷۵- کندگی شبکیه، از علل کدام بیماری چشم است؟
 (۱) کاتاراکت (۲) گلوکوم (۳) دیپلوی (۴) استرایسم
- ۱۷۶- کدام یک از اعضای چشم، فاقد عروق خونی است؟
 (۱) شبکیه (۲) عنبیه (۳) قرنیه (۴) مشیمیه
- ۱۷۷- کدام مورد، قدرت بیماری‌زایی باکتری‌ها را بالا می‌برد؟
 (۱) کپسول (۲) تاژک (۳) هسته (۴) غشای سیتوپلاسمی
- ۱۷۸- کدام ویتامین در سوخت‌وساز مواد پروتئینی نقش دارد؟
 (۱) A (۲) D (۳) B_۶ (۴) E
- ۱۷۹- پروتئین کدام یک، ارزش غذایی کمتری دارد؟
 (۱) سویا (۲) گردو (۳) لوبیا (۴) فندق
- ۱۸۰- شایع‌ترین و دردناک‌ترین اختلالات مفصلی، کدام مورد زیر است؟
 (۱) کوفتگی (۲) استئومیلیت (۳) استئومالاسی (۴) آرتریت روماتوئید
- ۱۸۱- سیستم هاورس، از خصوصیات برجسته کدام بافت زیر است؟
 (۱) عضلانی (۲) استخوانی متراکم (۳) غضروف (۴) استخوانی اسفنجی
- ۱۸۲- معنی اصطلاحات زیر به ترتیب از راست به چپ، کدام است؟
 «SC, ID, OD, OU»

- (۱) چشم چپ، چشم راست، تزریق داخل جلدی، تزریق زیرجلدی
 (۲) هر دو چشم، چشم راست، تزریق زیرجلدی، تزریق داخل جلدی
 (۳) هر دو چشم، چشم چپ، تزریق زیرجلدی، تزریق داخل جلدی
 (۴) هر دو چشم، چشم راست، تزریق داخل جلدی، تزریق زیرجلدی

۱۸۳- کدام مورد نقطه‌ای است که سنگینی بدن بر آن متمرکز می‌شود و در حالت ایستاده در مرکز لگن و حفاصل بین ناف و استخوان عانه است، اما به هنگام حرکت پیوسته تغییر مکان می‌دهد؟

(۱) مرکز ثقل (۲) خط ثقل (۳) تکیه‌گاه (۴) لبه تکیه‌گاه

۱۸۴- Tuberculosis، نام دیگر کدام بیماری است؟

(۱) دیفتری (۲) سرخک (۳) سل (۴) سیاه سرفه

۱۸۵- التهاب هر دو لایه احشایی و جداری پرده جنب، کدام است؟

(۱) آمبولی ریه (۲) پلورزی (۳) آمپیم (۴) برونشیت